

# سلاح التلميذ

منذ عام ١٩٦٠

2025 - 2026



## الدراسات الاجتماعية

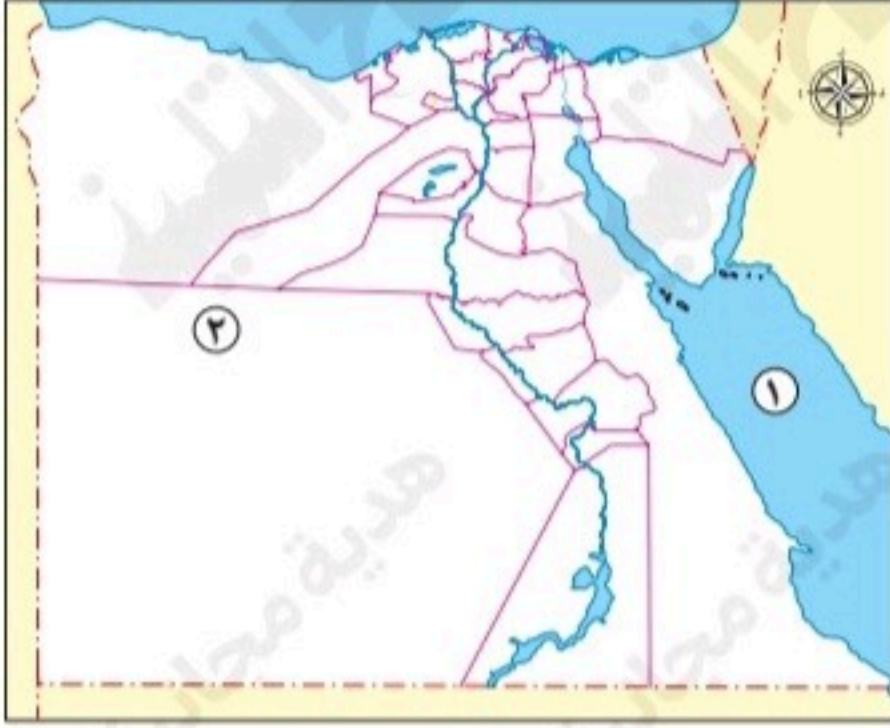
## نماذج اختبارات

شهر إبريل

طبقاً لآخر مواصفة للورقة الامتحانية

# 5

الفصل الدراسي الثاني



١ ا لاحظ خريطة مصر المقابلة، ثم أجب:

- ١ يشير الرقم (١) إلى أحد مصايد الأسماك وهو .....
- ٢ يشير الرقم (٢) إلى مشروع زراعي جديد وهو .....

ب ما النتائج المترتبة على...؟

- ١ زيارة الرئيس السادات للقدس عام ١٩٧٧م.

- ٢ نزول المصري القديم إلى وادي النيل.

٢ ا اكتب كلمة (صواب) أمام العبارة الصحيحة، وكلمة (خطأ) أمام العبارة غير الصحيحة:

- ١ تقع محافظة القليوبية جنوب شرق مصر. ( )
- ٢ تحسنت علاقة مصر مع دول العالم بعد تحقيق السلام. ( )

ب بم تفسر...؟

- ١ أهمية ترشيد استهلاك المياه.

- ٢ ازدهرت التجارة في مصر قديماً.

٣ ا اختر الإجابة الصحيحة مما بين القوسين:

- ١ أحد أهم الأماكن الأثرية بمحافظة الوادي الجديد معبد .....  
(هيبس - الكرنك - دندرة - أبو سمبل)
- ٢ قامت حرب أكتوبر ١٩٧٣م بهدف .....  
(حماية الإسكندرية - استعادة سيناء - تقسيم سيناء - تحرير بورسعيد)

ب أجب عما يلي:

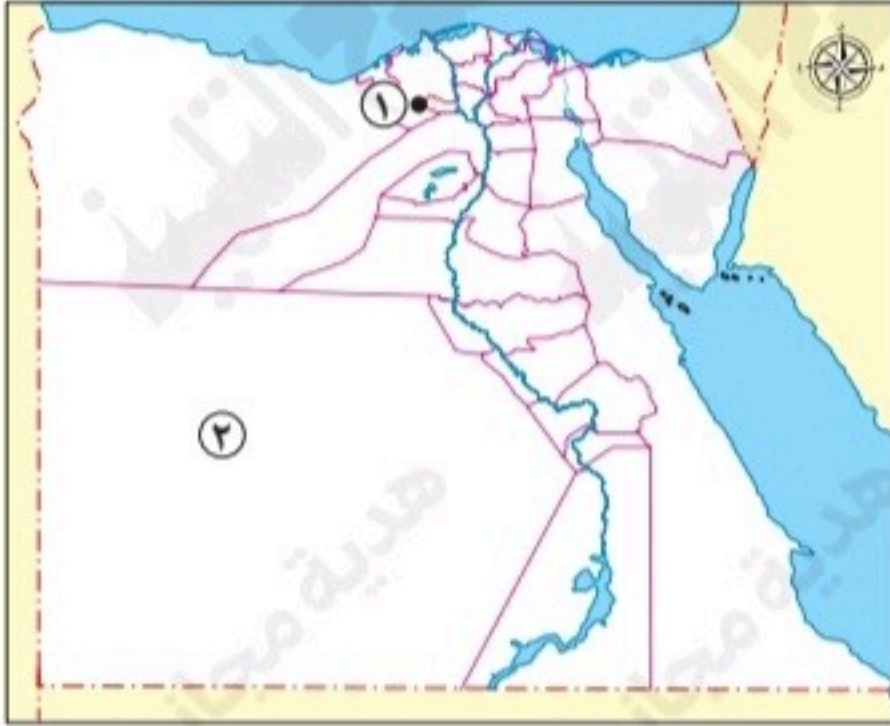
- ١ دلل على صحة العبارة: احتلت المرأة مكانة مميزة في المجتمع المصري قديماً.

- ٢ ما العلاقة بين: المنتجات المحلية وتنمية الوطن؟



## الاختبار الثاني

١٠



١ ا لاحظ خريطة مصر المقابلة، ثم أجب:

- ١ يشير الرقم (١) إلى أحد المشروعات الزراعية وهو .....
- ٢ يشير رقم (٢) إلى إحدى محافظات البيئة .....

ب دال على صحة كل عبارة مما يلي:

١ تتنوع مصادر الغذاء في مصر.

٢ تتعدد الموارد الطبيعية بشبه جزيرة سيناء.

٢ ا اكتب كلمة (صواب) أمام العبارة الصحيحة، وكلمة (خطأ) أمام العبارة غير الصحيحة:

- ١ تطل إسبانيا على سطح مائي واحد هو البحر المتوسط. ( )
- ٢ يأتي الملك على رأس المجتمع المصري القديم. ( )

ب بم تفسر...؟

١ أهمية دور المعلم في الوطن.

٢ تميز الفن القبطي في العصر الروماني.

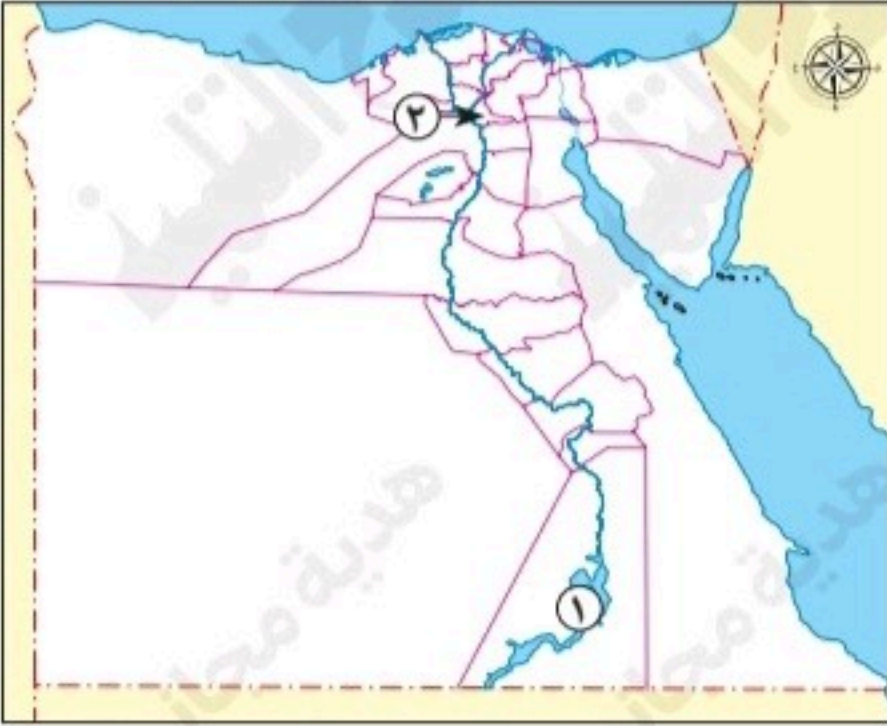
٣ ا اختر الإجابة الصحيحة مما بين القوسين:

- ١ يوجد قصر رأس التين في محافظة .....
- (القاهرة - الإسماعيلية - الإسكندرية - مطروح)
- ٢ اهتم المصريون القدماء بصناعة الورق من .....
- (نبات الكتان - نبات البردي - جذور الأشجار - ألياف القطن)

ب أجب عما يلي:

١ حدد: إحدى السمات الحضارية التي تميزت بها مصر في العصر الحديث.

٢ ما العلاقة بين: أقاليم مصر قديماً والحياة الدينية؟



١ أ أكمل كل عبارة مما يلي بما يناسبها من كلمات:

- ١ يشير الرقم (١) إلى إحدى المصايد الطبيعية للثروة السمكية وهي .....
- ٢ أقرب المسطحات المائية للمحافظة رقم (٢) هو .....
- ب بم تفسر...؟

١ أهمية دور الطبيب في خدمة الوطن.

٢ الاحتفال بعيد تحرير سيناء في ٢٥ إبريل من كل عام.

٢ أ اكتب كلمة (صواب) أمام العبارة الصحيحة، وكلمة (خطأ) أمام العبارة غير الصحيحة:

- ١ بدأ العصر الإسلامي في مصر بدخول القائد عمرو بن العاص. ( )
- ٢ قسّم المصريون القدماء السنة إلى خمسة فصول. ( )

ب ما النتائج المترتبة على...؟

١ حصول الإنسان على التغذية السليمة.

٢ اعتقاد المصريين القدماء في وجود حياة أخرى خالدة.

٣ أ اختر الإجابة الصحيحة مما بين القوسين:

- ١ تقع محافظة الوادي الجديد على خريطة مصر في اتجاه .....
- (الشمال الشرقي - الجنوب الغربي - الشمال الغربي - الجنوب الشرقي)
- ٢ تكونت محكمة حساب المتوفى في مصر قديماً من ٤٢ قاضياً يرأسهم .....
- (مينا - إخناتون - إيزيس - أوزوريس)

ب أجب عما يلي:

١ ما المقصود بـ: العصور التاريخية؟

٢ دلل على صحة العبارة: يستطيع كل فرد المشاركة في تنمية الوطن.



## الاختبار الرابع



١ أ صوب ما تحته خط فيما يلي:

١ يشير الرقم (١) إلى مشروع الدلتا الجديدة.

(.....)

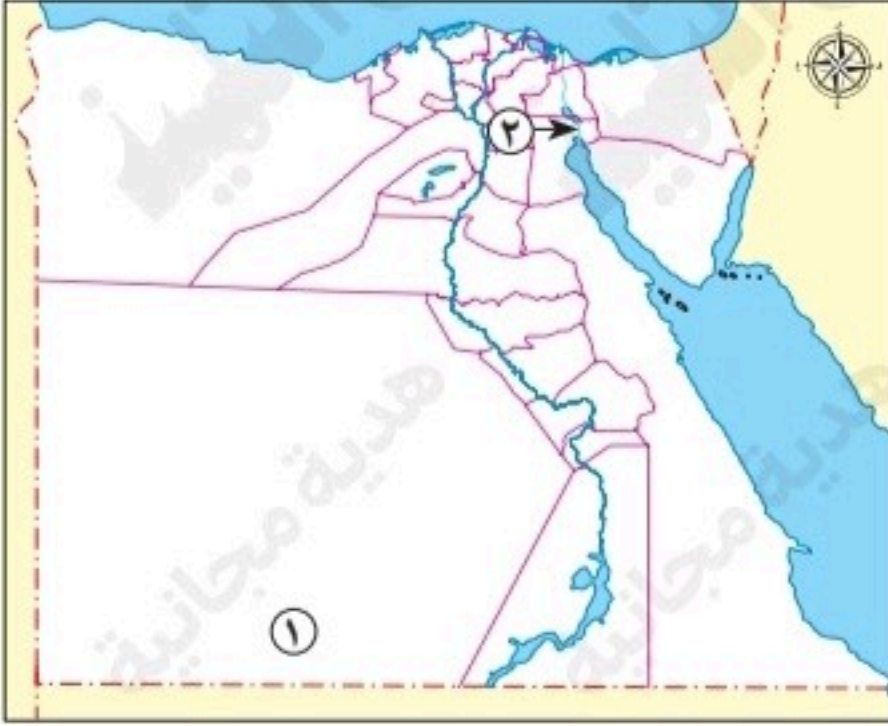
٢ يشير الرقم (٢) إلى ممر مائي نجحت قواتنا المسلحة

في حرب أكتوبر ١٩٧٣ م في عبوره وهو نهر النيل.

(.....)

ب ما المقصود ب...؟

١ المسؤولية الوطنية:



٢ التحنيط:

٢ أ اكتب كلمة (صواب) أمام العبارة الصحيحة، وكلمة (خطأ) أمام العبارة غير الصحيحة:

١ يُعد إنتاج زيت الزيتون من الصناعات الغذائية التي تهتم بها إسبانيا. ( )

٢ ترتقي الدول وتتقدم بأيدي عمالها المهرة. ( )

ب ما النتائج المترتبة على...؟

١ توقيع اتفاقية السلام عام ١٩٧٩ م.

٢ تَوَلَّى محمد علي حكم مصر بالنسبة لنهضتها الحضارية.

٣ أ اختر الإجابة الصحيحة مما بين القوسين:

١ شُيِّد قصر رأس التين في العصر .....

(الفارسي - الروماني - الملكي - الجمهوري)

٢ استوردت مصر قديمًا منتجات عديدة، ومنها .....

(البردي - النحاس - الذهب - التوابل)

ب أجب عما يلي:

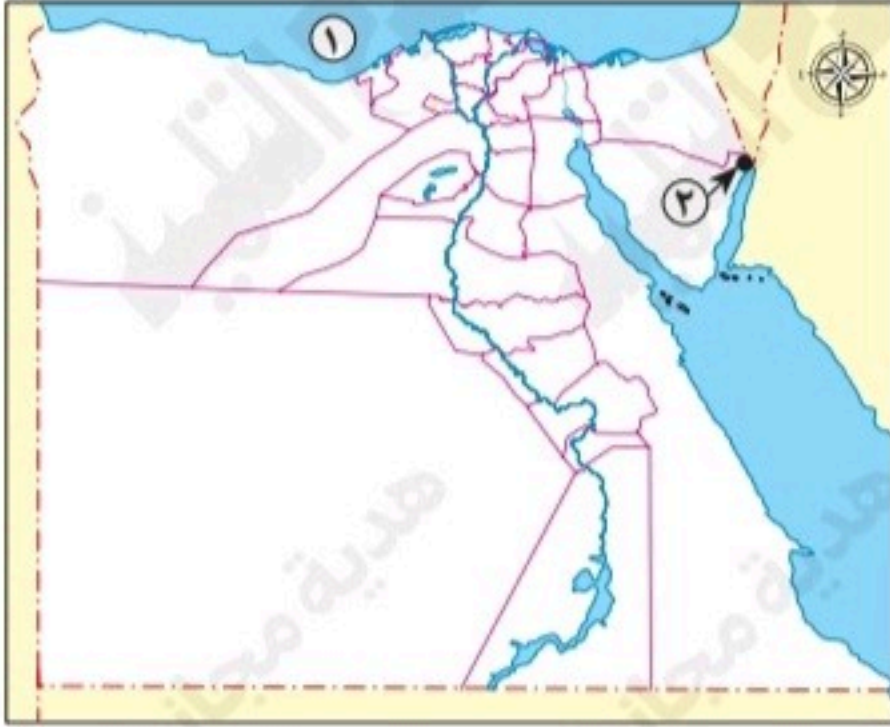
١ ما العلاقة بين: الثروة السمكية والأمن الغذائي؟

٢ ماذا يحدث إذا: لم نشارك في العمل الجماعي؟



## الاختبار الخامس

١٠



١ ا لاحظ خريطة مصر المقابلة، ثم أجب عما يلي:

- ١ يشير الرقم (١) لإحدى المصايد الطبيعية للثروة السمكية في مصر وهو .....
- ٢ صوب: يشير الرقم (٢) إلى آخر جزء من أرض سيناء استردته مصر عام ١٩٨٩ م وهو مدينة العريش.  
(.....)

ب بم تفسر...؟

- ١ أهمية دور الشرطي في الوطن.

٢ أطلق على الرئيس السادات بطل الحرب والسلام.

٢ ا اكتب كلمة (صواب) أمام العبارة الصحيحة، وكلمة (خطأ) أمام العبارة غير الصحيحة:

- ١ تشتهر محافظة الوادي الجديد بإنتاج التمور وزيت الزيتون. ( )
- ٢ تعلم المصري القديم زراعة الأرض وبناء البيوت خلال حياته على الهضاب. ( )

ب دل على صحة كل عبارة مما يلي:

- ١ تتعدد واجبات الفرد تجاه الوطن.

٢ أقام المصريون القدماء مشروعات لخدمة الزراعة.

٣ ا اختر الإجابة الصحيحة مما بين القوسين:

- ١ تميز العصر اليوناني والبطلمي بعدة سمات حضارية، ومنها بناء .....  
(الأهرامات - الجامع الأزهر - مدينة الإسكندرية - المسلات)
- ٢ أحد أشهر الآثار الإسلامية في محافظة القليوبية مسجد .....  
(السلطان الأشرف - السيدة نفيسة - السيدة عائشة - الأزهر الشريف)

ب أجب عما يلي:

- ١ ما النتائج المترتبة على: جفاف الهضاب عند المصري القديم؟

٢ ماذا يحدث إذا: لم يعرف الإنسان الكتابة؟

# سلاح التلميذ

منذ عام ١٩٦٠

2025 - 2026



## الدراسات الاجتماعية

إجابات نماذج اختبارات

شهر إبريل

5

الفصل الدراسي الثاني

## إجابة الاختبار الأول

- ١ أ ١ البحر الأحمر.
- ٢ مشروع الفرافرة.
- ب ١ مهدت الطريق لعقد مفاوضات كامب ديفيد وتوقيع اتفاقية السلام التي نصت على انسحاب إسرائيل الكامل من سيناء.
- ٢ بدأ يتعلم المصري القديم ويكتشف أشياء جديدة حيث بنى البيوت وزرع الأرض واختراع الأدوات.
- ٢ أ ١ خطأ.
- ٢ صواب.
- ب ١ لأنه يجب علينا المحافظة على الموارد الطبيعية، فهي تُعد سر نهضتنا وتقدمنا.
- ٢ بفضل تقدم مصر الزراعي والصناعي وتأمين الطرق التجارية.
- ٣ أ ١ هيبس.
- ٢ استعادة سيناء.
- ب ١ حيث شغلت مناصب عليا حتى وصلت لمنصب الملكة والكاتبة.
- ٢ تشجيع المنتجات المحلية يساهم في تنمية الوطن واقتصاده.

## إجابة الاختبار الثاني

- ١ أ ١ مشروع الدلتا الجديدة.
- ٢ الصحراوية.
- ب ١ حيث تشمل المنتجات الزراعية، والثروة الحيوانية، والثروة السمكية.
- ٢ حيث تحتوي على كثير من المعادن، وبها موارد مائية تساعد على قيام الزراعة، وتمتلك سواحل سياحية جميلة على البحرين الأحمر والمتوسط.
- ٢ أ ١ خطأ.
- ٢ صواب.
- ب ١ لأنه يربي الأجيال ويغرس فيهم القيم.
- ٢ بسبب زخارفه الجميلة.
- ٣ أ ١ الإسكندرية.
- ٢ نبات البردي.
- ب ١ ظهور المدارس والنهضة العمرانية والاقتصادية بها.
- ٢ كان لكل إقليم من أقاليم مصر الـ ٤٢ معبوداً خاص به.

## إجابة الاختبار الثالث

- ١ أ ١ بحيرة ناصر. ١  
٢ نهر النيل. ٢
- ب ١ يعالج المرضى بإخلاء. ١  
٢ حيث رُفِعَ عَلمَ مصر عاليًا على أرض سيناء يوم ٢٥ إبريل عام ١٩٨٢ م بعد استعادتها كاملة. ٢
- ٢ أ ١ صواب. ١  
٢ خطأ. ٢
- ب ١ تجعل الجسم قويًا ونشطًا مما يساعده على ممارسة الرياضة، وتساعد على النمو السليم، وتقوي جهاز المناعة، وتحافظ على الصحة وتقلل الإصابة بالأمراض. ١  
٢ قاموا بتحنيط جثث موتاهم ووضعوا مع المتوفى مقتنياته الشخصية. ٢
- ٣ أ ١ الجنوب الغربي. ١  
٢ أوزوريس. ٢
- ب ١ فترة من الزمن عاش فيها الإنسان وشهدت تغيرات كبيرة، وقد بدأت بعد معرفة الإنسان القديم للكتابة. ١  
٢ من خلال الاجتهاد في الدراسة والعمل بإخلاص وإتقان وتشجيع المنتجات المحلية. ٢

## إجابة الاختبار الرابع

- ١ أ ١ شرق العوينات. ١  
٢ قناة السويس. ٢
- ب ١ واجب المواطن تجاه وطنه، وتشمل الالتزام بالقوانين والعمل على تقدمه والحفاظ على موارده. ١  
٢ حفظ جثث الموتى بعد وفاتهم بطرق طبية وكيميائية. ٢
- ٢ أ ١ صواب. ١  
٢ صواب. ٢
- ب ١ الانسحاب الكامل لإسرائيل من سيناء. ١  
٢ ظهور المدارس والنهضة العمرانية والاقتصادية. ٢
- ٣ أ ١ الملكي. ١  
٢ التوابل. ٢
- ب ١ تنمية الثروة السمكية يساعد في تحقيق الأمن الغذائي. ١  
٢ **إجابة استرشادية:** يؤدي إلى تأخر الوطن وعدم تقدمه. ٢

## إجابة الاختبار الخامس

١ أ ١ البحر المتوسط.

٢ طابا.

ب ١ لأنه يحافظ على الأمن والنظام.

٢ لأنه حقق الانتصار في حرب السادس من أكتوبر ١٩٧٣ م وعقد معاهدة السلام عام ١٩٧٩ م.

٢ أ ١ صواب.

٢ خطأ.

ب ١ يجب أن يكون الفرد مواطناً صالحاً يلتزم بالقوانين ويحترم النظام ويشترك في الأعمال التطوعية، ويحافظ

على نظافة الشوارع والحدائق، ويحافظ على المرافق العامة، ولا يردّد الشائعات التي تسعى لهدم المجتمع.

٢ حيث أقاموا سد اللاهون.

٣ أ ١ مدينة الإسكندرية.

٢ السلطان الأشرف.

ب ١ استقر المصري القديم بوادي النيل وعرف الزراعة واستأنس الحيوانات وبنى البيوت.

٢ **إجابة استرشادية:** لما بدأت ما يُعرف بـ«العصور التاريخية»، ولا سجّل الإنسان القديم أهم أعماله، ولما وصلت إلينا

هذه الأعمال.