

2026

3  
اعدادي

# المراجعة النهائية

في الدراسات الاجتماعية



الفصل الدراسي الثاني

إعداد

أ / محمد عبد الصبور

01129903122



طريقك للدرجة النهائية



سلسلة البركان

## أقوى مراجعة على الوحدة الأولى

## السؤال الأول : اختر الإجابة الصحيحة مما بين الأقواس

- ١- عرف الانسان الاستقرار مع معرفة نشاط ..... ( الزراعة - الصيد - الصناعة - التجارة )
- ٢- تنتشر الزراعة البسيطة في المناطق ..... ( الحارة - المعتدلة - الموسمية - المعتدلة الدفينة )
- ٣- تتشابه الزراعة البدائية والكثيفة في ..... ( ضيق المساحات المزروعة - احتياجها لايدي عاملة وفيرة - توفير الاحتياجات المحلية - زراعة الأرض أكثر من مرة في العام الواحد )
- ٤- تعد ..... أولى دول العالم في إنتاج القمح . ( الصين - اليابان - المغرب - كندا )
- ٥- تأتي قارة أمريكا الشمالية في المرتبة الأولى إنتاجاً لـ ..... ( القمح - الأرز - الذرة - القطن )
- ٦- أي من القارات الآتية تخلو من زراعة قصب السكر ..... ( أفريقيا - آسيا - أمريكا الشمالية - أوروبا )
- ٧- تتركز زراعة البنجر في قارة أوروبا خاصة في دولة ..... ( سويسرا - روسيا - فرنسا - إيطاليا )
- ٨- أولى دول العالم في إنتاج السكر دولة ..... ( البرازيل - الهند - روسيا - مصر )
- ٩- تعد قارة ..... ثاني قارات العالم إنتاجاً للغاز الطبيعي . ( آسيا - أفريقيا - أستراليا - أمريكا الجنوبية )
- ١٠- تعتبر دولة ..... أكبر دول العالم إنتاجاً للشاي . ( البرازيل - الصين - روسيا - الولايات المتحدة )
- ١١- تختلف محاصيل الزراعة التجارية والعلمية من قارة إلى أخرى بسبب أساسي هو ..... ( تنوع المناخ - نوع الآلات المستخدمة - حجم السكان - تنوع المساحة المزروعة )
- ١٢- أكثر قارات العالم التي تنتشر بها حرفة الرعي البدائي هما قارتى ..... ( آسيا وأفريقيا - أفريقيا وأمريكا الجنوبية - أوروبا وأستراليا - أمريكا الشمالية وأوروبا )
- ١٣- تعد ..... من أكبر دول العالم في تربية الإبقار . ( الصين - اليابان - الهند - العراق )
- ١٤- ترتبط تربية ..... بالمراعي التجارية الواسعة . ( الماعز - الجاموس - الرنة - الأغنام )
- ١٥- تعد الصين أكبر دول العالم تربية لـ ..... ( الإبقار - الأغنام - الدواجن - الإبل )
- ١٦- تحتل دولة ..... المركز الأول عالمياً في تربية الدواجن . ( ألمانيا - الهند - نيجيريا - الولايات المتحدة )
- ١٧- تحتل دولة ..... المركز الأول في إنتاج اللحوم الحمراء والأسماك معاً . ( الهند - الصيد - فرنسا - أستراليا )
- ١٨- أكثر الدول تصديراً للأسماك تنتمي لقارة ..... ( أستراليا - أفريقيا - آسيا - أمريكا الشمالية )
- ١٩- تعد دولة ..... أكبر دول العالم إنتاجاً للحديد . ( فرنسا - ألمانيا - الصين - كندا )
- ٢٠- من الدول التي تصدر الحديد خاماً ..... ( اليابان - موريتانيا - فرنسا - بريطانيا )
- ٢١- شيلي أولى دول العالم في إنتاج ..... ( الفحم - الحديد - البوكسيت - النحاس )
- ٢٢- النشاط التعدين هو استخراج المعادن ومصادر الطاقة من باطن القشرة الأرضية» لا تنطبق العبارة على ..... ( الحديد - الفحم - البترول - الألومنيوم )
- ٢٣- تعد الولايات المتحدة الأمريكية أكبر دول العالم إنتاجاً لـ ..... ( الحديد - النحاس - الألومنيوم - المنجنيز )
- ٢٤- احتل ..... المصدر الأول والرئيسي للطاقة المستخدمة في العالم حتى أوائل القرن العشرين الميلادي . ( البترول - الغاز الطبيعي - الفحم - الكهرباء )
- ٢٥- يأتي أكثر من ٤/٣ إنتاج العالم من الفحم من قارتى ..... ( أوروبا وأفريقيا - أوروبا وآسيا - آسيا وأستراليا - أمريكا الشمالية وأمريكا الجنوبية )
- ٢٦- تنتج قارة أوروبا ثلث إنتاج العالم من ..... ( الفحم - البترول - الغاز الطبيعي - الحديد )
- ٢٧- تعد قارة ..... أكبر قارات العالم إنتاجاً للطاقة النووية . ( أوروبا - أفريقيا - أمريكا الشمالية - أستراليا )
- ٢٨- أولى الدول العربية في توليد الطاقة الكهربائية من الرياح ..... ( المغرب - تونس - مصر - الأردن )
- ٢٩- انعكست نتائج استخراج البترول بصورة واضحة في تحقيق التنمية الاقتصادية في دول ..... ( جنوب أفريقيا - جنوب أوروبا - الخليج العربي - شرق آسيا )
- ٣٠- من المقومات الطبيعية اللازمة لقيام الصناعة وتطورها ..... ( التطور العلمي - الأسواق - الموقع المتميز - رأس المال )
- ٣١- أكبر الأقاليم الصناعية في العالم الجديد إقليم ..... ( روسيا وأوكرانيا - شرق آسيا - غرب ووسط أوروبا - شمال شرق الولايات المتحدة الأمريكية )



- ٣٢- يبدو إقليم ..... الصناعي في شكل مناطق متباعدة .  
 ( غرب ووسط أوروبا - شمال شرق الولايات المتحدة الأمريكية - روسيا وأوكرانيا - شرق آسيا )  
 ٣٣- تتعدد مراكز الصناعات الحديثة بجنوب شرق آسيا ومنها دولة ..... ( الصين - اليابان - ماليزيا - كوريا )  
 ٣٤- من مراكز الصناعة الحديثة في أمريكا الجنوبية ..... ( البرازيل - فنزويلا - بيرو - بوليفيا )  
 ٣٥- تنتشر المراكز الصناعية الحديثة في أفريقيا بجهتيها ..... ( الشمالية والجنوبية - الشمالية والغربية - الجنوبية والغربية - الغربية والشرقية )

## السؤال الثاني : اكتب كلمة (صواب) امام العبارة الصحيحة وكلمة (خطأ) امام العبارة غير الصحيحة

- ١- ترتبط كثير من الأنشطة التي يمارسها الإنسان بالموارد الزراعية . ( )  
 ٢- تسود الزراعة الكثيفة في المناطق الحارة على هوامش الغابات الاستوائية . ( )  
 ٣- تعد قارة آسيا أكبر قارات العالم إنتاجا للقمح والقطن . ( )  
 ٤- تحتل الصين المركز الأول في إنتاج القمح . ( )  
 ٥- تتركز زراعة القطن في قارة أوروبا وتعد الهند من أكبر الدول المنتجة له . ( )  
 ٦- تحتاج زراعة الشاي إلى تربة خصبة خفيفة ومناخ حار وهواء رطب . ( )  
 ٧- تعتمد أوروبا على قصب السكر في إنتاج السكر . ( )  
 ٨- يوجد الرعي البدائي شمال قارتي أوروبا وآسيا في صحارى التندرا الباردة . ( )  
 ٩- يوجد الرعي التجاري في مناطق الحشائش القصيرة بأمريكا الشمالية . ( )  
 ١٠- يسود الرعي التجاري في دولة الأرجنتين بأمريكا الجنوبية . ( )  
 ١١- تُعتبر الهند أكبر دولة في العالم في إنتاج اللحوم الحمراء . ( )  
 ١٢- تُعد مصر أكبر الدول المنتجة للألبان في العالم . ( )  
 ١٣- تشتهر أستراليا بأجود أنواع الصوف في العالم . ( )  
 ١٤- توجد بقارة آسيا أولى دول العالم إنتاجا للدواجن . ( )  
 ١٥- تعتبر الولايات المتحدة الأمريكية أكبر دول العالم في إنتاج الأسمك . ( )  
 ١٦- تتساوى الدول المتقدمة مع الدول النامية في معدل استهلاك المعادن . ( )  
 ١٧- تُعد الصين أولى دول العالم إنتاجا للحديد . ( )  
 ١٨- الدول النامية المنتجة للبوكسيت ليست هي الدول المصنعة للألومنيوم . ( )  
 ١٩- تُعتبر أستراليا أكبر دول العالم إنتاجا للقمح . ( )  
 ٢٠- يعتبر الغاز الطبيعي من مصادر الطاقة الأقل تلويثاً للبيئة . ( )  
 ٢١- يتم إنتاج الكهرباء الحرارية من الفحم أو البترول أو الغاز الطبيعي . ( )  
 ٢٢- بريطانيا وفرنسا من الدول المتقدمة التي تنتج الطاقة الكهربائية من الرياح . ( )  
 ٢٣- تنقسم الصناعة على أساس مدى تركزها وجودتها إلى خفيفة أو ثقيلة . ( )  
 ٢٤- التطور العلمي والسياسات الحكومية تُعد عوامل بشرية لازمة لقيام الصناعة . ( )

## السؤال الثالث : صوب ما تحته خط في العبارات الآتية

- ١- يدخل الجوت في صناعة الخبز .  
 ٢- تتميز الزراعة التجارية بزراعة الأرض بأكثر من محصول خلال العام .  
 ٣- تُعد قارة أوروبا أولى قارات العالم إنتاجا للقمح .  
 ٤- تُعد الولايات المتحدة الأمريكية ثاني دول العالم إنتاجا للقمح .  
 ٥- تتركز زراعة بنجر السكر في قارتي آسيا وأمريكا الشمالية .  
 ٦- تُعد الجزائر أكبر دول أفريقيا إنتاجا لبنجر السكر .  
 ٧- القطن من المحاصيل المعتدلة المهمة لإنتاج الخيوط التي تستخدم في صناعة أجود الملابس .  
 ٨- تُعد قارة أفريقيا أكثر القارات إنتاجا للقطن .  
 ٩- ينتج معظم المطاط في قارة أمريكا الجنوبية وتُعد دولة شيلي أولى دول العالم إنتاجا له .  
 ١٠- الموطن الأصلي لمحصول الشاي غرب أفريقيا .  
 ١١- تشتهر إندونيسيا بإنتاج الصوف من أغنام المارينو .



- ١٢- يرعى حيوان الرنة فى صحاري أريزونا الحارة .
- ١٣- تُعد قارة أوروبا أولى القارات فى تربية الأبقار .
- ١٤- يأتي نصف الإنتاج السمكى فى العالم من المزارع السمكية .
- ١٥- تنتج أكثر من ثلث إنتاج العالم من الأسماك دولة إندونيسيا .
- ١٦- يُعد البوكسيت الخام الرئيسي لمعدن النحاس .
- ١٧- ثانى دول العالم إنتاجا للبتروال الهند .
- ١٨- أولى قارات العالم إنتاجا للطاقة النووية أمريكا الشمالية .
- ١٩- معظم الصناعات فى دول الخليج العربي صناعات الكترونية .
- ٢٠- تُعد مصر و تونس من أهم المراكز الصناعية الحديثة بأفريقيا .

### السؤال الرابع : اكتب المصطلح الجغرافى الذى تشير إليه كل عبارة من العبارات الآتية

- ١- زراعة يعمل بها عدد قليل من السكان فى مناطق صغيرة ومعزولة .
- ٢- زراعة الأرض أكثر من مرة فى العام الواحد لإشباع حاجة السكان المحليين من الغذاء .
- ٣- زراعة تعرف بنظام الزراعة الواسعة وتهدف للإنتاج التجارى الضخم .
- ٤- يستخرج من عصارة أشجار استوائية ويصنع منه إطارات السيارات .
- ٥- نوع من الرعى يمارسه سكان المناطق الصحراوية فى مساحات واسعة من قارات العالم .
- ٦- رعى يمارس فى قارة أمريكا الشمالية بمنطقة البراري ويعتمد على أحدث الأساليب العلمية .
- ٧- منتج حيوانى تُعد الهند أكبر دول العالم إنتاجا له .
- ٨- أحياء بحرية يتم اصطيادها للاستفادة من لحومها وشحومها .
- ٩- عملية استخراج المعادن ومصادر الطاقة من باطن الأرض أو بالقرب من سطح الأرض .
- ١٠- معدن يمثل الخام الرئيسي لصناعة الألومنيوم .
- ١١- يُعد أهم مصادر الطاقة لارتباطه بالتنمية الاقتصادية والاجتماعية والعلاقات السياسية .
- ١٢- طاقة تنتج من الأمواج وحركة المد والجزر فى بعض الدول المتقدمة .
- ١٣- إقليم صناعى يضم جزيرة هونشو وجمهورية كوريا .

### السؤال الخامس : أجب عن الاسئلة التالية

- بم تفسر :-

- ١- بعد النشاط الزراعى من الأنشطة الاقتصادية الأساسية فى العالم .
- ٢- تحتاج الزراعة الكثيفة إلى أيد عاملة كثيرة .
- ٣- صعوبة استخدام الآلات والميكنة الزراعية فى مناطق الزراعة الكثيفة .
- ٤- قلة التكاليف والعمالة فى الزراعة التجارية والعلمية .
- ٥- يزرع قصب السكر فى جميع قارات العالم ما عدا قارة أوروبا .
- ٦- شهرة قارة أوروبا بإنتاج السكر من بنجر السكر .
- ٧- يُعد القطن فى مصر والسودان من أجود أنواع القطن فى العالم .



٨- تتركز زراعة الشاي فى شرق آسيا خاصة فى الصين .

٩- انخفاض أعداد العاملين بالرعى البدائي فى بعض مناطق قارة آسيا .

١٠- أهمية الثروة الحيوانية فى العالم .

١١- تحتل الصين والهند وأستراليا المراكز الأولى فى تربية الأغنام .

١٢- تعتبر أستراليا أولى دول العالم فى إنتاج الصوف .

١٣- زيادة معدل الاستهلاك العالمى من اللحوم الحمراء .

١٤- تنتشر مناطق صيد الأسماك على سواحل القارات .

١٥- تحتل الصين المركز الأول فى إنتاج الأسماك فى العالم .

١٦- تُعد إندونيسيا من أهم الدول المنتجة للأسمك فى العالم .

١٧- أهمية معدن النحاس .

١٨- توطن صناعة الألومنيوم فى الدول المتقدمة .

١٩- يعتبر البترول أهم مصادر الطاقة فى العالم .

٢٠- التوسع فى استخدام الغاز الطبيعى كبديل لمصادر الطاقة الأخرى .

### - ما النتائج المترتبة على :-

١- صغر مساحات الحقول الزراعية فى نطاق الزراعة الكثيفة .

٢- استخدام الطرق العلمية الحديثة فى الزراعة التجارية والعلمية .

٣- انتشار التعليم بين قبائل دول وسط آسيا بالنسبة لحرفة الرعى .

٤- انتشار المناخ الاستوائى والمدارى فى قارة آسيا بالنسبة للإنتاج الزراعى .

٥- عدم توافر الطاقة الكهربائية والخبرة الفنية فى الدول النامية المنتجة للبوكسيت .

٦- زيادة الطلب على البترول فى الوقت الحالى .



٧- الوحدة الاقتصادية الأوروبية .

**- ماذا يحدث إذا :-**

١- تحولت مصر من نظام الزراعة الكثيفة إلى الزراعة العلمية والتجارية .

٢- قامت الدول النامية المنتجة للحديد بتصنيعه بدلاً من تصديره خام .

٣- توافرت الطاقة الكهربائية والخبرة الفنية في الدول المنتجة للوكسيت .

٤- اتجهت معظم الدول نحو الاعتماد على المصادر المتجددة للطاقة .

٥- أخذت الدول النامية بالأساليب العلمية في الصناعة .

**- ما العلاقة بين :-**

١- الزراعة الكثيفة وتركز السكان .

٢- موقع كل من البرازيل وفرنسا ومصدر إنتاج السكر بهما .

٣- المطاط الطبيعي والسيارات .

٤- تدفق البترول وحرفة الرعى البدائى فى شبه الجزيرة العربية .

٥- التطور التكنولوجي وإنتاج الأسماك .

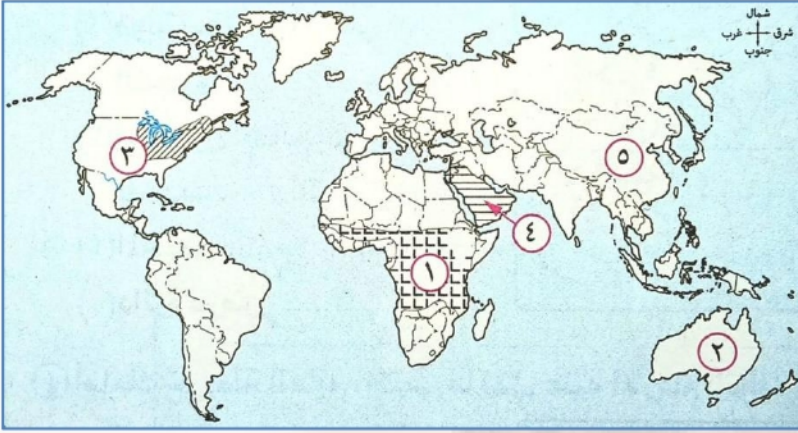
٦- البوكسيت والالومنيوم .

٧- الغاز الطبيعي والكهرباء .

٨- الرياح والكهرباء .

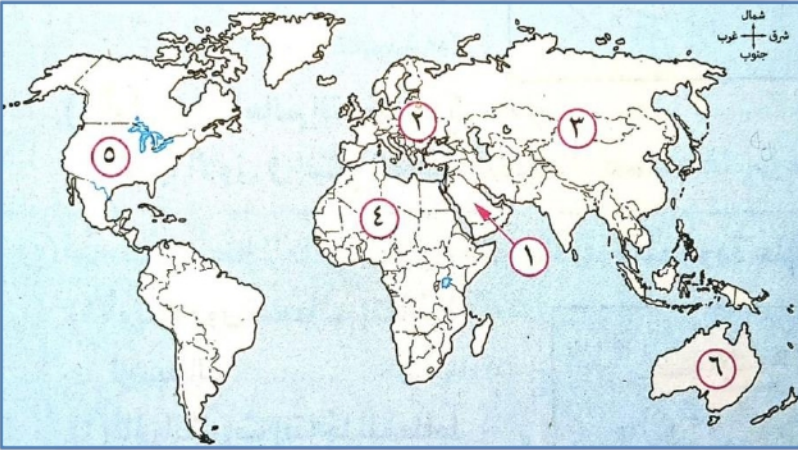


السؤال السادس : امامك خريطة صماء للعالم اكتب مدلول الأرقام عليها



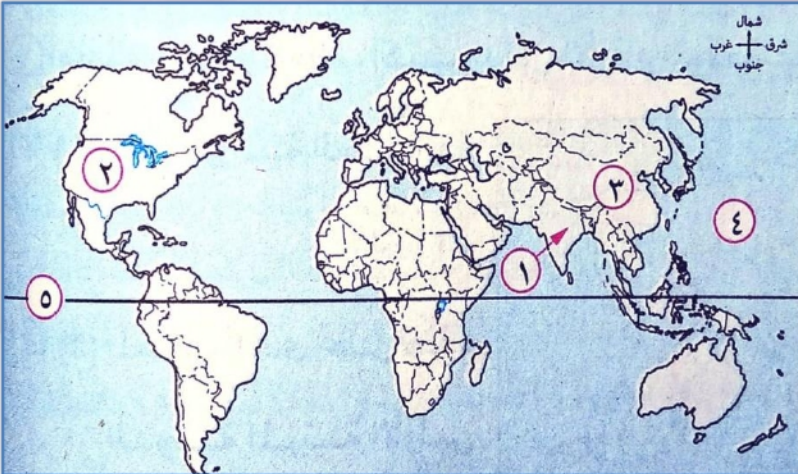
- ١- نوع الزراعة السائدة .....
- ٢- المعدن الذى تحتل هذه الدولة المرتبة الأولى  
في انتاجه عالمياً .....
- ٣- إقليم صناعي .....
- ٤- منطقة اسيوية ينتشر بها الرعي  
البدائى .....
- ٥- اكبر دول العالم انتاجاً للشاي .....

السؤال السادس : امامك خريطة صماء للعالم اكتب مدلول الأرقام عليها

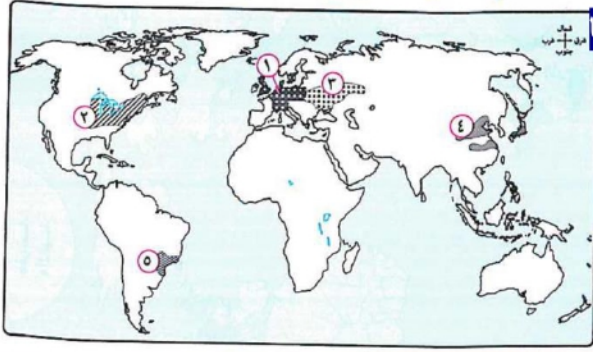


- ١- القارة الأولى المنتجة للقمح تمثل رقم .....
- ٢- أولى دول العالم في تربية الدواجن تمثل  
رقم .....
- ٣- أشهر دول العالم انتاجاً للاصواف من اغنام  
المارينو تمثل رقم .....
- ٤- دولة عربية تحتل المركز الأول عالمياً في  
انتاج البترول تمثل رقم .....
- ٥- قارة تخلص من زراعة محصول قصب السكر  
تمثل رقم .....

السؤال السادس : امامك خريطة صماء للعالم اكتب مدلول الأرقام عليها



- ١- ثانى دول العالم انتاجاً للسكر .....
- ٢- دولة يسود بها الرعي التجارى .....
- ٣- أولى دول العالم انتاجاً للحديد .....
- ٤- المحيط .....
- ٥- دائرة عرض .....

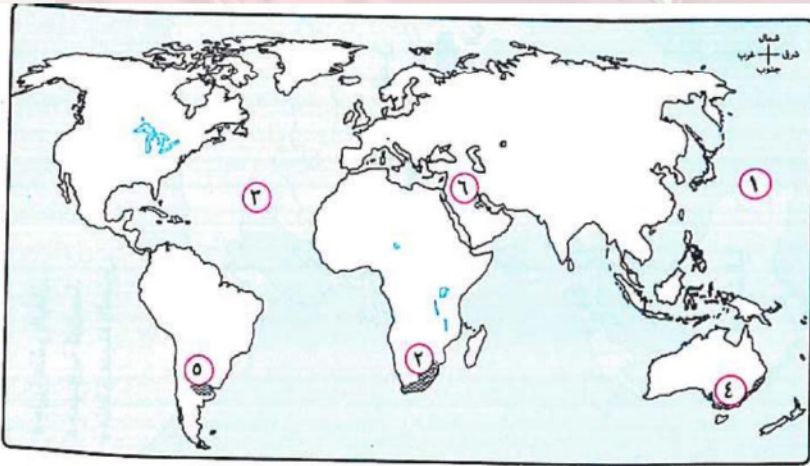


السؤال السادس : امامك خريطة صماء للعالم اكتب مدلول الأرقام عليها

- ١- إقليم صناعى يوجد في احدى قارات العالم القديم .....
- ٢- أكبر الأقاليم الصناعية في العالم الجديد .....
- ٣- إقليم صناعى .....
- ٤- إقليم صناعى .....
- ٥- دولة بها مركز صناعى حديث .....

السؤال السادس : امامك خريطة صماء للعالم اكتب مدلول الأرقام عليها

- ١- يمثل الرقم ..... المحيط الاطلنطى .
- ٢- يمثل الرقم (٤) دولة بها مراكز صناعية حديثة .....
- ٣- يمثل الرقم ..... احدى المراكز الصناعية الحديثة باسيا .
- ٤- يمثل الرقم ..... احدى المراكز الصناعية الحديثة بالارجنتين .
- ٥- يمثل الرقم (٣) دولة بها مراكز صناعية حديثة .....



## أقوى مراجعة على الوحدة الثانية

## جمهورية الهند

## السؤال الاول : اختر الاجابة الصحيحة مما بين الاقواس

- ١- دولة ميانمار تحد دولة الهند من جهة .....  
( الجنوب الشرق - الجنوب الغربى - الشمال الشرق - الشمال الغربى )
- ٢- تقع معظم دولة ..... داخل حدود دولة الهند . ( نيبال - بوتان - بنجلاديش - باكستان )
- ٣- تنمو الغابات ..... على السواحل الغربية والشرقية للهند .  
( الاستوائية - الموسمية - المعتدلة - الباردة )
- ٤- تُعد دولة الهند أهم دول العالم في تربية .....  
( الماعز - الأبقار - الإبل - الجاموس )
- ٥- تُعد الهند ثالث دول العالم إنتاجاً لـ .....  
( البترول - الغاز الطبيعى - الفحم - البوكسيت )
- ٦- تقع العاصمة السياسية للهند في جهتها .....  
( الشمالية - الغربية - الجنوبية - الشرقية )
- ٧- أهم مدن الساحل الغربى فى الهند ومن أكبر الموانئ والمدن الصناعية مدينة .....  
( مومباى - كلكتا - نيودلهي - حيدر أباد )
- ٨- من أكبر مراكز الصناعات اليدوية في الهند ويوجد بها العديد من المراكز الإسلامية مدينة .....  
( نيودلهي - مومباى - كلكتا - حيدر أباد )
- ٩- تستورد مصر من الهند .....  
( غزل القطن - الجلود - الأسمدة الخام - الفوسفات )
- ١٠- تقوم الزراعة في الهند معتمدة على .....  
( مياه الأنهار والامطار - المياه الجوفية والامطار - الابار ومياه البحيرات - المياه الجوفية والانهار )

## السؤال الثانى : أكمل العبارات التالية بكلمات مناسبة

- ١- تحيط المياه بالهند من جميع الجهات عدا جهة .....
- ٢- تمتد سهول نهر ..... شمال شرق الهند ، بينما يمتد في جنوبها سهل نهر .....
- ٣- تمتد سواحل الهند على خليج البنغال و.....
- ٤- تنمو الحشائش القصيرة بالهند على هضبة .....
- ٥- تعتمد الهند في زراعة الأراضي الزراعية على مياه ..... او .....
- ٦- قفزت الهند قفزات سريعة فى تطور الصناعة ومن أهم الصناعات بها ..... و .....
- ٧- يحد دولة الهند من جهة الشمال بعض الدول منها نيبال وبوتان و .....
- ٨- هضبة الدكن بالهند ممتدة في شكل ..... متقطع بالانهار .
- ٩- يزيد المتوسط السنوي لدرجات الحرارة على ..... درجة مئوية ويقل كلما اتجناها نحو .....
- ١٠- تعد مدينة ..... هي العاصمة السياسية للهند وتتميز بوجود جامعات ومراكز صناعية .

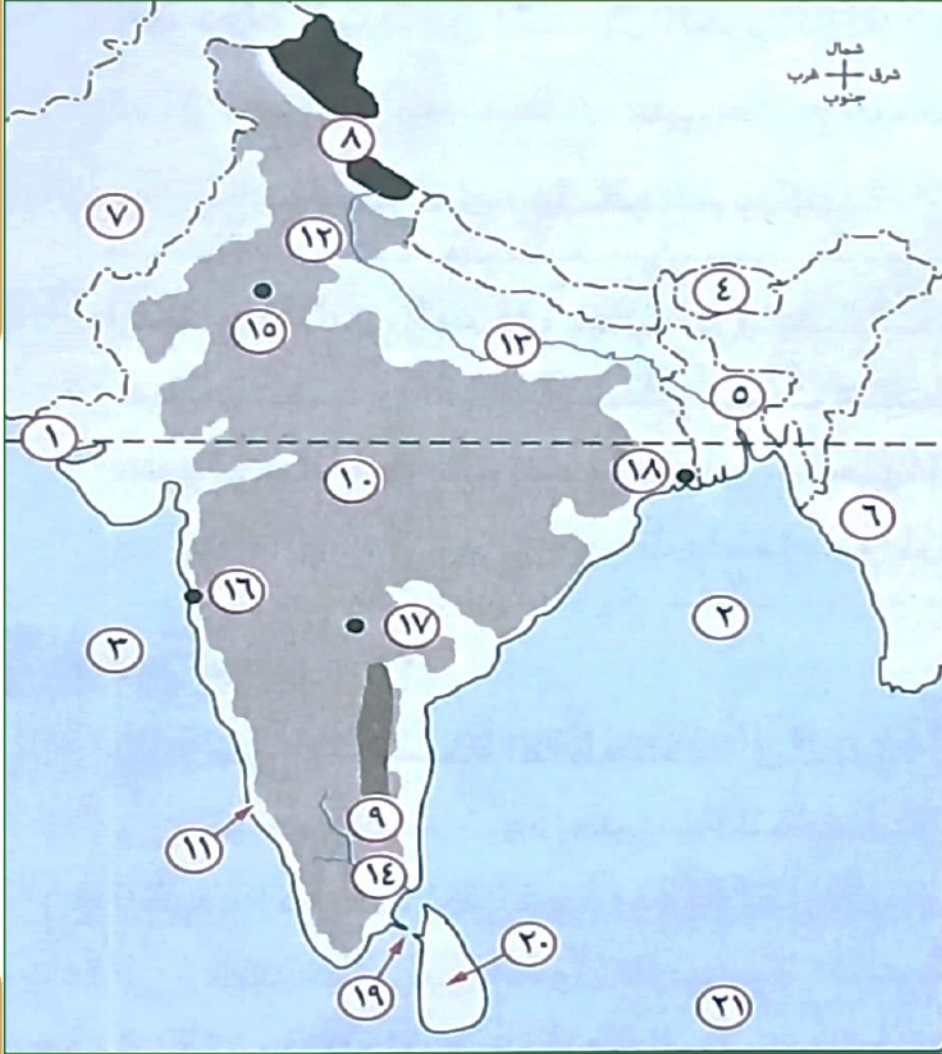
## السؤال الثالث : اكتب كلمة (صواب) امام العبارة الصحيحة وكلمة (خطأ) امام العبارة غير الصحيحة

- ١- يحد الهند من الشمال دولة نيبال والصين وبوتان . ( )
- ٢- تسقط أمطار موسمية صيفية غزيرة فى جنوب الهند وتقل بالاتجاه نحو الشمال . ( )
- ٣- يتركز سكان الهند فى السهول الساحلية والسهول الفيضية . ( )
- ٤- توجد مناجم الفحم فى الهند بسواحلها الغربية . ( )
- ٥- نيودلهي هى العاصمة التجارية للهند ومومباى هى العاصمة السياسية . ( )
- ٦- تقتصر العلاقات المصرية الهندية على المستوى الاقتصادى . ( )



- ٧- تستورد مصر من الهند الفوسفات والقطن .  
 ٨- سهل كروماندل يحده من الغرب جبال الغات الغربية .  
 ٩- تعتمد الهند في زراعتها على مورد وحيد للمياه .  
 ١٠- تنتج الهند المحاصيل الغذائية بكميات كبيرة خاصة في السنوات الأخيرة .

## السؤال الرابع : امامك خريطة صماء لدولة الهند اكتب مدلول الارقام عليها



- ١- دائرة عرض .....  
 ٢- خليج .....  
 ٣- البحر .....  
 ٤- دولة .....  
 ٥- دولة .....  
 ٦- دولة .....  
 ٧- دولة .....  
 ٨- جبال .....  
 ٩- جبال .....  
 ١٠- هضبة .....  
 ١١- سهول .....  
 ١٢- سهول .....  
 ١٣- نهر .....  
 ١٤- نهر .....  
 ١٥- مدينة .....  
 ١٦- ميناء .....  
 ١٧- مدينة .....  
 ١٨- مدينة .....  
 ١٩- مضيق .....  
 ٢٠- جزيرة .....  
 ٢١- المحيط .....

## السؤال الخامس : صوب ما تحته خط

- ١- يحد دولة الهند من الشمال الغربي دولة ميانمار .  
 ٢- تمتد سهول الهندوستان على خليج البنغال شرق الهند .  
 ٣- تُعد الهند أولى دول العالم سكانا .  
 ٤- تعتبر مدينة نيودلهي هي العاصمة التجارية .  
 ٥- من صادرات مصر الى الهند غزل القطن والسهمس والشاي .

## السؤال السادس : اكتب ما تشير اليه العبارات الآتية

- ١- هضبة تمتد في الهند في شكل مثلث متقطع بالأنهار .  
 ٢- سهول ساحلية بالهند تمتد على ساحتها الغربية .  
 ٣- مدينة بالهند تتميز بوجود الجامعات والمراكز الصناعية والمعالم التاريخية المهمة .



- ٤- دولة تحد الهند من جهة الشمال الغربي .  
٥- دولة هي ثالث دول العالم إنتاجاً للفحم على مستوى العالم .

### السؤال السابع : أجب عن الاسئلة التالية - بم تفسر :-

- ١- تنوع الأنشطة الاقتصادية في الهند .  
٢- توجد بالهند ثروة حيوانية ضخمة .  
٣- القيمة الاقتصادية المحدودة للأبقار في الهند .  
٤- تعد الهند من الدول الرئيسية المنتجة للأسماك .  
٥- تفوق الهند فى صناعة الحديد والصلب .  
٦- لجوء الهند للطاقة النووية والكهربائية .  
٧- شهدت الهند قفزات سريعة فى تطور الصناعة .  
٨- شهرة مدينة نيودلهى بالهند .

### ما النتائج المترتبة على :-

- ١- الاهتمام بالتعليم وتطوير البحث العلمى بالهند .  
٢- تحريم الديانة الهندوسية أكل لحوم الأبقار فى الهند .  
٣- إشراف الهند على مسطحات مائية بجبهات ساحلية طويلة .  
٤- افتقار الهند للبتروك كمصدر من مصادر الطاقة .

### دلل على صحة العبارة التالية :-

- ١- تنوع النبات الطبيعى فى الهند .  
٢- واجهت الهند المشكلة السكانية بسياسات تنموية مختلفة .  
٣- تتنوع العلاقات الاقتصادية بين مصر والهند .

## جمهورية البرازيل

## السؤال الاول : اختر الاجابة الصحيحة مما بين الاقواس

- ١- يسود سطح البرازيل المظهر ..... ( الجبلي - السهلي - الهضبي - الصحراوي )
- ٢- يسود المناخ المعتدل الرطب في أقصى ..... البرازيل ( شمال - شرق - جنوب شرق - شمال شرق )
- ٣- أكبر غابة استوائية في العالم توجد في حوض نهر ..... ( الجانج - الكونغو - المسيسيبي - الأمازون )
- ٤- تنمو ..... في الأطراف الجنوبية من البرازيل .
- ٥- تُعد ..... من المناطق شبه الخالية من السكان . ( الغابات الاستوائية - الغابات المدارية - الحشائش الحارة - الحشائش المعتدلة )
- ٦- تصدر القرارات السياسية بدولة البرازيل حديثاً من مدينة ..... ( الساحل الجنوبي الشرقي - سهول الأمازون - هضبة البرازيل - ميناؤوس )
- ٧- تُعد مدينة ..... أهم موانئ البرازيل على المحيط الأطلنطي . ( ريو دي جانيرو - برازيليا - ساو باولو - كويبا )
- ٨- تقع هضبة البرازيل في وسط و ..... البرازيل . ( شرق - غرب - شمال - جنوب )
- ٩- يمتد الإقليم المناخى الاستوائى في دولة البرازيل في الجهات ..... ( الشمالية - الجنوبية - الغربية - الشرقية )
- ١٠- تصدر البرازيل لمصر ..... ( الاقطان - السكر - الأثاث - الأسمدة )

## السؤال الثاني : أكمل العبارات التالية بكلمات مناسبة

- ١- تمر دائرة الاستواء في الأطراف ..... من دولة البرازيل .
- ٢- يحد المحيط الأطلنطي دولة البرازيل من جهتي ..... و .....
- ٣- تشغل البرازيل حوالى نصف مساحة قارة .....
- ٤- أنشئت عدة مدن لإعادة توزيع السكان نحو الداخل أهمها مدينة ..... ومدينة .....
- ٥- يعمل في حرفة ..... أكثر من ربع القوى العاملة في البرازيل .
- ٦- البرازيل من الدول الرئيسية المنتجة والمصدرة لـ ..... نظراً لوجود المراعى الدائمة .
- ٧- يعد سكان البرازيل خليطاً بين ..... و .....
- ٨- تُعد مدينة ..... هي المدينة التي أنشأتها الدولة لتعمير هضبة البرازيل .
- ٩- يتركز سكان البرازيل على الساحل ..... في المدن الرئيسية .
- ١٠- تطورت الصناعة وظهرت الصناعات الثقيلة في البرازيل مثل ..... و .....

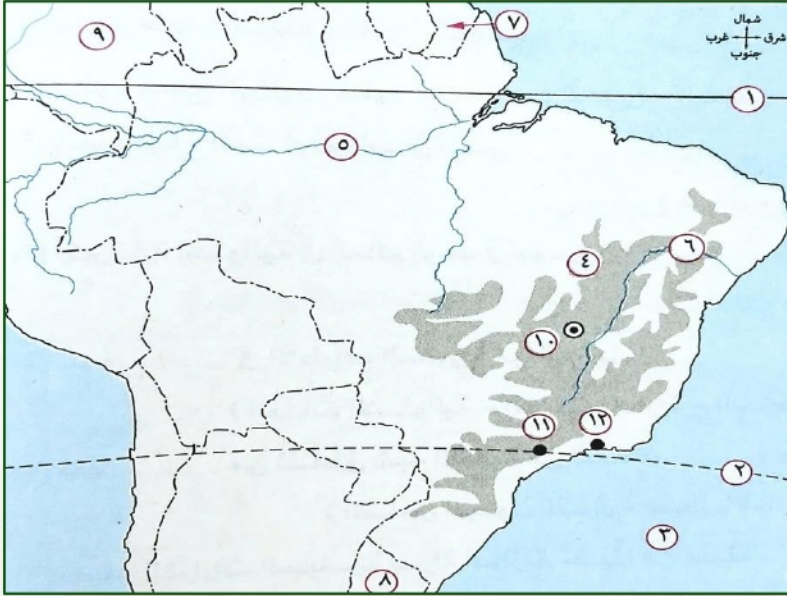
## السؤال الثالث : اكتب كلمة (صواب) امام العبارة الصحيحة وكلمة (خطأ) امام العبارة غير الصحيحة

- ١- تطل البرازيل بسواحل طويلة من جهة الشرق والشمال الشرقى على المحيط الهادي . ( )
- ٢- تمثل البرازيل نصف قارة أمريكا الجنوبية من حيث عدد السكان . ( )
- ٣- يسود المناخ المدارى الحار فى أقصى جنوب شرق البرازيل . ( )
- ٤- تنمو حشائش السافانا فوق هضبة البرازيل والحشائش المعتدلة في الأطراف الجنوبية . ( )
- ٥- يتركز سكان البرازيل على الساحل الشمالى الشرقى حيث المدن الرئيسية . ( )
- ٦- توجد معظم الأراضى الزراعية بالبرازيل في الجنوب . ( )
- ٧- تعد البرازيل أولى دول العالم في إنتاج البن وقصب السكر . ( )



- ٨- يوجد بالبرازيل ثروة معدنية ومن أهمها البوكسيت .
- ٩- تتركز الصناعة فى جنوب غرب البرازيل قرب مدينتى ساوپاولو وريودى جانيرو .
- ١٠- برازيليا هي العاصمة القديمة للبرازيل وتعد واحدة من أجمل مدن العالم .

## السؤال الرابع : امامك خريطة صماء لدولة البرازيل اكتب مدلول الارقام عليها



- ١- دائرة عرض .....
- ٢- مدار .....
- ٣- المحيط .....
- ٤- هضبة .....
- ٥- نهر .....
- ٦- نهر .....
- ٧- دولة .....
- ٨- دولة .....
- ٩- دولة .....
- ١٠- العاصمة .....
- ١١- مدينة .....
- ١٢- مدينة .....

## السؤال الخامس : صوب ما تحته خط

- ١- يسود المناخ الاستوالى فى حوض نهر الأمازون وفى السهول الشرقية بالبرازيل .
- ٢- السكان الأصليون لجمهورية البرازيل من العناصر السوداء .
- ٣- العاصمة الجديدة للبرازيل فى ريودى جانيرو .
- ٤- تصدر مصر إلى البرازيل اللحوم .
- ٥- تستورد مصر من البرازيل المعادن وخاصة الفوسفات .

## السؤال السادس : اكتب ما تشير اليه العبارات الآتية

- ١- مدينة أنشئت على نهر الأمازون لإعادة توزيع السكان فى البرازيل نحو الداخل .
- ٢- مدينة برازيلية تشتهر بمبانيها الضخمة وشواطئها الرملية الواسعة .
- ٣- المحيط الذى يحد دولة البرازيل من الشرق والشمال الشرقي .
- ٤- من الهضاب التي توجد فى شمال دولة البرازيل .
- ٥- حرفة توجد فى البرازيل بسبب امتلاكها سواحل طويلة على المحيط الاطلنطي .

## السؤال السابع : أجب عن الاسئلة التالية

- بم تفسر :-

- ١- تعاني البرازيل من قلة عدد السكان رغم أن سكانها يمثلون نصف سكان قارة أمريكا الجنوبية .
- ٢- تتركز السكان فى البرازيل فى الساحل الجنوبي الشرقى .



٣- إنشاء البرازيل مدن جديدة مثل برازيليا وميناؤوس .

٤- امتلاك البرازيل ثروة حيوانية كبيرة ومتنوعة .

٥- تعد البرازيل من الدول المنتجة للأسماك .

- ما النتائج المترتبة على :-

١- الموقع الفلكي للبرازيل .

٢- امتلاك البرازيل ثروة حيوانية كبيرة .

- دلل على صحة كل عبارة من العبارات الاتية :-

١- تنوع المناخ في البرازيل .

٢- تنوع النبات الطبيعي في البرازيل .

٣- سكان البرازيل خليط من معظم الأجناس .

٤- شهدت البرازيل تطورًا كبيرًا في الصناعة .

٥- وجود علاقات اقتصادية بين مصر والبرازيل .

تستورد مصر من البرازيل

تصدر مصر الى البرازيل

## جمهورية نيجيريا الاتحادية

## السؤال الاول : اختر الاجابة الصحيحة مما بين الاقواس

- ١- يحد نيجيريا من جهة الشرق دولتي .....
- ( النيجر والكاميرون - الكاميرون وبنين - الليجروبيلين - الكاميرون وتشاد )
- ٢- يحد نيجيريا من الشمال دولة .....
- ( النيجر - تشاد - بنين - الكاميرون )
- ٣- تسقط الأمطار طوال العام على أطراف نيجيريا .....
- ( الشمالية - الشرقية - الجنوبية - الغربية )
- ٤- تنمو حشائش ..... في شمال نيجيريا .
- ( السافانا - الإستبس - التندرا - البراري )
- ٥- يزرع في وسط وشمال نيجيريا محاصيل منها .....
- ( الأرز - المطاط - القمح - الكاكاو )
- ٦- تعد نيجيريا أولى دول قارة أفريقيا إنتاجا لمحصول .....
- ( المطاط - الذرة الشامية - الأرز - قصب السكر )
- ٧- يستخرج من هضبة جوس في نيجيريا .....
- ( الحديد - المنجنيز - النحاس - القصدير )
- ٨- تستخرج نيجيريا ..... من المنطقة القريبة من الساحل في الجنوب الشرقي .
- ( الحديد - الفحم - القصدير - البترول )
- ٩- تصدر مصر إلى نيجيريا .....
- ( الأسمدة - الحبوب - الشاي - السكر )
- ١٠- من المناطق التي يقل بها السكان في نيجيريا .....
- ( السهول الشمالية - دلتا النيجر - الجهات الغربية - هضبة جوس )

## السؤال الثاني : أكمل العبارات التالية بكلمات مناسبة

- ١- يحد دولة نيجيريا من جهة الغرب دولة .....
- ٢- تعد هضبة ..... من الهضاب التي تقع وسط السهول الشمالية .
- ٣- تقع معظم دولة نيجيريا في نطاق المناخ ..... بينما الأطراف الجنوبية ضمن المناخ .....
- ٤- تغطي الغابات ..... و ..... الجزء الجنوبي لنيجيريا .
- ٥- يقل السكان في دلتا نهر ..... بسبب الغابات الكثيفة والظروف القاسية .
- ٦- أكثر من نصف اراضي دولة نيجيريا صالحة لـ ..... و .....
- ٧- تغطي الغابات نحو ..... من مساحة نيجيريا وتعد مصدرا للاخشاب .
- ٨- توجد في نيجيريا مراعي حشائش ..... بسبب كثرة اعداد الابقار والاغنام والماعز .
- ٩- تنتج نيجيريا كميات من الأسماك التي تمتد على ساحل خليج .....
- ١٠- تصدر مصر الى نيجيريا ..... و .....

## السؤال الثالث : اكتب كلمة (صواب) امام العبارة الصحيحة وكلمة (خطأ) امام العبارة غير الصحيحة

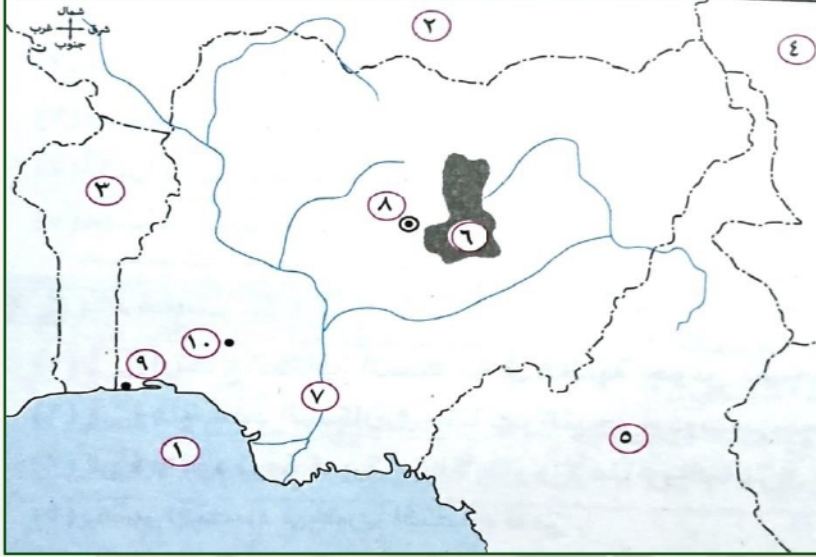
- ١- تُعد نيجيريا أكبر دول أفريقيا من حيث عدد السكان . ( )
- ٢- يتركز سكان نيجيريا في الجنوب . ( )
- ٣- اقتصاد نيجيريا اقتصاد متقدم يعتمد على الزراعة في المقام الأول . ( )
- ٤- يُعد الإقليم الغربي أهم مناطق الإنتاج الزراعي في نيجيريا . ( )
- ٥- يزرع المطاط والأرز في جنوب نيجيريا . ( )
- ٦- تأتي نيجيريا في المركز الثاني لإنتاج الأرز في أفريقيا بعد مصر . ( )
- ٧- تنتج نيجيريا الفحم من المنطقة الشرقية . ( )
- ٨- أبوجا العاصمة القديمة لنيجيريا، بينما لاجوس أكبر المدن النيجيرية . ( )



( )  
( )

- ٩- تقتصر الصادرات المصرية إلى نيجيريا على المواد الخام .  
١٠- تعد الصناعة في دولة نيجيريا صناعة متقدمة ومتطورة .

## السؤال الرابع : امامك خريطة صماء لدولة نيجيريا اكتب مدلول الارقام عليها



- ١- خليج .....  
٢- دولة .....  
٣- دولة .....  
٤- دولة .....  
٥- دولة .....  
٦- هضبة .....  
٧- نهر .....  
٨- العاصمة .....  
٩- مدينة .....  
١٠- مدينة .....

## السؤال الخامس : صوب ما تحته خط

- ١- يحد دولة نيجيريا من الجنوب المحيط الهندي .  
٢- يقع معظم نيجيريا ضمن إقليم المناخ الصيني .  
٣- تغطي الغابات الموسمية الجزء الجنوبي من دولة نيجيريا .  
٤- من أهم الصناعات بدولة نيجيريا صناعة الطائرات .  
٥- العاصمة الاقتصادية لنيجيريا هي إبيادان .

## السؤال السادس : اكتب ما تشير اليه العبارات الآتية

- ١- سهول خصبة في نيجيريا يجرى بها نهر النيجر .  
٢- حشائش تنمو شمال الغابات المدارية في نيجيريا .  
٣- منطقة تركيز زراعة الأرز لجمهورية نيجيريا الاتحادية .  
٤- أكثر المدن النيجيرية تكديسا بالسكان .  
٥- مدينة نيجيرية تُعد مركزا للتجارة والتعليم والمواصلات .

## السؤال السابع : أجب عن الاسئلة التالية - بم تفسر :-

- ١- ارتفاع الكثافة السكانية في هضبة جوس بنيجيريا .  
٢- قلة عدد السكان في دلتا نهر النيجر جنوب نيجيريا .  
٣- وجود ثروة كبيرة من الأبقار والأغنام والماعز في نيجيريا .  
٤- يعتبر اقتصاد نيجيريا اقتصاد نامى .  
٥- تنتج نيجيريا كميات كبيرة من الأسماك



- ما النتائج المترتبة على :-

١- كثافة الغابات وقسوة المناخ فى دلتا نهر النيجر .

٢- وجود حشائش السافانا فى نيجيريا .

٣- تمتع نيجيريا بساحل طويل على خليج غينيا .

- دلل على صحة كل عبارة من العبارات الآتية :-

١- يسود المناخ الحار فى نيجيريا .

٢- تنوع النبات الطبيعى فى نيجيريا .

٣- اختلاف توزيع السكان فى نيجيريا .

٤- وفرة الثروات المعدنية ومصادر الطاقة فى نيجيريا .

٥- وجود علاقات وثيقة بين مصر ونيجيريا .

تستورد مصر من نيجيريا	تصدر مصر الى نيجيريا

## المانيا الاتحادية

## السؤال الاول : اختر الاجابة الصحيحة مما بين الاقواس

- ١- تقع ألمانيا في ..... قارة أوروبا .
- ٢- يحد دولة ألمانيا دولة واحدة من جهة .....
- ٣- تنتشر المستنقعات في شمال ألمانيا قرب .....
- ٤- المظهر التضاريسي الغالب على دولة ألمانيا الاتحادية هو الطابع .....
- ٥- تصب معظم الأنهار بدولة ألمانيا في .....
- ٦- تعد ..... مناطق جذب للسياح في ألمانيا .
- ٧- تفصل جبال الألب بين ألمانيا .....
- ٨- ترتب على الموقع الفلكي لدولة ألمانيا .....
- ٩- من الصناعات الألمانية التي تتميز بالجودة والتنوع .....
- ١٠- عاصمة إقليم بافاريا جنوبا ويوجد بها مقر عدد من الشركات والمصانع .....

## السؤال الثاني : أكمل العبارات التالية بكلمات مناسبة

- ١- تقع دولة المانيا غرب قارة .....
- ٢- تجرى في السهل الاوربي العظيم عدة انهار منها نهر ..... ونهر .....
- ٣- في فصل ..... يكون المناخ معتدلاً مع ارتفاع الحرارة كلما اتجهنا شرقاً في المانيا .
- ٤- تغطي الغابات ..... مساحة المانيا وتسود في مناطق الجبال والهضاب .
- ٥- من أهم الغابات في المانيا غابات ..... و .....
- ٦- يبلغ عدد سكان المانيا ..... نسمة ويتركزون في المدن الكبرى والمناطق الصناعية .
- ٧- من أهم المحاصيل الزراعية في المانيا ..... و .....
- ٨- تتميز الصناعات الألمانية بالجودة والتنوع وأهمها ..... و .....
- ٩- مدينة ..... هي العاصمة السياسية بينما مدينة ..... عاصمة إقليم بافاريا جنوباً .
- ١٠- تصدر مصر الى المانيا ..... بينما تستورد مصر من المانيا .....

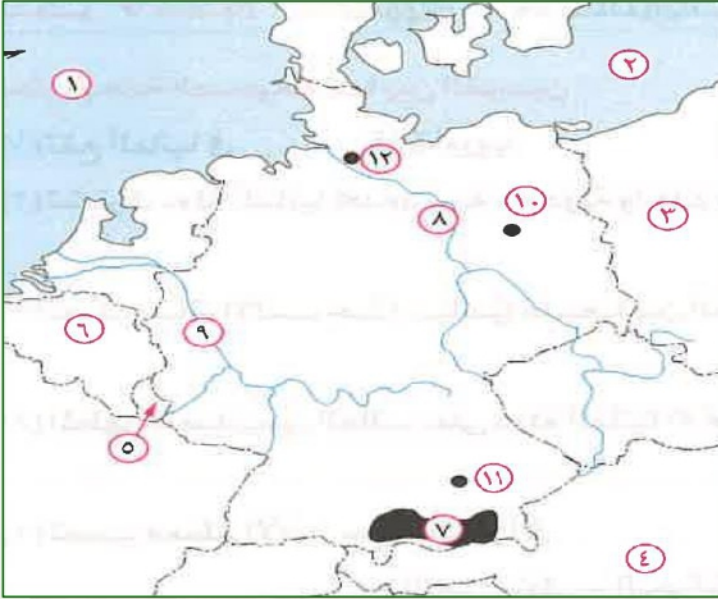
## السؤال الثالث : اكتب كلمة (صواب) امام العبارة الصحيحة وكلمة (خطأ) امام العبارة غير الصحيحة

- ١- تعد المرتفعات الوسطى في ألمانيا مناطق جذب للسياح . ( )
- ٢- يسود ألمانيا مناخ غرب أوروبا الممطر طوال العام خاصة في الشمال . ( )
- ٣- يتميز الصيف في ألمانيا بالاعتدال وتزداد الحرارة بالاتجاه نحو الغرب . ( )
- ٤- تعد ألمانيا من أكبر الدول الأوروبية سكاناً . ( )
- ٥- تربي الماشية والخنازير والأغنام في ألمانيا بمناطق الحشائش وفي الحظائر بأساليب علمية ( )



- ٦- يعمل بالصناعة في ألمانيا ثلث القوى العاملة .
- ٧- تزدهر الصناعة في ألمانيا لتدفق الاستثمارات وتوافر المراكز العلمية المتقدمة .
- ٨- تعد مدينة برلين أهم موانئ ألمانيا ، بينما تعد هامبورج عاصمتها .
- ٩- تقع مدينة ميونخ عاصمة إقليم بافاريا غرب ألمانيا .
- ١٠- تستورد مصر من ألمانيا الصناعات الكيماوية والآلات والسيارات .

## السؤال الرابع : امامك خريطة صماء لدولة المانيا اكتب مدلول الارقام عليها



- ١- بحر .....
- ٢- البحر .....
- ٣- دولة .....
- ٤- دولة .....
- ٥- دولة .....
- ٦- دولة .....
- ٧- جبال .....
- ٨- نهر .....
- ٩- نهر .....
- ١٠- مدينة .....
- ١١- مدينة .....
- ١٢- مدينة .....

## السؤال الخامس : صوب ما تحته خط

- ١- تقع ألمانيا في قارة آسيا ويحدها من الشمال دولة الدنمارك وبحر قزوين .
- ٢- يحد ألمانيا من الجنوب دولتا بولندا والتشيك .
- ٣- من أهم الأنهار التي تجرى في ألمانيا نهر السين .
- ٤- تنتشر المستنقعات في ألمانيا جهة الشرق .
- ٥- تغطي الغابات ثلث مساحة ألمانيا وأهمها الغابات الاستوائية والمدارية .

## السؤال السادس : اكتب ما تشير اليه العبارات الآتية

- ١- من أكبر الأقاليم التضاريسية بألمانيا وهو جزء من السهل الأوروبي العظيم .
- ٢- جبال في ألمانيا يكسوها الجليد ويوجد بها أعلى القمم الجبلية .
- ٣- من أهم الموانئ القريبة من بحر الشمال .
- ٤- مدينة تعد عاصمة لإقليم بافاريا ويوجد بها عدد من الشركات والمصانع الألمانية .
- ٥- فصل مناخي تنخفض فيه الحرارة الى ما دون الصفر المنوي في ألمانيا .

## السؤال السابع : أجب عن الاسئلة التالية - بم تفسر :-

- ١- جذب المرتفعات الوسطى للسياح في ألمانيا .

- ٢- انكماش مساحة الحشائش بالسهل الساحلي في ألمانيا .



٣- تطور الصناعة الألمانية بعد الحرب العالمية الثانية .

٤- تُعد مدينة ميونخ أحد أهم المدن بدولة ألمانيا .

- ما النتائج المترتبة على :-

١- كثرة التلال والينابيع المائية بالمرتفعات الوسطى بألمانيا .

٢- وقوع ألمانيا في نطاق مناخ غرب أوروبا .

٣- استخدام ألمانيا التكنولوجيا والأساليب العلمية الحديثة في الأنشطة الاقتصادية .

- دلل على صحة كل عبارة من العبارات الآتية :-

١- يربط مصر بألمانيا علاقات ثقافية وعلمية .

٢- وجود علاقات اقتصادية بين مصر وألمانيا .

تستورد مصر من ألمانيا	تصدر مصر الى ألمانيا



## الولايات المتحدة الامريكية

### السؤال الاول : اختر الاجابة الصحيحة مما بين الاقواس

- ١ - بعد الولايات المتحدة الأمريكية من الجنوب .....  
( المحيط الأطلنطي - المحيط الهادى - خليج المكسيك - دولة كندا )
- ٢ - يحد الولايات المتحدة الأمريكية غربا ..... ( كندا - المحيط الأطلنطي - المحيط الهادى - المكسيك )
- ٣ - تقترب الحدود الجنوبية للولايات المتحدة الأمريكية من .....  
( مدار الجدى - مدار السرطان - دائرة الاستواء - الدائرة القطبية الشمالية )
- ٤ - تعد سلاسل جبال ..... أعلى جبال نطاق المرتفعات والأحواض الجبلية الغربية بالولايات المتحدة الأمريكية .  
( كسكيد - الأبلاش - روكى - سيرانيفاذا )
- ٥ - تحتل الولايات المتحدة الأمريكية مركز الصدارة عالميا في إنتاج .....  
( البترول - الفحم - الغاز الطبيعي - الحديد )
- ٦ - تقع ولاية ..... في أقصى الشمال الغربي لقارة أمريكا الشمالية .  
( ألاسكا - هاواى - كاليفورنيا - لوس انجلوس )
- ٧ - يفصل الولايات المتحدة الأمريكية عن ولاية ألاسكا .....  
( دولة كندا - المحيط الأطلنطي - دولة المكسيك - المحيط الهادى )
- ٨ - الولايتان الخاضعتان للولايات المتحدة الأمريكية وتقعان خارج موقعها الفلكى تشرفان على .....  
( خليج المكسيك - المحيط الأطلنطي - المحيط الهادى - المحيط القطبي الشمالي )
- ٩ - يرجع العامل الرئيسي لتركز السكان فى شمال شرق الولايات المتحدة الأمريكية إلى .....  
( تنوع المناخ - وجود المدن الكبرى - التربة الخصبة - وجود الأنهار )
- ١٠ - تعتبر شيكاغو أكبر مدن السهول الوسطى بالولايات المتحدة الأمريكية وتقع على بحيرة .....  
( إيري - أنتاريو - متشجن - هورن )

### السؤال الثانى : أكمل العبارات التالية بكلمات مناسبة

- ١ - يحد دولة الولايات المتحدة الأمريكية من جهة الغرب .....
- ٢ - يطلق على المرتفعات الشرقية للولايات المتحدة الأمريكية اسم .....
- ٣ - يمتد فى النطاق الغربى للولايات المتحدة جبال ..... وهضبة .....
- ٤ - تقل الامطار فى الاحواض الجنوبية حيث صحراء ..... الحارة الجافة بالولايات المتحدة .
- ٥ - تنتشر غابات الاقليم ..... بالولايات المتحدة الأمريكية .
- ٦ - يعيش حوالى ..... السكان فى المدن و ..... فى الريف بالولايات المتحدة .
- ٧ - يقل السكان بولاية ..... بسبب برودة الجو .
- ٨ - تعد ..... القوة الاقتصادية الأولى فى العالم .
- ٩ - من المدن الصناعية الجنوبية بالولايات المتحدة .....
- ١٠ - تعتبر مدينة ..... هي العاصمة السياسية للولايات المتحدة الأمريكية .

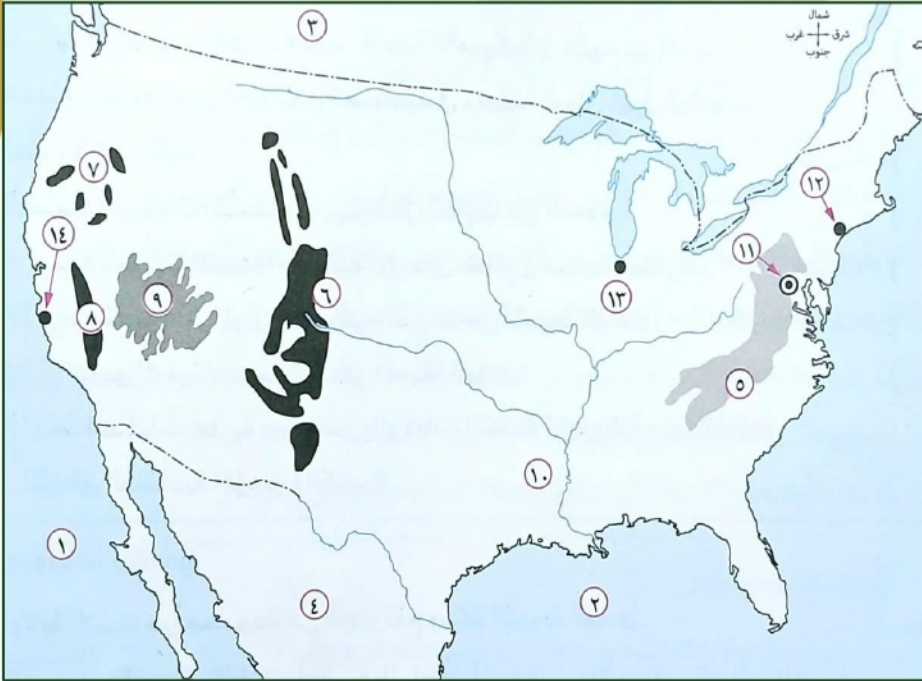
### السؤال الثالث : اكتب كلمة (صواب) امام العبارة الصحيحة وكلمة (خطأ) امام العبارة غير الصحيحة

- ١ - تقع جميع اراضى الولايات المتحدة الأمريكية بين دائرتي عرض ٢٥ ، ٥٤٩ شمالا . ( )
- ٢ - تقع ولاية جزر هاواى فى أقصى الشمال الغربى لقارة أمريكا الشمالية . ( )
- ٣ - يطلق على المرتفعات الشرقية جبال روكى . ( )



- ٤- تقع هضبة كلورادو في نطاق المرتفعات الشرقية للولايات المتحدة الأمريكية . ( )
- ٥- تتسم المرتفعات الشمالية الغربية في الولايات المتحدة الأمريكية بندرة الأمطار والحرارة المنخفضة . ( )
- ٦- يتركز نصف سكان الولايات المتحدة الأمريكية في إقليم نيو انجلند. ( )
- ٧- مدينة برمنجهام من أهم المدن الصناعية في منطقة شمال شرق الولايات المتحدة الأمريكية ( )
- ٨- تستهلك الولايات المتحدة الأمريكية كل إنتاجها من اللحوم وتصدر جزء للخارج . ( )
- ٩- تعد الولايات المتحدة الأمريكية أولى دول العالم في صناعة الطائرات . ( )
- ١٠- شيكاغو أكبر الموانئ الأمريكية على ساحل المحيط الهادى . ( )

## السؤال الرابع : امامك خريطة صماء لدولة نيجيريا اكتب مدلول الارقام عليها



- ١- المحيط .....
- ٢- خليج .....
- ٣- دولة .....
- ٤- دولة .....
- ٥- جبال .....
- ٦- جبال .....
- ٧- جبال .....
- ٨- جبال .....
- ٩- هضبة .....
- ١٠- نهر .....
- ١١- العاصمة .....
- ١٢- مدينة .....
- ١٣- مدينة .....
- ١٤- مدينة .....

## السؤال الخامس : صوب ما تحته خط

- ١- ولاية الاسكا هي مجموعة من الجزر تقع وسط المحيط الهادى .
- ٢- تعد سلاسل جبال الأبلش أعلى جبال نطاق المرتفعات والأحواض الجبلية العربية بالولايات المتحدة الأمريكية .
- ٣- توجد بالولايات المتحدة الأمريكية أراض زراعية خصبة واسعة ، حيث سهول نهر سانت لورانس في الوسط .
- ٤- مدينة نيويورك من المناطق الصناعية الرئيسية بالولايات المتحدة الأمريكية في منطقة الغرب الساحلي
- ٥- يوجد مقر الأمم المتحدة في مدينة واشنطن .

## السؤال السادس : اكتب ما تشير اليه العبارات الآتية

- ١- سهول تمتد بالولايات المتحدة الأمريكية من إقليم البحيرات العظمى شمالا حتى خليج المكسيك جنوبًا .
- ٢- إقليم يكتظ بالسكان في الشمال الشرق للولايات المتحدة الأمريكية ويمثل ١٢ ٪ من المساحة الكلية للدولة .



- ٣- أولى الدول الصناعية السبع وتعتبر القوة الاقتصادية الأولى في العالم .  
٤- من أهم الصناعات في الولايات المتحدة الأمريكية وتنتج منها نحو ثلث الإنتاج العالمي .

### السؤال السابع : أجب عن الاسئلة التالية

- بم تفسر :-

- ١- تنوع المناخ بالولايات المتحدة الأمريكية .  
٢- تعد الولايات المتحدة الأمريكية القوة الاقتصادية الأولى فى العالم .  
٣- تركز نحو ٥٠% من سكان الولايات المتحدة الأمريكية في إقليم نيو إنجلند .  
٤- ارتفاع الكثافة السكانية فى كثير من المناطق الغربية بالولايات المتحدة الأمريكية .  
٥- وجود ثروة سمكية كبيرة بالولايات المتحدة الأمريكية .

- ما النتائج المترتبة على :-

- ١- اتساع مساحة الولايات المتحدة الأمريكية وتنوع تضاريسها .  
٢- وفرة الموارد الطبيعية وتنوعها بالولايات المتحدة الأمريكية .

- دلل على صحة كل عبارة من العبارات الآتية :-

- ١- يتنوع المناخ فى الولايات المتحدة الأمريكية .

- ٢- توجد بالولايات المتحدة الأمريكية ثروة حيوانية ضخمة .



٣- ضخامة الإنتاج وتنوع الصناعات في الولايات المتحدة الأمريكية .

٤- تتعدد المناطق الصناعية الرئيسية بالولايات المتحدة الأمريكية .

٥- ترتبط مصر مع الولايات المتحدة الأمريكية بعلاقات قوية في مختلف المجالات .

## أقوى مراجعة على الوحدة الثالثة

## السؤال الاول : اختر الإجابة الصحيحة مما بين الأقواس

- ١- يرى بعض المؤرخين أن ثورة ٢٣ يوليو ١٩٥٢م تكتسب أهمية في المنطقة العربية لعدة أسباب منها ارتباطها بـ ..... ( الحركات التحررية في الجزائر - استقلال كينيا - القضاء على الإقطاع - توقيع اتفاقية الجلاء )
- ٢- العامل المشترك بين سوء الأوضاع الاجتماعية في مصر قبل ثورة ٢٣ يوليو ١٩٥٢م واختفاء الحياة الديمقراطية السليمة هو .....
- ٣- سيطر ..... على جميع قطاعات الجيش المصري بعد إذاعة البيان الأول لثورة ٢٣ يوليو ١٩٥٢م .  
( محمد نجيب - جمال عبد الناصر - أنور السادات - عبد المنعم رياض )
- ٤- يعتبر أول إنجاز قامت به ثورة ٢٣ يوليو ١٩٥٢م .....
- ٥- من إنجازات ثورة ٢٣ يوليو ١٩٥٢م السياسية .....
- ٦- من إنجازات ثورة ٢٣ يوليو ١٩٥٢م في المجال الاقتصادي إنشاء السد العالي والذي ساهم في .....
- ٧- يعتبر منح المرأة حق الترشح والانتخاب في مجلس الأمة عام ١٩٥٦م من إنجازات ثورة ٢٣ يوليو ١٩٥٢م في المجال .....
- ٨- شارك مصر في تشكيل حركة عدم الانحياز كل من إندونيسيا ويوغوسلافيا (سابقا) و .....
- ٩- خرجت قرارات فرض الانتداب البريطاني على فلسطين عام ١٩٢٠م من دولة .....
- ١٠- وافقت هيئة الأمم المتحدة عام ١٩٤٧م على .....
- ١١- امتنعت ..... عن التصويت على مشروع تقسيم فلسطين عام ١٩٤٧م .  
( بريطانيا - الولايات المتحدة الأمريكية - الاتحاد السوفيتي - فرنسا )
- ١٢- خضع قطاع غزة للإشراف المصري بعد حرب .....
- ١٣- ترتب على حرب فلسطين ١٩٤٨م استيلاء إسرائيل على .....
- ١٤- بعد فشل العدوان الثلاثي على مصر انسحبت إسرائيل عام ١٩٥٧م من .....
- ١٥- استولت إسرائيل على هضبة الجولان عقب .....
- ١٦- كانت تجربة الوحدة بين مصر وسوريا من نتائج .....
- ١٧- إحكامًا للحصار الاقتصادي العربي على إسرائيل عام ١٩٦٧م قامت مصر بإغلاق .....
- ١٨- صدر قرار مجلس الأمن رقم ٢٤٢ بعد .....
- ١٩- نجحت القوات المصرية في هزيمة القوات الإسرائيلية في معركة رأس العش عندما حاولت احتلال مدينة .....
- ٢٠- كانت مصر خلال حرب الاستنزاف تقوم بالقصف المستمر لـ ..... بالمدفعية .  
( خط بارليف - المدمرة إيلات - خط ألون - الضفة الغربية للقناة )

- ٢١- استعدت مصر لخوض حرب أكتوبر ١٩٧٣م على الصعيد العربي من خلال .....  
( عقد صفقة الأسلحة الشرقية - توقيع المعاهدات الاقتصادية - تصفية الخلافات - عقد اتفاقية الدفاع المشترك )
- ٢٢- بدأت شرارة حرب أكتوبر ١٩٧٣م وعملياتها العسكرية بسلاح .....  
( المدفعية - الطيران - البحرية - الدفاع الجوي )
- ٢٣- إصدار وزراء النفط العربي في اجتماعهم في الكويت عقب اندلاع حرب أكتوبر ١٩٧٣م قرارًا بخفض إنتاج البترول يعد دعمًا ..... لمصر وسوريا .  
( ماليًا - سياسيًا - عسكريًا - معنويًا )
- ٢٤- من دول الجناح العربي الآسيوي التي قدمت دعمًا عسكريًا وماليًا لمصر وسوريا خلال حرب أكتوبر ١٩٧٣م .....  
( الكويت - الإمارات - السعودية - الأردن )
- ٢٥- أقامت ..... جسرًا جويًا لتقديم المساعدات العسكرية في حرب أكتوبر ١٩٧٣م لإنقاذ إسرائيل من الهزيمة .  
( فرنسا - الولايات المتحدة الأمريكية - الاتحاد السوفيتي - الصين )
- ٢٦- تقديم الولايات المتحدة الأمريكية معلومات عسكرية لإسرائيل ساعدها في إحداث ثغرة .....  
( العريش - سيناء - طابا - الدفرسوار )
- ٢٧- حصل ..... على وسام نجمة سيناء الذي يعد أعلى الأوسمة العسكرية .  
( محمد عبد الغنى الجمسى - سعد الدين الشاذلى - أحمد إسماعيل - عبد المنعم رياض )
- ٢٨- اختار الرئيس السادات ..... رئيسًا لأركان حرب القوات المسلحة عام ١٩٧١م .  
( محمد عبد الغنى الجمسى - سعد الدين الشاذلى - أحمد إسماعيل - عبد المنعم رياض )
- ٢٩- كانت معاهدة السلام بين مصر وإسرائيل عام ١٩٧٩م برعاية .....  
( أوروبية - روسية - أمريكية - عربية )
- ٣٠- حدثت مفاوضات سرية بين إسرائيل ومنظمة التحرير الفلسطينية أسفرت عن عقد ..... سبتمبر ١٩٩٣م .  
( معاهدة السلام - مؤتمر مدريد - مؤتمر كامب ديفيد - اتفاقية أوسلو )
- ٣١- استطاعت مصر استرداد معظم سيناء عن طريق .....  
( المعاهدات الرسمية - القوة العسكرية - المبادرات السلمية - التحكيم الدولي )
- ٣٢- تعددت الأسباب التي أدت إلى انفجار ثورة ٢٥ يناير ٢٠١١م ومنها .....  
( خلو مجلس الشعب ٢٠١٠م من أى معارضة - إدخال تعديلات على قانون الطوارئ - إلغاء الدستور والانفراد بالحكم - تجريم أى معارضة فكرية )
- ٣٣- كانت أولى قرارات نظام مبارك لامتناس غضب الجماهير فى ثورة ٢٥ يناير ٢٠١١م .....  
( تشكيل حكومة جديدة - الاستعانة بالقوات المسلحة - تعيين نائب للرئيس - تخليه عن الرئاسة )
- ٣٤- رفض الرئيس الأسبق ..... الموافقة على إجراء انتخابات رئاسية مبكرة عام ٢٠١٣م .  
( عدلى منصور - محمد مرسى - مبارك - السادات )

## السؤال الثانى : أكمل العبارات التالية بكلمات مناسبة

- ١- حاصر الإنجليز الملك فاروق فى فبراير ١٩٤٢م قصر عابدين لإجبار. على تعيين ..... رئيسا للحكومة .
- ٢- أذاع ..... البيان الأول لثورة ٢٣ يوليو ١٩٥٢م من دار الإذاعة المصرية .
- ٣- تنازل الملك فاروق عن العرش لابنه ..... وغادر البلاد مساء ٢٦ يوليو ١٩٥٢م .
- ٤- ساهمت ثورة ٢٣ يوليو ١٩٥٣م على المستوى العربي فى تحقيق استقلال كل من ..... و .....
- ٥- عقد مؤتمر ..... باندونيسيا فى عام ١٩٥٥م .
- ٦- عقدت حكومة ثورة ٢٣ يوليو ١٩٥٢م اتفاقية مع ..... لتزويد مصر بالأسلحة .
- ٧- قام الشعب الفلسطينى بثورة ١٩٣٦م بقيادة .....
- ٨- أذاع ..... البيان الأول لثورة ٢٣ يوليو ١٩٥٢م من دار الإذاعة المصرية .
- ٩- سعت بريطانيا لتأييد فكرة إنشاء وطن قومي لليهود فى فلسطين فأصدرت .....
- ١٠- نص مشروع تقسيم فلسطين ١٩٤٧م على تدويل منطقة .....
- ١١- أعلنت مصر عام ١٩٦٧م وقوفها إلى جانب سوريا تطبيقا لاتفاقية .....  
( تمكنت البحرية المصرية من تدمير المدمرة الإسرائيلية ..... فى أكتوبر ١٩٦٧م .



## السؤال الثاني : اكتب كلمة (صواب) امام العبارة الصحيحة وكلمة (خطأ) امام العبارة غير الصحيحة

- ١- عدم وجود حياة ديمقراطية سليمة من عوامل قيام ثورة ٢٣ يوليو ١٩٥٢ م . ( )
- ٢- أدى توقيع مصر معاهدة ١٩٣٦م إلى جعل مصر ميدانا لمعارك الحرب العالمية الأولى . ( )
- ٣- وافق الملك فاروق على مغادرة البلاد قبل الموعد المحدد له من قيادة ثورة ٢٣ يوليو ١٩٥٢م ( )
- ٤- ألغت ثورة ٢٣ يوليو ١٩٥٢م دستور ١٩٢٣م كما حلت الأحزاب السياسية آنذاك . ( )
- ٥- غيرت ثورة ٢٣ يوليو ١٩٥٢م نظام الحكم في مصر . ( )
- ٦- تم توقيع اتفاقية جلاء القوات البريطانية عن مصر عام ١٩٥٤م . ( )
- ٧- مجانية التعليم من الإنجازات الاقتصادية لثورة ٢٣ يوليو ١٩٥٢م . ( )
- ٨- ساندت مصر بعض الدول الأفريقية في نيل استقلالها مثل اليمن بعد ثورة ١٩٥٢م . ( )
- ٩- كسرت مصر احتكار السلاح العالمى بعقد صفقة الأسلحة الشرقية . ( )
- ١٠- عُقد مؤتمر باندونج باندونيسيا عام ١٩٥٥م . ( )
- ١١- تعرضت فلسطين لمؤامرة من دول الحلفاء بعد انتهاء الحرب العالمية الأولى . ( )
- ١٢- وافقت عصبة الأمم على قرار تقسيم فلسطين عام ١٩٤٧م . ( )
- ١٣- اعلن اليهود قيام دولة إسرائيل في ١٥ مايو ١٩٤٨م . ( )
- ١٤- كانت مساندة مصر لحركات التحرر الوطنى فى الجزائر من أسباب العدوان الثلاثى على مصر عام ١٩٥٦م . ( )
- ١٥- اعلنت مصر وقوفها بجانب سوريا بعد التهديدات الإسرائيلية لها عام ١٩٦٧م . ( )
- ١٦- استولت إسرائيل على فلسطين كلها إلى جانب سيناء وهضبة الجولان في حرب يونيو ١٩٦٧م ( )
- ١٧- قبلت مصر قرار مجلس الأمن رقم ٢٤٢ وامتنعت إسرائيل عن تنفيذه . ( )
- ١٨- نجحت مصر فى بناء حائط الصواريخ على الضفة الشرقية لقناة السويس أثناء حرب الاستنزاف ( )
- ١٩- يعتبر الفريق أول عبد المنعم رياض من شهداء حرب الاستنزاف . ( )
- ٢٠- أصدر الرئيس جمال عبد الناصر دستور مصر عام ١٩٧١م . ( )
- ٢١- كان إصدار دستور عام ١٩٧١م إجراءً لتهيئة الجبهة الداخلية في مصر قبل حرب أكتوبر ١٩٧٣م . ( )
- ٢٢- أعطى الرئيس السادات إشارة بدء حرب أكتوبر ١٩٧٣م . ( )
- ٢٣- يُعرف خط الدفاع الإسرائيلى فى هضبة الجولان باسم خط بارليف . ( )
- ٢٤- ساهمت مشاركة الدول العربية أثناء حرب أكتوبر ١٩٧٣م فى تحقيق النصر . ( )
- ٢٥- قرر وزراء النفط العربى أثناء حرب أكتوبر ١٩٧٣م حظر تصدير النفط إلى الولايات المتحدة الأمريكية لتفديمتها مساعدات لإسرائيل . ( )
- ٢٦- أنهت حرب أكتوبر ١٩٧٣م حالة اللاحرب واللاسلم . ( )
- ٢٧- أنهت حرب أكتوبر ١٩٧٣م نظرية الأمن الإسرائيلية . ( )
- ٢٨- دعت مبادرة الرئيس السادات عام ١٩٧٧م إلى السلام العادل لكل شعوب المنطقة . ( )
- ٢٩- كانت معاهدة السلام بين مصر وإسرائيل بمشاركة ورعاية إسبانية . ( )
- ٣٠- تحقق الانسحاب الإسرائيلى الكامل من سيناء فى ٢٥ أبريل ١٩٨٢م . ( )
- ٣١- الأرض مقابل السلام مبدأ دعا إليه مؤتمر كامب ديفيد عام ١٩٧٨م . ( )
- ٣٢- عارضت مصر اتفاقية أوسلو ١٩٩٣م . ( )
- ٣٣- يُعتبر من مزايا إنهاء الصراع العربى / الإسرائيلى دفع عجلة التنمية فى الدول العربية . ( )
- ٣٤- ساهمت مواقع التواصل الاجتماعى فى اندلاع ثورة ٢٥ يناير ٢٠١١م . ( )
- ٣٥- من الأسباب الاقتصادية لقيام ثورة ٢٥ يناير ٢٠١١م استمرار العمل بقانون الطوارئ . ( )
- ٣٦- التطبيق السليم لسياسة الخصخصة أدى إلى ارتفاع الأسعار فى المجتمع المصرى قبل ثورة ٢٥ يناير ٢٠١١م . ( )
- ٣٧- أثناء ثورة ٢٥ يناير ٢٠١١م شكل المجتمع المصرى بكل فئاته ما عرف باللجان الشعبية لمواجهة أعمال السرقة والنهب . ( )
- ٣٨- قامت القوات المسلحة بحماية الممتلكات العامة والخاصة أثناء ثورة ٢٥ يناير ٢٠١١م . ( )
- ٣٩- كانت ثورة ٣٠ يونيو ٢٠١٣م خطوة مهمة لتحقيق التقدم والازدهار . ( )
- ٤٠- تولى رئاسة مصر بعد فوزه فى انتخابات الرئاسة ٢٠١٤م الرئيس عبد الفتاح السيسى . ( )



## السؤال الثالث : صوب ما تحته خط في العبارات الآتية

- ١- أذيع البيان الأول لثورة ٢٣ يوليو ١٩٥٣م من الإذاعة المصرية باسم جمال عبد الناصر
- ٢- من إنجازات ثورة ٢٣ يوليو ١٩٥٢م في المجال الاقتصادي إلغاء الملكية وإعلان الجمهورية
- ٣- تحققت أول تجربة عربية للوحدة بين مصر واليمن عام ١٩٥٨م .
- ٤- اعطى مؤتمر باندونج ١٩٢٠م لبريطانيا حق الانتداب على فلسطين .
- ٥- ارتكب اليهود في فلسطين مذابح بشعة مثل مذبحه يافا .
- ٦- تعرف المرحلة الأولى من إعادة بناء القوات المسلحة عقب عدوان يونيه ١٩٦٧م بالحرب الإلكترونية .
- ٧- أعلن الرئيس جمال عبد الناصر عن مبادرة للسلام عام ١٩٧٧م .
- ٨- دعا الرئيس الأمريكى كارتر في سبتمبر ١٩٧٨م إلى عقد اجتماعات في مدريد .
- ٩- استعادت مصر طابا من إسرائيل عن طريق قرار مجلس الأمن .

## السؤال الرابع : اكتب ما تشير إليه كل عبارة من العبارات الآتية

- ١- تنظيم كونه بعض ضباط الجيش المصرى قبل ثورة عام ١٩٥٢م بهدف استقلال الوطن من الاحتلال البريطاني والقضاء على فساد الحكم .
- ٢- معاهدة جعلت مصر ميدانا المعارك الحرب العالمية الثانية واستنزفت مواردها .
- ٣- قانون أصدرته ثورة ٢٣ يوليو ١٩٥٢م لتحديد الملكية الزراعية في سبتمبر ١٩٥٢م.
- ٤- اتفاقية رحلت بموجبها قوات الاحتلال البريطاني عن مصر .
- ٥- عدم الانضمام إلى أى من الكتلتين الشرقية والغربية .
- ٦- تصريح أصدرته بريطانيا بإنشاء وطن قومي لليهود في فلسطين عام ١٩١٧م.
- ٧- خط دفاعى منيع أقامته إسرائيل وحطمته القوات المصرية في حرب أكتوبر ١٩٧٣م.
- ٨- مؤتمر عُقد في الولايات المتحدة الأمريكية تم التوصل خلاله الإطار اتفاق للسلام بين مصر وإسرائيل عام ١٩٧٨م.
- ٩- مؤتمر شاركت فيه مصر يدعو إلى حل الصراع العربى / الإسرائيلي عام ١٩٩١م.
- ١٠- اتفاقية وقعت بواشنطن بين إسرائيل ومنظمة التحرير الفلسطينية عام ١٩٩٣م بعد محادثات سرية.
- ١١- سياسة اقتصادية طبقت في مصر دون ضوابط علمية قبل ثورة ٢٥ يناير ٢٠١١م.
- ١٢- قانون استمر العمل به منذ تولى الرئيس مبارك الحكم في أكتوبر ١٩٨١م وكان أحد أسباب قيام ثورة ٢٥ يناير ٢٠١١م.

## السؤال الخامس : إلى من تنسب الأعمال التاريخية الآتية

- ١- قام بتأسيس تنظيم الضباط الأحرار .
- ٢- تولى رئاسة الحكومة المصرية فى فبراير ١٩٤٢م .
- ٣- أذاع أول بيان لثورة ٢٣ يوليو ١٩٥٢م .
- ٤- أول رئيس لجمهورية مصر العربية بعد إلغاء الملكية وإعلان الجمهورية .
- ٥- أصدر تصريحاً تعهدت فيه بريطانيا بإنشاء وطن قومي لليهود في فلسطين .
- ٦- قدم مبادرة لوقف إطلاق النار بين مصر وإسرائيل أثناء حرب الاستنزاف بين مصر وإسرائيل
- ٧- تولى منصب رئيس أركان حرب القوات المسلحة المصرية واستشهد فى حرب الاستنزاف
- ٨- قاد سلاح الطيران المصرى فى حرب أكتوبر ١٩٧٣م .
- ٩- قاد خطة الخداع لصرف أنظار إسرائيل عن الاستعدادات الهجومية لحرب أكتوبر ١٩٧٣م .



- ١٠- تولى القيادة العامة الموحدة للقوات المصرية السورية فى حرب أكتوبر ١٩٧٣ م .
- ١١- قام بتنفيذ خطة عبور القوات المصرية لقناة السويس وتحطيم خط بارليف فى حرب أكتوبر ١٩٧٣ م .
- ١٢- شغل منصب رئيس هيئة عمليات القوات المسلحة عام ١٩٧٢ م .
- ١٣- الرئيس الأمريكى الذى دعا مصر وإسرائيل لعقد مؤتمر كامب ديفيد للتوصل إلى إطار اتفاق للسلام .
- ١٤- عقد معاهدة السلام مع إسرائيل عام ١٩٧٩ م .
- ١٥- عادت فى عهده مدينة طابا إلى السيادة المصرية بعد اللجوء إلى التحكيم الدولى .
- ١٦- تخلى عن رئاسة مصر فى ١١ فبراير ٢٠١١ م وسلم إدارة شئون البلاد للمجلس الأعلى للقوات المسلحة .
- ١٧- تولى سلطة حكم مصر عام ٢٠١٣ م وكان رئيس المحكمة الدستورية العليا .
- ١٨- تولى رئاسة مصر بعد فوزه فى انتخابات الرئاسة عام ٢٠١٤ م .

### السؤال الخامس : أجب عن الاسئلة التالية

- بم تفسر :-

١- اكتسبت ثورة ٢٣ يوليو ١٩٥٣ م أهمية كبيرة فى المنطقة العربية والعالم .

٢- قيام بعض ضباط الجيش المصرى بتأسيس تنظيم خاص بهم قبل عام ١٩٥٢ م .

٣- قيام ثورة ٢٣ يوليو ١٩٥٢ م .

٤- سقوط الادعاءات المزيفة باستقلال مصر عقب حادث فبراير ١٩٤٢ م .

٥- عجز الأحزاب السياسية قبل ثورة ١٩٥٢ م عن التعبير عن إدارة الشعب المصرى ومطالبه .

٦- مغادرة الملك فاروق وأسرته لمصر قبل الموعد الذى حدده قادة ثورة ١٩٥٢ م .

٧- صدور قانون الإصلاح الزراعى الأول فى سبتمبر ١٩٥٢ م .

٨- هزيمة الجيش المصرى والجيش العربى فى حرب فلسطين ١٩٤٨ م .

٩- فلسطين لها أهمية خاصة فى قلب كل عربى .

١٠- دخول الجيوش العربىة حرب فلسطين عام ١٩٤٨ م .

١١- فشل العدوان الثلاثى على مصر عام ١٩٥٦ م .

١٢- عدوان إسرائيل على مصر فى ٥ يونيه ١٩٦٧ م .



١٣- تقديم الولايات المتحدة الأمريكية لمبادرة روجرز أثناء حرب الاستنزاف .

١٤- إحداث ثغرة فى منطقة الدفرسوار أثناء حرب أكتوبر ١٩٧٣ م .

١٥- مبادرة الرئيس السادات لزيارة إسرائيل عام ١٩٧٧ م .

١٦- تدهور الأوضاع الاجتماعية فى مصر قبل ثورة ٢٥ يناير ٢٠١١ م .

١٧- الاستعانة بالقوات المسلحة خلال ثورة ٢٥ يناير ٢٠١١ م .

١٨- يُعتبر يوم ١١ فبراير ٢٠١١ م يوماً تاريخياً فى حياة الشعب المصرى .

١٩- تدهور الأحوال الاقتصادية فى مصر قبل ثورة ٢٥ يناير ٢٠١١ م .

٢٠- قيام ثورة ٣٠ يونيه ٢٠١٣ م .

### - ما النتائج المترتبة على :-

١- قيام ثورة ٢٣ يوليو ١٩٥٢ م بالنسبة للمجال السياسى .

٢- اهتمام ثورة ٢٣ يوليو ١٩٥٢ م بالمرأة المصرية .

٣- وقوع فلسطين تحت الانتداب البريطانى عام ١٩٢٠ م .

٤- هزيمة العرب فى حرب فلسطين عام ١٩٤٨ م .

٥- معركة رأس العش .

٦- عقد مؤتمر كامب ديفيد سبتمبر ١٩٧٨ م .

٧- قرار التحكيم الدولى الصادر فى سبتمبر ١٩٨٨ م .

٨- تطبيق سياسة الانفتاح الاقتصادى فى مصر دون ضوابط علمية قبل ثورة ٢٥ يناير ٢٠١١ م .

٩- التطبيق غير السليم لسياسة الخصخصة فى مصر قبل ثورة ٢٥ يناير ٢٠١١ م .

١٠- ثورة ٣٠ يونيه ٢٠١٣ م .



ماذا يحدث اذا :-

١- لم يتم تأمين شركة قناة السويس .

٢- لم تقم بريطانيا بإصدار تصريح بلفور ١٩١٧ م .

٣- استجابت إسرائيل لقرار مجلس الأمن رقم ٢٤٢ .

٤- لم تستخدم الدول العربية البترول كسلاح في حرب أكتوبر ١٩٧٣ م .

٥- فشل مؤتمر كامب ديفيد في سبتمبر ١٩٧٨ م .

ما العلاقة بين :-

١- حرب فلسطين، وثورة ٢٣ يوليو ١٩٥٢ م .

٢- انتهاء الحرب العالمية الأولى، والوضع السياسي في فلسطين .

٣- حرب الاستنزاف، ومبادرة روجرز .

٤- النفط العربي، وحرب أكتوبر ١٩٧٣ م .

٥- سياسة الخصخصة، وثورة ٢٥ يناير ٢٠١١ م .

دلل تاريخياً على صحة العبارات التالية :-

١- اختلفت الكتابات والآراء حول ثورة ٢٣ يوليو ١٩٥٢ م .

٢- سوء أحوال مصر الاقتصادية قبل ثورة ٢٣ يوليو ١٩٥٣ م .

٣- كان للدول العربية دوراً بارزاً في حرب أكتوبر ١٩٧٣ م .

٤- لعبت الولايات المتحدة الأمريكية دوراً مهماً في دعم إسرائيل في حرب أكتوبر .

٥- كان للانتخابات البرلمانية التي أجريت عام ٢٠١٠ م دور في قيام ثورة ٢٥ يناير ٢٠١١ م .



أقوى مراجعة على الوحدة الرابعة

السؤال الاول : اختر الاجابة الصحيحة مما بين الاقواس

- ١- صدر دستور ١٩٥٦م في عهد الرئيس .....  
( محمد نجيب - جمال عبد الناصر - أنور السادات - حسنى مبارك )
- ٢- رئيس الدولة هو رأس السلطة التنفيذية التي تضم الإدارة المحلية .....  
( مجلس النواب - الحكومة - القضاء - مجلس الشيوخ )
- ٣- يمثل حاليا السلطة القضائية في مصر .....  
( مجلس النواب - مجلس الوزراء - الإدارة المحلية - المحاكم )
- ٤- استطاعت المرأة المصرية الدفاع عن حقوقها ومكانتها في بداية القرن الـ ٢٠م عن طريق .....  
( الصحافة - التدريس - التظاهر - القضاء )
- ٥- تشكلت لجنة الوفد المركزية للسيدات عام ١٩٢٠م برئاسة .....  
( هدى شعراوي - جميلة حافظ - حكمت أبو زيد - عائشة راتب )
- ٦- شغلت منصب رئيس اللجنة التشريعية بمجلس الشعب فى الفترة من ١٩٧١م إلى .....  
( هدى شعراوي - أمال عثمان - جميلة حافظ - عائشة راتب )
- ٧- تم توقيع ميثاق جامعة الدول العربية فى مارس ١٩٤٥م من سبع دول منها .....  
( عُمان - المغرب - تونس - السعودية )
- ٨- يُعين الأمين العام لجامعة الدول العربية بموافقة .....  
( الأمانة العامة - اللجان الدائمة - مجلس الجامعة - مجلس الشعب )
- ٩- يُعد ..... أعلى سلطة داخل جامعة الدول العربية .  
( مجلس الجامعة - الأمانة العامة - مجلس الوصاية - اللجان الدائمة )
- ١٠- من أمثلة المنظمات الإقليمية .....  
( الأمم المتحدة - عدم الانحياز - الاتحاد الأفريقى - الفاو )
- ١١- ساهمت مصر فى تأسيس حركة عدم الانحياز فى مؤتمر ..... عام ١٩٥٥م .  
( مدريد - سان ريمو - باندونج - كامب ديفيد )
- ١٢- تتبع منظمة اليونسكو أحد أجهزة الأمم المتحدة وهو .....  
( الجمعية العامة - مجلس الوصاية - محكمة العدل الدولية - المجلس الاقتصادي والاجتماعي )
- ١٣- يوجد مقر الأمانة العامة للأمم المتحدة بمدينة .....  
( نيويورك - روما - جنيف - لاهاي )
- ١٤- استضافت دولة ..... أول قمة افريقية على ارضها عام ١٩٦٤م .  
( السعودية - مصر - السودان - ليبيا )
- ١٥- عقد مؤتمر القمة الإسلامية فى سبتمبر ١٩٦٩م بمدينة .....  
( القاهرة - الرياض - الرباط - بغداد )

السؤال الثانى : أكمل العبارات التالية بكلمات مناسبة

- ١- انشا محمد على مجلس ..... والمجلس .....
- ٢- انشا الخديو إسماعيل مجلس ..... عام ١٨٦٦م .
- ٣- بموجب دستور ١٩٥٦م تم تشكيل مجلس ..... عام ١٩٥٧م .
- ٤- فى عهد الرئيس السادات صدر ..... لمصر فى عام ١٩٧١م .
- ٥- أول دستور فى مصر بعد ثورة ٢٣ يوليو ١٩٥٢م هو .....
- ٦- أول مدرسة لتعليم البنات فى مصر هي .....
- ٧- أول مجلة نسائية مصرية هي .....



- ٨- أول وزيرة للشئون الاجتماعية فى مصر تم تعيينها عام ١٩٦٢ م هي .....
- ٩- فى عام ١٨٨٣ م تم انشاء مجلسين استشاريين ..... و .....
- ١٠- يطلق على المجالس النيابية التي تتولى السلطة التشريعية فى الدولة .
- ١١- تتمثل السلطة التشريعية فى مجلس النواب ومدته .....
- ١٢- شغلت الدكتورة ..... وزيرة الشئون الاجتماعية فى عهد الرئيس السادات .
- ١٣- ..... هي منظمة تجمع عدداً من الدول المستقلة التي ترتبط ببعضها بروابط معينة .
- ١٤- أقر ميثاق ..... الذى يعد اول وثيقة تخص الجامعة العربية بشكلها الحالي .
- ١٥- يقع مقر منظمة الأمم المتحدة فى مدينة ..... بالولايات المتحدة الامريكية .
- ١٦- تتكون الأمم المتحدة من ٦ أجهزة رئيسية منها ..... و .....
- ١٧- انقذت منظمة اليونسكو معابد ..... فى مصر عام ١٩٦٤ م .
- ١٨- من اهداف منظمة الأغذية والزراعة القضاء على ..... وتحسين .....
- ١٩- يتمثل الجهاز القضائى للأمم المتحدة فى .....
- ٢٠- تولت مصر رئاسة منظمة ..... للمرة الثالثة فى فبراير ٢٠١٩ م .

## السؤال الثاني : اكتب كلمة (صواب) امام العبارة الصحيحة وكلمة (خطأ) امام العبارة غير الصحيحة

- ١- أنشأ محمد على مجالس استشارية لاسلطة لها . ( )
- ٢- ألغت ثورة ٢٣ يوليو ١٩٥٢م دستور ١٩٢٣م . ( )
- ٣- قامت حكومة ثورة ٢٣ يوليو ١٩٥٢م بحل الأحزاب السياسية القائمة آنذاك . ( )
- ٤- صدر أول دستور لمصر عام ١٩٥٦م بعد ثورة ٢٣ يوليو ١٩٥٢م . ( )
- ٥- نص دستور ١٩٥٦م على أن السلطة التشريعية تكون فى يد مجلس منتخب هو مجلس الأمة ( )
- ٦- يمثل مجلس النواب السلطة التنفيذية فى الدولة . ( )
- ٧- كان للمرأة المصرية دور واضح فى الصحافة منذ العقد الأول من القرن العشرين . ( )
- ٨- حصلت المرأة المصرية على حق الانتخاب والترشح فى دستور ١٩٢٣م . ( )
- ٩- كانت حكمت أبو زيد أول وزيرة للشئون الاجتماعية عام ١٩٦٢م . ( )
- ١٠- توفير مناخ يحقق الوحدة الوطنية أحد أنشطة منظمات المجتمع المدنى . ( )
- ١١- جامعة الدول العربية منظمة دولية أنشئت عام ١٩٤٥م . ( )
- ١٢- من أهداف إنشاء جامعة الدول العربية التعاون وحماية الأمن القومى العربى . ( )
- ١٣- الاتحاد الأفريقى يُعد من المنظمات التي تربط بين شعوبها روابط مشتركة . ( )
- ١٤- يعين الأمين العام لجامعة الدول العربية بموافقة مجلس الجامعة بأغلبية الثلثين ٥ سنوات ( )
- ١٥- رأت مصر الاتحاد الأفريقى خمس مرات . ( )
- ١٦- مجلس الأمن هو المسئول عن النشاط الاقتصادى والاجتماعى للأمم المتحدة . ( )
- ١٧- سلطة مجلس الأمن سلطة قانونية على حكومات الدول الأعضاء فى الأمم المتحدة . ( )
- ١٨- ساهمت منظمة الأمم المتحدة للتربية والعلوم والثقافة (اليونسكو) فى إنقاذ معابد أبو سمبل عام ١٩٦٤م . ( )
- ١٩- أنشئت منظمة الصحة العالمية فى أبريل ١٩٤٨م ومقرها روما بإيطاليا . ( )
- ٢٠- شاركت مصر بجنودها فى قوات حفظ السلام الدولية فى بلدان عديدة . ( )



## السؤال الثالث : صوب ما تحته خط في العبارات الآتية

- ١- استجاب الخديو إسماعيل الدعوة رفاعة الطهطاوى وأنشأ صحيفة نسائية .
- ٢- كان إقرار مشاركة المرأة فى المجالات السياسية والاجتماعية والاقتصادية فى مرحلة ما بعد ثورة ١٩١٩م .
- ٣- الإدارة المحلية فى مصر ضمن عناصر السلطة التشريعية .
- ٤- عين الرئيس السادات حكمت أبو زيد وزيرة للشئون الاجتماعية عام ١٩٧١م .
- ٥- عقدت أول قمة أفريقية عام ١٩٦٤م فى السودان .
- ٦- عقد مؤتمر القمة الإسلامى عام ١٩٦٩م بمدينة الرياض .
- ٧- تعد مدينة جنيف مقر منظمة الأمم المتحدة .
- ٨- منظمة الأغذية والزراعة متخصصة فى مجال حماية حقوق الأطفال ورفاهيتهم .
- ٩- تتمثل سلطات الحكم فى مصر فى خمس سلطات .
- ١٠- قامت العراق بدعوة كلاً من سوريا ولبنان حول إقامة جامعة عربية .

## السؤال الرابع : اكتب ما تشير إليه كل عبارة من العبارات الآتية

- ١- قيام الشعب بانتخاب ممثلين الإدارة شئون الحكم فى البلاد وسن القوانين ومراقبة أعمال الحكومة نيابة عنه .
- ٢- الوثيقة الرسمية التى تحدد نظام الحكم فى الدولة وشكل واختصاصات المؤسسات المختلفة .
- ٣- المجالس النيابية التى تتولى السلطة التشريعية فى الدولة .
- ٤- دستور أكد على سيادة القانون واستقلال القضاء وإقرار مبادئ التعددية الحزبية .
- ٥- أول مجلة نسائية مصرية ظهرت فى فبراير ١٩٠٧م .
- ٦- منظمات تضم جمعيات المجتمعات المحلية والمنظمات غير الحكومية والنقابات العمالية والجمعيات الخيرية وغيرها .
- ٧- يتألف من ممثلى جميع الدول الأعضاء ومهامه يحددها ميثاق جامعة الدول العربية .
- ٨- أحد أجهزة الأمم المتحدة ويضم جميع الدول الأعضاء بها ولكل دولة صوت واحد .
- ٩- الجهاز القضائى الأساسى للأمم المتحدة ومقرها لاهاى بهولندا .
- ١٠- أهم أجهزة الأمم المتحدة ومسئول عن حفظ السلام والأمن الدوليين .
- ١١- منظمة عالمية متخصصة فى المجال الصحى أنشئت عام ١٩٤٨م ومقرها جنيف بسويسرا .
- ١٢- من المنظمات التابعة للأمم المتحدة المتخصصة فى المجال الزراعى ومقرها روما .
- ١٣- منظمة تابعة للأمم المتحدة ساهمت فى إحياء مكتبة الإسكندرية .
- ١٤- أحد أجهزة منظمة الأمم المتحدة يعمل على رعاية مصالح الشعوب التى كانت مستعمرات ومساعدتها نحو الحكم الذاتى والاستقلال .
- ١٥- منظمة ساهمت مصر فى تأسيسها مع الهند وإندونيسيا ويوغوسلافيا (سابقاً) وتضم حالياً ١١٨ دولة .

## السؤال الخامس : إلى من تنسب الأعمال التاريخية الآتية

- ١- أنشأ مجلس شورى النواب فى ديسمبر ١٨٦٦م .
- ٢- أنشأ أول مدرسة لتعليم البنات فى مصر عام ١٨٧٣م .



- ٣- اصدرت أول مجلة نسائية فى مصر وهى مجلة الريحانة عام ١٩٠٧ م .
- ٤- عين عائشة راتب وزيرة للشئون الاجتماعية عام ١٩٧١ م .
- ٥- شاركت المرأة لجنة الوفد المركزية للسيدات ١٩٢٠ م .

### السؤال الخامس : أجب عن الاسئلة التالية

- بم تفسر :-

- ١- أهمية صدور دستور عام ١٩٧١ م .
- ٢- تُعد حركة عدم الانحياز منظمة دولية .
- ٣- إنشاء جامعة الدول العربية عام ١٩٤٥ م .
- ٤- الأمم المتحدة منظمة دولية .
- ٥- إنشاء منظمة الأمم المتحدة عام ١٩٤٥ م .
- ٦- مجلس الأمن هو أهم أجهزة الأمم المتحدة .
- ٧- إنشاء منظمة اليونسكو .
- ٨- إنشاء منظمة اليونسيف .
- ٩- إنشاء مجلس الوصاية .
- ١٠- إنشاء منظمة الصحة العالمية .
- ١١- إنشاء منظمة الأغذية والزراعة (الفاو) لسكان العالم .



- دلل تاريخياً على صحة العبارات التالية :-

١- شهدت مصر بعد ثورة ١٩١٩م وحتى ثورة ١٩٥٢م نهضة نسائية فى مختلف المجالات .

٢- شهدت الفترة من ١٩٧١م وحتى ١٩٨١م ارتفاع مكانة المرأة المصرية .

٣- قامت منظمة اليونسكو بدور ثقافى مهم فى مصر .

٤- لمنظمات المجتمع المدنى أنشطة عديدة داخل المجتمع المصرى .

٥- لمحكمة العدل الدولية دور مهم كأحد أجهزة منظمة الأمم المتحدة .

- ما المقصود بكل من :-

١- حياة نيابية

٢- دستور

٣- برلمان

٤- منظمات المجتمع المدني .

٥- منظمة إقليمية

٦- منظمة دولية

## أقوى مراجعة على الوحدة الاولى

## السؤال الاول : اختر الاجابة الصحيحة مما بين الاقواس

- ١- عرف الانسان الاستقرار مع معرفة نشاط ..... ( الزراعة - الصيد - الصناعة - التجارة )
- ٢- تنتشر الزراعة البسيطة في المناطق ..... ( الحارة - المعتدلة - الموسمية - المعتدلة الدفينة )
- ٣- تتشابه الزراعة البدائية والكثيفة في ..... ( ضيق المساحات المزروعة - احتياجها لايدي عاملة وفيرة - توفير الاحتياجات المحلية - زراعة الأرض أكثر من مرة في العام الواحد )
- ٤- تعد ..... أولى دول العالم في انتاج القمح . ( الصين - اليابان - المغرب - كندا )
- ٥- تأتي قارة أمريكا الشمالية في المرتبة الأولى إنتاجاً لـ ..... ( القمح - الأرز - الذرة - القطن )
- ٦- أي من القارات الآتية تخلو من زراعة قصب السكر ..... ( أفريقيا - اسيا - أمريكا الشمالية - اوربا )
- ٧- تتركز زراعة البنجر في قارة اوربا خاصة في دولة ..... ( سويسرا - روسيا - فرنسا - إيطاليا )
- ٨- أولى دول العالم في انتاج السكر دولة ..... ( البرازيل - الهند - روسيا - مصر )
- ٩- تعد قارة ..... ثاني قارات العالم إنتاجاً للغاز الطبيعي . ( اسيا - أفريقيا - استراليا - أمريكا الجنوبية )
- ١٠- تعتبر دولة ..... أكبر دول العالم إنتاجاً للشاي . ( البرازيل - الصين - روسيا - الولايات المتحدة )
- ١١- تختلف محاصيل الزراعة التجارية والعلمية من قارة الى اخرى بسبب أساسي هو ..... ( تنوع المناخ - نوع الآلات المستخدمة - حجم السكان - تنوع المساحة المزروعة )
- ١٢- أكثر قارات العالم التي تنتشر بها حرفة الرعي البدائي هما قارتى ..... ( اسيا و أفريقيا - أفريقيا و أمريكا الجنوبية - اوربا و أستراليا - اريكا الشمالية و اوربا )
- ١٣- تعد ..... من أكبر دول العالم في تربية الابقار . ( الصين - اليابان - الهند - العراق )
- ١٤- ترتبط تربية ..... بالمراعي التجارية الواسعة . ( الماعز - الجاموس - الرنة - الأغنام )
- ١٥- تعد الصين أكبر دول العالم تربية لـ ..... ( الابقار - الأغنام - الدواجن - الإبل )
- ١٦- تحتل دولة ..... المركز الأول عالمياً في تربية الدواجن . ( المانيا - الهند - نيجيريا - الولايات المتحدة )
- ١٧- تحتل دولة ..... المركز الأول في انتاج اللحوم الحمراء والاسماك معاً . ( الهند - الصيد - فرنسا - استراليا )
- ١٨- أكثر الدول تصديراً للأسماك تنتمي لقارة ..... ( استراليا - أفريقيا - اسيا - أمريكا الشمالية )
- ١٩- تعد دولة ..... أكبر دول العالم إنتاجاً للحديد . ( فرنسا - ألمانيا - الصين - كندا )
- ٢٠- من الدول التي تصدر الحديد خاماً ..... ( اليابان - موريتانيا - فرنسا - بريطانيا )
- ٢١- شيلي أولى دول العالم في إنتاج ..... ( الفحم - الحديد - البوكسيت - النحاس )
- ٢٢- النشاط التعديني هو استخراج المعادن ومصادر الطاقة من باطن القشرة الأرضية» لا تنطبق العبارة على ..... ( الحديد - الفحم - البترول - الألومنيوم )
- ٢٣- تعد الولايات المتحدة الأمريكية أكبر دول العالم إنتاجاً لـ ..... ( الحديد - النحاس - الألومنيوم - المنجنيز )
- ٢٤- احتل ..... المصدر الأول والرئيسي للطاقة المستخدمة في العالم حتى أوائل القرن العشرين الميلادي . ( البترول - الغاز الطبيعي - الفحم - الكهرباء )
- ٢٥- يأتي أكثر من ٤/٣ إنتاج العالم من الفحم من قارتى ..... ( أوروبا و أفريقيا - أوروبا و آسيا - آسيا و أستراليا - أمريكا الشمالية و أمريكا الجنوبية )
- ٢٦- تنتج قارة أوروبا ثلث إنتاج العالم من ..... ( الفحم - البترول - الغاز الطبيعي - الحديد )
- ٢٧- تعد قارة ..... أكبر قارات العالم إنتاجاً للطاقة النووية . ( أوروبا - أفريقيا - أمريكا الشمالية - أستراليا )
- ٢٨- أولى الدول العربية في توليد الطاقة الكهربائية من الرياح ..... ( المغرب - تونس - مصر - الأردن )
- ٢٩- انعكست نتائج استخراج البترول بصورة واضحة في تحقيق التنمية الاقتصادية في دول ..... ( جنوب أفريقيا - جنوب أوروبا - الخليج العربي - شرق آسيا )
- ٣٠- من المقومات الطبيعية اللازمة لقيام الصناعة وتطورها ..... ( التطور العلمي - الأسواق - الموقع المتميز - رأس المال )
- ٣١- أكبر الأقاليم الصناعية في العالم الجديد إقليم ..... ( روسيا و أوكرانيا - شرق آسيا - غرب ووسط أوروبا - شمال شرق الولايات المتحدة الأمريكية )



- ٣٢- يبدو إقليم ..... الصناعي في شكل مناطق متباعدة .
- ( **غرب ووسط أوروبا - شمال شرق الولايات المتحدة الأمريكية - روسيا وأوكرانيا - شرق آسيا** )
- ٣٣- تتعدد مراكز الصناعات الحديثة بجنوب شرق آسيا ومنها دولة ..... ( **الصين - اليابان - ماليزيا - كوريا** )
- ٣٤- من مراكز الصناعة الحديثة في أمريكا الجنوبية ..... ( **البرازيل - فنزويلا - بيرو - بوليفيا** )
- ٣٥- تنتشر المراكز الصناعية الحديثة في أفريقيا بجهتيها ..... ( **الشمالية والجنوبية - الشمالية والغربية - الجنوبية والغربية - الغربية والشرقية** )

## السؤال الثاني : اكتب كلمة (صواب) امام العبارة الصحيحة وكلمة (خطأ) امام العبارة غير الصحيحة

- ١- ترتبط كثير من الأنشطة التي يمارسها الإنسان بالموارد الزراعية . ( **صواب** )
- ٢- تسود الزراعة **الكثيفة** في المناطق الحارة على هوامش الغابات الاستوائية . ( **خطأ** )
- ٣- تعد قارة آسيا أكبر قارات العالم إنتاجا للقمح والقطن . ( **صواب** )
- ٤- تحتل الصين المركز الأول في إنتاج القمح . ( **صواب** )
- ٥- تتركز زراعة القطن في قارة **أوروبا** وتعد الهند من أكبر الدول المنتجة له . ( **خطأ** )
- ٦- تحتاج زراعة الشاي إلى تربة خصبة خفيفة ومناخ حار وهواء رطب . ( **صواب** )
- ٧- تعتمد أوروبا على **قصب السكر** في إنتاج السكر . ( **خطأ** )
- ٨- يوجد الرعى البدائي شمال قارتي أوروبا وآسيا في صحارى التندرا الباردة . ( **صواب** )
- ٩- يوجد الرعى التجاري في مناطق الحشائش القصيرة بأمريكا الشمالية . ( **صواب** )
- ١٠- يسود الرعى التجاري في دولة الأرجنتين بأمريكا الجنوبية . ( **صواب** )
- ١١- تُعتبر **الهند** أكبر دولة في العالم في إنتاج اللحوم الحمراء . ( **خطأ** )
- ١٢- تُعد **مصر** أكبر الدول المنتجة للألبان في العالم . ( **خطأ** )
- ١٣- تشتهر أستراليا بأجود أنواع الصوف في العالم . ( **صواب** )
- ١٤- توجد بقارة **آسيا** أولى دول العالم إنتاجا للدواجن . ( **خطأ** )
- ١٥- تعتبر **الولايات المتحدة الأمريكية** أكبر دول العالم في إنتاج الأسمك . ( **خطأ** )
- ١٦- **تتساوى** الدول المتقدمة مع الدول النامية في معدل استهلاك المعادن . ( **خطأ** )
- ١٧- تُعد الصين أولى دول العالم إنتاجا للحديد . ( **صواب** )
- ١٨- الدول النامية المنتجة للبوكسيت ليست هي الدول المصنعة للألومنيوم . ( **صواب** )
- ١٩- تُعتبر **أستراليا** أكبر دول العالم إنتاجا للقمح . ( **خطأ** )
- ٢٠- يعتبر الغاز الطبيعي من مصادر الطاقة الأقل تلويثاً للبيئة . ( **صواب** )
- ٢١- يتم إنتاج الكهرباء الحرارية من الفحم أو البترول أو الغاز الطبيعي . ( **صواب** )
- ٢٢- بريطانيا وفرنسا من الدول المتقدمة التي تنتج الطاقة الكهربائية من الرياح . ( **صواب** )
- ٢٣- تنقسم الصناعة على أساس **مدى** تركزها وجودتها إلى خفيفة أو ثقيلة . ( **خطأ** )
- ٢٤- التطور العلمي والسياسات الحكومية تُعد عوامل بشرية لازمة لقيام الصناعة . ( **صواب** )

## السؤال الثالث : صوب ما تحته خط في العبارات الآتية

- ١- يدخل الجوت في صناعة الخبز . ( **المنسوجات** )
- ٢- تتميز الزراعة **التجارية** بزراعة الأرض بأكثر من محصول خلال العام . ( **الكثيفة** )
- ٣- تُعد قارة **أوروبا** أولى قارات العالم إنتاجا للقمح . ( **آسيا** )
- ٤- تُعد **الولايات المتحدة الأمريكية** ثاني دول العالم إنتاجا للقمح . ( **الهند** )
- ٥- تتركز زراعة بنجر السكر في قارتي **آسيا** وأمريكا الشمالية . ( **أوروبا** )
- ٦- تُعد **الجزائر** أكبر دول أفريقيا إنتاجا لبنجر السكر . ( **مصر** )
- ٧- القطن من المحاصيل **المعتدلة** المهمة لإنتاج الخيوط التي تستخدم في صناعة أجود الملابس . ( **المدارية** )
- ٨- تُعد قارة **أفريقيا** أكثر القارات إنتاجا للقطن . ( **آسيا** )
- ٩- ينتج معظم المطاط في قارة **أمريكا الجنوبية** وتُعد دولة **شيلي** أولى دول العالم إنتاجا له . ( **تايلاند** )
- ١٠- الموطن الأصلي لمحصول الشاي **غرب** أفريقيا . ( **شرق آسيا** )

استراليا  
التندرا الباردة  
اسيا  
البحار والمحيطات  
الصين  
الالومنيوم  
روسيا  
اوربا  
بترونية  
جنوب افريقيا

- ١١- تشتهر إندونيسيا بإنتاج الصوف من أغنام المارينو .
- ١٢- يرعى حيوان الرنة في صحاري أريزونا الحارة .
- ١٣- تُعد قارة أوروبا أولى القارات في تربية الأبقار .
- ١٤- يأتي نصف الإنتاج السمكي في العالم من المزارع السمكية .
- ١٥- تنتج أكثر من ثلث إنتاج العالم من الأسماك دولة إندونيسيا .
- ١٦- يُعد البوكسيت الخام الرئيسي لمعدن النحاس .
- ١٧- ثاني دول العالم إنتاجا للبتترول الهند .
- ١٨- أولى قارات العالم إنتاجا للطاقة النووية أمريكا الشمالية .
- ١٩- معظم الصناعات في دول الخليج العربي صناعات الكثرونية .
- ٢٠- تُعد مصر وتونس من أهم المراكز الصناعية الحديثة بأفريقيا .

## السؤال الرابع : اكتب المصطلح الجغرافي الذي تشير إليه كل عبارة من العبارات الآتية

زراعة بسيطة  
زراعة كثيفة  
الزراعة التجارية والعلمية  
المطاط الطبيعي  
رعى بداني  
رعى تجارى  
الالبان  
الحيثان  
التعدين  
البوكسيت  
البتترول  
الطاقة الكهرومائية  
شرق اسيا

- ١- زراعة يعمل بها عدد قليل من السكان في مناطق صغيرة ومعزولة .
- ٢- زراعة الأرض أكثر من مرة في العام الواحد لإشباع حاجة السكان المحليين من الغذاء
- ٣- زراعة تعرف بنظام الزراعة الواسعة وتهدف للإنتاج التجارى الضخم .
- ٤- يستخرج من عصارة أشجار استوائية ويصنع منه إطارات السيارات .
- ٥- نوع من الرعى يمارسه سكان المناطق الصحراوية في مساحات واسعة من قارات العالم
- ٦- رعى يمارس في قارة أمريكا الشمالية بمنطقة البراري ويعتمد على أحدث الأساليب العلمية
- ٧- منتج حيوانى تُعد الهند أكبر دول العالم إنتاجا له .
- ٨- أحياء بحرية يتم اصطيادها للاستفادة من لحومها وشحومها .
- ٩- عملية استخراج المعادن ومصادر الطاقة من باطن الأرض أو بالقرب من سطح الأرض
- ١٠- معدن يمثل الخام الرئيسي لصناعة الألومنيوم .
- ١١- يُعد أهم مصادر الطاقة لارتباطه بالتنمية الاقتصادية والاجتماعية والعلاقات السياسية
- ١٢- طاقة تنتج من الأمواج وحركة المد والجزر في بعض الدول المتقدمة .
- ١٣- إقليم صناعى يضم جزيرة هنشو وجمهورية كوريا .

## السؤال الخامس : أجب عن الأسئلة التالية - بم تفسر :-

- ١- بعد النشاط الزراعى من الأنشطة الاقتصادية الأساسية في العالم . - يمثل مصدر رئيسى لغذاء الانسان .
- يرتبط بها تربية الحيوان . - مصدر مهم للمواد الخام الزراعية اللازمة للصناعة .
- ٢- تحتاج الزراعة الكثيفة إلى أيد عاملة كثيرة .
- لأنها تتم من خلال عمليات عديدة ١- بذر الحبوب ٢- الري ٣- تقية الحشائش .
- ٣- صعوبة استخدام الآلات والميكنة الزراعية في مناطق الزراعة الكثيفة .
- بسبب صغر مساحة الحقول الزراعية .
- ٤- قلة التكاليف والعمالة في الزراعة التجارية والعلمية .
- بسبب اعتمادها على أحدث الآلات الزراعية والطرق العلمية الحديثة .
- ٥- يزرع قصب السكر في جميع قارات العالم ما عدا قارة أوروبا .
- لان من شروط زراعة قصب السكر : - درجة حرارة مرتفعة بينما تقع اوربا في المنطقة المعتدلة .
- ٦- شهرة قارة أوروبا بإنتاج السكر من بنجر السكر .
- بسبب تركيز زراعة البنجر في قارة اوربا لتوافر ظروف زراعته بها .
- ٧- يُعد القطن في مصر والسودان من أجود أنواع القطن في العالم .
- لانه من اجود أنواع القطن في العالم ومعظمه طويل التيلة .



- ٨- تتركز زراعة الشاي فى شرق آسيا خاصة فى الصين
- لتوافر ظروف زراعته من ١- تربة خصبة خفيفة ٢- مناخ حار ٣- هواء رطب ٤- مطر غزير .
- ٩- انخفاض أعداد العاملين بالرعى البدائى فى بعض مناطق قارة آسيا .
- شبه الجزيرة العربية : بسبب توطين للبدو لتدفق البترول - وسط اسيا : بسبب انتشار التعليم بين القبائل .
- ١٠- أهمية الثروة الحيوانية فى العالم .
- المصدر الرئيسى لانتاج اللحوم و الالبان فى العالم بجانب كونها مصدر للمواد الخام .
- ١١- تحتل الصين والهند وأستراليا المراكز الأولى فى تربية الأغنام بسبب توافر الحشائش حيث المراعى التجارية الواسعة .
- ١٢- تعتبر أستراليا أولى دول العالم فى إنتاج الصوف .
- بسبب تربية استراليا الاغنام المارينو المشهورة بغزارة الصوف .
- ١٣- زيادة معدل الاستهلاك العالمى من اللحوم الحمراء بسبب ارتفاع مستوى المعيشة فى كثير من دول العالم .
- ١٤- تنتشر مناطق صيد الأسماك على سواحل القارات بسبب ١- ضحالة المياه الساحلية . ٢- التقاء التيارات الباردة مع الدافئة . ٣- توافر الموانئ لرسو السفن . ٤- توافر الخبرات الفنية والعلمية .
- ١٥- تحتل الصين المركز الأول فى إنتاج الأسماك فى العالم .
- لأنها تمتلك مصائد على طول سواحل المحيط الهادى - مزارع تربية الأسماك .
- ١٦- تعد إندونيسيا من أهم الدول المنتجة للأسماك فى العالم .
- بسبب طول السواحل على البحار والمحيطات - تقدم وسائل الصيد .
- ١٧- أهمية معدن النحاس يستخدم فى كثير من الصناعات مثل الاسلاك والادوات الكهربائية .
- ١٨- توطن صناعة الألومنيوم فى الدول المتقدمة .
- بسبب توافر المقومات اللازمة لصناعة الالومنيوم من طاقة كهرو بانية وخبرات علمية وفنية متطورة .
- ١٩- يعتبر البترول أهم مصادر الطاقة فى العالم .
- بسبب ارتباط البترول بالتنمية الاقتصادية والاجتماعية والسياسية حيث يشكل الغاز الطبيعى ٥٥% من الطاقة .
- ٢٠- التوسع فى استخدام الغاز الطبيعى كبديل لمصادر الطاقة الأخرى .
- لأنه من مصادر الطاقة الاقل تلوثياً للبيئة ورخيص الثمن وسهل النقل .

## - ما النتائج المترتبة على :-

- ١- صغر مساحات الحقول الزراعية فى نطاق الزراعة الكثيفة .
- أدى الى صعوبة استخدام الآلات والميكنة الزراعية والاعتماد على الايدي العاملة .
- ٢- استخدام الطرق العلمية الحديثة فى الزراعة التجارية والعلمية .
- أدى الى : - قلة التكاليف - قلة عدد العمالة - الانتاج التجارى الضخم .
- ٣- انتشار التعليم بين قبائل دول وسط آسيا بالنسبة لحرفة الرعى .
- أدى إلى قلة اعداد القائمين بحرفة الرعى البدائى فى شبه الجزيرة العربية ووسط اسيا .
- ٤- انتشار المناخ الاستوائى والمدارى فى قارة آسيا بالنسبة للإنتاج الزراعى .
- ترتب عليه انتاج عدة محاصيل : قصب السكر محصول مدارى حار " الصين " / القطن محصول مدارى اسيا أولى قارات العالم .
- ٥- عدم توافر الطاقة الكهربائية والخبرة الفنية فى الدول النامية المنتجة للبوكسيت .
- أدى إلى قيام هذه الدولة بتصدير انتاجها من البوكسيت للدول المتقدمة .
- ٦- زيادة الطلب على البترول فى الوقت الحالى . أدى إلى زيادة اسعاره بصورة مستمرة .



## ٧- الوحدة الاقتصادية الأوروبية .

ادى الى حدوث تكامل في الجوانب الاقتصادية خاصة باقليم غريب ووسط اوربا الصناعى وحمائتها جمركياً وتدعيمها من جانب الاتحاد الاوربي .

### - ماذا يحدث اذا :-

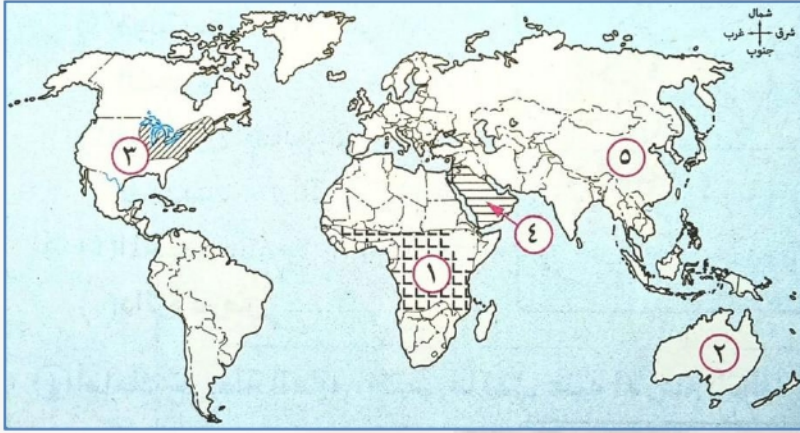
- ١- تحولت مصر من نظام الزراعة الكثيفة إلى الزراعة العلمية والتجارية .
  - ٢- قامت الدول النامية المنتجة للحديد بتصنيعه بدلاً من تصديره خام .
  - ٣- توافرت الطاقة الكهربائية والخبرة الفنية في الدول المنتجة للبوكسيت .
  - ٤- اتجهت معظم الدول نحو الاعتماد على المصادر المتجددة للطاقة .
  - ٥- أخذت الدول النامية بالأساليب العلمية في الصناعة .
- يؤدى الى تطور الصناعة - ارتفاع الدخل القومى - ارتفاع مستوى المعيشة .

### - ما العلاقة بين :-

- ١- الزراعة الكثيفة وتركز السكان .
  - ٢- موقع كل من البرازيل وفرنسا ومصدر إنتاج السكر بهما .
  - ٣- المطاط الطبيعي والسيارات .
  - ٤- تدفق البترول وحرفة الرعى البدائي في شبه الجزيرة العربية .
  - ٥- التطور التكنولوجي وإنتاج الأسماك .
  - ٦- البوكسيت والألومنيوم .
  - ٧- الغاز الطبيعي والكهرباء .
  - ٨- الرياح والكهرباء .
- تتوافر ظروف زراعة البنجر .
- تتركز الزراعة الكثيفة في مناطق تركز السكان حيث تزرع الارض اكثر من مرة كل عام .
- تتوافر ظروف زراعة البنجر .
- تستخدم المطاط الطبيعي في صناعة اطارات السيارات .
- تدفق البترول وتوطن البدو لها دور كبير في قلة العاملين بحرفة الرعى في شبه الجزيرة العربية .
- تتطور التكنولوجيا من العوامل التي تساعد على تطور حرفة صيد الأسماك وزيادة الانتاج السمكي .
- يعد البوكسيت الخام الرئيسي لصناعة الألومنيوم .
- يستخدم الغاز الطبيعي في انتاج الطاقة الكهربائية .
- تستخدم الرياح في انتاج الطاقة الكهربائية .

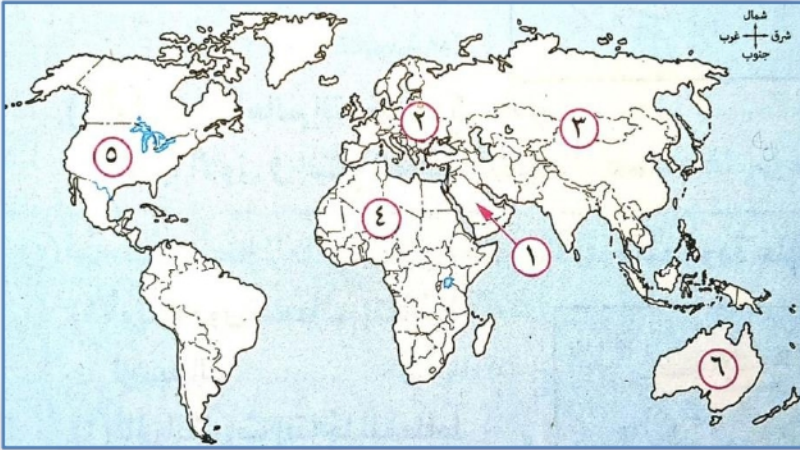


السؤال السادس : امامك خريطة صماء للعالم اكتب مدلول الأرقام عليها



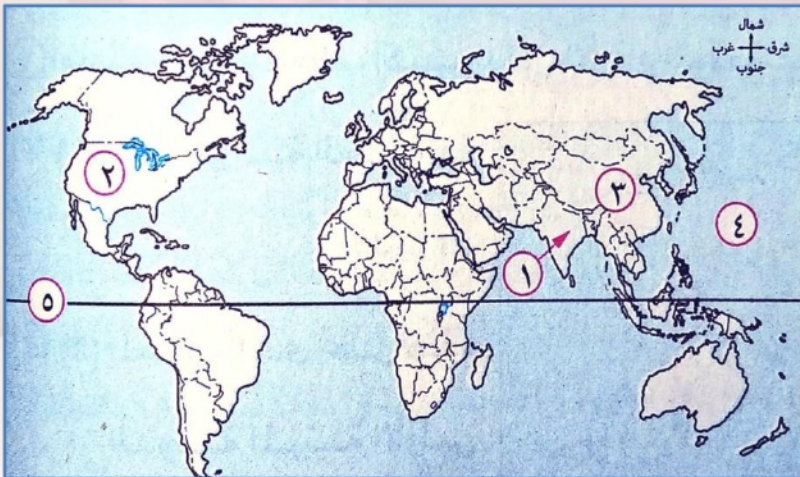
- ١- نوع الزراعة السائدة البسيطة .
- ٢- المعدن الذي تحتل هذه الدولة المرتبة الأولى في انتاجه عالمياً البوكسيت .
- ٣- إقليم صناعي شمال شرق الولايات المتحدة .
- ٤- منطقة اسيوية ينتشر بها الرعي البدائي شبه الجزيرة العربية .
- ٥- اكبر دول العالم انتاجاً للشاي الصين .

السؤال السادس : امامك خريطة صماء للعالم اكتب مدلول الأرقام عليها



- ١- القارة الأولى المنتجة للقمح تمثل رقم (٣) .
- ٢- أولى دول العالم في تربية الدواجن تمثل رقم (٥) .
- ٣- أشهر دول العالم انتاجاً للاصواف من اغنام المارينو تمثل رقم (٦) .
- ٤- دولة عربية تحتل المركز الأول عالمياً في انتاج البترول تمثل رقم (١) .
- ٥- قارة تخلص من زراعة محصول قصب السكر تمثل رقم (٢) .

السؤال السادس : امامك خريطة صماء للعالم اكتب مدلول الأرقام عليها

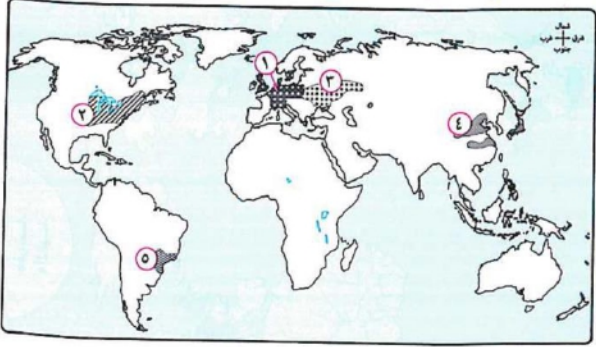


- ١- ثانياً دول العالم انتاجاً للسكر الهند .
- ٢- دولة يسود بها الرعي التجاري الولايات المتحدة الامريكية .
- ٣- أولى دول العالم انتاجاً للحديد الصين .
- ٤- المحيط الهندي .
- ٥- دائرة عرض الاستواء .



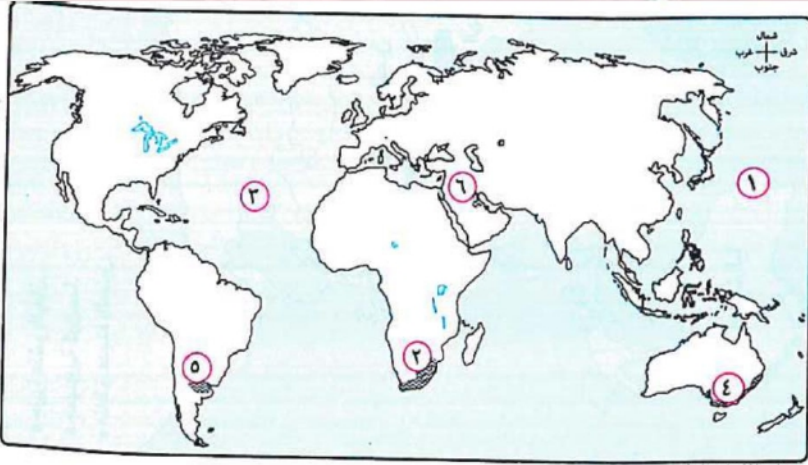
السؤال السادس : امامك خريطة صماء للعالم اكتب مدلول الأرقام عليها

- ١- إقليم صناعى يوجد في احدى قارات العالم القديم غرب ووسط اوربا .
- ٢- أكبر الأقاليم الصناعية في العالم الجديد شمال شرق الولايات المتحدة الامريكية .
- ٣- إقليم صناعى روسيا وأوكرانيا .
- ٤- إقليم صناعى شرق اسيا .
- ٥- دولة بها مركز صناعى حديث اوروجواى .



السؤال السادس : امامك خريطة صماء للعالم اكتب مدلول الأرقام عليها

- ١- يمثل الرقم (٣) المحيط الاطلنطى .
- ٢- يمثل الرقم (٤) دولة بها مراكز صناعية حديثة استراليا .
- ٣- يمثل الرقم (٦) احدى المراكز الصناعية الحديثة باسيا .
- ٤- يمثل الرقم (٥) احدى المراكز الصناعية الحديثة بالارجنتين .
- ٥- يمثل الرقم (٢) دولة بها مراكز صناعية حديثة جنوب افريقيا .



## أقوى مراجعة على الوحدة الثانية

## جمهورية الهند

## السؤال الاول : اختر الاجابة الصحيحة مما بين الاقواس

- ١- دولة ميانمار تحد دولة الهند من جهة .....  
( الجنوب الشرق - الجنوب الغربى - الشمال الشرق - الشمال الغربى )
- ٢- تقع معظم دولة ..... داخل حدود دولة الهند . ( نيبال - بوتان - بنجلاديش - باكستان )
- ٣- تنمو الغابات ..... على السواحل الغربية والشرقية للهند .  
( الاستوائية - الموسمية - المعتدلة - الباردة )
- ٤- تُعد دولة الهند أهم دول العالم في تربية .....  
( الماعز - الأبقار - الإبل - الجاموس )
- ٥- تُعد الهند ثالث دول العالم إنتاجاً لـ .....  
( البترول - الغاز الطبيعى - الفحم - البوكسيت )
- ٦- تقع العاصمة السياسية للهند في جهتها .....  
( الشمالية - الغربية - الجنوبية - الشرقية )
- ٧- أهم مدن الساحل الغربى فى الهند ومن أكبر الموانئ والمدن الصناعية مدينة .....  
( مومباى - كلكتا - نيودلهي - حيدر أباد )
- ٨- من أكبر مراكز الصناعات اليدوية في الهند ويوجد بها العديد من المراكز الإسلامية مدينة .....  
( نيودلهي - مومباى - كلكتا - حيدر أباد )
- ٩- تستورد مصر من الهند .....  
( غزل القطن - الجلود - الأسمدة الخام - الفوسفات )
- ١٠- تقوم الزراعة في الهند معتمدة على .....  
( مياه الأنهار والامطار - المياه الجوفية والامطار - الابار ومياه البحيرات - المياه الجوفية والانهار )

## السؤال الثانى : أكمل العبارات التالية بكلمات مناسبة

- ١- تحيط المياه بالهند من جميع الجهات عدا جهة **الشمال** .
- ٢- تمتد سهول نهر **الجانج** شمال شرق الهند ، بينما يمتد في جنوبها سهل نهر **كوفرى** .
- ٣- تمتد سواحل الهند على خليج البنغال و**البحر العربى** .
- ٤- تنمو الحشائش القصيرة بالهند على هضبة **الدكن** .
- ٥- تعتمد الهند في زراعة الأراضي الزراعية على مياه **الانهار** او **الامطار** .
- ٦- قفزت الهند قفزات سريعة فى تطور الصناعة ومن أهم الصناعات بها **الحديد والصلب** و **السيارات** .
- ٧- يحد دولة الهند من جهة الشمال بعض الدول منها نيبال وبوتان و **الصين** .
- ٨- هضبة الدكن بالهند ممتدة فى شكل **مثلث** متقطع بالانهار .
- ٩- يزيد المتوسط السنوي لدرجات الحرارة على **٣٠** درجة مئوية ويقل كلما اتجناها نحو **الشمال** .
- ١٠- تعد مدينة **نيودلهي** هي العاصمة السياسية للهند وتتميز بوجود جامعات ومراكز صناعية .

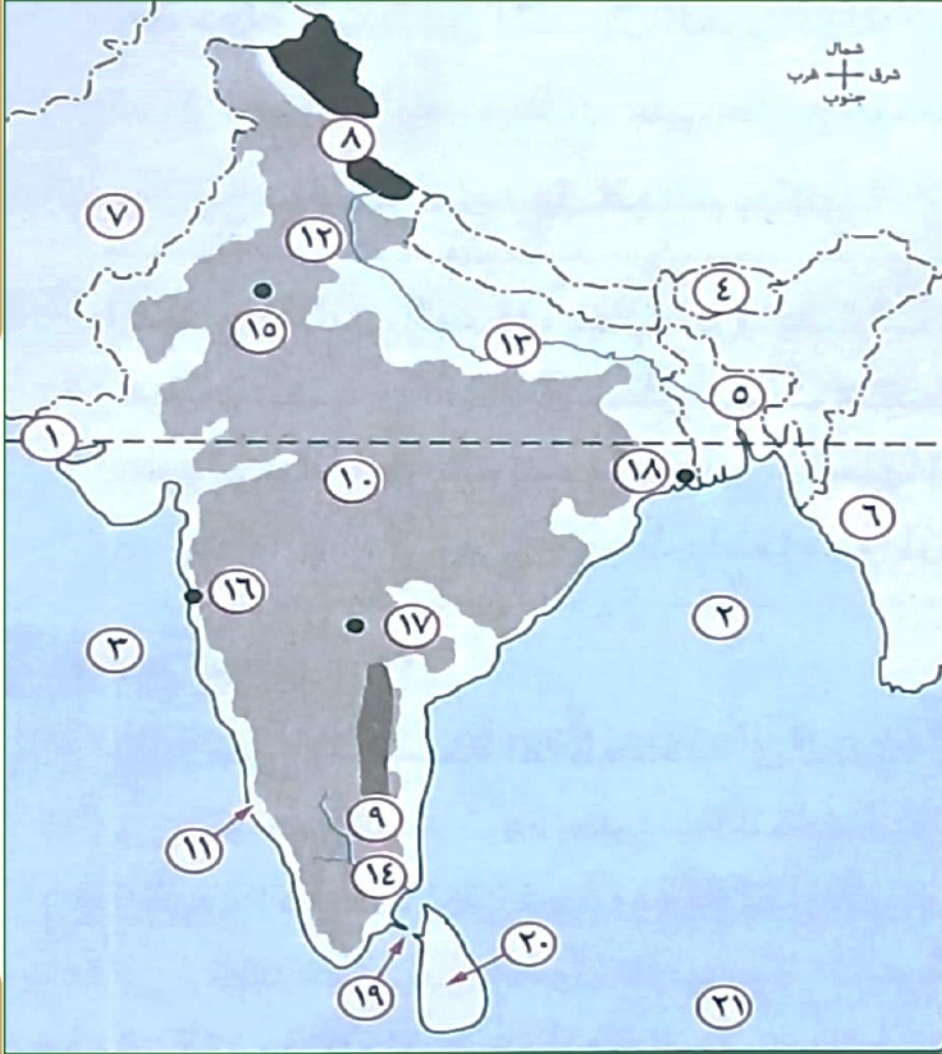
## السؤال الثالث : اكتب كلمة (صواب) امام العبارة الصحيحة وكلمة (خطأ) امام العبارة غير الصحيحة

- ١- يحد الهند من الشمال دولة نيبال والصين وبوتان . ( صواب )
- ٢- تسقط أمطار موسمية صيفية غزيرة فى جنوب الهند وتقل بالاتجاه نحو الشمال . ( صواب )
- ٣- يتركز سكان الهند فى السهول الساحلية والسهول الفيضية . ( صواب )
- ٤- توجد مناجم الفحم فى الهند بسواحلها الغربية . ( خطأ )
- ٥- نيودلهي هي العاصمة التجارية للهند ومومباى هي العاصمة السياسية . ( خطأ )
- ٦- تقتصر العلاقات المصرية الهندية على المستوى الاقتصادى . ( خطأ )



- ٧- **تستورد** مصر من الهند الفوسفات والقطن .
- ٨- سهل كروماندل يحده من الغرب جبال الغات الغربية .
- ٩- تعتمد الهند في زراعتها على مورد **وحيد** للمياه .
- ١٠- تنتج الهند المحاصيل الغذائية بكميات كبيرة خاصة في السنوات الأخيرة .

## السؤال الرابع : امامك خريطة صماء لدولة الهند اكتب مدلول الارقام عليها



- ١- دائرة عرض مدار السرطان .
- ٢- خليج البنغال .
- ٣- البحر العربي .
- ٤- دولة بوتان .
- ٥- دولة بنجلادش .
- ٦- دولة ميانمار .
- ٧- دولة باكستان .
- ٨- جبال الهمالايا .
- ٩- جبال الغات الشرقية .
- ١٠- هضبة الدكن .
- ١١- سهول ملبار .
- ١٢- سهول الهندوستان .
- ١٣- نهر الجانج .
- ١٤- نهر كوفرى .
- ١٥- مدينة نيودلهي .
- ١٦- ميناء مومباي .
- ١٧- مدينة حيدر أباد .
- ١٨- مدينة كلكتا .
- ١٩- مضيق بلك .
- ٢٠- جزيرة سيلان .
- ٢١- المحيط الهندي .

## السؤال الخامس : صوب ما تحته خط

- ١- يحد دولة الهند من الشمال الغربي دولة ميانمار .
- ٢- تمتد سهول الهندوستان على خليج البنغال شرق الهند .
- ٣- تعد الهند أولى دول العالم سكانا .
- ٤- تعتبر مدينة نيودلهي هي العاصمة التجارية .
- ٥- من صادرات مصر الى الهند غزل القطن والسمن والشاي .

## السؤال السادس : اكتب ما تشير اليه العبارات الآتية

- ١- هضبة تمتد في الهند في شكل مثلث متقطع بالأنهار .
- ٢- سهول ساحلية بالهند تمتد على ساحتها الغربية .
- ٣- مدينة بالهند تتميز بوجود الجامعات والمراكز الصناعية والمعالم التاريخية المهمة . نيودلهي

باكستان  
كروماندل  
ثاني  
مومباي  
واردات

هضبة الدكن  
سهول ملبار

باكستان  
دولة الهند

- ٤- دولة تحد الهند من جهة الشمال الغربي .  
٥- دولة هي ثالث دول العالم إنتاجاً للفحم على مستوى العالم .

**السؤال السابع : أجب عن الاسئلة التالية**

**- بم تفسر :-**

- ١- **تنوع الأنشطة الاقتصادية في الهند .**  
**بسبب توافر الموارد الاقتصادية بالهند سواء موارد زراعية او ثروات معدنية .**
- ٢- **توجد بالهند ثروة حيوانية ضخمة .**  
**بسبب كثرة المراعى حيث يوجد بها عدد كبير من الابقار واعداد كبيرة من الجاموس والاغنام .**
- ٣- **القيمة الاقتصادية المحدودة للابقار في الهند .** **بسبب تحريم الديانة الهندوسية أكل لحوم الابقار .**
- ٤- **تعد الهند من الدول الرئيسية المنتجة للأسماك .**  
**لانها تطل على مسطحات مائية بجبهات ساحلية طويلة مثل خليج البنغال والبحر العربى .**
- ٥- **تفوق الهند فى صناعة الحديد والصلب .**  
**بسبب توافر مقومات الصناعة بها - الاهتمام بالتعليم والبحث العلمى .**
- ٦- **لجوء الهند للطاقة النووية والكهربائية .** **لافتقارها للبتروول ومصادر الطاقة الأخرى .**
- ٧- **شهدت الهند قفزات سريعة فى تطور الصناعة .**  
**بسبب توافر مقومات الصناعة بها - الاهتمام بالتعليم والبحث العلمى .**
- ٨- **شهرة مدينة نيودلهى بالهند .**  
**لانها تتميز بوجود الجامعات والمراكز الصناعية والمعالم التاريخية المهمة .**

**- ما النتائج المترتبة على :-**

- ١- **الاهتمام بالتعليم وتطوير البحث العلمى بالهند .** **أدى الى تطوير الزراعة والصناعة .**
- ٢- **تحريم الديانة الهندوسية أكل لحوم الابقار فى الهند .** **أصبحت القيمة الاقتصادية للابقار محدودة .**
- ٣- **إشراف الهند على مسطحات مائية بجبهات ساحلية طويلة .**  
**أصبحت الهند من الدول الرئيسية المنتجة للأسماك .**
- ٤- **افتقار الهند للبتروول كمصدر من مصادر الطاقة .** **لجوء دولة الهند الى الطاقة النووية والكهربائية .**

**- دلل على صحة العبارة التالية :-**

- ١- **تنوع النبات الطبيعى فى الهند .**  
**تنمو الغابات الموسمية على السواحل الغربية والشرقية . - تنمو الحشائش القصيرة على الدكن .**
- ٢- **واجهت الهند المشكلة السكانية بسياسات تنمية مختلفة .**  
**حيث اهتمت بالتعليم وتطوير البحث العلمى مما أدى الى تطوير الزراعة والصناعة .**
- ٣- **تنوع العلاقات الاقتصادية بين مصر والهند .**  
**حيث توجد علاقات سياسية وثقافية وعلمية واقتصادية وتشهد نمواً كبيراً وتصدر مصر للهند القطن والاسمدة الخام والفوسفات والجلود وتستورد الهند من مصر غزل القطن والشاي والسمسم والتوابل .**

## جمهورية البرازيل

## السؤال الاول : اختر الاجابة الصحيحة مما بين الاقواس

- ١- يسود سطح البرازيل المظهر ..... ( الجبلي - السهلي - الهضبي - الصحراوي )
- ٢- يسود المناخ المعتدل الرطب في أقصى ..... البرازيل ( شمال - شرق - جنوب شرق - شمال شرق )
- ٣- أكبر غابة استوائية في العالم توجد في حوض نهر ..... ( الجانج - الكونغو - المسيسيبي - الأمازون )
- ٤- تنمو ..... في الأطراف الجنوبية من البرازيل .
- ٥- تُعد ..... من المناطق شبه الخالية من السكان . ( الغابات الاستوائية - الغابات المدارية - الحشائش الحارة - الحشائش المعتدلة )
- ٦- تصدر القرارات السياسية بدولة البرازيل حديثاً من مدينة ..... ( الساحل الجنوبي الشرقي - سهول الأمازون - هضبة البرازيل - ميناؤوس )
- ٧- تُعد مدينة ..... أهم موانئ البرازيل على المحيط الأطلنطي . ( ريودي جانيرو - برازيليا - ساو باولو - كويبا )
- ٨- تقع هضبة البرازيل في وسط و ..... البرازيل . ( شرق - غرب - شمال - جنوب )
- ٩- يمتد الإقليم المناخي الاستوائي في دولة البرازيل في الجهات ..... ( الشمالية - الجنوبية - الغربية - الشرقية )
- ١٠- تصدر البرازيل لمصر ..... ( الاقطان - السكر - الأثاث - الأسمدة )

## السؤال الثاني : أكمل العبارات التالية بكلمات مناسبة

- ١- تمر دائرة الاستواء في الأطراف الشمالية من دولة البرازيل .
- ٢- يحد المحيط الأطلنطي دولة البرازيل من جهتي الشرق و الشمال الشرقي .
- ٣- تشغل البرازيل حوالي نصف مساحة قارة أمريكا الجنوبية .
- ٤- أنشئت عدة مدن لإعادة توزيع السكان نحو الداخل أهمها مدينة برازيليا ومدينة ميناؤوس .
- ٥- يعمل في حرفة الزراعة أكثر من ربع القوى العاملة في البرازيل .
- ٦- البرازيل من الدول الرئيسية المنتجة والمصدرة لـ للحوم نظراً لوجود المراعي الدائمة .
- ٧- يعد سكان البرازيل خليطاً بين الهنود الحمر و العناصر السوداء .
- ٨- تعد مدينة برازيليا هي المدينة التي أنشأتها الدولة لتعمير هضبة البرازيل .
- ٩- يتركز سكان البرازيل على الساحل الجنوبي الشرقي في المدن الرئيسية .
- ١٠- تطورت الصناعة وظهرت الصناعات الثقيلة في البرازيل مثل الحديد والصلب و السيارات .

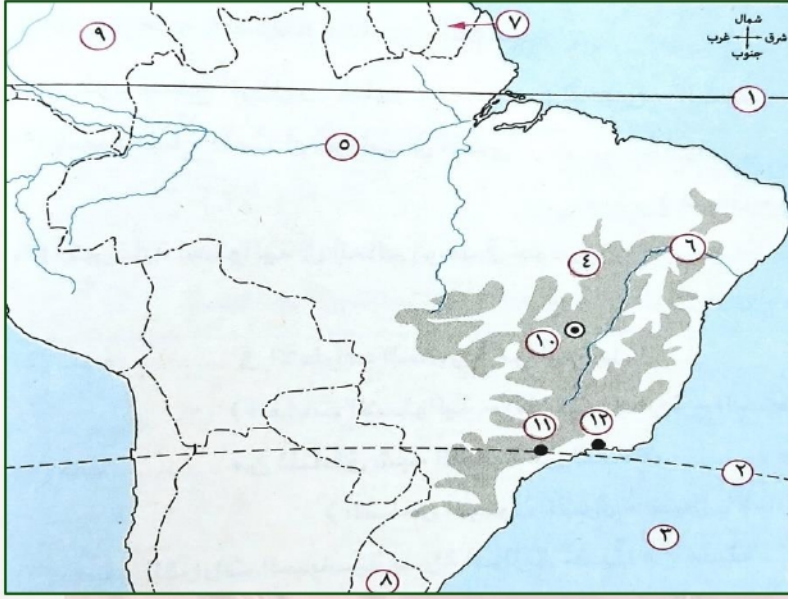
## السؤال الثالث : اكتب كلمة (صواب) امام العبارة الصحيحة وكلمة (خطأ) امام العبارة غير الصحيحة

- ١- تطل البرازيل بسواحل طويلة من جهة الشرق والشمال الشرقي على المحيط الهادي . ( خطأ )
- ٢- تمثل البرازيل نصف قارة أمريكا الجنوبية من حيث عدد السكان . ( صواب )
- ٣- يسود المناخ المداري الحار في أقصى جنوب شرق البرازيل . ( خطأ )
- ٤- تنمو حشائش السافانا فوق هضبة البرازيل والحشائش المعتدلة في الأطراف الجنوبية . ( صواب )
- ٥- يتركز سكان البرازيل على الساحل الشمالي الشرقي حيث المدن الرئيسية . ( خطأ )
- ٦- توجد معظم الأراضي الزراعية بالبرازيل في الجنوب . ( صواب )
- ٧- تعد البرازيل أولى دول العالم في إنتاج البن وقصب السكر . ( صواب )



- ٨- يوجد بالبرازيل ثروة معدنية ومن أهمها البوكسيت .  
٩- تتركز الصناعة فى جنوب غرب البرازيل قرب مدينتى ساوباولو وريودى جانيرو .  
١٠- برازيليا هي العاصمة القديمة للبرازيل وتعد واحدة من أجمل مدن العالم .

## السؤال الرابع : امامك خريطة صماء لدولة البرازيل اكتب مدلول الارقام عليها



- ١- دائرة عرض الاستواء .
- ٢- مدار الجدى .
- ٣- المحيط الاطلنطى .
- ٤- هضبة البرازيل .
- ٥- نهر الأمازون .
- ٦- نهر ساو فرانسيسكو .
- ٧- دولة جيانا الفرنسية .
- ٨- دولة اوروجواى .
- ٩- دولة كولومبيا .
- ١٠- العاصمة برازيليا .
- ١١- مدينة ساو باولو .
- ١٢- مدينة ريودى جانيرو .

## السؤال الخامس : صوب ما تحته خط

- ١- يسود المناخ الاستوائى فى حوض نهر الأمازون وفى السهول الشرقية بالبرازيل . الشمالية
- ٢- السكان الأصليون لجمهورية البرازيل من العناصر السوداء . الهنود الحمر
- ٣- العاصمة الجديدة للبرازيل فى ريودى جانيرو . برازيليا
- ٤- تصدر مصر إلى البرازيل اللحوم . الاقطن
- ٥- تستورد مصر من البرازيل المعادن وخاصة الفوسفات . الحديد

## السؤال السادس : اكتب ما تشير اليه العبارات الآتية

- ١- مدينة أنشئت على نهر الأمازون لإعادة توزيع السكان فى البرازيل نحو الداخل . ميناؤوس
- ٢- مدينة برازيلية تشتهر بمبانيها الضخمة وشواطئها الرملية الواسعة . ساوباولو
- ٣- المحيط الذى يحد دولة البرازيل من الشرق والشمال الشرقى . الاطلنطى
- ٤- من الهضاب التي توجد فى شمال دولة البرازيل . جيانا
- ٥- حرفة توجد فى البرازيل بسبب امتلاكها سواحل طويلة على المحيط الاطلنطى . صيد الاسماك

## السؤال السابع : أجب عن الاسئلة التالية

- بم تفسر :-

- ١- تعاني البرازيل من قلة عدد السكان رغم أن سكانها يمثلون نصف سكان قارة أمريكا الجنوبية . بسبب مساحتها الواسعة ووجود مناطق تكاد تكون شبه خالية من السكان مثل سهول الامازون .
- ٢- تركز السكان فى البرازيل فى الساحل الجنوبي الشرقى . بسبب وجود المدن الرئيسية مثل ريودى جانيرو ومدينة ساوباولو .
- ٣- إنشاء البرازيل مدن جديدة مثل برازيليا وميناؤوس . لاعادة توزيع السكان نحو الداخل .



- ٤- امتلاك البرازيل ثروة حيوانية كبيرة ومتنوعة .  
 لوجود المراعى الدائمة في شمال هضبة البرازيل مما جعلها من الدول الرئيسية المنتجة والمصدرة للحوم .  
 ٥- تعد البرازيل من الدول المنتجة للأسماك .  
 بسبب امتلاكها سواحل طويلة على المحيط الاطلنطى ووجود نهر الأمازون .

## - ما النتائج المترتبة على :-

- ١- الموقع الفلكي للبرازيل .  
 أدى الى :- (١) وقوع معظمها في المناطق الاستوائية والمدارية ولذلك :-  
 \* يسود المناخ الاستوائى وحوض الامازون والسهل الساحلى الشمالى .  
 \* يسود المناخ المدارى الحار فى السهول الشرقية وهضبة البرازيل .  
 (٢) سيادة المناخ المعتدل الرطب فى اقصى الجنوب الشرقى للبرازيل .  
 ٢- امتلاك البرازيل ثروة حيوانية كبيرة . مما جعلها من الدول الرئيسية المنتجة والمصدرة للحوم .

## - دلل على صحة كل عبارة من العبارات الاتية :-

- ١- تنوع المناخ فى البرازيل .  
 \* يسود المناخ الاستوائى وحوض الامازون والسهل الساحلى الشمالى .  
 \* يسود المناخ المدارى الحار فى السهول الشرقية وهضبة البرازيل .  
 ٢- تنوع النبات الطبيعى فى البرازيل .  
 حيث تسود الغابات الاستوائية فى حوض الامازون وتعد أكبر غابة استوائية فى العالم :-  
 \* تنمو حشائش السافانا فوق هضبة البرازيل .  
 \* تنمو الحشائش المعتدلة فى اطراف البرازيل الجنوبية .  
 ٣- سكان البرازيل خليط من معظم الأجناس .  
 حيث يوجد بها :- (١) الهنود الحمر . (٢) العناصر السوداء . (٣) الأوروبيون .  
 ٤- شهدت البرازيل تطوراً كبيراً فى الصناعة .  
 حيث تطوت الصناعة وظهرت الصناعات الثقيلة مثل الحديد والصلب والسيارات والطائرات والالات الكهربائية والاسمنت .  
 ٥- وجود علاقات اقتصادية بين مصر والبرازيل .  
 حيث ترتبط مصر بالبرازيل علاقات قديمة منذ القرن الـ ١٩ م ومنها علاقات اقتصادية وهناك اهتمام بتوسيع نطاق التبادل التجارى بين البلدين حيث :-

تصدر مصر الى البرازيل	تستورد مصر من البرازيل
• الاقطان .	- الحبوب الغذائية خاصة الزيتية .
• المواد الغذائية .	- السكر .
• الأثاث .	- المعادن خاصة الحديد .
• المنسوجات .	- اللحوم .
• الأسمدة .	- البن .

## جمهورية نيجيريا الاتحادية

## السؤال الاول : اختر الاجابة الصحيحة مما بين الاقواس

- ١- يحد نيجيريا من جهة الشرق دولتي .....
- ( النيجر والكاميرون - الكاميرون وبنين - النيجروبين - الكاميرون وتشاد )
- ٢- يحد نيجيريا من الشمال دولة .....
- ( النيجر - تشاد - بنين - الكاميرون )
- ٣- تسقط الأمطار طوال العام على أطراف نيجيريا .....
- ( الشمالية - الشرقية - الجنوبية - الغربية )
- ٤- تنمو حشائش ..... في شمال نيجيريا .
- ( السافانا - الإستبس - التندرا - البراري )
- ٥- يزرع في وسط وشمال نيجيريا محاصيل منها .....
- ( الأرز - المطاط - القمح - الكاكاو )
- ٦- تعد نيجيريا أولى دول قارة أفريقيا إنتاجا لمحصول .....
- ( المطاط - الذرة الشامية - الأرز - قصب السكر )
- ٧- يستخرج من هضبة جوس في نيجيريا .....
- ( الحديد - المنجنيز - النحاس - القصدير )
- ٨- تستخرج نيجيريا ..... من المنطقة القريبة من الساحل في الجنوب الشرقي .
- ( الحديد - الفحم - القصدير - البترول )
- ٩- تصدر مصر إلى نيجيريا .....
- ( الأسمدة - الحبوب - الشاي - السكر )
- ١٠- من المناطق التي يقل بها السكان في نيجيريا .....
- ( السهول الشمالية - دلتا النيجر - الجهات الغربية - هضبة جوس )

## السؤال الثاني : أكمل العبارات التالية بكلمات مناسبة

- ١- يحد دولة نيجيريا من جهة الغرب دولة **بنين** .
- ٢- تعد هضبة **جوس** من الهضاب التي تقع وسط السهول الشمالية .
- ٣- تقع معظم دولة نيجيريا في نطاق المناخ **المدارى** بينما الأطراف الجنوبية ضمن المناخ **الاستوائى** .
- ٤- تغطي الغابات **الاستوائية** و **المدارية** الجزء الجنوبي لنيجيريا .
- ٥- يقل السكان في دلتا نهر **النيجر** بسبب الغابات الكثيفة والظروف القاسية .
- ٦- أكثر من نصف اراضي دولة نيجيريا صالحة لـ **الزراعة** و **الرعى** .
- ٧- تغطي الغابات نحو **ثلث** من مساحة نيجيريا وتعد مصدر للاخشاب .
- ٨- توجد في نيجيريا مراعي حشائش **السافانا** بسبب كثرة اعداد الابقار والاعنام والماعز .
- ٩- تنتج نيجيريا كميات من الأسماك التي تمتد على ساحل خليج **غينيا** .
- ١٠- تصدر مصر الى نيجيريا **المعدات الثقيلة** و **الاسلاك النحاسية** .

## السؤال الثالث : اكتب كلمة (صواب) امام العبارة الصحيحة وكلمة (خطأ) امام العبارة غير الصحيحة

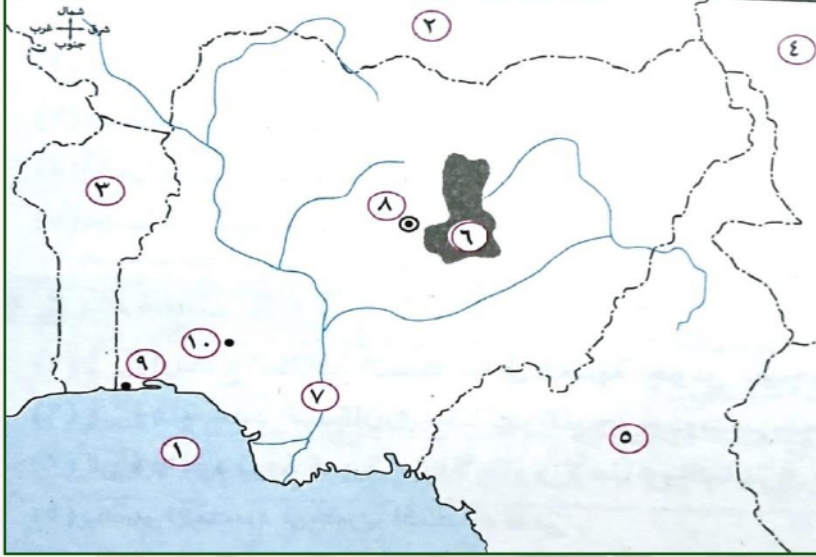
- ١- تُعد نيجيريا أكبر دول أفريقيا من حيث عدد السكان . ( صواب )
- ٢- يتركز سكان نيجيريا في الجنوب . ( خطأ )
- ٣- اقتصاد نيجيريا اقتصاد متقدم يعتمد على الزراعة في المقام الأول . ( خطأ )
- ٤- يُعد الإقليم الغربى أهم مناطق الإنتاج الزراعي في نيجيريا . ( صواب )
- ٥- يزرع المطاط والأرز في جنوب نيجيريا . ( صواب )
- ٦- تأتي نيجيريا في المركز الثانى لإنتاج الأرز في أفريقيا بعد مصر . ( صواب )
- ٧- تنتج نيجيريا الفحم من المنطقة الشرقية . ( صواب )
- ٨- أبوجا العاصمة القديمة لنيجيريا، بينما لاجوس أكبر المدن النيجيرية . ( خطأ )



(خط)  
(خط)

- ٩- تقتصر الصادرات المصرية إلى نيجيريا على المواد الخام .
- ١٠- تعد الصناعة في دولة نيجيريا صناعة متقدمة ومتطورة .

**السؤال الرابع : امامك خريطة صماء لدولة نيجيريا اكتب مدلول الارقام عليها**



- ١- خليج غينيا .
- ٢- دولة النيجر .
- ٣- دولة بنين .
- ٤- دولة تشاد .
- ٥- دولة الكاميرون .
- ٦- هضبة جوس .
- ٧- نهر النيجر .
- ٨- العاصمة أبوجا .
- ٩- مدينة لاجوس .
- ١٠- مدينة إيبادان .

**السؤال الخامس : صوب ما تحته خط**

- ١- يحد دولة نيجيريا من الجنوب المحيط الهندي .
- ٢- يقع معظم نيجيريا ضمن إقليم المناخ الصيني .
- ٣- تغطي الغابات الموسمية الجزء الجنوبي من دولة نيجيريا .
- ٤- من أهم الصناعات بدولة نيجيريا صناعة الطائرات .
- ٥- العاصمة الاقتصادية لنيجيريا هي إيبادان .

المحيط الاطلنطي  
المدارى  
الاستوائية  
الغزل والنسيج  
لاجوس

**السؤال السادس : اكتب ما تشير اليه العبارات الآتية**

- ١- سهول خصبة فى نيجيريا يجرى بها نهر النيجر .
- ٢- حشائش تنمو شمال الغابات المدارية فى نيجيريا .
- ٣- منطقة تركز زراعة الأرز لجمهورية نيجيريا الاتحادية .
- ٤- أكثر المدن النيجيرية تكديسا بالسكان .
- ٥- مدينة نيجيرية تُعد مركزا للتجارة والتعليم والمواصلات .

السهول الشمالية  
حشائش السافانا  
المنطقة الجنوبية  
مدينة لاجوس  
مدينة إيبادان

**السؤال السابع : أجب عن الاسئلة التالية - بم تفسر :-**

- ١- ارتفاع الكثافة السكانية فى هضبة جوس بنيجيريا . حيث الاراضى الزراعية والمراعى ومناطق التعدين
- ٢- قلة عدد السكان فى دلتا نهر النيجر جنوب نيجيريا .
- ٣- وجود ثروة كبيرة من الأبقار والأغنام والماعز فى نيجيريا . بسبب وجود الغابات الكثيفة والظروف المناخية القاسية .
- ٤- وجود مراعى حشائش السافانا .
- ٥- يعتبر اقتصاد نيجيريا اقتصاد نامى .
- ٦- لأنه يعتمد على الزراعة فى المقام الأول .
- ٧- تنتج نيجيريا كميات كبيرة من الأسماك .
- ٨- بسبب وجود :- (١) ساحل طويل على خليج غينيا . (٢) أنهار وبحيرات بالداخل .



## ما النتائج المترتبة على :-

- ١ - كثافة الغابات وقسوة المناخ في دلتا نهر النيجر . أدى الى قلة عدد السكان بها .
- ٢ - وجود حشائش السافانا في نيجيريا . أدى الى وجود أعداد كبيرة من الابقار والاعنام والماعز .
- ٣ - تمتع نيجيريا بساحل طويل على خليج غينيا . أدى الى انتاج الأسماك بكميات كبيرة .

## دلل على صحة كل عبارة من العبارات الآتية :-

- ١ - يسود المناخ الحار في نيجيريا .  
حيث يقع معظم نيجيريا ضمن المناخ المدارى " ذات الحرارة المرتفعة والمطر الصيفي " بينما تقع الأطراف الجنوبية ضمن المناخ الاستوائى " ذات الحرارة المرتفعة والامطار طوال العام " .
- ٢ - تنوع النبات الطبيعي في نيجيريا .  
حيث تغطي الغابات الاستوائية والمدارية الجزء الجنوبى لنيجيريا وتنمو حشائش السافانا شمال الغابات المدارية .
- ٣ - اختلاف توزيع السكان في نيجيريا .  
حيث يتركز السكان في الغرب والسهول الشمالية وهضبة جوس حيث الاراضى الزراعية والمرعى ومناطق التعدين . بينما يقل السكان في دلتا نهر النيجر وجنوب نيجيريا بسبب وجود الغابات الكثيفة والظروف المناخية السيئة .
- ٤ - وفرة الثروات المعدنية ومصادر الطاقة في نيجيريا .  
حيث أهمها :- (١) القصدير : ويستخرج من هضبة جوس .  
(٢) الفحم : ويستخرج من المنطقة الشرقية .  
(٣) البترول : ويستخرج من المنطقة القريبة من الساحل في الجنوب الشرقى .  
وتنتج نيجريا منه كميات كبيرة فقد وصل انتاجها الى نحو ٣ % من الإنتاج العالمى .
- ٥ - وجود علاقات وثيقة بين مصر ونيجيريا .  
حيث توجد علاقات وثيقة بين البلدين خاصة الاقتصادية حيث :-

تصدر مصر الى نيجيريا	تستورد مصر من نيجيريا
<ul style="list-style-type: none"> <li>• الأسمدة .</li> <li>• المعدات الثقيلة .</li> <li>• الاسلاك النحاسية .</li> <li>• الإطارات .</li> <li>• المحولات الكهربائية .</li> <li>• مواسير الألومنيوم .</li> </ul>	<ul style="list-style-type: none"> <li>- السلع الغذائية واهمها :-</li> <li>الحبوب الزيتية .</li> </ul>

## ألمانيا الاتحادية

## السؤال الأول : اختر الإجابة الصحيحة مما بين الأقواس

- ١- تقع ألمانيا في ..... قارة أوروبا .
- ٢- يحد دولة ألمانيا دولة واحدة من جهة .....
- ٣- تنتشر المستنقعات في شمال ألمانيا قرب .....
- ٤- المظهر التضاريسي الغالب على دولة ألمانيا الاتحادية هو الطابع .....
- ٥- تصب معظم الأنهار بدولة ألمانيا في .....
- ٦- تعد ..... مناطق جذب للسياح في ألمانيا .
- ٧- تفصل جبال الألب بين ألمانيا .....
- ٨- ترتب على الموقع الفلكي لدولة ألمانيا .....
- ٩- من الصناعات الألمانية التي تتميز بالجودة والتنوع .....
- ١٠- عاصمة إقليم بافاريا جنوبا ويوجد بها مقر عدد من الشركات والمصانع .....

## السؤال الثاني : أكمل العبارات التالية بكلمات مناسبة

- ١- تقع دولة ألمانيا غرب قارة أوروبا .
- ٢- تجرى في السهل الأوربي العظيم عدة انهار منها نهر إلب ونهر الراين .
- ٣- في فصل الصيف يكون المناخ معتدلاً مع ارتفاع الحرارة كلما اتجهنا شرقاً في ألمانيا .
- ٤- تغطي الغابات ثلث مساحة ألمانيا وتسود في مناطق الجبال والهضاب .
- ٥- من أهم الغابات في ألمانيا غابات النفضية و المخروطية .
- ٦- يبلغ عدد سكان ألمانيا ٨١ مليون نسمة ويتركزون في المدن الكبرى والمناطق الصناعية .
- ٧- من أهم المحاصيل الزراعية في ألمانيا القمح و الشعير و بنجر السكر .
- ٨- تتميز الصناعات الألمانية بالجودة والتنوع وأهمها الحديد والصلب و السيارات .
- ٩- مدينة برلين هي العاصمة السياسية بينما مدينة ميونخ عاصمة إقليم بافاريا جنوباً .
- ١٠- تصدر مصر الى ألمانيا البترول بينما تستورد مصر من ألمانيا الآلات .

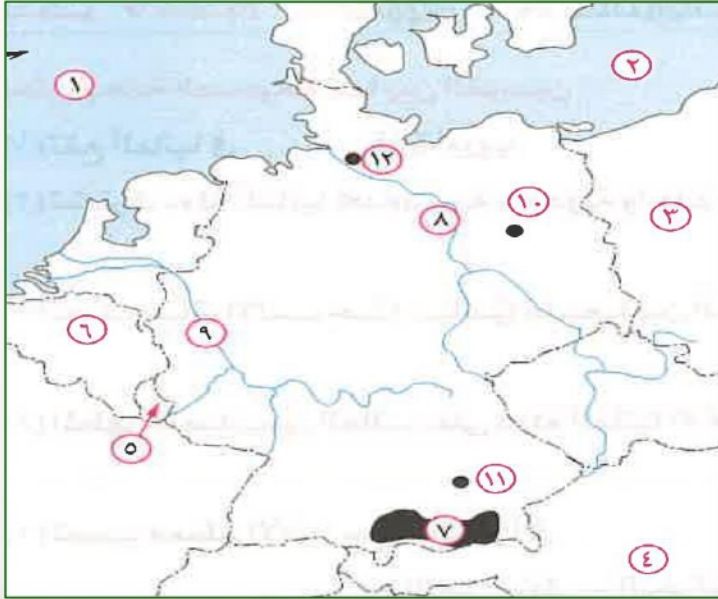
## السؤال الثالث : اكتب كلمة (صواب) امام العبارة الصحيحة وكلمة (خطأ) امام العبارة غير الصحيحة

- ١- تعد المرتفعات الوسطى في ألمانيا مناطق جذب للسياح . ( صواب )
- ٢- يسود ألمانيا مناخ غرب أوروبا الممطر طوال العام خاصة في الشمال . ( صواب )
- ٣- يتميز الصيف في ألمانيا بالاعتدال وتزداد الحرارة بالاتجاه نحو الغرب . ( خطأ )
- ٤- تعد ألمانيا من أكبر الدول الأوروبية سكاناً . ( صواب )
- ٥- تربي الماشية والخنازير والأغنام في ألمانيا بمناطق الحشائش وفي الحظائر بأساليب علمية ( صواب )



- ٦- يعمل بالصناعة في ألمانيا ثلث القوى العاملة .
- ٧- تزدهر الصناعة في ألمانيا لتدفق الاستثمارات وتوافر المراكز العلمية المتقدمة .
- ٨- تعد مدينة برلين أهم موانئ ألمانيا ، بينما تعد هامبورج عاصمتها .
- ٩- تقع مدينة ميونخ عاصمة إقليم بافاريا غرب ألمانيا .
- ١٠- تستورد مصر من ألمانيا الصناعات الكيماوية والآلات والسيارات .

## السؤال الرابع : امامك خريطة صماء لدولة المانيا اكتب مدلول الارقام عليها



- ١- بحر الشمال .
- ٢- البحر البلطى .
- ٣- دولة بولندا .
- ٤- دولة النمسا .
- ٥- دولة لوكسمبورج .
- ٦- دولة بلجيكا .
- ٧- جبال الألب .
- ٨- نهر فيرز .
- ٩- نهر الراين .
- ١٠- مدينة برلين .
- ١١- مدينة ميونخ .
- ١٢- مدينة هامبورج .

## السؤال الخامس : صوب ما تحته خط

- ١- تقع ألمانيا في قارة آسيا ويحدها من الشمال دولة الدنمارك وبحر قزوين .
- ٢- يحد ألمانيا من الجنوب دولتا بولندا والتشيك .
- ٣- من أهم الأنهار التي تجرى في ألمانيا نهر السين .
- ٤- تنتشر المستنقعات في ألمانيا جهة الشرق .
- ٥- تغطي الغابات ثلث مساحة ألمانيا وأهمها الغابات الاستوائية والمدارية .

اوربا - الشمال  
النمسا وسويسرا  
نهر الراين  
جهة الشمال  
النفضية والمخروطية

## السؤال السادس : اكتب ما تشير اليه العبارات الآتية

- ١- من أكبر الأقاليم التضاريسية بألمانيا وهو جزء من السهل الأوروبي العظيم .
- ٢- جبال في ألمانيا يكسوها الجليد ويوجد بها أعلى القمم الجبلية .
- ٣- من أهم الموانئ القريبة من بحر الشمال .
- ٤- مدينة تعد عاصمة لإقليم بافاريا ويوجد بها عدد من الشركات والمصانع الألمانية .
- ٥- فصل مناخي تنخفض فيه الحرارة الى ما دون الصفر المنوي في ألمانيا .

السهل الالمانى الشمالى  
جبال الالب  
هامبورج  
ميونخ  
فصل الشتاء

## السؤال السابع : أجب عن الاسئلة التالية - بم تفسر :-

- ١- جذب المرتفعات الوسطى للسياح في ألمانيا .
- ٢- لان المرتفعات الوسطى تغطيها الغابات المخروطية وتكثر بها التلال والينابيع .
- ٣- انكماش مساحة الحشائش بالسهل الساحلى في ألمانيا .
- ٤- بسبب إحلال الزراعة محلها والتوسع العمرانى .



- ٣- تطور الصناعة الألمانية بعد الحرب العالمية الثانية .  
بسبب توافر مقومات الصناعة وتدفق الاستثمارات وتوافر المراكز العلمية المتقدمة .
- ٤- تعد مدينة ميونخ أحد أهم المدن بدولة ألمانيا .  
حيث انها عاصمة إقليم بافاريا جنوباً ويوجد بها مقر عدد من الشركات والمصانع الألمانية العالمية .

## - ما النتائج المترتبة على :-

- ١- كثرة التلال والينابيع المائية بالمرتفعات الوسطى بألمانيا . أصبحت مناطق جذب سياحى .
- ٢- وقوع ألمانيا في نطاق مناخ غرب أوروبا .  
أصبح فصل الصيف معتدلاً مع ارتفاع الحرارة كلنا نحو الشرق وفصل الشتاء تنخفض فيه الحرارة الى ما دون الصفر المئوى خاصة في الداخل .
- ٣- استخدام ألمانيا التكنولوجيا والأساليب العلمية الحديثة في الأنشطة الاقتصادية .  
أصبحت ألمانيا من الدول الاقتصادية الأولى في العالم وأكثرها تقدماً .

## - دال على صحة كل عبارة من العبارات الآتية :-

- ١- يربط مصر بألمانيا علاقات ثقافية وعلمية .  
تتمثل هذه العلاقات في :-  
\* هيئة التبادل العلمى الألمانية .  
\* الجامعة الألمانية بالقاهرة .  
\* المركز الثقافى الالمانى .  
\* معهد الاثار الالمانى .
- ٢- وجود علاقات اقتصادية بين مصر وألمانيا .  
تتمثل العلاقات الاقتصادية في :-  
\* تمويل ألمانيا لمحطات توليد الكهرباء من الرياح في مصر .  
\* تصدير واستيراد المنتجات بين البلدين حيث :-

تصدر مصر الى ألمانيا	تستورد مصر من ألمانيا
<ul style="list-style-type: none"> <li>• البترول .</li> <li>• الغاز الطبيعى .</li> <li>• الملابس .</li> </ul>	<ul style="list-style-type: none"> <li>- الصناعات الكيماوية .</li> <li>- الآلات .</li> <li>- السيارات .</li> </ul>



## الولايات المتحدة الامريكية

### السؤال الاول : اختر الاجابة الصحيحة مما بين الاقواس

- ١- يحد الولايات المتحدة الأمريكية من الجنوب .....  
( المحيط الأطلنطى - المحيط الهادى - خليج المكسيك - دولة كندا )
- ٢- يحد الولايات المتحدة الأمريكية غربا ..... ( كندا - المحيط الأطلنطى - المحيط الهادى - المكسيك )
- ٣- تقترب الحدود الجنوبية للولايات المتحدة الأمريكية من .....  
( مدار الجدى - مدار السرطان - دائرة الاستواء - الدائرة القطبية الشمالية )
- ٤- تعد سلاسل جبال ..... أعلى جبال نطاق المرتفعات والأحواض الجبلية الغربية بالولايات المتحدة الأمريكية .  
( كسكيد - الأبلاش - روكى - سيرانيفادا )
- ٥- تحتل الولايات المتحدة الأمريكية مركز الصدارة عالميا في إنتاج .....  
( البترول - الفحم - الغاز الطبيعى - الحديد )
- ٦- تقع ولاية ..... في أقصى الشمال الغربى لقارة أمريكا الشمالية .  
( ألاسكا - هاواى - كاليفورنيا - لوس انجلوس )
- ٧- يفصل الولايات المتحدة الأمريكية عن ولاية ألاسكا .....  
( دولة كندا - المحيط الأطلنطى - دولة المكسيك - المحيط الهادى )
- ٨- الولايتان الخاضعتان للولايات المتحدة الأمريكية وتقعان خارج موقعها الفلكى تشرفان على .....  
( خليج المكسيك - المحيط الأطلنطى - المحيط الهادى - المحيط القطبى الشمالى )
- ٩- يرجع العامل الرئيسى لتركز السكان فى شمال شرق الولايات المتحدة الأمريكية إلى .....  
( تنوع المناخ - وجود المدن الكبرى - التربة الخصبة - وجود الأنهار )
- ١٠- تعتبر شيكاغو أكبر مدن السهول الوسطى بالولايات المتحدة الأمريكية وتقع على بحيرة .....  
( إيري - أنتاريو - متشجن - هورن )

### السؤال الثانى : أكمل العبارات التالية بكلمات مناسبة

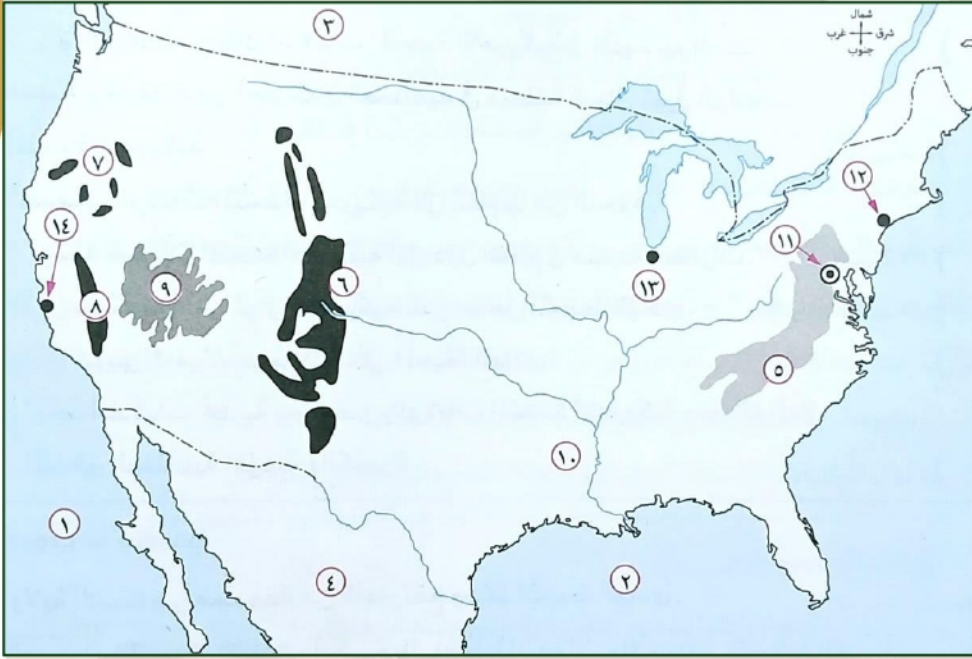
- ١- يحد دولة الولايات المتحدة الامريكية من جهة الغرب المحيط الهادى .
- ٢- يطلق على المرتفعات الشرقية للولايات المتحدة الامريكية اسم جبال الابلاش .
- ٣- يمتد في النطاق الغربى للولايات المتحدة جبال روكى وهضبة كلورادو .
- ٤- تقل الامطار في الاحواض الجنوبية حيث صحراء أريزونا الحارة الجافة بالولايات المتحدة .
- ٥- تنتشر غابات الاقليم الصينى بالولايات المتحدة الامريكية .
- ٦- يعيش حوالي ثلثي السكان في المدن و الثلث في الريف بالولايات المتحدة .
- ٧- يقل السكان بولاية ألاسكا بسبب برودة الجو .
- ٨- تعد الولايات المتحدة الامريكية القوة الاقتصادية الأولى في العالم .
- ٩- من المدن الصناعية الجنوبية بالولايات المتحدة برمنجهام .
- ١٠- تعتبر مدينة واشنطن هي العاصمة السياسية للولايات المتحدة الامريكية .

### السؤال الثالث : اكتب كلمة (صواب) امام العبارة الصحيحة وكلمة (خطأ) امام العبارة غير الصحيحة

- ١- تقع جميع اراضى الولايات المتحدة الأمريكية بين دائرتي عرض ٢٥ ، ٥٤٩ شمالا . (خطأ)
- ٢- تقع ولاية جزر هاواى فى أقصى الشمال الغربى لقارة أمريكا الشمالية . (خطأ)
- ٣- يطلق على المرتفعات الشرقية جبال روكى . (خطأ)

- ٤- تقع هضبة كلورادو في نطاق المرتفعات الشرقية للولايات المتحدة الأمريكية . (خطأ)
- ٥- تتسم المرتفعات الشمالية الغربية في الولايات المتحدة الأمريكية بندرة الأمطار والحرارة المنخفضة . (خطأ)
- ٦- يتركز نصف سكان الولايات المتحدة الأمريكية في إقليم نيو انجلند. (صواب)
- ٧- مدينة برمنجهام من أهم المدن الصناعية في منطقة شمال شرق الولايات المتحدة الأمريكية (خطأ)
- ٨- تستهلك الولايات المتحدة الأمريكية كل إنتاجها من اللحوم وتصدر جزء للخارج . (صواب)
- ٩- تعد الولايات المتحدة الأمريكية أولى دول العالم في صناعة الطائرات . (صواب)
- ١٠- شيكاغو أكبر الموانئ الأمريكية على ساحل المحيط الهادى . (خطأ)

السؤال الرابع : امامك خريطة صماء لدولة نيجيريا اكتب مدلول الارقام عليها



- ١- المحيط الهادى .
- ٢- خليج المكسيك .
- ٣- دولة كندا .
- ٤- دولة المكسيك .
- ٥- جبال الابلاش .
- ٦- جبال روكى .
- ٧- جبال كسكيد .
- ٨- جبال سيرانيفادا .
- ٩- هضبة كلورادو .
- ١٠- نهر المسيسيبي .
- ١١- العاصمة واشنطن .
- ١٢- مدينة نيويورك .
- ١٣- مدينة شيكاغو .
- ١٤- مدينة سان فرانسيسكو .

السؤال الخامس : صوب ما تحته خط

- ١- ولاية الاسكا هي مجموعة من الجزر تقع وسط المحيط الهادى .
- ٢- تعد سلاسل جبال الأبلاش أعلى جبال نطاق المرتفعات والأحواض الجبلية الغربية بالولايات المتحدة الأمريكية .
- ٣- توجد بالولايات المتحدة الأمريكية أراض زراعية خصبة واسعة حيث سهول نهر سانت لورانس في الوسط .
- ٤- مدينة نيويورك من المناطق الصناعية الرئيسية بالولايات المتحدة الأمريكية في منطقة الغرب الساحلي .
- ٥- يوجد مقر الأمم المتحدة في مدينة واشنطن .

السؤال السادس : اكتب ما تشير اليه العبارات الآتية

- ١- سهول تمتد بالولايات المتحدة الأمريكية من إقليم البحيرات العظمى شمالا حتى خليج المكسيك جنوبا .  
السهول الوسطى
- ٢- إقليم يكتظ بالسكان في الشمال الشرق للولايات المتحدة الأمريكية ويمثل ١٢ ٪ من المساحة الكلية للدولة .  
إقليم انجلند
- ٣- أولى الدول الصناعية السبع وتعتبر القوة الاقتصادية الأولى في العالم .  
الولايات المتحدة الأمريكية



٤- من أهم الصناعات في الولايات المتحدة الأمريكية وتنتج منها نحو ثلث الإنتاج العالمي .  
الصناعات الالكترونية والكهربائية

**السؤال السابع : أجب عن الاسئلة التالية - بم تفسر :-**

- ١- تنوع المناخ بالولايات المتحدة الأمريكية .  
بسبب اتساع مساحة الولايات المتحدة الأمريكية وتنوع تضاريسها .
- ٢- تعد الولايات المتحدة الأمريكية القوة الاقتصادية الأولى فى العالم .  
لانها تتمتع بموارد طبيعية وفيرة ومتنوعة مما يؤدي الى تعدد الأنشطة الاقتصادية وضخامة انتاجها .
- ٣- تركز نحو ٥٠% من سكان الولايات المتحدة الأمريكية فى إقليم نيو إنجلند .  
بسبب وجود المدن الكبرى مثل نيويورك . ووجود المناطق الصناعية والتجارية الكبرى .
- ٤- ارتفاع الكثافة السكانية فى كثير من المناطق الغربية بالولايات المتحدة الأمريكية .  
بسبب وجود المناطق الصناعية والمدن الكبرى مثل سان فرانسيسكو ولو أنجلوس ووجود المناطق الزراعية .
- ٥- وجود ثروة سمكية كبيرة بالولايات المتحدة الأمريكية .  
بسبب وقوعها على محيطين كبيرين هما الاطلنطى والهادى ووجود الأنهار والبحيرات .

**- ما النتائج المترتبة على :-**

- ١- اتساع مساحة الولايات المتحدة الأمريكية وتنوع تضاريسها .  
أدى الى تنوع المناخ وبالتالي تنوع النبات الطبيعي .
- ٢- وفرة الموارد الطبيعية وتنوعها بالولايات المتحدة الأمريكية .  
أدى الى تعدد الأنشطة الاقتصادية وضخامة انتاجها .

**- دلل على صحة كل عبارة من العبارات الاتية :-**

- ١- يتنوع المناخ فى الولايات المتحدة الأمريكية . حيث ان :-  
\* الساحل الجنوبى الشرقى ودلتا نهر المسيسيبي : يسودها المناخ شبه المدارى الحار مع أمطار غزيرة طوال العام والذى يتأثر بالاعاصير المدارية المدمرة .  
\* السهول الوسطى : تختلف خصائصها المناخية من منطقة لآخرى نظراً لاتساعها وامتدادها من الشمال للجنوب .  
\* الإقليم الجبلى والهضبي فى الغرب :  
(١) تقل الامطار على الاحواض الجنوبية حيث صحراء اريزونا الحارة الجافة .  
(٢) تسقط الامطار الغزيرة وتنخفض الحرارة على المرتفعات الشمالية الغربية .
- ٢- توجد بالولايات المتحدة الأمريكية ثروة حيوانية ضخمة .  
حيث تربي الولايات المتحدة الامريكية أعداد كبيرة من الابقار والاعنام والخنازير لانتاج اللحوم التي يصدر جزء منها الى الخارج بالإضافة الى انتاج الالبان والجلود .
- ٣- ضخامة الإنتاج وتنوع الصناعات فى الولايات المتحدة الأمريكية .  
حيث توافرت فى الولايات المتحدة الامريكية كل مقومات الصناعة بها واسهامها بحصص مرتفعة من الإنتاج العالمى فى عدة صناعات منها :-  
- صناعة السيارات . - صناعة الصلب . - صناعة الألومنيوم .  
- صناعة الطائرات وسفن الفضاء والاقمار الصناعية . - الصناعات الالكترونية والكهربائية .



٤- تتعدد المناطق الصناعية الرئيسية بالولايات المتحدة الأمريكية .

حيث توجد بها المناطق الصناعية الرئيسية ومنها :-

\* منطقة الشمال الشرقى : تضم نطاق المدن الصناعية الكبرى ومنها منطقة البحيرات العظمى .

\* منطقة الجنوب : تشمل مدن صناعية من أهمها برمنجهام .

\* منطقة الغرب الساحلى : تضم مدن صناعية من أهمها سان فرانسيسكو .

٥- ترتبط مصر مع الولايات المتحدة الأمريكية بعلاقات قوية في مختلف المجالات .

حيث توجد اتفاقيات بين البلدين في اطار التعاون الاقتصادى والتكنولوجى والثقافى والعلمى .

- توجد اتفاقيات تجارية بين البلدين :-

(١) اتفاقية منطقة التجارة الحرة .

(٢) اتفاقية المناطق الصناعية المؤهلة "الكويز" .

- تستورد مصر من الولايات المتحدة الامريكية منتجات تكنولوجية حديثة واسلحة وطائرات وغيرها .



## أقوى مراجعة على الوحدة الثالثة

### السؤال الاول : اختر الاجابة الصحيحة مما بين الاقواس

- ١- يرى بعض المؤرخين أن ثورة ٢٣ يوليو ١٩٥٢م تكتسب أهمية فى المنطقة العربية لعدة أسباب منها ارتباطها بـ ..... ( الحركات التحررية فى الجزائر - استقلال كينيا - القضاء على الإقطاع - توقيع اتفاقية الجلاء )
- ٢- العامل المشترك بين سوء الأوضاع الاجتماعية فى مصر قبل ثورة ٢٣ يوليو ١٩٥٢م واختفاء الحياة الديمقراطية السليمة هو .....
- ٣- سيطر ..... على جميع قطاعات الجيش المصرى بعد إذاعة البيان الأول لثورة ٢٣ يوليو ١٩٥٢ .
- ٤- يعتبر أول إنجاز قامت به ثورة ٢٣ يوليو ١٩٥٢م .....
- ٥- من إنجازات ثورة ٢٣ يوليو ١٩٥٢م السياسية .....
- ٦- من إنجازات ثورة ٢٣ يوليو ١٩٥٢م فى المجال الاقتصادي إنشاء السد العالى الذى ساهم فى .....
- ٧- يعتبر منح المرأة حق الترشح والانتخاب فى مجلس الأمة عام ١٩٥٦م من إنجازات ثورة ٢٣ يوليو ١٩٥٢م فى المجال .....
- ٨- شارك مصر فى تشكيل حركة عدم الانحياز كل من إندونيسيا ويوغوسلافيا (سابقا) و .....
- ٩- خرجت قرارات فرض الانتداب البريطانى على فلسطين عام ١٩٢٠م من دولة .....
- ١٠- وافقت هيئة الأمم المتحدة عام ١٩٤٧م على .....
- ١١- امتنعت ..... عن التصويت على مشروع تقسيم فلسطين عام ١٩٤٧م .
- ١٢- خضع قطاع غزة للإشراف المصرى بعد حرب .....
- ١٣- ترتب على حرب فلسطين ١٩٤٨م استيلاء إسرائيل على .....
- ١٤- بعد فشل العدوان الثلاثى على مصر انسحبت إسرائيل عام ١٩٥٧م من .....
- ١٥- استولت إسرائيل على هضبة الجولان عقب .....
- ١٦- كانت تجربة الوحدة بين مصر وسوريا من نتائج .....
- ١٧- إحكامًا للحصار الاقتصادي العربى على إسرائيل عام ١٩٦٧م قامت مصر بإغلاق .....
- ١٨- صدر قرار مجلس الأمن رقم ٢٤٢ بعد .....
- ١٩- نجحت القوات المصرية فى هزيمة القوات الإسرائيلية فى معركة رأس العش عندما حاولت احتلال مدينة .....
- ٢٠- كانت مصر خلال حرب الاستنزاف تقوم بالقصف المستمر لـ ..... بالمدمفة .

- ٢١- استعدت مصر لخوض حرب أكتوبر ١٩٧٣م على الصعيد العربي من خلال .....  
( عقد صفقة الأسلحة الشريفة - توقيع المعاهدات الاقتصادية - تصفية الخلافات - عقد اتفاقية الدفاع المشترك )
- ٢٢- بدأت شرارة حرب أكتوبر ١٩٧٣م وعملياتها العسكرية بسلاح .....  
( المدفعية - الطيران - البحرية - الدفاع الجوي )
- ٢٣- إصدار وزراء النفط العربي في اجتماعهم في الكويت عقب اندلاع حرب أكتوبر ١٩٧٣م قرارًا بخفض إنتاج البترول يعد دعمًا ..... لمصر وسوريا .  
( ماليًا - سياسيًا - عسكريًا - معنويًا )
- ٢٤- من دول الجناح العربي الآسيوي التي قدمت دعمًا عسكريًا وماليًا لمصر وسوريا خلال حرب أكتوبر ١٩٧٣م .....  
( الكويت - الإمارات - السعودية - الأردن )
- ٢٥- أقامت ..... جسرًا جويًا لتقديم المساعدات العسكرية في حرب أكتوبر ١٩٧٣م لإنقاذ إسرائيل من الهزيمة  
( فرنسا - الولايات المتحدة الأمريكية - الاتحاد السوفيتي - الصين )
- ٢٦- تقديم الولايات المتحدة الأمريكية معلومات عسكرية لإسرائيل ساعدها في إحداث ثغرة .....  
( العريش - سيناء - طابا - الدفرسوار )
- ٢٧- حصل ..... على وسام نجمة سيناء الذي يعد أعلى الأوسمة العسكرية .  
( محمد عبد الغنى الجمسى - سعد الدين الشاذلى - أحمد إسماعيل - عبد المنعم رياض )
- ٢٨- اختار الرئيس السادات ..... رئيسًا لأركان حرب القوات المسلحة عام ١٩٧١م .  
( محمد عبد الغنى الجمسى - سعد الدين الشاذلى - أحمد إسماعيل - عبد المنعم رياض )
- ٢٩- كانت معاهدة السلام بين مصر وإسرائيل عام ١٩٧٩م برعاية .....  
( أوروبية - روسية - أمريكية - عربية )
- ٣٠- حدثت مفاوضات سرية بين إسرائيل ومنظمة التحرير الفلسطينية أسفرت عن عقد ..... سبتمبر ١٩٩٣م .  
( معاهدة السلام - مؤتمر مدريد - مؤتمر كامب ديفيد - اتفاقية أوسلو )
- ٣١- استطاعت مصر استرداد معظم سيناء عن طريق .....  
( المعاهدات الرسمية - القوة العسكرية - المبادرات السلمية - التحكيم الدولي )
- ٣٢- تعددت الأسباب التي أدت إلى انفجار ثورة ٢٥ يناير ٢٠١١م ومنها .....  
( خلو مجلس الشعب ٢٠١٠م من أى معارضة - إدخال تعديلات على قانون الطوارئ - إلغاء الدستور والانفراد بالحكم - تجريم أى معارضة فكرية )
- ٣٣- كانت أولى قرارات نظام مبارك لامتناس غضب الجماهير في ثورة ٢٥ يناير ٢٠١١م .....  
( تشكيل حكومة جديدة - الاستعانة بالقوات المسلحة - تعيين نائب للرئيس - تخليه عن الرئاسة )
- ٣٤- رفض الرئيس الأسبق ..... الموافقة على إجراء انتخابات رئاسية مبكرة عام ٢٠١٣م .  
( عدلى منصور - محمد مرسى - مبارك - السادات )

## السؤال الثانى : أكمل العبارات التالية بكلمات مناسبة

- ١- حاصر الإنجليز الملك فاروق في فبراير ١٩٤٢م قصر عابدين لإجباره على تعيين **مصطفى النحاس** رئيسًا للحكومة .
- ٢- أذاع **محمد أنور السادات** البيان الأول لثورة ٢٣ يوليو ١٩٥٢م من دار الإذاعة المصرية .
- ٣- تنازل الملك فاروق عن العرش لابنه **أحمد فؤاد الثانى** وغادر البلاد مساء ٢٦ يوليو ١٩٥٢م .
- ٤- ساهمت ثورة ٢٣ يوليو ١٩٥٣م على المستوى العربي في تحقيق استقلال كل من **العراق** و **اليمن** و **الكويت** .
- ٥- عقد مؤتمر **باندونج** بإندونيسيا في عام ١٩٥٥م .
- ٦- عقدت حكومة ثورة ٢٣ يوليو ١٩٥٢م اتفاقية مع **الاتحاد السوفيتى** لتزويد مصر بالأسلحة .
- ٧- قام الشعب الفلسطينى بثورة ١٩٣٦م بقيادة **اللجنة العربية** .
- ٨- سعت بريطانيا لتأييد فكرة إنشاء وطن قومي لليهود في فلسطين فأصدرت **وعد بلفور** .
- ٩- نص مشروع تقسيم فلسطين ١٩٤٧م على تدويل منطقة **القدس** .
- ١٠- أعلنت مصر عام ١٩٦٧م وقوفها إلى جانب سوريا تطبيقًا لاتفاقية **الدفاع المشترك** .
- ١١- تمكنت البحرية المصرية من تدمير المدمرة الإسرائيلية **إيلات** في أكتوبر ١٩٦٧م .

السؤال الثاني : اكتب كلمة (صواب) امام العبارة الصحيحة وكلمة (خطأ) امام العبارة غير الصحيحة

- ١- عدم وجود حياة ديمقراطية سليمة من عوامل قيام ثورة ٢٣ يوليو ١٩٥٢ م. (صواب)
- ٢- أدى توقيع مصر معاهدة ١٩٣٦م إلى جعل مصر ميدانا لمعارك الحرب العالمية الأولى. (خطأ)
- ٣- وافق الملك فاروق على مغادرة البلاد قبل الموعد المحدد له من قيادة ثورة ٢٣ يوليو ١٩٥٢م (صواب)
- ٤- ألغت ثورة ٢٣ يوليو ١٩٥٢م دستور ١٩٢٣م كما حلت الأحزاب السياسية آنذاك. (صواب)
- ٥- غيرت ثورة ٢٣ يوليو ١٩٥٢م نظام الحكم في مصر. (صواب)
- ٦- تم توقيع اتفاقية جلاء القوات البريطانية عن مصر عام ١٩٥٤م. (صواب)
- ٧- مجانية التعليم من الإنجازات الاقتصادية لثورة ٢٣ يوليو ١٩٥٢م. (خطأ)
- ٨- ساندت مصر بعض الدول الأفريقية في نيل استقلالها مثل اليمن بعد ثورة ١٩٥٢م. (خطأ)
- ٩- كسرت مصر احتكار السلاح العالمي بعقد صفقة الأسلحة الشرقية. (صواب)
- ١٠- عُقد مؤتمر باندونج باندونيسيا عام ١٩٥٥م. (صواب)
- ١١- تعرضت فلسطين لمؤامرة من دول الحلفاء بعد انتهاء الحرب العالمية الأولى. (صواب)
- ١٢- وافقت عصبة الأمم على قرار تقسيم فلسطين عام ١٩٤٧م. (خطأ)
- ١٣- اعلن اليهود قيام دولة إسرائيل في ١٥ مايو ١٩٤٨م. (صواب)
- ١٤- كانت مساندة مصر لحركات التحرر الوطني في الجزائر من أسباب العدوان الثلاثي على مصر ١٩٥٦م (صواب)
- ١٥- اعلنت مصر وقوفها بجانب سوريا بعد التهديدات الإسرائيلية لها عام ١٩٦٧م. (صواب)
- ١٦- استولت إسرائيل على فلسطين كلها إلى جانب سيناء وهضبة الجولان في حرب يونيو ١٩٦٧م (صواب)
- ١٧- قبلت مصر قرار مجلس الأمن رقم ٢٤٢ وامتنعت إسرائيل عن تنفيذه. (صواب)
- ١٨- نجحت مصر في بناء حائط الصواريخ على الضفة الشرقية لقناة السويس أثناء حرب الاستنزاف (خطأ)
- ١٩- يعتبر الفريق أول عبد المنعم رياض من شهداء حرب الاستنزاف. (صواب)
- ٢٠- أصدر الرئيس جمال عبد الناصر دستور مصر عام ١٩٧١م. (خطأ)
- ٢١- كان إصدار دستور عام ١٩٧١م إجراءً لتهيئة الجبهة الداخلية في مصر قبل حرب أكتوبر ١٩٧٣م. (صواب)
- ٢٢- أعطى الرئيس السادات إشارة بدء حرب أكتوبر ١٩٧٣م. (صواب)
- ٢٣- يُعرف خط الدفاع الإسرائيلي في هضبة الجولان باسم خط بارليف. (خطأ)
- ٢٤- ساهمت مشاركة الدول العربية أثناء حرب أكتوبر ١٩٧٣م في تحقيق النصر. (صواب)
- ٢٥- قرر وزراء النفط العربي أثناء حرب أكتوبر ١٩٧٣م حظر تصدير النفط إلى الولايات المتحدة الأمريكية لتقديمها مساعدات لإسرائيل. (صواب)
- ٢٦- أنهت حرب أكتوبر ١٩٧٣م حالة اللاحرب واللاسلام. (صواب)
- ٢٧- أنهت حرب أكتوبر ١٩٧٣م نظرية الأمن الإسرائيلية. (صواب)
- ٢٨- دعت مبادرة الرئيس السادات عام ١٩٧٧م إلى السلام العادل لكل شعوب المنطقة. (صواب)
- ٢٩- كانت معاهدة السلام بين مصر وإسرائيل بمشاركة ورعاية إسرائيلية. (خطأ)
- ٣٠- تحقق الانسحاب الإسرائيلي الكامل من سيناء في ٢٥ أبريل ١٩٨٢م. (خطأ)
- ٣١- الأرض مقابل السلام مبدأ دعا إليه مؤتمر كامب ديفيد عام ١٩٧٨م. (خطأ)
- ٣٢- عارضت مصر اتفاقية أوسلو ١٩٩٣م. (خطأ)
- ٣٣- يُعتبر من مزايا إنهاء الصراع العربي / الإسرائيلي دفع عجلة التنمية في الدول العربية. (صواب)
- ٣٤- ساهمت مواقع التواصل الاجتماعي في اندلاع ثورة ٢٥ يناير ٢٠١١م. (صواب)
- ٣٥- من الأسباب الاقتصادية لقيام ثورة ٢٥ يناير ٢٠١١م استمرار العمل بقانون الطوارئ. (خطأ)
- ٣٦- التطبيق السليم لسياسة الخصخصة أدى إلى ارتفاع الأسعار في المجتمع المصري قبل ثورة ٢٥ يناير ٢٠١١م. (خطأ)
- ٣٧- أثناء ثورة ٢٥ يناير ٢٠١١م شكل المجتمع المصري بكل فئاته ما عرف باللجان الشعبية لمواجهة أعمال السرقة والنهب. (صواب)
- ٣٨- قامت القوات المسلحة بحماية الممتلكات العامة والخاصة أثناء ثورة ٢٥ يناير ٢٠١١م. (صواب)
- ٣٩- كانت ثورة ٣٠ يونيو ٢٠١٣م خطوة مهمة لتحقيق التقدم والازدهار. (صواب)
- ٤٠- تولى رئاسة مصر بعد فوزه في انتخابات الرئاسة ٢٠١٤م الرئيس عبد الفتاح السيسي. (صواب)

## السؤال الثالث : صوب ما تحته خط في العبارات الآتية

- ١- أذيع البيان الأول لثورة ٢٣ يوليو ١٩٥٣م من الإذاعة المصرية باسم جمال عبد الناصر
- ٢- من إنجازات ثورة ٢٣ يوليو ١٩٥٢م في المجال الاقتصادي إلغاء الملكية وإعلان الجمهورية السياسية
- ٣- تحققت أول تجربة عربية للوحدة بين مصر واليمن عام ١٩٥٨م .
- ٤- اعطى مؤتمر باندونج ١٩٢٠م لبريطانيا حق الانتداب على فلسطين .
- ٥- ارتكب اليهود في فلسطين مذابح بشعة مثل مذبحه يافا .
- ٦- تعرف المرحلة الأولى من إعادة بناء القوات المسلحة عقب عدوان يونيه ١٩٦٧م بالحرب الإلكترونية .

الصمود والتحدى

أنور السادات

كامب ديفيد

محكمة العدل الدولية

٧- أعلن الرئيس جمال عبد الناصر عن مبادرة للسلام عام ١٩٧٧م .

٨- دعا الرئيس الأمريكى كارتر في سبتمبر ١٩٧٨م إلى عقد اجتماعات في مدريد .

٩- استعادت مصر طابا من إسرائيل عن طريق قرار مجلس الأمن .

## السؤال الرابع : اكتب ما تشير إليه كل عبارة من العبارات الآتية

- ١- تنظيم كونه بعض ضباط الجيش المصرى قبل ثورة عام ١٩٥٢م بهدف استقلال الوطن من الاحتلال البريطاني والقضاء على فساد الحكم .
- ٢- معاهدة جعلت مصر ميدانا المعارك الحرب العالمية الثانية واستنزفت مواردها .
- ٣- قانون أصدرته ثورة ٢٣ يوليو ١٩٥٢م لتحديد الملكية الزراعية في سبتمبر ١٩٥٢م .
- ٤- اتفاقية رحلت بموجبها قوات الاحتلال البريطاني عن مصر .
- ٥- عدم الانضمام إلى أى من الكتلتين الشرقية والغربية .
- ٦- تصريح أصدرته بريطانيا بإنشاء وطن قومي لليهود في فلسطين عام ١٩١٧م .
- ٧- خط دفاعى منيع أقامته إسرائيل وحطمته القوات المصرية في حرب أكتوبر ١٩٧٣م .
- ٨- مؤتمر عُقد في الولايات المتحدة الأمريكية تم التوصل خلاله الإطار اتفاق للسلام بين مصر وإسرائيل عام ١٩٧٨م .
- ٩- مؤتمر شاركت فيه مصر يدعو إلى حل الصراع العربى / الإسرائيلي عام ١٩٩١م .
- ١٠- اتفاقية وقعت بواشنطن بين إسرائيل ومنظمة التحرير الفلسطينية عام ١٩٩٣م بعد محادثات سرية .

الضباط الاحرار

معاهدة ١٩٣٦م

الإصلاح الزراعى الاول

الجلء

عدم الانحياز

وعد بلفور

خط بارليف

مؤتمر عُقد في الولايات المتحدة الأمريكية تم التوصل خلاله الإطار اتفاق للسلام بين مصر وإسرائيل عام ١٩٧٨م .

كامب ديفيد

مدريد للسلام

اوسلو

الانفتاح الاقتصادى

قانون استمرار العمل به منذ تولى الرئيس مبارك الحكم في أكتوبر ١٩٨١م وكان أحد أسباب قيام ثورة ٢٥ يناير

قانون الطوارئ

جمال عبد الناصر

مصطفى النحاس

أنور السادات

محمد نجيب

بلفور وزير الخارجية

روجرز

عبد المنعم رياض

محمد حسنى مبارك

أحمد اسماعيل

## السؤال الخامس : إلى من تنسب الأعمال التاريخية الآتية

- ١- قام بتأسيس تنظيم الضباط الأحرار .
- ٢- تولى رئاسة الحكومة المصرية فى فبراير ١٩٤٢م .
- ٣- أذاع أول بيان لثورة ٢٣ يوليو ١٩٥٢م .
- ٤- أول رئيس لجمهورية مصر العربية بعد إلغاء الملكية وإعلان الجمهورية .
- ٥- أصدر تصريحاً تعهدت فيه بريطانيا بإنشاء وطن قومي لليهود في فلسطين .
- ٦- قدم مبادرة لوقف إطلاق النار بين مصر وإسرائيل أثناء حرب الاستنزاف بين مصر وإسرائيل .
- ٧- تولى منصب رئيس أركان حرب القوات المسلحة المصرية واستشهد في حرب الاستنزاف .
- ٨- قاد سلاح الطيران المصرى فى حرب أكتوبر ١٩٧٣م .
- ٩- قاد خطة الخداع لصرف أنظار إسرائيل عن الاستعدادات الهجومية لحرب أكتوبر ١٩٧٣م .

- ١٠- تولى القيادة العامة الموحدة للقوات المصرية السورية في حرب أكتوبر ١٩٧٣ م . **احمد اسماعيل**
- ١١- قام بتنفيذ خطة عبور القوات المصرية لقناة السويس وتحطيم خط بارليف في حرب أكتوبر ١٩٧٣ م . **الشاذلي**
- ١٢- شغل منصب رئيس هيئة عمليات القوات المسلحة عام ١٩٧٢ م . **محمد عبد الغنى الجيسى**
- ١٣- الرئيس الأمريكي الذي دعا مصر وإسرائيل لعقد مؤتمر كامب ديفيد للتوصل إلى إطار اتفاق للسلام . **كارتر**
- ١٤- عقد معاهدة السلام مع إسرائيل عام ١٩٧٩ م . **أنور السادات**
- ١٥- عادت في عهده مدينة طابا إلى السيادة المصرية بعد اللجوء إلى التحكيم الدولي . **حسنى مبارك**
- ١٦- تخلى عن رئاسة مصر في ١١ فبراير ٢٠١١ م وسلم إدارة شؤون البلاد للمجلس الأعلى للقوات المسلحة **مبارك**
- ١٧- تولى سلطة حكم مصر عام ٢٠١٣ م وكان رئيس المحكمة الدستورية العليا . **عدلى منصور**
- ١٨- تولى رئاسة مصر بعد فوزه في انتخابات الرئاسة عام ٢٠١٤ م . **عبدالفتاح السيسى**

## السؤال الخامس : أجب عن الاسئلة التالية

- بم تفسر :-

- ١- اكتسبت ثورة ٢٣ يوليو ١٩٥٢ أهمية كبيرة في المنطقة العربية والعالم . **بسبب ما تركته ثورة ٢٣ يوليو ١٩٥٢ م من آثار في الحركات التحررية بالمنطقة العربية - وعندما اسهم قادتها في تأسيس حركات إيجابية مثل حركة عدم الانحياز .**
- ٢- قيام بعض ضباط الجيش المصرى بتأسيس تنظيم خاص بهم قبل عام ١٩٥٢ م . **بهدف (١) القضاء على الفساد (٢) تحرير مصر من الاحتلال البريطاني .**
- ٣- قيام ثورة ٢٣ يوليو ١٩٥٢ م . **\* استمرار الاحتلال البريطاني لمصر . \* هزيمة الجيش المصرى في حرب فلسطين ١٩٤٨ م . \* فساد النظام الملكى . \* عدم وجود حياة ديمقراطية سليمة . \* تدهور الحياة الاقتصادية .**
- ٤- سقوط الادعاءات المزيفة باستقلال مصر عقب حادث فبراير ١٩٤٢ م . **حيث قامت قوات الاحتلال بمحاصرة قصر عابدين لاجبار الملك فاروق على تعيين مصطفى النحاس باشا رئيساً للحكومة**
- ٥- عجز الأحزاب السياسية قبل ثورة ١٩٥٢ م عن التعبير عن إدارة الشعب المصرى ومطالبه . **لخضوع مصر للاحتلال البريطانى . - لفساد النظام الملكى . - لفساد الأحزاب السياسية .**
- ٦- مغادرة الملك فاروق وأسرته لمصر قبل الموعد الذى حدده قادة ثورة ١٩٥٢ م . **لانه أدرك ان (١) الجيش والشعب يكرهان حكمه . (٢) تخلى الانجليز عنه .**
- ٧- صدور قانون الإصلاح الزراعى الأول فى سبتمبر ١٩٥٢ م . **بهدف القضاء على الاقطاع وذلك عن طريق تحديد ملكية الأرض الزراعية .**
- ٨- هزيمة الجيش المصرى والجيش العربى فى حرب فلسطين ١٩٤٨ م . **دعم الولايات المتحدة الامريكية وبريطانيا لإسرائيل . - عدم استعداد الجيش المصرى والعربى للحرب .**
- ٩- فلسطين لها أهمية خاصة فى قلب كل عربى . **لانها : (١) ولد بها السيد المسيح . (٢) اسرى اليها بسيدنا محمد "ص" . (٣) بها المسجد الأقصى .**
- ١٠- دخول الجيوش العربية حرب فلسطين عام ١٩٤٨ م . **لنصرة وإنقاذ الشعب الفلسطينى من بطش اليهود . - ومساعدته على إقامة حكومة وطنية .**
- ١١- فشل العدوان الثلاثى على مصر عام ١٩٥٦ م . **بسبب (١) المقاومة الباسلة من الجيش والشعب . (٢) وقوف الشعوب العربية الى جانب مصر . (٣) تهديد الاتحاد السوفيتى بالتدخل العسكرى . (٤) تنديد الأمم المتحدة بالعدوان .**
- ١٢- عدوان إسرائيل على مصر فى ٥ يونيه ١٩٦٧ م . **بسبب رغبة إسرائيل فى القضاء على مصر خاصة بعد فشل العدوان الثلاثى واستدراج مصر والدول العربية الى حرب غير مستعدة لها .**

- ١٣- تقديم الولايات المتحدة الأمريكية لمبادرة روجرز أثناء حرب الاستنزاف .  
 بهدف وقف اطلاق النار تمهيداً لحل النزاع سلمياً بين مصر وإسرائيل .  
 ١٤- إحداث ثغرة فى منطقة الدفرسوار أثناء حرب أكتوبر ١٩٧٣ م .  
 بسبب تقديم الولايات المتحدة الامريكية معلومات عسكرية لإسرائيل ساعدتها على احداث ثغرة الدفرسوار .  
 ١٥- مبادرة الرئيس السادات لزيارة إسرائيل عام ١٩٧٧ م .  
 لانهاء الصراع العربى الإسرائيلى سلمياً حيث نادى بالسلام العادل لكل شعوب المنطقة .  
 ١٦- تدهور الأوضاع الاجتماعية فى مصر قبل ثورة ٢٥ يناير ٢٠١١ م .  
 بسبب زيادة الفوارق الاجتماعية بين الطبقات وغياب العدالة الاجتماعية فى توزيع الثروات .  
 ١٧- الاستعانة بالقوات المسلحة خلال ثورة ٢٥ يناير ٢٠١١ م .  
 لحماية وتأمين الممتلكات العامة والخاصة - المحافظة على أمن المواطنين .  
 ١٨- يُعتبر يوم ١١ فبراير ٢٠١١ م يوماً تاريخياً فى حياة الشعب المصرى .  
 لانه اليوم الذى تخلى فيه الرئيس محمد حسنى مبارك عن الرئاسة وتسلم البلاد للمجلس الأعلى للقوات المسلحة .  
 ١٩- تدهور الأحوال الاقتصادية فى مصر قبل ثورة ٢٥ يناير ٢٠١١ م .  
 (١) اتباع سياسة الانفتاح الاقتصادى دون ضوابط علمية . (٢) التطبيق الغير سليم لسياسة الخصخصة .  
 ٢٠- قيام ثورة ٣٠ يونيه ٢٠١٣ م .  
 لان السياسات الجديدة للدولة فى عهد الرئيس محمد مرسى لم تحقق حلول للمشكلات التى عانى منها غالبية الشعب المصرى خاصة مع غياب العدالة الاجتماعية .

#### - ما النتائج المترتبة على :-

- ١- قيام ثورة ٢٣ يوليو ١٩٥٢م بالنسبة للمجال السياسى . أدى ذلك الى :-  
 (١) الغاء دستور ١٩٢٣م . (٢) حل الأحزاب السياسية . (٣) الغاء الملكية وإعلان الجمهورية .  
 (٤) توقيع اتفاقية الجلاء . (٥) تأميم شركة قناة السويس . (٦) رحيل القوات البريطانية عن مصر .  
 ٢- اتمام ثورة ٢٣ يوليو ١٩٥٢م بالمرأة المصرية . أدى ذلك الى منح المرأة حق الانتخاب والترشح لمجلس الأمة .  
 ٣- وقوع فلسطين تحت الانتداب البريطانى عام ١٩٢٠م .  
 - السماح بهجرة اعداد كبيرة من اليهود الى فلسطين . - السماح بانتقال ملكية الأرض من عرب فلسطين الى اليهود .  
 ٤- هزيمة العرب فى حرب فلسطين عام ١٩٤٨م .  
 استيلاء اليهود على جميع اراشى فلسطين ما عدا :- قطاع غزة - القدس الشريف - الضفة الغربية .  
 ٥- معركة رأس العش .  
 أدى الى نجاح القوات المسلحة المصرية فى هزيمة القوات الإسرائيلية عندما حاولت احتلال مدينة بورفؤاد .  
 ٦- عقد مؤتمر كامب ديفيد سبتمبر ١٩٧٨م . أدى الى التوصل الى اطار اتفاق للسلام بين مصر وإسرائيل .  
 ٧- قرار التحكيم الدولى الصادر فى سبتمبر ١٩٨٨م .  
 أدى الى اصدار محكمة العدل الدولية قرارها لصالح مصر وعادت طبا الى السيادة المصرية ١٩٨٩ م .  
 ٨- تطبيق سياسة الانفتاح الاقتصادى فى مصر دون ضوابط علمية قبل ثورة ٢٥ يناير ٢٠١١م .  
 أدى الى تدهور الأوضاع الاقتصادية لمصر وساهم فى قيام ثورة ٢٥ يناير ٢٠١١ م .  
 ٩- التطبيق غير السليم لسياسة الخصخصة فى مصر قبل ثورة ٢٥ يناير ٢٠١١م .  
 أدى الى - ارتفاع الأسعار . - تجمع الالاف من العمال وانضمامهم لصفوف البطالة فى وقفات احتجاجية .  
 ١٠- ثورة ٣٠ يونيه ٢٠١٣م . أدى الى : (١) عزل الرئيس محمد مرسى فى ٣ يوليو ٢٠١٣ وتسليم السلطة للمستشار عدلى منصور لحين اجراء انتخابات رئاسية مبكرة وتعديل دستور ٢٠١٢م . (٢) صدور دستور جديد فى يناير ٢٠١٤م .  
 وعقدت انتخابات للرئاسة وفاز بها الرئيس عبد الفتاح السيسى .

## - ماذا يحدث اذا :-

- ١- لم يتم تأميم شركة قناة السويس .
- ظلت إدارة وإرباح القناة لشركة اجنبية - لم تشارك إنجلترا في العدوان الثلاثي .
- ٢- لم تقم بريطانيا بإصدار تصريح بلفور ١٩١٧م . **لم يتم**
- السماح بهجرة اعداد كبيرة من اليهود الى فلسطين . - السماح بانتقال ملكية الأرض من عرب فلسطين الى اليهود .
- ٣- استجابت إسرائيل لقرار مجلس الأمن رقم ٢٤٢ . (١) لم تقم حرب ٦ أكتوبر ١٩٧٣ م
- (٢) انتهاء حالة الحرب بين إسرائيل والعرب . (٣) انسحاب إسرائيل من المناطق التي احتلتها في ١٩٦٧م .
- ٤- لم تستخدم الدول العربية البترول كسلاح في حرب أكتوبر ١٩٧٣م .
- لم يتم الضغط على الولايات المتحدة الامريكية المساندة لإسرائيل في حرب ٦ أكتوبر عام ١٩٧٣م .
- ٥- فشل مؤتمر كامب ديفيد في سبتمبر ١٩٧٨م . لم يتم التوصل الى اطار اتفاق للسلام بين مصر وإسرائيل .

## - ما العلاقة بين :-

- ١- حرب فلسطين، وثورة ٢٣ يوليو ١٩٥٢م .
- كانت هزيمة الجيش المصري في حرب فلسطين احد العوامل لقيام ثورة ٢٣ يوليو ١٩٥٢م .
- ٢- انتهاء الحرب العالمية الأولى، والوضع السياسي في فلسطين .
- أدى توقيع معاهدة ١٩٣٦م الى استنزاف موارد مصر لخدمة بريطانيا وترتب عليه :-
- (١) ارهاق الاقتصاد المصري . (٢) زيادة معاناة الشعب .
- ٣- حرب الاستنزاف، ومبادرة روجرز .
- قدم روجرز اثناء حرب الاستنزاف مبادرة لوقف اطلاق النار بين مصر وإسرائيل تمهيداً لحل النزاع سلمياً .
- ٤- النفط العربي، وحرب أكتوبر ١٩٧٣م . اصدر وزراء النفط العربي قراراً في اجتماعهم بالكويت نص على خفض انتاج البترول وحظر الصادرات الى الولايات المتحدة الامريكية التي تساند إسرائيل .
- ٥- سياسة الخصخصة، وثورة ٢٥ يناير ٢٠١١م .
- أدى التطبيق العير سليم لسياسة الخصخصة الى :-
- ارتفاع الأسعار . - تجمع الالاف من العمال وانضمامهم لصفوف البطالة في وقفات احتجاجية .

## - دلل تاريخياً على صحة العبارات التالية :-

- ١- اختلفت الكتابات والآراء حول ثورة ٢٣ يوليو ١٩٥٢م .
- يرى بعض المؤرخين** انها تكتسب أهمية كبيرة لاثارها على الحركات التحررية في المنطقة العربية بشكل خاص وفي العالم بشكل عام ولما اسهم قادتها من تأسيس لحركات دولية مثل عدم الانحياز والحياد الايجابي .
- والبعض يرى** انها لم تبدأ عندما تأسس تنظيم الضباط الاحرار او عندما سيطر قيادة الثورة على مقرات الإذاعة المصرية وانما هي مكملة للنضال الطويل منذ الثورة العربية وثورة ١٩١٩ م .
- ٢- سوء أحوال مصر الاقتصادية قبل ثورة ٢٣ يوليو ١٩٥٣م .
- أدت معاهدة ١٩٣٦م الى استنزاف موارد مصر لخدمة بريطانيا وترتب عليه :-
- (١) ارهاق الاقتصاد المصري . (٢) زيادة معاناة الشعب .
- ٣- كان للدول العربية دوراً بارزاً في حرب أكتوبر ١٩٧٣م .
- قدمت بعض الدول دعماً عسكرياً مثل العراق . - قدمت بعض الدول دعماً مالياً مثل السعودية .
- ٤- لعبت الولايات المتحدة الأمريكية دوراً مهماً في دعم إسرائيل في حرب أكتوبر .
- (١) اقامت جسراً جوياً لتقديم المساعدات العسكرية . (٢) قدمت معلومات عسكرية في احداث ثغرة الدفرسوار .
- ٥- كان للانتخابات البرلمانية التي أجريت عام ٢٠١٠م دور في قيام ثورة ٢٥ يناير ٢٠١١م . حيث تم تزوير انتخابات مجلسي الشعب والشيوخ وحصل الحزب الوطني على ٩٧% من المقاعد وخلو المجلس من المعارضة .



أقوى مراجعة على الوحدة الرابعة

السؤال الاول : اختر الاجابة الصحيحة مما بين الاقواس

- ١- صدر دستور ١٩٥٦م في عهد الرئيس .....  
( محمد نجيب - جمال عبد الناصر - أنور السادات - حسنى مبارك )
- ٢- رئيس الدولة هو رأس السلطة التنفيذية التي تضم الإدارة المحلية .....  
( مجلس النواب - الحكومة - القضاء - مجلس الشيوخ )
- ٣- يمثل حاليا السلطة القضائية في مصر .....  
( مجلس النواب - مجلس الوزراء - الإدارة المحلية - المحاكم )
- ٤- استطاعت المرأة المصرية الدفاع عن حقوقها ومكانتها في بداية القرن الـ ٢٠م عن طريق .....  
( الصحافة - التدريس - التظاهر - القضاء )
- ٥- تشكلت لجنة الوفد المركزية للسيدات عام ١٩٢٠م برئاسة .....  
( هدى شعراوي - جميلة حافظ - حكمت أبو زيد - عائشة راتب )
- ٦- شغلت منصب رئيس اللجنة التشريعية بمجلس الشعب في الفترة من ١٩٧١م إلى ١٩٨١م .....  
( هدى شعراوي - أمال عثمان - جميلة حافظ - عائشة راتب )
- ٧- تم توقيع ميثاق جامعة الدول العربية في مارس ١٩٤٥م من سبع دول منها .....  
( عُمان - المغرب - تونس - السعودية )
- ٨- يُعين الأمين العام لجامعة الدول العربية بموافقة .....  
( الأمانة العامة - اللجان الدائمة - مجلس الجامعة - مجلس الشعب )
- ٩- يُعد ..... أعلى سلطة داخل جامعة الدول العربية .  
( مجلس الجامعة - الأمانة العامة - اللجان الدائمة - مجلس الشعب )
- ١٠- من أمثلة المنظمات الإقليمية .....  
( الأمم المتحدة - عدم الانحياز - الاتحاد الأفريقي - الفاو )
- ١١- ساهمت مصر في تأسيس حركة عدم الانحياز في مؤتمر ..... عام ١٩٥٥م .  
( مدريد - سان ريمو - باناونج - كامب ديفيد )
- ١٢- تتبع منظمة اليونسكو أحد أجهزة الأمم المتحدة وهو .....  
( الجمعية العامة - مجلس الوصاية - محكمة العدل الدولية - المجلس الاقتصادي والاجتماعي )
- ١٣- يوجد مقر الأمانة العامة للأمم المتحدة بمدينة .....  
( نيويورك - روما - جنيف - لاهاى )
- ١٤- استضافت دولة ..... اول قمة افريقية على ارضها عام ١٩٦٤م .  
( السعودية - مصر - السودان - ليبيا )
- ١٥- عقد مؤتمر القمة الإسلامية في سبتمبر ١٩٦٩م بمدينة .....  
( القاهرة - الرياض - الرباط - بغداد )

السؤال الثاني : أكمل العبارات التالية بكلمات مناسبة

- ١- انشا محمد على مجلس **لمشورة** والمجلس **العالى**.
- ٢- انشا الخديو إسماعيل مجلس **شورى** النواب عام ١٨٦٦م .
- ٣- بموجب دستور ١٩٥٦م تم تشكيل مجلس **الامة** عام ١٩٥٧م .
- ٤- فى عهد الرئيس السادات صدر **الدستور الدائم** لمصر فى عام ١٩٧١م .
- ٥- أول دستور في مصر بعد ثورة ٢٣ يوليو ١٩٥٢م هو **دستور ١٩٥٦م**.
- ٦- أول مدرسة لتعليم البنات في مصر هي **السنية**.
- ٧- أول مجلة نسائية مصرية هي **الريحانة**.

- ٨- أول وزيرة للشئون الاجتماعية فى مصر تم تعيينها عام ١٩٦٢ م هي **حكمت أبو زيد**.
- ٩- فى عام ١٨٨٣ م تم انشاء مجلسين استشاريين **مجلس شورى النواب** و **الجمعية العمومية**.
- ١٠- **البرلمان** يطلق على المجالس النيابية التي تتولى السلطة التشريعية فى الدولة .
- ١١- تتمثل السلطة التشريعية فى مجلس النواب ومدته **خمس سنوات** .
- ١٢- شغلت الدكتورة **عائشة راتب** وزيرة الشئون الاجتماعية فى عهد الرئيس السادات .
- ١٣- **المنظمة الاقليمية** هي منظمة تجمع عدداً من الدول المستقلة التي ترتبط ببعضها بروابط معينة .
- ١٤- أقر ميثاق **القاهرة** الذى يعد اول وثيقة تخص الجامعة العربية بشكلها الحالي .
- ١٥- يقع مقر منظمة الأمم المتحدة فى مدينة **نيويورك** بالولايات المتحدة الامريكية .
- ١٦- تتكون الأمم المتحدة من ٦ أجهزة رئيسية منها **الجمعية العامة** و **الامانة العامة** .
- ١٧- انقذت منظمة اليونسكو معابد **ابو سمبل** فى مصر عام ١٩٦٤ م .
- ١٨- من اهداف منظمة الأغذية والزراعة القضاء على **الجوع** وتحسين **الإنتاج الزراعى** .
- ١٩- يتمثل الجهاز القضائى للأمم المتحدة فى **محكمة العدل الدولية** .
- ٢٠- تولت مصر رئاسة منظمة **الاتحاد الافريقى** للمرة الثالثة فى فبراير ٢٠١٩ م .

### السؤال الثاني : اكتب كلمة (صواب) امام العبارة الصحيحة وكلمة (خطأ) امام العبارة غير الصحيحة

- ١- أنشأ محمد على مجالس استشارية لاسلطة لها . ( صواب )
- ٢- ألغت ثورة ٢٣ يوليو ١٩٥٢ م دستور ١٩٢٣ م . ( صواب )
- ٣- قامت حكومة ثورة ٢٣ يوليو ١٩٥٢ م بحل الأحزاب السياسية القائمة آنذاك . ( صواب )
- ٤- صدر أول دستور لمصر عام ١٩٥٦ م بعد ثورة ٢٣ يوليو ١٩٥٢ م . ( صواب )
- ٥- نص دستور ١٩٥٦ م على أن السلطة التشريعية تكون فى يد مجلس منتخب هو مجلس الأمة ( صواب )
- ٦- يمثل مجلس النواب السلطة التنفيذية فى الدولة . ( خطأ )
- ٧- كان للمرأة المصرية دور واضح فى الصحافة منذ العقد الأول من القرن العشرين . ( صواب )
- ٨- حصلت المرأة المصرية على حق الانتخاب والترشح فى دستور ١٩٢٣ م . ( خطأ )
- ٩- كانت حكمت أبو زيد أول وزيرة للشئون الاجتماعية عام ١٩٦٢ م . ( صواب )
- ١٠- توفير مناخ يحقق الوحدة الوطنية أحد أنشطة منظمات المجتمع المدنى . ( صواب )
- ١١- جامعة الدول العربية منظمة دولية أنشئت عام ١٩٤٥ م . ( خطأ )
- ١٢- من أهداف إنشاء جامعة الدول العربية التعاون وحماية الأمن القومى العربى . ( صواب )
- ١٣- الاتحاد الأفريقى يُعد من المنظمات التي تربط بين شعوبها روابط مشتركة . ( صواب )
- ١٤- يعين الأمين العام لجامعة الدول العربية بموافقة مجلس الجامعة بأغلبية الثلثين ٥ سنوات ( صواب )
- ١٥- رأت مصر الاتحاد الأفريقى خمس مرات . ( خطأ )
- ١٦- مجلس الأمن هو المسنول عن النشاط الاقتصادى والاجتماعى للأمم المتحدة . ( خطأ )
- ١٧- سلطة مجلس الامن سلطة قانونية على حكومات الدول الأعضاء فى الأمم المتحدة . ( صواب )
- ١٨- ساهمت منظمة الأمم المتحدة للتربية والعلوم والثقافة (اليونسكو) فى إنقاذ معابد أبو سمبل عام ١٩٦٤ م . ( صواب )
- ١٩- أنشئت منظمة الصحة العالمية فى أبريل ١٩٤٨ م ومقرها روما بإيطاليا . ( خطأ )
- ٢٠- شاركت مصر بجنودها فى قوات حفظ السلام الدولية فى بلدان عديدة . ( صواب )

## السؤال الثالث : صوب ما تحته خط في العبارات الآتية

مدرسة السنية

- ١- استجاب الخديو إسماعيل الدعوة رفاعة الطهطاوى وأنشأ صحيفة نسائية .
- ٢- كان إقرار مشاركة المرأة في المجالات السياسية والاجتماعية والاقتصادية في مرحلة ما بعد ثورة ١٩١٩ م .

ثورة ٢٣ يوليو ١٩٥٢

التنفيذية

عائشة راتب

مصر

الرباط

نيويورك

اليونيسيف

اربع

مصر

- ٣- الإدارة المحلية في مصر ضمن عناصر السلطة التشريعية .
- ٤- عين الرئيس السادات حكمت أبو زيد وزيرة للشئون الاجتماعية عام ١٩٧١ م .
- ٥- عقدت أول قمة أفريقية عام ١٩٦٤ م في السودان .
- ٦- عقد مؤتمر القمة الإسلامي عام ١٩٦٩ م بمدينة الرياض .
- ٧- تعد مدينة جنيف مقر منظمة الأمم المتحدة .
- ٨- منظمة الأغذية والزراعة متخصصة في مجال حماية حقوق الأطفال ورفاهيتهم .
- ٩- تتمثل سلطات الحكم في مصر في خمس سلطات .
- ١٠- قامت العراق بدعوة كلاً من سوريا ولبنان حول إقامة جامعة عربية .

## السؤال الرابع : اكتب ما تشير إليه كل عبارة من العبارات الآتية

- ١- قيام الشعب بانتخاب ممثلين الإدارة شئون الحكم في البلاد وسن القوانين ومراقبة أعمال الحكومة نيابة عنه .

الحياة النيابية

- ٢- الوثيقة الرسمية التي تحدد نظام الحكم في الدولة وشكل واختصاصات المؤسسات المختلفة .

الدستور

البرلمان

الدستور الدائم

الرياحات

- ٣- المجالس النيابية التي تتولى السلطة التشريعية في الدولة .
- ٤- دستور أكد على سيادة القانون واستقلال القضاء وإقرار مبادئ التعددية الحزبية .
- ٥- أول مجلة نسائية مصرية ظهرت في فبراير ١٩٠٧ م .
- ٦- منظمات تضم جمعيات المجتمعات المحلية والمنظمات غير الحكومية والنقابات العمالية والجمعيات الخيرية وغيرها .

منظمات المجتمع المدني

- ٧- يتألف من ممثلى جميع الدول الأعضاء ومهامه يحددها ميثاق جامعة الدول العربية مجلس الجامعة
- ٨- أحد أجهزة الأمم المتحدة ويضم جميع الدول الأعضاء بها ولكل دولة صوت واحد . الجمعية العمومية
- ٩- الجهاز القضائي الأساسي للأمم المتحدة ومقرها لاهاى بهولندا . محكمة العدل الدولية
- ١٠- أهم أجهزة الأمم المتحدة ومسئول عن حفظ السلام والأمن الدوليين . مجلس الأمن
- ١١- منظمة عالمية متخصصة في المجال الصحي أنشئت عام ١٩٤٨ م ومقرها جنيف بسويسرا

منظمة الصحة العالمية

- ١٢- من المنظمات التابعة للأمم المتحدة المتخصصة في المجال الزراعى ومقرها روما .

منظمة الأغذية والزراعة

منظمة اليونسكو

- ١٣- منظمة تابعة للأمم المتحدة ساهمت في إحياء مكتبة الإسكندرية .
- ١٤- أحد أجهزة منظمة الأمم المتحدة يعمل على رعاية مصالح الشعوب التي كانت مستعمرات ومساعدتها نحو الحكم الذاتي والاستقلال . مجلس الوصاية
- ١٥- منظمة ساهمت مصر في تأسيسها مع الهند وإندونيسيا ويوغوسلافيا (سابقاً) وتضم حالياً ١١٨ دولة

حركة عدم الانحياز

## السؤال الخامس : إلى من تنسب الأعمال التاريخية الآتية

الخديوى اسماعيل

الخديوي اسماعيل

- ١- أنشأ مجلس شورى النواب في ديسمبر ١٨٦٦ م .
- ٢- أنشأ أول مدرسة لتعليم البنات في مصر عام ١٨٧٣ م .



جميلة حافظ  
الرئيس السادات  
هدى شعراوى

- ٣- اصدرت أول مجلة نسائية فى مصر وهى مجلة الريحانة عام ١٩٠٧ م .
- ٤- عين عائشة راتب وزيرة للشئون الاجتماعية عام ١٩٧١ م .
- ٥- شاركت المرأة لجنة الوفد المركزية للسيدات ١٩٢٠ م .

## السؤال الخامس : أجب عن الاسئلة التالية - بم تفسر :-

- ١- أهمية صدور دستور عام ١٩٧١ م .
- ليؤكد على :- سيادة القانون .
- ٢- تُعد حركة عدم الانحياز منظمة دولية .
- لانها تضم في عضويتها دول العالم المستقلة وان لم ترتبط ببعضها بروابط معينة .
- ٣- إنشاء جامعة الدول العربية عام ١٩٤٥ م .
- لتنسيق العلاقات بين الدول الأعضاء .
- لتتعاون وحماية الأمن القومي العربى .
- لتنسيق الخطط السياسية والاقتصادية والاجتماعية والثقافية والأمنية .
- صيانة وحماية استقلال الدول الأعضاء وسيادتها .
- ٤- الأمم المتحدة منظمة دولية .
- لانها تضم في عضويتها دول العالم المستقلة وان لم ترتبط ببعضها بروابط معينة .
- ٥- إنشاء منظمة الأمم المتحدة عام ١٩٤٥ م .
- للمحافظة على السلام والأمن الدوليين .
- تنمية العلاقات الودية والتعاون الدولى لحل المشكلات الاقتصادية والاجتماعية والثقافية .
- تعزيز احترام حقوق الانسان وحرياته دون تفرقة بسبب الجنس او الدين .
- ٦- مجلس الأمن هو أهم أجهزة الأمم المتحدة .
- لانه مسئول عن حفظ السلام والأمن الدوليين وله سلطة قانونية على حكومات الدول الأعضاء .
- ٧- إنشاء منظمة اليونسكو .
- للمساهمة في إحلال السلام والأمن عن طريق رفع مستوى التعاون بين دول العالم في مجالات التربية والعلوم والثقافة .
- ٨- إنشاء منظمة اليونسيف .
- لتعزيز وحماية حقوق الأطفال ورفاهيتهم حيث قامت المنظمة عام ١٩٥٩ بإعلان حقوق الطفل .
- ٩- إنشاء مجلس الوصاية .
- لرعاية مصالح شعوب البلدان التي كانت مستعمرات والاخذ بيدها نحو الحكم الذاتي والاستقلال .
- ١٠- إنشاء منظمة الصحة العالمية .
- لتوفير افضل سبل الرعاية الصحية لجميع الشعوب .
- نشر الوعي من اجل حماية مياه الشرب من التلوث .
- عقد دورات تدريبية لتطوير الخدمات الصحية .
- ١١- إنشاء منظمة الأغذية والزراعة (الفاو) لسكان العالم .
- للقضاء على الجوع . - مساعدة البلدان النامية على تطوير وتحسين الإنتاج والتغذية الجيدة .



### - دلل تاريخياً على صحة العبارات التالية :-

- ١- شهدت مصر بعد ثورة ١٩١٩م وحتى ثورة ١٩٥٢م نهضة نسائية فى مختلف المجالات .  
حيث شاركت المرأة الى جانب الرجل في المظاهرات عقب نفي سعد زغلول بصورة لم يعهدها المجتمع المصرى من قبل .
- شكلت المرأة لجنة الوفد المركزية للسيدات عام ١٩٢٠م وانتخبت هدى شعراوى رئيساً لها .  
- التحقت المرأة بالجامعة المصرية " جامعة القاهرة حالياً" عام ١٩٢٨م .
- ٢- شهدت الفترة من ١٩٧١م وحتى ١٩٨١م ارتفاع مكانة المرأة المصرية .  
حيث شغلت المرأة المناصب الوزارية حيث عين الرئيس السادات الدكتورة عائشة راتب وزيرة للشئون الاجتماعية عام ١٩٧١ م . وشاركت المرأة في الحياة النيابية فشغلت الدكتورة آمال عثمان منصب رئيس اللجنة التشريعية بمجلس الشعب .
- ٣- قامت منظمة اليونسكو بدور ثقافى مهم فى مصر .  
حيث انقذت معابد أبو سمبل فى عام ١٩٦٤م لتجنب تعرضها للغرق . - احياء مكتبة الإسكندرية .
- ٤- لمنظمات المجتمع المدنى أنشطة عديدة داخل المجتمع المصرى .  
- تثقيف المواطنين وتعريفهم بالحقوق السياسية كالتصويب والانتخاب والترشح للمناصب السياسية .  
- توضيح علاقة المواطن بالدولة وكيفية التعبير عن حقوقه وواجباته .  
- توفير مناخ يحقق الوحدة الوطنية من خلال توعية الافراد بنبذ العنف .
- ٥- لمحكمة العدل الدولية دور مهم كأحد أجهزة منظمة الأمم المتحدة .  
حيث من مهامها : - النظر في القضايا التي تضعها الدول أمامها .  
- تقديم الاستشارات القانونية للهيئات الدولية .

### - ما المقصود بكل من :-

- ١- حياة نيابية  
قيام الشعب بانتخاب ممثلين لادارة شئون الحكم في البلاد وسن القوانين ومراقبة اعمال الحكومة نيابة عنه.
- ٢- دستور  
الوثيقة الرسمية التي تحدد نظام الحكم في الدولة وتحدد شكل واختصاصات المؤسسات الدستورية المختلفة
- ٣- برلمان  
يطلق على المجالس النيابية التي تتولى السلطة التشريعية في الدولة .
- ٤- منظمات المجتمع المدنى .  
تضم جمعيات المجتمعات المحلية والمنظمات الغير حكومية والنقابات العمالية والجمعيات الخيرية .
- ٥- منظمة إقليمية  
منظمة تجمع عدداً من الدول المستقلة التي ترتبط ببعضها بروابط معينة .
- ٦- منظمة دولية  
منظمة تضم في عضويتها دول العالم المستقلة وان لم ترتبط ببعضها بروابط معينة .