

## النماذج الاسترشادية لمادة الجغرافيا

### الصف الثالث الثانوي

#### النموذج الأول

1- أمامك خريطتين لقارة اسيا في فترتين زمنيتين مختلفتين أدرسهما جيداً ثم أستنتج



قارة آسيا السياسية الآن



قارة آسيا قبل تفكك الاتحاد السوفيتي في ديسمبر 1991

ظهرت الجوانب السلبية لموقع دولة كازخستان بعد تفكك الاتحاد السوفيتي متمثلة في .....

أ / مساحتها الكبيرة

ب/ اشرفها على مسطح مائي صغير وشبه مفتوح

ج / مساحتها الصغيرة

د/ اتصالها بالمسطحات المائية المفتوحة غير مباشر

2- يصنف خليج السويس على أنه مياه .....

أ / إقليمية

ب/ ملاصقة

ج/ محايدة

د/ داخلية

3- أمامك جدول يوضح الموقع الفلكي لبعض الدول أدرسهما جيداً ثم أستنتج :

الدولة	دوائر العرض	خطوط الطول
س	من 10 شمالاً إلى 10 جنوباً	من 27 غرباً إلى 30 غرباً
ص	من 5 شمالاً إلى 33 جنوباً	من 15 غرباً إلى 65 غرباً
ع	من 15 شمالاً إلى 20 شمالاً	من 20 غرباً إلى 25 غرباً
ك	من 22 جنوباً إلى 35 جنوباً	من 22 غرباً إلى 30 غرباً

أي الدول الآتية الأكثر اقتراباً من الاكتفاء الذاتي من الغذاء ؟

أ / ( س )

ب/ ( ص )

ج / ( ع )

د/ ( ك )

4- تظهر تطبيقات عملية المسح الميداني في مرحلة تخطيط الحدود السياسية التي تعرف بـ .....

أ / التعريف والتخطيط

ب / التحديد

ج / التعيين

د / إدارة الحد

5- من المتوقع ظهور عملة موحدة لدول مجلس الخليج العربي في حالة أقيم بينهم .....

أ / اتحاد جمركي

ب / سوق مشتركة

ج / وحدة اقتصادية

د / توحيد التعريف الجمركية

6- معرفة الوزن السكاني لدولة ما يمثل أحد أهداف الجغرافيا السياسية وهو يرتبط بـ .....

أ / تحليل التجمعات العالمية تحليلاً جغرافياً

ب / دراسة ملامح الوحدات السياسية.

ج / التعرف بالمشكلات السياسية وتحليلها

د / توفير المعلومات العسكرية لمتخذي القرارات

7- يمكن اعتبار حدود الهند مع باكستان داخل إقليم كشمير بأنها حدود .....

أ / تحكيم دولي

ب / وقف إطلاق النار

ج / حضارية فلكية

د / بشرية هندسية

8- أمامك خريطة لقارة آسيا أدرسها جيداً ثم أستنتج



Ayman Amin

من المتوقع أن تتأثر دولة أرمينيا بالكوارث الطبيعية أكثر من دولة روسيا بسبب خصائصها .....

أ / الديموغرافية

ب / المورفولوجية

ج / الاثنوغرافية

د / الأيديولوجية



9- يمكن معرفة ما تمتلكه الدولة من موارد طبيعية من خلال أحد مجالات الجغرافيا السياسية وهو مجال .....

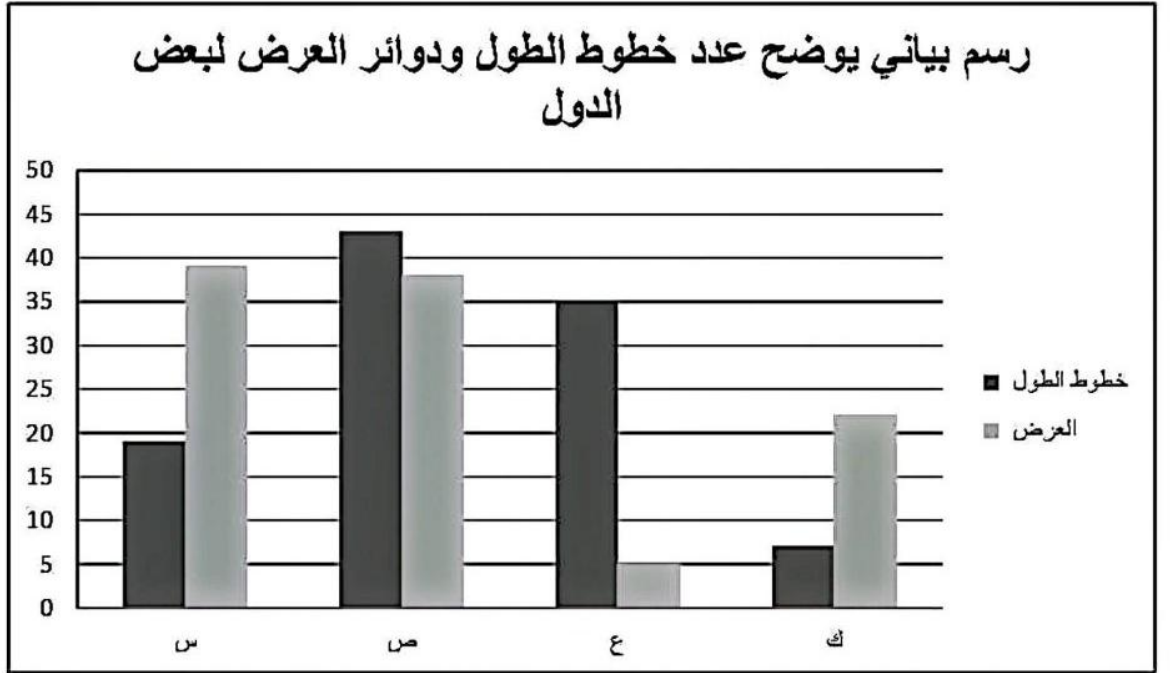
ب/ النظام العالمي الجديد

أ / الوحدات السياسية

د/ المشكلات السياسية

ج / العلاقات الدولية

10- أدرس الجدول الذي أمامك ثم استنتج :



أي الدول الآتية تتميز بحرية حركة الجيوش؟

أ / ( س )

ب / ( ص )

ج / ( ع )

د / ( ك )

Ayman Amin

11- تستطيع المجر الصيد السمكي دون ممانعة الدول الأخرى في نطاق المياه .....

ب/ التكميلية

أ / الإقليمية

د/ الدولية

ج / المحايدة

12- أصبح الاتحاد الأوروبي أقوى وأنجح التكتلات الاقتصادية رغم اختلاف أشكال الحكم ويرجع السبب لـ .

ب/ تشابه الخصائص الثقافية

أ / تحقيق الحكم الديمقراطي

د/ تشابه تاريخهم الحضاري

ج / تنوع مصالحهم السياسية

13- تدرج أزمة المياه في الأنهار الدولية ضمن دراسة مجال .....

- أ / الدولة كمجال لدراسة الجغرافيا السياسية  
ب/ دراسة علم الجيوبولتيك  
ج / النظام العالمي الجديد وما نتج عنه من تغيرات  
د/ التحليل السياسي للقوة

14- تشترك الدول الأتية في اتفاقيات سياسية ذات طابع اقتصادي يخرج عنها.....

- أ / النيجر وبوركينا فاسو  
ب/ موريتانيا والسنغال  
ج / اليمن والسعودية  
د/ نيجيريا وأوغندا

15- يوجد اختلاف بين الكوميسا والاتحاد الأوربي في .....

- أ / مراحل التكوين  
ب/ اتصالها الارضي  
ج / الاتحاد الجمركي  
د/ كثرة مواردها

16- عند ظهور حدود الهدنة بين دولتين يمكن متابعتها باستخدام أحد التقنيات الحديثة وهو .....

- أ / تكنولوجيا المعلومات  
ب/ نظم المعلومات الجغرافية  
ج / وسائل الاتصال  
د/ الاستشعار من بعد

Ayman Amin

17- أي من الانهار الاتية الأكثر اهمية ملاحية ؟

- أ / نهر بوج  
ب/ نهر الدانوب  
ج / نهر السين  
د/ نهر ريجراند

18- تنطبق أي من الخصائص التالية علي حلف الناتو.....

- أ / الاتصال الارضي  
ب/ عدم التجانس الجغرافي  
ج / التشابه العرقي  
د/ تشابه نظمه السياسية



19- نشأت أكبر الاحلاف العسكرية نتيجة صراعات مرتبطة بدولة تتميز بكونها.....

أ / جبلية

ب/ متنوعة المناخ

ج / سهلية

د/ متنوعة التضاريس



20- أمامك خريطة سياسية لقارة أمريكا الجنوبية، ادرسها جيدًا

ثم استنتج:

تشابه دولتي بوليفيا وكولومبيا من حيث .....

أ / تنوع النبات الطبيعي والاحتكاك الحضاري.

ب/ الاحتكاك الحضاري وعدد الدول المجاورة.

ج/ عدد الدول المجاورة والتكوين المورفولوجي

د/ التكوين المورفولوجي وتنوع النبات الطبيعي

21- أمامك خريطة سياسية لقارة اسيا، ادرسها جيدًا

ثم استنتج:

الدولة التي يتقاطع بها دائرة عرض 30<sup>5</sup> شمالا مع

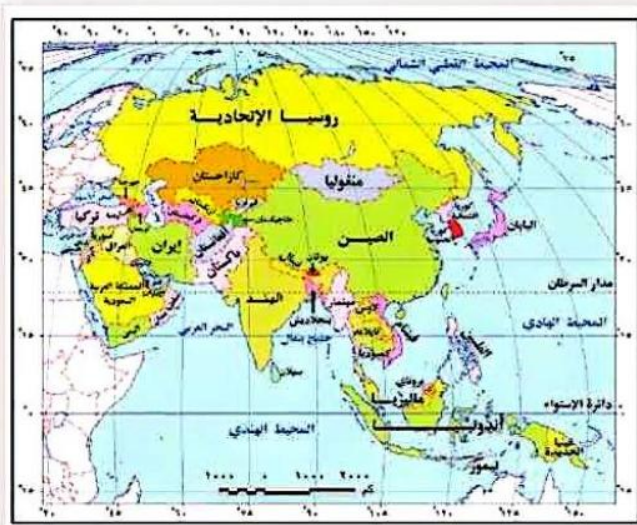
خط طول 120<sup>5</sup> شرقا ، وفيها تتواجد أقليات .....

أ/ قومية

ب/ دينية

ج/ لغوية

د/ عرقية

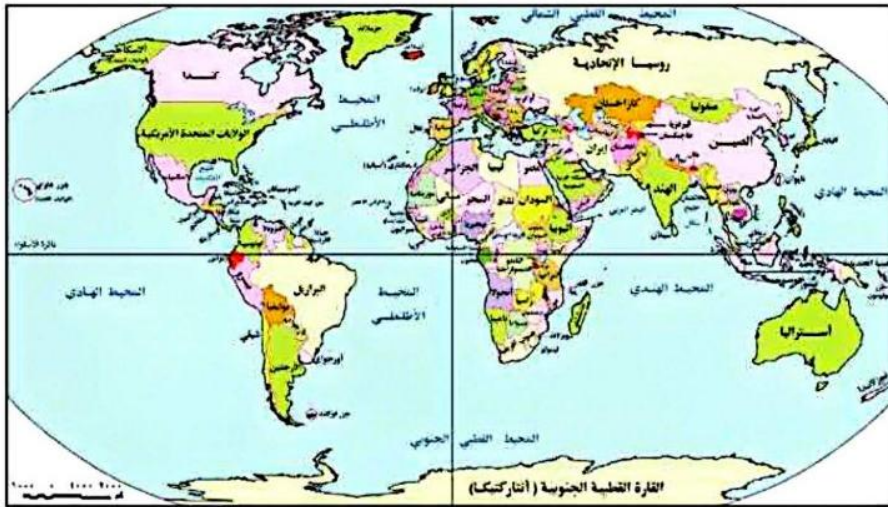


Ayman Amin



22- ادرس الخريطة المقابلة استنتج :

" سوريا ، بوليفيا ، الأرجنتين " تتفق هذه الدول في .....



- أ / الاحتكاك الحضاري
- ب / عدد الدول المجاورة
- ج / القوى المؤثولوجية
- د / القوة الديموغرافية

23- ادرس الخريطة المقابلة استنتج :

في حال اعتبار سويسرا وليسوتو دولة واحدة فسوف تتصف ب.....



- أ / التبعية لجنوب أفريقيا
- ب / التبعية لموزمبيق
- ج / الحرية في اتخاذ القرار
- د / الاحتكاك الحضاري

24- إذا كانت المسافة من عاصمة الدولة لجهة الشمال 100 كم، وإلى جهة الجنوب 102 كم، ثم قيست المسافة من شرق الدولة إلى غربها فكانت 800 كم بالتساوي ، فإن هذه الدولة تتسم ب ...

- أ / سهولة حمايتها
- ب / تعدد خطوط الطول
- ج / سهولة الاتصال
- د / تعدد دوائر العرض

25- يختلف الاتحاد الأوروبي عن الولايات المتحدة الأمريكية في النظام السياسي والاداري في بعض الخصائص منها ...

**Ayman Amin**

- أ / اداء الوظائف السيادية
- ب / تعدد سلطات الحكم
- ج / اعتبارها اتحادية مركبة
- د / لا مركزية الحكم

26- بالنظر الى تغيرات خريطة العالم في اوائل القرن العشرين وآخر نجدها تتبع عوامل ذكرها العالم الجغرافي....

أ / رونلف كلين

ب / ارسطو

ج / ابن خلدون

د / اندريه سيجفريد

27- في حال قيام منظمة التنمية الصناعية في تطبيق برنامج لتنمية الصناعات الاستراتيجية فانه يتوقع اختيارها لدولة

أ/ سوريا

ب / اليمن

ج / السودان

د / موريتانيا

Ayman Amin

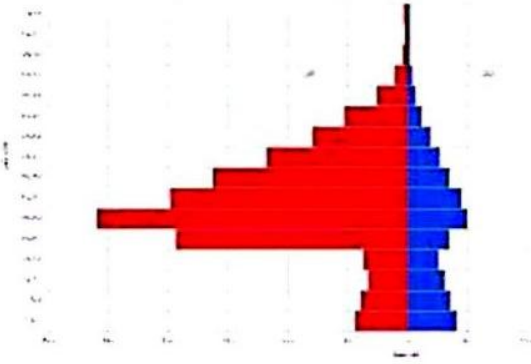
28- الهرم السكاني الموضح أمامك نستنتج منه.....

أ / انخفاض معدل قو العمل

ب / انخفاض معدل الاعالة

ج / وفترة العمالة الوطنية

د / اختلال التركيب الاقتصادي



29- الأمن القومي للدولة ووحدتها وتماسكها الداخلي تتحقق جميعا بواسطة اهتمام الدولة بـ ...

أ / الأمن الغذائي والنقل

ب / الامن الغذائي والقدرات الدفاعية

ج / مصادر الطاقة والامن المائي

د / مصادر الطاقة والتقدم الصناعي

30- يعتبر من أهم عناصر قو الدولة الاقتصادية أنه لابد أن يتوافر بها...

أ / القو المورفولوجية

ب / الاكتفاء الذاتي

ج / حجم السكان

د / حركة الجيش

31- تعد من عناصر القو العسكرية التي لا تخضع الى احصاءات بيانية رقمية وكانت عاملا حاسما في انتصارات الجيش المصري...

أ / إنفاق الدولة من داخلها

ب / حجم القو العسكرية

ج / إيمان افراده بقضيتهم

د / الطائرات والسفن الحربية



32- " الانتخابات أدها للاختيار لا تضع فوارق بسبب الأصل والمنشأ بين جموع الناخبين "

تتفق العبارة مع مبدأ.....

أ / العدالة

ب / المساواة

ج / الديمقراطية

د / البيروقراطية

33- " الحدود السياسية تحدد الرقعة الأرضية التي تمارس عليها الدولة سيادتها "

حتى تتحقق هذه العبارة لابد للدولة أن ...

أ/ تتصارع مع الدول المجاورة

ب / تتوافق مع المجتمع الدولي

ج / تتوافق مع المجتمع المحلي

د / تتوسع على حساب جيرانها

34- ارتبطت بداية الحدود الخطية بين الدول بظهور.....

أ/ الدول ذات الخصائص الثقافية المشتركة

ب / عمليه المسح الميداني للحدود السياسية

ج / الثورة الصناعية الأولى في أوروبا

د / بدايات القرن التاسع عشر وأوائل العشرين

35- تتميز الحدود السياسية عن التخوم ب ....

أ/ الأبعاد المساحية

ب / الطول والعرض

ج / الإطار القانوني

د / ثباتها المكاني

36- ساعدت على نشأة الحدود السياسية في أوروبا ....

أ/ هجر السكان للحدود

ب / تطور البنية التحتية

ج / قيام الدول الحديثة

د / المسح الميداني للحدود

37- " نجاح مصر في اكتشاف حقل ظهر في البحر المتوسط على بعد 200 كيلو متر شمال بورسعيد "

يرجع ذلك الى .....

أ/ عدم الرضا عن الانتاج الحالي

ب / استغلال المناطق الهامشية

ج / زيادة ثروة البك الإنتاجية

د / زيادة استهلاك السوق الداخلي



38- تعتمد الدولة على مواردها الطبيعية عند تخطيط الحدود السياسية في المرحلة....

ب / الثانية

أ / الأولى

د / الرابعة

ج / الثالثة

39- تختلف جبال البرانس عن جبال الأنديز بأنها ...

ب / خطوط دفاعية حصينة

أ / ظاهرة دائمة ومرتبة

د / النشاط السياسي لقاطنيها

ج / صعوبة اختراقها وعبورها

40- تتفق الحدود الشمالية والحدود الجنوبية للولايات المتحدة الأمريكية من حيث ...

ب / التأثير بعوامل التعرية

أ / التقسيم على أساس خط المنتصف

د / التقسيم على أساس خط العمق

ج / رسمها على أساس فلكي

**Ayman Amin**

41 - ادرس الشكل المقابل واستنتج :

شكل الدولة التي تمتد بين دائرتي عرض 15 شمالاً حتى 10 شمالاً

وبين خطي طول 4 غرباً حتى 20 غرباً

٢٠ غرباً	١٦ غرباً	١٢ غرباً	٨ غرباً	٤ غرباً	
					٢٥ شمالاً
					٢٠ شمالاً
					١٥ شمالاً
					١٠ شمالاً

أ / مستطيل عرضي

ب/ منمَج

ج/ مجزأ بري

د/ مستطيل طولي

42- ظهرت بدايات أفكار النظام العالمي الجديد مع الدعوة إلي نشأة .....

ب/ أحلاف عسكرية

أ/ منظمات دوائية

د/ منظمات إقليمية

ج/ تكتلات اقتصادية



43- ترتب على تنفيذ مرحلة إدارة الحد السياسي العديد من الوظائف منها .....

أ/ القضاء على مشكلات الحدود النهرية

ب/ الحد من ظاهرة الهجرة غير الشرعية

ج/ منع مشكلة تقسيم منطقة ما بين دولتين

د/ سقوط نظرية الحدود الآمنة بين الدول

44- تعد من مزايا الدولة الوحدوية .....

أ/ سهولة حصر مواردها

ب/ تمتعها بالسيادة القومية

ج/ وفرة الثروات المعدنية

د/ تنوع الموارد الاقتصادية

**Ayman Amin**

ثانيا : الأسئلة المقالية

45- ما العلاقة بين النظام العالمي الجديد والدول المتقدمة؟

٤٥ - شهد النظام العالمي الجديد تغيرات سريعة  
بعد سقوط الاتحاد السوفيتي تمثل في سعي  
الدول الرأسمالية لإحتكار مطلق للسلاح والمال  
والتكنولوجيا من أجل الوصول لأعلي معدلات  
الإنتاج والهيمنة والسيطرة علي الدول النامية

46- ما مدي مصداقية العبارة؟

لعبت الامم المتحدة دورًا سياسيًا في حل المشكلات بدول جنوب البحر المتوسط

٤٦ - عبارة صادقة حيث ساندت الأمم  
المتحدة استقلال كل من تونس والجزائر  
والتي تقع جنوب البحر المتوسط

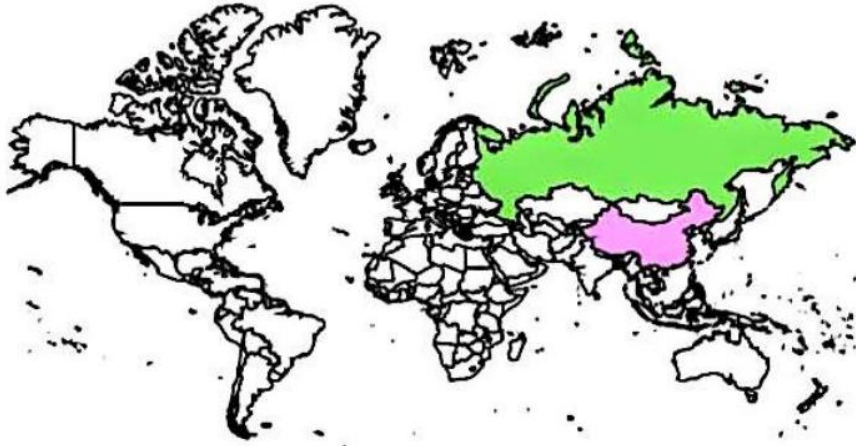
## النماذج الاسترشادية لمادة الجغرافيا

### الصف الثالث الثانوي

#### النموذج الثاني

1- ادرس الخريطة المقابلة ثم استنتج:

يمكن دراسة أثر القوة المورفولوجية والديموغرافية والعسكرية علي قوة الدول الموضحة علي الخريطة عن طريق أحد مجالات الجغرافيا السياسية، وهو.....



أ- الوحدات السياسية

ب- العلاقات الدولية

ج- المشكلات السياسية

د- التحليل السياسي للقوة

2- " يجب أن تكون المدينة صعبة الاختراق من الأعداء، ويسهل في نفس الوقت دخول وخروج المواطنين منها ". نستنتج من المقولة السابقة أنها تعبر عن.....

ب- الحدود المحصنة

أ- الجيوش العسكرية

د- النقل والمواصلات

ج- الموارد الاقتصادية

Ayman Amin

3- " تابعت الجماهير المصرية وجماهير العالم حفل قرعة كأس العالم للأندية في الولايات المتحدة الأمريكية "

تعبر المقولة السابقة عن أهمية أحد التقنيات الحديثة في الجغرافيا السياسية وهي ...

ب- تكنولوجيا الاتصالات

أ- الاستشعار من بعد

د- نظام تحديد المواقع

ج- نظم المعلومات الجغرافيا



4- ترتبط العملية الانتخابية باستخدام التقنيات الحديثة وهي ...

أ- الاستشعار عن بعد، ونظم المعلومات الجغرافية

ب- وسائل الاتصالات، ونظم المعلومات الجغرافية

ج- الاستشعار من بعد، ووسائل الاتصالات

د- نظام تحديد المواقع، ووسائل الاتصالات

5- يقول ابن خلدون: " غاية العمران هي الحضارة والترّف، وإنه إذا بلغ غايته انقلب وأخذ في الهرم، كالأعمار الطبيعية للحيوانات".

يتشابه مضمون العبارة السابقة مع آراء العالم ...

د- سيجفريد

ج- كيلين

ب- راتزل

أ- ارسطو

6- في حال تحول الدول العربية إلى وحدة سياسية واحدة، أي العناصر التالية يجب أن يضاف إليها .....

ب- استقرار الشعب

أ- رقعة الأرض

د- الروابط المشتركة

ج- سيادة السلطة

7- تتشابه الولايات المتحدة الأمريكية مع الاتحاد الأوروبي في ...

ب- وظائف السلطة المركزية

أ- مركزية الحكم

د- وظائف السلطة المحلية

ج- لامركزية الحكم

Ayman Amin

8- ادرس خريطة العالم ثم استنتج:

نتوقع إذا اتحدت دول الاتحاد السوفيتي مرة أخرى فإن التغيرات الناتجة على الخريطة هي .....



أ- نقص عدد الدول الحبيسة

ب- زيادة عدد الدول الحبيسة

ج- زيادة الوحدات السياسية

د- نقص مساحة الدول المجاورة



9- ادرس خريطة اليابان وفرنسا التي أمامك ثم استنتج :

تشابه اليابان مع فرنسا في كونهما دولتين وحدويتين، ولكن تتميز فرنسا عن اليابان في ....



ب- الروابط المشتركة

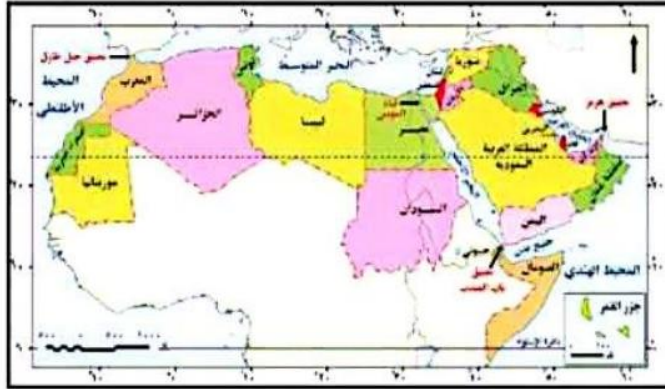
أ- العامل الديموغرافي

د- الحكومة المركزية

ج- العامل المورفولوجي

10- ادرس خريطة الوطن العربي المقابلة ثم استنتج:

الدول التي يقل تأثير الموقع البحري لها عن غيرها دولتي ...



أ- مصر والمغرب

ب- السعودية واليمن

ج- تونس وموريتانيا

د- الأردن والعراق

Ayman Amin

11- ادرس خريطة العالم التي أمامك ثم استنتج

ينتمي العلماء الذين درست آرائهم في تطور الجغرافيا السياسية إلى دول تقع بالنسبة للعالم في الجزء ....



أ- الشمال الشرقي

ب- الشمال الغربي

ج- الجنوب الشرقي

د- الجنوب الغربي



12- ادرس خريطة العالم التي أمامك ثم استنتج

تشابه دولتي أفغانستان وناميبيا في ...

أ- الشكل المندمج نو البروز

ب- صعوبة الاتصال الحضاري

ج- عدد الدول المجاورة

د- الموقع الاستراتيجي



13- تعد من أكثر الدول التي اهتمت باستخدام الأساليب والوسائل الحديثة في الإنتاج دولة ...

ب- ناميبيا

أ- أوغندا

Ayman Amin

د- فنلندا

ج- كولومبيا



14- ادرس خريطة العالم ثم استنتج:

يقطع مدار الجدي العديد من الدول التي تتشابه في ..

أ- وجود مشكلات سياسية

ب- زيادة في الإنتاج الحيواني

ج- سهولة الاتصال بالعالم الخارجي

د- الاشتراك في الأحلاف العسكرية



15- تتشابه الدولتان الموضحتان أمامك أنه عند اختيار العاصمة اهتمت بالعامل .....



أ- التاريخي      ب- الجغرافي      ج- السيادة القومية      د- سهولة الوصول

16- تستطيع أي من الدول الآتية مواجهة الكوارث الطبيعية دون أن تضرر لمنشأتها الحيوية الهامة ...

أ- قطر      ب- اورجواي      ج- كندا      د- هولندا

17- تتميز أي من الدول الآتية باللامركزية في الحكم دولة ...

أ- مصر      ب- فرنسا      ج- الهند      د- الصين

18- " أجريت الانتخابات في كندا، وفاز حزب الأغلبية في الانتخابات، وشكل الحكومة "

تعبّر المقولة السابقة عن أحد أنظمة الحكم وهي النظام ...

أ- الرئاسي      ب- البرلماني      ج- شبه الرئاسي      د- الملكي

**Ayman Amin**

19- تعتمد المؤسسات التنظيمية في الدول الديمقراطية على ...

أ- الفصل بين السلطات      ب- تمركز السلطات في جهة واحدة

ج- ديكتاتورية الحكم      د- تداخل اختصاصات السلطات

20- تم عقد اتفاقية بين دولتي مصر وقبرص لترسيم الحدود البحرية الاقتصادية في البحر المتوسط "

تعبّر المقولة السابقة عن ..

أ- النظام السياسي في صورته المؤسسية      ب- النظام السياسي في صورته الاجتماعية

ج- النظام الانتخابي      د- النظام الإداري

21- يعبر مضمون الصورة التي أمامك عن أحد مراحل العملية الانتخابية يليها مرحلة ... ..



أ- الترشح للانتخابات

ب- تقسيم الدوائر الانتخابية

ج- إعلان الفائزين

د- اجراء العملية الانتخابية

22- حلل بيانات الجدول المقابل ثم استنتج:

بيانات لإجراء الانتخابات في أحد الدوائر لدولة س			
جملة المقيدین باللجنة	الأصوات الصحيحة	الأصوات الباطلة	غير المشاركين
20000	5000	1000	14000

Ayman Amin

يمكن دراسة هذا البيانات في أحد مجالات جغرافيا الانتخابات وهو ...

أ- توزيع الدوائر الانتخابية

ب- التباين المكاني في التصويت

ج- دراسة أثر الانتخابات

د - دراسة السلوك الانتخابي

23- 'سمحت دولة العراق للأقليات باستخدام لغتهم الخاصة بهم '

في ضوء العبارة استنتج

تعبير المقولة السابقة عن حل لأحد المشكلات الاجتماعية وهي..

أ- الحركات القومية الانفصالية

ب- مناهضة التمييز العنصري

ج- مناهضة التمييز الديني

د- التحرر من القوى الاستعمارية



24- ادرس خريطة العالم التي أمامك ثم استنتج:

التغيرات التي حدثت في الخريطة السياسية نتج عنها زيادة عدد الدول التي تشرف على ....



خريطة (١٩٠٤) : خريطة العالم السياسية قبل الحرب العالمية الأولى



خريطة (٢٠١٦) : خريطة العالم السياسية عام ٢٠١٦م

أ- البحر البلطي

ب- بحر الشمال

ج- بحر العرب

د- خليج المكسيك

25- يعد من أكثر العوامل التي تؤثر على مستقبل خريطة العالم بالنسبة لغرب قارة أفريقيا ...

ب- سباق التسلح

أ- الصراع على المياه العذبة

د- انتهاء الصراع الأيديولوجي

ج- الهجرة الشرعية

26- " حدث خلاف بين مجموعات مختلفة من المهاجرين من دول س ، ص ، ع في دولة ل" في مدينة حدودية"

في ضوء العبارة السابقة استنتج

Ayman Amin

يمكن أن يتم محاسبة المدانين وفقا للقانون الخاص بدولة .....

د- ل

ج- ع

ب- ص

أ- س

27- يتشابه نهر الراين ونهر الدانوب من حيث ..

ب- عدد الدول المطلة عليهما

أ- الاتجاه العام لكل منهما

د- عدم خضوعهما لاتفاقيات الأنهار

ج- استغلالهما في التواصل الحضاري



28- تعد أقل الأقليات انتشارًا في العالم هي التي توجد في دولة ...

ب- تركيا

أ- اليمن

د- صربيا

ج- جنوب أفريقيا

29- ادرس خريطة العالم ثم استنتج:

توجد أكثر الأقليات تأثيرًا على الاستقرار السياسي للدولة في دولتين يمر بهما إحدى الدوائر والخطوط الفلكية التالية.....



أ- مدار السرطان وخط جرينتش

ب- مدار الجدي ومدار السرطان

ج- دائرة الاستواء وخط جرينتش

د- مدار الجدي وخط جرينتش

Ayman Amin

30- يظهر دور الأنهار كعامل فصل بين الوحدات الإدارية الداخلية في .....

أ- خط المنتصف لنهر الريبوجراند

ب- الحوض الأدنى لنهر النيل

ج- الحوض الأوسط لنهر الراين

د- خط العمق الملاحي لنهر الراين

31- يمكن أن يتغير الحد السياسي لأسباب جيومورفولوجية بين دولتي يفصلها بينهما حدود ...

ب- نهريّة

أ- جبلية

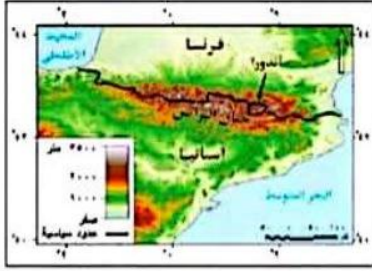
د- بحرية

ج- بحيريّه



32- ادرس الخريطة المقابلة ثم استنتج:

تتوقع إذا رسمت الحدود الجنوبية لفرنسا مع أقدام الجبال فسوف يحدث.....



خريطة (٢٠١) الحدود العالية بين فرنسا وإسبانيا

أ- زيادة عدد الدول المجاورة لأسبانيا

ب- ثبات عدد الدول المجاورة لفرنسا

ج- زيادة عدد الدول المجاورة لفرنسا

د- قلة عدد الدول المجاورة لأسبانيا

Ayman Amin

33- ادرس خريطة العالم ثم استنتج:

تقع المنطقة التي نشأ بها الصراع حول مصادر الطاقة بين ألمانيا ودول الحلفاء بين ...



خريطة (١٩٠٤) : خريطة العالم السياسية قبل الحرب العالمية الأولى

أ- بحر قزوين والبحر الأسود

ب- البحر الأسود والبحر المتوسط

ج- البحر البلطي وبحر الشمال

د- خليج عدن وخليج عمان

34- " تزامنت في مصر هجرة قسرية في الستينيات من القرن العشرين نتيجة مشروعات قومية وصراعات دولية "

تنطبق العبارة السابقة عن الهجرة القسرية التي حدثت في محافظتي ...

ب- القاهرة والجيزة

أ- بورسعيد واسكندرية

د- الفيوم وبني سويف

ج- أسوان والسويس



35- " تمثل النزاعات الناتجة عن حركة الرعاة في قارة أفريقيا صعوبة في تنمية القارة "

في ضوء العبارة السابقة استنتج

يتمثل العامل الطبيعي المسبب لتلك الحركة في .....

أ- رسم الحدود السياسية

ب- توسيع الرقعة الزراعية

ج- فرض الرسوم والضرائب

د- التغيرات المناخية

36- ادرس الخريطة المقابلة ثم استنتج:

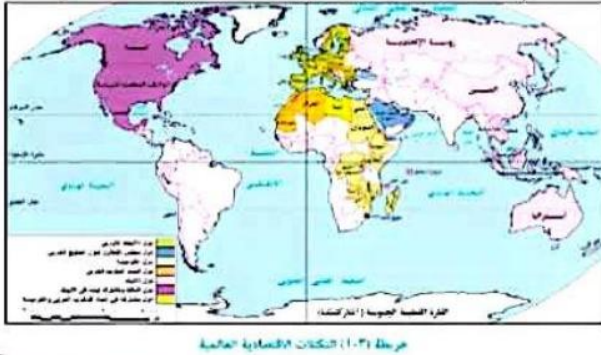
يرجع العامل الرئيس في نجاح مجلس التعاون لدول الخليج العربي والاتحاد الأوربي إلى ...

أ- عدد السكان واتساع المساحة

ب- الاتصال الأرضي والقوة التنظيمية

ج- التقدم التكنولوجي وتنوع الموارد

د- القوة العسكرية والموقع الاستراتيجي



Ayman Amin

37- " كان لحلف الناتو دور في الصراعات في الشرق الأوسط "

يعبر مضمون العبارة السابقة عن تدخل حلف الناتو في ..

أ- تدخله في الصراعات في ليبيا

ب- ارسال قوات إلى مقدونيا

ج- تخفيف أثار زلزال باكستان

د- تخفيف أثار إعصار كاترينا

38- إذا أرادت مصر الانضمام إلى أحد التكتلات الاقتصادية، نتيجة العامل الجغرافي، فإن أفضل التكتلات التي

تساعد في النجاح في ذلك هو ...

أ- النافتا

ب- الاتحاد الأوربي

ج- الكوميكون

د- اتحاد المغرب العربي



39- " انضمام مصر لتكتل الكوميسا ساعدها على التواصل الحضاري في قارة أفريقيا "

في ضوء العبارة السابقة استنتج

الأهداف السياسية التي حققتها مصر من الانضمام للكوميسا يتمثل في ...

أ- الاستفادة من السوق الرحبة للتكتل

ب- تسهيل الإعفاءات الجمركية المتبادلة

ج- تصدير الخبرات الفنية المصرية

د- إدارة الحوار وتسوية المنازعات للقارة

40- " لا تقتصر التكتلات على التعاون الاقتصادي ، وإنما تمكن الدول في استقرارها والدفاع عنها " تتفق العبارة

السابقة مع أي من التكتلات الآتية.....

ب- مجلس التعاون لدول الخليج

أ- اتحاد المغرب العربي

د- منتدى التعاون الاقتصادي

ج- اتحاد الكوميسا

Ayman Amin

41- ادرس خريطة العالم المقابلة ثم أجب :

تعد من الدول التي يؤثر موقعها الجغرافي سلبا على علاقاتها الدولية دولتي ...



أ- استراليا وشيلي

ب- مصر وتركيا

ج- استراليا وماليزيا

د- شيلي وتونس



42- " لقد أصبح العالم اليوم كسوق كبير تستطيع الشراء منه دون قيود وبأي عملة وأصبحت الدول تتشارك في الإنتاج "

تعبر المقولة السابقة عن أحد خصائص النظام العالمي الجديد وهي ...

- أ- ثورة المعلومات والاتصالات  
ب- الاعتماد الدولي وظهور التكتلات  
ج- تدويل المشاكل والقضايا  
د- تقلص دور السيادة الوطنية

43- " كان العالم يسعى جاهدا لوقف الحروب وكلما فشل حاول من جديد "

تشير العبارة السابقة عن فشل عصبة الأمم لأنها فقدت القدرات ...

- أ- الاقتصادية والديموغرافية  
ب- السياسية والتنظيمية  
ج- العسكرية والتنظيمية  
د- الاقتصادية والتنظيمية

44- تتوقع إذا قامت الدول النامية باستغلال مواردها في الصناعات التكنولوجية أن يؤدي ذلك إلى.....

- أ- تدخل الدول الكبرى في شئونها  
ب- تهديد سيادتها الوطنية  
ج- اختراق أمنها الثقافي  
د- بعدها عن هيمنة الدول الكبرى

الأسئلة المقالية :

45- من وجهة نظرك : كيف يمكن التغلب على مشكلات الرعاة في غرب أفريقيا؟

.....  
.....  
.....

46- - دلة جغرافيا

أثر انتهاء الحرب الباردة على القوة المورفولوجية للدول الربع الشمالي الشرقي

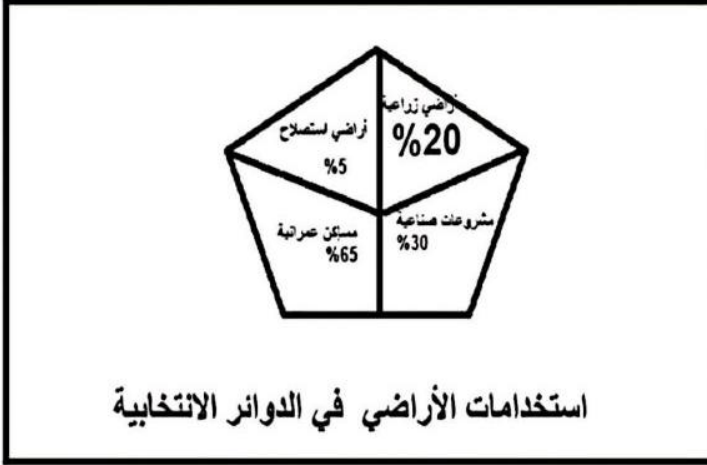
.....  
.....  
.....

## النماذج الاسترشادية لمادة الجغرافيا

### الصف الثالث الثانوي

#### النموذج الثالث

1- تعبر بيانات الرسم البياني المقابل عن دور أحد التقنيات الحديثة وهو .. ....



أ- الاستشعار عن بعد

ب- نظم المعلومات الجغرافية

ج- نظام تحديد المواقع العالمي

د- وسائل الاتصال وتكنولوجيا المعلومات

2- (الحجم السكاني الكبير، والمساحة الكبيرة، والمرتفعات)

تتشابه العوامل السابقة في أحدي السلبيات التي لها تأثير على استقرار الدولة هي .. ....

أ - اللجوء للتحالف مع الدول الكبرى

ب - صعوبة نجاح مشروعات التنمية

ج - وجود حركات تمرد بالعاصمة

د - وجود جيوش عسكرية ضخمة

Ayman Amin

3- " يحدد الحد السياسي للدولة سيادتها على الموارد الأرضية والسطحية والباطنية والبحرية"

تنطبق العبارة السابقة على العديد من الدول يخرج عنها .. .....

أ-نيوزيلاند

ب-ميانمار

ج-سوازيلاند

د- بنجلادش

4- تتصف المرحلة الثانية من مراحل تخطيط الحد السياسي بـ....

أ- الوصف

ب- المرونة

ج- الإدارة

د- الفصل

5- تظهر الحدود البحرية الفاصلة بين الدول مناصفة في قارة.....

أ - أمريكا الجنوبية

ب - أفريقيا

ج - أوروبا

د- أمريكا الشمالية

6- تمكنت دولة المجر بوسط قارة أوروبا من الوصول إلى سواحل البحر الأسود بسبب .....

أ- المعارك العسكرية

ب- المعاهدات الدولية

ج- تفوقهما التكنولوجي

د- المناطق الهامشية

7- تقع ثاني المدن المغربية التي استولت عليها اسبانيا في دولة المغرب جهة .....

أ - الجنوب الشرقي

ب - الشمال الشرقي

ج- الشمال الغربي

د-الجنوب الغربي

Ayman Amin

8- (أظهرت نتائج العملية الانتخابية في دولة العراق حصول مرشح علي أصوات سكان الريف بصورة أكبر من

سكان الحضر )

يعبر مضمون العبارة السابقة عن .....

أ - التباين المكاني في التصويت

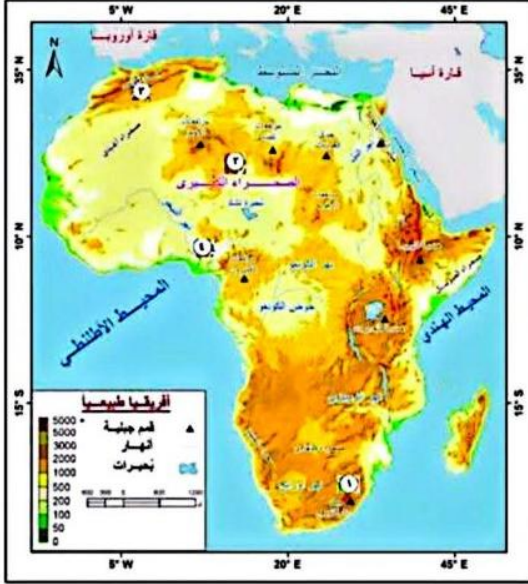
ب - الآثار الاقتصادية على الانتخابات

ج - أثر الانتخابات على الظروف البيئية

د - عدد الدوائر الانتخابية

9- ساهم انتشار المعادن المستخرجة من القارة السمراء في .. ....

- ا- عمل مشروعات صناعية متطورة بالقارة
- ب -انتشار التكنولوجيا المتقدمة بالقارة
- ج - بناء علاقات دولية متميزة مع الغرب
- د -تبعية بعض الدول وزعزعة استقرارها



10- ادرس الخريطة المقابلة ثم استنتج:  
المنطقة التي تُعد مناسبة للامتزاج الثقافي  
والعمراني هي المنطقة المشار لها بالرقم ....

- أ- ( 1 )
- ب- ( 2 )
- ج - ( 3 )
- د - ( 4 )

11- المنظمة التي تهتم بدعم الاقتصاد في الدول النامية لتضييق الفجوة بينها وبين الدول المتقدمة هي...

- أ- اليونيدو
- ب- الفاو
- ج- اليونسكو
- د- الإيدمو

Ayman Amin

12- الهدف النهائي من دراسة المقومات الطبيعية والبشرية لدولة بنين التعرف على..

- أ - نشاطها الاقتصادي
- ب- نشاطها البشري
- ج -تنظيمها الداخلي
- د- قوتها السياسية

13- ادرس الخريطة المقابلة ثم استنتج:

معظم دول شمال وغرب أفريقيا عواصمها.....



أ - تتسم بالحماية والدفاع

ب- تفتقد للعمق الجغرافي

ج- بعيدة عن السواحل

د- تحقق السيادة القومية

14- تمتعت الأقلية على غير المتبع بفرض سيطرتها على الدولة في منطقة يقطعها.....

أ - دائرة الإستواء

ب - خط جرينتش

ج - مدار السرطان

د - مدار الجدي

15- تستطيع الدفاع عن نفسها دون استنزاف مواردها دولة .....

أ - البرازيل

ب- إيطاليا

ج- سويسرا

د- الكونغو

Ayman Amin



16- ادرس الخريطة المقابلة ثم استنتج:

أدي انقسام السودان إلى دولتين إلى زيادة

عدد الدول المجاورة لدولتي.....

أ- كينيا وأثيوبيا

ب - أوغندا والكونغو

ج- تشاد وإريتريا

د - أثيوبيا وأفريقيا الوسطى

17- تطورت الجغرافيا السياسية لتصبح هي الأم للعديد من الفروع مثل الجيوبولتيك وجغرافيا الانتخابات

نستنتج من العبارة أن أحداثها دارت في دول ..

أ- ألمانيا وفرنسا والسويد

ب- اليونان والسويد وألمانيا

ج- السويد والمجر والنمسا

د- روسيا وأوكرانيا وسويسرا

Ayman Amin

18- ادرس الخريطة المقابلة ثم استنتج:

في حال قيام دولة فيدرالية بين الدول التي تقع جنوب دولتي تنزانيا والكونغو الديمقراطية نستنتج.....



أ- تحول نهر الزمبيزي لنهر محلي

ب- صعوبة وصول بتسوانا للبحر

ج- زيادة حدة التمييز العنصري

د- زيادة حدة مشكلات الرعاة

19- نستنتج من تحليل الشكل المقابل انه يعبر عن أحد صور النظام السياسي والتي من مهامها اتخاذ قرار



أ- استثمار المناطق الصحراوية

ب- إقامة مشروعات اقتصادية

ج- ترسيم الحدود السياسية

د- استثمار العقول المفكرة

20- من المقولات الشهيرة: « تكمن قوة الدولة في ثبات حدودها ».

أى مما يلى يعبر بشكل واضح عن مضمون هذه المقولة؟

أ- نهر السنغال بين موريتانيا والسنغال

ب- الحد السياسي الفلكي بين كندا والولايات المتحدة

ج- جبال البرانس بين إسبانيا وفرنسا

د- الحدود الهندسية في بحيرة فيكتوريا

21- اتسمت فترة الحرب الباردة بين المعسكرين الشرقي والغربي ب.....

أ- تفوق المعسكر الغربي

ب تفوق المعسكر الشرقي

ج- المنافسة الاستعمارية

د- انتشار التسليح الجماعي

Ayman Amin

22- يتضح من معطيات الخريطة محاولات روسيا تحويل بحر اوزوف إلى بحيرة روسية يفسر ذلك بأنه



.....

أ- احياء الفكر الاستاتيكي

ب- استعادة روسيا حدودها المسلوبة منها

ج- احياء الفكر الديناميكي

د- معاهدات المبرمة بين روسيا واوكرانيا

23- يوجد تشابه بين الولايات المتحدة والاتحاد السوفتي سياسياً في .....

أ -التنوع الجيولوجي والمناخي

ب- التدخل في شئون الدول

ج- احترام سيادة الدول

د- تحقيق الديمقراطية

24- تقلص دورها في ظل النظام العالمي الجديد.....

أ- الأحلاف العسكرية

ب- الشركات متعددة الجنسيات

ج- حركة عدم الانحياز

د- صندوق النقد الدولي

25- يتشابه النظام العالمي الجديد و حلف وارسو في .....

أ- تطبيق الديمقراطية

ب- احترام سيادة الدول

ج- مخالفة أهدافهما

د- احترام دور الامم المتحدة

Ayman Amin

26- تكاد تضعف العلاقات الدولية لدولة .....

أ- نيوزيلاندا

ب- الهند

ج- مصر

د- الصين

27 - تعبر السلطة التنفيذية والإدارة المحلية عن أحد جوانب مفهوم الجغرافيا السياسية ويتمثل في.....

أ- التنظيم الداخلي

ب- المقومات الطبيعية

ج- العلاقات الدولية

د- الحدود السياسية

28- يُشكل عنصرًا هامًا في تحديد العملية الانتاجية ومسار التنمية المستقبلية التركيب.....

أ- النوعي

ب- العمري

ج- الاقتصادي

د- السياسي

29- التكتل الذي تميز بوجود هيئة تشريعية هو .....

أ) اتحاد دول جنوب وشرق افريقيا

ب) منندي التعاون الاقتصادي

ج) مجلس التعاون الخليجي

د) الاتحاد الأوروبي

30- أحد العلماء ركز على أهمية توافر العوامل الإثنوغرافية لتحقيق قوة الدولة هو .....

أ. أرسطو

ب. كيلين

ج. رااتزل

د. ابن خلدون

Ayman Amin

31- تشبه المفوضية الأوروبية مجلس الأمن في كونها .....

أ- جهاز تنفيذي

ب- جهة إصدارالقوانين

ج- مركز للتشريعات

د- جهة تنسيق السياسات

32- أحد اهتمامات جغرافية الانتخابات يتم دراستها قبل العملية الانتخابية وهي .....

أ دراسة السلوك الانتخابي للسكان

ب توزيع الدوائر الانتخابية للدولة

ج دراسة أثر الانتخابات على الظروف البشرية

د- دراسة أثر الظروف الاقتصادية على سلوك الناخبين

33- تتميز جميع عواصم دول أي من التكتلات الاقتصادية بالعمق الجغرافي؟.....

أ - اتحاد المغرب العربي

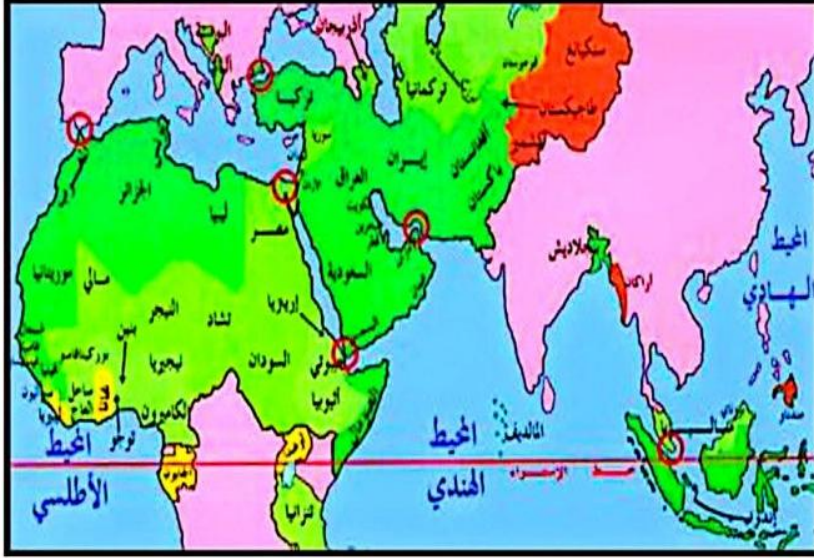
ب - النفط

ج - الكوميسا

د - الأبيك

34- ادرس الخريطة المقابلة ثم استنتج:

أي المضائق الأتية أكثر ارتباطا بمصادر الطاقة الحفرية؟ مضيق .....



أ- هرمز

ب- ملقا

ج - باب المندب

د - صقلية

35- يتمتع الأكراد بوجود وطن لهم تشكلت فيه ملامحهم الخاصة على أطراف كل من.....

أ - العراق وسوريا وتركيا وإيران

ب - العراق والكويت وتركيا وسوريا

ج- سوريا والأردن وإيران وتركيا

د - العراق وتركيا وسوريا وعمان

Ayman Amin

36- تستقبل هجرات غير شرعية لأسباب اقتصادية واجتماعية مناطق .....

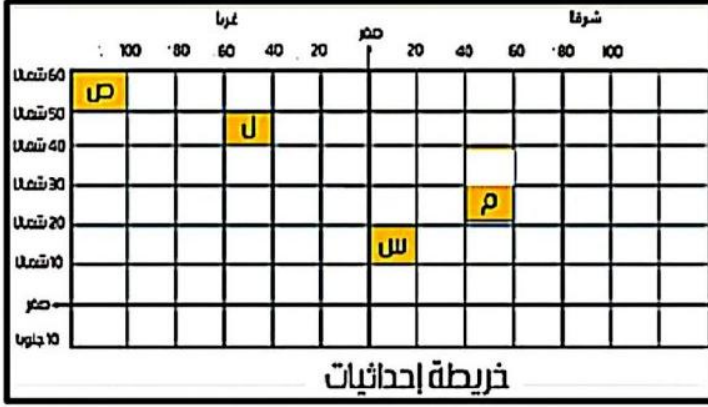
أ- جنوب غرب آسيا وساحل المتوسط الشمالي

ب- جنوب شرق أوروبا وجنوب شرق آسيا

ج- أمريكا الشمالية وغرب أمريكا الجنوبية

د- شمال أوروبا وجنوب غرب إفريقيا

37- بعد مطابقة خريطة العالم السياسية وشبكة الاحداثيات التي امامك نستنتج أن القلب الديني للعالم الإسلامي  
يمثله الرمز .....



أ- ( ص )

ب- ( ل )

ج- ( م )

د- ( س )

38- تتزايد النزاعات بين الدول حول مصادر الطاقة والثروات في مناطق .....

أ- المياه المحايدة

ب- أعالي البحار

ج- المياه الملاصقة

د- الرصيف القاري

Ayman Amin

39- تتركز الأقليات بالجهة الشمالية لكل من .....

أ - إيطاليا - أسبانيا - العراق

ب - إيران - تركيا - سوريا

ج - أستونيا - لاتفيا - ليتوانيا

د - المجر - النمسا - التشيك



40- ادرس الخريطة المقابلة ثم استنتج:

أي الدول الآتية يجاورها أكبر عدد من الدول

الحبيسة؟

أ- السودان

ب- تنزانيا

ج - زامبيا

د - النيجر

41. تمثل نقاط استراتيجية هامة في الخليج العربي والبحر المتوسط هما مضيقي.....

- أ - هرمز وملقا
- ب - باب المندب وجبل طارق
- ج - صقلية وباب المندب
- د - هرمز وجبل طارق

42- يختلف التركيب الديموغرافي لدولة موريتانيا من الناحية الإثنوغرافية عن دولة ..

- أ-مالي
- ب-جزر القمر
- ج- الصومال
- د- السودان

Ayman Amin

43- " تقسم حدود القارة القطبية الجنوبية بين مجموعة دول من نقطة القطب الجنوبي " نستنتج من ذلك أن الحدود السياسية بها تشبه اكثر الحدود السياسية انتشارا في قارتي:



- (أ) آسيا وأفريقيا .
- (ب) أوروبا وآسيا
- (ج) أمريكا الجنوبية وأوروبا .
- (د) أفريقيا وأمريكا الشمالية

44- أى المدن الآتية شهدت توقيع أحد المعاهدات التي ساهمت فى متغيرات النظام العالمي الجديد ؟

- أ- واشنطن
- ب- وارسو
- ج- الرياض
- د- ماسترخيت

## النموذج الاسترشادي الرابع لمادة الجغرافيا

### الصف الثالث الثانوي

1) ظهر الدور الإيجابي للجغرافيا السياسية كأحد العلوم التطبيقية في الربع الأخير من القرن العشرين لدولة تقع في ..... .

- (أ) شمال شرق أفريقيا  
(ب) وسط أوروبا  
(ج) جنوب آسيا  
(د) شمال غرب أفريقيا

2) "أصدرت محكمة العدل حكمها بين ليبيا وتونس بأن يسير الحد السياسي بزاوية 26 درجة ثم زاوية 52 درجة بسبب مورفولوجية تونس"، في ضوء هذه العبارة استنتج: أي مراحل ترسيم الحدود كان من الممكن أن يتم الاعتماد عليها في ذلك؟ مرحلة .....

- (أ) التعريف والتخطيط  
(ب) التحديد  
(ج) التعيين  
(د) إدارة الحد
- 3) "يحدد الحد السياسي سيادة الدولة على الموارد السطحية والباطنية والبحرية"، تنطبق العبارة على دولة .....

- (أ) بوليفيا  
(ب) أوغندا  
(ج) النمسا  
(د) بنجلاديش
- 4) ظهرت التكتلات الاقتصادية على الخريطة السياسية .....
- (أ) قبل الحرب العالمية الثانية  
(ب) مع الحرب العالمية الأولى  
(ج) أثناء الحرب الباردة  
(د) بعد حرب الخليج الثانية

5) التكتل الاقتصادي أحادي المورد .....

- (أ) مجلس التعاون لدول الخليج العربي  
(ب) منتدى التعاون الاقتصادي  
(ج) مجلس الاتحاد الأوروبي  
(د) السوق الأوروبية المشتركة

Ayman Amin



لضمان التفوق ابحث دائما عن موقع مدرستك

6) من خلال تحليلك لخريطة التكتلات الاقتصادية استنتج: تقطع دائرة الاستواء مجموعة من الدول تستفيد من مزايا الإنتاج الكبير يخرج عنها .....

أ- أندونيسيا

ب) أوغندا

ج- الكونغو الديمقراطية

د- كولومبيا

7) من خلال دراستك للجغرافيا السياسية: فإن الدولة الأقرب لسياسة الحياد العسكري والاقتصادي تقع في .....

أ- وسط أوروبا

ب- شمال أمريكا الشمالية

ج- شمال أوروبا

د- جنوب أمريكا الشمالية

8) "في بداية عام 2025م أعلنت الولايات المتحدة فرض تعريف جمركي تقدر بـ 25% على منتجات دولة كندا"، تتعارض العبارة السابقة مع إحدى مراحل قيام التكتلات الاقتصادية وهي .....

أ- التجارة الحرة

ب- السوق المشتركة

ج- التجارة التفضيلية

د- الوحدة الاقتصادية

9) أي الدول التالية رُسمت حدودها نتيجة تصفية الاستعمار لمستعمراته.....

أ- روسيا الاتحادية وجورجيا

ب- مصر والسودان

ج- اليمن والسعودية

د- كوريا الشمالية والجنوبية

10) تتشابه دول (استونيا - ليتوانيا - مالدوفيا) في.....

أ- الأقليات القومية

ب- الموقع الجغرافي

ج- الانضمام لحلف الناتو

د- الانضمام للاتحاد الأوروبي

11) "الباسك- تيمور الشرقية- الأكراد" مناطق تتشابه في تأثيرها الكبير على عدم استقرار دولهم سياسياً بسبب....

أ - الخصائص العرقية

ب- الموقع على الأطراف

ج - حجم الاقلية

د - قوتها الاقتصادية

Ayman Amin

لضمان التفوق ابحث دائما عن موقع مدرستك



تم المسح

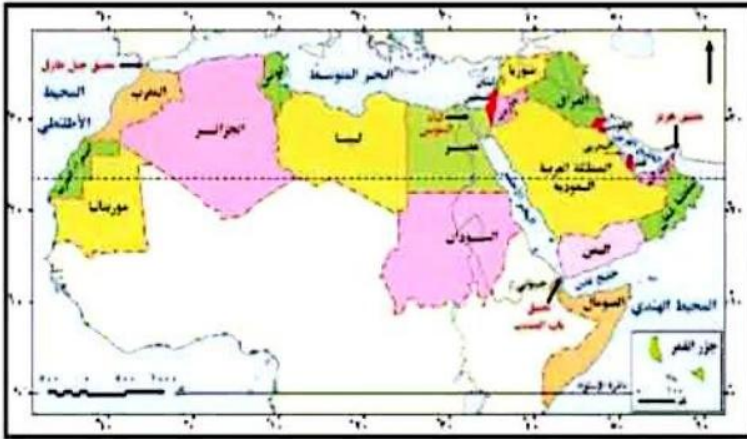
12 يصنف النزاع بين دول بحر الشمال ضمن المشكلات.....

أ- العسكرية الاجتماعية

ب- الاجتماعية السياسية

ج- الاقتصادية السياسية

د- الاقتصادية الاجتماعية



13 ادرس خريطة المقابلة استنتج:

توقع إذا كان الوطن العربي وحدة سياسية

واحدة فإن أقرب شكل لهذه الدولة هو ...

أ- المندمج ذو البروز

ب- المجزأ البري

ج- المستطيل الطولي

د- البري البحري المجزأ

Ayman Amin

14 بمقارنة الدول التي تطل على بحيرة فيكتوريا ومالوي نلاحظ أن الدول

المشرفة عليهما تتشابه من حيث .....

أ) شكل الدول

ب) أسباب نشأة الحد

ج) اشتراك في كتل اقتصادي

د) امتلاك حدود بحرية



15) المنطقة التي زاد عدد الدول المظلة عليها بعد الحرب العالمية الثانية سواحل .....

(أ) شرق المحيط الأطلنطي

(ب) شمال البحر البلطي

(ج) غرب البحر الأدرياتي

(د) جنوب بحر قزوين

16) الدولة التي نجحت في تنظيم حركة الرعاة وتحديد رؤوس الماشية ومناطق ارتجاعها على جميع حدودها وهي ....

(أ) غينيا.

(ب) بوتسوانا

(ج) موريتانيا .

(د) بوركينا فاسو.

17) تم رسم حدود وسط أوروبا على أساس .....

أ- ديني ب - حضاري ج- اقتصادي د - عرقي



18) ادرس الخريطين ثم استنتج :

"حدثت تغيرات شكلت الحدود السياسية

على خريطة العالم نتيجة عوامل طبيعية "

ينطبق مضمون العبارة السابقة على

الحدود السياسية في.....

أ- شمال غرب العالم

ب- جنوب غرب العالم

ج- جنوب شرق أوروبا

د- جنوب شرق اسيا



Ayman Amin

19) العالم الذي تناول أهمية تأثير البنية التحتية علي قوة الدولة هو.....

أ- ابن خلدون

ب- راتزل

د- ارسطو

ج- كيلين



لضمان التفوق ابحث دائما عن موقع مدرستك

20 أي العبارات التالية تعتمد على تقنية نظم المعلومات الجغرافية محليًا ؟  
أ- متابعة تطورات فيروس كورونا بالاتحاد الأوروبي

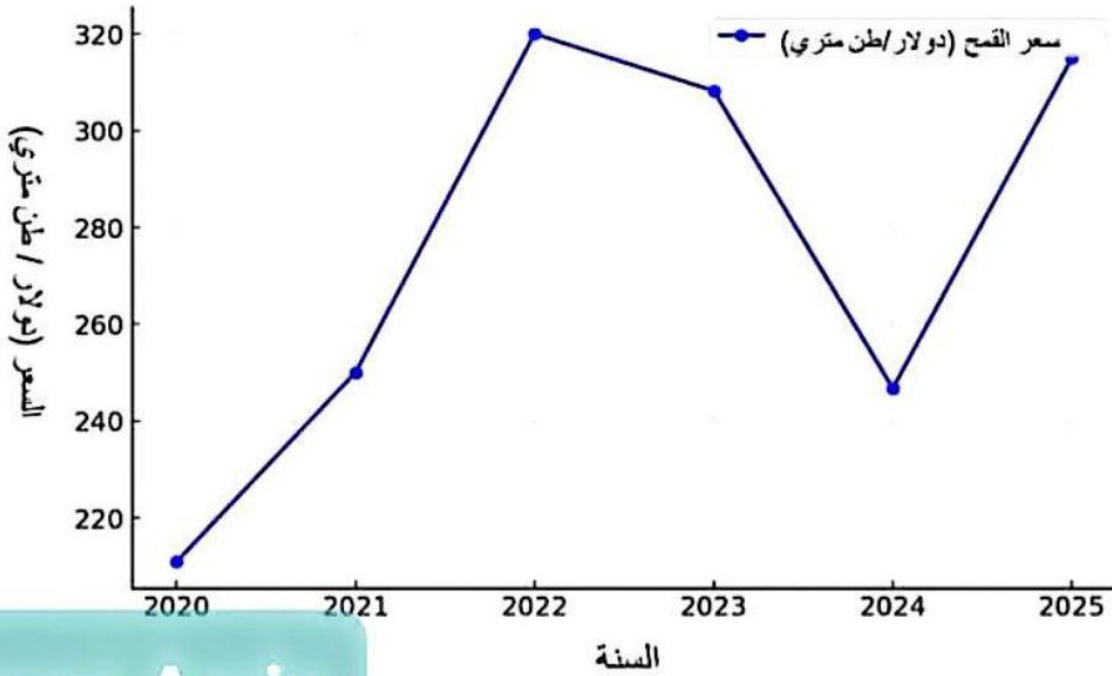
ب- محاولة اثبات ادعاء الدولة س على الدولة ص

ج- مراقبه الهجوم العسكري لروسيا على أوكرانيا

د- تقييم أداء الخدمات الصحية والتعليمية بمصر

21 ادرس الشكل الذي أمامك ثم استنتج:

تغير أسعار القمح العالمية من 2020-2025



Ayman Amin

يمكن دراسة ما ورد بهذا الشكل في أحد مجالات الجغرافيا .....

ب- التحليل السياسي للقوة

أ- النظام العالمي الجديد

د- العولمة

ج- سياسة الاستقطاب

22 "تسعى الدولة لتحقيق مصالحها بالاندماج والتمثيل السياسي الموحد مع دولة اخري"، في ضوء العبارة استنتج: حال رغبة بوركينا فاسو تحقيق التواصل بالعالم الخارجي يجب عليها اقامة اتحاد .....

ب- فيدرالي مع ساحل العاج

أ- كونفدرالي مع مالي

د- كونفدرالي مع ساحل العاج

ج- فيدرالي مع مالي



لضمان التفوق ابحث دائما عن موقع مدرستك

23) تقع الدولة الفيدرالية التي تتصل بالعالم الخارجي من جميع واجهاتها البحرية في الركن .....

ب- الجنوب الشرقي

أ- الشمالي الشرقي

د- الجنوب الغربي

ج- الشمال الغربي

24) ادرس الخريطة المقابلة ثم استنتج:



نتج عن تفكك تشيكوسلوفاكيا.....

أ- ثبات عدد الدول المجاورة للنمسا

ب زيادة عدد الدول الحبيسة لبولندا

ج- زيادة عدد الدول الحبيسة لألمانيا

د- تناقص عدد جيران دولة ألمانيا

25) أمامك جدول يوضح الموقع الفلكي لبعض الدول استنتج:

الدولة	دوائر العرض	خطوط الطول
س	من 22 شمالاً إلى 29 جنوباً	من 4 شرقاً إلى 11 غرباً
ص	من 11 شمالاً إلى 24 شمالاً	من 14 غرباً إلى 57 شرقاً
ع	من 68 شمالاً إلى 80 شمالاً	من 17 غرباً إلى 22 شرقاً
ك	من 2 شمالاً إلى 37 جنوباً	من 16 شرقاً إلى 25 غرباً

أي من الرموز السابقة يشير إلى الدولة الأوفر حظاً من حيث حرية الحركة المكانية لجيشها ؟

ب- ( ص )

أ- ( س )

د- ( ك )

ج- ( ع )



لضمان التفوق ابحث دائماً عن موقع مدرستك

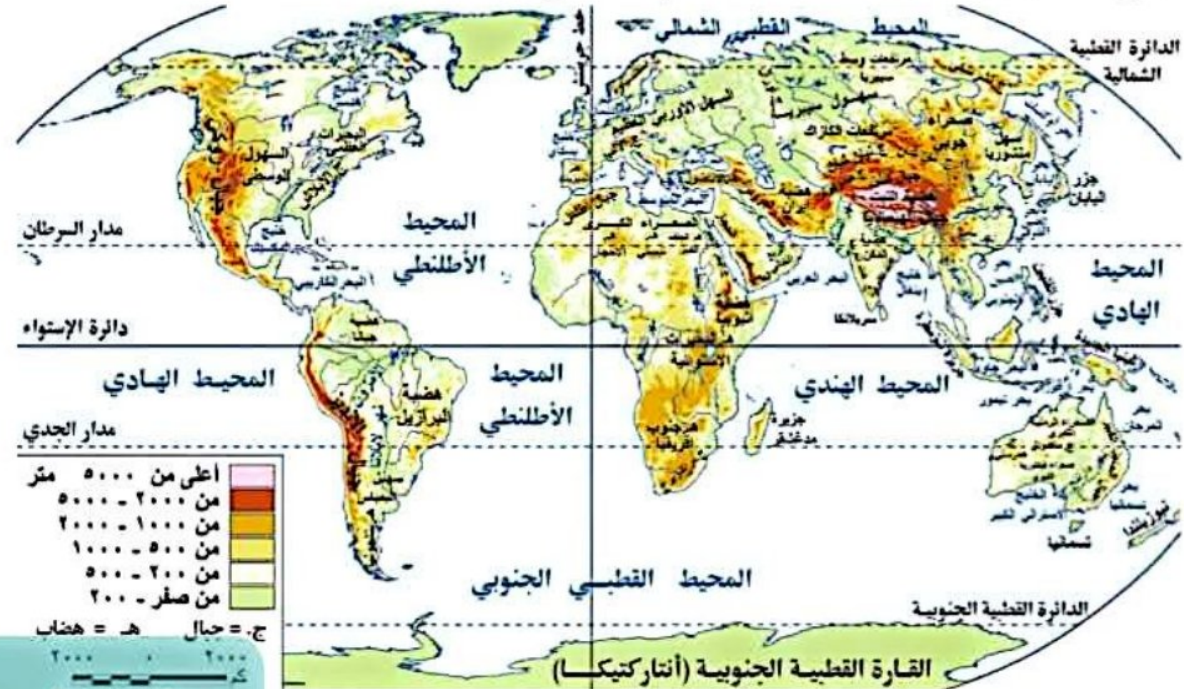
نم المسح

26) أحد العوامل الطبيعية التي أثرت سلباً على اندونيسيا وإيجاباً على تونس، هي .....

أ- المساحة ب- التضاريس

ج- الشكل د- الموارد الطبيعية

27) ادرس الخريطة المقابلة ثم استنتج:

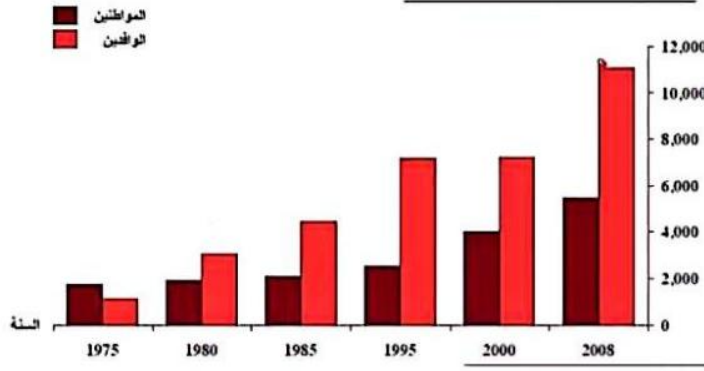


Ayman Amin

يقع الحوض الأدنى لنهر الفولجا في دولة تتمتع ب .....

أ- شكلها المندمج ذو البروز ب- شكلها المجزأ البحري

ج- وجود عاصمة مستحدثة د- وجود عاصمة قومية داخلية



28) ادرس الشكل الذي يوضح نسبة المواطنين إلى الوافدين في دولة : نستنتج أن هذه الدولة بها.....

ب- تشابه ثقافي.

أ- اختلال ثقافي .

د- زيادة معدل الإعالة.

ج- انخفاض معدل البطالة

29) أحد خصائص السكان لها دور في تحديد حق الإدلاء بأصواتهم في العملية الانتخابية ....

ب- التركيب العمري

أ- التركيب النوعي

د- الدين واللغة

ج- الحالة التعليمية

30) أي مما يلي يعبر عن مفهوم النظام السياسي بصوره المجتمعية يخرج عنها

ب- توسيع السعودية في التامين الصحي

أ- تطوير البنية التحتية للمغرب

د- تطوير الامارات لنظام التعليم

ج- قرار مصر الانضمام للبريكس

31) " اتبعت البرازيل مبدأ إعلام مواطنيها بحقيقة الوضع المالي بكل صراحة وتطبيق برنامج التقشف حتى أصبحت سادس اقتصاد في العالم "، من تحليلك للعبارة المقابلة يرجع نجاح البرازيل الى القوة .....

ب- التنظيمية

أ- العسكرية

د- الديموغرافية

ج- المورفولوجية

32) ظهرت معاهدة الصداقة والتعاون والمساعدة المتبادلة كرد فعل مباشر بعد .....

أ- عقد ميثاق حلف شمال الأطلنطي 1949

ب- اتباع ألمانيا الغربية سياسة التسلح الجماعي

ج- التدخل العسكري في دولة تشيكو سلوفاكيا

د- عقد ميثاق منظمة حركة عدم الانحياز 1955م



لضمان التفوق ابحث دائما عن موقع مدرستك

تم المسح

33) من خلال دراسة خريطة العالم الطبيعية، من المتوقع أن يشبه اتجاه مصب النهر في الدولة ( س ) يشبه اتجاه مصب نهر .....



- أ) الامازون في البرازيل  
ب) الراين في هولندا  
ج) النيل في مصر  
د) النيجر في نيجيريا

Ayman Amin

34) ادرس الجدول الذي أمامك ثم استنتج:

المؤشرات	الخطة (س)	الخطة (ص)	الخطة (ل)	الخطة (ع)
الدخل القومي	41	28	21	14
الإنتاج الصناعي	50	43	24	15
الإنتاج الزراعي	21	13	9	5
انتاجية العمل	37	25	17	13
متوسط الدخل للفرد	33	24	18	9
معدلات النمو في الدولة (ق) بين ( 1966 - 1985 )				

الفترة الزمنية التي شجعت الحركات القومية ذات الجانب الانفصالي تمثلت في الفترة الزمنية في الخطة .....

ب - ص

أ - س

د - ع

ج - ل

35) الحد السياسي الحضاري الذي فرض بقوى خارجية يفصل بين دولتي.....

ب- مصر والسودان

أ- المجر والنمسا

د- مصر وليبيا

ج- الهند وبنجلاديش

36) أي المناطق الآتية تمثل أحد أهم مناطق إنتاج واستهلاك الوقود الحفري في العالم هي منطقة دول .....

- أ- بحر الشمال  
ب- البحر الأحمر  
ج- الخليج العربي  
د- خليج البنغال

37) الجهة المسؤولة عن تدويل القضايا والمشاكل في الأمم المتحدة .....

- أ- البنك الدولي  
ب- صندوق النقد الدولي  
ج- مجلس الأمن  
د- منظمة الأغذية والزراعة

38) "تصت اتفاقية فيينا 1975 في المادة 84 في حالة نشوب نزاع بين دولتين أو أكثر تجرى مشاورات فيما بينهما"، تعبر العبارة السابقة عن طرق حل النزاعات سلميا وهي .....

- أ- المساعي الحميدة  
ب- الوساطة  
ج- المفاوضات  
د- التوفيق

Ayman Amin

39) "شهد العالم تحولات كبيرة في العلاقات الدولية عبر تاريخه"، في ضوء العبارة السابقة استنتج: أقدم المناطق التي ظهرت بها العلاقات الدولية ....

- أ- المشرق العربي  
ب- البحر البلطي  
ج- بلاد الحجاز  
د- بحر المانش

40) في ضوء دراستك للمقومات الطبيعية لقوة الدولة: أي المناطق التالية يوجد بها وفرة في المواد الخام لتوطن الصناعات الثقيلة؟ .....

- أ- شرق هولندا  
ب- غرب ألمانيا  
ج- جنوب فرنسا  
د- جنوب هولندا

41) المنطقة التي فرضت حدودها دون رغبة السكان ونتج عنها مشكلات سياسية ولا تزال مستمرة توجد في .....

- أ- شرق السودان  
ب- شرق تشاد  
ج- جنوب اليمن  
د- جنوب انجولا

42) «الموقع الجغرافي قدر ثابت تتغير عليه الدول ولا يتغير». تنطبق المقولة السابقة

بشكل واضح علي الحدود بين كل من .....

- أ- ألمانيا وفرنسا  
ب- ليبيا الجزائر  
ج- تشيلي والأرجنتين.  
د- السعودية و الأردن



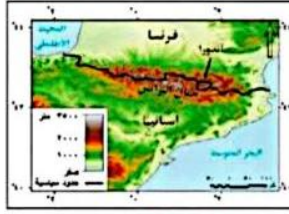
43- ادرس الخريطة السياسية لقارة أمريكا الجنوبية،

ثم استنتج: تتميز البرازيل عن باقي دول القارة بـ ..

- أ- قلة عدد الدول المجاورة والمساحة الصغيرة..  
ب- زيادة عدد الدول المجاورة والمساحة الصغيرة..  
ج- زيادة عدد الدول المجاورة والمساحة الكبيرة.  
د- قلة عدد الدول المجاورة والمساحة الكبيرة.

44) ادرس الخريطة المقابلة ثم استنتج:

تتوقع إذا اختفت جبال البرانس فإن الحدود السياسية سوف تكون.....



أ- بحرية

ب- هندسية

ج- طبيعية

د- نهريّة

45) ما مدى مصداقية العبارة الآتية ؟

لعب حلف الناتو دورًا إنسانيًا في العقد الأول من الألفية الثالثة

عبارة صادقة: حيث تدخلت

قوات الحلف للتخفيف من آثار

الزلازل الذي ضرب باكستان عام

٢٠٠٦م و إغاثة المتضررين من

اعصار كاترينا الذي اجتاح

الولايات المتحدة عام ٢٠٠٦م

Ayman Amin

46) دلل جغرافيا

لعبت الطبيعة دور كبير في تغير مساحات بعض الدول

حيث أدى تغير مجرى نهر

الريوجراند بين الولايات المتحدة

والمكسيك إلى تحول تبعية بعض

المناطق من الولايات المتحدة إلى

المكسيك



لضمان التفوق ابحث دائما عن موقع مدرستك

تم المسح

النماذج الاسترشادية لمادة الجغرافيا  
الصف الثالث الثانوي  
النموذج الخامس

1- يعد من أبرز المفكرين الذي حدد العلاقة بين البيئة الجغرافية والمجتمعات البشرية بأنها علاقة ديناميكية تعتمد على التحولات الاجتماعية والاقتصادية العالم .....

أ) ابن خلدون

ب) سيجفريد

ج) كيلين

د) راتزل

2- يتم دراسة العلاقات بين الحدود السياسية والمقومات الجغرافية ضمن مجال .....

أ) الوحدات السياسية

ب) النظام العالمي الجديد

ج) التحليل السياسي للقوة

د) العلاقات الدولية

Ayman Amin

3- أمامك خريطة سياسية لقارة آسيا ادرسها جيدًا ثم استنتج :

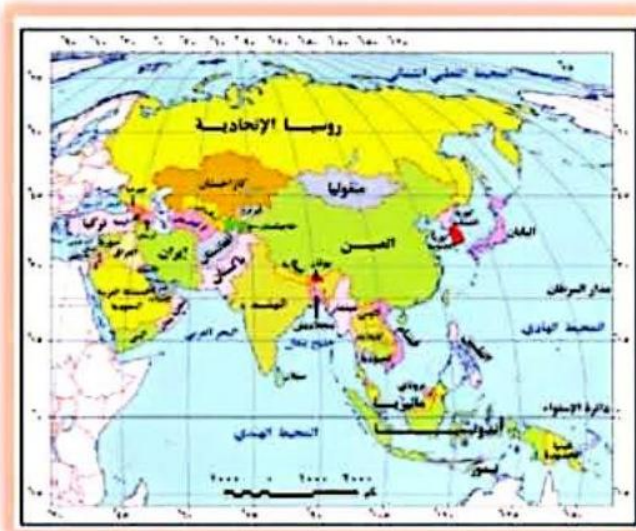
تتشابه دولتي منغوليا واوزبكستان في .....

أ) التنوع في الأقاليم المناخية

ب) الموقع الاستراتيجي

ج) الموقع الفلكي

د) صعوبة الوصول بين أجزاءها



4-التقنية الحديثة التي تعتمد عليها الأمم المتحدة فى قرار الفصل بين نزاع حدودي بين دولتين  
هى تقنية.....

أ) تكنولوجيا المعلومات

ب) نظم المعلومات الجغرافية

ج) نظم تحديد المواقع

د) وسائل الاتصال اللاسلكى

5-مشكلة سياسية تدخلت الأمم المتحدة لحلها مرتين تقع بالقرب من .....

أ) غرب الصين

ب) غرب باكستان

ج) شرق الهند

د) شرق بنجلاديش

Ayman Amin

6-دولة استطاعت زيادة القوة الاقتصادية دون الدخول فى التكتلات الاقتصادية .....

أ) ألمانيا

ب) اليونان

ج) السويد

د) النرويج

7-يوجد اختلاف بين المياه الدولية والمياه الإقليمية فى.....

أ) ثروتها البحرية

ب) أهميتها الملاحية

ج) التغطية الجغرافية

د) الحقوق السيادية

-2-

حقوق النشر محفوظة لوزارة التربية والتعليم والتعليم الفني 2025-2026



لضمان التفوق ابحث دائما عن موقع مدرستك

المسح

8- يحق للدولة مكافحة التلوث في المسطحات المائية التي تشرف عليها ابتداءً من خط الساحل وحتى.....

(أ) نهاية المياه الإقليمية

(ب) نهاية المياه التكميلية

(ج) بداية المياه الإقليمية

(د) بداية المياه التكميلية

9- " تعاني بعض الدول من الانعزال الجغرافي وتقييد للقوة العسكرية والسياسية والاقتصادية" تنطبق العبارة السابقة علي دولة .....

(أ) ليسوتو

(ب) نامبيا

(ج) زيمبابوي

(د) بتسوانا

Ayman Amin

10- لضمان الحقوق المائية اتجهت الدول إلى تحقيق التعاون الدولي من خلال .....

(أ) إنشاء منظمة الفاو

(ب) عقد اتفاقية باريس

(ج) عقد مؤتمر سان فرانسيسكو

(د) إنشاء منظمة الأمم المتحدة

-3-

حقوق النشر محفوظة لوزارة التربية والتعليم والتعليم الفني 2025-2026

تم المسح الضوئي بـ CamScanner



لضمان التفوق ابحث دائما عن موقع مدرستك

11- أي مما يلي ينطبق عليه مفهوم الأمة؟

(أ) الأقلية الزنجية

(ب) الأقلية الكردية

(ج) الأمم المتحدة

(د) الاتحاد الأوروبي

12- تستطيع توفير المادة الخام اللازمة للصناعات الثقيلة وتمتع باستقلال السلطات المحلية\*  
تنطبق العبارة السابقة علي دولة .....

(أ) الصين

(ب) مصر

(ج) كندا

(د) اليابان

Ayman Amin

13- تكاد تخلو بعض مناطقها من السكان وتعانى من صعوبة الوصول بين أجزاءها دولة.....

(أ) مالطة

(ب) بولندا

(ج) هولندا

(د) النرويج

14- تتمتع مصر بالوحدة والتجانس بين سكانها ويرجع ذلك إلى.....

(أ) الشكل - التضاريس - اللغة .

(ب) الموقع - الدين - التعليم

(ج) المساحة - المناخ - الهجرة

(د) المساحة - الدين - اللغة



15- (( تقع العاصمة نيودلهى على نهر يامونا فى شمال الهند وعلى مسافة 300 كم من الحدود الشمالية من جبال الهيمالايا))

فى ضوء العبارة استنتج

تم اختيار العاصمة نيودلهى على أساس .....

(أ) الموقع البحري- الحماية والدفاع

(ب) السيادة القومية -سهولة الوصول

(ج) سهولة الوصول -الحماية والدفاع

(د) العامل التاريخي -السيادة القومية

Ayman Amin

16- تتمتع سويسرا بمجموعة من الحدود الطبيعية كالجبال والأنهار التى تفصلها عن جيرانها وساعدها فى ذلك .....

(أ) الموقع الجغرافي

(ب) نظام الحكم

(ج) التعدد اللغوى

(د) شكل الدولة

17 - تتشابه كل من التخوم والمياه الدولية فى.....

(أ) الأهمية الاقتصادية

(ب) الصفة القانونية

(ج) الفصل بين الدول

(د) الحماية والأمن



18- ( يعتبر جدار الحماية العظيم فى الصين هو أشهر أنظمة الرقابة على الانترنت للحد من المعلومات التى تهدد استقرار الدولة )

فى ضوء العبارة استنتج

يهدف جدار الحماية العظيم إلى تطبيق أحد وظائف الحدود السياسية وهى الوظيفة .....

(أ) السياسية

(ب) الاقتصادية

(ج) الأمنية

(د) القانونية

19- فى حال استقلال كشمير كدولة سوف تعاني من .....

(أ) العوامل الخارجية

(ب) الاختلاف العرقي

(ج) الاختلاف اللغوى

(د) الانغلاق الجغرافى

20- (( استطاع الاتحاد السوفيتي فترة الحرب العالمية الثانية نقل سكان المناطق الشرقية إلى الوسط وسهول سيبيريا ونقل الصناعات الحيوية ))

فى ضوء العبارة استنتج

-استخدمت روسيا لحماية السكان والمصانع فى الحرب .....

(أ) مقوماتها المورفولوجية

(ب) أسلحتها المتطورة

(ج) صناعاتها الحيوية

(د) مقوماتها البشرية

-6-

حقوق النشر محفوظة لوزارة التربية والتعليم والتعليم الفني 2025-2026

تم المسح الضوئي بـ CamScanner



لضمان التفوق ابحث دائما عن موقع مدرستك

21- تم عقد الاتفاقات السياسية بين بعض الدول بسبب التغير المناخي كما في دولتي .....

(أ) بوركينا فاسو والنيجر

(ب) السودان ومالي

(ج) موريتانيا وأوغندا

(د) اليمن وعمان

22- اتجهت ألمانيا في الحرب العالمية الثانية إلى التوجه شرقاً من أجل .....

(أ) تطبيق أهداف الجيوبولتيك

(ب) توفير المادة الخام

(ج) فرض السيطرة العالمية

(د) تحقيق التوازن الدولي

Ayman Amin

23- يرجع الاختلاف في التركيب النوعي و محاولات محو الهوية بدول الخليج العربي إلى .....

(أ) الهجرة غير الشرعية - العولمة

(ب) وسائل الاتصال - الدين

(ج) الهجرة القسرية - اللغة

(د) المساحة الكبيرة - العولمة

24- تكاد تخلو خريطة العالم في الوقت الحالي من .....

(أ) الوحدات السياسية

(ب) التكتلات الاقتصادية

(ج) الأحادية القطبية

(د) الامبراطوريات

-7-

حقوق النشر محفوظة لوزارة التربية والتعليم والتعليم الفني 2025-2026

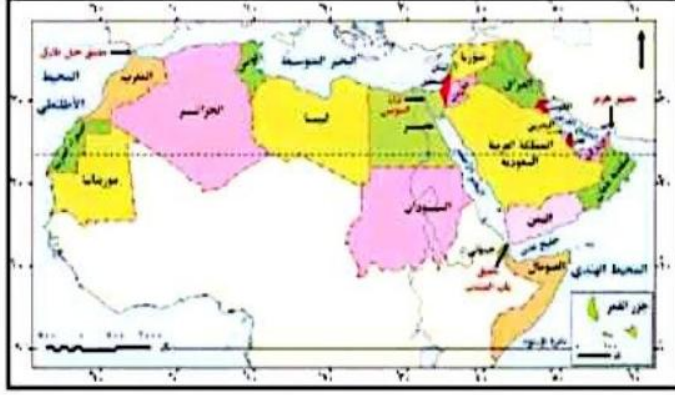


لضمان التفوق ابحث دائما عن موقع مدرستك

لم المسح

25- ادرس خريطة المقابلة ثم استنتج:

توقع إذا كان الوطن العربي وحدة سياسية واحدة فإن أقرب شكل لهذه الدولة هو ...



(أ) المندمج

(ب) المجزأ

(ج) المستطيل

(د) المحتوي

26- أدى الطابع التضاريسي في دولة هولندا إلى .....

(أ) الانسجام الحضارى

(ب) توفير المعادن

(ج) تعدد اللغات

(د) إعاقة التنمية

27- (( يعتبر الإمبراطور فى اليابان رئيسًا للدولة بلا سلطات تنفيذية ، ورئيس الوزراء هو المسؤول عن تنفيذ السياسات ))

فى ضوء العبارة استنتج

تتبع اليابان نظام الحكم.....

(أ) البرلمانى

(ب) الرئاسى

(ج) شبه رئاسى

(د) شبه برلمانى

28- تعمل الدول على توفير الأمن المائي من خلال تسوية الخلافات الإقليمية وهو ما يعبر عن مفهوم .....

(أ) النظام السياسي في صورته المؤسسية

(ب) النظام السياسي في صورته الاجتماعية

(ج) المنظمات الإقليمية والدولية

(د) اتفاقية القانون الدولي للبحار

29- أثناء فترة الانتخابات في احدي الدول حدث خلاف علي ترشيح أحد المنافسين ويُدرس ذلك ضمن أحد مجالات الجغرافية السياسية وهو مجال .....

(أ) تشابه التصويت

(ب) سلوك الناخبين

(ج) أثر البيئة الطبيعية على الانتخابات

(د) أثر البيئة البشرية على الانتخابات

30- تتشابه الجغرافيا السياسية وجغرافية الانتخابات في .....

(أ) المنهج السائد

(ب) أهداف كلاً منهما

(ج) دراسة المقومات الجغرافية

(د) مجالات الدراسة





31- أمامك خريطة سياسية لقارة أمريكا الجنوبية،

ادرسها جيداً ثم استنتج:

تتشابه دولتي بوليفيا وكولومبيا من حيث .....

- (أ) نوع النبات الطبيعي والاحتكاك الحضاري.
- (ب) الاحتكاك الحضاري وعدد الدول المجاورة.
- (ج) عدد الدول المجاورة والتكوين المورفولوجي.
- (د) التكوين المورفولوجي وتنوع النبات الطبيعي

32- يوجد اختلاف بين عوامل قيام التكتل الاقتصادي والعولمة الاقتصادية يتمثل في المقوم .....

تم وضع سؤال بديل ل 32 وهو  
- يوجد اختلاف بين دول الخليج  
العربي والاتحاد الأوروبي يتمثل  
في ....  
(أ) الاتصال الارضي (ب)  
الانسجام السياسي (ج) التنوع  
البيئي (د) حرية الانتقال

(أ) السياسي - الاقتصادي

(ب) الاقتصادي - العسكري

(ج) البشري - الجغرافي

(د) الجغرافي - السياسي

33- العامل السياسي المشترك بين عناصر قوة الدولة الاقتصادية والتكتلات الاقتصادية هو

السعي لتحقيق .....

(أ) رفاهية المواطنين

(ب) الصمود الاقتصادي

(ج) مزايا الإنتاج الكبير

(د) كفاءة استثمار الموارد

Ayman Amin



34- (الحجم السكاني الكبير - التركيز الجغرافي للأقلية - تعدد اللغات)

كلها عوامل جغرافية تساعد على.....

(أ) الحركات الانفصالية

(ب) ضعف القوة التنظيمية

(ج) توقف حركة التنمية

(د) الصراعات الإقليمية

Ayman Amin

35- (يبلغ عدد العمال في أقلية ما للدولة (س) 3 مليون شخص منتشرين جغرافياً لكنهم يعانون من التمييز العنصري )

في ضوء العبارة استنتج

-تسعى هذه الأقلية في الحصول على حقوقهم داخل الدولة (س) عن طريق.....

(أ) الحركات الانفصالية

(ب) الحركات الاجتماعية

(ج) الانضمام لأحلاف عسكرية

(د) الانضمام لتكتلات اقتصادية

36- تم حل العديد من المشكلات الاقتصادية والاجتماعية في أوروبا من خلال.....

(أ) الحدود الخطية-اتفاقية باريس

(ب) تكتل الاتحاد الأوروبي -حلف وارسو

(ج) إزالة التخوم -الاستقطاب العالمي

(د) إنهاء الحرب الباردة -الأمم المتحدة

تم وضع سؤال بديل ل ٣٥ وهو  
عدم الرضا عن المناطق الهامشية  
أدى لظهور الحدود السياسية  
بسبب ....  
أ) اكتشاف الموارد ب) إيقاف  
الهجرة غير الشرعية ج) خوفاً  
من الاضطرابات الأمنية د) اثارة  
النزاع علي الحدود



37- (تعد معاهدة وستفاليا 1648م نقطة تحول حاسمة فى العلاقات الدولية لأنها أنهت الحروب الدينية فى أوروبا وأرست مفهوم السيادة الوطنية )

فى ضوء العبارة استنتج

يتشابه الدور الذى قامت به معاهدة وستفاليا مع دور .....

(أ) الحدود السياسية

(ب) معاهدة باريس

(ج) تكتل الكوميسا

(د) عصبة الأمم

Ayman Amin

38- من أبرز معالم العلاقات الدولية فى بداية القرن العشرين .....

(أ) تكوين الامبراطوريات

(ب) قيام عصبة الأمم

(ج) تأسيس الاتحاد الأوروبي

(د) ظهور العولمة

39- يعانى الشرق الأوسط فى الفترة الحالية من صراعات أدت لزيادة .....

(أ) التمييز العرقي

(ب) تفكك المنظمات

(ج) ظهور أقليات

(د) الهجرة القسرية



40- لجأت الدول التي تعاني من مشكلات حدودية متأثرة بالتغيرات المناخية إلى.....

أ) التحالفات عسكرية

ب) الاتحادات الفدرالية

ج) الصراع المسلح

د) عقد المعاهدات

41- يعد التحدي الرئيسي للنظام العالمي الجديد سياسيًا في بداية القرن الواحد والعشرين هو....

أ) تنامي النزاعات الداخلية في الدول المتقدمة

ب) ظهور نظام متعدد الأقطاب على خريطة العالم

ج) انهيار النظام الدولي عقب الحرب العالمية الثانية

د) انتشار الأسلحة النووية في الدول النامية

Ayman Amin

42- تزامن تحول العلاقات الدولية من الجوار إلى أفق أوسع شملت العالم بأسره مع .....

أ) ظهور المسح الميداني

ب) نشأة الحدود الخطية

ج) عقد معاهدة بارثولونة

د) ظهور النظام العالمي



43- (يدور الصراع بين الدول المتقدمة على المواد الخام التي تدخل في صناعة التكنولوجيا )

في ضوء العبارة استنتج

يتم دراسة مضمون العبارة السابقة ضمن أحد مجالات الجغرافيا السياسية وهو مجال .....

(أ) النظام العالمي الجديد

(ب) التحليل السياسي للقوة

(ج) الوحدات السياسية

(د) العلاقات الدولية

44- يعد من أبرز خصائص النظام العالمي الجديد .....

(أ) النزاع المسلح بين الدول الكبرى

(ب) الهيمنة الاستعمارية

(ج) تعزيز التعاون الاقتصادي

(د) تعزيز السيادة الوطنية

الأسئلة المقالية

45- دال على صدق العبارة:

الأمم المتحدة وحلف الناتو لهم أهداف وأدوار مشتركة.

45) - حل النزاعات بالطرق

السلمية

- التدخل في البوسنة والهرسك

-14-

حقوق النشر محفوظة لوزارة التربية والتعليم والتعليم الفني 2025-2026

46- إقترح حلول للمشكلات السياسية الناتجة عن التغيرات المناخية.

46) - عقد معاهدات واتفاقيات

بين الدول

- زيادة التعاون الإقليمي والدولي

لمواجهة الآثار المترتبة علي

التغيرات المناخية

- اللجوء للمحاكم الدولية للفصل

في المنازعات بين الدول

تم المسح



لضمان التفوق ابحث دائما عن موقع مدرستك

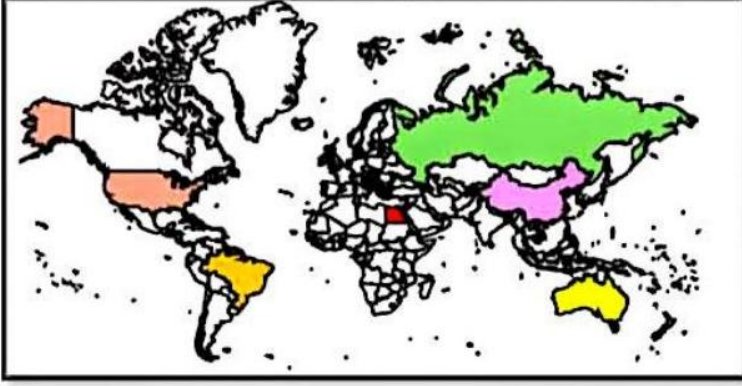
## النماذج الاسترشادية لمادة الجغرافيا

### الصف الثالث الثانوي

#### النموذج السادس

1- ادرس الخريطة المقابلة ثم استنتج:

يمكن دراسة أثر التفاعلات للدول الموضحة مع بعضها أو مع دول أخرى، عن طريق أحد مجالات الجغرافيا السياسية، وهو



....

أ- الوحدات السياسية

ب- العلاقات الدولية

ج- المشكلات السياسية

د- التحليل السياسي للقوة

Ayman Amin

2- " إذا رأيت الدول تنقص من أطرافها وتدور بها الصراعات الداخلية فانتظر زوالها"

يعبر مضمون المقولة السابقة عن أحد مراحل دورة حياة الدولة عند ابن خلدون وهي مرحلة .....

ب- الشباب

أ- النشأة

د- الاضمحلال

ج- النضج



3- ادرس الخريطة المقابلة ثم استنتج:

- ينتمي مؤسس علم الجيوبولتيك لدولة تتصف بـ ...

أ- التنوع المناخي والشكل الشريطي

ب- الشكل المنتظم والتطرف المناخي

ج- الشكل المنتظم والتنوع المناخي

د- التطرف المناخي والشكل الشريطي



4- " تابع العالم الانتخابات الأمريكية في نوفمبر 2024 م، ورصد نتائج وأرقام الولايات المختلفة أولاً بأول حتى تم اعلان المرشح الفائز "

يتبين من تحليل مضمون العبارة السابقة أنها توضح أهمية دور التقنيات الحديثة وهي ..

أ- الاستشعار من بعد

ب- وسائل الاتصالات المختلفة

ج- نظم المعلومات الجغرافية

ج- نظام تحديد المواقع العالمي

5- " في الفترة من أوائل القرن العشرين إلى منتصفه بدأ التوسع الاستعماري على حساب الدول المجاورة وحدث خلط بين علم الجيوبولتيك والجغرافيا السياسية والذي ظهر في وسط أوروبا "

يتماشى مضمون العبارة السابقة مع ما يحدث الآن بين دولتي :

أ- روسيا وأوكرانيا

ب- الصين والولايات المتحدة

ب- إيطاليا وفرنسا

ج- باكستان والهند

6- (إذا اتحدت دول الوطن العربي في دولة واحدة، لها دستور وعلم وعملة موحدة)

من المتوقع أن أنسب نظام سياسي وإداري للدولة الناشئة يتشابه مع نظام دولة.....

أ- الصين

ب- فرنسا

ج- البرازيل

د- اليابان

Ayman Amin

7- ادرس الخريطة أمامك ثم استنتج:

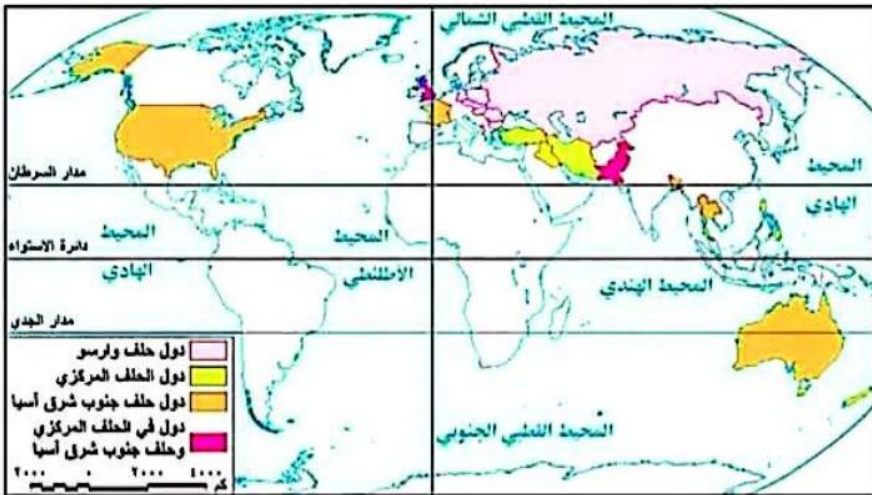
الدولة التي اشتركت في ثلاث أحلاف عسكرية هي ....

أ - ألمانيا

ب- فرنسا

ج- الولايات المتحدة الأمريكية

د- المملكة المتحدة



-2-

تم المسح الضوئي بـ CamScanner



لضمان التفوق ابحث دائما عن موقع مدرستك

8- ادرس خريطة العالم المقابلة ثم استنتج:

تشابه الدول الموضحة على الخريطة مع

خصائص الأمة ويخرج عنها الدولة التي

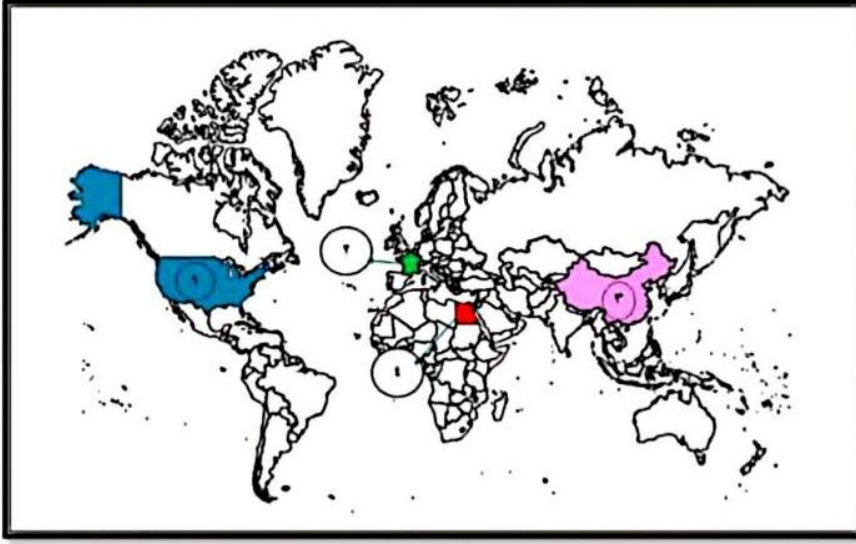
يرمز لها بالرقم ...

أ- 1

ب- 2

ج- 3

د- 4



9- ادرس خريطة أمريكا الجنوبية المقابلة ثم استنتج:

تعد من أكثر المقومات الطبيعية تأثيرًا سلبيًا

في الوزن السياسي للدولة الموضحة بالخريطة .....

أ- مساحة الدولة

ب- موقع الدولة

ج- شكل الدولة

د- اتنوغرافية الدولة



Ayman Amin

10- ادرس خريطة الوطن العربي ثم استنتج:

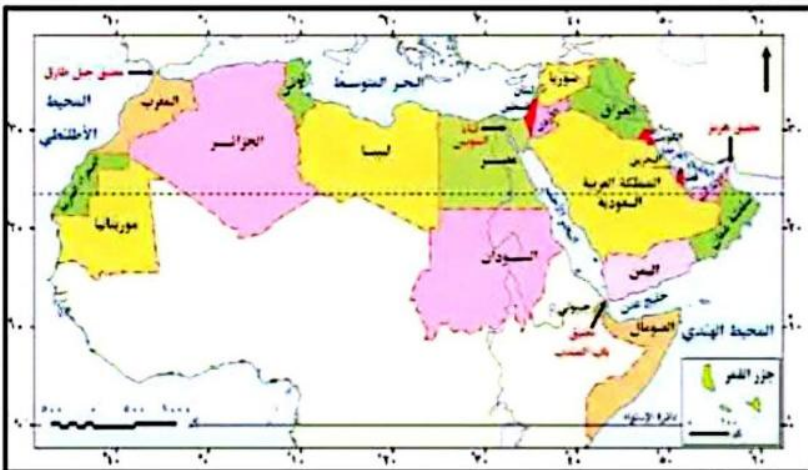
يمر مدار السرطان بدولة أكثر تأثرًا بالكوارث الطبيعية وهي دولة ....

أ- الجزائر

ب- موريتانيا

ج- الإمارات

د- البحرين



-3-



لضمان التفوق ابحث دائما عن موقع مدرستك

تم المسح

11- أمامك شكل يوضح الهرم السكاني لدولة الإمارات العربية المتحدة،



من خلال تحليل هذا الهرم السكاني نستنتج .....

أ- زيادة معدل الإعالة وعدم تجانس السكان.

ب- عدم تجانس السكان وانخفاض معدل الإعالة.

ج- انخفاض معدل الإعالة ووفرة العمالة الوطنية.

د- وفرة العمالة الوطنية واختلال التركيب النوعي.

Ayman Amin

12- ادرس الخريطة المقابلة ثم استنتج:

تتصف الدولة المسؤولة عن رسم الحدود السياسية بين مصر والسودان بأنها.....



خريطة (٩٠١) : خريطة العالم السياسية قبل الحرب العالمية الأولى

أ- غير مترابطة جغرافياً

ب- يتولى الملك مسؤوليه الحكم

ج- تفتقر للحدود الطبيعية

د- صعوبة الاتصال الحضاري

13- " مصر غنية بشعبها، ويمكن استثمار الثروة البشرية لمصر في شتى المجالات "

في ضوء العبارة استنتج

تتعدد العوامل البشرية المؤثرة في قوة مصر والتي تتمثل إحداها في .....

أ- التنوع الاثنوغرافي

ب- التفوق العرقي

د- التقدم التكنولوجي

ج- التجانس الديموغرافي



14- تتشابه الدولتان الموضحتان في عوامل اختيار العاصمة، ومنها عاملي.....



أ- القومية والعمق

ب- القدم والعمق

ج- القدم والقومية

د- الحدائة والحماية

**Ayman Amin**

15- ادرس الخريطة التي أمامك واستنتج:

عند نقطة التقاء دائرة عرض 40 درجة شمالاً مع خط طول 4 درجة غرباً، فإن هذه النقطة تمثل دولة تتصف بأن لها عاصمة .....



خريطة (٢٠٣) : دول الاتحاد الأوربي

أ- تاريخية، وسيادة قومية

ب- مستحدثة، وصعوبة الاتصال

ج- عاصمة داخلية ، سهولة الوصول

د- ساحلية، وبها تنوع مناخي

16- " أهمية الدولة لا تقاس بالكيلومترات المربعة "

تعبر هذه المقولة عن دولة ...

أ- افغانستان

ب- طاجيكستان

ج- أوزبكستان

د- سنغافورة

17- تتوقع أي الدول الآتية تواجه صعوبة في الاتصال بالعالم الخارجي ؟

أ- البرازيل

ب- الولايات المتحدة

ج- تشاد

د- استراليا



18- تتشابه دولة فرنسا مع المملكة المتحدة في .....

- أ- طريقة اختيار السلطة التشريعية  
ب- صلاحيات رئيس الوزراء  
ج- صلاحيات رئيس الدولة  
ج- أنظمة الحكم من حيث الشكل

19- يستخدم في النظام شبه الرئاسي مضمون الصورة الآتية

لتحديد مهام السلطة التنفيذية بين .....

- أ- الرئيس ورئيس الحكومة  
ب- الرئيس والسلطة القضائية  
ج- البرلمان والسلطة القضائية  
د- رئيس الحكومة و البرلمان



20- "قامت الحكومة المصرية في الفترة الأخيرة بإقامة مدينة العلمين الجديدة لتوفير فرص عمل للشباب"

يشير الهدف في العبارة السابقة الى أحد أشكال النظام السياسي وهو ....

- أ- النظام السياسي في صورته المؤسسية  
ب- النظام السياسي في صورته الاجتماعية  
ج- النظام الانتخابي  
د- النظام الإداري .

Ayman Amin

21- يمثل دور الجغرافيين في العملية الانتخابية في .....

- أ- الترشح للانتخابات  
ب- تقسيم الدوائر الانتخابية  
ج- إعلان الفائزين  
د- اجراء العملية الانتخابية



22- حلل بيانات الجدول المقابل ثم استنتج:

يمكن دراسة هذا البيانات في أحد مجالات جغرافيا الانتخابات وهي ...

النسبة	الحزب	المركز الانتخابي
50%	س	أوسيم
40%	س	كرداسة
10%	ص	بولاق الذكور
20%	ص	العمراتية

أ- توزيع الدوائر الانتخابية

ب- التباين المكاني في التصويت

ج- دراسة السلوك الانتخابي

د- دراسة أثر الانتخابات على البيئة

23- كافح الزوج في الولايات المتحدة الأمريكية للحصول علي حقوقهم القانونية بمطالب يخرج عنها....

ب- مناهضة التمييز العنصري

أ- الحركات القومية الانفصالية

د- العدالة الاجتماعية

ج- حقوق الإنسان

**Ayman Amin**

24- ادرس الخريطة ثم استنتج:

حدثت تغيرات في الخريطة السياسية أواخر ق 20 نتج عنها زيادة عدد الدول التي تشرف على بحر ....



خريطة (1) : خريطة العالم السياسية قبل الحرب العالمية الأولى



خريطة (2) : خريطة العالم السياسية عام 2014م

أ- قزوين

ب- الشمال

ج- العرب

د- الصين



25- يعد من أكثر العوامل التي تؤثر على مستقبل خريطة العالم بالنسبة لجنوب غرب قارة أوروبا..

- أ- الصراع على المياه العذبة  
ب- سباق التسلح  
ج- الهجرة غير الشرعية  
د- انتهاء الصراع الأيديولوجي

26- يبدأ الرصيف القاري لمصر عند .....

- أ- نهاية الحوض الأدنى لنهر النيل  
ب- نهاية الحوض الأعلى لنهر النيل  
ج- مخرج النيل عند بحيرة تانا  
د- مخرج النيل عند بحيرة فيكتوريا

Ayman Amin

27- تتشابه أي من الدول الآتية في الموقع الاستراتيجي ومشكلات المياه المتقابلة ...

- أ- ليبيا ومصر  
ب- اليمن وتونس  
ج- المغرب وموريتانيا  
د- نيجيريا والسنغال

28- يرتبط زيادة الأقليات القومية حول بحر قزوين بـ ...

- أ- انتهاء الحرب العالمية الأولى  
ب- بداية الحرب الباردة  
ج- بداية الحرب العالمية الثانية  
د- انتهاء الاستقطاب العالمي

8 تعد أكثر الأقليات تأثيرًا على الاستقرار السياسي للدولة حاليًا هي ...

- أ- الزنوج في الولايات المتحدة  
ب- البيض في جنوب أفريقيا  
ج- الباسك في أسبانيا  
د- الروس في كازاخستان





خريطة (١٠١) : خريطة العالم السياسية قبل الحرب العالمية الأولى

30- ادرس الخريطة المقابلة ثم استنتج:

تتصف الدولة المسؤولة عن رسم الحدود

السياسية بين النيجر ومالي بأنها..

أ- متعددة السلطات المحلية

ب- ثنائية في السلطة التنفيذية

ج- مفقورة للحدود الطبيعية

د- صعبة الاتصال الحضاري

Ayman Amin

31- يتصف الحد السياسي لجنوب الجزائر بـ ...

ب- قلة السكان والموارد

أ- قوة الفصل

د- زيادة السكان والموارد

ج- صعوبة التغيير

32- ادرس الخريطة المقابلة ثم استنتج :

في حال تحرك الحد السياسي لفرنسا إلى جنوب دائرة

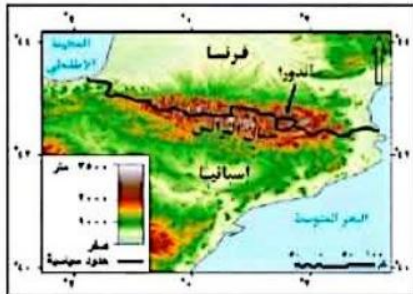
عرض 42° شمالاً .....

أ- تصبح أندورا دولة جيبية

ب- تصبح أندورا تابعة لأسبانيا

ج- زيادة عدد الدول المجاورة لفرنسا

د- زيادة عدد الدول المجاورة لأسبانيا



خريطة (٢٠١) : الحدود المحلية بين فرنسا وإسبانيا

33- تمركز الخلاف القانوني حول تحديد الحد السياسي البحري بين دولتين متجاورتين في حوض البحر المتوسط ..

ب- الجنوبي

أ- الشمالي

د- الغربي

ج- الشرقي

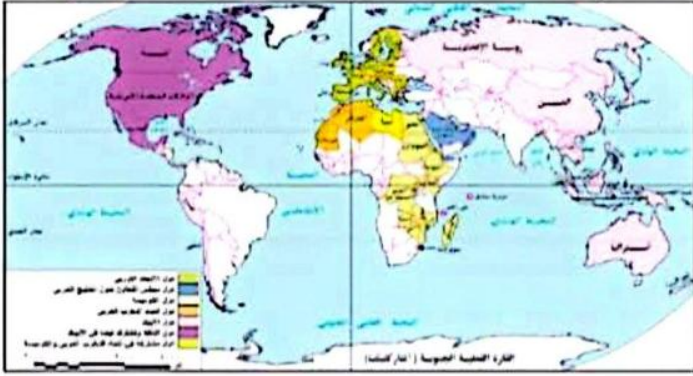
-9-

34- " شهدت مصر هجرة قسرية في بداية الستينيات من القرن العشرين لأسباب .....

- أ- مشروعات قومية  
ب- خلافات أيولوجية  
ج- كوارث طبيعية  
د- صراعات دولية

35- ادرس الخريطة المقابلة ثم استنتج:

(تعدد العوامل التي تساعد على قيام التكتلات الاقتصادية منها الاتصال الأرضي والتجانس السكاني) تنطبق العبارة السابقة علي .....



- أ- الكوميسا ومجلس التعاون لدول الخليج العربي  
ب- الكوميسا والتجمع الاقتصادي لدول أمريكا الشمالية  
ج- مجلس التعاون الخليجي واتحاد المغرب العربي  
د- ال NAFTA واتحاد دول المغرب العربي

36- " من أهداف تأسيس حلف الناتو ضمان أمن أعضائه والمساهمة في تقديم المساعدات لهم. "

في ضوء العبارة استنتج

Ayman Amin

تركزت جهود حلف الناتو علي المجالين ...

- أ- السياسي والعسكري  
ب- العسكري والاقتصادي  
ج- الاقتصادي والإنساني  
د- العسكري والإنساني

37- يصعب انضمام مصر إلى تكتل مجلس التعاون لدول الخليج العربي نتيجة .....

- أ- تباين الخصائص الثقافية  
ب- وجود التباين القاري  
ج- عدم تنوع الموارد الاقتصادية  
د- عدم توفر البنية التحتية



38- " ساعد انضمام مصر لتكتل الكوميسا على تحقيق العديد من المزايا الاقتصادية "

في ضوء العبارة استنتج

حققت مصر مزايا اقتصادية من الانضمام لتكتل الكوميسا منها.....

أ- تصدير المواد الخام

ب- استيراد السيارات وآلات الحفر

ج- تصدير الخبرات الفنية

د- الإلمام بمشكلات القارة ومحاولة حلها

ملحوظة تم تعديل ب لتصبح الإيكواس بدل من السوق المشتركة لشرق وجنوب أفريقيا في سؤال ٣٩ علي مدرستنا

39- " تعتبر مواجهة تهديد استقرار الدول عسكريا واقتصاديا أحد أهداف إقامة التكتلات "

أكثر التكتلات التي تنطبق عليها العبارة السابقة تكتل ...

أ- اتحاد المغرب العربي

ب- السوق المشتركة لشرق وجنوب أفريقيا

د- منتدى التعاون الاقتصادي

ج- مجلس التعاون لدول الخليج العربي

40- " الموقع الاستراتيجي سلاح ذو حدين فهو يفيد الدولة في تحسين علاقاتها الدولية، ولكن يجعلها مطمع للدول "

ينطبق مضمون العبارة على دولتي ...

أ- نيوزيلندا واليابان

ب- مصر والمغرب

ج- اليمن والبرازيل

د- استراليا وشيلي

Ayman Amin

41- قد تتأثر الخريطة السياسية للعالم مستقبلا نتيجة الخصائص السلبية للنظام العالمي من خلال....

أ- ظاهرة الاعتماد الدولي المتبادل

ب- تدويل القضايا والمشكلات

ج- تدعيم دور الأمم المتحدة

د- ظهور الشركات متعددة الجنسيات

42- تمثل دور الدولتان الموضحتان أمامك في العلاقات الدولية بعد الحرب العالمية الأولى في..

أ- الإسهام في نسج العلاقات الدولية

ب- الإسهام في أضعاف العلاقات الدولية

ج- الاشتراك في أحلاف عسكرية مشتركة

د- رفض الانضمام لعصبة الأمم



43- يمكن للدول النامية أن تواجه تأثيرات النظام العالمي الجديد إذا اعتمدت على .....

ب- الدخول في تحالفات اقتصادية

أ- التوسع في سياسة القروض الخارجية

د- تصدير الخبرات إلى الخارج

ج- استخدام شركات متعددة الجنسيات بها

Ayman Amin

44- ترتبط الصناعات الهندسية ببعض المواد الخام النباتية الطبيعية \*

في ضوء العبارة استنتج

يصعب تواجده هذه المواد الخام في بيئة دولة .....

ب- إندونيسيا

أ- نيجيريا

د- إيطاليا

ج- البرازيل

الأسئلة المقالية :

45- يتناقض دور هيئة الأمم المتحدة في حل مشكلتي (سبته ومليلة) و(كشمير) - وضح ذلك

٤٥ - في سبته ومليلة طالب

مجلس الأمن من الدولتين تسوية

الخلافاً عن طريق الحوار ويعد

موقف سلبي للأمم المتحدة

بينما في كشمير تدخلت وفرضت

هدنة لوقف القتال وقدمت

مقترحات لتسوية النزاع ويعد

موقف إيجابي للأمم المتحدة

46- دلل جغرافياً :

يوجد تشابه بين جنوب غرب آسيا وشمال غرب أوروبا في تغيرات الخريطة السياسية بعد الحرب العالمية الثانية.

٤٦ - حيث في جنوب غرب آسيا

انقسمت اليمن ثم اندمجت

وفي شمال غرب أوروبا انقسمت

المانيا ثم اندمجت

43- يمكن للدول النامية أن تواجه تأثيرات النظام العالمي الجديد إذا اعتمدت على .....

ب- الدخول في تحالفات اقتصادية

أ- التوسع في سياسة القروض الخارجية

د- تصدير الخبرات إلى الخارج

ج- استخدام شركات متعددة الجنسيات بها

Ayman Amin

44- ترتبط الصناعات الهندسية ببعض المواد الخام النباتية الطبيعية \*

في ضوء العبارة استنتج

يصعب تواجده هذه المواد الخام في بيئة دولة .....

ب- إندونيسيا

أ- نيجيريا

د- إيطاليا

ج- البرازيل

الأسئلة المقالية :

45- يتناقض دور هيئة الأمم المتحدة في حل مشكلتي (سبته ومليلة) و(كشمير) - وضح ذلك

٤٥ - في سبته ومليلة طالب

مجلس الأمن من الدولتين تسوية

الخلافاً عن طريق الحوار ويعد

موقف سلبي للأمم المتحدة

بينما في كشمير تدخلت وفرضت

هدنة لوقف القتال وقدمت

مقترحات لتسوية النزاع ويعد

موقف إيجابي للأمم المتحدة

46- دلل جغرافياً :

يوجد تشابه بين جنوب غرب آسيا وشمال غرب أوروبا في تغيرات الخريطة السياسية بعد الحرب العالمية الثانية.

٤٦ - حيث في جنوب غرب آسيا

انقسمت اليمن ثم اندمجت

وفي شمال غرب أوروبا انقسمت

المانيا ثم اندمجت

## النماذج الاسترشادية لمادة الجغرافيا

### الصف الثالث الثانوي

#### النموذج السابع

1- ارتبط الخلط بين الجغرافيا السياسية والجيوبولتيك ب.....

(أ) النظرة الامتاتيكية للدولة

(ب) النظرة الديناميكية للدولة

(ج) مجال الدراسة

(د) أهداف الدراسة

2- يدخل تحليل موقف الدولة بالنسبة للحدود السياسية ضمن مجال .....

(أ) الدولة كمجال لدراسة الجغرافيا السياسية

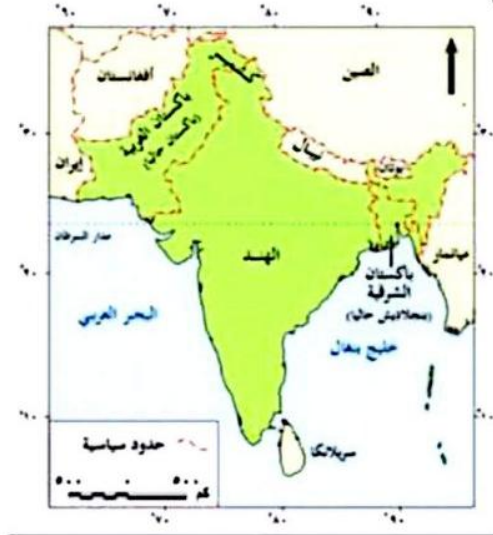
(ب) التحليل السياسي للقوة

(ج) النظام العالمي وما ينتج عنه من متغيرات

(د) تحليل الخصائص البشرية

3- ادرس الخريطة التي امامك ثم استنتج

نتج عن انقسام الهند زيادة عدد الدول المجاورة لدولة .....



(أ) بوتان

(ب) أفغانستان

(ج) ميانمار

(د) إيران

4- (رغم المعوقات الطبيعية والتباين الثقافي لدولة سويسرا إلا أن ذلك لم يؤثر علي تماسكها الاجتماعي)

تتفق العبارة السابقة مع آراء العالم.....

(أ) أرسطو

(ب) ابن خلدون

(ج) راتزل

(د) كيلين

5- تم اتخاذ قرار لترسيم حدود الهدنة في إقليم كشمير بالاعتماد على تقنية .....

(أ) الاستشعار من بعد

(ب) نظم المعلومات الجغرافية

(ج) وسائل الاتصال اللاسلكي

(د) تكنولوجيا المعلومات

Ayman Amin

6- يعد اختلال التوازن البيئي وفقدان التنوع البيولوجي سببًا في ظهور مشكلات سياسية بين بعض الدول مثلما حدث في منطقة .....

(أ) شرق آسيا

(ب) غرب أوروبا

(ج) شرق استراليا

(د) غرب أفريقيا



7- ادرس الخريطة التي امامك ثم استنتج

(مثلت الصعوبات الجغرافية دافعا لانضمام بعض الدول إلى تكتل آسيان )



تنطبق العبارة السابقة علي دولة .....

(أ) لاوس

(ب) الصين

(ج) كوريا الجنوبية

(د) ميانمار (بورما سابقا)

8- ((المنطقة الاقتصادية للدولة بها حقوق اقتصادية مثل الصيد والنفط والسيادة عليها مشروطة))

في ضوء العبارة استنتج

تعد المنطقة الاقتصادية المشار إليها جزءاً من.....

(أ) المياه الإقليمية

(ب) المياه الدولية

(ج) المياه الداخلية

(د) الرصيف القاري

Ayman Amin



9- عند تحديد المياه الإقليمية للدولة فمن المتوقع أن تكون أكبر مساحة أمام دولة.....



(أ) اكوادور

(ب) ليبيا

(ج) ألمانيا

(د) سلطنة عمان

10- كانت الصحاري تستخدم قديماً كمناطق تخوم بسبب دورها فى .....

(أ) سهولة الاتصال

(ب) تنشيط التجارة

(ج) الحماية والدفاع

(د) تحقيق السيادة

Ayman Amin

11- السبب الرئيسي لعقد اتفاقية برشلونة 1921م هو .....

(أ) حماية المصالح المشتركة

(ب) زيادة حجم الموارد

(ج) الحماية من الفيضانات

(د) تقييد الملاحة الدولية

12- باتت بعض الأيديولوجيات القومية عرضة للانهايار حديثاً بسبب .....

(أ) الاستقطاب الثنائي

(ب) التعددية القطبية

(ج) العولمة الاجتماعية

(د) الانفتاح الاقتصادي



13- ((قد تلجأ دولة صغيرة المساحة وغنية بالموارد الاقتصادية وتعتمد على تحالفات دولية للحفاظ على سيادتها ))

-4-

حقوق النشر محفوظة لوزارة التربية والتعليم والتعليم الفني 2025-2026

فى ضوء العبارة استنتج

تتسم هذه الدولة ب.....

(أ) ضعف الاستقلالية السياسية

(ب) القدرة العسكرية الذاتية

(ج) مواجهة التهديدات الخارجية

(د) الصراعات الإقليمية

14- أدرس الخريطة المقابلة ثم استنتج:

الأنهار التي قد تثير مشكلات سياسية حدودية نهري .....

(أ) الراين، الدانوب

(ب) الدانوب، السين

(ج) السين، بو

(د) بو، الراين

15- التنوع الثقافي نعمة ونقمة في أن واحد ويتوقف ذلك على.....

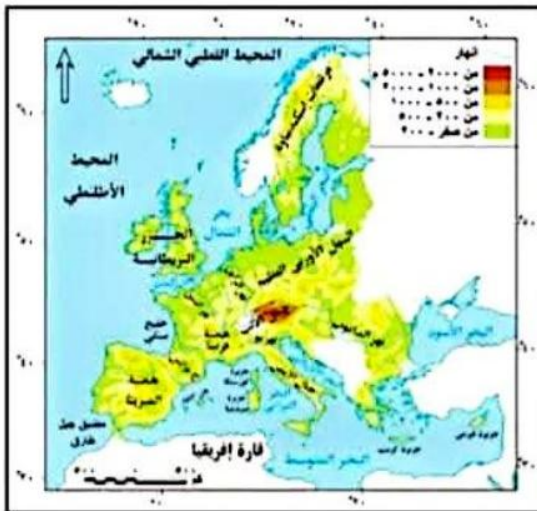
(أ) القدرة التنظيمية

(ب) القوة الاقتصادية

(ج) القوة العسكرية

(د) التنوع المناخي

Ayman Amin



16- اختيرت مدينة كانبيرا عاصمة لدولة استراليا بهدف تعزيز الهوية الوطنية وهي بذلك تتشابه مع مدينة .....



(أ) طوكيو

(ب) نواكشوط

(ج) اسطنبول

-5-

حقوق النشر محفوظة لوزارة التربية والتعليم والتعليم الفني 2025-2026

(د) موسكو

17- خطوط دفاعية مرنة لها بروتوكولات سياسية تنطبق العبارة بشكل أكبر على .....

(أ) التخوم

(ب) الحدود الجبلية

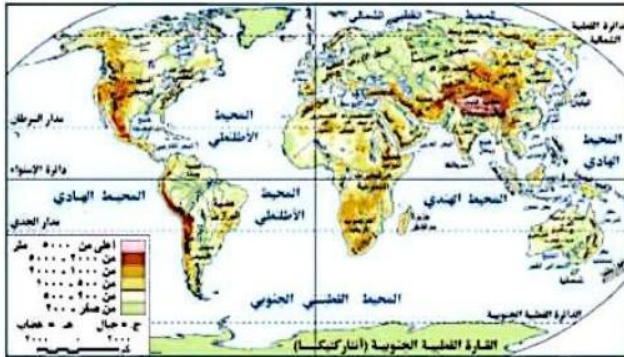
(ج) الحدود النهرية

(د) البحيرات

Ayman Amin

18- أمامك خريطة العالم ادرسها جيداً ثم استنتج :

تمثل جبال الأنديز حداً بين شيلي والأرجنتين ، وهو ما يتشابه مع اتجاه الحدود الجبلية



بين دولتي.....،.....

(أ) الهند والصين

(ب) فرنسا وإسبانيا

(ج) إيران والعراق

(د) سوريا وتركيا

19- يمكن للدولة أن تتبادل ثقافياً مع الدول الأخرى وتحافظ على هويتها عن طريق .....

(أ) الحدود

(ب) التخوم

(ج) العولمة

(د) القوميات



لضمان التفوق ابحث دائماً عن موقع مدرستك

نم المسح

20- يتم الاعتماد على المصادر التاريخية مثل ( كتابات الجغرافيين - الخرائط القديمة - تقرير بالتغيرات الديموغرافية ) عند ترسيم الحدود.

في ضوء العبارة استنتج

-6-

حقوق النشر محفوظة لوزارة التربية والتعليم والتعليم الفني 2025-2026

ينطبق مضمون العبارة السابقة عند ترسيم الحدود السياسية في المرحلتين .....

(أ) الأولى والثانية

(ب) الثانية والثالثة

(ج) الثالثة والرابعة

(د) الأولى والرابعة

Ayman Amin

21- عمل حلف الناتو والأمم المتحدة معا في ليبيا لتعزيز الأمن والاستقرار وتقديم المساعدات وهو ما يتشابه مع دورهم في دولة.....

(أ) كرواتيا

(ب) البوسنة

(ج) مقدونيا

(د) باكستان

22- أمامك خريطة لدولة اليابان ادرسها جيدا ثم استنتج :

تعرضت اليابان لإعصار هاجيبيس عام 2019م وتسبب في أضرار وخسائر كبيرة فمن المتوقع أن أكثر الجزر تأثرا به من الناحية المورفولوجية جزيرة .....

(أ) هوكايدو

(ب) هنشو

(ج) شيكوكو

(د) كيوشو



-/-



لضمان التفوق ابحث دائما عن موقع مدرستك

تم المسح

23-العامل المشترك بين الحدود الهندسية والنزاعات السياسية المترتبة على حركة الرعاة على الحدود أن كلاهما مرتبط بـ.

(أ) إغفال التوزيع المكاني للقبائل

(ب) النمو السكاني

(ج) تحويل أراضي الرعي إلى أراضي زراعية

(د) التغيرات المناخية

24- تشابهت العوامل المؤثرة على مستقبل خريطة العالم السياسية مع خصائص النظام العالمي الجديد من خلال .....

(أ) زيادة دور السيادة الوطنية

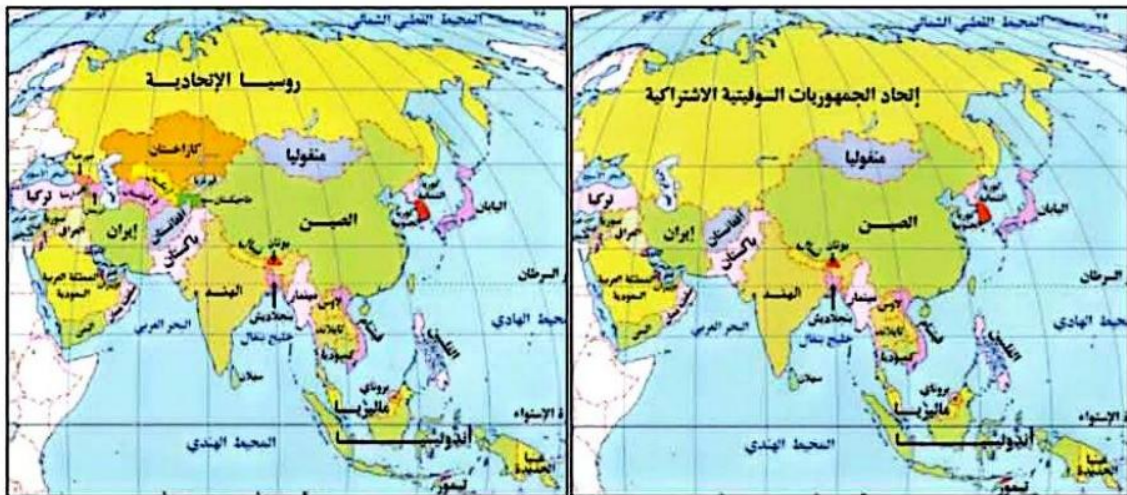
(ب) الشركات متعددة الجنسيات

(ج) تحرير التجارة العالمية

(د) تدويل القضايا والمشاكل

Ayman Amin

25- ادرس الخريطتان التي أمامك ثم استنتج :



-8-

حقوق النشر محفوظة لوزارة التربية والتعليم والتعليم الفني 2025-2026

شهدت منطقة بحر قزوين .....

(أ) تناقص عدد دول قارة اسيا

(ب) تناقص عدد دول شمال بحر قزوين

(ج) تزايد عدد دول قارة اسيا

(د) تزايد عدد دول جنوب بحر قزوين



لضمان التفوق ابحث دائما عن موقع مدرستك

تم المسح

26- أمامك خريطة توزيع السكان اقرأها جيدا ثم استنتج

يظهر الأثر السلبي لتوزيع السكان على الاستفادة من .....



(أ) المساحة

(ب) الموقع

(ج) الشكل

(د) التضاريس

27- أمامك خريطة لتضاريس العالم ادرسها جيدا ثم اختر

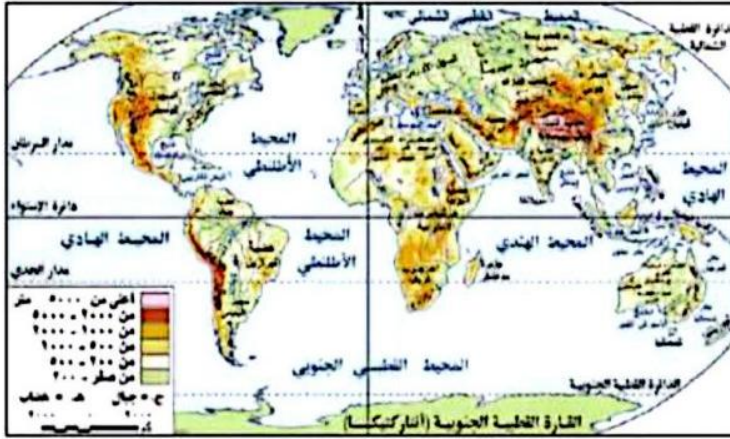
تتسم المناطق الواقعة جنوب غرب الصين بـ.....

(أ) الامتزاج الثقافي والحماية والدفاع

(ب) وفرة المعادن والحماية والدفاع

(ج) سهولة الاتصال ووفرة المعادن

(د) الامتزاج الثقافي وسهولة الاتصال



-9-

Ayman Amin

حقوق النشر محفوظة لوزارة التربية والتعليم والتعليم الفني 2025-2026

28- ((أعلنت اليونان تعيين رئيس الدولة من قبل البرلمان بينما يتولى رئيس الوزراء رئاسة الحكومة فعليا))

في ضوء العبارة استنتج

يتشابه نظام الحكم في اليونان مع دولة .....

(أ) فرنسا

(ب) مصر

(ج) الولايات المتحدة

(د) المملكة المتحدة



لضمان التفوق ابحث دائما عن موقع مدرستك

تم المسح

29- أمامك خريطة طبيعية للوطن العربي ادرسها جيدا ثم استنتج:

أثر الامتداد الجغرافي لجبال البحر الأحمر سلبيًا على الجانب .....



(أ) الاقتصادي

(ب) الاجتماعي

(ج) العسكري

(د) السياسي

30- العامل الأكثر تأثيرًا في حدوث نزاعات سياسية دولية .....

(أ) وفرة الثروات الطبيعية

(ب) وفرة حجم سكاني

(ج) تنوع المناخ

(د) تنوع التضاريس

Ayman Amin

31- في حال أصبحت كشمير وحدة سياسية مستقلة فإن ذلك يتفق مع أفكار.....

(أ) أرسطو

(ب) كيلين

-10-

حقوق النشر محفوظة لوزارة التربية والتعليم والتعليم الفني 2025-2026

(ج) سيجفريد

(د) راتزل

32- يؤثر المقوم الجغرافي لدول التكتل الاقتصادي على المقومات .....

(أ) الاقتصادية والاجتماعية

(ب) البيئية والاقتصادية

(ج) السياسية والعسكرية

(د) الاجتماعية والعسكرية

33- رغم التباعد الجغرافي بين دول تكتل الأبيك إلا أنه يعد تكتلاً مؤثراً لوجود عامل مشترك وهو .....

(أ) التشابه السياسي

(ب) التنوع الاقتصادي

(ج) التحالف العسكري

(د) التقارب التكنولوجي

34- أمة تفتقد للسلطة المطلقة واستفادت من المادة 27 من القانون الدولي وساعدتها الطبيعة الجغرافية تتمثل

في.....

(أ) الأكراد

(ب) المقدونيين

(ج) النمساويين

(د) البولنديين

Ayman Amin

-11-

حقوق النشر محفوظة لوزارة التربية والتعليم والتعليم الفني 2025-2026

35- (( كانت ندرة الموارد وزيادة الطلب عليها في ظل التغيرات المناخية الأخيرة سبباً في بعض النزاعات بين الدول))

تنطبق العبارة السابقة على مشكلة .....

(أ) كشمير

(ب) سبتة ومليلة

(ج) القبائل الرعوية

(د) الباسك



لضمان التفوق ابحث دائماً عن موقع مدرستك

تم المسح

36- أحد اهتمامات جغرافية الانتخابات ويتم دراستها من خلال تتبع عملية الاقتراع .....

(أ) الظروف الاقتصادية للناخبين

(ب) توزيع الدوائر الانتخابية

(ج) التباين المكاني للتصويت

(د) أثر البيئة على الانتخابات

37- من المشكلات الاقتصادية التي تؤثر على مستقبل خريطة العالم السياسية مشكلة .....

(أ) اللاجئين

(ب) الصراع على المياه

(ج) الأقليات

(د) الهجرة غير الشرعية

38- يرجع تعدد العلاقات الدولية لدولة المغرب إلى .....

(أ) الموقع الجغرافي

(ب) المساحة الكبيرة

(ج) القوة العسكرية

(د) الحجم السكاني

-12-

Ayman Amin

حقوق النشر محفوظة لوزارة التربية والتعليم والتعليم الفني 2025-2026

39- (( حدث صراع بين الهند وباكستان انتهى بتدخل الاتحاد السوفيتي سابقا لإنهاءها عام 1965 م ))

في ضوء العبارة استنتج

تم حل النزاع بين الهند وباكستان عن طريق .....

(أ) المفاوضات

(ب) الوساطة

(ج) الوفاق

(د) التحكيم

تم المسح الضوئي بـ CamScanner



لضمان التفوق ابحث دائما عن موقع مدرستك

40- تتشابه الحدود بين الولايات المتحدة الأمريكية وكندا مع الحدود بين الولايات المتحدة والمكسيك من حيث.....

(أ) التقسيم على أساس المنتصف

(ب) رسمها على خطوط الطول

(ج) التقسيم على خط العمق

(د) التأثير بعوامل التعرية

41- أخذت العلاقات الدولية فترة تكوين الامبراطوريات شكل ....

(أ) الحرب والسلام

(ب) تعدد العلاقات

(ج) تشعب العلاقات

(د) التحكيم والتمثيل الدبلوماسي

Ayman Amin

42- أمامك خريطة العالم السياسية قبل الحرب العالمية الأولى ادرسها جيدا ثم استنتج

-13-

حقوق النشر محفوظة لوزارة التربية والتعليم والتعليم الفني 2025-2026

القارتان اللتان استقرت حدودهما السياسية في العصر الحديث ولم تتأثر بالاستعمار هما.....



(أ) استراليا وأمريكا الشمالية

(ب) أفريقيا وأمريكا الجنوبية

(ج) آسيا وأمريكا الجنوبية

(د) أوروبا وأمريكا الشمالية



لضمان التفوق ابحث دائما عن موقع مدرستك

تم المسح

43- أي من الدول الآتية أزلت غاباتها نتيجة زيادة سكانها وكانت الطبيعة حجر عثرة لوحدة سكانها .....

(أ) فرنسا

(ب) إسبانيا

(ج) بريطانيا

(د) إيطاليا

44- دول شاركت في التسلح الجماعي وأخري فضلت التسلح المنفرد هي .....

(أ) تشيكوسلوفاكيا (سابقا )

(ب) ألبانيا

(ج) ألمانيا

(د) يوغسلافيا

Ayman Amin

45- دلت على صدق العبارة

توجد علاقة بين منظمة الأمم المتحدة وإرساء قواعد السلام في بعض الدول النامية .

-14-

حقوق النشر محفوظة لوزارة التربية والتعليم والتعليم الفني 2025-2026

45 / مساندة استقلال تونس  
والجزائر - دعم ومساعدة  
اللاجئين - ارسال قوات حفظ  
السلام

46- ماذا تتوقع أن يحدث إذا : تم إجراء استفتاء في إقليم كشمير ؟

46 / تنضم لباكستان وبالتالي  
زيادة مساحة باكستان وتعديل  
الحدود السياسية بين دول  
المنطقة وأي استنتاجات منطقية  
أخري



لضمان التفوق ابحث دائما عن موقع مدرستك

تم المسح

## النماذج الاسترشادية لمادة الجغرافيا

### الصف الثالث الثانوي

#### النموذج الثامن

1- (توفر نظم المعلومات الجغرافية بيانات دقيقة وخرائط حديثة في حل النزاع سلميا )  
في ضوء العبارة السابقة استنتج استفادات دول جنوب غرب آسيا في حل بعض المشكلات السياسية من هذه التقنية في مرحلة .....

أ- التخطيط والتعريف

ب- التحديد على الخريطة

ج- التعيين في الطبيعة

د- إدارة الحد السياسي

2- أي مما يلي يمكن تصنيفه ضمن مجال التحليل السياسي للقوة ؟

أ- التنافس الاقتصادي بين الصين والولايات المتحدة

ب- خروج بريطانيا من الاتحاد الأوروبي

ج- دخول فنلندا كعضو في حلف الناتو

د- انتشار الشركات متعددة الجنسيات

Ayman Amin

3- ادرس الخريطة ثم استنتج

حال نجاح الأقلية اللغوية في الوطن العربي في الاستقلال فمن المتوقع تناقص عدد الدول المجاورة لدولة ....

أ- سوريا

ب- تركيا

ج- العراق

د- إيران



4- بعد نجاح مؤتمر السلام في شرم الشيخ انطلقت مصر نحو إعمار غزة بالاعتماد على تقنية .....

أ- نظم المعلومات الجغرافية

ب- الاستشعار من بعد

ج- عمليات المسح الميداني

د- تكنولوجيا المعلومات

Ayman Amin

5- ادرس الخريطة ثم استنتج

أى المناطق التالية تعاني من

مشكلة اجتماعية واقتصادية

ذات بعد سياسي ؟

المنطقة المشار إليها بالرقم ....

أ- 1

ب- 2

ج- 3

د- 4



6- ادرس الخريطة ثم استنتج

يقع أقل عدد من التكتلات الاقتصادية

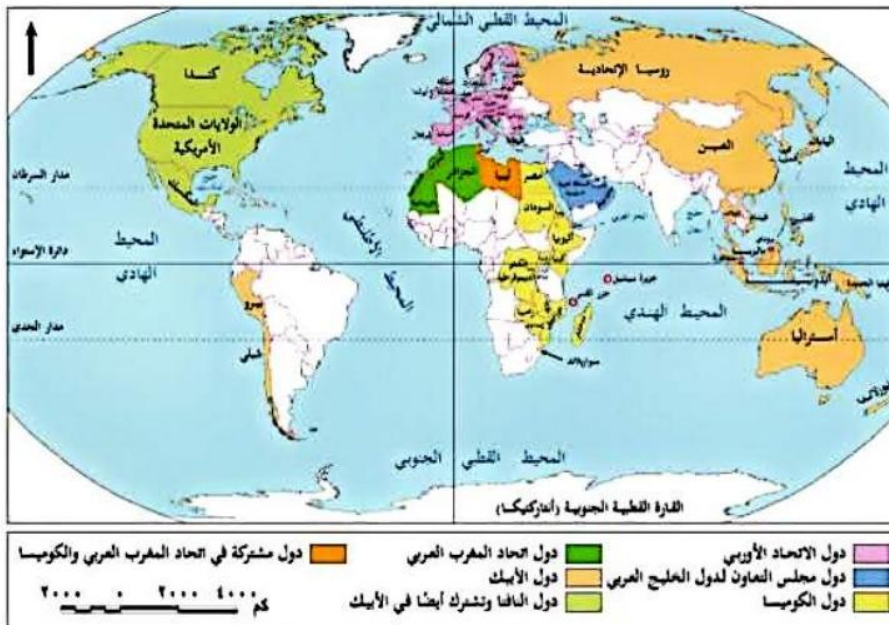
على خريطة العالم في الربع .....

أ- الجنوبي الشرقي

ب- الجنوبي الغربي

ج- الشمال الشرقي

د- الشمال الغربي



خريطة التكتلات الاقتصادية العالمية

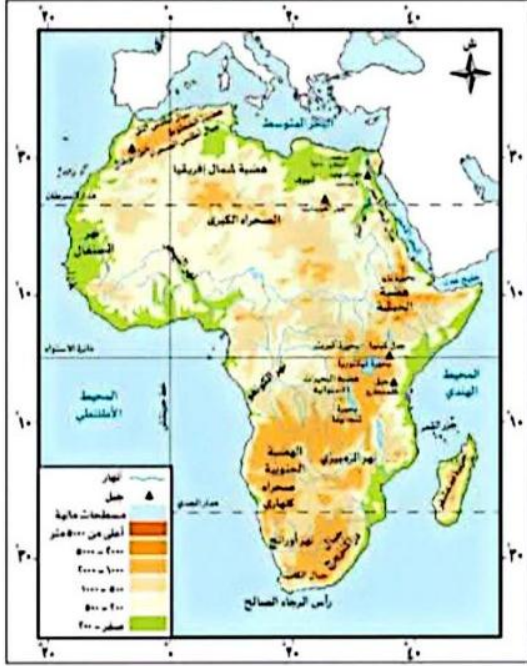
تعبّر العبارة السابقة عن أحد مراحل دورة الحياة للدولة لابن خلدون وهي مرحلة.....

أ- النشأة

ب- الشباب

ج- النضج

د- الإضمحلال



8- أمامك خريطة لقارة أفريقيا الطبيعية ادرسها ثم إستنتج  
أي المناطق التالية تزداد أهميتها بفضل الظهير الساحلي ؟

سواحل .....

أ- بلاد المغرب العربي

ب- غرب البحر الأحمر

ج- غرب أفريقيا

د- جنوب أفريقيا

9- (روسيا القيصرية - الإتحاد السوفيتي - روسيا الإتحادية )

دول تنتمي لفترات زمنية مختلفة إلا أن جميعها لها حدود سياسية مشتركة مع .....

أ- تركيا برية

ب- بولندا

ج- أفغانستان

د- النرويج

**Ayman Amin**

10- ( قد يكون للمقوم الطبيعي للدولة أثر سلبي مما يجعلها لقمة سائغة وقت الخطر )

أقرب الدول التي تنطبق عليها العبارة السابقة هي .....

أ- موريتانيا

ب- سيراليون

ج- مالي

د- النيجر

11- أي المناطق التالية تمتلك ممرات استراتيجية جبلية برية تمكنها من التحكم في طرق التجارة .....

أ- شرق هولندا

ب- شمال بلجيكا

- 3 -



12- ظهر أثر المعيار القومي في اختيار الحدود السياسية بمنطقة .....

- أ- شمال شيلي
- ب- غرب تشاد
- ج- جنوب نامبيا
- د- شرق سويسرا

13- (تساعد المقومات الطبيعية على الامتزاج السكاني )

تنطبق العبارة السابقة على أي من المناطق الآتية ؟

- أ- شرق ألمانيا
- ب- شمال أسبانيا
- ج- غرب السويد
- د- جنوب فرنسا

14- عند الاتجاه من خط الساحل نحو البحر فإن المياه التي تسبق المياه

التكميلية مباشرة تتميز بـ.....

- أ- السيادة المطلقة للدولة عليها
- ب- أنها جزء من يابس الدولة
- ج- ادعاء بعض الدول السيادة عليها
- د- أنها مشروطة السيادة عليها



15- " عقد الملك رمسيس الثانى مع ملك الحيثيين معاهدة لتنظيم مبادئ الحرب والسلم "

فى ضوء العبارة استنتج

-4 -

Ayman Amin

حقوق النشر محفوظة لوزارة التربية والتعليم العالي 2025

تميزت المناطق الفاصلة بين الدول فى تلك الفترة بأنها .....

- أ- مناطق ممسوحة
- ب- قابلة للنقل والحركة
- ج- ظاهرة قانونية
- د- ظاهرة جغرافية

16- ( تؤثر البيئة الطبيعية فى الأنشطة الاقتصادية التى يمارسها الإنسان )

تعبير السابقة عن أفكار أحد العلماء .....

- أ- الألمان
- ب- العرب
- ج- اليونان
- د- السويد

د- السويد

تم المسح



لضمان التفوق ابحث دائما عن موقع مدرستك

17- ادرس الخريطين ثم استنتج



(لعب الإستعمار دورًا في رسم الحدود السياسية بين الدول )

في ضوء العبارة استنتج

الدول الأوروبية التي أسهمت في رسم الحدود السياسية بين تنزانيا وكينيا هي .....

- أ- ألمانيا وبلجيكا  
ب- بريطانيا وفرنسا  
ج- بريطانيا وألمانيا  
د- إيطاليا وهولندا

18- ( شاركت مصر في مبادرة إسكات البنادق عام 2020 على مستوى قارة أفريقيا )

تتشابه العبارة السابقة مع اتفاقية تم تطبيقها على خريطة العالم السياسية في الربع ...

- 5 -

حقوق النشر محفوظة لوزارة التربية والتعليم والتعليم الفني 2025[2026]

Ayman Amin

أ- الشمال الشرقي

ب- الشمال الغربي

ج- الجنوب الشرقي

د- الجنوب الغربي

19- ادرس الجدول ثم استنتج

المدينة	العاصمة	موقع العاصمة	تصنيف العاصمة
س	الحالية	نهريّة	قديمة
ص	الحالية	ساحلية	مستحدثة

الرمز (س وص) يمثلان مدينتين على الترتيب هما .....

- أ- القاهرة ونواكشوط  
ب- طوكيو والقاهرة  
ج- باريس و طوكيو  
د- روما وللاجوس

20- التقطت الأقمار الصناعية سفينة تقف عند مسافة 12 ميلا بحريا من خط الساحل ، وبذلك فإنها تقف بين .....

- أ- المياه الإقليمية والمياه الدولية  
ب- خط الساحل وبداية الحد البحري  
ج- المياه الداخلية والمياه الإقليمية  
د- الحافة الداخلية للمياه الإقليمية والتكميلية

21- (الانتخابات هي الأداة الديمقراطية لعملية الاختيار )

أي ممايلي يتفق مع العبارة السابقة ؟

- أ- الهيئة الإدارية المركزية لمجلس التعاون لدول الخليج العربي  
ب- رأس الأمانة العامة في مجلس التعاون لدل الخليج  
ج- الأمانة المساعدين في المجلس الوزاري  
د- البرلمان الأوربي كمؤسسة بتكتل اقتصادي

تم المسح



لضمان التفوق ابحث دائما عن موقع مدرستك

22- ادرس الخريطة ثم استنتج:

الدولة الأشد عمقًا والتي لا تستطيع الإتصال بالبحر الأسود إلا بالمرور في أراض عدة دول .....



- أ- سلوفاكيا
- ب- المجر
- ج- النمسا
- د- بيلاروسيا

23- هناك علاقة تأثير وتأثر بين مساحة المراعى والأراضى الزراعية مما يؤثر سلبيًا على مساحة الأراضى الرعوية داخل الدولة الواحدة ، يرجع ذلك للعامل .....

- أ- الإقتصادي
- ب- الديموغرافي
- ج- السياسي
- د- العقائدي

24- يظهر استبقاء فاعلية الحد البحرى للدولة فى .....

- أ- نهاية المياه الاقليمية
- ب- نهاية المياه التكميلية
- ج- بدايه المياه الداخلية
- د- بدايه المياه المحايدة

25- أكثر العوامل الجغرافية التى أثرت سلبا على خريطة جنوب أوروبا هو .....

- أ- سباق التسلح
- ب- الصراع على المياه العذبة
- ج- الهجرات غير الرسمية
- د- البنك الدولى

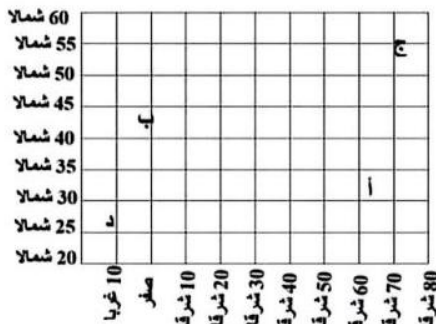
26- أحد المقومات الطبيعية المؤثرة فى العلاقات الدولية لدولتى جيبوتى وإيطاليا هو .....

- أ- الموقع الإستراتيجى
- ب- العامل المورفولوجى
- ج- المظهر التضاريسى
- د- العامل الإقتصادى

- 7 -

حقوق النشر محفوظة لوزارة التربية والتعليم والتعليم العلمى 2025

Ayman Amin



27- بمطابقة خريطة العالم السياسية بالشكل المقابل استنتج

المنطقة التى تكثر بها النزاعات الإهلية فى ظل النظام العالمى الجديد يمثلها الحرف .....

- أ- 30 : 40 شمالاً ، 60 : 70 شرقاً
- ب- 40 : 50 شمالاً ، صفر : 10 شرقاً
- ج- 50 : 60 شمالاً ، 70 شرقاً : 80 شرقاً
- د- 20 : 30 شمالاً ، صفر : 10 غرباً



لضمان التفوق ابحث دائماً عن موقع مدرستك

تم المسح

28- التكتل الاقتصادي الذي تختلف بداية تكوينه عن باقي التكتلات الاقتصادية.....

أ- الكوميسا

ب- الناقتا

ج-الاتحاد الأوربي

د-الإبيك

29- " للمؤسسات المالية كالبנק الدولي وصندوق النقد الدولي تأثير أحياناً سلبى على دول العالم الثالث"

توضح هذه العبارة إحدى خصائص النظام العالمى الجديد وهى .....

أ- ظهور التكتلات الإقتصادية

ب- تحرير التجارة العالمية

ج- تقلص دور السيادة الوطنية

د- إهمال المشكلات الدولية

30- يقع بحر آرال بين دولتين تنتشر بهما الأقلية .....

- 8 -

Ayman Amin

حقوق النشر محفوظة لوزارة التربية والتعليم والتعليم الفنى 2025

ب- الألبانية

ج- الصربية

أ- الروسية

ب- المقدونية

31- ( تركيا - إيطاليا - إيران - سوريا ) دول تنتمى لقارتين مختلفتين إلا إنهم .....

أ- يتشابهان فى نوع الأقلية الموجودة بهما

ب- يتشابهان فى شكل الدولة جغرافيا

ج- يتطابقان فى عدد الوجهات البحرية

د- يختلفان فى نوع الاقلية الموجودة بهما

32- الدافع الرئيسى لإنشاء الإتحاد الجمركى للمنظمة السياسية والاقتصادية الإقليمية فى جنوب غرب آسيا هو .....

أ- زيادة صادراتها من السلع المختلفة

ب- زيادة وارداتها من السلع المختلفة

ج- كون الميزان التجارى فى صالحها

د- إهتمامهم بالصناعات البترولية ومشتقاتها

33- أى من الخصائص السكانية المؤثرة فى تحديد من لهم حق التصويت فى الإنتخابات البرلمانية ....

أ- الحالة التعليمية

ب- الجوانب الحضارية

ج- التركيب النوعى

د- التركيب العمرى

34- (الكونجرس الأمريكى - مجلس العموم البريطانى - مجلس النواب المصرى) كميانات تعبر عن .....

أ- النظام السياسى المؤسسى

ب- النظام السياسى المجتمعى

ج- عناصر القوة العسكرية

د- عناصر القوة المورفولوجية

35- ( الأنهار الدولية نعمة للدول الداخلية )

تمكنت بعض الدول من استغلال ذلك من خلال .....

أ- مؤتمر الصلح بباريس

ب- اتفاقية برشلونة

ج- معاهدة ماسترخيت

د- اتفاقية الهدنة

تم المسح للمحتوى



لضمان التفوق ابحث دائما عن موقع مدرستك

36- إذا أرادت جميع دول حوض النيل توقيع إتفاقيات بشأن تنظيم حركة الرعاة فإن ذلك يكون مع دول.....

أ- خارج تجمع دول غرب أفريقيا

ب- تنتمي لتجمع دول غرب أفريقيا

ج- خارج السوق المشتركة لشرق أفريقيا

د- تنتمي للسوق المشتركة لشرق أفريقيا

- 9 -

حقوق النشر محفوظة لوزارة التربية والتعليم والتعليم الفني 2025[]2026

Ayman Amin

37- في ضوء ما درست يوجد على المسرح العالمي حركات إجتماعية مناهضة للتفرقة العنصرية وحركات قومية انفصالية

تتوقع أن يكون أقل نشاط لهذه الحركات في دولة .....

ب- تركيا

أ- إيطاليا

د- اليابان

ج- الولايات المتحدة

38- أى العبارات التالية تعبر عن تشعب العلاقات الدولية بين دول العالم ؟

أ- عقد معاهدة سلام بين الملك الفرعوني ومع ملك الحيثيين

ب- سيطرة دول أوربا على شمال أفريقيا للحصول على المواد الخام

ج- إعتبار سوريا منطقة صراع لممالك الفرس والروم

د- إرسال مصر مساعدات طبية للصين في بداية أزمة كورونا

39- ينطبق مفهوم الأمة على منظمات إقليمية تقع في .....

ب- غرب البحر الأحمر

أ- شرق الخليج العربي

د- غرب الخليج العربي

ج- شمال البحر المتوسط

40- شهد الجزء الجنوبي لقارة آسيا زيادة في عدد الدول نتيجة .....

ب- تنمية المناطق الهامشية

أ- تفكك الإتحاد السوفيتي

د- تدخل عصبة الأمم

ج- تصفية الاستعمار

41- يحدد الحد السياسي للدولة سيادتها على الموارد السطحية والباطنية والبحرية \*

في ضوء العبارة استنتج

تنطبق العبارة كاملا على العديد من الدول منها .....

ب- أوغندا

أ- العراق

د- أفغانستان

ج- بوليفيا

- 10 -

حقوق النشر محفوظة لوزارة التربية والتعليم والتعليم الفني 2025[]2026



لضمان التفوق ابحث دائما عن موقع مدرستك

تم المسح

42- يرجع نجاح الدولة المصرية فى إقامت حفل افتتاح المتحف المصرى الكبير إلى القوة .....

أ- المورفولوجية

ب- التنظيمية

ج- العسكرية

د- الاقتصادية

43- يصنف الاتحاد السوفيتى السابق حسب النظام السياسى والإدارى على أنه.....

أ- دولة وحدوية

ب- اتحاد فيدرالى

ج- اتحاد كونفدرالى

د- دولة مركزية

Ayman Amin

44- تصور أن قارة أفريقيا دولة واحدة فإن شكلها سيكون دولة .....

أ- مندمجة برية بحرية

ب- شريطية مجزأة بحرية

ج- برية بحرية مجزأة

د- منتظمة مندمجة ببروز

الأسئلة المقالية

45- حدد الأثر الناتج عن انقسام تشيكوسلوفاكيا بالنسبة لدولتي بولندا والنمسا

زيادة عدد الدول المجاورة لبولندا  
زيادة عدد الدول المجاورة للنمسا

46- أيد صحة العبارة مع التطبيق بمثال

ساهمت طبيعة العلاقات الدولية وقت السلم فى حل المشكلات

عبارة صحيحة حيث تتجه الدول  
لحل النزاعات في حالة السلم عن  
طريق: المفاوضات - الوساطة -  
المساعي الحميدة - التوفيق -  
التحكيم  
مثال حل مشكلة طابا

- 11 -



## النماذج الاسترشادية لمادة الجغرافيا

### الصف الثالث الثانوي

#### النموذج التاسع

1- ( تدرس التنظيم السياسي الداخلي للدولة ، " تهتم بالإمتزاج الديموغرافي " )

نستنتج أن العبارتان تمثلان على الترتيب افكار علمي.....

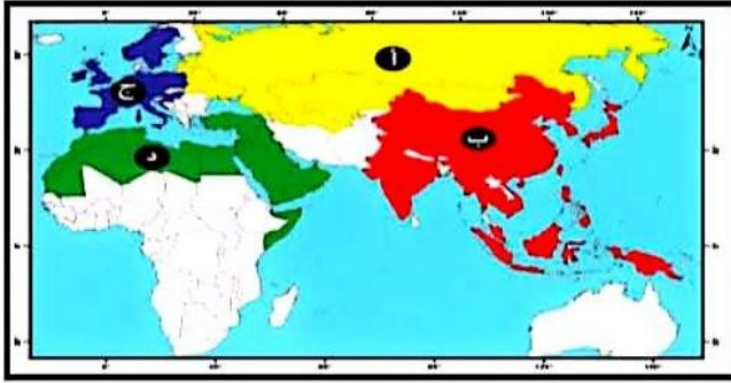
- أ- الجيوبولوتيك والجغرافيا السياسية  
ب- الجغرافيا السياسية والجيوبولوتيك  
ج- الحدود السياسية والجيوبولوتيك  
د- الجيوبولوتيك والحدود السياسية

2- يتم دراسة علاقات الدولة الخارجية ومواردها ذات العائد من خلال مجال .....

- أ - المشكلات السياسية  
ب- التحليل السياسي للقوة  
ج- الدولة كوحدة سياسية  
د- العلاقات الدولية

3- ادرس الخريطة ثم استنتج:

توجد مجموعة دول سعت للحصول على مكانة بالساحة الدولية من خلال النظام العالمي الجديد يرمز لها بالرمز ....



أ- ( أ )

ب- ( ب )

ج- ( ج )

د- ( د )

4- توجد علاقة بين الطبيعة البحرية على أطراف الدولة وافكار العالم.....

أ - أرسطو

ب- ابن خلدون

ج- كلين

د- راتزل

Ayman Amin



5- يتضح من تحليل نظم المعلومات للشكل

المقابل انه يمثل منطقة نواة حدودية بين

دولتي.....

أ- ألمانيا وفرنسا

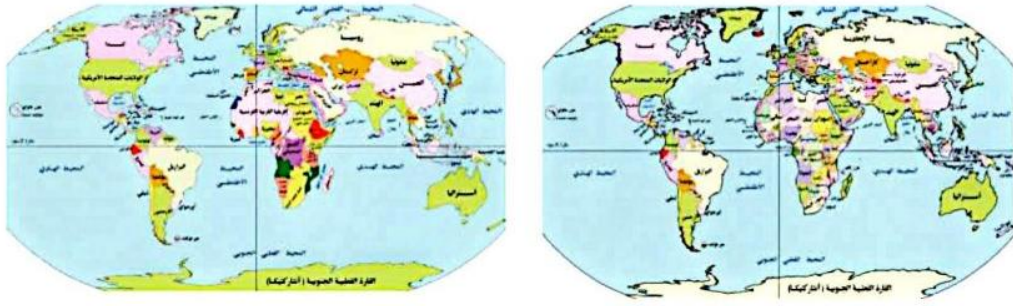
ب- كندا والولايات المتحدة

ج- فرنسا وأسبانيا

د- الولايات المتحدة والمكسيك



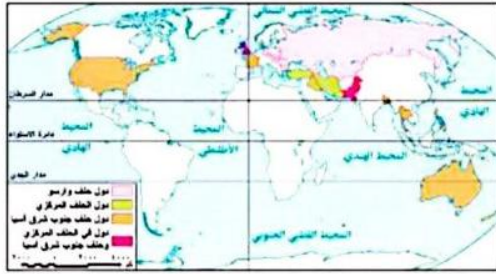
6- ادرس الخريطة التي أمامك ثم استنتج



يتشابه شكل امبراطورية النمسا والمجر مع شكل دولة تواجه مشكلات في ظل النظام العالمي الجديد .....

- أ- هجرة الرعاة  
ب- هجرة وافدة  
ج- تحالف عسكرية  
د- نزاعات داخلية

7- ادرس خريطة التحالف العسكرية ثم استنتج:



دولة كانت عضو في حلفين عسكريين بالعالم القديم

- أ- إيران  
ب- باكستان  
ج- بنجلاديش  
د- العراق

8- بالاستعانة بخريطة إفريقيا \* تتمتع دول العالم بحريتها في المياه الدولية، وتمارس سيادتها المطلقة في مياهها الإقليمية \*

في ضوء العبارة استنتج  
تنتهي السيادة القانونية المطلقة عند الحافة الخارجية للمياه الإقليمية على الحدود الغربية لدولة...



- أ- موزمبيق  
ب- نيجيريا  
ج- تنزانيا  
د- اليابان

**Ayman Amin -2-**

حقوق النشر محفوظة لوزارة التربية والتعليم والتعليم الفني 2025-2026

9- (أكدت اتفاقية المياه الإقليمية بالأمم المتحدة حسب قانون البحار (1982) سيادة الدولة على 12 ميلاً بحرياً والحقوق في المناطق البحرية الأخرى)

في ضوء العبارة استنتج

- الدولتان التي يمكن أن تمدا سيادتهما أكثر 12 ميلاً بحرياً هما.....  
أ- اليابان والارجنتين  
ب- الصين والامارات  
ج- فرنسا والنمسا  
د- شيلي وبوليفيا

10- (تتعدد العوامل الطبيعية التي تؤثر على قوة الدولة ومنها الشكل)

في ضوء العبارة استنتج

- أقرب الدول تحقيقاً للاكتفاء الذاتي من الغذاء هي الدول التي يغلب عليها الشكل.....  
أ- المندمج ذو البروز  
ب- الشريطي العرضي  
ج- الشريطي الطولي  
د- البحري المجزأ



لضمان التفوق ابحث دائماً عن موقع مدرستك

تم المسح

11- أدى تصاعد النزاعات في الشرق الأوسط إلى.....

- أ - تراجع أهمية الموقع الجغرافي للمنطقة  
ب - تراجع أهمية الممرات الاستراتيجية بالمنطقة  
ج- زيادة المخاوف المتعلقة بأمن الطاقة العالمي  
د- استقرار أسواق الطاقة العالمية

12- تتميز الأمة عن الدولة في بعض السمات تتمثل في أي من العبارات التالية ؟

- أ- كيان سياسي يتمتع بالسيادة على منطقة جغرافية محددة.  
ب- تقوم بتنظيم الحياة الاجتماعية والاقتصادية داخل حدودها.  
ج- تعتمد على مؤسسات لإدارة شؤون الحياة وتوفير الخدمات.  
د- امتلاكها تراث شعبي شديد الخصوصية

13- أقل أنواع الأقليات انتشارًا في العالم توجد في دولة .....

أ- سويسرا.

ب- إيطاليا.

ج- الولايات المتحدة الأمريكية.

د- روسيا الاتحادية.

14- ادرس الأشكال الآتية ثم استنتج:

ملحوظة : تم تعديل الاختيار ( أ ) في السؤال ١٣ لتكون اليابان بدلا من سويسرا علي قناة مدرستنا لان وجود سويسرا في الاختيارات يعني أن أ و ب صحيحة

أي من الأشكال التالية يمثل دولة طبيعتها الجغرافية أكثر تأثير إيجابي اقتصادي واجتماعي على قوة الدولة؟

الشكل المشار إليه بالرمز .....



-3-

حقوق النشر محفوظة لوزارة التربية والتعليم والنسب 2025-2026

Ayman Amin

15- استضافة مصر لمعظم مؤتمرات السلام يؤكد على قوة مصر .....

أ- التنظيمية  
ب- المورفولوجية  
ج- الديموغرافية  
د- العسكرية

ب- المورفولوجية

د- العسكرية

16- تتسم الدول التي يوجد بها مناطق نواة دينية عالمية بكونها ذات عواصم .....

- أ- ساحلية  
ب- قومية  
ج- مستحدثة  
د- داخلية

17- تم ترسيم الحدود السياسية في أوروبا على أساس .....

- أ- العامل التاريخي  
ب- الجانب الديني  
ج- العامل المورفولوجي  
د- الوعاء الثقافي

ب- الجانب الديني

د- الوعاء الثقافي

18- تتسم التخوم بصفة مورفولوجية تميزها عن الحدود السياسية تتمثل في .....

- أ- الإطار المكاني  
ب- الثبات والاستقرار  
ج- وجود الموارد  
د- البعد الزمني

ب- الثبات والاستقرار

د- البعد الزمني

19- (تتعدد العوامل التي أثرت على نشأة الحدود السياسية في العالم) في ضوء العبارة وضع العامل الذي أدى إلى رسم

الحدود في قارة إفريقيا هو.....

- أ- العامل الطبيعي  
ب- القوى الخارجية  
ج- العامل الديموغرافي  
د- العامل الاقتصادي

ب- القوى الخارجية

د- العامل الاقتصادي

20- انتشار الصراعات المسلحة والكوارث الطبيعية في العديد من مناطق العالم دفع الأمم المتحدة وحلف الناتو إلى

إرسال مساعدات إنسانية للاجئين في .....

- أ- قرغيزستان وطاجكستان  
ب- باكستان وأفغانستان  
ج- تركمنستان وأذربيجان  
د- كازخستان وأوزبكستان

ب- باكستان وأفغانستان

د- كازخستان وأوزبكستان



لضمان التفوق ابحث دائما عن موقع مدرستك

تم المسح

21- ترتفع الكثافة السكانية في غالبية الدول التي تتبع نظام الإدارة المركزية يرجع ذلك للعامل ....

- أ- الاتوغرافي  
ب- الإداري  
ج- المورفولوجي  
د- السياسي

22- الفكرة المحورية التي يقوم عليها النظام الرئاسي هي.....

- أ- الفصل بين السلطات  
ب- سيطرة مطلقة لرئيس الدولة  
ج- تغليب السلطة التنفيذية  
د- تغليب السلطة التشريعية

-4-

حقوق النشر محفوظة لوزارة التربية والتعليم والتعلم الفنى 2025-2026

Ayman Amin

23- يخرج عن مفهوم النظام السياسي في صورته المؤسسية .....

- أ- وضع الموازنة العامة  
ب- ترسيم الحدود السياسية  
ج- الدخول في تكتل اقتصادي  
د- استثمار المناطق الصحراوية

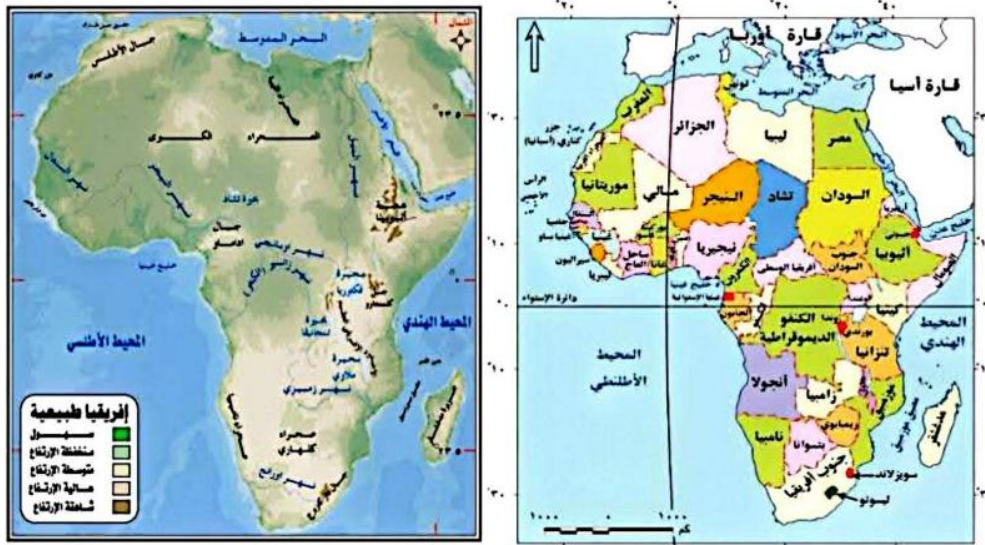
24- العوامل التي تساعد على تحقيق الامتزاز الثقافي داخل الدولة.....

- أ- المناخ والجبال.  
ب- السهول واللغة.  
ج- الجبال والبنية التحتية.  
د- الغابات والشكل المندمج.

25- تتشابه العراق والاردن والكونغو الديمقراطية في عدة سمات يخرج عنها

- أ- الانضمام للأحلاف العسكرية  
ب- الاتصال بالعالم دون عوائق  
ج- تقارب طول الساحل بهم  
د- خضوعهم للاستعمار الغربي

26- ادرس خريطة افريقيا الطبيعية والسياسية استنتج:



نهر يفصل بين دولتين تنتمي احدهما لتكتل اتوغرافي خالص هو نهر.....

- أ- النيل  
ب- السنغال  
ج- النيجر  
د- الزمبيزي

تم المسح



لضمان التفوق ابحث دائما عن موقع مدرستك



27- ادرس خريطة العالم الطبيعية ثم استنتج:  
نهران يتفقان في المصب ونوع النبات الطبيعي  
المحيط بهما، ويختلفان في الاتجاه هما نهري..

-5-

حقوق النشر محفوظة لوزارة التربية والتعليم والتعليم الفني 2025-2026

Ayman Amin

أ- النيل والنيجر

ب- دارلنج ولابلاتا

ج- الدانوب والراين

د- الكونغو والأمازون

28- تشترك دولة سويسرا في حدودها الجنوبية مع دولة.....

أ - بحرية مجزأة تحترم حقوق الانسان.

ب- برية بحرية مجزأة.

ج- وحدوية ذات نظام رئاسي.

د - حققت كل شروط كوبنهاجن.

29- ادرس الخريطة ثم استنتج:

إذا استقلت كشمير عن الهند وباكستان فإن أطول

حدودها السياسية سيكون مع دولة.....

أ- تستقل إدارتها المحلية عن الحكومة المركزية  
ملحوظة : سؤال ٢٩ جميع  
الاختيارات خطأ لأن أطول

ب- اتحادية متنوعة في الموارد وحدودها يتكون مع الصين ولا  
ينطبق أي اختيار علي الصين

ج- تنقسم إدارتها بالنظام اللامركزي ثم تعديل الاجابة ( أ )  
لتكون تتبع إدراتها المحلية

د - مركزية يسهل السيطرة عليها لقرارات الحكومة المركزية



30- ادرس الخريطة ثم استنتج

دولة تمر بها دائرة الاستواء

وتشرف على موقع استراتيجي.....

أ- كينيا

ب- الصومال

ج- الكونغو

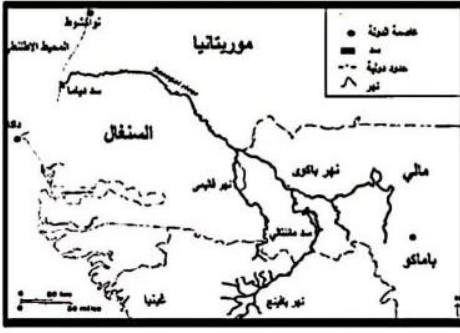
د- أوغندا



لضمان التفوق ابحث دائما عن موقع مدرستك

تم المسح

31- باستخدام الخريطة المقابلة يعد الحد السياسي الشمالي لدولة السنغال حدًا .....



- أ- طبيعيًا قد يغير مجراه
- ب- طبيعيًا يتميز بالثبات
- ج- حضاريًا اثوغرافيا
- د- هندسيًا فلكيًا فاصلًا

32- في ضوء ما درست استنتج من الخريطة التالية:

توجد حدود بين بعض الدول تتشابه مع ترسيم الحدود السياسية بالخريطة التي امامك بالخريطة تكثر في قارتي .....



- أ- أمريكا الجنوبية وأوروبا.
- ب- إفريقيا وأمريكا الشمالية.
- ج- استراليا وأمريكا الجنوبية.
- د- استراليا وأوروبا.

33- حدد العبارة الأقرب لدور المساعي الحميدة في حل النزاعات وقت السلم .....

- أ - يجتمع بالأطراف لحل يلبى احتياجات الجميع.
- ب- تشكيل لجنة تقدم تقارير وتقرّر حلاً للنزاع.
- ج - يصدر حكمًا نهائيًا ملزمًا للطرفين.
- د- تتدخل دولة لتقريب وجهات النظر.



34- ادرس الخريطة ثم استنتج:  
تتشابه دولة بوركينا فاسو في موقعها الجغرافي وعدد الدول الحبيسة والساحلية المجاورة لها مع دولة ....

- أ- أثيوبيا
- ب- تشاد
- ج- مالي
- د - النيجر

35- ادرس الخريطة ثم استنتج:

-7-

Ayman Amin

حقوق النشر محفوظة لوزارة التربية والتعليم الفني 2025-2026

'دولة تفتقد عاصمتها للحماية والدفاع وتبعد عن حدها الشمالي 500 كم وحدها الجنوبي 700 كم وحدها الشرقي 200 كم'

تشبه هذه الدولة .....



- أ- السويد
- ب- إسبانيا
- ج- تركيا
- د- بريطانيا



لضمان التفوق ابحث دائما عن موقع مدرستك

تم المسح

36- يمكن متابعة وقائع مؤتمر شرم الشيخ للسلام من خلال تقنية .....

أ- الاستشعار من بعد.

ب- وسائل الاتصالات.

ج- نظم المعلومات الجغرافية .

د- الصور الجوية.

37- توجد عوامل اجتماعية تؤثر على مستقبل خريطة العالم السياسية تتمثل في.....

أ- مشكلة النازحون قسراً

ب- تدخل البنك الدولي

ج- الشركات متعددة الجنسيات

د- الصراع على المياه العذبة

38- تتميز الحدود السياسية عن التخوم بكونها ظاهرة.....

أ- بشرية - ثابتة- قانونية

ب- بشرية- ثابتة - ذات مساحة

ج- بشرية- متغيرة- قانونية

د- بشرية- متغيرة- ذات موارد كثيرة

39- تكاد تتطابق خصائص أحد مرحل إدارة الحد السياسي وأحد وظائف الحدود السياسية في.....

أ- الوظيفة السياسية.

ب- وظيفة الفصل بين الدول.

ج- وظيفة الحماية والأمن.

د- وظيفة الحماية الاقتصادية.

Ayman Amin

40- تتميز دولة ألمانيا وهولندا عن دولة سويسرا واليابان ب .....

-8-

حقوق النشر محفوظة لوزارة التربية والتعليم والتعليم الفني 2025-2026

أ- مواقع استراتيجية توفر الحماية والدفاع.

ب- وفرة الموارد المعدنية اللازمة للصناعة.

ج- المظهر التضاريسي الجبلي.

د- سهولة عمل البنية التحتية

41- يوجد عامل مشترك بين مفهوم النظام السياسي في صورته المجتمعية واختصاصات السلطة المحلية لدولة

متعددة السلطات.....

د- اليابان

ج- الصين

ب- سويسرا

أ - فرنسا



لضمان التفوق ابحث دائما عن موقع مدرستك

نم المسح

42- (هناك عوامل مؤثرة على مستقبل خريطة العالم السياسية منها الاتفاق العسكري للدولة)

تنطبق العبارة السابقة على منطقة ...

أ- شرق أوروبا

ب- الشرق الأقصى

ج- الشرق الأوسط

د- غرب إفريقيا

43- ادرس الخريطان ثم استنتج:

الدولة التي تستطيع استغلال نباتها الطبيعي أثناء الحروب هي .....



أ- اندونيسيا

ب- الجزائر

ج- موريتانيا

د- إيران

44- تتوزع مهام السلطة التنفيذية على أكثر من جهة في النظام.....

أ- الرئاسي

ب- شبه الرئاسي

ج- البرلماني

د- الجمهوري

الأسئلة المقالية

45- " الدولة أحد مجالات الجغرافيا السياسية القديمة والحديثة " في ضوء العبارة السابقة وضح:

كيف تتم دراسة الدولة كأحد مجالات الجغرافيا السياسية

-9-

تعد دراسة الدولة من أهم

مجالات الجغرافيا السياسية

حيث تشمل دراساتها : الخصائص

الطبيعية للدولة - الخصائص

البشرية للدولة - تحليل قوة او

ضعف الدولة - السياسات العامة

للدولة وعلاقتها الخارجية

Ayman Amin

46- أيد صحة العبارة مع التطبيق بمثال:

ساهمت الامم المتحدة سياسيا في حل بعض المشكلات داخل تجمع دول المغرب العربي

سياسيا حيث ساندت حركات

التحرر في العالم مثل تونس

والجزائر وهما من دول المغرب

العربي

كما ساهمت في حل بعض

المشكلات الاقتصادية ذات البعد

السياسي مثل حل النزاع بين

ليبيا وتونس عن طريق محكمة

العدل الدولية



لضمان التفوق ابحث دائما عن موقع مدرستك

تم المسح

النماذج الاسترشادية لمادة الجغرافيا  
الصف الثالث الثانوي  
النموذج العاشر

1- نستنتج من دراسة الشكل المقابل أن المساحة الإجمالية لأرض تلك الدولة تشمل.....



- أ- المياه الداخلية والإقليمية  
ب- اليابس والمياه التكميلية.  
ج- اليابس والمياه الداخلية  
د - المياه المحيطة والإقليمية.

2- استطاعت اليابان أن تتخلص من عزلتها الجغرافية وأصبحت من القوى الاقتصادية الكبرى في العالم ( تتفق العبارة مع آراء العالم ...

- أ- أرسطو  
ب- ابن خلدون  
ج- فردريك راتزل  
د- سيجفريد

Ayman Amin

3- يمكن استخدام تقنية نظم المعلومات الجغرافية في رسم الحدود المانية للدول المطلة على البحر المتوسط، حيث أنها توفر ...

- أ- مساحات تفصيلية لليابس  
ب- حصر للموارد الأرضية  
ج- الدقة والسرعة في تحديد ورسم الحدود  
د- اتفاقيات لترسيم الحدود في المضائق



4- أمامك خريطتان درسهما جيدا ثم استنتج :  
يوجد تغيير في خريطة المنطقة العربية بشكل متناقض يظهر في دولتي .....

- أ- المغرب والعراق  
ب- الصومال وعمان  
ج - الجزائر وسوريا  
د- اليمن والسودان



1 -

حقوق النشر محفوظة لوزارة التربية والتعليم والتعليم الفني 2025-2026

تم المسح الضوئي بـ CamScanner



لضمان التفوق ابحث دائما عن موقع مدرستك

5- ادرس خريطة العالم ثم استنتج :  
يلتقي خط جرينتش ومدار السرطان داخل كتل اقتصادي كان يعاني من مشكلة اقتصادية هو.....



- أ - الإيكواس
- ب - المغرب العربي
- ج- الكوميسا
- د- الأتحاد الأفريقي

6- ادرس خريطة العالم ثم استنتج :  
دولة اشتركت في حلفي الناتو و جنوب شرق آسيا ، وتكتلي الأبيك والنافتا .....

- أ- تركيا
- ب- الولايات المتحدة
- ج- فرنسا
- د- روسيا الاتحادية

**Ayman Amin**

7- تتمثل أقدم صور العلاقات الدولية في .....

- أ - التكتلات الاقتصادية
- ب - الشركات متعددة الجنسيات
- ج - الأحلاف العسكرية
- د - المنظمات الدولية

8- أي من المناطق الآتية يصعب بها ترسيم الحدود المائية في مصر على أساس 12 ميل بحري .....

- أ- البحر المتوسط
- ب- خليج العقبة
- ج- البحر الأحمر
- د- بحيرة ناصر



9- ادرس خريطة فرنسا ثم استنتج :  
أكثر العوامل التي ساعدت على حسن الإدارة الداخلية .....

- أ- الموقع الجغرافي.
- ب- القوة المورفولوجية .
- ج- القوة الديموغرافية.
- د- النشاط الاقتصادي.



10- ادرس خريطة نهر الراين المقابلة ثم استنتج :  
تتعدد الدول المطلة على النهر ولكن هناك دول أكثر احتياجا إلى اتفاقية الأنهار للاتصال بالعالم الخارجي



.....

أ- دولتان

ب- ثلاث دول

ج- أربعة دول

د- خمس دول

11- يمكن للأمة العربية أن تكون وحدة سياسية إذا .....

أ- زادت مساحات دولها

ب- أصبحت في قارة واحدة

ج- أصبح لها حكومة واحدة

د- أصبح بها لغة واحدة

Ayman Amin

12- ادرس خريطة العالم المقابلة ثم استنتج :



تتشابه مصر مع تركيا في .....

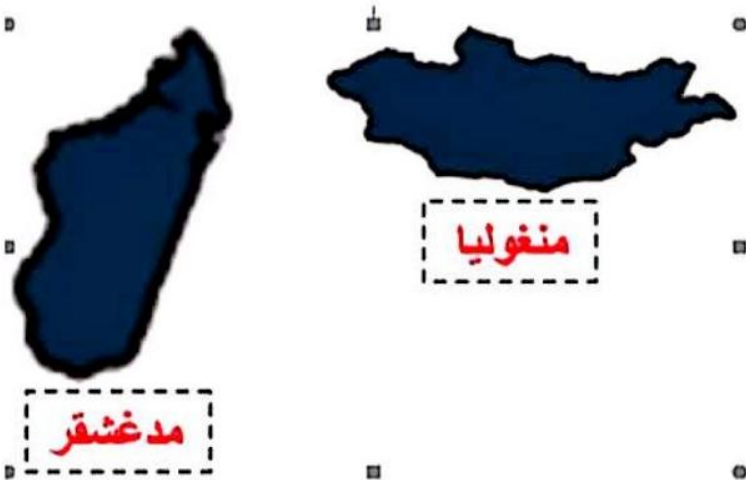
أ- الشكل

ب- الموقع الفلكي

ج- الموقع المركزي

د- عدد الجيران

13- يتضح من شكل الدولتين المقابلتين تميز مدغشقر بـ .....



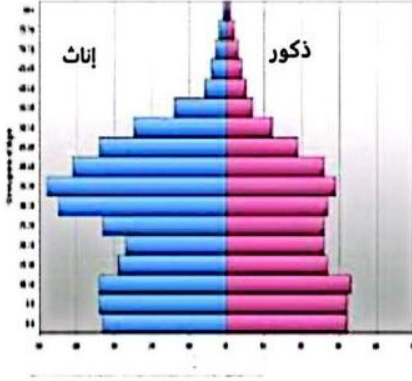
أ- سهولة الإدارة الداخلية

ب- سهولة الاتصال الداخلي

ج- سهولة الدفاع والمراقبة

د- تنوع الأقاليم المناخية

14- أمامك شكل يمثل الهرم السكاني لإحدى الدول النامية :



نستنتج من هذا الشكل .....

- أ- كثرة مساهمة المرأة في الإنتاج
- ب- انخفاض معدلات الاعالة
- ج- قلة مشاركة المرأة في الإنتاج
- د- ارتفاع معدلات كبار السن

15- أمامك خريطة ادرسهما جيدا ثم استنتج :

تتشابه مدينة الخرطوم مع مدينة انقرة في.....



أ- الموقع الساحلي المميز

ب- العمق الجغرافي

ج- وقوعها على نهر محلي

د- السيادة القومية

16- تتشابه الحدود السياسية الخطية من الناحية الديناميكية مع الحدود السياسية الطبيعية إذا كانت متماشية على.....

أ- البحار

ب- الجبال

د- البحيرات

ج- الأنهار

17- تتميز المناطق الفاصلة بين دول غرب أوربا قبل ظهور الدولة القومية بأنها مناطق .....

ب- مناطق ذات توجه داخلي

أ- تحدد حقوق وواجبات الدول حولها

د- تضم ثروات حيوية نباتية وحيوانية

ج- ظاهرة ديناميكية تتغير بتغير الظروف

18- ((قامت بعض الدول بمنع دخول كتب معينة إلى داخل أراضيها))

نستدل من مضمون العبارة على أهمية إحدى وظائف الحدود وهي .....

ب- الحماية العسكرية

أ- الفصل بين الدول

د- السياسية والقانونية

ج- الحماية الاقتصادية



19- بتحليل الصورة المقابلة نستنتج أنها

تعبّر عن أحد خصائص النظام العالمي الجديد وهو .....

أ- تدويل المشاكل والقضايا التي يواجهها العالم

ب- تقلص دور السيادة الوطنية

- 4 -

حقوق النشر محفوظة لوزارة التربية والتعليم والتعليم الفني 2025-2026

Ayman Amin

ج- تحرير دور السيادة الوطنية

د- ظهور التكتلات الاقتصادية

20- تزايدت مشكلات الأقليات القومية في الربع الشمالي الشرقي للكرة الأرضية.....

ب- مع انتهاء الحرب الباردة

أ- بعد الحرب العالمية الأولى

د- بعد الحرب العالمية الثانية

ج- في بداية القرن التاسع عشر

21- التكامل الاقتصادي يساعد المستهلكين في الحصول على السلع بأقل الأسعار مما يؤدي إلى .....

ب- تخفيف أثر الصدمات الخارجية

أ- رفع مستوى رفاهية المواطنين

د- إقامة مشروعات مشتركة

ج- الاستفادة من المراكز البحثية



لضمان التفوق ابحث دائما عن موقع مدرستك

تم المسح

- 22- (تنتشر المناطق الأفريقية التي تتعدد بها مشكلات ناتجة عن حركة الرعاة وتتعدد أسبابها) في ضوء العبارة استنتج الأسباب الطبيعية لهذه المشكلة تتواجد في ...
- أ- شمال القارة  
ب- شرق القارة  
ج- غرب القارة  
د- جنوب القارة

- 23- تعد من الظواهر الاجتماعية التي تعاني منها دولة الكويت...  
أ- زيادة نسبة البطالة  
ب- ارتفاع معدلات الإعالة  
ج- هجرة العقول والكفاءات  
د- عدم التجانس السكاني

- 24- يمكن ملاحظة تركيز التغيرات في الحدود السياسية في النصف الأول من القرن العشرين في قارة
- أ- أوربا  
ب- استراليا  
ج- أفريقيا  
د- أمريكا الجنوبية



- 25- استعن بالخريطة المقابلة ثم استنتج:

- حال أصبح إقليم كتالونيا دولة مستقلة ذات سيادة فانها ستتشابه مع إسبانيا من حيث.....
- أ- الموقع الاستراتيجي البحري  
ب- عدد الدول المجاورة  
ج- عدد الواجهات البحرية  
د- الموقع في نصف الكرة الغربي

- 26- دولة استفادت من مزايا التضاريس وعانت من مشكلة اجتماعية ناتجة عن المرتفعات تقع هذه الدولة في .....
- أ- شمال أوربا  
ب- وسط أوربا  
ج- غرب أوربا  
د- شرق أوربا

- 5 -

Ayman Amin

حقوق النشر محفوظة لوزارة التربية والتعليم الفني 2025-2026

د - شرق أوربا

ج - غرب أوربا

- 27- من الدول التي يسود فيها الملك ولا يحكم ، ويمر بها خط الطول الرئيسي ، دولة تتسم ب....  
أ- جبهة ساحلية ضيقة  
ب- الشكل الجزر البحري

ج- الشكل الشريطي الطولي  
د- المساحة الكبيرة

- 28- يعبر كل مما يأتي عن النظام السياسي في صورته الاجتماعية ويخرج عن ذلك .....
- أ- إقامة مشروعات اقتصادية  
ب- استصلاح الأراضي الصحراوية  
ج- مناقشة تقرير الحساب الختامي  
د- خطط التنمية البشرية الشاملة

- 29- (أجريت الانتخابات البرلمانية في مصر في شهر نوفمبر عام 2025 م) - في ضوء هذه العبارة وضع
- يمكن التعرف على إجمالي عدد المتقدمين في الدوائر الانتخابية في المرحلة التي تلي .....
- أ- تقسيم الدوائر  
ب- الترشح للانتخابات  
ج- اجراء الاقتراع  
د- تحديد الفائزين

- 30- (تعد جغرافيا الانتخابات فرع من فروع الجغرافيا السياسية ويتأثر بمجالاتها) في ضوء العبارة استنتج كل مما يأتي من مجالات جغرافيا الانتخابات ويستثنى من ذلك .....
- أ- التباين المكاني للتصويت  
ب- التحليل السياسي للقوة  
ج- دراسة الآثار الاقتصادية  
د- تغيير الظروف البشرية

تم المسح



لضمان التفوق ابحث دائما عن موقع مدرستك

31- ( يرجع نجاح الاتحاد الأوربي إلي اعتماده علي مؤسسات متميزة تدير شئونه )  
في ضوء العبارة استنتج  
الاتحاد الأوربي يتشابه مع الدول الفيدرالية والوحدوية الديمقراطية في .....  
أ- التمثيل النيابي  
ب- الوحدة الثقافية  
ج- النظام الدفاعي  
د- الدستور الموحد

32- (التكتل الاقتصادي هو مجموعة من الدول تجمعها مصالح اقتصادية مشتركة )  
في ضوء العبارة استنتج  
تتواجد القوة الديموقراطية الأكبر في تكتل .....  
أ- الأبيك  
ب- الاتحاد الأوربي  
ج- الكوميسا  
د- اتحاد المغرب العربي

33- يوجد تشابه بين الدور الذي تقوم هيئة تسوية المنازعات التابعة للمجلس الأعلى لمجلس التعاون لدول الخليج العربي مع أحد مؤسسات الكوميسا وهو .....  
أ- لجنة الخبراء الحكوميين  
ب - وكالة الاستثمارات الإقليمية  
ج- مجلس أعمال الكوميسا  
د- مفوضية المنافسة بكميسا

- 6 -

حقوق النشر محفوظة لوزارة التربية والتعليم والتعليم الفني 2025-2026

## Ayman Amin

34- يرجع سبب النزاعات الحدودية داخل قارة أفريقيا إلى .....  
أ- المصاهرة والاندماج الاجتماعي  
ب- تقسيم الاستعمار لمستعمراته  
ج- الهجرة الداخلية بين دول القارة  
د- الصراع الداخلي والسيطرة

35- تختلف مظاهر التفرقة العنصرية في أفريقيا عن أمريكا الشمالية في .....  
أ- سيطرة الأغلبية على الأقلية  
ب- سيطرة الأقلية على الأغلبية  
ج- الحصول على الحقوق السياسية  
د- ثبات نوع الأقلية في القارتين

36- ادرس الخريطة المقابلة ثم استنتج :  
يتشابه تأثير الأقلية بالدولة الموضحة أمامك من حيث التوزيع الجغرافي مع تأثير الأقلية في دولة تقع.....



خريطة (1991) موقع لجزر الشبهه من أندونيسيا

أ- شمال شرق أوربا  
ب- جنوب أفريقيا  
ج- جنوب أمريكا الشمالية  
د- جنوب غرب أوربا

37- في نهاية الألفية الثانية حدث تغير في الحدود السياسية على أساس قومي في منطقة تتواجد في ....



أ- جنوب البحر المتوسط  
ب- شرق البحر الأدرياتي  
ج- جنوب البحر الأسود  
د - شمال البحر البلطي

38- العامل الأكثر تأثيرًا في توتر العلاقة بين الصين والولايات المتحدة الأمريكية وظهور ما يسمى بالحرب التجارية حاليا هو.....

أ- التوسع الاستعماري  
ب- الموارد النادرة  
ج- الغزو الثقافي  
د- استقطاب العقول



لضمان التفوق ابحث دائما عن موقع مدرستك

تم المسح

- في ضوء تلك العبارة وضح : أي الأهداف الآتية يمثل الجانب العملي التطبيقي .....
- أ- وضع حلول للمشكلات السياسية  
 ب- دراسة المعوقات الطبيعية والبشرية للدولة  
 ج- دراسة سلوك الدولة السياسي  
 د- تحليل التجمعات الإقليمية والدولية
- 40- ( يعد نقص المياه العذبة أحد الأسباب في الوقت المعاصر في التوترات بين الدول )  
 في ضوء العبارة استنتج  
 من الأنهار التي تثار حولها النزاعات الدولية نهر يتواجد في .....
- أ- جنوب غرب أوروبا  
 ب- وسط أمريكا الشمالية  
 ج- شرق أفريقيا  
 د- شرق آسيا

- 41- ( الاستعمار كان سبباً في المشكلات الحدودية بين الهند وباكستان على إقليم كشمير )  
 في ضوء العبارة استنتج

**Ayman Amin**

- أنسب الحلول لحل هذه المشكلة هو ....
- أ- ضم الإقليم للهند.  
 ب- ضم الإقليم لأفغانستان  
 ج- جعل الإقليم مشاعاً للبشرية  
 د- عمل استفتاء تقرير المصير

- 42- توضح الصورة المقابلة أن لروسيا تأثير في العلاقات الدولية من خلال القوة .....



- أ- العسكرية  
 ب- الاثنوغرافية  
 ج- الاقتصادية  
 د- الديموجرافية

- 43- يعد من خصائص النظام العالمي الجديد التي تتعارض مع الهدف المعلن من إنشائه أي العبارات التالية تعبر عن ذلك .....

- أ - إنهاء الحرب الأهلية في بعض الدول  
 ب- تدخل الدول الكبرى في انتخابات دولة نامية  
 ج- تدعيم دور الأمم المتحدة في حل المشكلات  
 د- ظهور الثورة الصناعية الثالثة أو المعلوماتية

- 44- تمثل أحد الوسائل غير المادية في النظام العالمي الجديد للسيطرة على الدول النامية في الخريطة السياسية مستقبلاً.....

- أ- سباق التسلح  
 ب - الغزو الفكري  
 ج- التهجير القسري  
 د- الصراع الاقتصادي

الأسئلة المقالية

- 45- دلل علي صدق العبارة

يتشابه الدور العسكري الذي قام به حلف الناتو مع الدور الذي قامت به منظمة الأمم المتحدة.

- 8 -

التدخل العسكري في البوسنة

وإرسال قوات حفظ السلام

والسلام وإرسال قوات الحلف إلي  
 مقدونيا

الامم المتحدة ارسلت قوات

حفظ السلام للبوسنة وكرواتيا

وإرسال مراقبين لمناطق التوتر

- 46- " هناك العديد من المقومات التي تؤدي إلى نجاح التكتلات الاقتصادية " في ضوء العبارة حدد المقومات الاقتصادية التي تؤدي لنجاح أي كتلة اقتصادية

المقومات الاقتصادية لنجاح أي

تكتل تتمثل في : تنوع الموارد

الاقتصادية- توافر عناصر الإنتاج

- توافر البنية الأساسية



لضمان التفوق ابحث دائما عن موقع مدرستك

تم المسح

- في ضوء تلك العبارة وضح : أي الأهداف الآتية يمثل الجانب العملي التطبيقي .....
- أ- وضع حلول للمشكلات السياسية  
 ب- دراسة المعوقات الطبيعية والبشرية للدولة  
 ج- دراسة سلوك الدولة السياسي  
 د- تحليل التجمعات الإقليمية والدولية
- 40- ( يعد نقص المياه العذبة أحد الأسباب في الوقت المعاصر في التوترات بين الدول )  
 في ضوء العبارة استنتج  
 من الأنهار التي تثار حولها النزاعات الدولية نهر يتواجد في .....
- أ- جنوب غرب أوروبا  
 ب- وسط أمريكا الشمالية  
 ج- شرق أفريقيا  
 د- شرق آسيا

- 41- ( الاستعمار كان سبباً في المشكلات الحدودية بين الهند وباكستان على إقليم كشمير )  
 في ضوء العبارة استنتج

**Ayman Amin**

- أنسب الحلول لحل هذه المشكلة هو ....
- أ- ضم الإقليم للهند.  
 ب- ضم الإقليم لأفغانستان  
 ج- جعل الإقليم مشاعاً للبشرية  
 د- عمل استفتاء تقرير المصير

- 42- توضح الصورة المقابلة أن لروسيا تأثير في العلاقات الدولية من خلال القوة .....



- أ- العسكرية  
 ب- الاثنوغرافية  
 ج- الاقتصادية  
 د- الديموجرافية

- 43- يعد من خصائص النظام العالمي الجديد التي تتعارض مع الهدف المعلن من إنشائه أي العبارات التالية تعبر عن ذلك .....

- أ - إنهاء الحرب الأهلية في بعض الدول  
 ب- تدخل الدول الكبرى في انتخابات دولة نامية  
 ج- تدعيم دور الأمم المتحدة في حل المشكلات  
 د- ظهور الثورة الصناعية الثالثة أو المعلوماتية

- 44- تمثل أحد الوسائل غير المادية في النظام العالمي الجديد للسيطرة على الدول النامية في الخريطة السياسية مستقبلاً.....

- أ- سباق التسلح  
 ب - الغزو الفكري  
 ج- التهجير القسري  
 د- الصراع الاقتصادي

الأسئلة المقالية

- 45- دلل علي صدق العبارة

يتشابه الدور العسكري الذي قام به حلف الناتو مع الدور الذي قامت به منظمة الأمم المتحدة.

- 8 -

التدخل العسكري في البوسنة

وإرسال قوات حفظ السلام

والسلام وإرسال قوات الحلف إلي  
 مقدونيا

الامم المتحدة ارسلت قوات

حفظ السلام للبوسنة وكرواتيا

وإرسال مراقبين لمناطق التوتر

- 46- " هناك العديد من المقومات التي تؤدي إلى نجاح التكتلات الاقتصادية " في ضوء العبارة حدد المقومات الاقتصادية التي تؤدي لنجاح أي كتلة اقتصادية

المقومات الاقتصادية لنجاح أي

تكتل تتمثل في : تنوع الموارد

الاقتصادية- توافر عناصر الإنتاج

- توافر البنية الأساسية



لضمان التفوق ابحث دائما عن موقع مدرستك

تم المسح