

الفترة الأولى: الموقع الفلكي والجغرافي لقارات العالم القديم آسيا - إفريقيا - أوروبا

الأداء الصفحي

لاحظ واستنتج:

١- تعاون مع زميلك المجاور، ولاحظ خريطة قارات العالم بالكتاب المدرسي ص ٣. ثم اجب عن الأسئلة:

- أكبر قارات العالم من حيث المساحة هي آسيا بينما أصغرها مساحة هي أستراليا



٢- بم تفسر: تعد قارة آسيا شبه جزيرة كبيرة؟

لا يتواجد بها الماء من ثلاث جهات (البحر المتوسط)   
 ٣- اكتب على الخريطة التي أمامك اسم المحيط الذي تطل عليه قارة إفريقيا من جهة الغرب.

المحيط الأطلنطي

٤- يحد قارة أوروبا من الشرق قارة آسيا

لاحظ وأجب:

١- بالتعاون مع أفراد مجموعتك اكتب على الخريطة أسماء المسطحات المائية التي تحيط بقارة أوروبا من:

(الشمال - الغرب - الجنوب) البحر المتوسط

قارة آسيا دوائر القطبية الشمالية مدار السرطان خط الاستواء

٢- ارجع إلى خريطتي الموقع الفلكي لقارتي آسيا و إفريقيا بالكتاب المدرسي صفحة (٤)

وحدد عدد دوائر العرض التي تمر بكل قارة وتوقع نتائج ذلك. تنوع النبات الطبيعي والمناخ والحيوانات والحاصل   
قارة إفريقيا دوائر العرض مدار السرطان خط الاستواء مدار الجدي

٣- تضم قارة آسيا مجموعة من الجزر منها: الفلبين و إندونيسيا

٤- فسر: كثرة الموانئ في أوروبا.

بسبب تفتح السواحل وكثرة الجزر

حل

الدراسي الأول: قارات العالم (الموقع والمساحة)

الدرس الأول

الأسبوع \_\_\_\_\_ التاريخ: / /

الفترة الأولى: الموقع الفلكي والجغرافي لقارات العالم القديم: آسيا - إفريقيا - أوروبا

الأداء الصفّي

لاحظ واستنتج:

١- تعاون مع زميلك المجاور، ولاحظ خريطة قارات العالم بالكتاب المدرسي ص ٣. ثم أجب عن الأسئلة:

- أكبر قارات العالم من حيث المساحة هي آسيا بينما أصغرها مساحة هي أستراليا



٢- بم تفسر: تعد قارة آسيا شبه جزيرة كبيرة؟

لأنها لا تحدها المياه من ثلاث جهات (البحر المتوسط)

٣- اكتب على الخريطة التي أمامك اسم المحيط الذي تطل عليه قارة إفريقيا من جهة الغرب.

المحيط الأطلنطي

٤- يحد قارة أوروبا من الشرق قارة آسيا

لاحظ وأجب:

١- بالتعاون مع أفراد مجموعتك اكتب على الخريطة أسماء المسطحات المائية التي تحيط بقارة أوروبا من:

(الشمال - الغرب - الجنوب) البحر المتوسط

قارة آسيا (دوائر العرض القطبية الشمالية مدار السرطان خط الاستواء مدار السرطان)

٢- ارجع إلى خريطتي الموقع الفلكي لقارتي آسيا و إفريقيا بالكتاب المدرسي صفحة (٤)

وحدد عدد دوائر العرض التي تمر بكل قارة وتوقع نتائج ذلك. تنوع النبات الطبيعي والمناخ والقصورات والمظاهر

٣- تضم قارة آسيا مجموعة من الجزر منها: الفلبين و اندونيسيا

٤- فسر، كثرة الموانئ في أوروبا.

بسبب تفتح السواحل وكثرة الجزر

الأدوات والتقنيات



الأداء المنزلي (الواجب):

- 1- اكتب على خريطة العالم أسماء القارات والمحيطات.
- 2- قارن في جدول من تصميمك بين قارات العالم القديم من حيث الموقع الفلكي والموقع الجغرافي.

الفترة الثانية: الموقع الفلكي والجغرافي لقارات العالم الجديد - أمريكا الشمالية

القارة القطبية الجنوبية: التاريخ: / /

الأداء الصفّي:

1 لاحظ .. واستنتج :



- 1- بالتعاون مع أفراد مجموعتك اكتب على الخريطة أسماء المسطحات المائية التي تحيط بقارة أمريكا الشمالية من:

(الشمال - الشرق - الغرب - الجنوب الشرق)  
 الدائرة القطبية الشمالية  
 مدار السرطان  
 مدار الجدي  
 خط عرض 40°  
 خط عرض 30°  
 خط عرض 20°  
 خط عرض 10°  
 خط عرض 0°  
 خط عرض 10°  
 خط عرض 20°  
 خط عرض 30°  
 خط عرض 40°  
 خط عرض 50°  
 خط عرض 60°  
 خط عرض 70°  
 خط عرض 80°  
 خط عرض 90°

- 2- ارجع إلى خريطتي الموقع الفلكي لقارتي أمريكا الشمالية والجنوبية بالكتاب المدرسي صفحة (5) ثم حدد دوائر العرض التي تمر بكل قارة وتوقع نتائج ذلك.

- 3- أكمل: تضم قارة أستراليا مجموعة من الجزر أهمها تسمانيا و نيوزيلندا
- 4- فسر: القارة القطبية الجنوبية غير مأهولة بالسكان.

لأنها تقع في أقصى جنوب الكرة الأرضية. تمر بأطرافها الدائرة القطبية الجنوبية

ب لاحظ .. وحدد:



- 1- بالتعاون مع زميلك المجاور اكتب مدلول الأرقام الموضحة على الخريطة المقابلة.

- 1- قارة أستراليا
- 2- المحيط الهادي
- 3- جزيرة نيوزيلندا الجنوبية

- 2- ما النتائج المترتبة على وقوع قارة أنتاركتيكا عند القطب الجنوبي؟

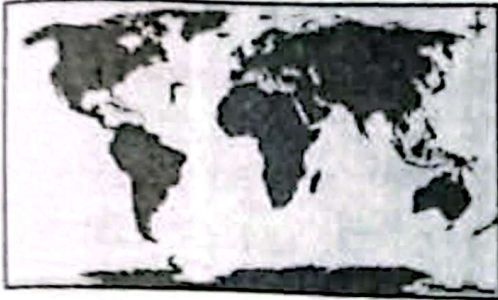
أصبحت غير مأهولة بالسكان

- ١- صمم رسماً بيانياً يوضح ترتيب قارات العالم من حيث المساحة.
- ٢- قارن في جدول بين قارات العالم الجديد من حيث الموقع الفلكي والموقع الجغرافي.

التقييم الأسبوعي:

التاريخ: / /

نموذج (أ)



- ١- اكتب مدلول الأرقام الموضحة على الخريطة
- ١- قارة أمريكا الشمالية
- ٢- مسطح مائي هو المحيط الأطلسي
- ٢- أكمل العبارة التالية بكلمة مناسبة،

- تعد ثاني أكبر قارات العالم من حيث المساحة هي قارة أفريقيا

٣- اشرح الموقع الجغرافي لقارتي إفريقيا وأمريكا الشمالية.

٤- اكتب بمفرداتك الخاصة المقصود بالموقع الجغرافي.

٥- قارن بين الموقع الفلكي لكل من قارتي آسيا وإفريقيا:

الموقع الفلكي لقارة إفريقيا	الموقع الفلكي لقارة آسيا
٣٧,٣ شمال ٣٤,٣ جنوب ١٧,٤ غرباً	دائرة عرض ٨١ شمالاً خط طول ١٠٦ جنوباً ٢٦ شرقاً ١٧٠,٢ غرباً

نموذج (ب)



- ١- اكتب مدلول الأرقام الموضحة على الخريطة
- ١- قارة القارة القطبية الجنوبية
- ٢- مسطح مائي هو المحيط الهادئ
- ٢- أكمل العبارة التالية بكلمة مناسبة:

- تعد أصغر قارات العالم من حيث المساحة هي قارة أستراليا

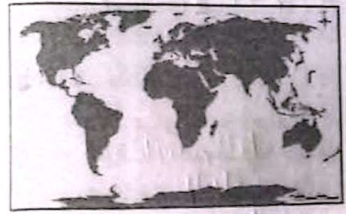
٣- اشرح الموقع الجغرافي لقارة أمريكا الجنوبية.

حدود البحر الكاريبي وقارة أمريكا الشمالية

شرقاً المحيط الأطلسي - غرباً المحيط الهادئ

الفصل الدراسي الأول

دائرة عرض ٨١ شمالاً ١٠٦ جنوباً  
دائرة طول ١٧٠ غرباً ١٧٤ غرباً



نموذج (ب)

- ١- اكتب مدلول الأرقام الموضحة على الخريطة
- ١- قارة **القارة القطبية الجنوبية**
- ٢- مسطح مائي هو **المحيط الهندي**
- ٢- أكمل العبارة التالية بكلمة مناسبة:  
تعد أصغر قارات العالم من حيث المساحة هي قارة **أستراليا**
- ٣- اشرح الموقع الجغرافي لقارة أمريكا الجنوبية.

**ممالا البحر الكاريبي وقارة أمريكا الشمالية**  
**شرقاً المحيط الأطلسي - غرباً المحيط الهندي**

**الفصل الدراسي الأول**

**الإدعاءات والتقييمات**

- ٤- اكتب بمفرداتك الخاصة المقصود بالدول الجزرية.
- ٥- قارن بين الموقع الفلكي لكل من قارتي أمريكا الشمالية وأوروبا:

الموقع الفلكي لقارة أوروبا	الموقع الفلكي لقارة أمريكا الشمالية
٣٦ شمالاً ٦٦ شرقاً ٤٥ غرباً	٤٧ شمالاً ١٦٨ غرباً



نموذج (ج)

- ١- اكتب مدلول الأرقام الموضحة على الخريطة
- ١- قارة **أمريكا الجنوبية**
- ٢- مسطح مائي هو **المحيط الهندي**
- ٢- أكمل العبارة التالية بكلمة مناسبة:  
تعد أكبر قارات العالم من حيث المساحة هي قارة **آسيا**
- ٣- اشرح الموقع الجغرافي لقارة أستراليا.

**شمالاً بحر آرغنتين جنوباً وغرباً المحيط الهندي شرقاً المحيط الهندي**  
٤- اكتب بمفرداتك الخاصة المقصود بالبحر المغلق.  
**بحر ريو جراندي والخليج اليابس ولا يتصل به أي بحار أخرى أو محيطات**

الموقع الفلكي لقارة أستراليا	الموقع الفلكي لقارة أمريكا الجنوبية
١٠ شمالاً ١١٣ شرقاً ١٧٨ غرباً	١٤ شمالاً ٣٥ غرباً ٨١


**الدرس الثاني: تضاريس العالم**

الأسبوع ..... التاريخ: / /

**الفترة الأولى: تضاريس قارات العالم القديم**

الأداء الصفحي:

لاحظ .. وسجل:



- ١- اكتب مدلول الأرقام الموضحة على الخريطة:

(١) جبال ..... (٢) سهل .....

- ٤- اكتب بمفرداتك الخاصة المقصود بالدول الجزرية  
الدول التي تتكون من جزيرة أو أكثر أو قديماً جزءاً من جزيرة.  
٥- قارن بين الموقع الفلكي لكل من قارتي أمريكا الشمالية وأوروبا:

الموقع الفلكي لقارة أوروبا	الموقع الفلكي لقارة أمريكا الشمالية
٣٦ ٧١٥ شمالاً ٦٦ شرقاً ٩٥ غرباً	٤٧٣ ٦٣ شمالاً ١٦٨ ٤٠ غرباً

نموذج (ج)



- ١- اكتب مدلول الأرقام الموضحة على الخريطة

- ١- قارة أمريكا الجنوبية  
٢- مسطح مائي هو المحيط الهندي  
٢- أكمل العبارة التالية بكلمة مناسبة.

- تعد أكبر قارات العالم من حيث المساحة هي قارة آسيا.

- ٣- اشرح الموقع الجغرافي لقارة أستراليا.

شمالاً بحر آرغونوا، جنوباً وغرباً المحيط الهندي، شرقاً المحيط الهادي.

- ٤- اكتب بمفرداتك الخاصة المقصود بالبحر المغلق.

بحر ريو جوردان، أقل اليابس ولا يتصل به أي بحار أخرى أو محيطات.  
٥- قارن بين الموقع الفلكي لكل من قارتي أمريكا الجنوبية وأستراليا:

الموقع الفلكي لقارة أستراليا	الموقع الفلكي لقارة أمريكا الجنوبية
١٠ ٤٤ جنوباً ١١٣ ٢ ١٧٨ شرقاً	١٤ شمالاً ٦٥ جنوباً ٣٥ ٤ ٨١ غرباً

تضاريس العالم

الدرس الثاني:

الأسبوع ..... التاريخ: / /


الفترة الأولى: تضاريس قارات العالم القديم:

الأداء الصفّي:

لاحظ .. وسجل:

- ١- اكتب مدلول الأرقام الموضحة على الخريطة:

(١) جبال ..... (٢) سهل .....



الوحدة الأولى: الجغرافيا الطبيعية للعالم

٢- بم تفسر ..؟

( أ ) تتنوع مظاهر السطح بقارات العالم  
هناك ثلاث أقسام تضاريسية في العالم هي الجبال والسهول والمرتفعات  
(ب) تعرف هضبة التبت بسقف العالم. وتختلف من قارة إلى أخرى

بسبب ارتفاعها عن قمم الجبال



ب) لاحظ .. وسجل:

١- اكتب مدلول الأرقام الموضحة على الخريطة:

(١) نهر النيل

(٢) هضبة البحيرات الإستوائية

٢- برهن على صحة العبارة التالية:

- تتميز السهول الساحلية في قارة إفريقيا بشكل عام بالضيقة.

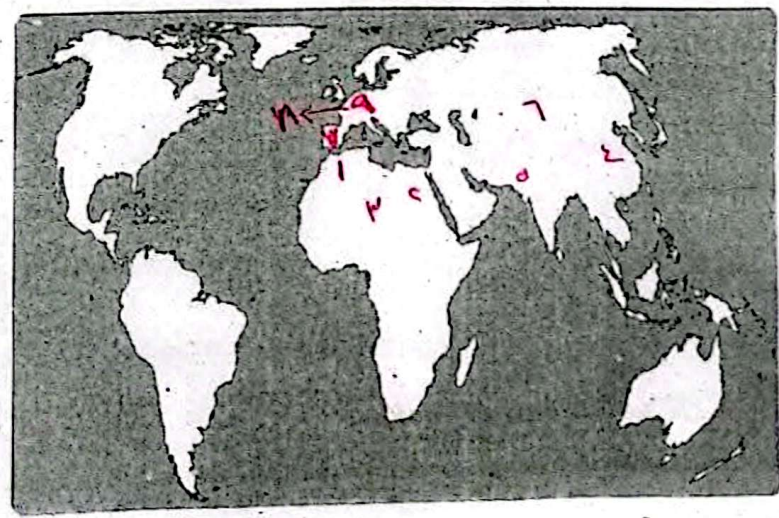
بسبب اقتراب جبال الهمالايا مثل جبال البرازيل

٣- بم تفسر: كثرة الموانئ بالسهول الساحلية في قارة أوروبا؟

بسبب تدرج السواحل وكثرة البحار

الأداء المنزلي (الواجب):

- قارن بين مظاهر سطح قارات العالم القديم في جدول، ثم وقع على خريطة العالم الظاهرات التضاريسية التالية باستخدام الأرقام ( جبال أطلس - نهر النيل - هضبة شمال إفريقيا - سهل الصين - نهر السند - جبال الهمالايا - هضبة الميزيتا - نهر الراين - جبال الألب ).



الأدوات والتقنيات

الفترة الثانية تضاريس قارات العالم الجديد



1 لاحظ .. وسجل:

1- اكتب مدلول الأرقام الموضحة على الخريطة:

(1) جبال روكي

(2) نهر الأمازون

2- قارن بين السهول الفيضية في قارة أمريكا الشمالية وقارة أمريكا الجنوبية:

السهول الفيضية في قارة أمريكا الجنوبية	السهول الفيضية في قارة أمريكا الشمالية
سهول نهر أورينوكو في الشمال سهول حوض نهر الأمازون سهول لابلاتا وبارانا وباراجوي	تمتد من المحيط القطبي الشمالي إلى خليج المكسيك سهول نهر نلسون سهول نهر سانت لورانس سهول نهر المسيسيبي

ب لاحظ .. وسجل:

1- اكتب مدلول الأرقام الموضحة على الخريطة:

(1) الصحراء الرملية الكبرى

(2) جبال الحاجز الكبير

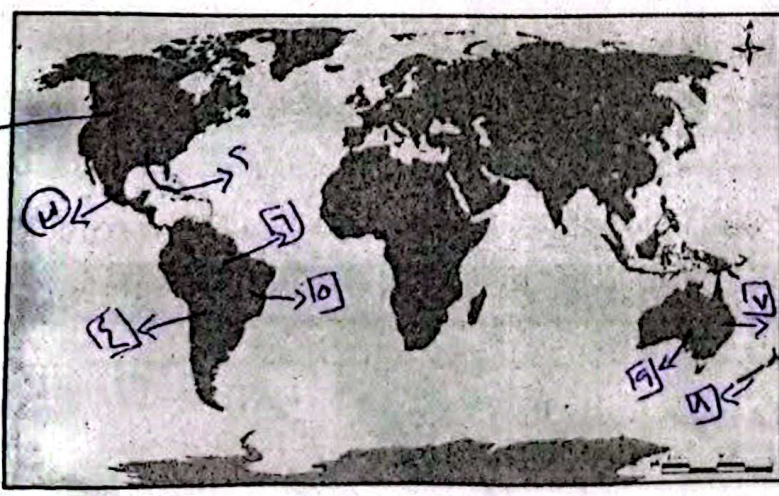
2- بم تفسر: تشابه تضاريس أستراليا وإفريقيا؟



يسودهما المناخ القاري الجاف فتتشكل الارتفاعات

مساحات واسعة من قارة إفريقيا وتتشكل الارتفاعات الغربية لنفس مساحة قارة أستراليا

الأداء المنزلي (الواجب):



- قارن بين مظاهر سطح قارات العالم الجديد في جدول، ثم وقع على خريطة العالم الظاهرات التضاريسية التالية باستخدام الأرقام (جبال روكي - نهر المسيسيبي - هضبة المكسيك - جبال الأنديز - هضبة البرازيل - نهر الأمازون - جبال الحاجز الكبير - جزيرة نيوزلاند - نهر دارلنج).

الوحدة الأولى: الجغرافيا الطبيعية للعالم

التقييم الأسبوعي:

التاريخ: / /

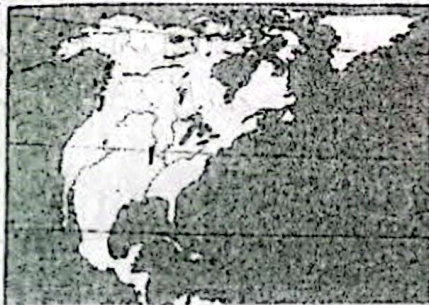
نموذج (أ)



- ١- اكتب مدلول الرقم الموضح على الخريطة:
  - (١) سهل السيبيريا
- ٢- ما النتائج المترتبة على كثرة التعاريف بسواحل أوروبا.
  - كثرة الموانئ بالسهول الساحلية
- ٣- بم تفسر، قلة الأهمية الاقتصادية لسهول سيبيريا؟
  - بسبب تبخرها في فصل الشتاء
- ٤- برهن على تشابه تضاريس قارتي إفريقيا وأستراليا.
  - يسودهما المناخ القاري حيث تكثر الينابيع بالقرى فيها ويسود نصف النحر اليابس
- ٥- قارن بين الجبال في قارتي أمريكا الشمالية وأمريكا الجنوبية:

الجبال في قارة أمريكا الجنوبية	الجبال في قارة أمريكا الشمالية
جبال الالاندز في غرب القارة. تتمتع من الشمال في الأطراف الجنوبية.	<u>سلاسل جبال الألبس في الشرق</u> <u>سلاسل جبال روكي في الغرب</u>

نموذج (ب)



- ١- اكتب مدلول الرقم الموضح على الخريطة:
  - (١) نهر المسيحي
- ٢- ما النتائج المترتبة على ارتفاع هضبة التبت؟
  - أصبحت تسمى سقف العالم
- ٣- بم تفسر، أهمية السهول في قارة أمريكا الجنوبية؟
  - للمناطق خصوبة للأقطان والزراعة والنقل وهو المرفأ فيه للسفن
- ٤- برهن على أهمية هضبة التبت والبحيرات الاستوائية لمصر.
  - لأن روافد نهر النيل تنبع منها
- ٥- قارن بين السهول الفيضية في قارتي أوروبا وأستراليا:

السهول الفيضية في قارة أستراليا	السهول الفيضية في قارة أوروبا
<u>سهول متصدعة يجري بها نهر</u> <u>مري ودارلينج ويصبان في الخليج الأسترالي</u>	تمتد في المحيط الأطلنطي عبر باقى جبال الأورال <u>شرقا</u> <u>نهر الفولجا، نهر الراين، نهر الدانوب</u>

الكبير

## الإدعاءات والتقييمات

لمودج (ج)



١- اكتب مدلول الرقم الموضح على الخريطة،

(١) هضبة البرازيل

٢- ما النتائج المترتبة على اقتراب الجبال من السواحل الإفريقية؟

تربط عليه هضبة شرق السواحل / السهول الساحلية الإفريقية

٣- برهن على تنوع مظاهر السطح في قارة أستراليا.

حيث يوجد بها جبال مثل اديامير في الشرق والهضبة الغربية والسهول الغربية والسهول الشرقية

٤- بم تفسر: الأهمية الاقتصادية للسهول الفيضية؟

مناطق خصبة للزراعة والرياح والتمل وهو أكثر جاذبية للسكان

٥- قارن بين العضاب في قارتي آسيا وإفريقيا.

## العضاب في قارة إفريقيا

## العضاب في قارة آسيا

شمال القارة ← هضبة الصحراء الكبرى	وسط القارة هضبة التبت
وسط القارة هضبة البحيرات الاستوائية	جنوب القارة هضبة الدكن
شرق القارة هضبة الحبشة	غرب القارة ← هضبة شبه الجزيرة العربية
جنوب القارة هضبة صوب إفريقيا	

## الدرس الثالث: المناخ والنبات الطبيعي في العالم

الأسبوع ..... التاريخ: / /

## الفترة الأولى: الأقاليم الحارة والمعتدلة الدفيئة.

## الأداء الصفحي:

## ١ تعاون - وأجب:

١- تعاون مع زميلك ولاحظ خريطة «توزيع إقليم المناخ الاستوائي والمداري الحار والموسمي

بالكتاب المدرسي ص ١٧»، ثم أكمل العبارات التالية:

(أ) يمتد إقليم المناخ الاستوائي في منطقة <sup>وهذا اللون</sup> إفريقيا وجزر الهند <sup>في آسيا</sup>.(ب) ينتشر في شمال أستراليا إقليم المناخ <sup>المداري الحار</sup>.

٢- بم تفسر...؟

أ- تعتبر حشائش السافانا حديقة حيوان طبيعية.

لأنه يعيش بها حيوانات آكلة للحوم مثل الأسود وحيوانات آكلة للنبات

ب- نمو الأشجار في إقليم المناخ الموسمي.

نظرًا لوجودها في مناخ الموسمي الذي يتميز بطقس أمطار غزيرة

في الصيف مما يتناسب نمو الغابات الموسمية.

المدارة الأولى: المناخ الطبيعي في العالم

ب) لاحظ .. واكتب:

١- تعاون مع زميلك ولاحظ خريطة « توزيع إقليم مناخ البحر المتوسط والصيني بالكتاب المدرسي ص ١٨، ثم أكمل العبارات التالية،

- (أ) ينتشر في جنوب قارة أوربا إقليم مناخ إقليم البحر المتوسط  
 (ب) يوجد في شرق الصين إقليم مناخ المعتدل شرق القارات (الآسيوية)  
 ٢- بم تفسر: الأهمية الاقتصادية لحشائش الإستبس؟  
لأنها تستعمل كعلف للحيوانات

الأداء المنزلي (الواجب):

١- قارن بين إقليم المناخ الاستوائي والمداري الحار والموسمي والبحر المتوسط والمعتدل شرق القارات من حيث: (الموقع - الخصائص المناخية - الخصائص النباتية) في جدول من تصميمك.

الفترة الثانية: الأقاليم المعتدلة الباردة والباردة: التاريخ: / /

أ) تعاون .. وأجب:

١- تعاون مع زميلك ولاحظ خريطة «توزيع إقليم المناخ غرب أوربا والمعتدل البارد بالكتاب المدرسي ص ١٩، ثم أكمل العبارات التالية:

- (أ) يوجد في إقليم منشوريا إقليم مناخ اللورانسسي (المعتدل البارد شرق القارات)  
 (ب) يوجد في جنوب قارة أمريكا الجنوبية إقليم مناخ مشرق أوروبا  
 ٢- بم تفسر: سميت الغابات اللفضية بهذا الاسم؟  
لأن أشجارها تنفث أوراقها شتاءً

ب) لاحظ .. واكتب:

١- تعاون مع زميلك ولاحظ خريطة « توزيع إقليم المناخ غرب أوربا والمعتدل البارد بالكتاب المدرسي ص ١٩، ثم أكمل العبارات التالية،

- (أ) يظهر إقليم مناخ التندرا في شمال آسيا بأمريكا الشمالية.  
 (ب) يظهر في الساحل الغربي لأمريكا الجنوبية إقليم المناخ الجبلية  
 ٢- اكتب بأسلوبك الخصائص المناخية والنباتية لإقليم مناخ التندرا.

شتاءً بارد طويل ومن قشور أمطار هبفاً وتلوج شتاءً

الأداء المنزلي (الواجب):

قارن بين إقليم مناخ غرب أوربا واللورانسسي - والتندرا والجبلية من حيث: (الموقع - الخصائص المناخية - الخصائص النباتية) في جدول من تصميمك.



التقييم الأسبوعي

التاريخ: / /

نموذج (أ)

١- اكتب مدلول الرقم الموضح على الخريطة،

(١) إقليم مناخي غربي أوروبي

(٢) إقليم مناخي البحر المتوسط

٢- ما النتائج المترتبة على امتداد قارة آسيا بين دائرتي عرض ١٠° جنوباً و ٨١° شمالاً؟

النتائج المترتبة على امتداد قارة آسيا بين دائرتي عرض ١٠° جنوباً و ٨١° شمالاً هي:

٣- برهن على صحة العبارة: تنوع الأقاليم المناخية في قارة إفريقيا.

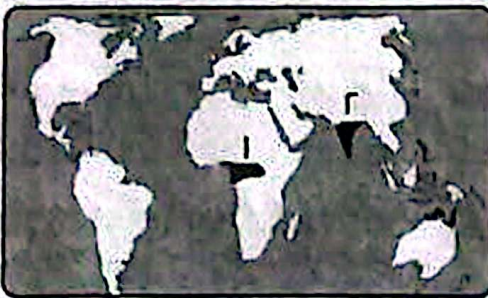
برهن على صحة العبارة: تنوع الأقاليم المناخية في قارة إفريقيا. بسبب عوqها الجغرافية المتميز ادى الى وجود نوعين من المناخ هما المناخ الاستوائي

٤- بم تفسر تدرج حشائش السافانا في الطول؟ و الأقاليم المتضمنة له فينت

بسبب تدرج الأمطار المتفاوتة تسرع من سرعة التبخر في المناطق الاستوائية

٥- حدد أوجه التشابه والاختلاف بين إقليم مناخ البحر المتوسط وإقليم مناخ المعتدل شرق القارات.

وجه المقارنة	إقليم مناخ البحر المتوسط	إقليم مناخ المعتدل شرق القارات
أوجه التشابه	تاريخياً؟ حشائش الإقليم	حار صيفاً - حشائش الإقليم
أوجه الاختلاف	مخروج الغارات - أمطار شتاء	شرق القارات - أمطار طوال العام



نموذج (ب)

١- اكتب مدلول الرقم الموضح على الخريطة،

١- إقليم مناخي الاستوائي

٢- إقليم مناخي المتوسطي

٢- ما النتائج المترتبة على ارتفاع درجة الحرارة وسقوط الأمطار طوال العام في المنطقة الاستوائية؟

نتائج المناخ الاستوائي التي تتميز بكتلة أشجارها وتشابك أشجارها

٣- برهن على صحة العبارة التالية: تنوع الحياة النباتية والحيوانية في إقليم الغابات المدارية.

توفر بها أشجاراً أقل كثافة وتشابكاً من الأشجار الغابات الاستوائية

وحشائش السافانا التي تعمره بقتل ديوان طيقت جيش بها

حيوانات آكلة للحوم وأخرى آكلة للحوم

آكلة للحوم

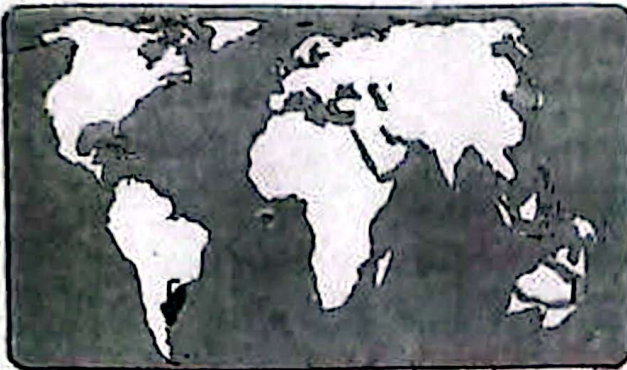
٤- بم تفسر، تفيض الغابات اللفضية أوراها في فصل الشتاء؟

بسبب تساقط الغرودة شتاء

٥- قارن بين إقليم مناخ غرب أوروبا وإقليم مناخ اللورانسى من حيث (الموقع - الخصائص المناخية - الخصائص النباتية).

وجه المقارنة	إقليم مناخ غرب أوروبا	إقليم مناخ اللورانسى
الموقع	غرب أوروبا	شرق أوروبا
الخصائص المناخية	دفع هطلا - بارد شتاء أمطار طوال العام تزداد في الشتاء	معتدل هطلا - بارد شتاء أمطار طوال العام كراه في الصيف
الخصائص النباتية	غابات نفضية مثل الزان	غابات معتدلة مثل الصنوبر

نموذج (ج)



١- اكتب مدلول الرقم الموضح على الخريطة،

(١) إقليم مناخي المعتدل المدارى الحار

(٢) إقليم مناخي المعتدل

٢- ما النتائج المترتبة على اختلاف كمية الأمطار في إقليم المناخ المدارى؟

لأنه كلما اقتربنا من خط الاستواء نزل كمية المطر شمالا وجنوبا

٣- برهن على صحة العبارة التالية: تتمثل كل الأقاليم المناخية في قارة آسيا.

يوجد في آسيا كل الأقاليم المناخية من حيث الحرارة والمسافة والمساحة في آسيا

٤- بم تفسر، خلو قارة أوروبا من الأقاليم المناخية الحارة؟

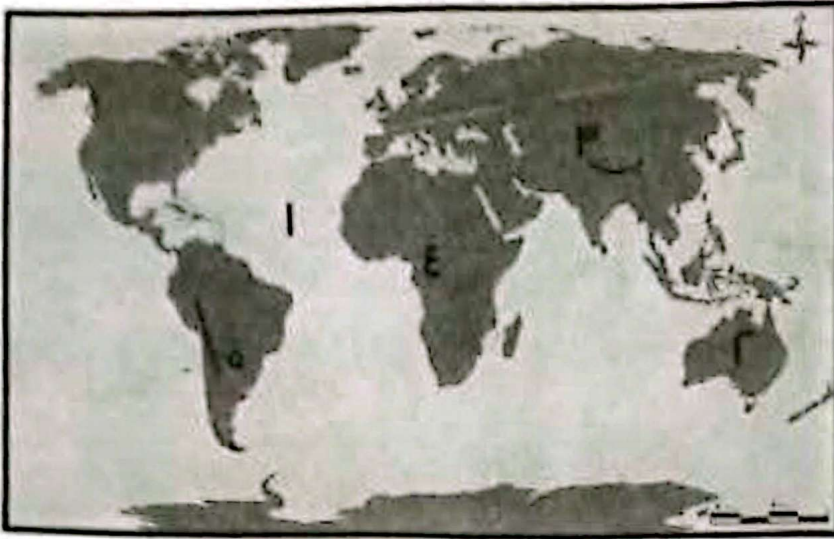
بسبب موقعها الجغرافى شمال الكرة الأرضية

٥- قارن بين: إقليم مناخ الاستوائي وإقليم مناخ المدارى الحار من حيث: (الموقع - الخصائص المناخية - الخصائص النباتية).

وجه المقارنة	إقليم مناخ الاستوائي	إقليم مناخ المدارى الحار
الموقع		
الخصائص المناخية		
الخصائص النباتية		

## التدريب الشهري

السؤال الأول: لاحظ خريطة العالم واكتب مدلول الأرقام الموقعة عليها.



- ١- المحيط الأطلسي
- ٢- قارة أمريكا الشمالية
- ٣- مضيق العرب
- ٤- الإقليم المتوسطي
- ٥- جبال الأنديز

السؤال الثاني: اكتب كلمة (صواب) أمام العبارة الصحيحة، وكلمة (خطأ) أمام العبارة غير الصحيحة:

- ١- تأتي قارة أمريكا الشمالية في المرتبة الأولى عالميًا من حيث المساحة. **خطأ**
- ٢- يظهر إقليم مناخ البحر المتوسط في جميع القارات المأهولة بالسكان. **صواب**
- ٣- تصنف القارة القطبية الجنوبية ضمن قارات العالم الجديد. **صواب**
- ٤- تمتد جبال أطلس شمال غرب قارة آسيا. **خطأ**
- ٥- تجرى أنهار أوب وينسي ولينا في سهول سيبيريا بقارة آسيا. **صواب**
- ٦- يتشابه الإقليم المداري والإقليم الموسمي في سقوط الأمطار صيفًا. **صواب**

السؤال الثالث: اختر الإجابة الصحيحة مما بين القوسين:

- ١- أكبر محيطات الكرة الأرضية من حيث المساحة المحيط .....  
( الهندي - الهادي - الأطلنطي - القطبي الشمالي )
- ٢- يقع أكبر بحر مغلق في العالم بقارة .....  
( إفريقيا - آسيا - أوروبا - أمريكا الشمالية )
- ٣- يظهر في شمال قارات آسيا وأوروبا وأمريكا الشمالية .....  
( الإقليم المناخي الصيني - الإقليم المناخي الاستوائي - إقليم مناخ البحر المتوسط - إقليم مناخ التندرا )
- ٤- أوسع السهول الفيضية في العالم هي سهول حوض .....  
( نهر الأمازون - نهر أورينوكو - نهر نلسن - نهر الفولجا )

٥- نخلو قارات \_\_\_\_\_ من الإقليم المناخي الاستوائي

( أوروبا وأمريكا الشمالية وأستراليا - آسيا وأمريكا الشمالية وأستراليا )  
أوروبا وأمريكا الجنوبية وأستراليا - أوروبا وأمريكا الشمالية وإفريقية )

٦- تهب عواصف التيفون المدمرة بإقليم مناخ \_\_\_\_\_

( شرق القارات الصيني - البحر المتوسط - غرب أوروبا - الهند )

السؤال الرابع: بم تفسر -

- ١- تسمية العبارات النقصية باسم هذا الاسم. **كلاهما تنفذنا لاقفا في نظام المناخ**
- ٢- تنوع الحياة النباتية في إقليم المناخ الجبلي. **ب سبب كثرة المطر وعوامل المناخ**
- ٣- ضيق السهول الساحلية شرق قارة أستراليا. **ب سبب اقتراب جبال الهمالايا من سواحل**
- ٤- يشابه المناخ في أقصى جنوب غرب أوروبا مع المناخ في أقصى شمال قارة إفريقيا. **كلاهما مناخ بحري شبه معتدل**
- ٥- نمو الغابات الموسمية في جزيرة مدغشقر. **ب سبب كثرة أمطارها ورطوبتها**
- ٦- ضيق السهول الساحلية في غرب قارة أمريكا الجنوبية. **ب سبب اقتراب جبال الأنديز من**
- ٧- تعرف هضبة التبت باسم سفوف العالم. **ب سبب ارتفاعها عن سطح الجبال**
- ٨- قلة الأهمية الاقتصادية لأنهار شمال آسيا في فصل الشتاء. **ب سبب تجمدها**
- ٩- ضيق السهول الساحلية بشكل عام في قارة إفريقيا. **ب سبب اقترابها من حافة الجبال**
- ١٠- تختلف أهمية السهول الفيضية في شرق قارة آسيا عن شمالها.
- ١١- القارة القطبية الجنوبية غير مأهولة بالسكان. **ب سبب وقوعها بالكامل في المحيط القطبي**
- ١٢- يتميز حوض نهر الأمازون بارتفاع درجة الحرارة وسقوط المطر طوال العام. **لا يتبع**
- ١٣- أهمية هضبة الحبشة والبحيرات الاستوائية لمصر. **ب سبب كثرة أمطارها**
- ١٤- سهولة إنشاء الموانئ الطبيعية بالسهول الساحلية في قارة أوروبا. **ب سبب تعدد انحدارها**
- ١٥- أهمية السهل الأوربي العظيم. **ب سبب كثرة أمطارها**
- ١٦- أشجار الإقليم السوداني أقل كثافة وتشابهاً من أشجار الإقليم الاستوائي. **ب سبب**
- ١٧- كثرة الزواحف والطيور والحيوانات المتسلقة في إقليم الغابات الاستوائية. **ب سبب كثرة**
- ١٨- تنمو الغابات الموسمية في شبة جزيرة الهند الصينية جنوب الصين. **ب سبب كثرة أمطارها**
- ١٩- تندرج حشائش السافانا في أطوالها كلما اتجهنا شمالاً وجنوباً من دائرة الاستواء. **ب سبب**
- ٢٠- امتداد معظم الأقاليم المناخية في قارة آسيا. **ب سبب مساحتها وبعدها عن كثير من**
- ٢١- أهمية حشائش الإستبس اقتصادياً. **ب سبب كثرة أمطارها**

له فصل عمري سحبه لبعض الحيوانات  
الفصل الدراسي الأول

- ٢٢- تعد حشائش السافانا حديقة حيوان طبيعية، لأن بها حيوانات آكلة اللحوم مثل الفيل  
 ٢٣- كثرة الموانئ بقرارة أوروبا، يجذب كثير من السواحل  
 السؤال الخامس، ما النتائج المترتبة على... كثرة الحر

- ١- ارتفاع درجة الحرارة وسقوط الأمطار طوال العام في حوض الكونغو. أمح يقع فيها الأفلم الاستوائي  
 ٢- اختلاف درجات الحرارة من مكان لآخر على الجبال المرتفعة. تنوع المناخ النباتي  
 ٣- اقتراب جبال الحاجز الكبير من المحيط الهادي بقرارة أستراليا، هو السهل العظيم به  
 ٤- كثرة تعاريج السواحل في قارة أوروبا. ههوله انشاء الموانئ المهمه  
 ٥- وقوع القارة القطبية أقصى جنوب الكرة الأرضية. اهبحت هنجده وعبرها أهله بالسكان  
 ٦- اقتراب حافات الجبال والهضاب من الساحل بقرارة إفريقيا. هني السهول الساحلية و  
 انشاعها عند الافهار
- السؤال السادس، أجب عن الأسئلة التالية:

١- ماذا يحدث إذا..؟

- كانت جبال الأنديز بعيدة عن ساحل المحيط الهادي، اهبحت السهول الساحلية واسعة  
 - مرت دائرة الاستواء بوسط قارة أوروبا، اهبحت ههنا الأفلم الاستوائي

٢- ما العلاقة بين..؟

- ١- الأمطار وكثافة الأشجار وتشابكها. كثرة الأمطار تؤدي إلى نمو الغابات  
 ٢- كثرة تعرج السواحل وإنشاء الموانئ. كثرة تعرج السواحل تؤدي إلى انشاء الموانئ  
 ٣- قارن بين: كثرة تعرج السواحل وإنتاج الموانئ

١- قارني آسيا وإفريقيا من حيث الهضاب والمناطق التي يوجد بها الإقليم الاستوائي في القارتين.

٢- إقليم المناخ الاستوائي وإقليم المناخ المداري الحار من حيث القارة التي يظهر فيها والخصائص النباتية.

٣- قارة إفريقيا وقارة أمريكا الجنوبية من حيث أهم الهضاب وأهم الأنهار.

٤- السهول الفيضية في قارة أوروبا وفي قارة أمريكا الشمالية من حيث الامتداد والأهمية.

٥- نهر الدانوب ونهر أورينوكو من حيث القارة التي يقع بها كل منهما والمصب الذي يصب فيه كل منهما.

٦- إقليم المناخ الصيني وإقليم مناخ البحر المتوسط من حيث الموقع بالنسبة لدوائر العرض والخصائص المناخية والنباتية.

- ٧- جزر اندونيسيا وجزر شمال اليابان من حيث الإقليم المناخي وسقوط الأمطار وأهم الأشجار
- ٨- إقليم مناخ غرب أوروبا وإقليم المناخ اللورانسى من حيث الخصائص المناخية والنباتية
- ٩- إقليم مناخ التندرة وإقليم المناخ القطبي من حيث الموقع الجغرافي والخصائص المناخية والنباتية

- ١- السهول الفيضية في آسيا والسهول الفيضية في إفريقيا.
- ٢- المصبات في إفريقيا والمصبات في أمريكا الجنوبية.
- ٣- الجبال في أمريكا الشمالية والجبال في أمريكا الجنوبية.
- ٤- قارة أوروبا وقارة أستراليا من حيث السهول الساحلية وأهم الأنهار.

٤- ما المقصود بكل من ؟

- ١- الموقع الجغرافي: الموقع بالسبب في ذلك هو أن الجزر لها مناخها الخاص.
- ٢- الدول الجزرية: الدول التي لا تتصل بها جزيرة أو أكثر من جزرها.
- ٣- حوض النهر: المساحة التي تحدها المياه أو أحد أواقيدها أو يتحد روافدها في مكان واحد.
- ٤- إقليم مناخ: منطقة محددة على سطح الأرض لها خصائصها المناخية الخاصة بها.
- ٥- دليل جغرافيا على صحة العبارات التالية: آسيا، جزر البليز، اندونيسيا، اليابان.

- ١- تكثر الجزر بقارة آسيا وتقل بقارة إفريقيا. *الجزر اليابسة في إفريقيا قليلة.*
- ٢- توجد الدول الجزرية في قارتي آسيا وإفريقيا. *توجد الدول الجزرية في آسيا وإفريقيا.*
- ٣- يختلف إقليم مناخ البحر المتوسط وإقليم المناخ الصيني رغم امتدادهما في دوائر عرضية واحدة. *إقليم البحر المتوسط في آسيا وإفريقيا، وإقليم المناخ الصيني في آسيا.*

- ٤- تعدد منابع نهر النيل في الحوض، البحران، الكاسيات. *منابع نهر النيل: بحيرة تانا، بحيرة وكتا، بحيرة جوبا، بحيرة تانا، بحيرة وكتا، بحيرة جوبا، بحيرة تانا، بحيرة وكتا، بحيرة جوبا.*
- ٥- أهمية السهل الأوربي العظيم. *أهمية السهل الأوربي العظيم: هو أكبر سهل في العالم، يمتد من إسبانيا إلى روسيا.*

- ٦- تتشابه تضاريس قارة أستراليا مع تضاريس قارة إفريقيا. *تتشابه تضاريس أستراليا وإفريقيا في التضاريس الجبلية والسهول.*

- ٧- تعدد خصائص السهول الفيضية لأمريكا الشمالية. *تعددت خصائص السهول الفيضية لأمريكا الشمالية بسبب اختلاف التضاريس والمناخ.*
- ٨- يتشابه الإقليم المناخي المداري الحار (السوداني) مع الإقليم المناخي الموسمي في بعض الخصائص المناخية والنباتية. *يتشابه الإقليم المناخي المداري الحار (السوداني) مع الإقليم المناخي الموسمي في بعض الخصائص المناخية والنباتية.*

- ٩- يتشابه المناخ المعتدل البارد شرق القارات مع مناخ غرب أوروبا. *يتشابه المناخ المعتدل البارد شرق القارات مع مناخ غرب أوروبا.*

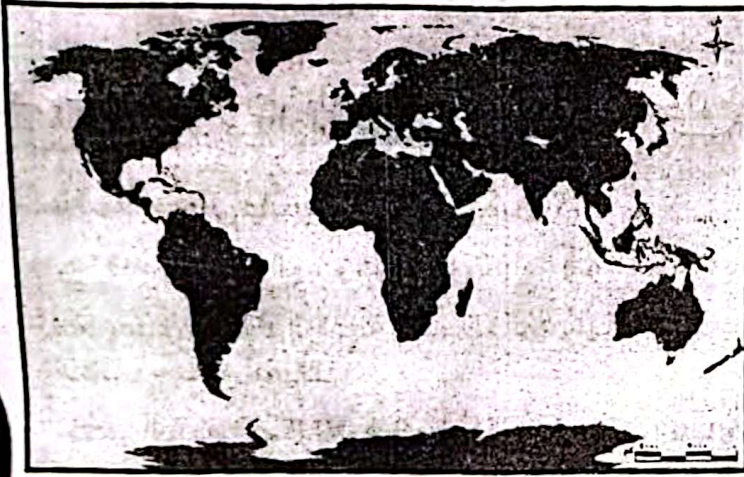
- ١٠- يختلف إقليم مناخ البحر المتوسط وإقليم المناخ الصيني رغم امتدادهما في دوائر عرض واحدة. *يختلف إقليم مناخ البحر المتوسط وإقليم المناخ الصيني رغم امتدادهما في دوائر عرض واحدة.*

شرق القارات، غرب القارات

الفترة الأولى : السلالة الزنجية والسلالة المغولية:

الأداء الصفّي:

أ لاحظ .. واستنتج:



تعاون مع زميلك المجاور ولاحظ خريطة العالم الصماء، واكتب السلالة التي يشير إليها كل رقم على الخريطة، ثم أكمل ما يلي:

١- اكتب اثنين من أقسام السلالة البشرية رقم (١) على الخريطة.

البيلينيون، العاميون، اليوشين

٢- كم تبلغ نسبة السلالة رقم (٢) من جملة عدد سكان العالم؟

١٠٪ من سكان العالم

٣- صوب الخطأ في العبارات التالية:

أ) تشغل السلالة البشرية رقم (١) ١٥٪ من جملة سكان العالم.

١٠٪

ب) يتميز سكان السلالة رقم (٢) بالبشرة الداكنة والأنف العريض والشعر الأجرد والشفاه الغليظة.

١٠ رقم السلالة الزنجية



ب لاحظ .. واختر:

بالتعاون مع أفراد مجموعتك لاحظ الخريطة، ثم أجب:

١- اكتب اثنين من ملامح السلالة رقم (١).

الشعر المسترسل، العيون المنحرفة

٢- أي من التالي يعد من ملامح السلالة رقم (٢)؟

(البشرة الصفراء - العيون المنحرفة - الشفاه الغليظة - الشعر المسترسل).

## الصف الثالث الإعدادي

٣- صوب الخطأ في العبارات التالية:

(أ) يقتصر تواجد السلالة رقم (٢) في القارة الإفريقية.

تنتشر في أفريقيا أوروبا والأمريكيتين وآسيا

(ب) تبلغ نسبة السلالة رقم (١) نصف جملة سكان العالم.

١/٤ من سكان العالم

٤- اذكر السبب: انتقل كثير من السلالة (١) إجباريًا للأمريكتين.

عند طريق الرحلات الاستعمارية للعمل في مزارع ومزارع التي أنشأها الأوروبيون

الأداء المنزلي (الواجب):

١- ما المقصود بـ مفهوم السلالة البشرية؟

٢- بم تفسر: اختلاف البشر في طول القامة ولون البشرة وشكل العين والأنف وحجم الرأس؟

٣- قارن بين السلالة الزنجية والسلالة المغولية من حيث نسبة السلالة بالنسبة لجملة سكان العالم - ملامح السلالة.

٤- تتعدد أقسام السلالة المغولية. دلل على صحة العبارة السابقة.

الفترة الثانية: السلالة القوقازية - ملخص عن السلالات البشرية

التاريخ: / /

أ فكر.. وأجب:

١- بم تفسر: تراجع انتشار السلالة النقية في العالم؟

بسبب انهيار السلالات واختلاط الصفات الطبيعية التي تميز كل سلالة طعم الزخري

٢- لا توجد دولة واحدة في العالم يتكون شعبها من سلالة واحدة. دلل بمثال على صحة العبارة السابقة

الولايات المتحدة يقيم شعبها سلالات مختلفة مثل القوقازية والزنجية والمغولية السلالة

٣- تتعدد أقسام السلالة القوقازية في العالم. أثبت صحة العبارة السابقة.

مجموعة سلالة حوض البحر المتوسط المجموعة الألبانية غرب ووسط أوروبا الأوروبية السلالة

٤- تعد السلالة القوقازية أقل السلالات البشرية انتشارًا في العالم. أثبت خطأ العبارة السابقة

حيث تبلغ ١/٥٠ من جملة سكان العالم

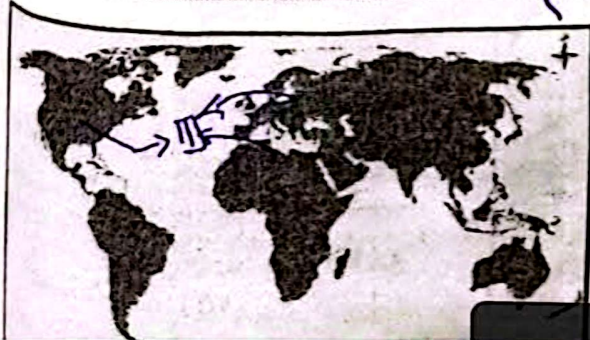
ب لاحظ.. وحدد:

بالتعاون مع زميلك المجاور حدد

على خريطة العالم الصماء:

١- اثنتين من مناطق انتشار السلالة

استخدم القلم



← السلالة الزنجية: بسبب الرحلات الاستكشافية وتجارة العبيد

## الأدلة والتقييمات

← القوقازية ← السكاه السيفي القادرون  
← المعولة ← الهندود الأحمر السلالة الأفريقية  
٢- صوب الخطأ في العبارات التالية:

(أ) الأغلبية العربية من السلالة المعولية

ينتمي أغلبية العرب من السلالة القوقازية

(ب) تتميز السلالة القوقازية بالشرة السمراء والشعر الأهد والشفاة الغليظة

لسلالة الزنجية وليست القوقازية

في أي أقسام السلالة القوقازية ينتمي العرب؟

مجموعتهم سكان هونج اليه المتوسط

ثم تفسر: اصغار العرب مع السلالات الأخرى؟

بسبب الرحلات و الفتوحات الاسلاميه على من التاريخ حدث افتلا ٥  
بالمسلطانات الأخرى

لأداء المنزلي (الواجب):

حمل العبارة التالية بكلمات مناسبة: ينتمي سكان الإسكيمو للسلالة المنولية  
كتب اثنين من ملامح السلالة القوقازية: البشرة البيضاء الوردية و الشعر الموج

تنوع السلالات البشرية بالولايات المتحدة الأمريكية. دلل على صحة العبارة السابقة  
بملاحظات ونبذة عن السلالات  
تتبعي تواجد السلالة النقية بالعالم. أثبت خطأ العبارة السابقة  
بملاحظات ونبذة عن السلالات  
التقييم الأسبوعي: الاستراتيجيون الأهلين الهندود  
التاريخ: / /



نموذج (أ)

ادرس الصورة التي أمامك ثم أجب:

١- إلى أي السلالات البشرية ينتمي صاحب الصورة؟

السلالة الزنجية

٢- كم تبلغ نسبة السلالة التي تمثلها الصورة أعلاه بالنسبة لجملة سكان العالم؟

١٪ من جملة سكان العالم

٣- اختب اثنين من ملامح السلالة البشرية أعلاه.

الشعر المجعد و البشرة الداكنة - الشفاة الغليظة

٤- تعدد مناطق انتشار السلالة البشرية أعلاه في كثير من أجزاء العالم. دلل على صحة العبارة السابقة.

بمثال: منارة أفريقيا وسويد في استراليا جنوب شرق الهند في آسيا

٥- لم يتمتع الزنوج بحقوق الإنسان في معيشتهم. برهن على صحة العبارة السابقة.

حيث تعرفوا لتجارة العبيد والرحلات الاستكشافية للعمل في

مهاجع ومزارع الأوروسين

الوحدة الثانية: جغرافية سكان العالم

نموذج (ب)



ادرس الصورة التي أمامك ثم أجب:

١- إلى أي السلالات البشرية تنتمي صاحبة الصورة؟

المغولية

٢- كم تبلغ نسبة السلالة التي تمثلها الصورة أعلاه بالنسبة لجملة سكان العالم؟

١٩٪

٣- اكتب اثنين من ملامح السلالة البشرية أعلاه.

البشرة الصفراء - العيون المصفرة - الشعر المسترسل

٤- تتعدد مناطق انتشار السلالة البشرية أعلاه في كثير من أجزاء العالم، دلي على صحة

العبارة السابقة. توجد في بعض المناطق في الأمريكتين

وتتركز في آسيا في الصين واليابان، كوريا ومنغوليا، دول جنوب شرق القارة

٥- غالبية سكان غرب وجنوب غرب آسيا ينتمون للسلالة المغولية. أثبت خطأ العبارة السابقة.

سكان شرق وجنوب شرق قارة آسيا



نموذج (ج)

ادرس الصورة التي أمامك ثم أجب:

١- إلى أي السلالات البشرية ينتمي صاحب الصورة؟

المقوقازية

٢- كم تبلغ نسبة السلالة التي تمثلها الصورة أعلاه بالنسبة لجملة سكان العالم؟

٥٪ من سكان العالم

٣- اكتب اثنين من ملامح السلالة البشرية أعلاه.

البشرة البيضاء الوردية - الشعر المموج - الأنف الرفيعة

٤- تتعدد مناطق انتشار السلالة البشرية أعلاه في كثير من أجزاء العالم، دلي على صحة العبارة السابقة.

أوروبا، أمريكا الشمالية، أمريكا الجنوبية، أستراليا، آسيا، أفريقيا

٥- تنتشر السلالة النقية على نطاق واسع في العالم، أثبت خطأ العبارة السابقة.

لا يوجد سلالة نقية في العالم إلا في بعض المجتمعات الباشية وذلك

بسبب انهيار السلالات واقتلاع الهضات الطبيعية التي تصير كل سلالة

من السلالات - سلام غاياي - حوفا ألكوتشو ونجيب

الفصل الدراسي الأول - الاسليمي مؤولية

- اليهودي مؤولية

# تاريخ جغرافيا

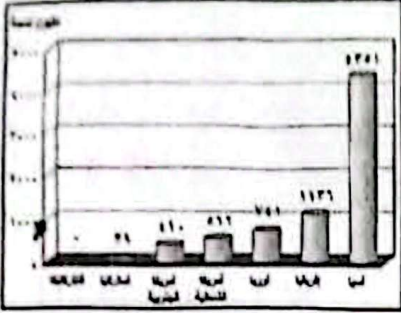
## توزيع السكان في العالم

الدرس الثاني:

الفترة الأولى: توزيع سكان قارات آسيا - إفريقيا - أوروبا

الأداء الصفحي:

1- لاحظ .. وأجب:



1- بالتعاون مع زميلك المجاور، لاحظ الرسم البياني الخاص بسكان العالم عام ٢٠١٤م، ثم أجب:

(أ) أي قارات العالم تعد الأكبر في عدد السكان؟

قارة آسيا

(ب) أي قارات العالم تعد خالية من السكان؟

انتاركتيكا

2- فكر .. وأجب:

2- لاحظ الخريطة الصماء لقارة آسيا ثم أجب.

(أ) ضع رقم (١) على إحدى مناطق تركيز السكان بالقارة الآسيوية.

(ب) ضع رقم (٢) على إحدى مناطق قلة تركيز السكان بالقارة الآسيوية.

(ج) بم تفسر: تركيز السكان في المنطقة رقم (٣)؟

بسبب قسوة التربة وقلة المياه

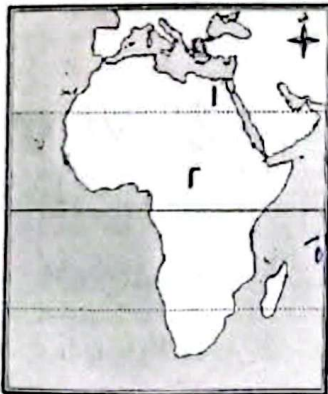
(د) ما النتائج المترتبة على برودة الجو في المنطقة رقم (٤)؟

يسهل بها السكان بسبب لبرودة الجو

3- تتعدد المشكلات الناتجة على زيادة السكان في معظم دول آسيا، دلل على صحة العبارة السابقة.

فرتب على ذلك نقص الغذاء وقلة المياه وعدم الدخل القوي  
لاحظ .. وأجب:

1- اكتب مدلول الأرقام الموضحة على الخريطة.



(أ) يتركز السكان في المنطقة رقم (١) بسبب التربة الخصبة وقلة المياه

(ب) يندر تركيز السكان في المنطقة رقم (٢)

بسبب الغابات الاستوائية والمناخ القاسم في هذه المنطقة

يتركز السكان في دول شرق ووسط أوروبا حيث المدن الكبرى  
 يتركز السكان بدرجة أقل شرق أوروبا؟ يقل السكان في المناطق الشمالية  
 الفصل الثالث الاقتصادي  
 والمناطق الجبلية الوعرة.

ج) يختلف معدل تركيز السكان بين دول شرق وغرب ووسط أوروبا. اذكر السبب.  
 يتركز السكان بدرجة أقل في شرق أوروبا لأنها أقل تقدماً من دول غرب ووسط أوروبا.  
 ٢- للنشاط الاقتصادي دوره في تركيز السكان في قارة أوروبا. دلل على صحة العبارة السابقة.  
 يتركز السكان في المدن والمناطق الصناعية الكبرى غرب ووسط أوروبا مثل لندن

٣- الأداء المنزلي (الواجب): يتركز سكان العالم في السهول الفيضية بسبب وفرة المياه والأراضي الخصبة وفي السهول الساحلية حيث النشاط الصناعي والمدن الصناعية الكبرى حيث تتركز المدن.  
 ١- تتعدد مناطق تركيز السكان في العالم، دلل على صحة العبارة السابقة. اذكر  
 ٢- ما المقصود بمصطلح التعداد السكاني؟ *والنشاط الاقتصادي*  
 ٣- بم تفسر ندرة السكان في المناطق الجبلية بوسط القارة الآسيوية؟ بسبب وعورة السطح  
 ٤- ما النتائج المترتبة على انتشار الغابات الكثيفة بالمناطق الاستوائية بالقارة الإفريقية؟  
 ٥- يتنوع التركيز السكاني بالقارة الأوروبية. أثبت صحة العبارة السابقة.

الفترة الثانية: توزيع سكان قارات أمريكا الشمالية وأمريكا الجنوبية وأستراليا التاريخ: / /

الأداء الصفحي:



١- فكر .. واجب:  
 ١- لاحظ الخريطة الصماء للأمريكتين ثم اجب.  
 أ) يتركز السكان في المنطقة رقم (١) بسبب وجود الأقاليم الزراعية  
 ب) يندر السكان في المنطقة رقم (٢) بسبب وعورة السطح  
 ٢- صوب الخطأ في العبارة التالية، *الخطأ* صححها بما يحتاجونه  
 - يقل تركيز السكان في المنطقة رقم (٣)

بسبب سهول الأمازون الاستوائية

٣- يختلف عدد السكان في قارة أمريكا الجنوبية من دولة إلى أخرى. دلل بمثال على صحة العبارة السابقة.

تعد البرازيل أكبر دول القارة سلكانا، من يوجد دول يزيد عدد سكانها عن ١٠ مليون



ب) فكر .. واكتشف:  
 ١- اكتب مدلول الأرقام الموضحة على الخريطة  
 أ) يندر السكان في المنطقة رقم (١) بسبب الظروف الصحراوية  
 ب) يتركز السكان في المنطقة رقم (٢) بسبب الأراضي الزراعية الخصبة

الفصل الدراسي الأول



٢- صوب الخطأ في العبارات التالية:

(أ) يتركز السكان في مناطق حشائش السافانا والغابات الموسمية بقارة أستراليا.

يقال عدد السكان بسبب وجود الغابات الموسمية

(ب) تعد جزيرة سومطرة من الجزر التابعة لقارة أستراليا.

جزر نيوزيلندا الشمالية والجنوبية / سومطرة قارة آسيا

٧ الأداء المنزلي (الواجب):

١- بم تفسر، تعد البرازيل أكبر دول قارة أمريكا الجنوبية سكانا؟

ون يمثل عدد سكانها ٥٠٪ من سكان القارة بسبب أهمية البرازيل وسواها.

٢- يتوزع سكان القارة الأوقيانوسية بعدالة داخل دولة أستراليا وبين جزرها، أثبت خطأ العبارة السابقة.

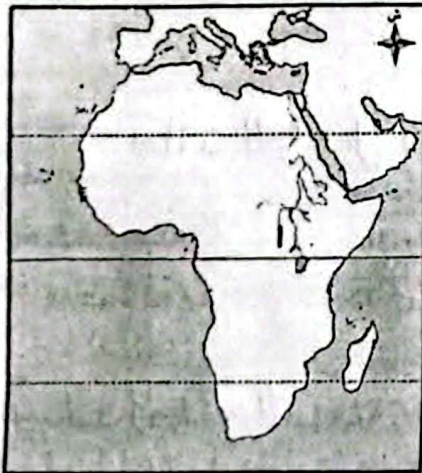
يتوزع سكان أستراليا ٦٠٪ في دولة أستراليا و ٤٠٪ في جزيرة نيوزيلندا الشمالية.

٣- أي دول قارة أمريكا الشمالية تستأثر بغالبية سكان القارة؟ والباقي متناظرا في الجزر

الولايات المتحدة الأمريكية ٥٠٪

٤- قارن بين قارتي أمريكا الشمالية وأمريكا الجنوبية من حيث: عدد السكان - أحد مناطق تركيز السكان - أحد مناطق ندرة السكان.

وجه المقارنة	قارة أمريكا الشمالية	قارة أمريكا الجنوبية
عدد السكان	٦٢ ٥ مليون نسمة	٤١ مليون نسمة
أحد مناطق تركيز السكان	الولايات المتحدة الأمريكية	السهول الساحلية
أحد مناطق ندرة السكان	هندوراس	قمم جبال الأنديز



٧ التقييم الأسبوعي: التاريخ: / /

نموذج (أ)

لاحظ الخريطة الصماء لقارة إفريقيا ثم أجب:

١- حدد نوع التوزيع السكاني في المنطقة رقم (١)

تركز سكاني في السهول الفيضية

٢- تلعب العوامل الطبيعية دورها في توزيع السكان في القارة الإفريقية، دلي على صحة العبارة السابقة.

تركز السكان في المناطق ذات المناخ المعتدل كما في السهول والمناطق

المرتفعة السطح

الوحدة الثانية: جغرافية سكان العالم

يقال السكان في المناطق الإستوائية الحارة والمناطق القطبية

٣- بم تفسر، تركز سكان الولايات المتحدة الأمريكية في الساحل الشمال الشرقي؟

بسبب وجود الموارد الاقتصادية الوفيرة والمزج الكبري مثل نيو يورك

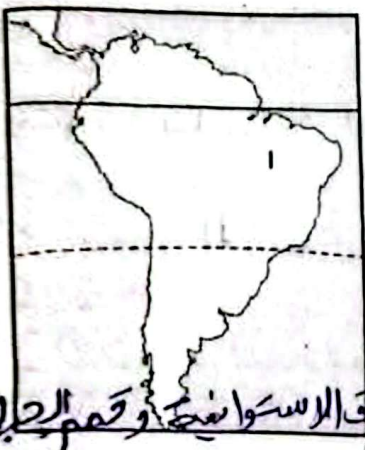
٤- ما النتائج المترتبة على انتشار النطاقات الصحراوية في قارة إفريقيا؟

يقل السكان في المناطق الاستوائية والمناطق الصحراوية

٥- يبلغ عدد سكان دولة المكسيك حوالي نصف سكان قارة أمريكا الشمالية، أثبت خطأ العبارة السابقة.

سكان المكسيك ١٠٩١ من السكان بينما الولايات المتحدة الأمريكية ٢٥٠

نموذج (ب)



لاحظ الخريطة الصماء لقارة أمريكا الجنوبية ثم أجب:

١- حدد نوع التوزيع السكاني في المنطقة رقم (١)

تركز سكاني بسبب هضبة البرازيل وسواحلها

٢- تلعب العوامل الطبيعية دورها في توزيع السكان في قارة أمريكا الجنوبية، دلل على صحة العبارة السابقة.

تركز السكان حول السواحل والسهول الفيضية ويقل السكان في المناطق الاستوائية وقسم الجبال

٣- بم تفسر، تعد جزيرة جاوة أكثر مناطق العالم ازدحاما بالسكان؟

لأنها تتمتع بتربة خصبة وتوافر مياه العذبة

٤- ما النتائج المترتبة على انتشار المناطق الجبلية في وسط قارة آسيا؟

قله السكان بسبب هبوب العواصف في المناطق الجبلية

٥- يبلغ عدد سكان دولة البرازيل حوالي خمس سكان قارة أمريكا الجنوبية، أثبت خطأ العبارة السابقة.

سكان البرازيل ١٠٠ من سكان القارة

نموذج (ج)



لاحظ الخريطة الصماء لقارة أوروبا ثم أجب.

١- حدد نوع التوزيع السكاني في المنطقة رقم (١)

يقل السكان بسبب البرودة الشديدة

٢- تلعب العوامل الطبيعية دورها في توزيع السكان في قارة أوروبا، دلل على صحة العبارة السابقة.

يقل عدد السكان في المناطق الشمالية بسبب قسوة البرودة

والمناطق الجبلية الوعرة

الفصل الدراسي الأول ويزداد عدد السكان في السهول الزراعية الخصبة



٣- بم تفسر، بخلاف توزيع السكان بين شرق وغرب أوروبا؟

يتركز السكان بدرجات أقل في شرق أوروبا حيث تكاد كل في درجته المتقدم من شرق أوروبا  
٤- ما النتائج المترتبة على سيادة الظروف الصحراوية في وسط وغرب القارة الأوقيانوسية؟

تركز السكان في شرق وغرب القارة، قلب السكان وسط وغرب القارة  
٥- يبلغ عدد سكان دولة أستراليا حوالي ربع سكان القارة الأوقيانوسية، أثبت خطأ العبارة السابقة.

سكان أستراليا ٦٠٪ من إجمالي سكان الأوقيانوسية.

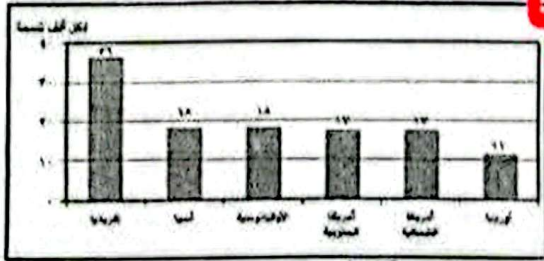
الدرس الثالث: خصائص سكان العالم

الأسبوع ..... التاريخ: / /

الفترة الأولى: خصائص السكان الديموغرافية- التركيب العمري

تاريخ \* جغرافيا

الأداء الصفحي



١- تعاون .. وأجب:

Aml

١- تعاون مع زميلك ولاحظ الرسم البياني لمعدل المواليد في العالم عام ٢٠١٤م، ثم أجب:

أ) أكبر قارات العالم من حيث معدل المواليد عام ٢٠١٤م .. أفريقيا

ب) أصغر قارات العالم من حيث معدل المواليد عام ٢٠١٤م .. أوروبا


٢- ما المقصود بمصطلح التركيب العمري؟  
دراسة عدد ونسبة كل مجموعة من سكان منطقة ما وفقاً للفئات العمرية متعددة

٣- تمثل فئة صغار السن عبئاً على الدول النامية، اذكر السبب.

تتمثل هذه الدول ميزانية منخفضة مهم أجل توفير الغذاء والملبس والرعاية والتعليم والخدمات الصحية

٤- يختلف معدل المواليد في العالم من دولة إلى أخرى ومن قارة إلى أخرى، دلل على صحة العبارة السابقة. بسبب اختلاف الظروف والارتفاعات والبيئات الاجتماعية فترتفع في الدول

النامية فإما دول أفريقيا وتقل في الدول المتقدمة مثل أوروبا  
لاحظ .. واكتب:



١- تعاون مع زميلك ولاحظ الرسم البياني لمعدل الوفيات في العالم عام ٢٠١٤م، ثم أجب عن الأسئلة.

أ) أكبر قارات العالم من حيث معدل الوفيات عام ٢٠١٤م .. أوروبا

ب) أصغر قارات العالم من حيث معدل الوفيات عام ٢٠١٤م .. أمريكا الجنوبية

٢- تعدد العوامل المؤثرة على معدلات الوفيات في العالم. دلت على صحة العبارة السابقة.

١- مستوى السكان والتغذية والفردات المهمة العامة (١) الحروب والكوارث الطبيعية

٣- ما المقصود بمصطلح معدل الزيادة الطبيعية؟

الفرق بين معدل المواليد ومعدل الوفيات.

٤- تختلف نسبة فئة كبار السن في العالم من دولة لأخرى. أثبت صحة العبارة السابقة.

حيث ترتفع نسبتهم في الدول المتقدمة بسبب الرعاية الصحية والضمانات وتقل في الدول النامية.

١- الأداء المنزلي (الواجب):

١- انتشار الأمية والفقر (١) الاعتماد على الزراعة البدائية


٢- يرتفع معدل المواليد في قارة إفريقيا بشكل كبير، اذكر السبب. مع الإبقاء والرواج المتكبر للموت

٣- ما المقصود بمصطلح معدل الوفيات؟

٤- يصل معدل الزيادة الطبيعية في قارة أوروبا (١) لكل ألف نسمة، أثبت خطأ العبارة السابقة.

٥- قدم توقعاً في حال أصبحت نسبة فئة البالغين هي الغالبة على المجتمعات في دول العالم.

الفترة الثانية: الخصائص التعليمية - الخصائص الاقتصادية - التاريخ: / /



تاريخ \* جغرافيا

الأداء الصفحي:

Aml

لاحظ - وأجب:

١- لاحظ الرسم البياني المقابل لنصيب الفرد من الدخل القومي السنوي في قارات العالم عام ٢٠١٤م مع زميلك ثم تعاونوا في حل الأسئلة التالية:

أ) أكبر قارات العالم من حيث نصيب الفرد من الدخل القومي السنوي عام ٢٠١٤م. اشرح الجواب.

ب) أصغر قارات العالم من حيث نصيب الفرد من الدخل القومي السنوي عام ٢٠١٤م. اشرح الجواب.

٢- بم تفسر: اختلاف الخصائص الاقتصادية لسكان العالم؟ وقل:

١) تنوع الأنشطة الاقتصادية التي يقوم بها السكان داخل البلدان

٣- ما المقصود بمصطلح قوة العمل؟

عدد الأفراد في سن العمل والقادرين عليه والذين يعملون فعلياً أو يبحثون عن عمل

٤- صوب الخطأ في العبارة التالية: تعتمد الدول ذات الدخل الاقتصادي المرتفع على النشاط الزراعي بينما الدول ذات الدخل الاقتصادي المنخفض تعتمد على النشاط الاقتصادي

المرتفع تعتمد على الزراعة

مثل دولة باكستان في آسيا

مثل دول أمريكا الشمالية الفصل الدراسي الأول

# تاريخ \* جغرافيا

## Aml

فسر - ودلل

- 1- بم تفسر: تصل نسبة المتعلمين في مصر إلى ٢٧٥% بسبب زيادة الاهتمام بالتعليم في مرحلة المراهقة ووجود الرولة في عصر الامية وتحسين عبء تلافو العرب.
  - 2- العادات والتقاليد في بعض دول العالم تؤثر على معدل التعليم بها خاصة في معدل تعليم الإناث، دلل على صحة العبارة السابقة. حيث حرمان المرأة من التعليم في بعض المناطق حفاظا عليها أو بسبب معتقدات قبطية - تفصيل الزواج المبكر للإناث
  - 3- يعد عدد الأطباء مؤشرا مهما على الرعاية الطبية، أثبت صحة العبارة السابقة.
  - 4- لما زاد عدد الأطباء بالنسبة للسكان، دلل على زيادة الرعاية الصحية الطبيعية
  - 4- إلى أي مستويات الرعاية الطبية العالمية يمكن تصنيف مستوى الرعاية الصحية بمصر؟
- ذات رعاية طبيعية مرتفعة

### الأداء المنزلي (الواجب)

- 1- الدول المتقدمة من حيث نسبة التعليم ٩٥% والدول النامية تتراوح بين ١٠% مثلا أمريكا وهناك فارق كبير جدا بين الدول النامية والدول المتقدمة في نسبة الأمية بين سكانها فوق سن (١٥) سنة، دلل على صحة العبارة السابقة. <sup>الحيثوية</sup> ٦٥% في مصر.
- 2- ما العلاقة بين العادات والتقاليد ومعدل التعليم في بعض دول العالم؟
- 3- ذات رعاية طبيعية (أ) فائقة (ب) مرتفعة (ج) منخفضة (د) منخفضة
- 4- تختلف دول العالم من حيث مستوى الرعاية الصحية، أثبت صحة العبارة السابقة.
- 4- ما العوامل المؤثرة في الخصائص الاقتصادية لسكان العالم؟

### التقييم الأسبوعي:

نموذج (أ)

- التاريخ: / /
- انتشار العادات السلبية مثل الرطوبة في اقطاب عد كبير والزواج المبكر للإناث.
- 1- ما المقصود بمفهوم التركيب العمري؟
  - 2- دراسة عدد ونسبة كل مجموعة من سكان منطقة ما وقتا لفتات
  - 2- بم تفسر: ارتفاع معدل المواليد في قارة إفريقيا بشكل كبير؟ عمرهم محدود
  - 3- انتشار الأمية والفقر (أ) الاقتصاد على الزراعة البدائية والرعي (ب) انتشار
  - 3- ينقسم التركيب العمري لفتات عمرية مختلفة، دلل على صحة العبارة السابقة.
  - 3- لاث فتات (أ) مخار السن (ب) فئة المتوسطات (ج) كبار السن
  - 4- يتشابه دول العالم من حيث مستوى الدخل ٢٧ من ٩٢ في أثبت خطأ العبارة السابقة.
  - 4- ينقسم دول العالم من حيث الدخل القومي إلى (أ) دول ذات دخل مرتفع
  - 5- دخل فوق المتوسط (ب) دخل منخفض
  - 5- دخل أقل من المتوسط
- الوحدة الثانية: جغرافية سكان العالم

# تاريخ \* جغرافيا

الأدوات والتقنيات

Aml

١٠ شرح - ودلل

- ١- بم تفسر، تصل نسبة المتعلمين في مصر إلى ٩٢٪ بسبب زيادة الاهتمام بالتعليم في مرحلة المراهقة ووجود الرواية في محو الأمية وكشف عبد تلاميذ العرب.
- ٢- العادات والتقاليد في بعض دول العالم تؤثر على معدل التعليم بها خاصة في معدل تعليم الإناث، دلت على صحة العبارة السابقة حيث حرمان المرأة من التعليم في بعض المناطق حفاظاً عليها أو بسبب معتقدات قديمة - تفضيل الزواج المبكر للإناث
- ٣- بعد عدد الأطباء مؤشراً مهماً على الرعاية الطبية، أثبت صحة العبارة السابقة.
- لما زاد عدد الأطباء بالنسبة للسكان، لعل زيادة الرعاية الصحية
- ٤- إلى أي مستويات الرعاية الطبية العالمية يمكن تصنيف مستوى الرعاية الصحية بمصر؟  
ذات رعاية طبية مرتفعة

الأداء المنزلي (الواجب):

الدول المتقدمة نسبة التعليم ١.٩٥ والدول النامية تتراوح بين ٠.٧٥ مثل أمريكا  
١- هناك فارق كبير جداً بين الدول النامية والدول المتقدمة في نسبة الأمية بين سكانها فوق سن (١٥) سنة، دلت على صحة العبارة السابقة. <sup>الحيوية</sup> ٠.٦٥ في مصر.

- ٢- ما العلاقة بين العادات والتقاليد ومعدل التعليم في بعض دول العالم؟  
دول ذات رعاية طبية (أ) فائقة (ب) مرتفعة (ج) منخفضة
- ٣- تختلف دول العالم من حيث مستوى الرعاية الصحية، أثبت صحة العبارة السابقة.
- ٤- ما العوامل المؤثرة في الخصائص الاقتصادية لسكان العالم؟  
مستوى السكن والتخزين؟ دخل السكان

التقييم الأسبوعي:

نموذج (أ)

- التاريخ: الانتشار العادات السلبية مثل الرطوبة في انجاب عدد كبير والزواج المبكر للإناث.
- ١- ما المقصود بمفهوم التركيب العمري؟  
دراسة عدد ونسبة كل مجموعة من سكان منطقة ما وقتاً لقناة
  - ٢- بم تفسر: ارتفاع معدل المواليد في قارة إفريقيا بشكل كبير؟ عمرهم محدود
  - انتشار الأمية والفقر (ج) الاهتمام بالزراعة البدائية والرعي (د) الانتشار
  - ٣- ينقسم التركيب العمري لفئات عمرية مختلفة، دلت على صحة العبارة السابقة.
  - ٤- يتشابه دول العالم من حيث مستوى الدخل القومي السنوي، أثبت خطأ العبارة السابقة.
  - حيث ينقسم دول العالم من حيث الدخل القومي إلى (أ) دول ذات دخل مرتفع

(ب) دخل منخفضة

(ج) دخل فوق المتوسط

(د) دخل أقل من المتوسط

الوحدة الثانية: جغرافية سكان العالم

٥- قدم توقعًا واحدًا في حال أصبحت الرعاية الصحية في دولة النيجر مثل الرعاية الصحية في دولة روسيا.

أصبح عدد الوفيات أقل كما أصبحت الرعاية الصحية في النيجر مماثلة

زيادة نسبة كبار السن

نموذج (ب)

١- ما المقصود بمفهوم قوة العمل؟

عدد الأفراد في سن العمل والقادرين عليه ويعملون فعليًا أو يبحثون عن عمل.

٢- بم تفسر، تختلف الخصائص الاقتصادية لسكان العالم؟

ب) تنوع الأنشطة الاقتصادية للسكان في كل دولة تدخل السكان

٣- تعدد العادات والتقاليد السلبية في القارة الإفريقية، دلل على صحة العبارة السابقة.

مثل الرعي في انجاب أكثر عدد من البنات، الزواج المبكر للنساء كمرمان المرأة في التعليم

٤- يتشابه دول العالم من حيث الخصائص الصحية، أثبت خطأ العبارة السابقة. مرفقة

يختلفون حيث هناك دول ذات رعاية صحية وأخرى غير صحية وأخرى

٥- قدم توقعًا واحدًا في حال أصبحت فئة كبار السن تشغل نسبة ٧١٪ في الدول المتقدمة.

فئة كبار السن فتتغير نتيجة لذلك استتجّل الدول ميزانها

مخمة لتوفير المسكن والرعاية الصحية لعدم وجود عمل

تلك الأنشطة الصحية

نموذج (ج)

١- ما المقصود بمفهوم ديموجرافيا؟

علم دراسة السكان من حيث النمو والتوزيع والتركيب السكاني

٢- بم تفسر، تصل نسبة الوفيات في أوروبا ل (١١) في الألف؟

بسبب زيادة نسبة كبار السن

٣- تهتم مصر بالتعليم في مراحلها المختلفة، دلل على صحة العبارة السابقة.

هل نسبة المتعلمين ٦٥٪ بسبب الاهتمام بالتعليم ووجود القفزة على الإمية وهذا

٤- تتركز الدول ذات الدخل الاقتصادي المنخفض في غرب أوروبا وأمريكا الشمالية ودول الخليج العربي، أثبت خطأ العبارة السابقة.

الدول ذات الدخل الاقتصادي المرتفع

٥- قدم توقعًا واحدًا في حال أصبحت قوة العمل في مجال الزراعة في إثيوبيا معادلًا

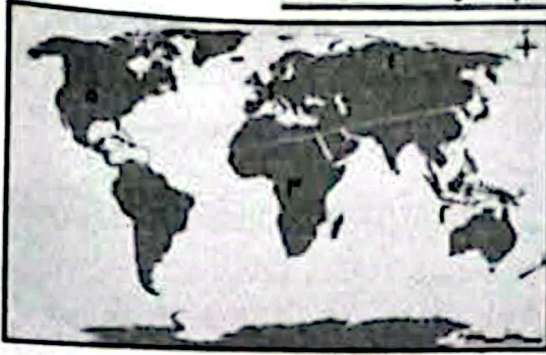
لقوة العمل في غرب أوروبا في نفس المجال. ولم يهيج

أصبحت مثل الدول في غرب أوروبا مثل دولة إثيوبيا دولة نامية

وقصيرة تعتمد على الزراعة

الفصل الدراسي الأول أصبحت إثيوبيا دولة نامية

السؤال الأول. لاحظ خريطة العالم واكتب مدلول الأرقام الموقعة عليها.



- ١- السلالة القوقازية
- ٢- أكثر مناطق العالم ازدحاما بالسكان جزيرة جاوة
- ٣- السلالة الزنجية
- ٤- منطقة يقل بها السكان سيبيريا
- ٥- نقل معدلات الريادة الطبيعية في قارة أمريكا الشمالية

السؤال الثاني. اكتب كلمة (صواب) أمام العبارة الصحيحة، وكلمة خطأ أمام العبارة

### غير الصحيحة

الزنجية ٢٠٠٠ م العالم

- ١- تعتبر السلالة القوقازية الأقل انتشارا في العالم من حيث العدد. (X)
- ٢- تتركز السلالة الزنجية قرب دائرة الاستواء في إفريقيا وتمثل حوالي ٧٠٪ من سكان القارة. (X)
- ٣- يُعرف شعب البوشمن والهُوتنتوت بأنهم يعيشون في شمال كندا وألاسكا. (X)
- ٤- تُعد جزيرة جاوة من أكثر مناطق العالم ازدحاما بالسكان في قارة آسيا. (X)
- ٥- يقل عدد السكان في سهول وادي النيل بمصر والسودان بسبب قلة خصوبة التربة. (X)
- ٦- تُعتبر مناطق الغابات الاستوائية في إفريقيا مناطق تركز سكاني. (X)
- ٧- تتركز السلالة القوقازية قرب دائرة الاستواء في إفريقيا. (X)
- ٨- تتشابه الظروف العامة التي ساعدت على انخفاض الكثافة السكانية في كل من حوض الكونغو وسهول الأمازون. (X)
- ٩- يقل السكان بقارة إفريقيا في المناطق الاستوائية. (X)
- ١٠- تعد الجهات الشرقية بقارة أوروبا من أقل الجهات سكانا. الشمالية (X)
- ١١- يتركز سكان أستراليا في المنطقة الوسطى حيث المدن الكبرى. الشرقية (X)
- ١٢- توجد أعلى نسب من السكان البالغين في دول الخليج العربي. (X)
- ١٣- تُعد مصر من الدول ذات الرعاية الطبية المتوسطة. (X)
- ١٤- أعلى نصيب للفرد من الدخل القومي في العالم يوجد في قارة أمريكا الشمالية. أستراليا (X)

السؤال الثالث: اختر الإجابة الصحيحة مما بين القوسين:

- ١- توجد السلالة الزنجية نتاجا للهجرة الإجمالية في قارة ( )
- ٢- تتركز في كوريا السلالة (المغولية) - الزنجية - القوقازية - النوردية (الأمريكتين)
- ٣- تشمل السلالة ( ) نصف سكان العالم وتنتشر في قارات العالم المختلفة. (القوقازية) - الزنجية - النوردية - المغولية



حوض البحر المتوسط

٤- ينتمي معظم العرب إلى السلالة الفوقاوية

(المعوكية - الزنكية - النكدية - النوردية)

٥- تبلغ نسبة الزنوج ٨٪ من جملة سكان العالم (١٠٪) (٢٥٪ - ٥٠٪ - ٦٦٪)

٦- تعدد دولنا أكثر دول قارة آسيا سكاناً.

(السعودية والصين - الهند والصين - السعودية والهند - الهند وأندونيسيا)

٧- من المناطق التي يقل بها السكان بقارة آسيا سهول

(اليانجتسي - الجانج - سيبيريا - منشوريا)

٨- يقل تركيز السكان بقارة إفريقيا في سهول

( وادي النيل - سواحل جنوب إفريقيا - نهر الكونغو - سواحل البحر المتوسط)

٩- من مناطق تركيز السكان في أمريكا الجنوبية سهول نهر

(المسيسبي - الأمازون - الأورينيكو - النيجر)

١٠- يظهر التفاوت الكبير في معدل المواليد بين قارتي

(أمريكا الجنوبية وأستراليا - آسيا وأستراليا - أوروبا وإفريقيا - أمريكا الجنوبية وأمريكا الشمالية)

١١- من أمثلة الدول ذات الدخل الاقتصادي فوق المتوسط

(المكسيك - الكونغو - مصر - باكستان)

١٢- أقل نصيب للفرد من الدخل القومي يوجد في قارة

(إفريقيا - آسيا - أمريكا الجنوبية - أستراليا)

١٣- تعدد دول غرب أوروبا من الدول ذات الدخل الاقتصادي

(الأقل من المتوسط - المرتفع - فوق المتوسط - المنخفض)

السؤال الرابع: بم تفسر...؟ الظروف المناخية الأساسية وانتشار الأمطار - الغابات

١- قلة عدد السكان بالمناطق الاستوائية في قارتي إفريقيا وأمريكا الجنوبية. التربة

٢- ندرة وجود سلالة بشرية نقية في الوقت الحاضر. بسبب انتشار السلالات وافتقارها للمطام

٣- يتركز السكان في السهول الفيضية. وحرارة المياه - التربة الخصبة

٤- يتركز السكان في السهول الساحلية. وحرارة ضربة الليل في السباحة - المناخ المعتدل

٥- تعد المدن الكبرى مناطق جذب سكاني. وحرارة ضربة الليل - أخذ ما من

٦- يقل عدد السكان في المناطق الصحراوية بآسيا.

٧- يتركز السكان في أوغندا وكينيا بالرغم من وقوعهما في النطاق المداري

٨- يقل عدد السكان في المناطق الاستوائية بإفريقيا. الغابات والظروف القاسية

٩- يتركز معظم سكان أوروبا في دول الغرب والوسط. المدن الصناعية الكبرى

١٠- نشأة السلالات البشرية المختلفة.

١١- تعرض عدد كبير من الزوجات للإجبارية إلى الأمريكتين. للعلل في مزارع القطن

١٢- تركيز السكان في السواحل الشرقية لقارة أستراليا. المدن الكبرى الصناعية

١٣- قلة عدد السكان في غرب ووسط قارة أستراليا. الظروف وحرارة

١٤- تركيز السكان في منطقة البحيرات العظمى بالولايات المتحدة الأمريكية.

١٥- يقل عدد السكان في المناطق الشمالية لقارة أوروبا. بسبب شدة البرودة

١٦- انخفاض عدد السكان في المناطق الاستوائية بقارة إفريقيا. الظروف الطبيعية المحيطة

وتكافة الأشجار

التدريب الشهري جغرافيا الوحدة التاسعة

هذا ثالث اعدادي الترم الأول

سؤال يتم تفسره :-

1) قل عدد السكان بالمناطق الاستوائية في قارتى افريقيا و  
امريكا الجنوبية ؟

بسبب نمو الغابات الكثيفة والظروف الطبيعية القاسية  
وانتشار الأمراض .

2) ندرة وجود سلالة بشرية نقية في الوقت الحاضر ؟  
انهارت السلالات وافترات الصفات الطبيعية التي تميز كل سلالة  
عنه الأخرى

3) يتركز السكان في السهول الفيضية ؟

بسبب وفرة المياه وفهوية التربة .

4) يتركز السكان في السهول الساحلية ؟

بسبب المناخ المعتدل والنشاط السياحي .

5) تعد المدن الكبرى مناطق جذب سكاني ؟

بسبب وفرة فرص العمل - وفرة الخدمات والمناطق الصناعية .

6) يقل عدد السكان في المناطق الصحراوية في آسيا ؟

بسبب الظروف الطبيعية القاسية وعمورة السطح وقلة المياه  
والزراعي الفقيرة .

7) يتركز السكان في أوروبا وكينيا بالرغم من وقوعهما في النطاق المداري ؟  
وذلك لاعتدال المناخ بسبب ارتفاع السطح .

8) يقل عدد السكان في المناطق الاستوائية بآفريقيا ؟

بسبب الغابات الكثيفة والظروف الطبيعية القاسية و  
انتشار الأمراض .

9) يتركز معظم سكان أوروبا في دول الغرب والوسط ؟

- بسبب المدن والمناطق الصناعية الكبرى مثل لندن وباريس وبرلين  
والسهول الزراعية الخصبة في السهل الأوروبي العظيم

10) نشأة السلالات البشرية المختلفة ؟

في آواخر عصر البلايستوسين انتشر الإنسان في قارات العالم مع استقراره  
في البيئات المختلفة وبدأ يؤثر فيها ويتأثر بها فطورت الصفات  
الوراثية بين البشر

أظم  
تاريخ الجغرافيا

11



- ١٧- يتركز سكان العالم في المدن الكبرى **وفرة فرص العمل - الخدمات والبنية التحتية**
- ١٨- تعد جزيرة جاوة أكثر مناطق العالم ازدحاما بالسكان **بسبب كثرة الخصبة المهاددة للزراعة**
- ١٩- انخفاض عدد السكان في سيبيريا. **بسبب البرودة الجو**
- ٢٠- تعتبر مصر من مناطق التركز السكاني في القارة الإفريقية. **سهول وادي النيل الخصبة**
- ٢١- ارتفاع معدلات المواليد بقارة إفريقيا.
- ٢٢- ارتفاع معدل الوفيات بقارة أوروبا. **زيادة عدد كبار السن**
- ٢٣- زيادة عدد كبار السن في الدول المتقدمة. **التقدم في الخدمات الصحية**
- ٢٤- دول الخليج العربي من الدول ذات الدخل الاقتصادي المرتفع **لاعتمادها على النفط والغاز**
- ٢٥- تختلف الخصائص الاقتصادية لسكان العالم. **تنوع الأنشطة الاقتصادية - دخل السكان**
- ٢٦- انخفاض معدل تعليم الإناث في بعض الدول. **بسبب العادات السليمة**
- ٢٧- انخفاض معدلات الوفيات في مصر. **الرعاية الصحية المترتبة**
- السؤال الخامس: ما النتائج المترتبة على...؟**

- انحصار السلالات البشرية.
- زيادة السكان في معظم دول قارة آسيا.
- تساوى معدلي المواليد والوفيات في قارة أوروبا.
- ارتفاع نسبة صغار السن في الدول النامية.

**السؤال السادس: ماذا يحدث إذا...؟**

- اختفت السهول الفيضية الخصبة من قارات العالم **لم يكن هناك أراضي زراعية - أزمة غذاء عالمي**
- انخفاض معدل المواليد في قارة إفريقيا.
- ارتفاع معدل المواليد بقارة أوروبا.

**السؤال السابع: ما العلاقة بين...؟**

- انتشار الغابات الاستوائية وتوزيع السكان في قارة إفريقيا. **قلة عدد السكان**
- التوزيع السكاني وكل من درجة الحرارة وارتفاع السطح بقارة أوروبا. **قلة عدد السكان في المناطق الشمالية**

**السؤال الثامن: قارن بين:**

- ١- السلالة الزنجية والسلالة المغولية من حيث الصفات الجسمية ونسبة الانتشار.
- ٢- مناطق تركيز السكان في آسيا وأوروبا.
- ٣- مناطق تركيز السكان في إفريقيا ومناطق يقل فيها السكان.
- ٤- السلالة القوقازية والمغولية من حيث مناطق الانتشار الرئيسية.
- ٥- مناطق تركيز السكان في أمريكا الشمالية ومناطق يقل فيها السكان.

**السؤال التاسع: ما المقصود بكل من...؟**

- السلالة البشرية.
- العجرة غير الشرعية.
- تركيب عمري.
- قوة العمل.

**السؤال العاشر: دلل جغرافيا على صحة العبارات التالية:**

- يختلف توزيع السكان داخل القارة الواحدة.
- توجد مناطق تركيز سكاني رئيسية في قارة إفريقيا.
- أثرت الأطماع الاقتصادية للأوروبيين في التركيب السكاني للأمريكتين.
- اختلاف السمات الظاهرية لسكان المناطق الاستوائية في قارة آسيا عن الموجودة في قارة إفريقيا.

تاريخ x جغرافيا

Aml

١١) تعرف عدد كبير من الزئوج للإجرات الإحصائية إلى الأمر يكتسب ؟  
وذلك للعمل في مزارع القطن وقصب السكر و التبغ التي أنشأها  
الأوروبيون في الأمريكتين .

١٢) تركز السكان في السواحل الشرقية لقارة أستراليا ؟  
وهو المدن الكبرى مثل سيدني والمناطق الصناعية الكبرى .

١٣) قل عدد السكان في غرب ووسط آسيا أستراليا ؟

١٤) تركز السكان في منطقة البحيرات العظمى بالولايات المتحدة  
الأمريكية ؟  
بسبب سيادة الظروف الصحراوية .

لأنها منطقة ذات موارد اقتصادية ضخمة

١٥) يقل عدد السكان في المناطق الشمالية لقارة أوروبا .  
بسبب شدة البرودة

١٦) انخفاض عدد السكان في المناطق الاستوائية لقارة أفريقيا ؟  
الظروف الطبيعية القاسية والغابات وانتشار الأمراض

١٧) تركز سكان العالم في المدن الكبرى ؟  
وفره فرص العمل - وفره الخدمات والمناطق الصناعية .

١٨) تعد جزيرة جاوة أكثر مناطق العالم ازدهاراً بالسكان ؟  
بسبب قربها الجيدة الملائمة للزراعة .

١٩) انخفاض عدد السكان في سيبيريا .  
بسبب برودة الجو في شمال آسيا .

٢٠) تعتبر مصر من مناطق التركيز السكاني في القارة الإفريقية ؟  
بسبب سهول وادي النيل الخصبة

## تاريخ \* جغرافيا

Aml

٢١) ارتفاع معدلات المواليد في إفريقيا ؟  
١- انتشار الأمية والفقر في معظم دولها .  
٢- الاعتماد على الزراعة البدائية والرعى .

٣- انتشار بعض العادات والتقاليد السلبية مثل الرغبة في انجاب  
البر عدد من البنات - الزواج المبكر للإناث

٢٢) ارتفاع معدل الوفيات في أوروبا .  
بسبب زيادة عدد كبار السن .

٢٣)

٩٢) زيادة عدد كبار السن في الدول المتقدمة ؟

بسبب التقدم في مجالات الخدمات الصحية والتعليمية .

٩٤) دول الخليج العربي مع الدول ذات الدخل الاقتصادي المرتفع ؟

لانها تعتمد على استخراج البترول وتصديره الى الخارج وتوسيع  
مشتقاته

٩٥) تختلف الخصائص الاقتصادية لسكان العالم ؟

وذلك بسبب ا- تنوع الأنشطة الاقتصادية التي يقوم بها  
السكان في كل دولة

ب- دخل السكان

٩٦) انخفض معدل تعليم الاناث في بعض الدول ؟

صت حرمان المرأة من التعليم في بعض المناطق لاجتماعها  
او بسبب المعتقدات الخاطئة

- تفضيل الزواج المبكر للاناث

٩٧) انخفضت معدلات الوفيات في مصر ؟

بسبب الرعاية الطبية المتقدمة .

**تاريخ x جغرافيا**  
**Aml**

١٥) ما النتائج المترتبة على :-

١) انهيار السلالات البشرية ؟

عدم وجود ما يعرف بالسلالة النقية الا في بعض الاماكن في المجتمعات  
البدائية .

٢) تساوي معدل المواليد والوفيات في قارة أوروبا ؟

فرتب على ذلك واهلت معدلات الزيادة الطبيعية الى صفر وتبات عدد  
السكان .

٣) زيادة السكان في معظم دول قارة آسيا ؟

ادى الى مشكلات عديدة منها ا- نقص الغذاء ب- قلة تهييب الفرد من  
الدخل القومي ج- انخفاض مستوى المعيشة د- وجود هجرات غير  
شرعية الى الدول المتقدمة .

٤) ارتفاع نسبة مخار السن في الدول النامية ؟

تحمل هذه الدول ميزانية مخففة من أجل توفير الغذاء والملبس  
والرعاية الصحية والتعليم وغيرهما والخدمات .

## 7) ماذا يحدث إذا :-

11) اختفت السهول الفيضية الخصبة من قارات العالم ؟  
- انقفاها مسافة الأراضى الزراعية الخصبة وتراجع الانتاج الزراعي  
- يقل عدد السكان في هذه المناطق وينتقلون لاماكنه أخرى

12) انخفض معدل المواليد في قارة إفريقيا ؟  
- لم يكن هناك عبء ميزانية ضخمة من أجل توفير المأكل والملبس  
- زيادة عدد الأفراد في سن العمل

13) ارتفع معدل المواليد في قارة أوروبا ؟  
- تراجع المواليد النامية بسبب الميزانية المضمرة التي تصرفها  
من أجل توفير المأكل والملبس والخدمات الصحية والتعليمية

## 14) ما العلاقة بين ؟

1) انتشار الغابات الاستوائية وتوزيع السكان في قارة إفريقيا  
أدى إلى قلة عدد السكان في هذه المناطق

2) التوزيع السكاني ودرجة الحرارة وارتفاع السطح بجماعة أوروبا ؟  
أدى إلى قلة عدد السكان في المناطق الشمالية بسبب شدة البرودة  
والمناطق الجبلية الوعرة كما في جبال الألب .

## 15) ما المقصود

1) السلالة البشرية :- مجموعة من البشر تتشابه في صفاتها  
الجسدية الخارجية .

تركيب عمري :-

دراسة عدد ونسبة كل مجموعة من سكان منطقة ما وفقا  
لفئات عمرية محددة  
لهجرة غير الشرعية :-

الهجرات الخارجية التي تتم من قبال وسائل غير قانونية والاروب  
من سلطات الحدود والإقامة غير الشرعية .

قوة العمل :-

عدد الأفراد في سن العمل والقادرين عليه والذين يعملون  
فعليا أو يبحثون عن عمل .

## دليل جغرافيا على صحة العبارات التالية

\* يختلف توزيع السكان داخل القارة الواحدة .

يختلف بسبب افتقار العوامل الطبيعية مثل المناخ والمياه والتربة الخصبة الملائمة للزراعة والتفاريق والعوامل الاقتصادية مثل الزراعة والهندسة ووفرة فرص العمل مما يؤدي الى ازدياد مناطق وقلة السكان في مناطق أخرى

\* توجد مناطق تركز سكانها الرئيسية في قارة إفريقيا .

- السهول الفيضية الخصبة مثل سهول نهر النيل في مصر

- سهول ساحلية معتدلة مثل سهول البحر المتوسط

- مناطق مرتفعة مرتفعة السطح في الدول المدارية له عند المناخ مثل كينيا

\* أثرت الزلزال الاقتصادية للزراعة في التوزيع السكاني للأمريليين .

حيث تكثر هنا عدد كبير من زنج إفريقيا للبحر القسري وذلك للعمل في مزارع القطن وقصب السكر والتبغ التي أنتجتها الأوروبيون في الأمريليين .

\* افتقار السمات الظاهرية لسكان المناطق الاستوائية في قارة آسيا عن الموجودة في قارة إفريقيا .

افتقار البيئة والمناخ في المنطقتين ~~التي~~ تكون سمات

مختلفة أدت لظهور سلالات بشرية متباينة حيث

في آسيا المناطق الاستوائية يسودها السلالة المغولية

في إفريقيا المناطق الاستوائية يسودها السلالة الزنجية

AMK

## الفترة الأولى، (دولة المماليك حتى نتائج هزيمة الجيوش المملوكية)

## الأداء الصفحي:

## أ) فكر .. وأكمل:

اكتب ما تشير إليه كل عبارة مما يلي،

- ١- سلطان عثماني انتصر على الصفويين عام ١٥١٤م.
- ٢- سلطان المماليك الذي قاد معركة ضد العثمانيين عام ١٥١٦م.
- ٣- قائد المماليك الذي انهزم من العثمانيين عام ١٥١٧م.
- ٤- عاصمة دولة الصفويين عام ١٥١٤م.
- ٥- معركة انتصر فيها العثمانيون ودخلوا بعدها القاهرة.
- ٦- معركة أصبحت الشام بعدها تحت الحكم العثماني.

## ب) قارن .. وأجب:

١- قارن بين معركتي مرج دابق والريدانية من حيث:

معركة الريدانية	معركة مرج دابق	
العثمانيين	العثمانيين - سليم الأول	الأطراف
المماليك - طومان باي	المماليك - السلطان الخوري	
هزيمة المماليك تحول مهر لولاية عثمانية	هزيمة المماليك تحول الشام ولاية عثمانية	النتائج

- ٢- ماذا كان يحدث إذا لم يتم تحطيم الأسطول المملوكي في عام ١٥٠٩م؟
- ٣- بم تفسر: رغبة السلطان سليم الأول في الاستيلاء على مصر؟
- ٤- حدد الأثر الناتج عن استيلاء السلطان سليم الأول على إمارة ذي القادر المملوكية.

## الأداء المنزلي (الواجب):

- ١- بم تفسر: هزيمة المماليك بالشام ومصر أمام الجيش العثماني؟
- ٢- ما النتائج المترتبة على: اكتشاف طريق رأس الرجاء الصالح عام ١٤٩٨م؟
- ٣- ماذا كان يحدث إذا: انتصر طومان باي في معركة الريدانية؟

إجابات كتاب التقسيمات ثالثه اعدادي /  
دراسات ( تاريخ )

م ٣٤ - ب - ١٩

= ماذا كان يحدث إذا لم يتم تحريم الأسطول المملوكي  
في عام ١٥٠٩ م ؟

١٢١ لم تعرف الدولة المملوكية لأزمات مالية وتدهور اقتصادي

١٣١ بم تفسر

رغبة السلطان سليم الأول في الاستيلاء على مصر ؟

١٢٢ إدارك السلطان سليم الأول فطوره التوسع والهدام مع دول أوروبا نظرا  
لتفوقها فنيا وفكريا وعسكريا .

١٢٣ رغبة السلطان سليم الأول توسيع ممتلكات الدولة العثمانية في الشرق  
عن طريق الاستيلاء على مصر قلب العالم الاسلامي .

١٢٤ حدد الأثر الناتج عن استيلاء السلطان سليم الأول على إماره ذى  
القادر المملوكية ؟

أدى إلى خروج السلطان الخوري من مصر إلى الشام ودارت بينهم  
معركة مرج دابق عام ١٥١٦ م .

١٣١ بم تفسر : هزيمة المماليك بالشام ومصر أمام الجيش العثماني ؟

بسبب ١٢٤ عدم الاستقرار الداخلي للمماليك ونزاعهم المستمر على السلطة  
١٢٥ التفوق العسكري للجيش العثماني واستخدام أساليب القتال  
المدني والأسلحة المتطورة .

١٣٢ ما النتائج المترتبة على اكتشاف طريق رأس الرجاء الصالح ١٤٨١ م ؟  
- ترتب عليه تعرف الدولة المملوكية لأزمات اقتصادية ومالية نظرا  
لتحول طرق التجارة بين الشرق والغرب من مصر إلى طريق رأس الرجاء الصالح

١٣٣ ماذا كان يحدث إذا انتشر طومان باي في معركة الريدانية ؟

- لم تتحول مصر إلى ولاية عثمانية .

٣٥

١٢) لِمَ تفسر ضعف نظام الحكم والإدارة في عصر تحت الحكم العثماني؟  
 بسبب - قهر مدع قلم الدوالي التي تشروح ما بين سنة الحاد ثلاث سنوات .  
 - زيادة سلطة الديوان والعامية العثمانية .

١٣) ما النتائج المترتبة على انحياز محمد بك أبو الذهب للسلطان

العثماني؟  
 فشل فكرة على بك الكبير وعودة مصر تحت الحكم العثماني مرة أخرى .  
 (٤) دلل تاريخياً على صحة العبارة :-

- معاناه مخار العرفيين في عصر أثناء الحكم العثماني ؟  
 - بسبب إرسال زمر العرفيين والهناع المهرين إلى الأستانة عاصمة الدولة العثمانية فأبجعت الهناعات يدوية رد يتي .

الأداء المنزلة ٣٥

١٤) لِمَ تفسر التدهور الزراعي لمصر خلال الحكم العثماني؟  
 - بسبب كثرة الضرائب المفروضة على الأراضي الزراعية وتقصي نظم الملتزمين .

- اهمال القمام لتنظيم الري وإقامة السدود وحفر الترع .  
 (٥) دلل تاريخياً انقسام المجتمع المصري تحت الحكم العثماني إلى طبقتين؟

صيت فئة قدام ← من الأتراك والعماليك لها كافة السلطات في الجيش والإدارة وشئون الحكم .

فئة المقلومين ← انقسمت إلى طبقة وسطى تكون من الصغار والعلماء ورجال الدين وكبار التجار طبقة دنيا ← أثرية تكونت من الفلاحين ومخار الحرفيين وطامة الناس .

١٥) لِمَ تفسر التسمت الحياة التنافسية والفكرية بمصر أثناء الحكم العثماني بالجمود والتخلف؟

بسبب العزلة التي فرضها الدولة العثمانية على مصر .  
 (٦) ما الخلافة بين بدو المهرء وطرق التجارة بمصر أثناء الحكم العثماني؟  
 تسميت الغارات المتلاحقة لبو المهرء تدهورت التجارة الداخلية .



نموذج (أ) - تدهور الزراعة

[٢] بم تفسر رغبة السلطان سليم الأول في الاستيلاء على مصر؟  
رغبة السلطان سليم الأول في توسيع ممتلكات الدولة العثمانية في الشرق على طريق الاستيلاء على مصر قلب العالم الإسلامي.

[٣] ما العلاقة بين

نظام الالتزام والزراعة في مصر خلال الحكم العثماني؟  
فرض نظام الالتزام على الأقاليم الزراعية وظلم الملتزمين في جمع الضرائب أدى إلى تدهور الزراعة في مصر.

[٤] حدد مدى صحة العبارة التالية:

كانت مصر بيئة مشجعة لاستقرار الأجانب في أثناء الحكم العثماني،  
العبارة خاطئة لأن الدولة العثمانية منحت الامتيازات الأجنبية للدول الأوروبية.

نموذج (ب)

[١] لو كان باي.

[٢] ماذا كان يحدث إذا لم تمنح الدولة العثمانية في مصر الامتيازات الأجنبية للدول الأوروبية؟

لم تتدهور التجارة الخارجية في مصر أثناء الحكم العثماني ولم تصبح مصر بيئة مشجعة لاستقرار الأجانب في مصر.

[٣] بم تفسر كون دولة المماليك لأزمات سياسية أواخر القرن الـ ١٥م؟

\* انطراب الأمن .  
\* كثرة الفتنة والثورات الداخلية .

[٤] ما النتائج المترتبة على سياسة العزلة التي فرضتها الدولة

العثمانية على مصر؟

اتسمت الحياة الثقافية والفكرية بمصر بالجمود والتخلف .

١٢٤ حدد وجه التشبه والافتراق بين معلومة مرجع سابق - معلومة الرياشية

الرياشية	مرجع سابق	
١٧٥١٧	١٦٥١٦	الأطراف
المماليك X العثمانيين طومانباي X سليم الأول	المماليك X العثمانيين السلفاء الخوري X سليم الأول	النتيجة
هزيمة المماليك وتحول مصر ولايته عثمانية	هزيمة المماليك وتحول السلم ولايته عثمانية	

١٣٤ حدد مدى صدق العبارة التالية اتمم المجتمع المصري أثناء الحكم العثماني بالتنوع والازدهار ؟

العبارة خاطئة - اتمم بالتخلف والجمود .

١٤٤ بم تفسر تأخر الصناعة في مصر أثناء الحكم العثماني ؟

بسبب  
• تدهور الزراعة .  
• إرسال أمهر الحرفيين والصناع المصريين إلى الامتانات  
عاصمة الدولة العثمانية .

نموذج (ب)

١- اختر الإجابة الصحيحة من بين (أ - ب - ج - د) :

- أصبحت مصر ولاية عثمانية بعد هزيمة القائد المملوكي .....

(أ) طومان باي (ب) السلطان الغوري (ج) محمد بك أبو الذهب (د) علي بك الكبير

٢- ماذا كان يحدث إذا لم : تمنح الدولة العثمانية في مصر الامتيازات الأجنبية للدول الأوربية؟

٣- بم تفسر : تعرض دولة المماليك لأزمات سياسية أواخر القرن ال ١٥ م ؟

٤- ما النتائج المترتبة على : سياسة العزلة التي فرضتها الدولة العثمانية على مصر ؟

نموذج (ج)

التاريخ : / /

١- اختر الإجابة الصحيحة من بين (أ - ب - ج - د) :

- استفادت الدولة العثمانية بعد دخولها لمصر من خبرات المصريين في المجال .....

(أ) الزراعي (ب) الصناعي (ج) التجاري (د) العسكري

٢- حدد وجه الشبه والاختلاف بين : معركة مرج دابق - معركة الريدانية.

٣- حدد مدى صدق العبارة التالية : اتسم المجتمع المصري أثناء الحكم العثماني بالتنوع والازدهار.

٤- بم تفسر : تأخر الصناعة في مصر أثناء الحكم العثماني ؟

الدرس الثاني: الحملة الفرنسية على مصر (١٧٩٨ - ١٨٠١ م)

الأسبوع ..... التاريخ : / /

الفترة الأولى: ( بداية من التمهيد حتى نهاية ثورة القاهرة الأولى ١٧٩٨ م )

الأداء الصفحي:

قارن. وأجب:

١- قارن بين معركتي شبراخيت وإمبابة من حيث :

معركة إمبابة	معركة شبراخيت	
الفرنسيين	الفرنسيين	الأطراف
المماليك	المماليك	
هزيمة المماليك فرار مراد بك إلى البحر فرار الوالد العثماني أحمد الثالث	هزيمة المماليك	النتائج

٢- بم تفسر : مجيء الحملة الفرنسية على مصر عام ١٧٩٨ م ؟

٣- ما النتائج المترتبة على : ثورة القاهرة الأولى أكتوبر ١٧٩٨ م ؟

٤- ماذا كان يحدث إذا : انتصر الأسطول الفرنسي على الأسطول الإنجليزي في موقعة أبي قير البحرية ؟

أهل مصر amisha1 → tek tek

## الدرس الثاني الحملة الفرنسية

1) لم تفسر مجيء الحملة الفرنسية على مصر عام ١٧٩٨ م؟

2) يتوينا فرنسا على فقدان مستعمراتها بإنشاء مستعمرة فرنسية في الشرق تكون قاعدة لها في قطع الطريق بين إنجلترا ومستعمراتها في الهند.

3) ما النتائج المترتبة على ثورة القاهرة الأولى ١٧٩٨ م؟

- إعدام الكثير من الأهل والأثوار
- فرض غرامات مالية على التجار والعلماء
- شروع القوات الفرنسية في تجهيزها مدينة القاهرة.

4) ماذا كان يحدث إذا انتصر الأسطول الفرنسي على الأسطول الإنجليزي في موقعة أبي قير البحرية؟

- لم يتم تحطيم وإفراق الأسطول الفرنسي
- لم تحاصر بريطانيا شواطئ مصر الشمالية
- لم تهرم الحملة من إمدادات فرنسا لها

5) دلل تاريخيا، قام علماء الحملة الفرنسية بالعديد من الأعمال العامة المهمة:

- دراسة شق قناة تربط بين البحر المتوسط والبحر الأحمر
- إنشاء الجمع العلمي
- تأليف كتاب ومفهوم
- اكتشاف حجر رشيد عام ١٧٩٩ م وترتب على ذلك التعرف على التاريخ المهرى القديم

6) لم تفسر قيام ثورة القاهرة الأولى ضد الفرنسيين ١٧٩٨ م؟

- وأنه ما يليون الضرائب القادة على المهرين
- قيام جنود الحملة ب - كفتيل البيوت اجتماع علماء المقاومة
- عدم أجواب العارات لطرده علماء المقاومة
- عدم كبرهم المباني والآثار والمساجد تجهيز القاهرة

ما النتائج المترتبة على محاصرة الأسطول الإنجليزي لسواحل مصر؟

مصر الشرقية؟

- القضاء على آمال فرنسا في السيطرة على سواحل مصر / سواحل مصر في البحر المتوسط.
- حرمان الحملة من إمدادات فرنسا لها.
- شتوا جنود الحملة انهم محاصرون داخل مصر.
- توقف فكرة التجارة الخارجية لمصر.

ماذا كان يحدث إذا نجحت مقاومة أهل الإسكندرية للحملة الفرنسية على مصر؟

- لم تستطع القوات الفرنسية الاستيلاء على الإسكندرية.
- لم يعتقل قائدها محمد كريم ولم يتم رميا بالرشاشات.

ما رأيك في اهتمام نابليون يونانجرت للعلماء في حملته العسكرية على مصر؟

- كان قرارا جيد حيث انهم قاموا بجمع أعمال مفيدة لمصر فيما بعد مثل دراسة شق قناة تربط البحر الأحمر والمتوسط.
- انشاء المجمع العلمي - المنشاق جبر رشيد الذي كسب لنا اسرار الحضارة المصرية القديمة - تأليف كتاب وصف مصر.

٣٨

دال تاريخيا قام علماء الحملة الفرنسية بالعديد من الأعمال الهامة لمصر؟

- دراسة شق قناة تربط بين البحر الأحمر والبحر المتوسط.
- انشاء المجمع العلمي.
- المنشاق جبر رشيد - تأليف كتاب وصف مصر.
- بم تفسر فشل اتفاقية العريش 1800 بين الفرنسيين والعثمانيين؟
- بسبب رفض الحكومة البريطانية الاتفاق والمطالبه باستسلام الجيش الفرنسي تأسرى قرب قرفها للبير.

ما الخلاصة بين تحالف الدول الأوروبية ضد فرنسا والحملة الفرنسية في مصر؟ أدى الى رجوع نابليون سرا الى فرنسا تاركا زمر قيادة الحملة اليه للبير

[2]



الأداء المنزلي (الواجب)

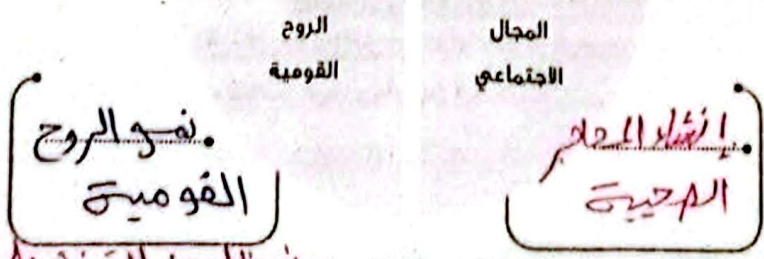
- ١- بم تفسر : قيام نورة القاهرة الأولى ضد الفرنسيين ١٧٩٨م ؟
- ٢- ما النتائج المترتبة على : محاصرة الأسطول الإنجليزي لشواطئ مصر الشمالية ؟
- ٣- ماذا كان يحدث إذا : نجحت مقاومة أهل الإسكندرية للحملة الفرنسية على مصر ؟
- ٤- ما رأيك في : اصطحاب نابليون بونابرت للعلماء في حملته العسكرية على مصر ؟

الفترة الثانية (الحملة الفرنسية على الشام ١٧٩٩ - نتائج الحملة الفرنسية) التاريخ : / /

الأداء الصفي

صنف وأجب:

١- صنف نتائج الحملة الفرنسية على مصر أدناه للمجال الذي تنتمي إليه بالشكل التخطيطي التالي:



٢- بم تفسر : الحملة الفرنسية على الشام ١٧٩٩م ؟ *ربط نابليون القفص على الحملة القادمة مع الشام*

٣- ما النتائج المترتبة على : مذبحه يافا البشرية ؟ *استعمال أهالي يافا للدفاع عنها*

٤- دلل تاريخياً على صحة العبارة : كان مينو ينوي البقاء في مصر وتحويلها إلى مستعمرة فرنسية.

الأداء المنزلي (الواجب) : *المرحلة والنظام القضائي*

١- ما النتائج المترتبة على : معركة أبي فير البرية ١٧٩٩م ؟ *هزيمة العثمانيين*

## لقوفج أ

### ١- الشمال والشرق

١٢١١م تفسر جلاء الحملة الفرنسية عليه مصر ١٨٠١م  
أرسلت إنجلترا أسطولاً حربياً إلى أبي قير في فبراير ١٨٠١م لإفراج الحملة  
وانضم إليه الجيش العثماني فلم تستطع القوات الفرنسية المقاومة  
واستسلمت ونادرت مصر.

١٢١٢ ما العلاقة بين تاريخ مصر القديم والحملة الفرنسية على مصر؟  
التشويق علماء الحملة الفرنسية هجر رشيد الذي تشوق لنا اسرار  
الكتابة الهيروغليفية والتعرف على الحضارة المصرية القديمة.

### ١٢١٣ صدق هدى هدى العبارة التالية

هدأت الأوضاع في مصر بعد سفر نابليون إلى فرنسا ١٧٩٨م؟  
لم تهدأ الأوضاع في مصر بعد سفر نابليون واجه لير ثورات ومقاومة  
شديدة أهمها ثورة القاهرة الثانية والتمردات مع العثمانيين والإنجليز  
فتولى الأمر ليقول كبير

## لقوفج ب / ١ موقعة زى قير البحرية .

١٢١٤ ماذا كانت يحدث إذا قبلت الحكومة البريطانية التساوية العريضة  
١٨٠١م

كانت فرمت الحملة الفرنسية لمصر فبكرا وللصالح الدولة العثمانية .  
بم تفسر فشل قوات الحملة الفرنسية في إفراج أهالي المهديين  
لأن أهالي المهديين اتبعوا حرب المناوشات والمعارك المتفرقة التي انزلت  
قوة جنود الحملة نظراً لطول الوادي

١٢١٥ ما العلاقة بين الحملة الفرنسية على مصر والروح القومية للمصريين؟  
كانت آثار الحملة الفرنسية نمو الروح القومية حيث ظهر ذلك واضحا بعد  
فروج الحملة عندما تمسك المصريون بحقوقهم في الحرية واقتدار والمهيم .

نموذج 2

المصريين

١٣) بم تفسر إنشاء نابليون بونابرت للدواوين في مصر؟  
يهدف تدريب الأعيان والعلماء المصريين على نظام مجالس الشورى  
من حيث الاستشارة وتلقي الآراء.

١٤) قارن بين موقفك أي قير البحرية ومعركة أي قير البحرية  
من حيث الأثر والنتائج؟

أي قير البحرية - ١٨٠٠م

العثمانيين X الفرنسيين

هزيمة القوات  
العثمانية

أي قير البحرية ١٧٩٨م

الانجليز  
العثمانيين X الفرنسيين

- انتصار الاسطول الانجليزي  
وهزيمة واعزاق الاسطول  
الفرنسي.  
- دمار السواحل الشمالية المصرية  
من قبل الاسطول الانجليزي

١٥) صدمني هدى هدى العبارة التالية لأن الأزمهر الشريف في دور في  
مقاومة الحملة الفرنسية على مصر؟

كان الأزمهر الشريف مقرا لقيادة الثورة وتورة القاهرة الأمام  
هد الاقتال الفرنسي

الدرس الثالث: ثورة الشعب المصري وتولية محمد علي

الأسبوع: التاريخ: / /

الفترة الأولى: تولية محمد علي حكم مصر - محاولة نقل محمد علي من مصر ١٨٠٦م

الأداء الصفي:



1 فكر وبحث: أمامك صورة لإحدى الشخصيات التاريخية التي أثرت في تاريخ مصر في ضوء دراستك وضح:

- ١- اسم الشخصية التي أمامك. محمد علي باشا
  - ٢- أحوال مصر قبل توليه الحكم. حالة من الفوضى وعدم الاستقرار
- ب فكر وأجب:

١- اكتب كلمة (صواب) أو كلمة (خطأ) أمام العبارة التالية:

- ١- قام السلطان العثماني بإرسال فرمان ١٨٠٦م لنقل محمد علي إلى ولاية سالونيك. صح
- ٢- بم تفسر: ثورة الشعب المصري عام ١٨٠٤م؟ بسبب خرف الطراش والأتاوات على الخديوي.
- ٣- ماذا كان يحدث إذا: فشل محمد علي في كسب ود زعماء الشعب وثقة زعمائه ١٨٠٤م؟

لم يتولى حكمه فيما بعد ولم

الأداء المنزلي (الواجب):

- ١- حدد أسباب تراجع السلطان العثماني عن فرمان ١٨٠٦م الذي نص على نقل محمد علي والاهل الى خارج مصر
  - ٢- ما النتائج التي برزت: على سياسة محمد علي أثناء ثورة الشعب المصري عام ١٨٠٤م
  - ٣- دلل تاريخيا على صحة العبارة: بدأت أولى محاولات إنجلترا للتخلص من محمد علي بانفصاله عن مصر
  - ٤- ماذا كان يحدث إذا: قبلت الزعامة الشعبية فرمان يوليو ١٨٠٦م عزل محمد علي وتولى والي عثماني آخر
- الفترة الثانية: حملة فريزر مارس ١٨٠٧م - المماليك

التاريخ: / /

الأداء الصفي:

1 فكر وأجب: - احوال مصر ١٨٠٤م عزل محمد علي لأنه لم يملك القوى اواني والى عثمانى آخر

- ١- ما هدف حملة فريزر على مصر؟ مقاومة أهالي رشيد والاحمد
  - ٢- استنتج السبب الرئيسي لفشل الحملة الإنجليزية على مصر عام ١٨٠٧م.
- ب فكر وأجب: ١- ماذا كان يحدث إذا: نجحت حملة فريزر في تحقيق أهدافها؟

٢- وضح: موقف محمد علي من الزعامة الشعبية.

- ٣- بم تفسر: حرص محمد علي منذ بداية حكمه على التخلص من المماليك؟ منحهم هم تولى المناصب
- ٤- ضع خطا تحت الإجابة الصحيحة مما بين القوسين البريئة - طرادهم في كل مكان - دبر من يده الفكرة - استطاع محمد علي الأفراد بحكم مصر ١٨١١م بعد التخلص من

(الفرنسيين - المماليك - الإنجليز - العثمانيين)

حاولت إنجلترا جعل السلطان العثماني يعزل محمد علي عن طريق فرمان ١٨٠٦م لكنه الزعامة الشعبية وقفت الى جانب محمد علي ورفضت فرمان فقرر السلطان العثماني الابقاء على محمد علي وتثبيت حكمه

الوحدة الثالثة: مصر تحت الحكم العثماني

أيقظت الأمة الروح القومية لدى المصريين وظل ذلك واضحا بعد خروج الحملة  
عندما تسلموا بحقوقهم في الحرية وافتتاروا لهم  
الصف الثالث الإعدادي

الأداء المنزلي (الواجب)  
فشلت الحملة بسبب زلزال في ربيع الثاني ١٨٠٧م على مصر؟ وحول محمد علي الأسكندرية ضمتها  
١- ما النتائج التي تترتب على ذلك؟  
٢- وضع العلاقة بين الحملة الفرنسية ووصول محمد علي لحكم مصر.  
٣- دلت تاريخيا، تعددت وسائل محمد علي للتخلص من المماليك في كل مكان (١٥) منذ بزوغ  
القلم

التقييم الأسبوعي: التاريخ / /

نموذج (أ)  
فرضت في التقليل من مصلحتهم وتبعيت تابعي المملوكي محمد بك الأنفي  
١- بم تفسر، رغبة بريطانيا في تولية محمد بك الألفي حكم مصر؟  
٢- رتب الأحداث التاريخية الآتية من الأقدم إلى الأحدث:  
(حملة فريزر خروج الحملة الفرنسية من مصر - تولية محمد علي حكم مصر -  
نفي عمر مكرم إلى دمياط).  
٣- ما النتائج التي تترتب على، مذبحه القلعة ١٨٠٧م؟ تماما  
٤- صوب العبارة التالية، والوجه مع العو هي عدم الاستقرار السياسي والعديد من الثورات  
- شهدت مصر حالة من الاستقرار السياسي عقب خروج الحملة الفرنسية.

نموذج (ب)  
واقتلها بالرهال السافطين - تحيد ان يطيد بيدل قهار جده لرفع الطراب عظم  
١- بم تفسر، نجاح محمد علي في كسب ثقة الشعب المصري وزعمائه قبل توليه الحكم؟  
٢- ما النتائج التي تترتب على، انقسام الرعايا الشعبية فيما بينها حول مكانة  
عمر مكرم بين الناس؟  
٣- دلت على صحة العبارة، وضع العلماء قواعد الحكم الدستوري في أوائل القرن الـ ١٩. ما شئ  
- عنوما فشل فرمان ١٨٠٦م في عزل محمد علي؟  
٤- ما العلاقة بين، فرمان ١٨٠٦م - حملة فريزر ١٨٠٧م؟  
٥- اختر الإجابة الصحيحة مما بين القوسين:  
- قام محمد علي بنفي عمر مكرم إلى (أسوان - رشيد - دمياط - الإسكندرية)

حاولت أولاده عم طريق السلطان العثماني فيرمات ١٨٠٦م وفشلت  
نموذج (ج)  
فأرسلت حملة فريزر ١٨٠٦م لعزل محمد علي وتوليت محمد بك الأنفي  
١- أثبت صحة العبارة التالية، لم ترضخ إنجلترا لتولية محمد علي حكم مصر.  
٢- ما النتائج التي تترتب على، اجتماع الشعب المصري بدار المحكمة في ١٣ مايو ١٨٠٥م؟  
٣- بم تفسر، اختسب محمد علي ثقة وعطف زعماء الشعب المصري عام ١٨٠٤م؟  
٤- ما العلاقة بين، قوة إنجلترا البحرية وتحركات حملة فريزر داخل مصر؟

سمحت للاقوات البحرية بالقتال الأسكندرية في بداية الحملة قبل ان  
الفصل الدراسي الأول تتجه إلى باقي مناطق غرب الدلتا في رشيد والدماد  
لولا قوتها البحرية لما استطاعت ارسال حملة إلى مصر والتحكيم وأنها بسهولة

- ١) أسس محمد علي الاقتصاد المهرى على أساس نظام الاقتدار؟  
تلى رفض الدول في سوق التجارة الدولية منافسا لغيره من الدول.
- ٢) ماذا كان يحدث إذا أبقى محمد علي نظام الالتزام؟

كان لسيوذي إليه فهدف الدولة اقتصاديا وعسكريا واستمر تدهور الزراعة ولم يتمكن محمد علي من السيطرة على الأراضي الزراعية.

- ٣) لعل تاريخيا على صحة العبارة التالية أثرت سياسة محمد علي الاقتصادية في تشكيل وبناء القوى الاجتماعية في مصر؟

حيث انتهى نفوذ المماليك كقوة قائمة وقل معاها أسرة محمد علي وبجها العناصر التركية.

- تضاعف نفوذ علماء الأزهر والقيادات الشعبية وتدهور طبقة التجار.
- ظهرت طبقة الأعيان وطبقة عمال الصناعة مع استقرار طوائف الفرقى كوسطاء للحكومة.
- ظهر البدو كقوة اجتماعية مستقرة.

### تاريخ جغرافيا

- ٤) قام محمد علي بتطهير البحر الأحمر من القرصنة.

### الأداء المنزلي

بم تفسر

- ١) ازدهار الصناعة في عهد محمد علي؟ حيث
- أقام المصانع الحكومية مثل مصانع الخزل والنسيج والورق والسكر.
  - جمع الهيبة للعمل في مصانع الدولة بأجور ~~محددة~~ رمزية فأصبحت بمثابة مدارس صناعية.
  - كما الاستعانة بالفبرات الأجنبية وإرسال البعثات العلمية للفارج وترجمه الكتب الخاهرة بالصناعات.

١٢٤ قام محمد علي بتطهير البحر الأحمر من القرصنة .

الأداء المنزلي

بم تفسر

- ١٢٤ ازدهار الصناعة في عهد محمد علي ؟ حيث
- اقام المصانع الخلومية مثل مصانع الخزل والنسيج والورق والسكر
- جمع الصيغ للعمل في مصانع الدولة بأحور ~~صغيرة~~ رمزية فأصبحت بمثابة مدارس صناعية .
- كما الاستعانة بالفنانات الأجنبية وارسال البعثات العلمية للخارج وترجمه الكتب الخالصة بالصناعات .



تاريخ جغرافيا

١٢٥ نشطت فكرة البيع والشراء في عهد محمد علي ؟

- سبب ازدهار الزراعة والصناعة .
- الاستقرار الداخلي للبلاد .

١٢٦ ذلك تاريخيا على معنى العبارة التالية

- ازدهار النقل والمواصلات في مصر فلان عهد محمد علي ؟
- مهد وأمن الطرق البرية والبحرية .
- بناء أسطول في البحرين الأحمر والمتوسط .
- تطهير البحر الأحمر من القرصنة .
- فخر الترخ والاهتمام بالموانئ البحرية .

١٢٧ ما رأيك في سياسة الاقتدار التي اتبعها محمد علي في مصر ؟

أدت الى نهضة اقتصادية شاملة رفعت مصر عاليين الدول الكبرى

١٢٨ م

١- الاجراءات التي اتخذها محمد علي لإعداد الهنالك والجنود ؟

- صيت قام ب
- إنشاء المدارس العسكرية لإعداد الهنالك مثل مدرسة أسوان واستقام
- هنالك ومعلمين ذوقية ودراية من أوروبا وكان أشهرهم الكولونيل سيقا .
- اعداد الجنود فبدأ بتجنيد السودانيين ثم اتجه لتجنيد المصريين الذين ائتوا كغنائمهم .

١٢٩ الفرنسية

١٢٩-١- دلال تاريخيا مثل محمد علي الذراع العسكري للدولة العثمانية في الحفاظ على املاكها خلال الربع الأول من القرن ال ١٩ م .

- لعل على ذلك ارسال السلطان العثماني محمد علي الى عهد صروب منها الصروب والوهابية في شبه الجزيرة العربية فحافظ على بلاد الحجاز وارسله أيضا الى بلاد اليونان للقضاء على ثورة أهل المسورة وفهم جزيرة كريت .
- كما نجحت محاولة محمد علي في تجنيد المصريين ؟
- لانهم ائتموا كفاء لهم في ١- الانتفاضة من ١٩٢
- ٢- ميادين القتال الخارجية .
- ٣- اطاعة الأوامر العسكرية .

## تاريخ جغرافيا

١٢) نشطت فكرة البيع والشراء في عهد محمد علي ؟  
سبب ازدهار الزراعة والصناعة .  
الاستقرار الداخلي للبلاد .

١٣) دلل تاريخيا على صحة العبارة التالية  
ازدهر النقل والمواصلات في مصر فلان عهد محمد علي ؟  
- مهده وأمن الطرق البرية والبحرية .  
- بناء أسطول في البحرين الأحمر والمتوسط .  
- تطوير البحر الأحمر مع الفريضة .  
- فخر الترخ والاهتمام بالموانئ المصرية .

١٤) ما رأيك في سياسة القطار التي اتبعها محمد علي في مصر ؟

أدت إلى نهضة اقتصادية شاملة رفعت مصر عاليين الدول الكبرى

٤٤

١- الإبراديات التي اتخذها محمد علي لإعداد الفيلام والجنود ؟  
صيت تمام ب

- إنشاء المدارس العسكرية لإعداد الفيلام مثل مدرسة أسوان واستقدام فيلام ومعلمين ذوقيرة ودراية مع أوروبا وكان أشهرهم الكولونيل سينا .
- إعداد الجنود فبدأ بتجنيد السودانيين ثم اتجه لتجنيد المصريين الذين أثبتوا كفاءتهم .

## ١٥) الفرنسية

١٦) دلل تاريخيا مثل محمد علي الذراع العسكري للدولة العثمانية في الحفاظ على أملاكها فلان الربع الأول من القرن الـ ١٩ م .

لدليل على ذلك إرسال السلطان العثماني محمد علي إلى عدة حروب منها الصروب والوهابية في شبه الجزيرة العربية وحفاظا على بلاد الحجاز وإرساله أيضا إلى بلاد اليونان للقضاء على ثورة أهل المورة وفهم جزيرة كريت .

١٧) نجحت محاولة محمد علي في تجنيد المصريين ؟

- ١- الانتظام في التدريب .
- ٢- إطاعة الأوامر العسكرية .
- ٣- ميادين القتال الخارجية .

- ما النتائج التي تترتب على هروب محمد علي في الشام ؟
- وصول القوات المصرية إلى الشام وأعلى الفرات .
  - امتداد النفوذ المصري في بلاد الشام .

- ١٤١١ وفتح تعددت نتائج هروب اليونان من عام ١٨٢١م - ١٨٢٨م ؟
- تحطيم الأسطول المصري في معركة نغارين البحرية ١٨٢٧م .
  - ضم جزيرة كريت لولاية مصر .
  - علو مكانة مصر دولياً نتيجة تفاوض الدول الأوروبية مع محمد علي مباشرة لإلغاء الحرب ووقف الرجوع للسلطان العثماني .

**تاريخ جغرافيا**

**نموذج (أ)**

- ١- بم تفسر ازدهار الصناعة في عهد محمد علي ؟  
لأنه محمد علي قام بالإصلاحات التالية :-
  - ١- إقامة المصانع الآتومية مثل مصنع الغزل والنسيج والورق والسكر
  - ٢- جمع المهنيين للعمل في مصانع الدولة بأجور رمزية فأصبحت بمثابة مدارس صناعية
  - ٣- الاستعانة بالخبراء الأجانب وإرسال بعثات للخارج وتدريبه الكتب الخاصة بالصناعة .
- (٥) على باشا مبارك ✓ (موجب ما فعله فلا )

- ١٣) ما الأثر الناتج عن عقد معاهدة لندن بالنسبة لمحمد علي سياسياً ؟
- تمتلك شروط معاهدة لندن في :-
- إعادة بلاد الشام وشبه الجزيرة العربية إلى السلطان العثماني .
  - تثبيت قلم محمد علي لمصر .

إعلان نفوذ محمد علي إلى السلطان العثماني

أي أن المعاهدة أدت إلى تقليص نفوذ محمد علي سياسياً

**١٤) دلل تاريخياً على صحة العبارة الآتية**

كان لمحمد علي دور واضح في تحسين طرق الري بمصر ؟

نعم لأنه قام بتفريغ البحيرة المحمودية وإنشاء العديد من القناطر على النيل أهمها القناطر الخيرية .

إما ماذا كان يحدث إذا استمر محمد علي في العمل بنظام الالتزام ؟  
لم يستوعب النموها بالزراعة ولم تسيطر الحكومة على الأراضي الزراعية  
بسبب الملتزمين وتحكماتهم بها .

## نفوذ ج - 1 - أسوان ← أول مدرسة عسكرية

- لم تفسر نشاط التجارة في مصر في عهد محمد علي ؟
- بسبب ازدهار الزراعة والصناعة . - الاستفراء والأمن الداخلي .
- أيد بالازدانة التاريخية مهمة العبارة - اهتم محمد علي بالتعليم والثقافة ؟
- أنشأ المدارس الحديثة مثل الطب - الزراعة
- أرسل البعثات العلمية إلى أوروبا
- استعان ببعض الأسماء الأجنبية للتدريس في المدارس العليا والمسألة في الترجمة .

- إنشاء المطبعة الأميرية في بولاق واهدر صحيفة الوقائع المصرية .
- ما المقصود بنظام الاقتدار ؟
- نظام تقوم فيه الحكومة ممثلة في محمد علي بتحديد نوع الخيرات التي تزرع ونوع المهنوعات التي تنتج وتحديد أثمان تسراها وأثمان بيعها في السوق .

أما إذا كان يحدث إذا لم تفرق الدول الأوروبية معاهدة لندن 1840 على محمد علي  
استمر محمد علي في بسلا نفوذه في بلاد الشام وشبه الجزيرة العربية  
والاستمر في مخطط مشروع الاستقلال عن الدولة العثمانية وعدم الخضوع  
للسلطان العثماني



# تاريخ x جغرافيا

نموذج ٤

١- حدد الأثر الناتج عن هروب المورة والوئح السياسي في مصر؟  
تدطم الاستطول المارة في معركة تقارين  
فهم جزيرة كريت لمصر؟ علو مكانه مع دوليا نتيجة تقاوهن الدول  
الأوروية مباشرة مع محمد علي لإنهاء الحرب دون الرجوع للمظام  
العثماني

٢- أماذا يحدث إذا لم يفهم محمد علي السودان؟

١- لم يصل نفوذ مصر إلى جنوب السودان.

٢- لم تبنى مدينة الخرطوم.

٣- لم تلتحق في منابع النيل.

٣- أما المقصود بمصطلح فرمان؟

أمر يصدر من السلطان العثماني واجب التنفيذ.

٤- أدل على تسر العلاقة بين محمد علي والسلطان العثماني على وكيرة واحدة.

مرات العلاقة بين محمد علي والسلطان العثماني عبر حلتين :-

١- مرحلة الاتفاق وتمثلت في هروب الجزيرة العربية واليونان وتمت  
بناء على طلب السلطان العثماني

٢- مرحلة الفلاخ والهدام وتمثلت في هروب السودان وبلاد الشام على محمد علي

٥- اختار

الفئة التي ارتبطت ظهورها كقوة اجتماعية مستقرة لتطبيق  
محمد علي نظام الاقتدار في مصر لهم

(التجار - البدو - المماليك - الأعيان)

٥٤ من ٩٢

٥

Amz

تاريخ ثالث اعداد تقييمات

التاريخ الثالث اعداد تقييمات

# تاريخ جغرافيا

## نموذج 2

1- حدد الأثر الناتج عن حروب المورة والوخن السياسي في مصر؟  
تدطم الاسطول المهر في معركة تقارين  
فهم جزيرة كريت لمصر؟ علو مكانه مصر دوليا نتيجة تقاوتها الدول  
الأوروبية مباشرة مع محمد علي لإنهاء الحرب دون الرجوع للسلطان

العثمانه  
2- أما إذا حدثت إذا لم يفهم محمد علي السودان؟

- 1- لم يصل نفوذ مصر الى جنوب السودان.
- 2- لم تبنى مدينة الخرطوم.
- 3- لم تلتحق صنایع النيل.

3- أما المقصود بمصطلح فرمان؟  
أمر يصدره السلطان العثماني واجب النفاذ.

4- أدل على تسر العلاقة بين محمد علي والسلطان العثماني على وكره واحدة.

مرات العلاقة بين محمد علي والسلطان العثماني يمر حلتين :-  
1- مرحلة الاتفاق وتمثلت في حروب الجزيرة العربية واليونان وتمت  
بناء على طلب السلطان العثماني  
2- مرحلة الخلاف والهدام وتمثلت في حروب السودان وبلاد الشام على محمد علي

5- اختار

الفتنة التي ارتبطت بظهورها كقوة اجتماعية مستقرة لتطبيق  
محمد علي نظام الاقتدار في مصر ثم

(التجار - البدو - المماليك - الأعيان)

## التدريب الشهري الأول

### السؤال الأول بم تفسر .. ؟

١] تعرفنا دولة المماليك في آواخر القرن الـ ١٤ لآزمات وتدور

اقتصادى ؟

بسبب ١- انتشار طريق رأس الرعاء الصالح عام ١٤٦٨م .

٢- تحطيم الأسطول المملوكى فى معركة ديو البحرية ١٥٠٩م .

٢] الحملة الفرنسية على الشام (مارس ١٧٩٩م) ؟

رغبة نابليون فى القضاء على الجيش العثمانى القادم من الشام  
قبل ان يصل الى مصر

٣] ثورة الشعب المصرى مارس ١٨٠٤م ؟

بسبب فرض الضرائب والى تاوات على الأهالى .

٤] إنشاء محمد على المطبعة الأميرية فى بولاق ؟

١- طباعة الكتب المدرسية

٢- طباعة الكتب الرديئة كـ ٣٥٠-٣٦٠ اصدار جريدة الوقائع المصرية .

٥] توتر العلاقات بين محمد على والسلطان العثمانى ؟

بسبب تفاوض محمد على مع الدول الأوروبية مباشرة دون

الرجوع للسلطان العثمانى لتأمين انسحاب الجيش المصرى من

المورة أثناء هروب اليونان .

٦] اتجاه العثمانيين للاستيلاء على مصر والشام ؟

- إرداك السلطان سليم الأول فظورة التوسع والهدم مع دول أوروبا

بسبب تفوقها حضاريا وعسكريا على العثمانيين .

- رغبة السلطان سليم الأول فى توسيع ممتلكات الدولة العثمانية فى الشرق

عبر طريق الاستيلاء على مصر قلب العالم الاسلامى .

٧] إنشاء نابليون الديوان العام ودواوين الأقاليم وديوان القاهرة ؟

بهدف تدريب الأعيان والعلماء المصريين على نظام مجالس

الشورى من حيث الاستشارة وتلقى الآراء فيما يعود بالنفع على الأهالى

٨] نجاح محمد على فى التخلص من عمر مكرم ؟

انتهاز محمد على طرفها انقسام القيادات الشعبية فيما بينهم حول تقدير

مكانة عمر مكرم الذين اخذوا يد سون له عند محمد على .

تاريخ جغرافيا  
Aml

اهتمام محمد علي بالتعليم ؟

بسبب حاجته اليه ؛ موثقتنا لسد حاجه المصالح العكوه مسه .  
٢- فنيت ومكتسباته في مختلف الفروع لسد حاجه الجيش والاسطول

نشاط التجارة الداخلية والخارجية في عهد محمد علي ؟

١- ازدهار الزراعة والصناعة ٢- استقرار الامم في البلاد

١١- تدهور الأوضاع الاقتصادية في مصر في العصر العثماني ؟  
وذلك بسبب ضعف الدولة العثمانية نظام الالتزام الذي ادى اليه

تدهور الزراعة الي جانب اهمال مشروعات الرعي والسدود .  
٢- تدهور التجارة بسبب انتشار طرق راس الربا والمصالح والهمال

الطرق واعمارات يدو المهرء على القوافل

٣- تراجع الصناعة بسبب ارسال اعمار الفرس اليه الاستانه

١٢- فشل القوات الفرنسية في اخضاع اهالي المهجيد ؟  
بسبب اتباع اهاليه المهجيد حرب المناوشات والمعارك المتفرقة التي

انزلت قوة الفرنسيين نظرا لطول الوادي .

١٣- شهدت مصر فترة عهيدة مع القوي والمراعات بعد جيل القلة  
الفرنسية عنده مصر ١٨٠٢م ؟

بسبب المراعات بين المماليك والدولة العثمانية وانجلترا رغبة في  
استئثار كل منها في السيطرة وبسط النفوذ على مصر ؟

١٤- تطبيق محمد علي سياسة الاحتكار ؟

لكي يضمن الدخول في سوق التجارة الدولية منافسا لغيره من الدول .

١٥- لهم محمد علي للسودان ؟

رغبة محمد علي في تحقيق ملامح سياسية واقتصادية وعسكرية .

السؤال الثاني

النتائج المترتبة :-

تاريخ x جغرافيا

Aml

حروب الشام الاولى والثانية ؟

وصول القوات المصرية الي الشام واماكن الفرات

متداد النفوذ المصري في بلاد الشام

موقعة ابي غير البحرية أغسطس ١٧٩٨م ؟

تطهير واغراق الاسطول الفرنسي

صار الاسطول الانجليزي لشواهل مصر الشمالية مما ادى اليه :-

←

١٤١

- القضاء على أمال فرنسا في السيطرة على سواحل البحر المتوسط .
- حرمان العمارة من إمدادات فرنسا لها .
- تشجيع الجنود الفرنسيين بأنهم محاربون وأقل مهر .
- توقيف فكرة التجارة الفارسية لمر .

٢٣] فضوح مهر للعالم العثماني عنه قروت ؟

تدهور الأوضاع الاقتصادية والإقتصادية والسياسية وسادت حالة من الجمود الفكري وعزله دولية قرضتها على مهر

٢٤] انقسام القيادات الشعبية العربية حول تقدير مكانة السيد عمر مكرم ؟

- استغل محمد علي الفرصة وقام بعزل عمر مكرم من تقابله الأتقاني وتعيينه الى دمياط ١٨٠٦ م .

٢٥] عقد الدول الأوروبية معاهدة لندن ١٨٤٠م بالنسبة لمحمد علي سياسيا؟ مهر نفوذ محمد علي في قلبه مرفقا وانعاده بلاد الشام والحجاز الى السلطان العثماني ؟ اعلايه الخفوق للسلطان العثماني .

٢٦] صروب محمد علي في شبه الجزيرة العربية ١٨١١م - ١٨١٢م ؟  
- سيطرة محمد علي على الجزيرة العربية

٤٤] إجابة سؤال الأختيار من متعدد

- ١] التجار
- ٢] شركة أي قير البحرية
- ٣] المماليك
- ٤] ثقافية
- ٥] شرافيت
- ٦] العثمانية
- ٧] لاطومة البريطانية
- ٨] عسكرية وثقافية
- ٩] البير الأحمر

١٠] كليبر

تاريخ x جغرافيا

Aml

١٣]

السؤال الثاني : ما النتائج المترتبة على .....

- 1- حروب الشام الأولى والثانية . وسقوط محمد علي في المعالي الفرات -
- 2- موقعة أبي قير البحرية أغسطس ١٧٩٨م . تحطم الأسطول الفرنسي من
- 3- خضوع مصر للحكم العثماني عدة قرون . عزله وتدوير لافته المجالات
- 4- انقسام القيادات الشعبية المصرية حول تقدير مكانة السيد عمر مكرم . عزل عمر مكرم وتفضيلهم
- 5- عقد الدول الأوروبية معاهدة لندن ١٨٤٠م بالنسبة لمحمد علي سياسياً بنفسه محمد علي
- 6- حروب محمد علي في شبه الجزيرة العربية ( ١٨١١ - ١٨١٩م ) . سطر على شبه الجزيرة العربية

السؤال الثالث: اختر الاجابة الصحيحة مما بين الأقواس:

- 1- أكثر من تضرر من سياسة محمد علي الاقتصادية هم .....  
(الصناع - البدو - التجار - طوائف الحرف)
- 2- العزلة التي فرضتها الدولة العثمانية على مصر أثرت بشكل أكبر على الحياة .....  
(العسكرية - الاجتماعية - الاقتصادية - الثقافية)
- 3- سعت بريطانيا في مطلع القرن ال١٩م إلى تولية حكم مصر لحلفائها من .....  
(المماليك - المصريين - العثمانيين - الفرنسيين)
- 4- تعتبر بداية النهاية للحملة الفرنسية في مصر .....  
(ثورة القاهرة الأولى - ثورة القاهرة الثانية - معركة أبي قير البحرية - معركة أبي قير البرية)
- 5- أول مواجهة بين المماليك والحملة الفرنسية كانت في .....  
(إمبابة - الإسكندرية - الصعيد - شبراخيت)
- 6- انتقلت خلافة العالم الإسلامي عام ١٥١٧م إلى الدولة .....  
( المملوكية - الصفوية - العثمانية - العباسية )
- 7- فشل أول تفاوض عثماني فرنسي في مصر بداية القرن ال١٩ بسبب .....  
(الحكومة البريطانية - المماليك - الشعب المصري - روسيا)
- 8- اكتسب حي بولاق زمن محمد علي أهمية .....  
(عسكرية ودينية - ثقافية واجتماعية - اقتصادية ودينية - عسكرية وثقافية)
- 9- قام محمد علي بتطهير ..... من القرصنة.  
(البحر الأحمر - البحر المتوسط - قناة السويس - الخليج العربي)
- 10- سمح الفرنسيون بدخول القوات العثمانية إلى قلب القاهرة في عهد .....  
(نابليون - كليبر - مينو - نلسون)

السؤال الرابع: ما العلاقة بين...؟

- 1- الزعامة الشعبية وتولية محمد علي الحكم.
- 2- المماليك وحملة فريزر.
- 3- الحملة الفرنسية على مصر والتاريخ
- 4- موقعة أبي قير البحرية وثورة القاهرة الأولى
- 5- نظام الالتزام وأحوال المجتمع المصري خلال الحكم العثماني.

السؤال الثاني : ما النتائج المترتبة على.....؟

- 1- حروب الشام الأولى والثانية . و <sup>مصر على</sup> هزول مصر على <sup>إلى</sup> أعالي الفرات -
- 2- موقعة أبي قير البحرية أغسطس ١٧٩٨م . <sup>تحطم الأسطول الفرنسي</sup> تحطم الأسطول الفرنسي <sup>في</sup> لافنة المجال <sup>من</sup> وتضييقه
- 3- خضوع مصر للحكم العثماني عدة قرون . عزله <sup>و</sup> نهوضه <sup>في</sup> لافنة المجال <sup>من</sup> وتضييقه
- 4- انقسام القيادات الشعبية المصرية حول تقدير مكانة السيد عمر مكرم . عزله <sup>و</sup> نهوضه <sup>في</sup> لافنة المجال <sup>من</sup> وتضييقه
- 5- عقد الدول الأوروبية معاهدة لندن ١٨٤٠م بالنسبة لمحمد علي <sup>انقسامها</sup> انقسامها <sup>ب</sup> نفوذ محمد علي <sup>في</sup> لافنة المجال <sup>من</sup> وتضييقه
- 6- حروب محمد علي في شبه الجزيرة العربية ( ١٨١١-١٨١٩م) . سطر على <sup>شبه الجزيرة العربية</sup> شبه الجزيرة العربية <sup>في</sup> لافنة المجال <sup>من</sup> وتضييقه

السؤال الثالث: اختر الاجابة الصحيحة مما بين الأقواس:

- 1- أكثر من تضرر من سياسة محمد علي الاقتصادية هم .....  
(الصناع - البدو - التجار - طوائف الحرف)
- 2- العزلة التي فرضتها الدولة العثمانية على مصر أثرت بشكل أكبر على الحياة .....  
(العسكرية - الاجتماعية - الاقتصادية - الثقافية)
- 3- سعت بريطانيا في مطلع القرن ال٩م إلى تولية حكم مصر لحلفائها من .....  
(المماليك - المصريين - العثمانيين - الفرنسيين)
- 4- تعتبر بداية النهاية للحملة الفرنسية في مصر .....  
(ثورة القاهرة الأولى - ثورة القاهرة الثانية - معركة أبي قير البحرية - معركة أبي قير البرية)
- 5- أول مواجهة بين المماليك والحملة الفرنسية كانت في .....  
(إمبابة - الإسكندرية - الصعيد - شبراخيت)
- 6- انتقلت خلافة العالم الإسلامي عام ١٧١٧م إلى الدولة .....  
( المملوكية - الصفوية - العثمانية - العباسية )
- 7- فشل أول تفاوض عثماني فرنسي في مصر بداية القرن ال١٩ بسبب .....  
(الحكومة البريطانية - المماليك - الشعب المصري - روسيا)
- 8- اكتسب حي بولاق زمن محمد علي أهمية .....  
(عسكرية ودينية - ثقافية واجتماعية - اقتصادية ودينية - عسكرية وثقافية)
- 9- قام محمد علي بتطهير ..... من القرصنة.  
(البحر الأحمر) - البحر المتوسط - قناة السويس - الخليج العربي
- 10- سمح الفرنسيون بدخول القوات العثمانية إلى قلب القاهرة في عهد .....  
(نابليون - كليبر - مينو - نلسون)

السؤال الرابع: ما العلاقة بين...؟

- 1- الزعامة الشعبية وتولية محمد علي الحكم.
- 2- المماليك وحملة فريرز.
- 3- الحملة الفرنسية على مصر والتاريخ المصري القديم.
- 4- موقعة أبي قير البحرية وثورة القاهرة الأولى.
- 5- نظام الالتزام وأحوال المجتمع المصري خلال الحكم العثماني.

# تاريخ x جغرافيا

Aml

- السؤال الرابع ما العلاقة بين؟

1) النزعة الشعبية وتولية محمد علي الحكم؟  
اجتمع زعماء الشعب في دار المقامة وقرروا عزل خورشيد باشا وتولية محمد علي الحكم 13 مايو 1805م

2) المماليك وحملة فريزر؟  
جاءت حملة فريزر فريزر مع اجل توليه تابعها المملوك محمد بك الألفي وعزل محمد بك

3) الحملة الفرنسية على مصر والتاريخ المصري القديم.  
التشرف علماء الحملة الفرنسية بحجر رشيد وفك رموز الكتابات المصرية القديمة الذي ادى اليه التعرف على التاريخ المصري القديم.

4) موجة أي غير البحرية وثورة القاهرة الأولى؟  
أدى حرق حصار على الشواهد المصرية مع قبل الجيش / الاستطول الانجليزي وقطع الامدادات عن الحملة الى قراها نابليون الهزائب الباطنة على الشعب المصري ونسب جنود الحملة لليوت مما ادى الى قيام الثورة

5) نظام الاثرام وأحوال المجتمع المصري فلان حكم العثماني؟  
أدى الى تدهور الزراعة والمجتمع المصري بسبب ظلم اهلنزمين

السؤال الخامس

دليل تاريخيا على صحة العبارة؟

1) انقسام المجتمع المصري تحت الحكم العثماني الى فئتين؟  
- فئة القلام من الاتراك والمماليك ولان لهم كافة السلطات.  
- فئة المحكومين؟

طبقة وسطى تضم المشايخ وعلماء الأزهر - رجال الدين - كبار التجار.  
طبقة دنيا الكثرية الفلاحين - مهجار الحرفيين - عامة الناس.

2) ترك نابليون مصر والافطار تهدد الحملة الفرنسية؟  
ترك نابليون الحملة والافطار تهدد ما قتل تناقها عدد الجنود  
- ارسال الحملة جديدة مع قبل السلطان العثماني لطر والحملة  
- عودة مقاومة المماليك

- تجدد ثورات المصريين في الشرعية ووسط الدلتا

Aml 4

[٣] حاولت إنجلترا التخلُّص من محمد علي بالطرق السلمية والعسكرية؟  
بالطرق السلمية بتحريرها السلطان العثماني لنقل محمد علي فارج  
مهر ولكننا فشلت  
فأرسلت حملة عسكرية بقيادة فرديناند ليزر لعزل محمد علي وتولية محمد بك  
الأفندي.

[٤] فرضت الزعامة الشعبية إرادتها على السلطان العثماني في مطلع  
القرن الـ ١٩ م.

عندما أرسل السلطان العثماني فرمان ١٨٠٦م بعزل محمد علي رفعت  
زعماء الشعب ووقفوا بجوار محمد علي وتمسكوا به لذلك رنج  
السلطان العثماني لهم وقام بتثبيت محمد علي على حكم مصر.

الأسبوع ..... التاريخ / /

الفترة الأولى ( عهد إبراهيم باشا - عهد محمد سعيد باشا الأول )

◀ الأداء الصفي :

1 اقرأ وأكمل،

1- أمامك جدول يوضح بعض المشروعات القومية في مصر في العصر الحالي ضع أمام كل منهم أحد المشاريع المشابهة التي تمت في عهد خلفاء محمد علي .

المشروع الآن	المشروع المشابه في عهد خلفاء محمد علي
تبطين الترع	تطوير ترعة المحمودية
إنشاء القطار الكهربائي السريع	إنشاء قناة السويس الحديد
حفر قناة السويس الجديدة	حفر قناة السويس
إنشاء المتحف المصري الكبير	إنشاء دار الأوبرا

تاريخ x جغرافيا

Aml

2- أكمل المخطط التالي :



الوحدة الرابعة : مصر والزحف الاستعماري ومحاولات التحرر الوطني

أدى ذلك إلى تمديد الطريق أمام إنشاء شركة عالمية لعمر قناة  
 1- قارن واجب السوييس وبدء تنفيذ المشروع بالفعل واستغلاله لمدة طويلة للمبالغ ليستص  
 1- قارن بين كل من :

عهد عباس باشا الأول	عهد محمد سعيد باشا
اللائحة بالمثل والمواهب والانتفاء منوطا لسلامة أحمد	
توقفت شركة النهضة في عهد	شهدت البلاد تقدم ما في عهد

- 2- ما رأيك في : إلغاء محمد سعيد باشا لديوان المدارس ونشده على إنشاء مدارس  
 أجنبية في مصر؟ فتح الباب أمام التعليم الأجنبي وأعمال التعليم المصري وتأثره
- 3- ما الأثر الناتج عن : منح سعيد باشا لفرديناند ديليسين عقد الامتياز الأول لقناة السويس؟
- 4- ماذا كان يحدث إذا لم يتم إصدار اللائحة السعيدية؟ لم يكون للتجار الا حق في توريد

الأداء المنزلي (الواجب) : عباس باشا

- 1- لمن ينسب العمل التالي، أصلح الطريق البري بين القاهرة والسويس؟
- 2- ما رأيك في شروط حفر قناة السويس؟ شروط صحفية وإقامة كبرى مع موقع  
 في القناة
- 3- ما العلاقة بين عصر سعيد باشا وبداية الأزمة المالية في مصر؟  
 (الاعتماد على ديون أمثال أجنيس وتقدم أول دين عام 1876م)

الفترة الثابتة (عهد الخديو إسماعيل) : استعان مع المراسين على حساب الإفراط المهرج

الأداء الصفي : اكتب وسجل

1- أحصل الشكل التخطيطي التالي وسجل أهم إنجازات الخديو إسماعيل في كل مجال  
 من المجالات الآتية:

مجال الزراعة	مجال التعليم	مجال العمران	تعليم الجبال المصرية للبريد للمبالغ المختلفة @ الاشراف على
تربة الإبراهيمية قناطر على النيل	دار الكتب الجمعية الجغرافية	قصر عابدين دار الأوبرا المصرية	تعمير الدون لأعمالها 2- بم تفسر : إنشاء صندوق الدين عام 1876م؟ الإفراط

- 2- ما النتائج المترتبة على : إنشاء الخديو إسماعيل المحاكم المختلطة 1875م؟ لا جدوى مساوئ  
 وجه الخديو إسماعيل لملاحة شريعة إلى الأقاليم الاستوائية
- 4- ما العلاقة بين : الخديو إسماعيل والمناطق الاستوائية؟ سجدت مع تجارة الرقيق  
 الموسع في الجنوب والسيطرة على مياه النيل

الأداء المنزلي (الواجب) : اللهم بتسليم الجيش وتسليحه ومضاعفة كوته

- 1- بم تفسر : تطور الجيش في عهد الخديو إسماعيل؟ لا تأرجح بين الميل لفرنسا  
 لم يتيسر تغذيتهم في قلب البلاد - هم منهم الوجهة الغربية
- 2- دلل تاريخيا : لم تكن حلفاء محمد علي : على شاكلته من حيث القوة والوعي؟ بريطانيا - العثمانيين

3- ما النتائج المترتبة على : عزل الخديو إسماعيل الوزيرين الأجنيس  
 غضبت انجلترا وفرنسا وهنأت لجزل الخديو إسماعيل عليه فلم يصر 1879م  
 وعزلته السلطان العثماني بناء على رغبهم  
 الفصل الدراسي الأول

أعمال مجلس تشوي السنوات 1878  
أدول نظام لاورارة المسئولة 1878

وفتح أول دستور في مصر عرف باللائحة الرسامة  
دليل على صحة العبارة الثانية، كانت فترة حكم الخديو إسماعيل بداية تاريخ المؤسسات  
النيابية في مصر

التقييم الأسبوعي

التاريخ 1 / 1

نموذج (أ)

أقام الخديو إسماعيل العديد من  
الحفلات لإفتتاح القناة وأفتتح  
عليها بفتح فترات الأزمات المالية.  
1- اختر الإجابة الصحيحة من بين (أ - ب - ج - د).  
- تم إنشاء الجمعية الجغرافية في عهد

(ب) الخديو إسماعيل

(أ) عباس الأول.

(ج) سعيد باشا.

(د) الخديو توفيق.

2- بم تفسر، اتباع الخديو إسماعيل سياسة الافتراض؟  
3- ما العلاقة بين، افتتاح قناة السويس والأزمة المالية في مصر؟  
4- حدد مدى صدق العبارة التالية، ارتبطت علاقة الخديو إسماعيل بالدولة العثمانية  
بمصالحة الشخصية التي كسح فكره قبل جعل وراثته العرش في كبر أبنائه هو وزير  
لعهده الخديوي لذلك العبارة صحيحة

نموذج (ب)

1- اختر الإجابة الصحيحة من بين (أ - ب - ج - د).

- أحد مظاهر النهضة العمرانية في عهد الخديو إسماعيل هو  
العقود - الجسور والكباري

(أ) حفر ترعة الإبراهيمية زراعية

(ب) إنشاء مصنع السكر

(ج) إنشاء دار الكتب  
(د) مد خطوط التلغراف وسائل الاتصال

2- ماذا كان يحدث إذا لم، تطور الخديو إسماعيل الجيش والنهضة  
عرب الخديو إسماعيل مع الحكومة البريطانية كعهد موفى كفاً لدراسة 1870م  
3- بم تفسر، إرسال بعثة كيف 1875م  
4- دليل تاريخياً، اهتمام الخديو إسماعيل بعلم الجغرافيا  
لنفوذ مصر إلى كامل البحر الأحمر  
مصرم تقدم مقترحات لعمارة فارسان بعثة المستر كيني

نموذج (ج)

1- اختر الإجابة الصحيحة من بين (أ - ب - ج - د).

- تم إعادة فتح ديوان المدارس في عهد .....

(أ) عباس الأول.

(ج) سعيد باشا.

(ب) الخديو إسماعيل

(د) الخديو توفيق.

تاريخ جغرافيا  
Ami

2- حدد وجه الشبه والاختلاف بين: المحاكم القنصلية - المحاكم المختلطة.

3- ما العلاقة بين: الخديو إسماعيل والحياة النيابية في مصر؟

4- دليل تاريخياً: ازدياد النفوذ المصري في إفريقيا فترة حكم الخديو إسماعيل.

- ارسل بعثات للأقاليم الاستوائية بهدف منع تجارة الرقيق

- التوسع في الجيوب

والسيطرة على مياه النيل  
الوحدة الرابعة: مصر والزحف الاستعماري ومحاولات التمدد الوطني  
والسيطرة على مياه النيل

تعرف قناة  
لشمال الخديوي

Table with 2 columns and 3 rows: باشا, سعيد, محمد

بناء مدارس  
ونافذة  
بويس  
بيت

موقع  
القناة  
المصرية

مجال

أولى  
التي

تأمين

# الحرارة الوطنية والثورة العراقية

قارن

المذكورة المشتركة الثانية  
رغبة بريطانيا وفرنسا في مساندة الخديو  
امام العسكرين  
كالميت بإقالة وزارة البارودي

المذكورة المشتركة الأولى  
رغبة بريطانيا وفرنسا في تقوية  
مركز الخديو وتوقيع هذه القرلة  
الوطنية

الجناد عرابي  
نتائجها زيادة التدخل الأجنبي  
تشكيل وزارة وعين عرابي وزير حرب

لعدم تفهم مجلس النواب مناقشة الميزانية  
رغبتهم في حل مجلس النواب  
فتح باب استقالة الخديو

دليل تاريخيا رفض الخديو توفيق للتدخل الأجنبي؟  
حيث أعاد نظام المراقبة الثنائية

رفضه اللائحة الأساسية (الدستور) لمجلس النواب.  
وضع نفسه تحت حمايته إنجليزا وفرنسا بإسناد الوزارة الى ربابنا باشا

ما النتائج المترتبة على فادنت قصر النيل يناير ١٨٨١م  
ترتب على ذلك استجابته الخديو توفيق لمطالب الضباط فقام  
بعزل عثمان رفق وتعيين محمود سامي البارودي بدلاً منه  
طافرا للجهاديين

ماذا كان يحدث إذا رفض الخديو توفيق مطالب الوطنيين  
في ٩ سبتمبر ١٨٨١م؟

لم تستطع حكومة ربابنا باشا المستعدة - لم يتم تشكيل مجلس  
نواب على النسق الأوروبي كما لم يزيد عدد الجيش  
لم يعين شريك باشا للوزارة فلما لربابنا باشا

تاريخ جغرافيا  
Ami

الأداء المترجم

بهم تفسر إهراء شريك باشا على عدم مناقشة الميزانية في  
مجلس النواب؟

لكي يتجنب الإهراءم بالذول الأوروبي

ما النتائج المترتبة على سوء الأحوال الاقتصادية في عهد  
ربابنا باشا؟

قيام ثورة عرابي (طشحة) مظاهرة عماليدين و شروع عرابي و  
الوق الوطنيين الى ساحة عماليدين لمعالجة الخديو وتقديم طلب

عزل ربابنا باشا

□

ماذا كان يحدث إذا لم تقع الثورة العراقية ؟

- استمرار التدفق الأجنبي في مصر و سوء الأحوال الاقتصادية والبطالة المعنودة والضياع المهرسين
- استمرار تدفق الأرباح الاقتصادية والإيمان والناظر مسيرة تشكيل القيادة السياسية الدستورية .

دليل تاريخيا للثورة العراقية أسباب اقتصادية وعسكرية ؟

- اقتصادية تتمثل في سوء أحوال مصر الاقتصادية في عهد وزارة رياض باشا .
- عسكرية :- اضطهاد عثمان رفقي باشا ناظر الجهادية للقبائل المهرسين وعدم ترقية قيتهم .

رتب الأزمات التاريخية :-

- 1- 1- تولى الخديو توفيق العلم
- 2- مؤتمر الأستانة
- 3- 4- معركة كفرالزار
- 4- 5- معركة التل الكبير
- 5- 6- نفي عماد لسيان

م ٤٩

معركة التل الكبير	معركة كفرالزار
<p>الاسباب استخدام القوات المهرية بقيادة مراد وولئكهم المتطوعين لهم وجهات الانجليز .</p> <p>نجمت بريطانيا في جعل السلطان العثماني يملك صهيان عماد مما أدى الى انهيار الروح المعنوية للمهرسين</p> <p>النتائج</p> <p>- هزيمة الجيش المهرية</p> <p>- احتلال مصر 1882</p>	<p>الاسباب استخدام القوات المهرية بقيادة مراد ووجهات القوات البريطانية و منحهم من التقدم نحو القاهرة</p> <p>النتائج</p> <p>فشل الانجليز في التقدم نحو القاهرة و تتركهم نحو منطقة قناة السويس</p>

ماذا كان يحدث إذا لم تقم الثورة العراقية ؟  
 - استمرار التدخل الأجنبي في مصر و سوء الأحوال الاقتصادية والبطالة  
 المعنود و الضباط المحرسين  
 استمرار تدهور الأوضاع الاقتصادية والإفئاعية وتأخر مسيرة تشكيل القيادة  
 النيابية الدستورية .

دليل تاريخيا للثورة العراقية أسباب اقتصادية وعسكرية ؟  
 - اقتصادية تنقل في سوء أحوال مصر الاقتصادية في عهد وزارة  
 باشا باشا .  
 - عسكرية :- اضطراب عثمان رفقي باشا ناظر الجهادية للضباط  
 المحرسين وعدم قريتهم .

رتب الأحداث التاريخية :-

- ١-٥ - تولي الخديو توفيق العلم
- ٢-٥ - مؤتمر الأستانة
- ٣-٥ - معركة كفر الوار
- ٤-٥ - معركة القل الكبير
- ٥-٥ - نفي عماد السيلان

٤٩

معركة القل الكبير	معركة القل الكبير
<p>الاسباب استخدام القوات المصرية بقيادة عماد عثمان وطولتهم المتطوعين لهم وجهات الانجليز .          - نجحت بريطانيا في جعل السلطان العثماني يملك صهيان عماد مما أدى الى انهكان الروح المعنوية للمحرسين</p> <p>النتائج          - هزيمة الجيش المصري          - اهلال مصر ١٨٨٤</p>	<p>الاسباب استخدام القوات المصرية بقيادة عماد عثمان والقوات البريطانية و منحهم من التقدم نحو القاهرة</p> <p>النتائج          فشل الانجليز في التقدم نحو القاهرة و تفرهم نحو منطقة قناة السويس</p>

## ٣٦ كتاب التقييمات

٥) بم تفسر عقد مؤتمر الأستانة؟

للنظر في المسألة المهرية بعد انهيار الأعراف الأحوال بسبب الثورة العراقية ومطالبة كوشة الأوفياء وحماية مصالح الدول الأوروبية.

٣) ما النتائج المترتبة على فداع وليسيبس لأحمد عرابي؟

- ١- عيود القوات البريطانية قناة السويس دون مقاومة.
- ٢- وصول الإنجليز إلى الإسكندرية بسهولة وكي التل الكبير.
- ٣- هزيمة الجيش المهرية في التل الكبير ١٨٨٢ وافتلال مصر.

## الاداء المنزلي

٤) أقر ١- لم يقر عرابي في إقامة تحيينات في الإسكندرية بسبب  
٢- الثقة في ديليسيبس

٤) بم تفسر اهدار الأخذ وتوفيق قرارا بجزل عرابي من وزارة

المهرية يوليو ١٨٨٢؟

بسبب رفض عرابي طلبات الأخذ والمتصلة في التل مع استعداداته  
المهرية و العهور لسراي قصر التل فالتهم عرابي بمحاولة  
البريطانية

٣) رتب الوزراء ترتيباً زمنياً من القديم للحدث

١- وزارة رياض باشا ٢) شريف باشا

٣) وزارة محمود سامي البارودي ٤) وزارة راجب باشا

٤) ما النتائج المترتبة على الخلق الذي وقع في الإسكندرية في ١١ يونيو

١٨٨٢ من أحد الأجناب والمهرية؟

اتخذت بريطانيا الاحداث ذريعة لفتح الإسكندرية يوليو ١٨٨٢  
تمهيدا لافتلال مصر فيما بعد من نفس العام - ايقاع قتال الدول  
الدول الأجنبية بعصه كدتها الأوفياء

## التقييم لمودج (١)

١) كان الخلاف بين شريف باشا ومجلس النواب يتلخص في —

|| مناقشة الميراثية ||

٤) بم تفسر توالف ديليسيبس مع قيادة الجيش البريطاني ضد أحمد عرابي؟

لانه أراد حماية امتيازات قناة السويس وكان يخشى ان تؤدي  
تحرك الجيش بقيادة عرابي او انتصاره الى فقدان امتيازات قناة  
السويس لذلك انجاز الانجاز للإنجليز

٣) ما النتائج المترتبة على امدار السلطان العثماني منشورا بإعلان عصيات احمد عرابي؟

- أدى الى اضعاف الروح المعنوية للمقاتلين المصريين .  
٤) ماذا كان يحدث إذا انتصر احمد عرابي في معركة التل الكبير؟  
كانت فشلت القوات البريطانية في الاتجاه الى القاهرة  
ولم تحتل مصر .

(يفوض ب منه)

٥) دفلت القوات الانجليزية القاهرة بعد معركة التل الكبير  
٦) ما رأيك في مطالبات العديد من اشراف عرابي بالاستسلام للقوات  
البريطانية في معركة التل الكبير؟

كان فطاكبير منهم فلا يدهم القتال لأفر نفس ، كان من الممكن  
الماقة تقدم الانجليز الى القاهرة وحصنهم في الاسكندرية والقناة  
والقناة

٧) ماذا كان يحدث إذا استطاع احمد عرابي تعطيل الملاحة في قناة  
السويس؟ لم تسهل القوات البريطانية العبور  
ولم تحدث معركة التل الكبير وتأخير اقتلال مصر .

٨) بم تفسر فشل الثورة العرابية «مهم»  
٩) عدم تلاقؤ القوة العسكرية بين قوات الاقتلال البريطاني و  
القوات المصرية .

١٠) كواهلؤ إدارة ثورة قناة السويس مع قيادة الجيش البريطاني .

١١) امدار السلطان العثماني منشورا بإعلان عصيات عرابي  
١٢) عدم ادراك قيادة الثورة العرابية لأهمية التعبئة الشعبية لصدده  
القوات المصرية .

١٣) ميول بعض عناصر القوات المصرية للعدو والبريطانيين .

١٤) الظرف الدولية ١٨٨٢ لم تكن في صالح الفرقات الوطنية .

٣) ما النتائج المترتبة على إهدار السلطان العثماني منشورا بإعلان عصيات أحمد عرابي؟

- أدى إلى إضغاث الروح المعنوية للمقاتلين المصريين .  
٤) ماذا كان يحدث إذا انتصر أحمد عرابي في معركة التل الكبير؟ كانت فشلت القوات البريطانية في الاتجاه إلى القاهرة ولم تحتل مصر .

(نموذج ب منه)

٥) دخلت القوات الإنجليزية القاهرة بعد معركة (التل الكبير) ١٢ هارايك في مطالبته العديدة أنصار عرابي بالاستسلام للقوات البريطانية في معركة التل الكبير؟

كان فظاً كبير منبهم فلا يدهم القتال لو فر نفعي ، كان من الممكن انما قد تقدم الانجليز الى القاهرة وحصرهم في الاسكندرية والقناة والقتاة

٦) ماذا كان يحدث إذا استطاع أحمد عرابي تعطيل الملاحة في قناة السويس؟ لم تسهل القوات البريطانية العبور ولم تحدث معركة التل الكبير وتأخير اقتلاد مصر .

٧) بيم تفسر فشل الثورة العرابية «مهم»  
٨) عدم تلافؤ القوة العسكرية بين قوات الاصلاح البريطاني و القوات المصرية .

٩) كوا هو إدارة شركة قناة السويس مع قيادة العيش البريطاني .

١٠) إهدار السلطان العثماني منشورا بإعلان عصيات عرابي

١١) عدم إدراك قيادة الثورة العرابية لأهمية التعبئة الشعبية لمساندة القوات المصرية .

١٢) ميول بعض عناصر القوات المصرية للعدو والبريطانيين .

١٣) الظرف الدولية ١٨٨٢ لم تكن في صالح الفرقاء الوطنيين .

## نموذج [ج] هـ

١١) حدث فراغ في منصب الوزارة بعد  
لا ارسال المذكرة المشتركة الثانية ١١ مايو ١٩٥٢م

١٢) ما تقييمك ل عدم محاذراك قيادة الثورة العراقية لوجهات  
التعبئة الشعبية في مساندة القوات المصرية ؟  
يعتبر أحد الأخطاء التي أهدمت الثورة العراقية وسببت فشلها .  
لان الشعب هو السند الحقيقي

١٣) ما رأيك لو كنت ظابطاً في جيش عراقى ماذا كنت تفعل لمنع  
تقدم القوات البريطانية للقاهرة بعدم عزل كفر الدوار ؟  
- تعطيل حركة الملاحة في قناة السويس فوراً  
- عدم الثقة في أى عنصر أجنبي

١٤) ما النتائج المترتبة على فشل الثورة العراقية ؟

- ١- اقتلال مصر ١٩٥٢م
- ٢- اعتقال زعماء الثورة العراقية وكلامهم أيديها ما عدا الخطيب  
الثورة عبد الله اللديم
- ٣- المهزلة الحقة العسكرية كتم باعدام قادة الثورة
- ٤- تم تخفيف الحكم للنفس المؤبد ومهادرة أملاكهم

تاريخ جغرافيا  
Aml

تاريخ جغرافيا  
Aml

## الدرس الثالث - الكفاح الوطني ضد الاحتلال البريطاني - ١ -

هذه

مهم في كامل

١

واقلا ملاح

أهم الأعمال التي قام بها :

١- وجوه قطبه ومقالاته للمهريين لمحاربة الأسيه

٢- طالب بالدهستور (١٩٠٠) زسب حرية اللواء ١٩٠٠ م

٣) أعلنت تأسيس الحزب الوطني ١٩٠٧ (٥) دعا لإنشاء جامعة مصرية

فارج مهر

١) رفض استفاقية الحكم الثنائي للسودان

٢) عرف الرأي العام العالم والعوة الدولية بحقوق مهر بالاستقلال

٣) استغل حادثه دنشواى ١٩٠٦ للتنديد بالاحتلال البريطاني

٢) بم نفسى

١

تخلى فرنسا عن مساندة مهر في كامل !

بسبب عقدتها الاتفاق الودى مع انجلترا ١٩٠٤، والذى

بينها على انفراد انجلترا بحكم مهر مقابل انفراد فرنسا بحكم

مرآة

٢

تدهور الحياة النيابية بمهر عقب الاحتلال البريطاني ؟

أعلنت سلطات الاحتلال البريطاني مجلس النواب وأنشأت

مجالس مهورية لاسلطة لها مثل مجلس شورى القوافين

الجمعية العمومية - الجمعية التشريعية .

٣

اتصال مهر في كامل بالقوى الدولية ؟

حتى يعرف الرأي العام الأوروبى والقوى الدولية وثى مقدمتها فرنسا

بحق مهر فى الاستقلال ورفضها للاحتلال وسياساته .

تاريخ جغرافيا  
Ami

اول

مراه

← أهمل الاحتلال البريطاني التعليم .

حيث جعله بمهر وفات مرتفعة وشهرة فى فئة قليلة بيدى

تفريغ مجموعة من الموظفين للعمل فى المصالح الحكومية

← ٢

11

عملت بريطانيا على فرض سياستها الاقتصادية فخدم مصالحها؟  
حيث قامت بـ P - التوسع في زراعة القطن لتوفير المادة الخام اللازمة  
للمصانع البريطانية.

١٤) محاربة المهناعة المصرية يتسوية المنتجات البريطانية  
١٥) ما العلاقة بين الاقلال البريطاني والحياة النيابية في مصر؟  
حدث تدهور في الحياة النيابية في مصر بسبب الاقلال البريطاني  
لانه قام بإلغاء مجلس النواب المنتخب وانشأت مجالس  
مصرية لا سلطة لها.

١٥) ما النتائج المترتبة على تكذيب مظهر في كامل يجادته ونشواي؟  
أدى إلى استقالة اللورد كرومر المعتمد البريطاني في مصر

١٦) اكتب جواباً وافصلاً مع التمهيد

- عقب الاقلال البريطاني لمصر أصبحت السلطة الفعلية في  
يد الانجليز ( فقط ) في يد المعتمد البريطاني  
- قول مظهر في كامل قيادة الحركة الوطنية في أواخر القرن  
التاسع عشر الميلادي ( جواب )

١٧) الأداء المنزلي

ما النتائج المترتبة على؟

- السياسة الاقتصادية للاقلال البريطاني في مصر؟
- قررت ظهور طبقة من كبار الملاك والأعيان تستفيد من هذه  
السياسة ويرتبها نموها الاقتصادية باستمرار بقاء الاقلال.
- تدهور الاقتصاد المصري عامة.
- عقد الاتفاق الودي بين إنجلترا وفرنسا؟
- تخلى فرنسا عن مساندة مظهر في كامل
- استفاء إنجلترا بقلم مصر

تاريخ جغرافيا  
Ami

١٨) دلل تاريخياً على صحة العبارة

قول مظهر في كامل الفكرة الوطنية بعد أن أقدم الاقلال فيهنته  
على البلاد!

- أقدم الاقلال البريطاني فيهنته على البلاد بتدفقة في الحكم فأصبح الحاكم  
الفعلي المعتمد البريطاني قام بإلغاء الدستور ومجلس النواب  
وانكح سياسة اقتصادية أدت إلى تدهور الاقتصاد والتعليم  
فتولى مظهر في كامل الفكرة الوطنية فتأدى بال دستور  
وأسست الفرزب الوطني ودعا إلى انشاء جامعة مصرية

١٩

١٥) ~~الاحتلال~~ آتت ما تشير إليه العبارة

- محمول توسعت سلطاته الاحتلال البريطاني في زراعتك بمصر لتو غير المادة الدفاع للازمة للمصانع البريطانية (العقود)

١٦) **مارتنيلك في**

السياسة الاقتصادية للاحتلال البريطاني في مصر!  
لانت سياسة خبيثة ظالمة تكمن في لظهور الاقتصاد المصري لمصالح بريطانيا

الفترة الثانية (لا محمد فريد)

تاريخ جغرافيا

Aml

١٢) أهم أعمال التي قام بها الزعيم محمد فريد

- طالب بإنشاء مجلس نيابي له سلطات واسعة

- طالب بإنشاء نقابات عمالية

- دعا إلى إنشاء مدارس الشعب الليلية لتعليم العمال والفقراء مجاناً

- دعا إلى جعل التعليم إلزامياً وباللغة في المرحلة الابتدائية

- نجح بتأييد من الرأي العام في رفض الحكومة المصرية طلب

شركة قناة السويس تمديد عقد الامتياز في عام ١٩١٤

إلى من تنسب الأعمال الآتية

١٣)

١- توليه رئاسة الحزب الوطني بعد مصطفى كامل (محمد فريد)

٢- التحول الذي تحولت عنه وزارة القارة الوطنية إلى وزارة

الاقتلال أوائل القرن العشرين الميلاديه (عباس حلمي الثاني)

١٣) **دليل تاريخياً على**

- توليه محمد فريد رئاسة الحزب الوطني في ظروف شعبية؟

حيث تحول الحزب وعباس حلمي الثاني عن تأييد الحركة الوطنية

إلى موالة الاحتلال

- استفاد محمد فريد من الدعم الشعبي في كفايته له من امتياز

شركة قناة السويس؟

حيث نجح بتأييد من الرأي العام في إجبار الحكومة المصرية

على دعوة مجلس تشوري القوانين والجمعية العمومية لمناقشة

طلب شركة قناة السويس في هذا الامتياز في عام ١٩١٤ وأدى ذلك

إلى رفض الحكومة المصرية لطلب الشركة

هذه اذ كان محمد خير اذا :-

لم يعارض محمد خير مشروع هذا امتياز قناة السويس ،  
لكان تم هذا الامتياز اربعين عاما افرجه بموافقته الخدم و  
مواكب الامم فقط مع التمسويين

١- اهتم الرعيين محمد خير بمحو امية العمال والفقراء (مواكب)  
٢- طالب مظهر في كامل بإنشاء تقانات للعمال  
الشمويين محمد خير

الاداء المتروك موع

١) يم تفسر دعوة محمد خير لإنشاء مدارس الشعب الليلية ؟  
من اجل تعليم ومحو امية العمال والفقراء مجانا لان التعليم  
وقبل ان يكون يعلم رفات بالهظة

٢) ما النتائج التي تترتب على معارضة محمد خير مشروع هذا امتياز  
قناة السويس ؟

وقبل المشروع بتبعية نجاح محمد خير بتأييد شعبي لا يمتنع  
الحكومة والمجالس النيابية ورفضت الحكومة المشروع

٣) حدد اوجه الشبه بين دور مظهر في كامل ومحمد خير بالنسبة  
للتعليم

للاشياء اهتم بالتعليم حيث طالب مظهر في كامل بإنشاء الجامعة المصرية  
والتي اُنشئت عام ١٩٦١م جامعة القاهرة حاليا  
دعا محمد خير لإنشاء المدارس الليلية لتعليم الفقراء والعمال مجانا  
وما الى جعل التعليم الزامي مجانا في المرحلة الابتدائية .

٤) دلل على صحة العبارة تولى محمد خير رئاسة الحرب الوطنية في  
البروقية .

حيث تتحول الخدم عباس حلمي الثاني من تأييد الحركة الوطنية  
الى تأييد ومواراة الاقتل فأصبح محمد خير يجاهد هذا التناهي .

تموج (١)

يم تفسر دخلي فرنسا عن مساندة مظهر في كامل ؟  
بسبب عقدتها الاتفاق الودي مع انجلترا عام ١٩٠٤م الذي يبيده  
على انفراد انجلترا يقلم مصر وفرنسا يقلم مصر الكس

قد هور احوال التعليم في مصر خلال عهد الاقتل البريطاني ؟

اهمل الاقتل التعليم حيث جعله بمهورات مرتفعة ودوره في  
فشل قلبه من اجل تخرجه مجموعة من الموظفين للعمال في المباح الحكومية

(٤)

١٢٦) دال تاريخيا على -

- عملت بريطانيا على ابقاء الجيش المصري .

- انشأ الانجليز على ضمتها مصر لاي تجاوز عدده ستة آلاف جندي يتولى قيادته هياكل انجليزية وصوتت اقرار الامن وحفظ النظام فقط
- اتجه محمد فريد الى الكفاح ضد الاحتلال البريطاني والحدوي في آن واحد
- لام الحدوي عباس حلمي الثاني تتحول منه تأكيد العزة الوطنية الى صواله الافلال .

١٢٧) افترا الامانة - - - -

فهدى الزعيم - لمشروع هه امتياز قناة السويس في سنة افري ( محمد فريد )

نموذج (ب)

١٢٨) اى من كنفب الأعمال الآتية :-

- زعيم وطني طالب بال دستور وأهدر جريده اللواء . مهطفى كامل
- دعا الى رفض اتفاقية القلم الثنائي للسودان مهطفى كامل
- دعا الى جعل التعليم إلزاميا وباللجان في المرحلة الابتدائية محمد فريد
- طالب بإنشاء مجلس نيابي له سلطات واسعة وإنشاء نقابات العمال محمد فريد

١٢٩) الاتفاق الودى :-

اتفاق عقد بين انجلترا وفرنسا عام ١٩٠٤م ومن على انفراد انجلترا بقلم مصر مقابل انفراد فرنسا بقلم مرآلش .

تاريخ جغرافيا  
Aml

نموذج (ج)

١- وفتح

- ١- موقع مهطفى كامل من فادنة ونشواى عام ١٩٠٦م .
- استغل مهطفى كامل فادنة ونشواى في التنديد بالاحتلال البريطاني وسياسته القومية مما أدى الى استقاله اللورد كرومر .
- ٥- أهم قرارات مهطفى كامل الدافلية والقارية ضد الاحتلال البريطاني

دافلية

- وجه قطابه ومقالته للمصريين
- للمدنا على الوحدة الوطنية
- طالب بالدستور - أسس جريده اللواء
- اعلن انشاء حزب الوطنى ١٩٠٧م
- دعا الى انشاء اجامعة
- المصرية

قارية

- رفض اتفاقية القلم الثنائى للسودان
- تمسك الرأى العام الأوروبى والدولى عن مصر فى الاستقلال
- استغل فادنة ونشواى في التنديد بالاحتلال البريطانى ولدى الى استقاله اللورد كرومر