


السلطان

الدراسات الإجتماعية

الصف الثالث
الإعدادي



إعداد
محمد بن فتحى



012 000 28 345

النشاط الزراعي وموارده في العالم

فهم الماضي:

- اتجه الإنسان بفطرته نحو إشباع حاجاته من مأكّل ومشرب ومسكن لاستمرار حياته فمارس العديد من الأنشطة الاقتصادية البدائية مثل: (الصيد - الزراعة - الرعي - تربية الحيوان).
- مع مرور الزمن زاد عدد السكان وتنوعت أنشطتهم وتطورت حتى وصلت إلى النشاط الصناعي المتطور والذي يتركز في معظم دول العالم المتقدم.

أولاً النشاط الزراعي وأهميته

* عرف الإنسان الزراعة منذ نحو ٥٠٠٠ سنة وعرف معها الاستقرار على ضفاف الأنهار.

بم تفسر: الزراعة من الأنشطة الأساسية في العالم؟

كحلّ لها: (١) مصدر رئيسي لغذاء الإنسان بجانب الأسماك والحيوانات.

(٢) يرتبط بها تربية الحيوان.

(٣) مصدر للمواد الخام الزراعية اللازمة لبعض الصناعات مثل:

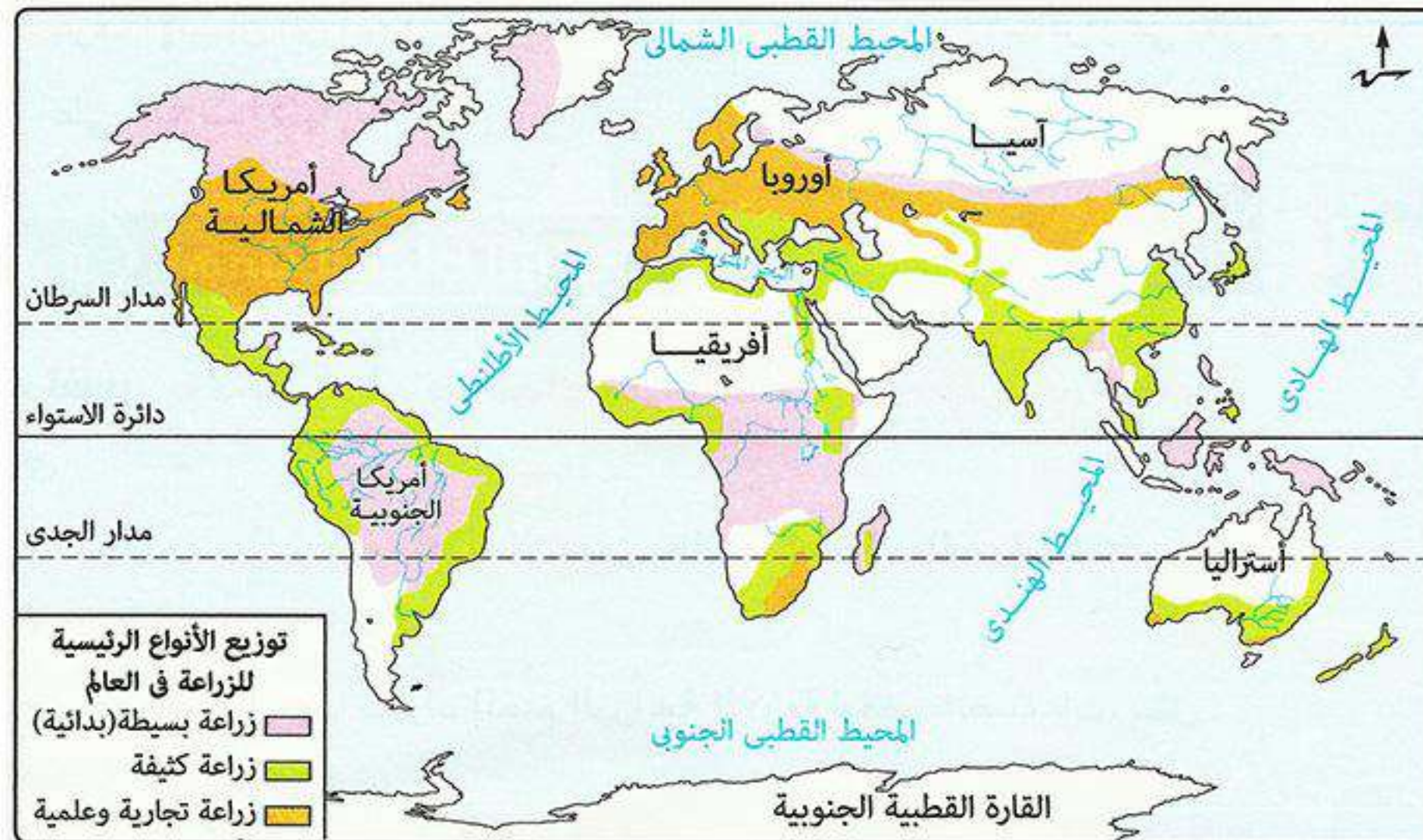
• الألياف (قطن - كتان - جوت): تدخل في صناعة المنسوجات.

• المطاط الطبيعي: يدخل في صناعة إطارات السيارات.



ثانياً المناطق الزراعية الأساسية في العالم وأنواع الزراعة بها

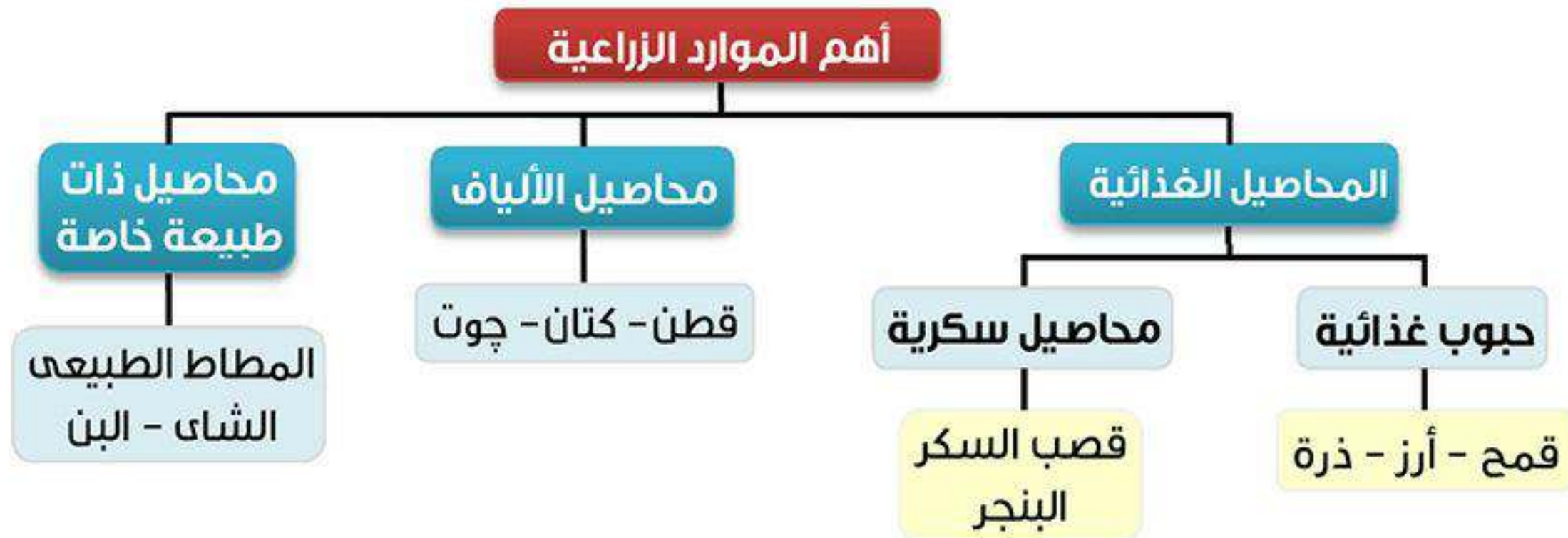
* تنقسم الزراعة إلى نوعين رئيسيين هما:



الزراعة المتقدمة		الزراعة البسيطة (البدائية)	الخصائص
الزراعة التجارية والعلمية (الزراعة الواسعة)	الزراعة الكثيفة		
<p>(١) تتم في مزارع واسعة في نطاقات محددة.</p> <p>(٢) تخصص في زراعة محصول معين بهدف الإنتاج التجاري الضخم.</p> <p>(٣) يستخدم فيها أحدث الآلات الزراعية والطرق العلمية الحديثة مما أدى إلى: قلة التكاليف وقلة عدد العمال.</p>	<p>زراعة الأرض أكثر من مرة في العام الواحد لإشباع حاجة السكان المحليين من الغذاء (للاستهلاك المحلي فقط) توجد عادة في المناطق كثيفة السكان.</p> <p>(١) صغر مساحة الحقول الزراعية مما أدى إلى: صعوبة استخدام الآلات والميكنة الزراعية.</p> <p>(٢) تتطلب أيدي عاملة وفيرة: لأنها تتم من خلال عمليات عديدة مثل: (بذر الحبوب والرى وتلقيح الحشائش).</p> <p>(٣) زراعة الأرض بأكثر من محصول في العام الواحد.</p>	<p>(١) ضيق المساحة المزروعة وتباعدها عن بعضها البعض.</p> <p>(٢) يقوم بها عدد قليل من السكان.</p> <p>(٣) يستخدم فيها أدوات بدائية بسيطة.</p> <p>(٤) تمارس لتوفير الاحتياجات الغذائية للسكان المحليين دون وجود فائض للتصدير.</p>	
<p>(١) جنوب شرق آسيا: في مزارع الشاي والمطاط.</p> <p>(٢) أمريكا الشمالية: خاصة في الولايات المتحدة في مناطق زراعة القمح والقطن.</p> <p>(٣) أوروبا: في مناطق زراعة القمح.</p>	<p>المناطق الحارة والمعتدلة.</p>	<p>في مناطق صغيرة ومعزلة كما في:</p> <ul style="list-style-type: none"> المناطق الحارة على هوامش الغابة الاستوائية. بعض مناطق حشائش السافانا. 	الامتداد
قمح - قطن - شاي - مطاط	قمح - أرز - قطن	الذرة - الموز - اليام - الكسافا	المحاصيل



ثالثاً الموارد الزراعية في العالم



المحاصيل الغذائية

أ الحبوب الغذائية

الذرة	القمح	
		
تستخدم علف للحيوانات.	يُعتبر غذاء رئيسي لمعظم سكان العالم، ويصنع منه الخبز والمكرونة والحلويات.	الأهمية
* تُنتج في معظم قارات العالم. • قارة أمريكا الشمالية: هي أولى القارات المنتجة للذرة، ويستخدم معظم الإنتاج علف للماشية وتصدر جزء منه للخارج.	* يُنتج في كل قارات العالم. • قارة آسيا: هي أولى القارات المنتجة للقمح وأهم دولها في إنتاج القمح: - الصين: هي أولى دول العالم في إنتاج القمح. - الهند: هي ثاني دول العالم في إنتاج القمح.	أهم القارات والدول المنتجة

ب المحاصيل السكرية

البنجر	قصب السكر	
		
هو المحصول الثاني لإنتاج السكر في العالم.	هو المحصول الرئيسي (الأول) لإنتاج السكر في العالم.	الأهمية
يحتاج إلى: حرارة معتدلة.	■ يحتاج إلى: حرارة مرتفعة ومياه وفيرة. * لذلك يزرع في المناطق المدارية الحارة في كل قارات العالم عدا قارة أوروبا لأنها تقع في المنطقة المعتدلة.	ظروف الزراعة
■ تتركز زراعته في: • أوروبا: أهم دولها فرنسا. • أمريكا الشمالية: أهم دولها الولايات المتحدة. } ملائمة المناخ والتربة الزراعية * أكبر الدول المنتجة له في قارة أفريقيا: مصر.	- البرازيل: هي أولى دول العالم إنتاجاً لقصب السكر.	أهم القارات والدول المنتجة

أهم الدول المنتجة للسكر هم:

(١) البرازيل. (٢) الهند. (٣) الصين.

٢ محاصيل الألياف



القطن

<p>- محصول مدارى هام لانتاج الخيوط التى تستخدم فى صناعة أجود الملابس والمنسوجات.</p> <p>- مصدر لاستخراج زيت بذرة القطن وصناعة الأعلاف.</p>	الأهمية
<p>- آسيا: أولى القارات إنتاجاً (تنتج ثلثى الإنتاج) أهم دولها: الصين - الهند.</p> <p>- أمريكا الشمالية: ثانى القارات إنتاجاً.</p> <p>- أمريكا الجنوبية: ثالث القارات إنتاجاً.</p> <p>- أفريقيا: رابع القارات إنتاجاً، أهم دولها: مصر - السودان.</p>	أهم القارات والدول المنتجة

بم تفسر: القطن فى مصر والسودان من أجود أنواع القطن فى العالم ؟
كحلان: معظمه من أنواع القطن طويل التيلة.

٣ محاصيل ذات طبيعة خاصة

١ المطاط الطبيعي يستخرج من عصارة أشجار استوائية.



المحصول	المطاط الطبيعي
الأهمية	يصنع منه إطارات السيارات ويدخل فى صناعات أخرى.
أهم القارات والدول المنتجة	١) قارة آسيا: هى أولى القارات المنتجة للمطاط وأهم دولها: تايلاند: هى أولى دول العالم فى إنتاج المطاط. ٢) قارة أفريقيا: هى ثانى القارات المنتجة للمطاط.

ب الشاي أشجار دائمة الخضرة.



المحصول	الشاي
موطنه الأصلى	شرق آسيا.
ظروف الزراعة	- مناخ حار. - هواء رطب. - أمطار غزيرة. - تربة خصبة خفيفة.
أهم الدول المنتجة	الصين: هى أولى دول العالم فى إنتاج الشاي.

الاختبار الأول

أكمل:

- (١) الزراعة من الأنشطة الأساسية لأنها المصدر الرئيسي الإنسان ويرتبط بها
- (٢) تنقسم الزراعة إلى نوعان هما : و.....
- (٣) اليام والكسافا والذرة و..... من محاصيل الزراعة
- (٤) الزراعة تعتمد على أيدي عاملة وفيرة لأنها تتم من خلال عمليات عديدة والرى وتنقية
- (٥) تخصص الزراعة في زراعة محصول واحد بهدف الإنتاج التجارى الضخم.
- (٦) يقل الإعتماد على الأيدي العاملة في الزراعة لأنها تعتمد على
- (٧) من محاصيل الزراعة التجارية والعلمية القطن والقمح و..... و.....
- (٨) تنقسم المحاصيل الغذائية إلى و.....

بم تفسر:

- (١) يقل الإعتماد على الأيدي العاملة وتقل التكاليف في الزراعة التجارية؟
- (٢) تخصص الزراعة الواسعة في زراعة محصول واحد؟
- (٣) تحتاج الزراعة الكثيفة إلى أيدي عاملة وفيرة؟
- (٤) يعتبر النشاط الزراعى من الأنشطة الأساسية في العالم؟
- (٥) يعتبر القطن المصرى من أجود أنواع القطن في العالم؟
- (٦) تعتبر قارة أوروبا من أهم القارات في إنتاج السكر من البنجر؟

ضع علامة (✓) أو (×) مع التصويب:

- () (١) يعمل بالزراعة الكثيفة عدد قليل من السكان لتوفير الاحتياجات الغذائية للسكان.
- () (٢) تقوم الزراعة التجارية والعلمية بهدف سد حاجة السكان من الغذاء.
- () (٣) تتميز الزراعة الكثيفة بأنها تقوم في حقول صغيرة المساحة.
- () (٤) تقوم الزراعة البدائية في المناطق الحارة والمعتدلة على هوامش الغابات الاستوائية.
- () (٥) تقوم الزراعة الواسعة في جنوب شرق آسيا وتخصص في زراعة الشاي والمطاط.
- () (٦) أولى القارات في إنتاج القمح هي أمريكا الشمالية ويستخدم كعلف للحيوانات.

ما النتائج المترتبة على:

- (١) ضيق مساحة الحقول الزراعية في مناطق الزراعة الكثيفة؟
- (٢) استخدام الآلات الزراعية والطرق العلمية الحديثة في الزراعة التجارية؟

- قارن بين:** (١) الزراعة البسيطة والزراعة الواسعة من حيث: (الخصائص - أماكن الانتشار - أهم المحاصيل).
- (٢) القمح والذرة من حيث: (أهم القارات المنتجة - الإنتاج العالمى - الاستخدام).

اختر الإجابة الصحيحة:

- (١) أولى الدول المنتجة للقمح هي. (الهند - الصين - الولايات المتحدة - أستراليا)
- (٢) أولى القارات في إنتاج الذرة هي. (آسيا - أفريقيا - أوروبا - أمريكا الشمالية)
- (٣) من أهم محاصيل الزراعة الكثيفة. (الشاي - المطاط - القمح - الذرة)
- (٤) تنتشر الزراعة الواسعة في أوروبا حيث يزرع. (القطن - الشاي - المطاط - القمح)

الاختبار الثاني

أكمل:

- (١) من محاصيل الحبوب الغذائية و..... و.....
- (٢) من الدول المنتجة للقمح في آسيا و.....
- (٣) قارة هي أولى قارات العالم في إنتاج البنجر وأهم دولها المنتجة له
- (٤) أولى قارات العالم إنتاجاً للذرة هي وتستخدم الإنتاج للماشية وتصدر جزء منه للخارج.
- (٥) أهم دول العالم المنتجة لقصب السكر وهي أولى الدول المنتجة
- (٦) من أهم الدول المنتجة للقطن في آسيا و وفي أفريقيا و
- (٧) يحتاج الشاي لزراعته مناخ وهواء وأمطار غزيرة وتربة

بم تفسر:

- (١) تركز زراعة البنجر في قارة أوروبا؟
- (٢) أهمية محصول القطن؟
- (٣) يعتبر القطن في مصر والسودان من أجود أنواع القطن في العالم؟
- (٤) زراعة الأرض بأكثر من محصول في العام الواحد في مناطق الزراعة الكثيفة؟

اكتب ما تدل عليه الأرقام الآتية:



- (١) نوع الزراعة السائدة في هذه المنطقة
- (٢) أولى الدول المنتجة للقمح
- (٣) أولى الدول المنتجة لقصب السكر
- (٤) رابع قارات العالم إنتاجاً للقطن

ضع علامة (✓) أو (×):

- () (١) تحتاج زراعة الشاي إلى تربة خصبة خفيفة ومناخ حار وهواء رطب.
- () (٢) تركز زراعة القطن في قارة أوروبا وتعد الصين والهند من أكبر الدول المنتجة له.
- () (٣) تسود الزراعة الكثيفة في المناطق الحارة على هوامش الغابات الاستوائية.
- () (٤) تعد الصين والهند أولى دول العالم إنتاجاً للقمح والقطن.
- () (٥) تخصص مناطق الزراعة الواسعة في أمريكا الشمالية في زراعة الشاي والقطن.

قارن بين: (١) قارة آسيا وقارة أمريكا الشمالية من حيث: (أهم المحاصيل التي يتم إنتاجها في القارة وأهم الدول المنتجة لها).

- (٢) القصب والبنجر من حيث: (ظروف الزراعة - الأهمية - أهم القارات المنتجة).
- (٣) الزراعة الكثيفة والزراعة الواسعة من حيث: (أماكن الانتشار - أهم المحاصيل).

اختر الإجابة الصحيحة:

- (١) ثالث الدول المنتجة للسكر هي.
 - (٢) أولى القارات في إنتاج المطاط هي.
 - (٣) أهم الدول المنتجة للشاي هي.
 - (٤) تعد أولى دول العالم إنتاجاً للقمح.
- (الهند - الصين - الولايات المتحدة - البرازيل)
 (آسيا - أفريقيا - أوروبا - أمريكا الشمالية)
 (الهند - الصين - تايلاند - السودان)
 (الصين - اليابان - المغرب - كندا)

الرعي والثروة الحيوانية والسمكية في العالم

* يرتبط نشاط الرعي بمناطق الحشائش في العالم: • الحشائش القصيرة (الاستبس). • الحشائش الطويلة (السافانا).

أولاً أنواع نشاط الرعي في العالم ينقسم نشاط الرعي إلى:

الرعي التجاري	الرعي البدائي (التقليدي)	
<ul style="list-style-type: none"> - رعي يمارس في مناطق حشائش السافانا والاستبس. - يعتمد على الأساليب العلمية الحديثة. - يتم فيه تربية حيوان المرعى لإنتاج اللحوم والألبان، ويرعى كل نوع من الحيوانات في مزارع خاصة به دون اختلاط بحيوانات الأخرى. 	<ul style="list-style-type: none"> - رعي يمارسه سكان المناطق الصحراوية في مساحات واسعة في قارات العالم. 	يقصد به
<ul style="list-style-type: none"> • أمريكا الشمالية: في منطقة حشائش الاستبس (البراري) بالولايات المتحدة الأمريكية. • أمريكا الجنوبية: في الأرجنتين. • أستراليا. 	<ul style="list-style-type: none"> • الصحاري الحارة في: <ul style="list-style-type: none"> - شبه الجزيرة العربية وبادية الشام (آسيا). - شمال أفريقيا. • دول وسط آسيا (في الصحاري المعتدلة). • صحاري التندرا الباردة (شمال آسيا وأوروبا). 	يتركز فيه

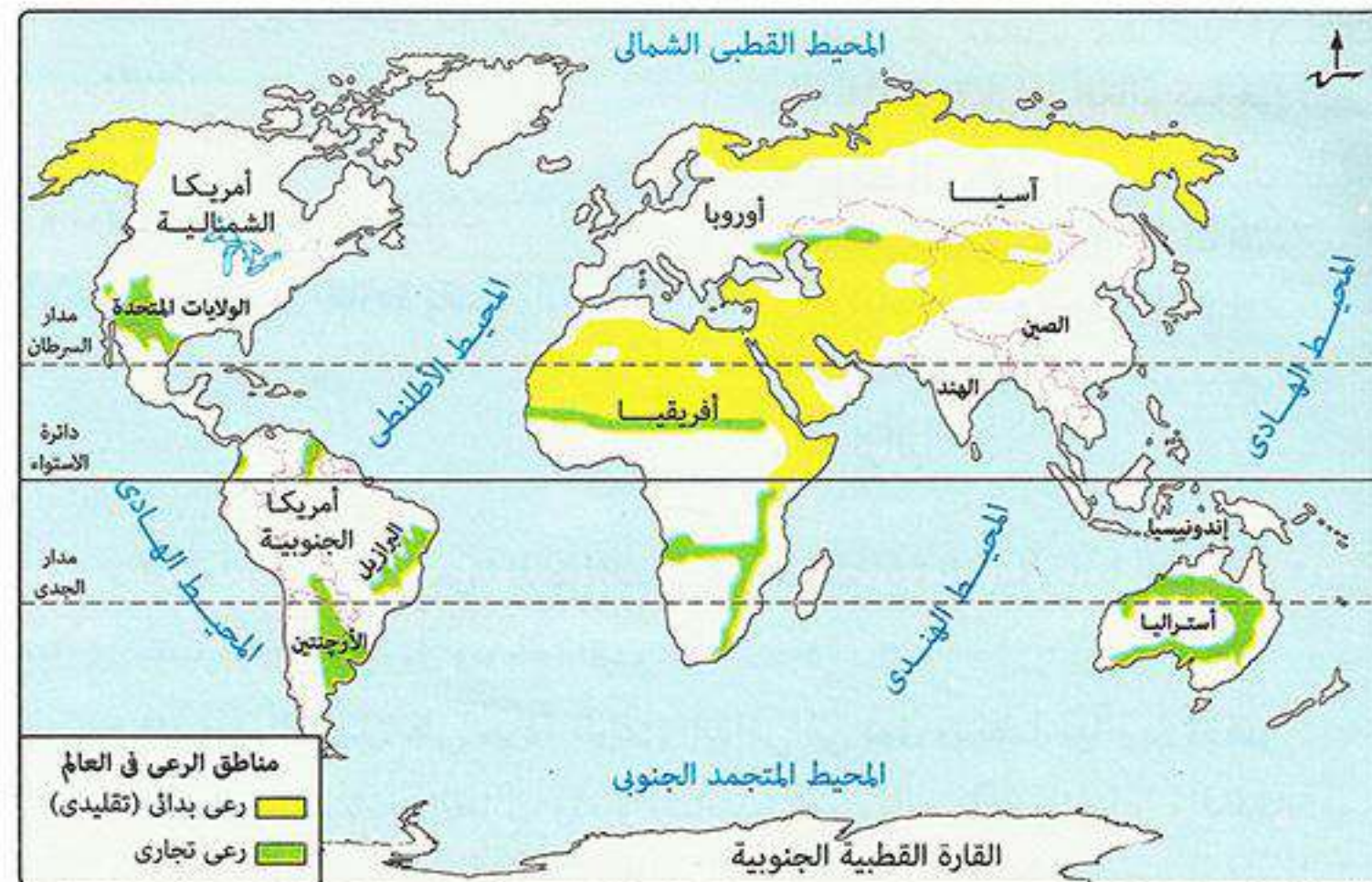


بم تفسر: قلة عدد القائمين بحرفة الرعي في شبه الجزيرة العربية وبادية الشام؟

كـ بسبب: تدفق البترول وتوطين البدو.

بم تفسر: قلة عدد القائمين بحرفة الرعي في دول وسط آسيا؟

كـ بسبب: انتشار التعليم بين القبائل، وتغيير نشاطهم للعمل بالزراعة والصناعة والخدمات.



ثانياً الموارد الحيوانية في العالم

١ الحيوانات

* الثروة الحيوانية هي المصدر الرئيسي لإنتاج اللحوم والألبان والصوف والجلود وغيرها من المنتجات.

الأغنام	الأبقار	أهميتها
- تربي من أجل الحصول على لحومها وأصوافها.	- تعد المصدر الرئيسي للحوم الحمراء لغالبية سكان العالم وتدخل بنسبة كبيرة في التجارة الدولية.	أهميتها
* ترتبط تربيتها بالمراعي التجارية الواسعة وتتركز في: • الصين: أولى دول العالم. • الهند. • أستراليا.	• قارة آسيا: هي أولى قارات العالم وأهم دولها: الهند. • قارة أمريكا الجنوبية: هي ثاني قارات العالم.	أهم القارات والدول المربية

* هناك حيوانات رعى أخرى مثل:



توجد في صحارى
التندرا الباردة

المنتجات الحيوانية

الجلود	الأصواف	الألبان	اللحوم الحمراء	أهميتها
تقوم عليها صناعة دباغة الجلود وتصنيعها في شكل منتجات جلدية متعددة.	يعتبر صوف الأغنام مادة خام أساسية لصناعة نسيج الصوف.	ثاني منتج رئيسي بعد اللحوم الحمراء. * مصر: تنتج نحو ٦ مليون طن ألبان ولا تكفى حاجة لسكان.	- هي المنتج الحيواني الرئيسي. - يدخل منها ٨٪ في التجارة الدولية.	أهميتها
	(١) أستراليا: لوجود أغنام المارينو التي تشتهر بغزارة الصوف. (٢) الصين.	(١) الهند. (٢) الولايات المتحدة.	(١) الصين: معظم إنتاجها من لحوم الخنازير. (٢) الولايات المتحدة.	أهم الدول المنتجة

بم تفسر: ازدياد معدل استهلاك اللحوم في العالم؟

كهبسبب: ارتفاع مستوى المعيشة في كثير من دول العالم.

بم تفسر: إنتاج مصر من الألبان لا يكفى حاجة السكان؟

كهبسبب: زيادة السكان وزيادة الاستهلاك.



٢ الدواجن

أهميتها	تساهم في سد حاجة السكان من الغذاء بتوفير (اللحوم - البيض).
أهم الدول المنتجة	(١) الولايات المتحدة: هي أولى دول العالم. (٢) الصين: هي ثاني دول العالم.

٣ الأسماك



أهميتها	غذاء رئيسي لكثير من سكان العالم خاصة في المناطق الساحلية على البحار والمحيطات.
العوامل التي تساعد على تطور حرفة صيد وتربية الأسماك	عوامل طبيعية (١) ضخالة المياه الساحلية وغناها بالمواد الغذائية. (٢) التقاء التيارات البحرية الدافئة مع التيارات الباردة. (٣) توافر الموانئ لرسو سفن الصيد. عوامل بشرية (٤) توافر الخبرات العلمية والفنية في صناعة مراكب وأدوات الصيد والثلاجات. (٥) التوسع في تربية الأسماك على أسس علمية حديثة.
مناطق صيد الأسماك	تنتشر مناطق الصيد على سواحل القارات التي يتوافر بها العوامل الطبيعية والبشرية مثل: • سواحل شمال غرب أوروبا. • سواحل أمريكا الشمالية. • سواحل قارة آسيا. • سواحل أمريكا الجنوبية.
الإنتاج العالمي	• نصف الإنتاج: يأتي من أسماك المياه المالحة (بحار - ميحطات). • ثلث الإنتاج: يأتي من مزارع تربية الأسماك. • باقى الإنتاج: يأتي من أسماك المياه العذبة (أنهار وبحيرات عذبة).
أهم الدول المنتجة للأسماك	(١) الصين: تنتج أكثر من ثلث إنتاج العالم من: - مصائد على المحيط الهادى. - الأنهار والبحيرات ومزارع تربية الأسماك. (٢) إندونيسيا. (٣) الولايات المتحدة الأمريكية.
الدول المصدرة	(١) الصين. (٢) النرويج. (٣) تايلاند.

بم تفسر: الصين وإندونيسيا والولايات المتحدة من أولى الدول المنتجة للأسماك ؟
كسبب: طول السواحل على البحار والمحيطات و تقدم وسائل الصيد.

الحياتان

توجد في: المحيطات ويتم صيدها للاستفادة من شحومها ولحومها



الرخويات

مثل السبيط



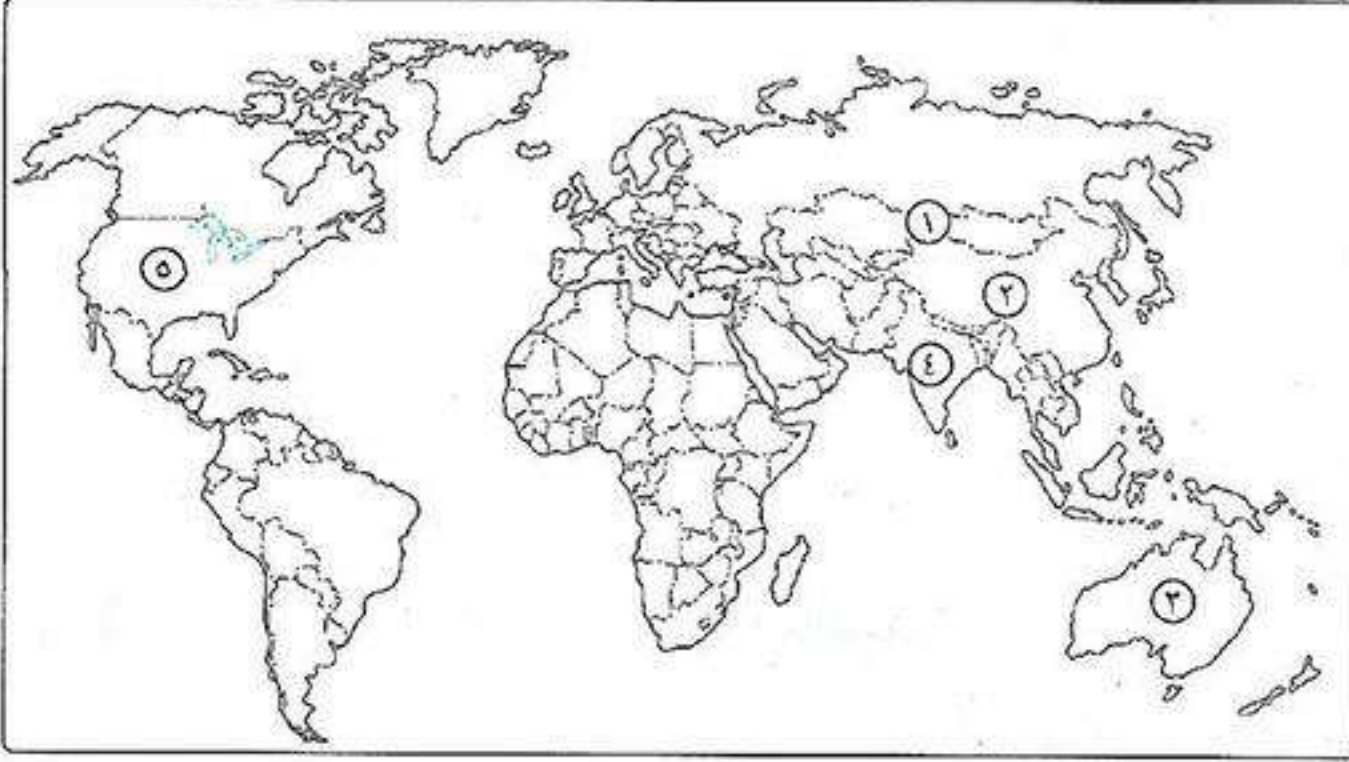
قشريات

مثل الجمبرى



■ هناك أحياء مائية أخرى مثل:

أسئلة عامة علم الدرس



أكتب ما تشير إليه الأرقام الآتية:

- (١) قارة أولى القارات في تربية الأبقار.
- (٢) دولة أولى دول العالم في إنتاج اللحوم.
- (٣) دولة أولى دول العالم في إنتاج الصوف.
- (٤) دولة أولى دول العالم في إنتاج اللآلبان.
- (٥) دولة أولى دول العالم في إنتاج الدواجن.

بم تفسر:

- (١) تنتج إندونيسيا كميات كبيرة من الأسماك؟
- (٢) إنتاج أستراليا للصوف بكميات كبيرة؟
- (٣) كثرة استهلاك اللحوم الحمراء على مستوى العالم؟
- (٤) إنتاج مصر للآلبان لا يكفي حاجة السكان؟
- (٥) قلة عدد العاملين بالرعي في وسط آسيا؟

أختر الإجابة الصحيحة:

- (١) الغابات - حشائش السافانا - الصحراء الكبرى.
- (٢) الأرجنتين - الولايات المتحدة - الصين.
- (٣) الصين - الهند - أستراليا.
- (٤) الأبقار - الأغنام - الماعز - الإبل.
- (٥) الصين - أستراليا - الهند - الولايات المتحدة.
- (٦) الهند - الولايات المتحدة - الصين.
- (٧) إندونيسيا - تايلاند - الصين - النرويج.
- (٨) الولايات المتحدة - الصين - إندونيسيا.

- (١) يوجد الرعي البدائي في أفريقيا في منطقة.
- (٢) يوجد الرعي التجاري في أمريكا الشمالية بدولة.
- (٣) أكثر دول العالم تمتلك أبقار.
- (٤) تعد أستراليا من أهم الدول المربية لـ.
- (٥) أولى دول العالم في إنتاج الآلبان.
- (٦) أولى دول العالم في إنتاج الدواجن.
- (٧) أولى دول العالم المصدرة للأسماك.
- (٨) أولى دول العالم إنتاجاً للأسماك.

ضع علامة (✓) أو (×) مع التصويب:

- () (١) ترتبط تربية الخنازير بمناطق الحشائش السافانا والاستبس.
- () (٢) الرعي التجاري يتخصص في تربية حيوان واحد في المناطق الصحراوية الواسعة.
- () (٣) المصدر الرئيسي للحوم لمعظم سكان العالم هو الأبقار.
- () (٤) أكثر إنتاج للأسماك يكون من المياه المالحة.
- () (٥) يتم اصطياد الحيتان من الأنهار ويستفاد من لحومها وشحومها.
- () (٦) يمارس الرعي التجاري في أمريكا الجنوبية بدولة البرازيل.

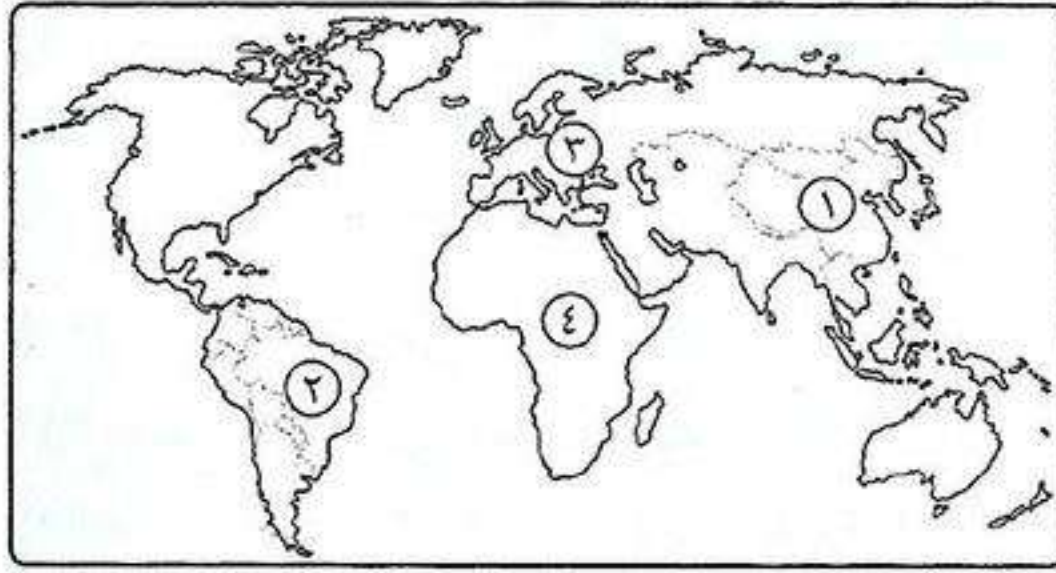
دلل

- (١) هناك عوامل تساعد على تطور حرفة صيد وتربية الأسماك؟

قارن بين

- (١) الرعي البدائي والرعي التجاري.

اختبار

**أكتب ما تشير إليه الأرقام الآتية:**

- (١) أولى دول العالم إنتاجاً للشاي
- (٢) أولى دول العالم إنتاجاً لقصب السكر
- (٣) أولى قارات العالم في إنتاج البنجر
- (٤) ثاني قارات العالم في إنتاج المطاط

بم تفسر:

- (١) يقل الاعتماد على الأيدي العاملة في الزراعة التجارية؟
- (٢) إصدار قانون الإصلاح الزراعي الأول عام ١٩٥٢م؟
- (٣) لم تؤدي معاهدة ١٩٣٦م إلى استقلال حقيقى لمصر؟
- (٤) زراعة قصب السكر في كل القارات ماعدا أوروبا؟
- (٥) قلة العاملين بالرعى في شبه الجزيرة العربية وبادية الشام؟

أكمل:

- (١) الياق والكسافا والذرة و..... من محاصيل الزراعة
- (٢) الزراعة تعتمد على أيدي عاملة وفيرة.
- (٣) يتخصص الرعى في تربية حيوان واحد لإنتاج اللحوم والألبان.
- (٤) أولى دول العالم إنتاجاً للأسمك واللحوم هي ومعظمها لحوم
- (٥) من أسباب قيام ثورة ٢٣ يوليو هزيمة الجيش المصرى والعربى في حرب ١٩٤٨م.
- (٦) من إنجازات ثورة ٢٣ يوليو في مجال الزراعة إنشاء
- (٧) من إنجازات ثورة ٢٣ يوليو في المجال العربى قيام أول تجربة وحدة عربية بين و..... عام ١٩٥٨م.

أجب عما يأتى:

«نجحت ثورة ٢٣ يوليو ١٩٥٢م بتأييد الشعب المصرى»، في ضوء هذه العبارة وضح ما يأتى:

- (١) ثلاثة من عوامل قيام ثورة ٢٣ يوليو ١٩٥٢م؟
- (٢) ثلاثة من أهداف ثورة ٢٣ يوليو ١٩٥٢م؟

دلل:

- (١) فساد النظام الملكى قبل ثورة ٢٣ يوليو ١٩٥٢م؟
- (٢) لم تحقق معاهدة ١٩٣٦م الاستقلال الحقيقى لمصر؟

ما العلاقة بين:

- (١) حرب فلسطين وثورة ١٩٥٢م؟
- (٢) التقدم العلمى والرعى التجارى؟

قارن بين

- (١) الزراعة البدائية والزراعة الكثيفة من حيث: (أماكن الانتشار والمحاصيل).

ما المقصود بالمصطلحات الآتية:

- (١) الزراعة الكثيفة.
- (٢) عدم الانحياز.

النشاط التعدينى فى العالم

النشاط التعدينى

هو عملية استخراج المعادن ومصادر الطاقة (فحم - بترول - غاز طبيعى) من باطن القشرة الأرضية أو بالقرب من سطح الأرض.

* يرتبط النشاط التعدينى بوجود الخام (المعادن أو مصادر الطاقة) بكميات كبيرة بالقرب من المراكز الصناعية حيث يتم نقله من المناجم إلى المصانع.

■ هناك عمليات تسبق التعدين:

(١) البحث والكشف عن الخامات (المعادن أو مصادر الطاقة).

(٢) إعداد المنجم لعملية الاستخراج والتعدين مثل: (مد الخطوط الحديدية والطرق - إنشاء مساكن للعاملين).

* بعد ذلك تتم مرحلة الإنتاج والنقل والتوزيع.

أولاً الموارد المعدنية

* تحتوى القشرة الأرضية على ٢٠٠٠ معدن منها ٢٠٠ معدن فقط هو المعروف على المستوى التجارى والصناعى.

* تستهلك الدول المتقدمة نحو ٨٥٪ من معادن العالم رغم أن بها خمس سكان العالم وذلك لأنها: يتوافر بها الصناعات المختلفة التى تقوم على هذه المعادن.

■ أهم المعادن فى العالم هى: الحديد - النحاس - البوكسيت (خام الألومنيوم) - منجنيز - فوسفات - يورانيوم - ذهب.

١ الحديد



الأهمية	هو أساس العديد من الصناعات مثل صناعة الحديد والصلب.
الإنتاج العالمى	يدخل ٣٠٪ من إنتاج الحديد فى التجارة الدولية حيث تصدره الدول النامية مثل موريتانيا إلى الدول المتقدمة مثل بريطانيا واليابان.
أهم الدول المنتجة	* يوجد فى كل قارات العالم. (١) الصين: أولى الدول المنتجة للحديد. (٢) أستراليا: ثانى الدول المنتجة للحديد.

٢ النحاس



الأهمية	تقوم عليه العديد من الصناعات مثل: الأسلاك - الأدوات الكهربائية.
الإنتاج العالمى	أكثر من ١٨ مليون طن.
أهم الدول المنتجة	(١) شيلي أولى دول العالم إنتاجاً (توجد فى أمريكا الجنوبية). (٢) الصين.

٣ البوكسيت (خام الألومنيوم)



الأهمية	هو الخام الرئيسى لمعدن الألومنيوم.
أهم الدول المنتجة	أستراليا هي أولى دول العالم إنتاجاً.
أهم الدول المصنعة للألومنيوم	- الولايات المتحدة أولى دول العالم إنتاجاً للألومنيوم. - كندا - أستراليا - اليابان.

بم تفسر: توطن صناعة الألومنيوم فى الدول المتقدمة ؟

كولان: صناعة الألومنيوم (تحويل البوكسيت إلى ألومنيوم) تحتاج

إلى عدة مقومات هي: (١) وفرة الطاقة الكهربائية.

(٢) خبرة علمية وفنية متطورة.

(٣) سوق محلية وخارجية تستوعب الانتاج.

* وهذه المقومات لا توجد فى الدول النامية فتقوم بتصديره إلى الدول المتقدمة مثل الولايات المتحدة الأمريكية.

ثانياً مصادر الطاقة (القوة المحركة)

* تعد مصادر الطاقة من الموارد الطبيعية المهمة سواء على مستوى الاستخدامات البشرية المختلفة أو على مستوى الصناعة.

■ أهم مصادر الطاقة هي:

الطاقة الشمسية	طاقة الأمواج وحرارة المد والجزر	طاقة الرياح	الطاقة النووية	الغاز الطبيعي (غاز)	البتترول (سائل)	الفحم (صلب)
				تستخرج من باطن الأرض		

١ الفحم

* كان الفحم عماد الثورة الصناعية فى أوروبا أواخر القرن الـ ١٨ والمصدر الأول للطاقة حتى القرن الـ ٢٠.

تكوينه تكون من بقايا أشجار كانت موجودة منذ ملايين السنين ثم جفت وانطمرت تحت التكوينات الصخرية، ونتيجة للضغط والحرارة تحولت إلى مادة كربونية سوداء هي (الفحم الحجري).

• **البيتوميني:** هو أكثر الأنواع انتشاراً فى الطبيعة وأكثر استخداماً فى الصناعة.

• **الإنثراسيت:** أجود الأنواع ويوجد بكميات قليلة فى الطبيعة.

• **اللجنيت:** أقل الأنواع جودة ويوجد بكميات كبيرة فى الطبيعة.

- مصدر رئيسى للصناعة فى الدول الصناعية الكبرى.

- يستخدم فى توليد الكهرباء.


* يوجد فى كل قارات العالم ويتم إنتاجه فى:

• **آسيا** أهم دولها: - **الصين:** أولى دول العالم إنتاجاً للفحم.

- **الهند:** ثالث دول العالم إنتاجاً للفحم.

• **أوروبا.**

• **أمريكا الشمالية** أهم دولها: **الولايات المتحدة:** ثاني دول العالم إنتاجاً للفحم.



تنتج قارتى آسيا وأوروبا ٢/٣ الإنتاج العالمى.

٢ البترول



تكون نتيجة تحلل كائنات عضوية كانت تعيش فى البحار ثم تجمعت بكميات كبيرة وغطتها رواسب الرمل والطين وتحللت ثم تحولت إلى بترول.

تكوينه

* البترول هو أهم مصادر الطاقة لأنه:

- (١) ينتج منه العديد من المشتقات بعد تكريره مثل: (البنزين - السولار).
- (٢) ترتبط به التنمية الاقتصادية والاجتماعية والعلاقات السياسية حيث يشكل البترول والغاز الطبيعى: يشكلون نحو ٥٥٪ من الطاقة المستخدمة فى العالم.

الأهمية

(١) **السعودية** أولى دول العالم فى الإنتاج، (تنتج ١٣٪ من الإنتاج العالمى).

(٢) **روسيا**: ثانى دول العالم إنتاجاً.

(٣) **الولايات المتحدة**: ثالث دول العالم إنتاجاً.

أهم الدول المنتجة

* بسبب زيادة الطلب على البترول وتعدد استخداماته وإنه قابل للنفاذ فإن أسعاره فى زيادة مستمرة خاصة.

٣ الغاز الطبيعى

عبارة عن غازات موجودة فى باطن الأرض، داخل مسام الصخور، قد توجد بشكل منفصل أو مصاحبة لوجود البترول وعادة ما تعلوه لخفة وزنها.

تكوينه



(١) يمثل نحو ٢٥٪ من مصادر الوقود فى العالم.

(٢) يعد من مصادر الطاقة النظيفة والأقل تلوثاً للبيئة والرخيصة وسهولة النقل **لذلك** توسع العالم فى استخدامه.

(٣) يستخدم فى: - الصناعة على نطاق واسع.

- الاستخدامات المنزلية.

- توليد الطاقة الكهربائية.

- وقود للسيارات بديلاً للبنزين للحد من

تلوث البيئة.

الأهمية

قارة أوروبا: أولى القارات وتنتج ١/٣ الإنتاج العالمى.

أهم القارات المنتجة

* ينتج بكميات كبيرة خاصة فى الدول المنتجة للبترول.

• **الولايات المتحدة الأمريكية** أولى دول العالم إنتاجاً.

أهم الدول المنتجة

"تذكر أن"

* تسهم دول الخليج العربى بنحو ٤٧٪ فى

التجارة الدولية للبترول والغاز الطبيعى.

* يستخدم الفحم والبترول والغاز الطبيعى

فى إنتاج **الكهرباء الحرارية**.

٤ الطاقة النووية

■ يتم إنتاج الكهرباء النووية من المحطات النووية السلمية.

■ أهم القارات المنتجة: (١) **قارة أوروبا**.

(٢) **قارة أمريكا الشمالية**.





٥ طاقة الرياح

- تستخدم فى توليد الطاقة الكهربائية فى بعض الدول المتقدمة مثل:
(١) فرنسا. (٢) بريطانيا. (٣) الولايات المتحدة.
* يتم انتاجها فى خمس دول عربية تتقدمها: مصر ثم المغرب.



٦ طاقة الأمواج وحركة المد والجزر

- تستخدم فى توليد الطاقة الكهربائية فى بعض الدول المتقدمة مثل:
(١) بريطانيا. (٢) فرنسا. (٣) اليابان.
* تستخدم الأمواج وحركة المد والجزر والشلالات والسدود فى توليد الكهرباء المائية (الكهرومائية).



٧ الطاقة الشمسية

- * اتجهت بعض الدول لاستخدام الطاقة الشمسية كمصدر جديد للطاقة النظيفة منها مصر التى أقامت لها محطات لتوليد الكهرباء للاستخدامات المنزلية.

أسئلة



أكتب ما تشير إليه الأرقام الآتية:

- (١) أولى الدول المنتجة لمعدن النحاس
- (٢) أولى الدول المنتجة لمعدن البوكسيت
- (٣) أولى دول العالم المصنعة للألومنيوم
- (٤) أولى دول العالم إنتاجاً للفحم
- (٥) أولى دول العالم المنتجة للبتروكيمياويات
- (٦) أولى قارات العالم المنتجة للغاز الطبيعى والطاقة النووية

بم تفسر:

- (١) أهمية البترول كمصدر من مصادر الطاقة ؟
- (٢) توسع الدول فى استخدام الغاز الطبيعى كبديل لمصادر الطاقة الأخرى ؟
- (٣) استهلاك الدول المتقدمة جزء كبير معادن العالم رغم أن بها خمس سكان العالم ؟
- (٤) الأهمية الاقتصادية للنحاس ؟
- (٥) توطن صناعة الألومنيوم فى الدول المتقدمة ؟

- قارن بين:** (١) الطاقة الأمواج وطاقة الرياح من حيث: أهم الدول المنتجة لكل منها.
(٢) الحديد والبوكسيت من حيث: (الأهمية - أهم الدول المنتجة - الدول المستوردة).

دليل:

- (١) هناك عمليات تسبق التعدين ؟
- (٢) للفحم ثلاثة أنواع مختلفة ؟

اختبار

بم تفسر:

- (١) صعوبة استخدام الميكنة الزراعية في الزراعة الكثيفة؟
- (٢) فشل العدوان الثلاثي على مصر ١٩٥٦ م؟
- (٣) توطن صناعة الألمنيوم في الدول المتقدمة؟
- (٤) الأهمية الاقتصادية للأصواف والجلود؟
- (٥) عدم إمكانية زراعة قصب السكر في أوروبا؟
- (٦) مارس البشر في الماضي العديد من الأنشطة الاقتصادية البدائية؟

أختر الإجابة الصحيحة:

- (١) مؤسس الحركة الصهيونية هو
- (٢) من الدول المستوردة للحديد
- (٣) تنتشر الزراعة البسيطة في المناطق
- (٤) أولى الدول إنتاجاً للبتروك هي
- (٥) أصبح لبريطانيا حق الانتداب على فلسطين وفقاً لمؤتمر
- (٦) من إنجازات ثورة ٢٣ يوليو في المجال الاجتماعي . (تمصير البنوك - استصلاح الأراضي - إنشاء المصانع - جعل التعليم بالمجان)
- (٧) قامت ثورة ١٩٣٦ م بفلسطين برئاسة مفتي القدس . (الشيخ عز الدين القسام - الحاج أمين الحيني - الشيخ أحمد ياسين)

ما النتائج المترتبة على:

- (١) إنشاء السد العالي؟
- (٢) تدفق البترول وتوطن البدو في شبه الجزيرة العربية؟
- (٣) هزيمة الجيوش العربية في حرب فلسطين ١٩٤٨ م؟

ضع علامة (✓) أو (×) مع التصويب:

- () (١) كان عماد الثورة الصناعية في أوروبا أواخر القرن الـ ١٨ هو البترول.
- () (٢) يشكل الفحم مع البترول نحو ٥٥٪ من الطاقة المستخدمة في العالم.
- () (٣) تعد أوروبا أولى القارات المنتجة للغاز الطبيعي وتنتج ثلث الإنتاج.
- () (٤) تعتمد قارة أوروبا على قصب السكر في إنتاج السكر.
- () (٥) تعتبر أستراليا أولى الدول المنتجة للفحم.

قارن بين:

- (١) الحديد والنحاس من حيث: (الأهمية - أهم الدول المنتجة).
- (٢) البترول والفحم من حيث: (التكوين - أهم الدول المنتجة).

دل:

- (١) لتطوير حرفة إنتاج الأسماك لابد من توافر عوامل طبيعية وبشرية؟
- (٢) توجد عدة عمليات تسبق عملية التعدين؟
- (٣) اهتمت ثورة ٢٣ يوليو ١٩٥٢ م بمجال الزراعة؟
- (٤) للفحم ثلاثة أنواع تختلف وجودها وجودتها؟
- (٥) توسع الدول حالياً في استخدام الغاز الطبيعي؟

١ إقليم غرب ووسط أوروبا الصناعية

- * يتوافر في دول أوروبا بشكل عام كل مقومات الصناعة.
- أدت الوحدة الاقتصادية الأوروبية إلى التكامل في الجوانب الاقتصادية (الصناعية والتجارية) بإقليم غرب ووسط أوروبا وحمايتها جمركياً، وتدعيمها من جانب **هيئة الاتحاد الأوروبي**.
- أهم المراكز الصناعية في الإقليم: بريطانيا - فرنسا - ألمانيا.

٢ إقليم شمال شرق الولايات المتحدة الصناعية

- يمتد في شمال شرق الولايات المتحدة واتسع ليشمل منطقة **البحيرات العظمى** ويتكامل مع المناطق الصناعية في **كندا**.
- يعتبر أكبر الأقاليم الصناعية في العالم الجديد **حيث** تطورت الصناعة في هذا الإقليم بشكل كبير لتوافر مقومات الصناعة.
- أهم الصناعات في هذا الإقليم:
 - الصناعات الهندسية: مثل صناعة الإلكترونيات والسيارات والأدوات الكهربائية.
 - الصناعات الخفيفة والاستهلاكية: مثل الصناعات الغذائية والنسيجية وغيرها.

٣ إقليم روسيا وأوكرانيا الصناعية

- يمتد في دولتي: **روسيا - أوكرانيا** في شكل مناطق صناعية متباعدة.
- أهم المراكز الصناعية: • موسكو وما حولها. • إقليم الأورال.

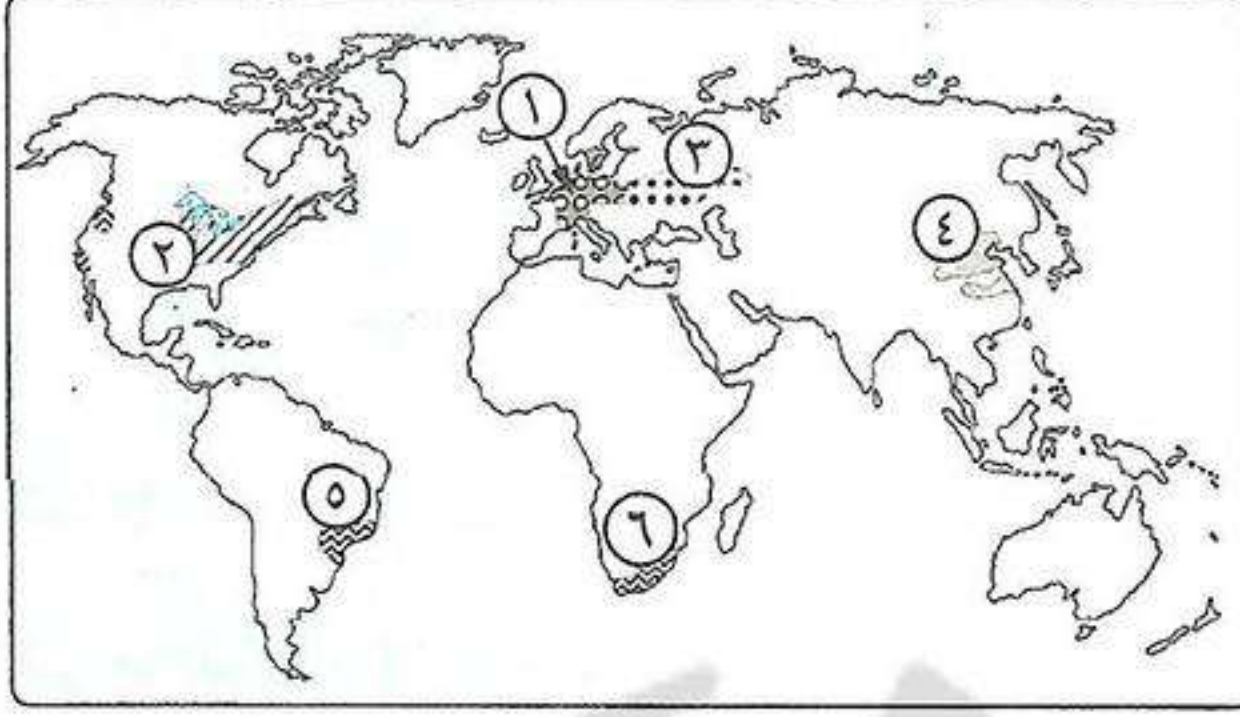
٤ إقليم شرق آسيا الصناعية

- توجد مناطق صناعية في دول هذا الإقليم منها:
 - جزيرة هونشو باليابان.
 - جمهورية كوريا.
 - مناطق صناعية عديدة بالصين.

٥ مراكز صناعية حديثة

- توجد مراكز صناعية حديثة في دول كثيرة في قارات العالم تتوزع كما يلي:
 - الأوقيانوسية: في أستراليا.
 - قارة آسيا: - دول جنوب شرق آسيا: تايلاند - سنغافورة - ماليزيا - إندونيسيا.
 - دول الخليج العربي: تتركز فيها الصناعات البترولية.
 - قارة أفريقيا الشمالية: مصر - جنوب أفريقيا.
 - قارة أمريكا الشمالية: كندا - المكسيك.
 - قارة أمريكا الجنوبية: شيلي - البرازيل - الأرجنتين.

أسئلة عامة علم الدرس



أكتب ما تشير إليه الأرقام الآتية:

- (١) إقليم صناعي
- (٢) إقليم صناعي
- (٣) إقليم صناعي
- (٤) إقليم صناعي
- (٥) مركز صناعي حديث
- (٦) مركز صناعي حديث

أكمل:

- (١) تختلف الصناعة من دولة لأخرى حسب ومدى تركزها و
- (٢) من المقومات الطبيعية للصناعة و
- (٣) من العوامل البشرية لقيام الصناعة و
- (٤) أكبر الأقاليم الصناعية في العالم القديم هو إقليم الصناعي.
- (٥) من الدول التي ارتفعت بمستوى شعوبها في الصناعة مصر و
- (٦) من المناطق الصناعية في إقليم شرق آسيا الصناعي جزيرة باليابان.
- (٧) منطقة الأورال الصناعية تقع ضمن إقليم الصناعي.
- (٨) من أهم المراكز الصناعية في إقليم غرب ووسط أوروبا الصناعي وألمانيا و
- (٩) من المراكز الصناعية الجديدة في أمريكا الجنوبية و شيلي.
- (١٠) من المراكز الصناعية الحديثة في أمريكا الشمالية و

بم تفسر:

- (١) تطور الصناعة تطور مذهل في الدول المتقدمة ؟

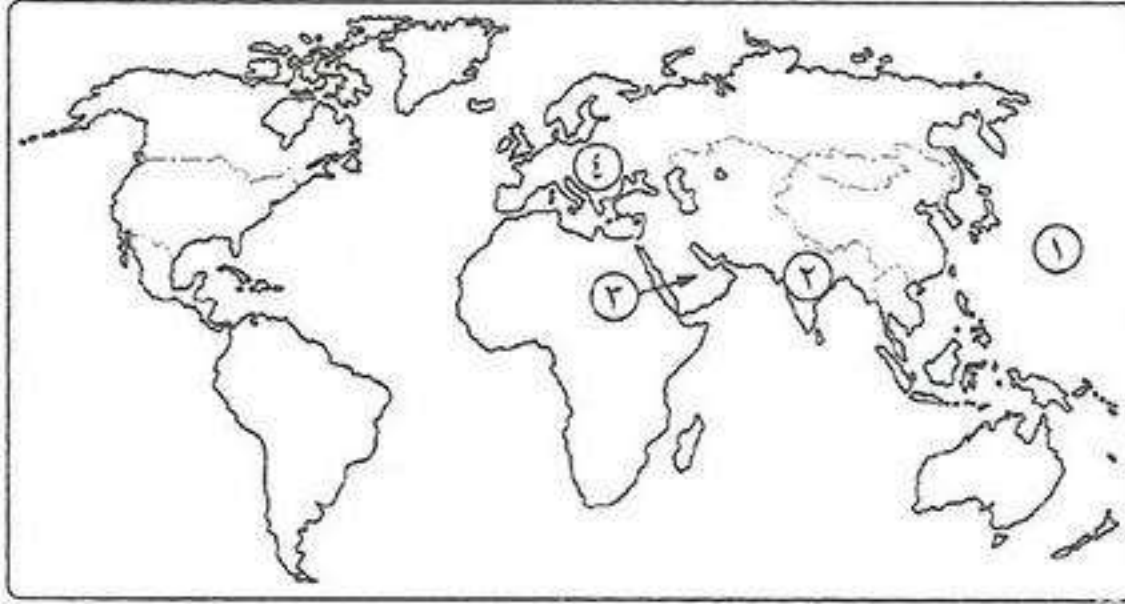
ما النتائج المترتبة على :

- (١) الوحدة الاقتصادية الأوروبية ؟
- (٢) توافر مقومات الصناعة في منطقة شمال شرق الولايات المتحدة ؟

اختر الإجابة الصحيحة مما بين القوسين:

- (١) من المقومات الطبيعية اللازمة لقيام الصناعة (الأيدي العاملة - الأسواق - مصادر الطاقة - رأس المال)
- (٢) من الدول النامية التي ارتفعت بمستوى شعوبها واقتربت من مستوى الدول المتقدمة صناعياً دولة (اليابان - مصر - بريطانيا - روسيا)
- (٣) أكبر الأقاليم الصناعية في العالم الجديد إقليم (غرب ووسط أوروبا - شمال شرق الولايات المتحدة - روسيا وأوكرانيا - شرق آسيا)
- (٤) من المراكز الصناعية الحديثة في قارة أمريكا الجنوبية (البرازيل - فنزويلا - بيرو - كندا)

اختبار

**أكتب ما تشير إليه الأرقام الآتية:**

- (١) المحيط
- (٢) أولى قارات العالم إنتاجاً للألبان
- (٣) أولى دول العالم في إنتاج البترول
- (٤) أولى دول العالم إنتاجاً للبنجر

بم تفسر:

- (١) تحتاج الزراعة الكثيفة أيدي عاملة كثيرة ؟
- (٢) إنشاء القوات المصرية معابر على طول قناة السويس ؟
- (٣) هزيمة الجيش المصري في حرب فلسطين ؟
- (٤) أستراليا هي أولى دول العالم المنتجة للصوف ؟
- (٥) مغادرة الملك فاروق البلاد قبل الموعد المحدد له ؟
- (٦) دخول الجيوش العربية حرب فلسطين ١٩٤٨ م ؟

اختر الإجابة الصحيحة مما بين القوسين:

- (١) قائد خطة خداع إسرائيل في حرب أكتوبر هو . (الفريق سعد الدين الشاذلي - المشير أحمد إسماعيل - الفريق محمد عبد الغنى الجمسى).
- (٢) أولى الدول إنتاجاً للنحاس هي . (شيلي - الولايات المتحدة - الصين).
- (٣) تعتبر دولة أكبر الدول المنتجة للشاي . (البرازيل - الهند - الصين - الولايات المتحدة).
- (٤) أولى الدول إنتاجاً للفوسفات . (جنوب أفريقيا - الولايات المتحدة - الصين).
- (٥) أولى الدول إنتاجاً للمطاط . (الصين - تايلاند - الولايات المتحدة).

وضح ما يلي:

- (١) الأنواع الرئيسية للزراعة مع أماكن انتشار كل منها وأهم المحاصيل التي تزرع.

دل:

- (١) هناك عوامل تساعد على تطور حرفة صيد وتربية الأسماك ؟
- (٢) أنهت حرب أكتوبر ١٩٧٣ م نظرية الأمن الإسرائيلية ؟

ما النتائج المترتبة على:

- (١) اجتماع وزراء النفط العربي بالكويت أثناء حرب أكتوبر ١٩٧٣ م ؟
- (٢) فشل العدوان الثلاثي على مصر ١٩٥٦ م ؟
- (٣) إصدار قوانين الإصلاح الزراعي ؟
- (٤) معركة رأس العش ؟
- (٥) رخص ثمن الغاز الطبيعي وتعدد استخداماته ؟

أكتب ما تشير إليه:

- (١) زراعة يقوم بها عدد قليل من السكان في مناطق صغيرة ومعزولة.
- (٢) نوع من أنواع الرعي يمارسه سكان المناطق الصحراوية في مساحات واسعة من قارات العالم.
- (٣) مدينة عربية تم تقسيمها بين العرب وإسرائيل عام ١٩٤٨ م.



جمهورية الهند «من الدول النامية»

جمهورية الهند:

* هي إحدى دول قارة آسيا، وشهدت تطوراً في المجالات الاقتصادية والسياسية.

الموقع الفلكي: تمتد الهند بين:

- دائرتي عرض ٨° شمالاً: ٣٥° شمالاً (تشغل ٢٧ دائرة عرض).
- خطي طول ٦٨° شرقاً: ٩٧° شرقاً (تشغل ٢٩ خط طول).

الموقع الجغرافي:

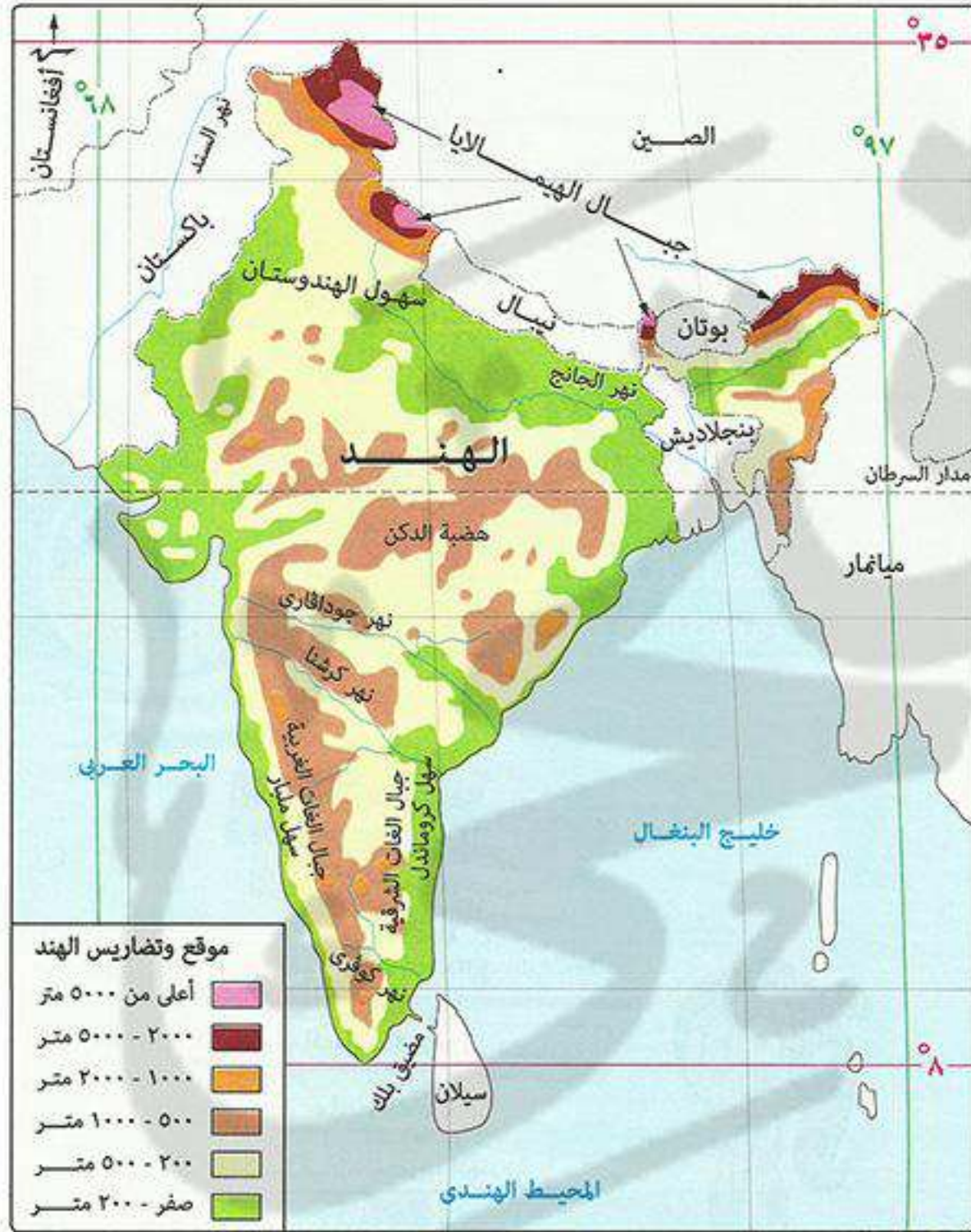
■ تقع الهند جنوب قارة آسيا ويحدها من:

- الشمال: الصين - نيبال - بوتان.
- الشمال شرقي: ميانمار.
- الشرق والجنوب الشرقي: خليج البنغال.
- الغرب والجنوب الغربي: البحر العربي.

* الهند عبارة عن شبه جزيرة تحيط بها المياه من ثلاث جهات عدا الشمال.

* الهند على شكل مثلث رأسه في الجنوب.

* يقع معظم دولة **بنجلاديش** داخل حدود جمهورية الهند.



المساحة

٣, ٢ مليون كم^٢.

التضاريس

الجبال • جبال الهيمالايا: في الشمال. • جبال الغات الشرقية. • جبال الغات الغربية.

الهضاب • هضبة الدكن: تمتد في شكل مثلث ومتقطعة بفعل الأنهار.

السهول • سهول فيضية: • سهول نهر الجانج: في الشمال.

• سهول أنهار صغيرة: في الجنوب أهمها نهر كوفري.

■ سهول ساحلية: • سهل كروماندل: تمتد على خليج البنغال شرقاً.

• سهل ملبار: تمتد على البحر العربي غرباً.

المناخ

- المناخ: يزيد المتوسط السنوي لدرجة الحرارة على ٣٠ مئوية وتقل الحرارة كلما اتجهنا شمالاً.
- الأمطار: تسقط أمطار موسمية صيفية غزيرة في الجنوب وتقل بالاتجاه شمالاً.

النبات الطبيعي

- الغابات: تنمو على السواحل الغربية والشرقية.
- الحشائش: تنمو فوق هضبة الدكن.

السكان



- الهند هي ثاني دول العالم سكاناً بعد الصين.
- يتركز السكان في السهول (الساحلية - الفيضية) لوجود المدن الرئيسية: نيودلهي (العاصمة) - بومباي.
- * واجهت الهند (المشكلة السكانية) زيادة عدد السكان بسياسات تنمية أهمها: الاهتمام بالتعليم. • تطوير البحث العلمي. • تطوير الزراعة والصناعة.

الأنشطة والموارد الاقتصادية

١ الزراعة

"تذكر أن"

- الهند هي ثاني الدول في:
 - إنتاج: (القمح - القطن - السكر).
 - تربية الأغنام.
- الهند هي أول الدول في:
 - تربية الأبقار.
 - إنتاج الألبان

- * يوجد بالهند مساحات واسعة من الأراضي الزراعية تعتمد في زراعتها على الأنهار ومياه الأمطار.
- تنتج الهند محاصيل زراعية مثل: (الحبوب غذائية والسكرية والنسيجية والزيتية)، وزاد إنتاج الهند لهذه المحاصيل بكميات كبيرة في السنوات الأخيرة.

٢ الإنتاج الحيواني

الثروة الحيوانية:

- يوجد في الهند ثروة حيوانية ضخمة بسبب كثرة المراعي ويوجد بها:
 - أكبر عدد من الأبقار في العالم (٢٢٠ مليون رأس) ولكن قيمتها الاقتصادية محدودة.
 - أعداد كبيرة من الجاموس والأغنام.

بم تفسر: القيمة الاقتصادية المحدودة للأبقار في الهند؟
 كم بسبب: تحريم الديانة الهندوسية أكل لحوم الأبقار.

الثروة السمكية:

بم تفسر: تعتبر الهند من الدول الرئيسية المنتجة للأسماك؟
 كم لأنها تمتلك سواحل طويلة على خليج البنغال والبحر العربي.



تقديس الهندوس للبقرة

٣ الثروة المعدنية ومصادر الطاقة

■ **الثروة المعدنية:** تمتلك الهند ثروة معدنية أهمها الحديد.

■ **مصادر الطاقة:**

• **الفحم:** الهند هي ثالث دول العالم إنتاجاً له، توجد مناجمه في هضبة الدكن.

بم تفسر: أهمية الفحم بالنسبة للهند؟

كـ لأنه أساس قيام صناعة الحديد والصلب في الهند.

• **الطاقة النووية والكهربائية:** لجأت إليها الهند لأفتقارها للبتترول ومصادر الطاقة الأخرى.

٤ الصناعة

بم تفسر: شهدت الهند قفزات سريعة في تطور الصناعة؟

كـ بسبب: (١) توافر مقومات الصناعة بها.

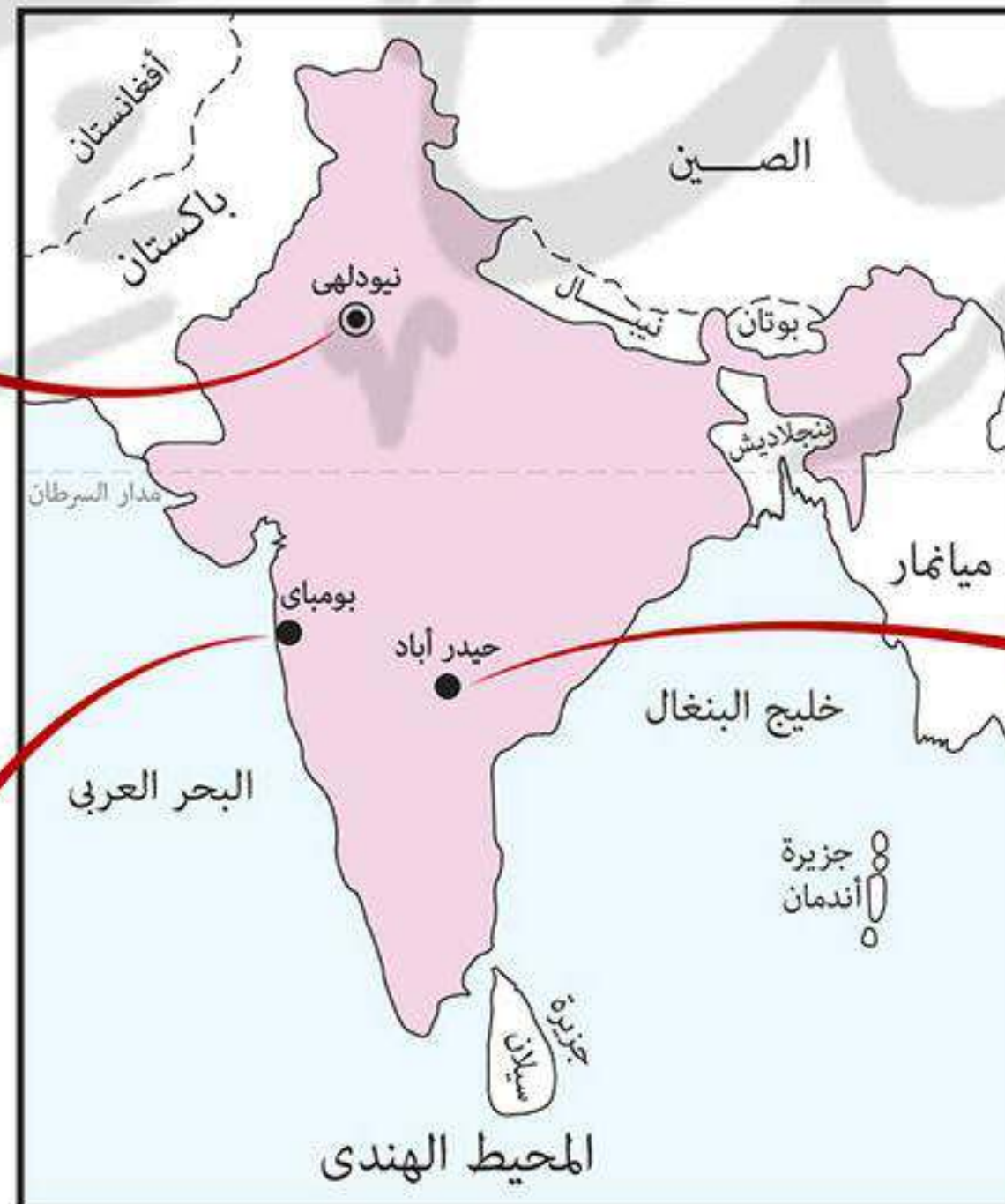
(٢) الاهتمام بالتعليم والبحث العلمي.

■ **أهم الصناعات بالهند:**

• حديد صلب. • آلات. • منسوجات. • سيارات.

• إلكترونيات. • صناعات غذائية. • صناعات كيميائية.

أهم المدن في الهند



نيودلهي العاصمة السياسية

تتميز بوجود: الجامعات والمراكز الصناعية والمعالم التاريخية.

حيدر اباد

• توجد بهضبة الدكن.
• من أكبر مراكز الصناعة اليدوية.
• تضم العديد من المراكز الإسلامية.

بومباي العاصمة التجارية

• أهم مدن الساحل الغربي.
• من أكبر الموانئ.
• من أكبر المدن الصناعية بالهند.

موقع مدرستي التعليمي

<https://www.myschool77.com>



العلاقات المصرية الهندية

* شهدت العلاقات المصرية الهندية تطوراً في السنوات الأخيرة في المجالات السياسية - الاقتصادية - الثقافية والعلمية.

تستورد مصر من الهند	تصدر مصر إلى الهند
غزل القطن - سمسم - شاي - توابل - قطع غيار وسائل النقل.	قطن - جلود - فوسفات - أسمدة مصنعة وخام.

أسئلة عامة علم الدرس

أكتب ما تشير إليه الأرقام الآتية:

- (١) خليج
(٢) دولة
(٣) مدينة
(٤) هضبة
(٥) مسطح مائي
(٦) دائرة عرض

أكمل:

- (١) تقع الهند في نصف الكرة بين دائرتي عرض ٨ شمالاً إلى شمالاً.
(٢) تقع الهند في نصف الكرة بين خطي طول شرقاً إلى ٩٧ شرقاً.
(٣) يحد الهند شمالاً الصين و و
(٤) يحد الهند من الشمال الشرقي دولة ومن الشمال الغربي
(٥) تمتد سهول الساحلية شرق الهند وسهول الساحلية غرب الهند.
(٦) تزيد متوسط الحرارة في الهند على مئوية وتقل الحرارة كلما اتجهنا
(٧) تنمو الغابات على سواحل الهند الشرقية والغربية وتنمو الحشائش فوق
(٨) تعتمد الزراعة في الهند على مياه ومياه
(٩) اتجهت الهند إلى استخدام الطاقة و لفقرها في للبترول.

بم تفسر:

- (١) القيمة الاقتصادية المحدودة للأبقار في الهند؟
(٢) قيام صناعة الحديد والصلب في الهند؟

ضع علامة (✓) أو (×):

- () (١) يعيش بالهند ربع سكان العالم.
() (٢) الهند هي ثاني دول العالم في إنتاج القمح والأرز والقطن وقصب السكر.
() (٣) يحد الهند شرقاً البحر العربي وغرباً خليج البنغال.
() (٤) تحتل الهند المركز الأول في إنتاج الفحم وتعتمد عليه في صناعة الحديد والصلب.
() (٥) العاصمة السياسية للهند هي بومباي بينما العاصمة التجارية هي نيودلهي.
() (٦) تضم مدينة نيودلهي الكثير من المراكز الإسلامية في الهند.

اختبار

أكمل:

- ١) ينقسم الفحم إلى ثلاثة أنواع هي البيتوميني و.....و.....
- ٢) تتقدم دولة الدول العربية في إنتاج الكهرباء من الرياح.
- ٣) من أهم المناطق الصناعية في إقليم روسيا - أوكرانيا الصناعي و.....
- ٤) تنتشر الزراعة البسيطة في المناطق
- ٥) تقع دولة داخل حدود الهند.
- ٦) توجد هضبة بالهند وهي على شكل تقطعها الأنهار الصغيرة.
- ٧) توجد جبال شمال الهند بينما توجد جبال في الغرب وجبال في الشرق.
- ٨) من أهم السهول الفيضية بالهند سهل نهر شمال الهند وسهل نهر في الجنوب.
- ٩) ترجع جذور نشأة الحركة إلى هرتزل واتخذت من مدينة مقراً لها.
- ١٠) بعد الحرب العالمية الأولى قررت عصبة الأمم وضع فلسطين تحت الانتداب
- ١١) ارتكب اليهود في فلسطين مذابح بشعة مثل
- ١٢) من أسباب العدوان الثلاثي مساندة مصر لحركات التحرر الوطني في ضد الاحتلال الفرنسي.
- ١٣) أظهرت حرب أكتوبر ١٩٧٣ م أهمية استخدام سلاح

بم تفسر:

- ١) يعتبر النشاط الزراعي من الأنشطة الاقتصادية المهمة في العالم؟
- ٢) العدوان الثلاثي على مصر؟
- ٣) سوء الأحوال الاجتماعية في مصر قبل ثورة ٢٣ يوليو؟

ضع علامة (✓) أو (×):

- ١) من أهداف قيام ثورة ٢٣ يوليو ١٩٥٢ م التخلص من الاحتلال البريطاني. ()
- ٢) أعطى مؤتمر مدريد لبريطانيا حق الانتداب على فلسطين ١٩٢٠ م. ()
- ٣) تستخدم الذرة الشامية في أمريكا الشمالية كغذاء للإنسان. ()
- ٤) أستراليا أكبر دول العالم إنتاجاً لقصب السكر. ()
- ٥) قارة أوروبا أكثر قارات العالم إنتاجاً للبتروكيمياويات كمصدر للطاقة. ()

قارن بين:

مدينة نيودلهي	مدينة حيد أباد

ما النتائج المترتبة على:

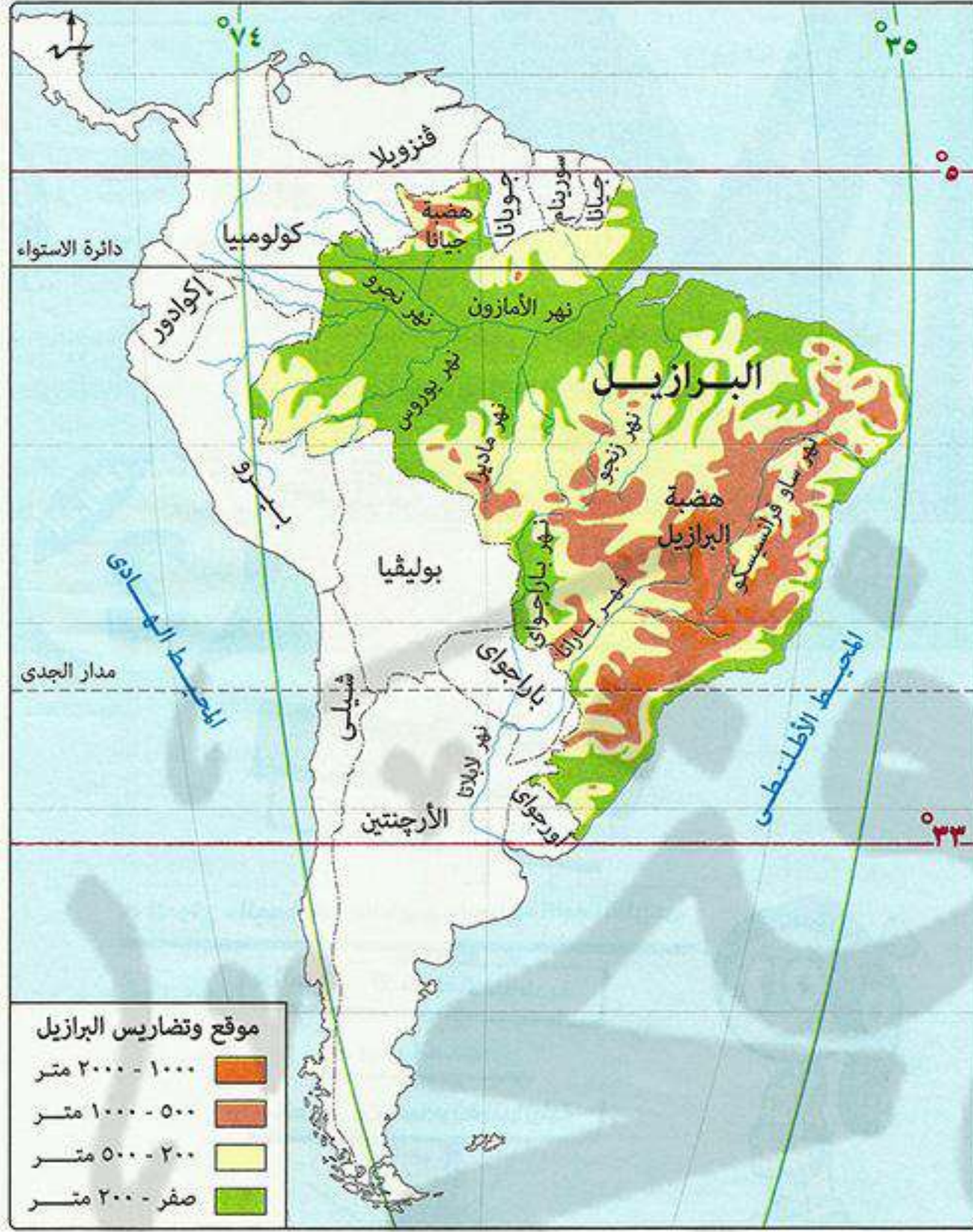
- ١) عقد مؤتمر مدريد للسلام عام ١٩٩١ م؟
- ٢) قيام ثورة ٢٣ يوليو ١٩٥٢ م في مجال التجارة؟

اكتب المصطلح الذي تعبر عنه كل عبارة مما يأتي:

- ١) زراعة الأرض أكثر من مرة في العام لإشباع حاجة السكان المحليين من الغذاء.
- ٢) نوع من أنواع الرعي يمارسه سكان المناطق الصحراوية في مساحات واسعة في قارات العالم.



جمهورية البرازيل الاتحادية (من الدول النامية)



الموقع الفلكي تمتد البرازيل بين:

- دائرتي عرض 5° شمالاً: 33° جنوباً (تشغل 38 دائرة عرض).
- خطي طول 35° : 74° غرباً (تشغل 39 خط طول).

الموقع الجغرافي

- تقع البرازيل في قارة أمريكا الجنوبية، ويمحدها:
- دول كثيرة: جيانا - سورينام - جويانا - فنزويلا - كولومبيا - أورجواي - باراجواي - بوليفيا - بيرو - الأرجنتين.
- الشرق والشمال الشرقي: المحيط الأطلنطي.

المساحة

- 8,5 مليون كم².
- ★ البرازيل هي أكبر دول أمريكا الجنوبية مساحة، وتشغل نحو نصف مساحة أمريكا الجنوبية.

التضاريس

- الهضاب يسود معظم أراضي البرازيل المظهر الهضبي حيث يوجد:
- هضبة البرازيل: في الوسط والجنوب.
- بعض الهضاب: في الشمال.

السهول

- سهول فيضية: سهول نهر الأمازون.
- سهول ساحلية: سهول ضيقة تطل على المحيط الهادي.

المناخ

- الموقع الفلكي للبرازيل جعل معظمها يقع في المناطق الاستوائية والمدارية **ولذلك يسودها:**
- المناخ الاستوائي: شديد الحرارة طوال العام في حوض الأمازون والسهل الساحلي الشمالي.
- المناخ المداري الحار: في السهول الشرقية وهضبة البرازيل.
- المناخ المعتدل الرطب: في أقصى جنوب شرق البرازيل.



النبات الطبيعي

- تنمو الغابات في حوض الأمازون وهي أكبر غابة استوائية في العالم.
- تنمو حشائش السافانا: فوق هضبة البرازيل.
- تنمو الحشائش المعتدلة: في الأطراف الجنوبية للبرازيل.

السكان

عناصر السكان	<ul style="list-style-type: none"> ■ يعد سكان البرازيل خليط من أجناس مختلفة حيث يوجد بها: <ul style="list-style-type: none"> • الهنود الحمر: السكان الأصليون. • العناصر السوداء: من أصول أفريقية. • الأوربيون.
عدد السكان	<ul style="list-style-type: none"> ■ يبلغ عدد سكان البرازيل نحو ٢٠٣ مليون نسمة يمثلون نحو نصف (٥٠٪) من سكان قارة أمريكا الجنوبية. ■ تعد البرازيل أكبر دول أمريكا الجنوبية سكاناً، ورغم ذلك تعاني من قلة السكان. ■ بم تفسر: قلة عدد سكان البرازيل رغم اتساع مساحتها؟ ■ كـه سبب: أن عدد السكان لا يتناسب مع مساحة البرازيل الواسعة (٨,٥ مليون كم^٢) حيث توجد مناطق شبه خالية من السكان مثل سهول الأمازون.
يتركز السكان فيه	<ul style="list-style-type: none"> ■ الساحل الجنوبي الشرقي: حيث توجد المدن الرئيسية المهمة مثل: <ul style="list-style-type: none"> • ريو دي جانيرو (العاصمة القديمة). • ساو باولو. ■ تم إنشاء مدن جديدة في البرازيل لإعادة توزيع السكان نحو الداخل مثل: <ul style="list-style-type: none"> • برازيليا (العاصمة)، لتعمير هضبة البرازيل. • ميناؤوس: على نهر الأمازون.

الأنشطة والموارد الاقتصادية

١ الزراعة



- * تشغل الأراضي الزراعية نحو ٢٪ من مساحة البرازيل ويوجد معظمها في الجنوب.
- يعمل بالزراعة أكثر من ربع (٢٥٪) القوى العاملة في البرازيل.
- تشتهر البرازيل بأنها أولى دول العالم في إنتاج محاصيل مثل: البن - قصب السكر.

٢ قطع الأشجار



- * يتم قطع أشجار الغابات الاستوائية والمدارية وتصنيع أخشابها.



٣ الرعي

- * الرعي حرفة مهمة للاقتصاد البرازيلي، حيث توجد المراعي الدائمة (الغنية) شمال هضبة البرازيل.
- تمتلك البرازيل ثروة حيوانية كبيرة جعلها من الدول الرئيسية المنتجة والمصدرة للحوم.

٤ صيد الأسماك

- * تنتج البرازيل كميات كبيرة من الأسماك **بسبب:**
- (١) امتلاكها سواحل طويلة على المحيط الأطلنطي والبحر الكاريبي.
- (٢) وجود نهر الأمازون.



٥ الثروة المعدنية

- * تمتلك البرازيل ثروة معدنية كبيرة مثل: الحديد - بوكسيت - منجنيز.

٦ الصناعة

- في الماضي كانت الصناعة تقتصر على: المنسوجات - الصناعات الغذائية - الصناعات كيمياوية.
- الآن تطورت الصناعة في البرازيل لتوافر مقومات الصناعة وظهرت الصناعات الثقيلة مثل: الحديد والصلب - السيارات - الطائرات - الأسمت - الآلات الكهربائية.
- * تتركز الصناعة في: جنوب شرق البرازيل بالقرب من مدينة: **ريودي جانيرو** - **ساوباولو** وغيرهما من المدن الأخرى.

أهم المدن في البرازيل



برازيليا العاصمة الجديدة

ريودي جانيرو العاصمة القديمة

تعد واحدة من أجمل مدن العالم.

ساوباولو أهم موانئ البرازيل

- تقع على المحيط الأطلنطي.
- تشتهر بمبانيها الضخمة وشواطئها الرملية الواسعة.



العلاقات المصرية البرازيلية

* ترتبط مصر بعلاقات قديمة مع البرازيل تمتد إلى القرن ١٩ وهناك اهتمام بتوسيع نطاق التبادل التجارى بين البلدين:

تستورد مصر من البرازيل	تصدر مصر إلى البرازيل
حبوب (خاصة الزيتية) - سكر - بن - لحوم - معادن (خاصة الحديد)	مواد غذائية - قطن - أثاث - أسمدة - منسوجات.

أسئلة عامة علم الدرس

أكمل:

- ١) تتركز الصناعة بالبرازيل بالقرب من مدينتي و
- ٢) يتركز سكان البرازيل في حيث المدن الرئيسية.
- ٣) يحد المحي الأطلنطي دولة البرازيل من جهة و
- ٤) العاصمة القديمة للبرازيل هي بينما العاصمة الجديدة هي
- ٥) ينمو في أطراف البرازيل الجنوبية حشائش بينما ينمو فوق هضبة البرازيل حشائش

بم تفسر:

- ١) يتنوع المناخ في دولة البرازيل؟
- ٢) تعاني البرازيل من قلة السكان؟
- ٣) امتلاك البرازيل لثورة حيوانية كبيرة؟
- ٤) إنتاج البرازيل للأسماك بكميات كبيرة؟
- ٥) تطور الصناعة في البرازيل حديثاً؟

ضع علامة (✓) أو (×) مع التصويب:

- ١) تعد البرازيل أكبر دول أمريكا الجنوبية مساحة وسكان. ()
- ٢) يسود المظهر السهلي معظم دولة البرازيل. ()
- ٣) يسود المناطق الشرقية وهضبة البرازيل المناخ المعتدل الرطب. ()
- ٤) تنمو حشائش السافانا في سهول نهر الأمازون. ()
- ٥) يعمل بالزراعة في دولة البرازيل نحو ٥٠٪ من القوى العاملة. ()
- ٦) دولة شيلي من الدول المجاورة للبرازيل في أمريكا الجنوبية. ()

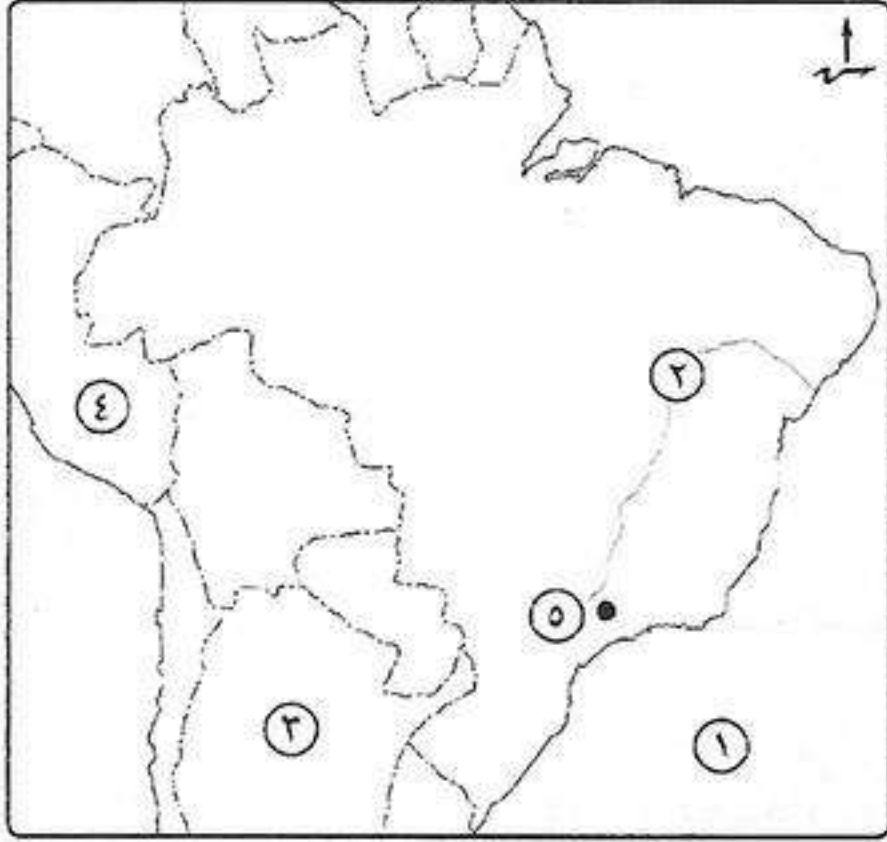
ما النتائج المترتبة على:

- ١) الموقع الفلكي للبرازيل؟
- ٢) الموقع الجغرافي للبرازيل؟
- ٣) وفرة المراعى الطبيعية في البرازيل؟

دل على صحة العبارات الآتية:

- ١) تنوع النبات الطبيعي في دولة البرازيل؟

اختبار

**أكتب ما تشير إليه الأرقام الآتية:**

- (١) المحيط
- (٢) نهر
- (٣) دولة
- (٤) دولة
- (٥) مدينة

بم تفسر:

- (١) النشاط الزراعي من الأنشطة الاقتصادية المهمة في العالم؟
- (٢) استطاعت الهند مواجهة المشكلة السكانية؟
- (٣) الأهمية الاقتصادية للمعادن؟

لمن تنسب الأعمال الآتية:

- (١) أذاع البيان الأول لثورة ٢٣ يوليو ١٨٥٢م؟
- (٢) قاد اللجنة العربية في ثورة عام ١٩٣٦م؟
- (٣) توقيع معاهدة السلام بين مصر وإسرائيل عام ١٩٧٩م؟
- (٤) دعا الرئيس السادات وبيجين إلى اجتماعات في كامب ديفيد؟

ما النتائج المترتبة على:

- (١) سوء الأحوال الاجتماعية قبل ثورة ٢٣ يوليو ١٩٥٢م؟
- (٢) إنشاء السد العالي؟
- (٣) افتقار الهند للبتروول؟
- (٤) حرب فلسطين ١٩٤٨م؟

ما المقصود بالمصطلحات الآتية:

- (١) الزراعة البسيطة؟
- (٢) الزراعة الكثيفة؟

دل على صحة العبارات الآتية:

- (١) تركز الصناعة في الدول المتقدمة؟
- (٢) تعتبر جمهورية الهند شبه جزيرة؟
- (٣) يتكون شعب البرازيل من أجناس مختلفة؟

صوب ما تحته خط:

- (١) تستخدم الذرة الشامية في أمريكا الشمالية كغذاء للإنسان.
- (٢) أوروبا أكثر قارات العالم إنتاجاً للقطن.
- (٣) أستراليا أكبر دول العالم إنتاجاً لقصب السكر.
- (٤) عقد مؤتمر دول عدم الإنحياز عام ١٩٥٥م في باندونج بأستراليا.
- (٥) أنهت حرب أكتوبر ١٩٧٣م حالة اللاسلم واللاحرب بين مصر وفرنسا.



جمهورية نيجيريا الاتحادية (من الدول النامية)

* بعد أن استقلت نيجيريا عن بريطانيا، أصبحت دولة اتحادية تضم ١٢ ولاية تبعاً للقبائل التي تعيش فيها وبدأت تتداخل مع بعضها البعض.

الموقع الفلكي تمتد نيجيريا بين:

- بين دائرتي عرض ٤° : ١٤° شمالاً (تشغل ١٠ دوائر عرض).
- بين خطي طول: ٣٠° ٢' : ١٤° ٣٠' شرقاً (تشغل ١٢ خط طول).

الموقع الجغرافي

- تقع نيجيريا غرب قارة أفريقيا ويحدها:
- شمالاً: النيجر.
- جنوباً: المحيط الأطلنطي (خليج غينيا).
- شرقاً: الكاميرون وتشاد.
- غرباً: بنين.

المساحة

نحو ٩٢٤ ألف كم^٢.

التضاريس

- **السهول** سهول فيضية (السهول الشمالية): يجري بها نهر النيجر الذي تعتمد عليه نيجيريا في الزراعة والري.
- سهول ساحلية: وهي منخفضة على خليج غينيا جنوباً وينتهي عندها نهر النيجر بدلتا واسعة.
- **التلال** عبارة عن أراضي مرتفعة تقع شمال السهول الساحلية وتزداد ارتفاعاً في الشمال الغربي.
- **الهضاب** هضبة جوس: تقع وسط السهول الشمالية، وترتفع نحو ١٧٨٠ متر.

المناخ

- معظم نيجيريا يقع ضمن المناخ المداري ذو الحرارة المرتفعة والأمطار الصيفية.
- الأطراف الجنوبية تقع ضمن المناخ الإستوائي ذو الحرارة المرتفعة والأمطار طوال العام.

النبات الطبيعي

- تنمو الغابات الاستوائية والمدارية في جنوب نيجيريا.
- تنمو حشائش السافانا شمال الغابات المدارية.



السكان



يبلغ عدد سكان نيجيريا نحو ١٧٨ مليون نسمة، وبذلك تعد نيجيريا هي أكبر دول أفريقيا سكاناً.

عدد السكان

■ **يتركز السكان في:** الغرب - السهول الشمالية - هضبة جوس، لوجود الأراضي الزراعية والمراعى ومناطق التعدين.

توزيع السكان

■ **يقل السكان في:** دلتا نهر النيجر جنوب نيجيريا، لوجود الغابات الكثيفة والظروف المناخية القاسية.

الأنشطة والموارد الاقتصادية

* **تنوع الموارد الاقتصادية** من موارد زراعية وغابات وثروة معدنية وبتروول ورغم ذلك يعتبر اقتصاد نيجيريا اقتصاداً نامياً لأنها تعتمد على الزراعة في المقام الأول.

١ الزراعة



أشجار المطاط

■ أكثر من نصف مساحة نيجيريا أراضي صالحة للزراعة والرعى، ورغم ذلك فإن المساحة المستغلة في الزراعة ١٥٪ من المساحة الكلية.

■ أهم مناطق الإنتاج الزراعى في نيجيريا هو الإقليم الغربى.

■ أهم المحاصيل الزراعية:

• يزرع في الجنوب: - المطاط: نيجيريا هي أولى دول إفريقيا إنتاجاً له.

- الأرز: نيجيريا هي ثانياً دول إفريقيا إنتاجاً له بعد مصر ويزرع في دلتا نهر النيجر.

• يزرع في الوسط والشمال: نخيل الزيت - ذرة شامية - ذرة الرفيعة

- الكاكاو - الفول السودانى.



٢ قطع الأشجار

* **تغطى الغابات نحو ثلث** مساحة نيجيريا وتعتبر مصدر للأخشاب.

٣ الرعى

* **تمتلك نيجيريا ثروة حيوانية كبيرة** من الماعز والأغنام والأبقار بسبب وجود مراعى حشائش السافانا.



٤ صيد الأسماك

بم تفسر: تنتج نيجيريا كميات كبيرة من الأسماك ؟

١) لأنها تمتلك (١) سواحل طويلة على خليج غينيا.

٢) أنهار وبحيرات بالداخل.

٥ الثروة المعدنية ومصادر الطاقة



■ تمتلك نيجيريا ثروات معدنية ومصادر طاقة مثل:

- القصدير: يُستخرج من هضبة جوس.
- الفحم: يُستخرج من المنطقة الشرقية.
- البترول: - يُستخرج من المنطقة القريبة من الساحل في الجنوب الشرقي.
- تنتج نيجيريا كميات كبيرة من البترول (٣٪ من الإنتاج العالمي).

٦ الصناعة

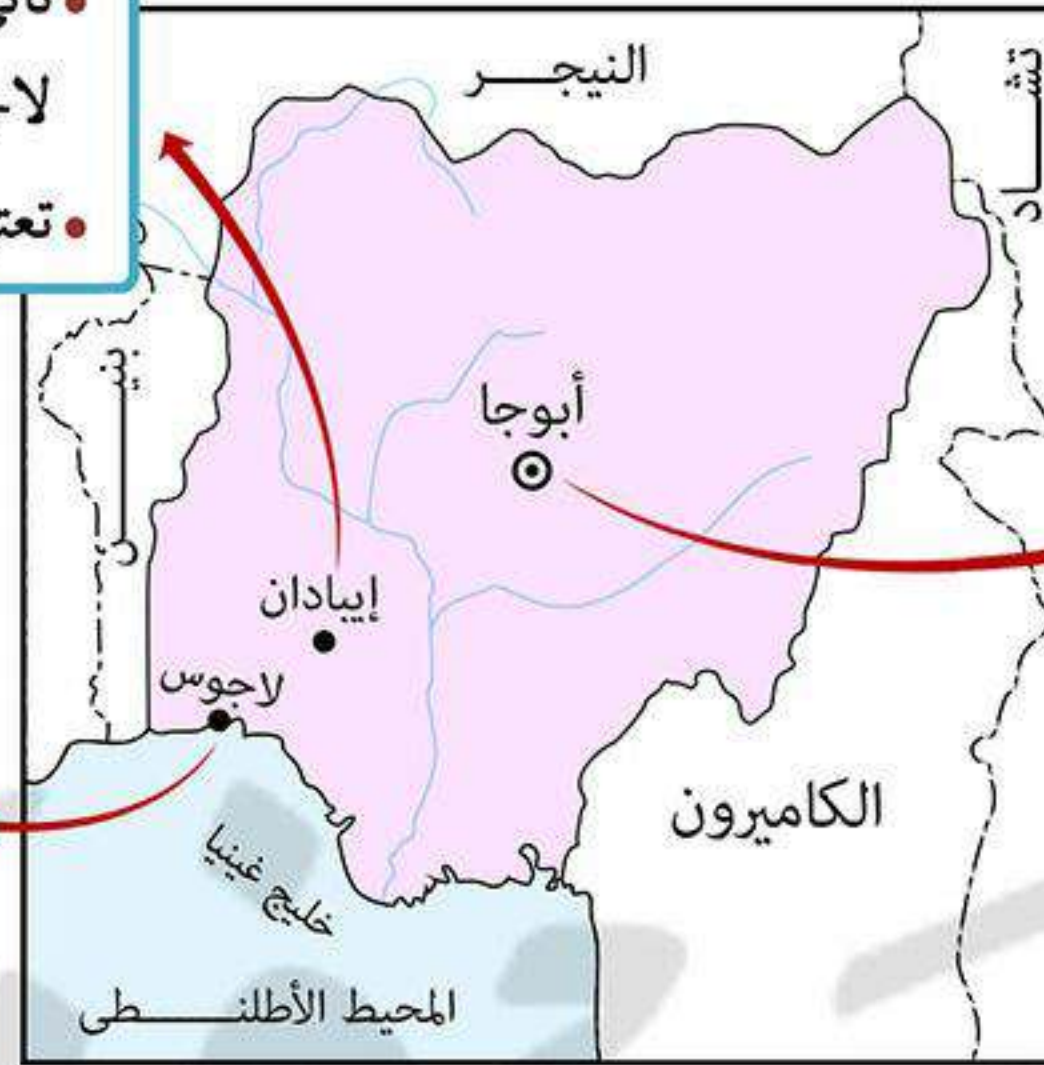
* الصناعة في نيجيريا بها ليست متنوعة أو متطورة.

- أهم الصناعات: • غزل ونسيج.
- تكرير بترول.
- صناعات غذائية.
- صناعات كيمياوية.

أهم المدن في نيجيريا

إيادان العاصمة القديمة

- تأتي في المركز الثاني في الأهمية بعد مدينة لاجوس.
- تعتبر مركز للتجارة والتعليم والمواصلات.



أبوجا العاصمة الحالية

مدينة داخلية حديثة.

لاجوس العاصمة القديمة

- وهي أكبر مدن نيجيريا وأكثرها تكديس بالسكان.
- تعتبر العاصمة الاقتصادية.

العلاقات المصرية النيجيرية

* توجد علاقات اقتصادية قوية بين مصر ونيجيريا حيث:

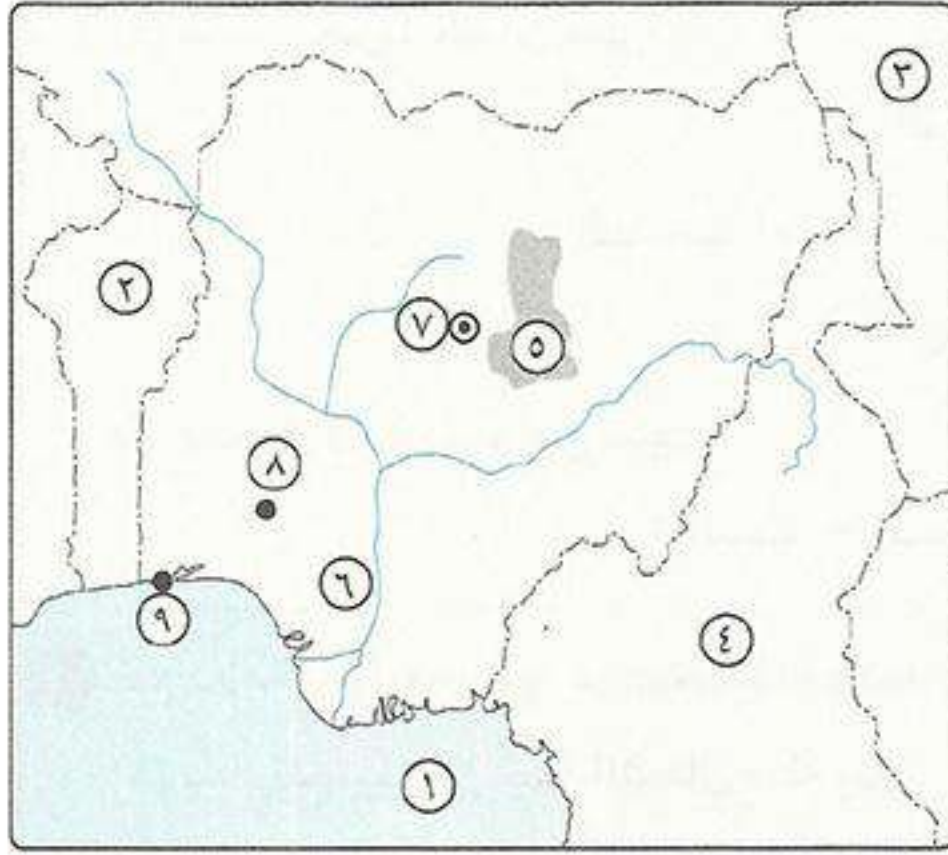
تستورد مصر من نيجيريا

سلع زراعية: أهمها الحبوب الزيتية.

تصدر مصر إلى نيجيريا

- أسلاك نحاسية.
- محولات كهربائية.
- مواسير ألومنيوم.
- أسمدة.
- إطارات.
- معدات ثقيلة.

أسئلة عامة علم الدرس



أكتب ما تشير إليه الأرقام الآتية:

- (١) خليج
 (٢) دولة
 (٣) دولة
 (٤) دولة
 (٥) هضبة
 (٦) نهر
 (٧) العاصمة
 (٨) مدينة
 (٩) مدينة

أكمل:

- (١) الإقليم الغربي من نيجيريا من أهم مناطق الإنتاج
 (٢) يتم استخراج الفحم في نيجيريا من
 (٣) يستخرج في نيجيريا من هضبة چوس.
 (٤) تعد مدينة العاصمة القديمة لنيجيريا.
 (٥) تستورد مصر من نيجيريا
 (٦) تنمو حشائش شمال الغابات المدارية في نيجيريا.
 (٧) يسود الأطراف الجنوبية من نيجيريا المناخ ذو الحرارة المرتفعة والأمطار
 (٨) أكبر مدن نيجيريا تكادساً بالسكان هي
 (٩) يزرع في جنوب نيجيريا وتعد أولى دول أفريقيا إنتاجاً له.

ضع علامة (✓) أو (×) مع التصويب:

- () (١) تعد نيجيريا ثاني دول أفريقيا من حيث عدد السكان.
 () (٢) أكثر من نصف أراضي نيجيريا صالحة للزراعة والرعى وجميعها مستغلة.
 () (٣) تربي في مراعى حشائش الإستبس بنيجيريا أعداد كبيرة من الأبقار والماعز والأغنام.
 () (٤) الإنتاج السمكى في نيجيريا كبير لطول سواحلها على خليج المكسيك.
 () (٥) تعتبر مدينة إيبادان مركز للتجارة والتعليم والمواصلات في نيجيريا.
 () (٦) تصدر مصر إلى نيجيريا إطارات وأسمدة ومواسير ألومنيوم.
 () (٧) يجد نيجيريا من ناحية الشمال تشاد والكاميرون.

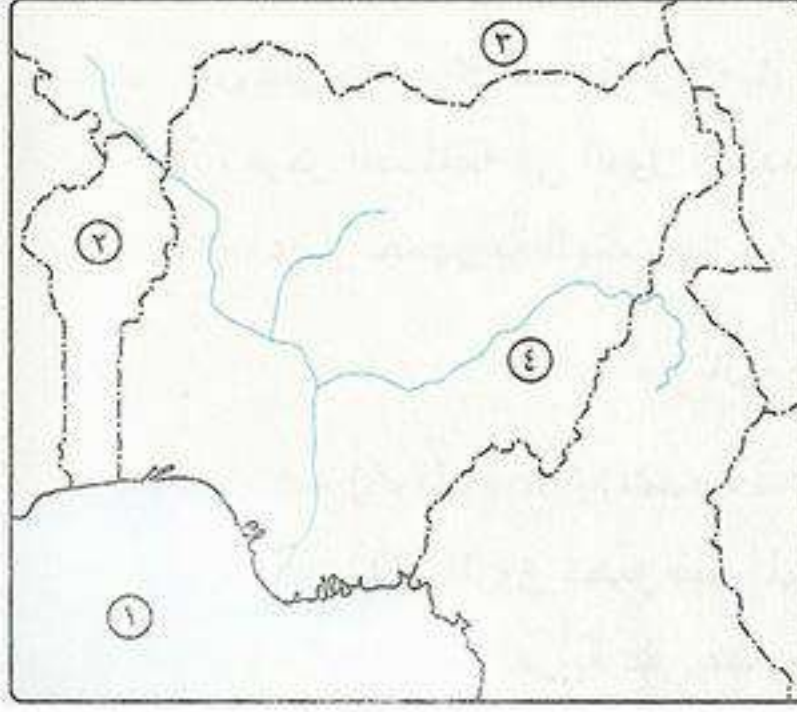
بم تفسر:

- (١) قلة السكان في دلتا نهر النيجر؟
 (٢) وجود ثروة حيوانية كبيرة في نيجيريا؟
 (٣) تنتج نيجيريا كميات كبيرة من الأسماك؟
 (٤) ارتفاع الكثافة السكانية في الغرب وهضبة چوس والسهول الشمالية في نيجيريا؟

دل على صحة العبارات الآتية:

- (١) يختلف توزيع السكان في نيجيريا من مكان لآخر؟
 (٢) نيجيريا من الدول الإفريقية الغنية بمصادر الطاقة؟
 (٣) تنوع النبات الطبيعي في نيجيريا؟

اختبار

**أكتب ما تشير إليه الأرقام الآتية:**

- (١) خليج
- (٢) دولة
- (٣) دولة
- (٤) نهر

ما مدى صحة العبارات الآتية:

- (١) النشاط الزراعي من الأنشطة الاقتصادية المهمة.
- (٢) سواحل شمال غرب أوروبا من أهم مناطق صيد الأسماك في العالم.
- (٣) قررت عصبة الأمم وضع مصر تحت الانتداب البريطاني.
- (٤) أظهرت حرب أكتوبر ١٩٧٣ م أهمية استخدام سلاح المشاة.

قارن بين:

- (١) إقليم غرب ووسط أوروبا الصناعي ومراكز الصناعة الحديثة من حيث: (أهم مراكز الصناعة).
- (٢) حرب عام ١٩٤٨ م وحرب عام ١٩٧٣ م من حيث الأسباب.

بم تفسر:

- (١) لجوء بعض الدول لصيد الحيتان ؟
- (٢) اعتبار البترول أهم مصادر الطاقة في العالم ؟
- (٣) قيام ثورة ٢٣ يوليو ١٩٥٢ م ؟
- (٤) العدوان الثلاثي على مصر ١٩٥٦ م ؟
- (٥) إنشاء عدة مدن على هضبة البرازيل ؟

لمن تنسب الأعمال الآتية:

- (١) إعطاء إشارة بدء الحرب في أكتوبر ١٩٧٣ م.
- (٢) قاد اللجنة العربية في ثورة ١٩٣٦ م وكان مفتى القدس.
- (٣) تنازل له والده عن عرش مصر عام ١٩٥٢ م.

ضع علامة (✓) أو (×) مع التصويب:

- () (١) صدر أول قانون للإصلاح الزراعي في مصر عام ١٩٥٣ م.
- () (٢) حصلت مصر على طابا بالقوة العسكرية.
- () (٣) من الدول المنتجة لمعدن النحاس فرنسا والولايات المتحدة.
- () (٤) من الثروات المائية القشريات مثل السبيط.
- () (٥) يعد القطن من المحاصيل المدارية.

حدد أولى دول العالم إنتاجاً للموارد الآتية:

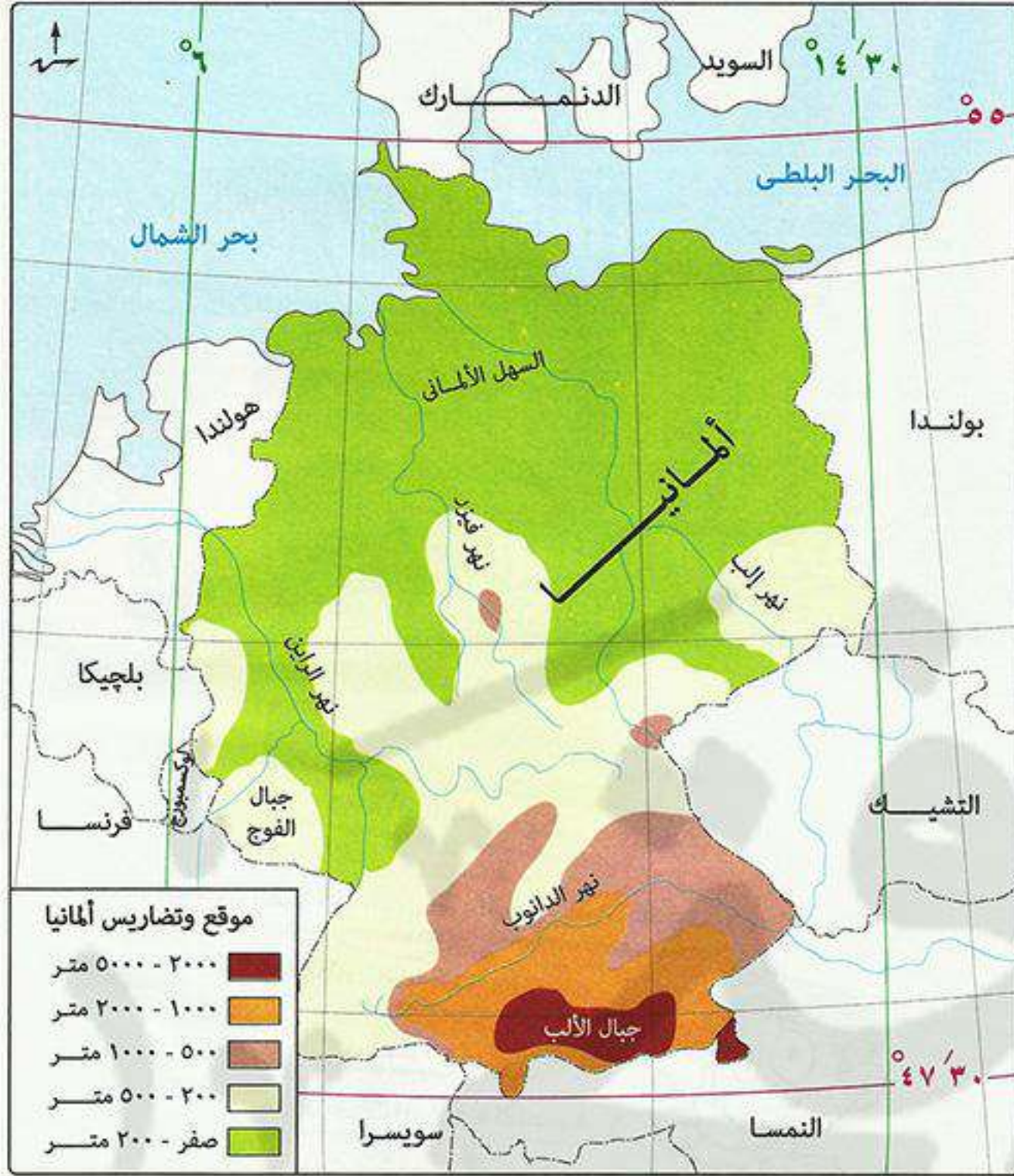
- (١) القمح ؟ (٢) الفحم ؟ (٣) المطاط ؟

أكمل:

- (١) تستورد مصر اللحوم والبن من دولة



جمهورية ألمانيا «من الدول المتقدمة»



الموقع الفلكي: تمتد ألمانيا بين:

- بين دائرتي عرض $30^{\circ} 47'$ ، 55° شمالاً (تشغل $7,5$ دائرة عرض).
- بين خطي طول 6° ، $30^{\circ} 14'$ شرقاً (تشغل $8,5$ خط طول).

الموقع الجغرافي

تقع ألمانيا غرب قارة أوروبا ويحدها:

- شمالاً: البحر البلطي - الدنمارك - بحر الشمال.
- جنوباً: النمسا - سويسرا.
- شرقاً: بولندا - التشيك.
- غرباً: هولندا - بلجيكا - لوكسمبورج - فرنسا.

المساحة

نحو 357 ألف كم².

التضاريس

تتنوع تضاريس ألمانيا من الشمال إلى الجنوب وتنقسم التضاريس إلى الأقسام الآتية:

السهل الألماني الشمالي

- هو أكبر الأقاليم التضاريسية في ألمانيا وهو جزء من السهل الأوروبي العظيم الخصب، وهو يبدأ في الشمال بالسهول الساحلية.
- تنتشر به المستنقعات في الشمال بالقرب من الساحل.
- تجري به عدة أنهار تصب في بحر الشمال: مثل نهر إلب - نهر الراين.

المرتفعات الوسطية

- عبارة عن هضاب متقطعة تفصل بينها سهول خصبة تجري بها أنهار تتجه نحو الشمال.
- تغطي بالغابات الصنوبرية (المخروطية) وتكثر بها التلال والينابيع المائية مما جعلها منطقة جذب للسياح.

جبال الألب

- توجد في الجنوب وتعتبر جزء من جبال الألب الأوروبية وتقطعها الأنهار.
- تعتبر هي أعلى القمم الجبلية في ألمانيا ويكسوها الجليد.
- ينمو على منحدراتها الغابات الصنوبرية (المخروطية) والنفضية.

المناخ



■ يسود في ألمانيا مناخ غرب أوروبا الممطر طوال العام، خاصة في الشمال متأثراً بالمحيط الأطلنطي وبحر الشمال حيث:

الصيف معتدل وترتفع الحرارة كلما اتجهنا شرقاً.

الشتاء تنخفض فيه الحرارة إلى ما دون الصفر المئوي خاصة في الداخل.

النبات الطبيعية

■ تنمو الغابات النفضية و الصنوبرية (مخروطية) في مناطق الجبال والهضاب وتغطي ثلث مساحة ألمانيا وتعد مصدراً للأخشاب.

■ تنمو الحشائش في السهل الساحلي (في الشمال)، وقلت مساحتها بسبب: إحلال الزراعة والتوسع العمراني.

السكان



عدد السكان يبلغ عدد سكان ألمانيا نحو 81 مليون نسمة، وهي تعتبر من أكبر دول أوروبا سكاناً.

توزيع السكان يتركز السكان في:
• المدن الكبرى والمناطق الصناعية لوفرة فرص العمل في الشركات والمصانع العالمية.
• الأودية على جوانب الأنهار للعمل بالزراعة.

الأنشطة والموارد الاقتصادية

* تعد ألمانيا من الدول الاقتصادية الأولى في العالم ومن أكثرها تقدماً حيث تتعدد بها الأنشطة الاقتصادية مثل:

1 الزراعة



• تنتشر الزراعة في السهل الألماني الشمالي والأودية النهرية، وتعتمد على الأساليب العلمية الحديثة
• يعمل بالزراعة في ألمانيا نحو 3% من القوى العاملة.
• أهم المحاصيل: قمح - شعير - بنجر السكر.

2 الرعي



* تربي الماشية والأغنام والخنائير في الحظائر ومناطق الحشائش بأساليب علمية.

٣ الصناعة



صناعة الطائرات

■ الصناعة هي العمود الفقري للاقتصاد الألماني ويعمل بها نحو **ثلاث** القوى العاملة.

■ تطورت الصناعة الألمانية تطوراً كبيراً بعد الحرب العالمية الثانية **بسبب:**

(١) توافر المراكز العلمية المتقدمة.

(٢) توافر مقاومات الصناعة.

(٣) تدفق الاستثمارات.

■ تتميز الصناعة الألمانية بالجودة والتنوع وأهمها: الحديد والصلب - السفن - السيارات - المنسوجات

الصناعات الإلكترونية والكهربائية.

أهم المدن في ألمانيا



برلين العاصمة السياسية

يبلغ عدد سكانها نحو ٣,٤ مليون نسمة.

هامبورج أهم الموانئ
وهي قريبة من بحر الشمال.

ميونخ عاصمة إقليم بافاريا في الجنوب

• هي ثالث أكبر مدن ألمانيا من حيث السكان.
• يوجد بها مقر عدد من الشركات والمصانع الألمانية العالمية.



العلاقات المصرية الألمانية

* توجد علاقات قوية بين مصر وألمانيا منها:

(١) علاقات ثقافية وعلمية مثل:
• هيئة التبادل العلمي الألمانية.
• الجامعة الألمانية بالقاهرة.
• المركز الثقافي الألماني.
• معهد الآثار الألماني.

(٢) علاقات اقتصادية مثل:
• تمويل ألمانيا لمحطات توليد الكهرباء من الرياح في مصر.
• تصدير واستيراد المنتجات بين البلدين:

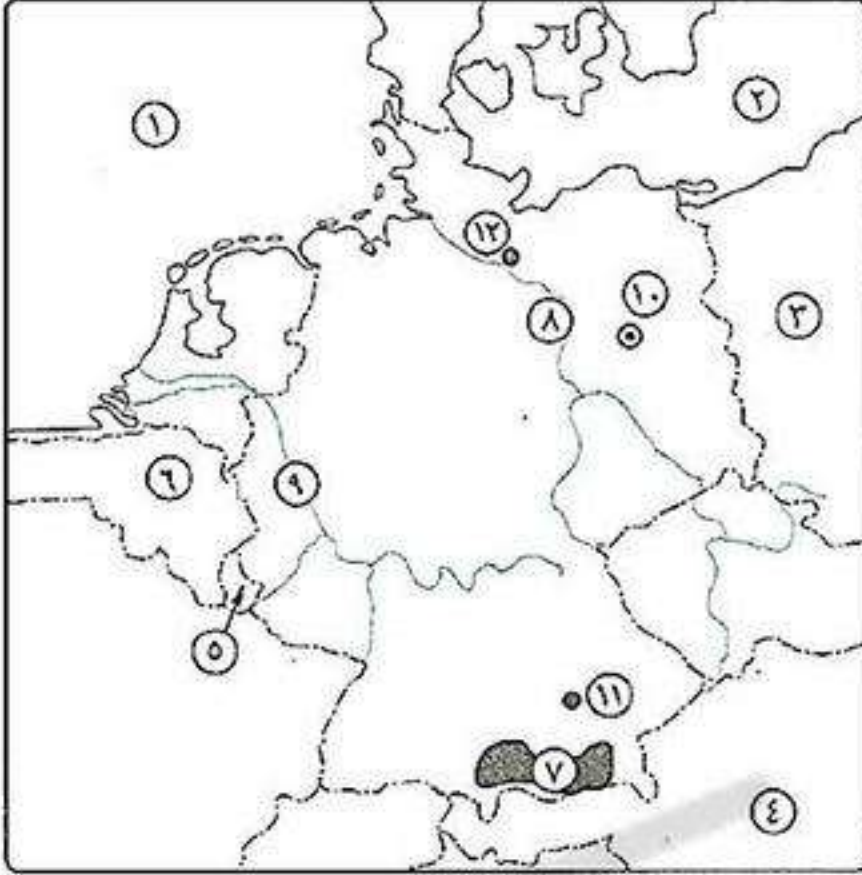
تستورد مصر من ألمانيا

الصناعات الكيماوية - الآلات - السيارات

تصدر مصر إلى ألمانيا

البتروال - الغاز الطبيعي - الملابس

أسئلة عامة علم الدرس



أكتب ما تشير إليه الجمل الآتية:

- | | |
|------------------|--------------------|
| (١) بحر | (٢) البحر |
| (٣) دولة | (٤) دولة |
| (٥) دولة | (٦) دولة |
| (٧) جبال | (٨) نهر |
| (٩) نهر | (١٠) العاصمة |
| (١١) مدينة | (١٢) مدينة |

أكمل:

- (١) يحد ألمانيا من الشرق بولندا و..... ومن الغرب فرنسا ولوكسمبورج و.....
- (٢) يسود ألمانيا مناخ..... المطر.....
- (٣) تغطي الغابات الصنوبرية المرتفعات الوسطى ومنحدرات جبال.....
- (٤) تنتشر الزراعة في ألمانيا في..... والأودية النهرية.
- (٥) تقع ألمانيا في..... قارة أوروبا.
- (٦) تعد..... مناطق جذب السياح في ألمانيا.
- (٧) تقع جبال..... في جنوب ألمانيا وتوجد بها أعلى القمم الجبلية بألمانيا.
- (٨) تعتبر..... هي العمود الفقري للاقتصاد الألماني.

بم تفسر:

- (١) توسع الصناعة الألمانية بعد الحرب العالمية الثانية؟
- (٢) جذب المرتفعات الوسطى في ألمانيا للسياح؟
- (٣) انكماش مساحة الحشائش بالسهول الساحلية في ألمانيا؟

قارن بين:

- (١) نيجيريا وألمانيا من حيث: (المناخ السائد - أهم الصادرات لمصر).

ضع علامة (✓) أو (×) مع التصويب:

- () (١) تقع ألمانيا غرب قارة أوروبا وتبلغ مساحتها نحو ٣٥٧ ألف كم^٢.
- () (٢) يعد السهل الألماني الشمالي من أكبر الأقاليم التضاريسية في ألمانيا.
- () (٣) يصب نهر إلب والراين بألمانيا في البحر البلطي.
- () (٤) تغطي الغابات النفضية والصنوبرية مناطق السهول في ألمانيا.
- () (٥) يسود مناخ غرب أوروبا في ألمانيا خاصة في الشمال.
- () (٦) من أهم المحاصيل الزراعية بألمانيا القمح والشعير وقصب السكر.
- () (٧) تتركز الزراعة في ألمانيا بالجزء الجنوبي منها.
- () (٨) تُعد السياحة العمود الفقري للاقتصاد الألماني حيث يعمل بها ثلث القوى العاملة.

دل على صحة العبارات الآتية:

- (١) تنوع الصناعات الألمانية؟

اختبار

**أكتب ما تشير إليه الأرقام الآتية:**

- (١) السهل
- (٢) نهر
- (٣) دولة
- (٤) البحر

دلل على صحة العبارات الآتية:

- (١) غنى نيچيريا بمصادر الطاقة ؟
- (٢) توسع العالم في استخدام الغاز الطبيعي ؟
- (٣) حققت مبادرة السلام للرئيس السادات عام ١٩٧٧ م أهدافها ؟

بم تفسر:

- (١) ينتج قصب السكر في كل قارات العالم ماعدا أوروبا ؟
- (٢) الدول المنتجة للبوكسيت ليست هي المنتجة للألومنيوم ؟
- (٣) فساد النظام الملكي قبل ثورة ٢٣ يوليو ١٩٥٢ م ؟
- (٤) زيارة الرئيس السادات للقدس عام ١٩٧٧ م ؟

أختر الإجابة الصحيحة:

- (١) استمرت الوحدة بين مصر وسوريا لمدة سنوات.
 - (٢) وافقت هيئة الأمم المتحدة في ١٩٤٧ م على
 - (٣) تعد قارة آسيا أولى قارات العالم إنتاجاً لـ
 - (٤) أكبر الأقاليم الصناعية في العالم الجديد إقليم
 - (٥) استمرت الوحدة بين مصر وسوريا لمدة سنوات.
- (خمس - سبع - تسع - ثلاث)
 (الانتداب البريطاني على فلسطين - تقسيم فلسطين -
 ضم القدس للدولة اليهودية - تقسيم سوريا)
 (الغاز الطبيعي - الطاقة النووية - القمح - البنجر)
 (شرق آسيا - شمال شرق الولايات المتحدة - روسيا - الصين)
 (خمس - سبع - تسع - ثلاث)

أكتب ما تشير إليه الجمل الآتية:

- (١) قانون صدر للقضاء على الإقطاع بتحديد الملكية الزراعية في سبتمبر ١٩٥٢ م.
- (٢) خط عسكري منيع حطمته القوات المصرية في حرب أكتوبر ١٩٧٣ م.
- (٣) نص بريطاني يتضمن إنشاء وطن قومي لليهود في فلسطين ١٩١٧ م.

ضع علامة (✓) أو (×) مع التصويب:

- () (١) يعد القطن من المحاصيل المدارية.
- () (٢) تأتي العراق في المركز الأول للإنتاج العالمي من البترول.
- () (٣) عقد مؤتمر دول عدم الانحياز عام ١٩٥٥ م في باندونج بأستراليا.
- () (٤) أنهت حرب أكتوبر ١٩٧٣ م حالة اللاسلم واللاحرب بين مصر وبريطانيا.
- () (٥) اشترك في العدوان الثلاثي على مصر كل من فرنسا والولايات المتحدة وإسرائيل.

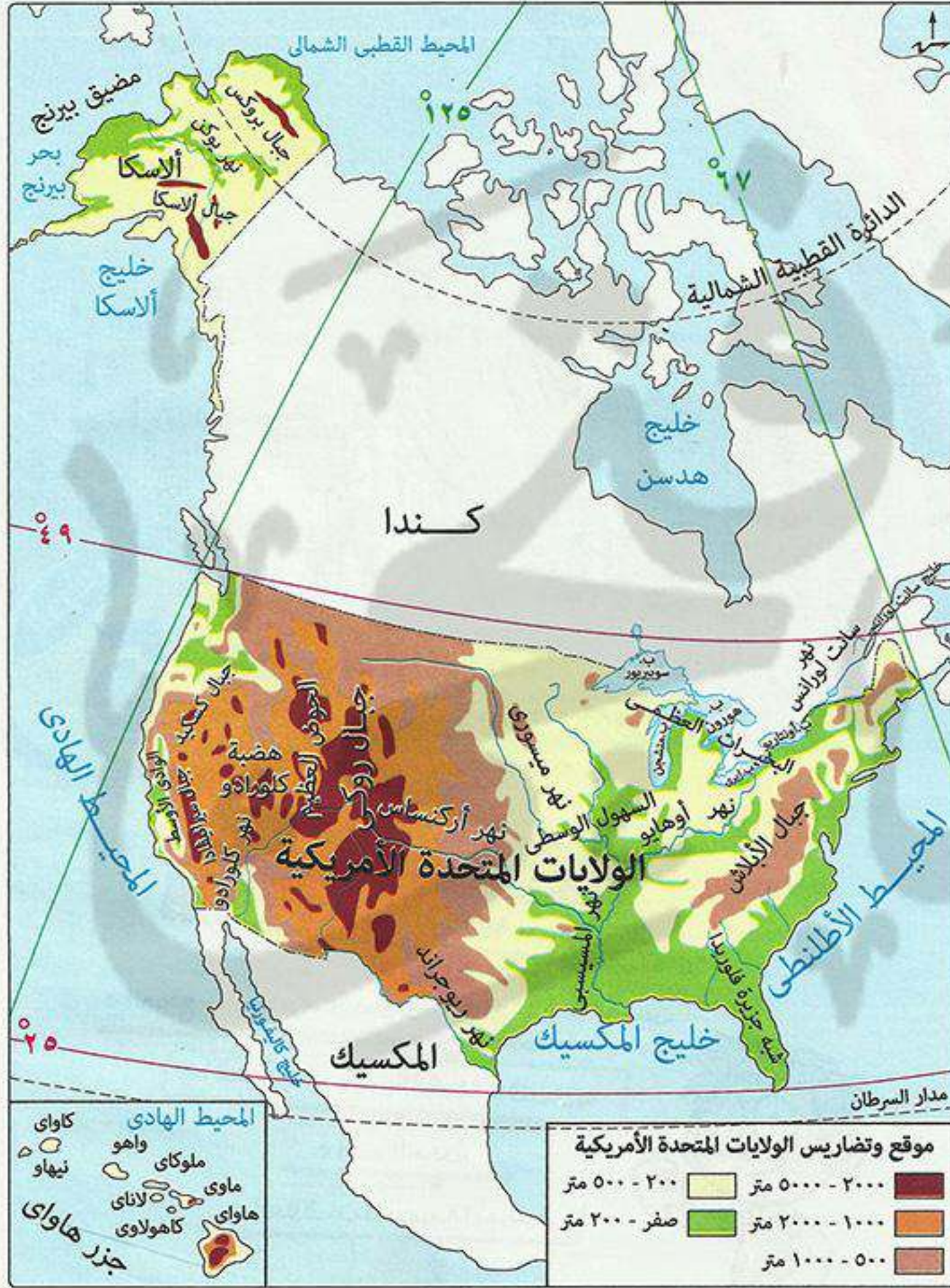
قارن بين:

- (١) الزراعة البدائية والزراعة التجارية من حيث: (مناطق الانتشار - أهم الخصائص).



الولايات المتحدة الأمريكية (من الدول المتقدمة)

- * تتكون الولايات المتحدة الأمريكية من **٥٠ ولاية** منها ولايتان تقعان خارج الموقع الفلكي والجغرافي لها:
 - ولاية **الاسكا**: تقع أقصى شمال غرب قارة أمريكا الشمالية.
 - ولاية **هاواي**: مجموعة جزر تقع في المحيط الهادي.



الموقع الفلكي

- تمتد الولايات المتحدة الأمريكية بين:
 - بين دائرتي عرض 25° : 49° شمالاً (تشغل دائرة عرض).
 - بين خطي طول 67° : 125° غرباً (تشغل خط طول).

الموقع الجغرافي

- تقع الولايات المتحدة في قارة أمريكا الشمالية ويحدها:
 - شمالاً: كندا.
 - جنوباً: خليج المكسيك - المكسيك.
 - شرقاً: المحيط الأطلنطي.
 - غرباً: المحيط الهادي.

المساحة

- تعد الولايات المتحدة الأمريكية **رابع** دول العالم من حيث المساحة بعد (روسيا - كندا - الصين).

التضاريس

- تتنوع تضاريس الولايات المتحدة من الشرق إلى الغرب وتنقسم إلى:

السلاسل الجبلية الغربية (الساحلية)	نطاق المرتفعات والأحواض الجبلية الغربية	السهول الوسطى	المرتفعات الشرقية	السهل الساحلي الشرقي وساحل خليج المكسيك
تمتد من الشمال إلى الجنوب ومنها جبال كسكيد.	تتكون من: <ul style="list-style-type: none"> • سلاسل جبال أعلاها جبال روكي. • هضاب مرتفعة أهمها هضبة كلورادو. 	<ul style="list-style-type: none"> • تمتد من البحيرات العظمى شمالاً وحتى خليج المكسيك جنوباً. • يجري فيها نهر المسيسيبي. 	يطلق عليها جبال لأبلاش .	يتميز بإستواء السطح والتعرج وظهور الخلدجان ويتسع كلما اتجهنا جنوباً.

المناخ والنبات الطبيعي

■ أدى اتساع الولايات المتحدة وتنوع تضاريسها إلى تنوع المناخ وبالتالي تنوع النبات الطبيعي كالآتي:

المنطقة	الساحل الجنوبي الشرقي ودلتا نهر المسيسيبي	السهول الوسطى	الإقليم الجبلي والمضبي في الغرب
الخصائص المناخية	<ul style="list-style-type: none"> المناخ شبه مداري حار وتسقط أمطار غزيرة طوال العام. يتعرض لعواصف مدارية المدمرة. 	<ul style="list-style-type: none"> يختلف المناخ من منطقة لأخرى لاتساعها وامتدادها من الشمال للجنوب. 	<ul style="list-style-type: none"> تنخفض درجة الحرارة وتسقط أمطار غزيرة على المرتفعات الشمالية الغربية. تقل الأمطار على الأحواض الجنوبية في صحراء أريزونا الحارة الجافة.
النبات الطبيعي	تنمو به: غابات الإقليم الصيني.	تنمو به: حشائش في الوسط. غابات في أقصى الجنوب.	تنمو به: حشائش ونباتات جبلية. أعشاب صحراوية.

السكان



• نحو ٣١٨ مليون نسمة.
• يعيش ثلثي السكان في المدن وثلث في الريف.

■ يتركز السكان في:

• إقليم نيو إنجلاند (في المنطقة الشمالية الشرقية):

رغم إنه يمثل ١٢٪ من مساحة الولايات المتحدة، إلا إنه أكثر الأقاليم ازدحاماً بالسكان حيث يعيش به ٥٠٪ من السكان

بسبب: (١) وجود المدن الكبرى مثل نيويورك.

(٢) وجود المناطق الصناعية والتجارية الكبرى.

• **السهول الوسطى:** حول البحيرات العظمى والسهول الفيضية لنهر المسيسيبي ودلتاه.

• السواحل الغربية:

بسبب: (١) وجود مناطق صناعية ومدن كبرى مثل (سان فرانسيسكو - لوس أنجلوس).

(٢) وجود مناطق زراعية.

■ يقل السكان في:

• نطاق المرتفعات والأحواض الغربية **بسبب:** الظروف الطبيعية الصعبة.

• ولاية ألاسكا **بسبب:** شدة البرودة.



مذكرات السلطان

www.facebook.com/EL.Sulttan

الأنشطة والموارد الاقتصادية

* تُعد الولايات المتحدة القوة الاقتصادية الأولى في العالم لأنها تمتلك موارد طبيعية وفيرة ومتنوعة مما أدى إلى تنوع الأنشطة الاقتصادية و ضخامة الإنتاج.

١ الزراعة

■ تعد الولايات المتحدة الأمريكية من أكبر دول العالم إنتاجاً لكل من: قمح - بنجر السكر.



بم تفسر: ضخامة وتنوع الإنتاج الزراعي في الولايات المتحدة الأمريكية؟

كـ بسبب: (١) اعتماد الزراعة على التكنولوجيا الحديثة.

(٢) وجود أراضي زراعية خصبة واسعة في:

- الجنوب الشرقي.
- سهل نهر المسيسيبي (في الوسط).
- الودادى الأوسط بكاليفورنيا.
- على جوانب المرتفعات.

٢ الثروة الحيوانية

* تربي الولايات المتحدة أعداد كبيرة من الأبقار والأغنام والخنازير لإنتاج: اللحوم ويُصدر جزء منها للخارج وإنتاج الألبان والجلود.

" تذكر أن "

■ الولايات المتحدة:
- ثاني دول العالم إنتاجاً للحوم والألبان.

٣ صيد الأسماك

بم تفسر: تنتج الولايات المتحدة كميات كبيرة من الأسماك؟

كـ لأنها تمتلك: (١) سواحل طويلة على المحيطين الهادى والأطلسي.

(٢) وجود الأنهار والبحيرات.

٤ الصناعة

بم تفسر: الولايات المتحدة هي القوة الصناعية الأولى؟

بم تفسر: أولى الدول الصناعية السبع في العالم؟

كـ بسبب: (١) توافر كل مقومات الصناعة.

(٢) تسهم بكميات كبيرة من الإنتاج العالمى لعدة صناعات مثل:

- صناعة الصلب - صناعة الألومنيوم - صناعة السيارات.
- تحتل المرتبة الأولى عالمياً في إنتاج: الطائرات - الأقمار الصناعية - سفن الفضاء.
- تنتج ثلث إنتاج العالم من: الصناعات الكهربائية والإلكترونية.

■ مناطق الصناعة الرئيسية في الولايات المتحدة:

- منطقة الشمال الشرقي - تضم مدن صناعية كبرى مثل منطقة البحيرات العظمى.
- منطقة الجنوب - تضم مدن صناعية مثل برمنجهام.
- منطقة الغرب الساحلي - تضم مدن صناعية مثل سان فرانسيسكو.



٥ الثروة المعدنية ومصادر الطاقة

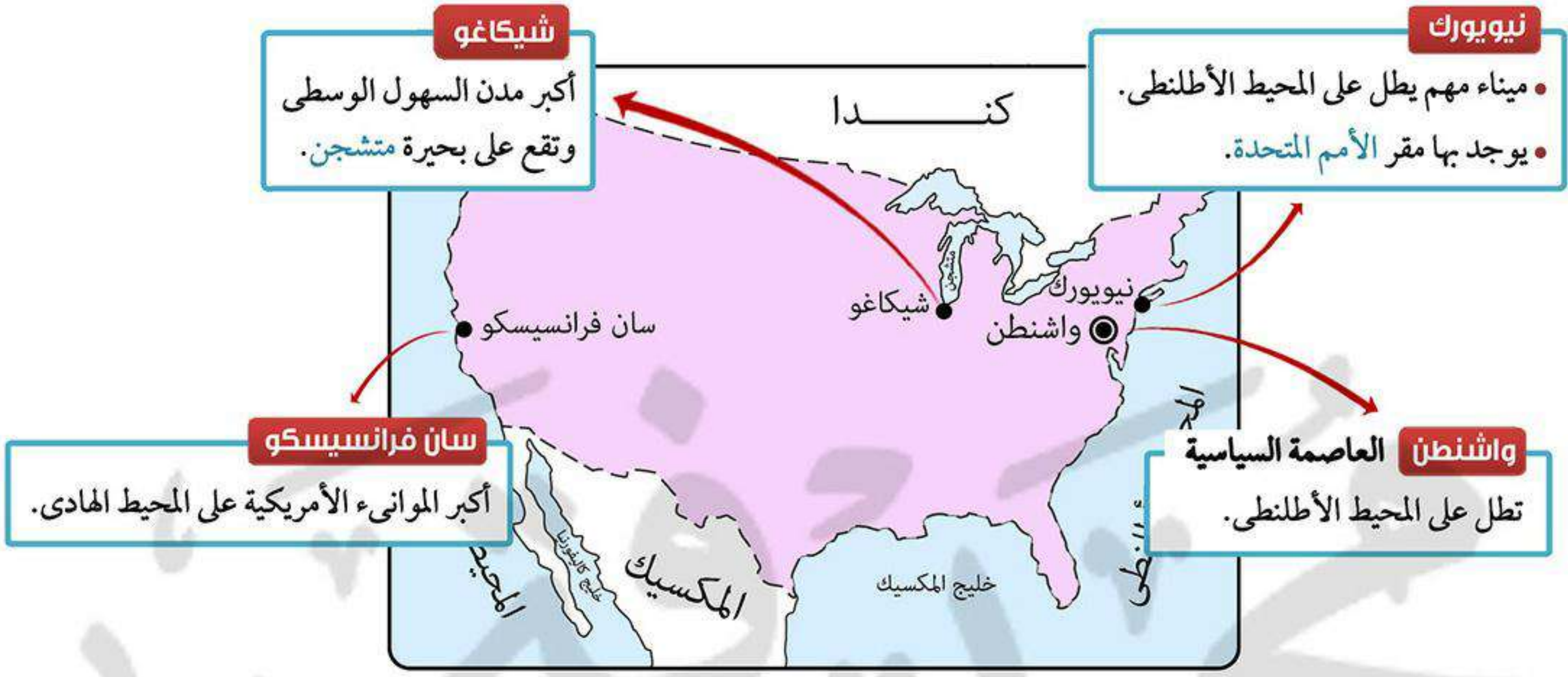
تنتج الولايات المتحدة كميات كبيرة من: الفحم - البترول - الغاز الطبيعي - النحاس.

"تذكر أن"

الولايات المتحدة:

- أول دول العالم إنتاجاً للغاز الطبيعي.
- ثاني دول العالم إنتاجاً للفحم.
- ثالث دول العالم إنتاجاً للبترول.

أهم المدن في الولايات المتحدة الأمريكية



العلاقات المصرية الأمريكية

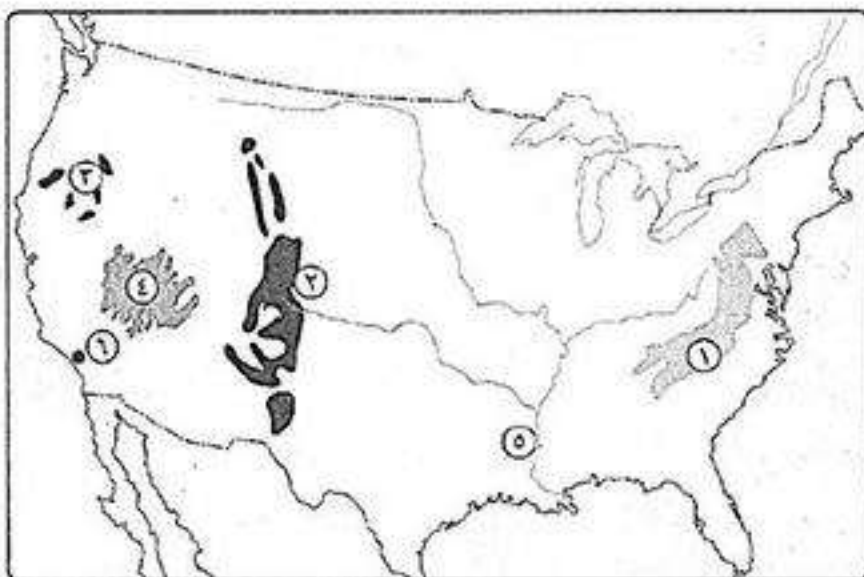
* ترتبط الدولتان بعلاقات قوية ويوجد بينهما اتفاقيات في المجال الاقتصادي والعلمي والثقافي والتكنولوجي.

* توجد اتفاقيات تجارية بين البلدين مثل: • اتفاقية الكوريز (المناطق الصناعية المؤهلة).

• اتفاقية منطقة التجارة الحرة.

* تستورد مصر من الولايات المتحدة: منتجات تكنولوجية وأسلحة وطائرات.

أسئلة عامة على الدرس



أكتب ما تدل عليه الأرقام الآتية:

- | | |
|-----------------|----------------|
| (٢) جبال | (١) جبال |
| (٤) هضبة | (٣) جبال |
| (٦) مدينة | (٥) نهر |

أكمل:

- ١) يحد الولايات المتحدة الأمريكية من ناحية الشمال والجنوب و.....
- ٢) يحد المحيط الاطلنطي الولايات المتحدة من ناحية بينما يحدها المحيط الهادى من ناحية
- ٣) تأتي الولايات المتحدة في المركز عالمياً من حيث المساحة الكبيرة التي تبلغ
- ٤) يطلق على المرتفعات الشرقية بالولايات المتحدة
- ٥) يجري بالسهول الوسطى في الولايات المتحدة نهر الذي يصب في
- ٦) من أهم جبال المنطقة الغربية بالولايات المتحدة وأعلى الهضاب غرباً هضبة
- ٧) يسود دلتا نهر المسيسيبي المناخ وتسقط الأمطار ويتعرض إلى
- ٨) تنمو غابات الإقليم الصيني في و بينما تنتشر حشائش السافانا في
- ٩) تقل الأمطار في الأحواض الجنوبية للولايات المتحدة حيث توجد صحراء الحرارة الجافة.
- ١٠) تسقط أمطار و الحرارة على المرتفعات الشمالية الغربية بالولايات المتحدة.
- ١١) يعيش نحو السكان في المدن وثلث في بالولايات المتحدة.
- ١٢) يعيش نحو ٥٠٪ من سكان الولايات المتحدة في رغم إنه يمثل من مساحة الولايات المتحدة.
- ١٣) تحتل الولايات المتحدة المرتبة في إنتاج البترول و في إنتاج الغاز الطبيعي.
- ١٤) تحتل الولايات المتحدة الأمريكية المرتبة الأولى في صناعة والأقمار الصناعية.
- ١٥) من المدن الصناعية في جنوب الولايات المتحدة وفي الغرب الساحلى مدينة
- ١٦) أكبر مدن السهول الوسطى بالولايات المتحدة الأمريكية وأهم الموانئ على المحيط الأطلنطي
- ١٧) توجد اتفاقيات تجارية بين مصر والولايات المتحدة مثل اتفاقية و

بم تفسر:

- ١) تنوع المناخ والنبات الطبيعي في الولايات المتحدة؟
- ٢) تعد الولايات المتحدة الأمريكية القوة الاقتصادية الأولى في العالم؟
- ٣) ضخامة وتنوع الإنتاج الزراعى بالولايات المتحدة الأمريكية؟
- ٤) امتلاك الولايات المتحدة لثروة سمكية كبيرة؟
- ٥) تعد الولايات المتحدة القوة الصناعية الأولى في العالم؟
- ٦) تركز نحو ٥٠٪ من السكان في إقليم نيو إنجلند رغم إن مساحته ١٢٪ من الولايات المتحدة؟
- ٧) قلة السكان في المرتفعات والأحواض الغربية وألاسكا بالولايات المتحدة؟

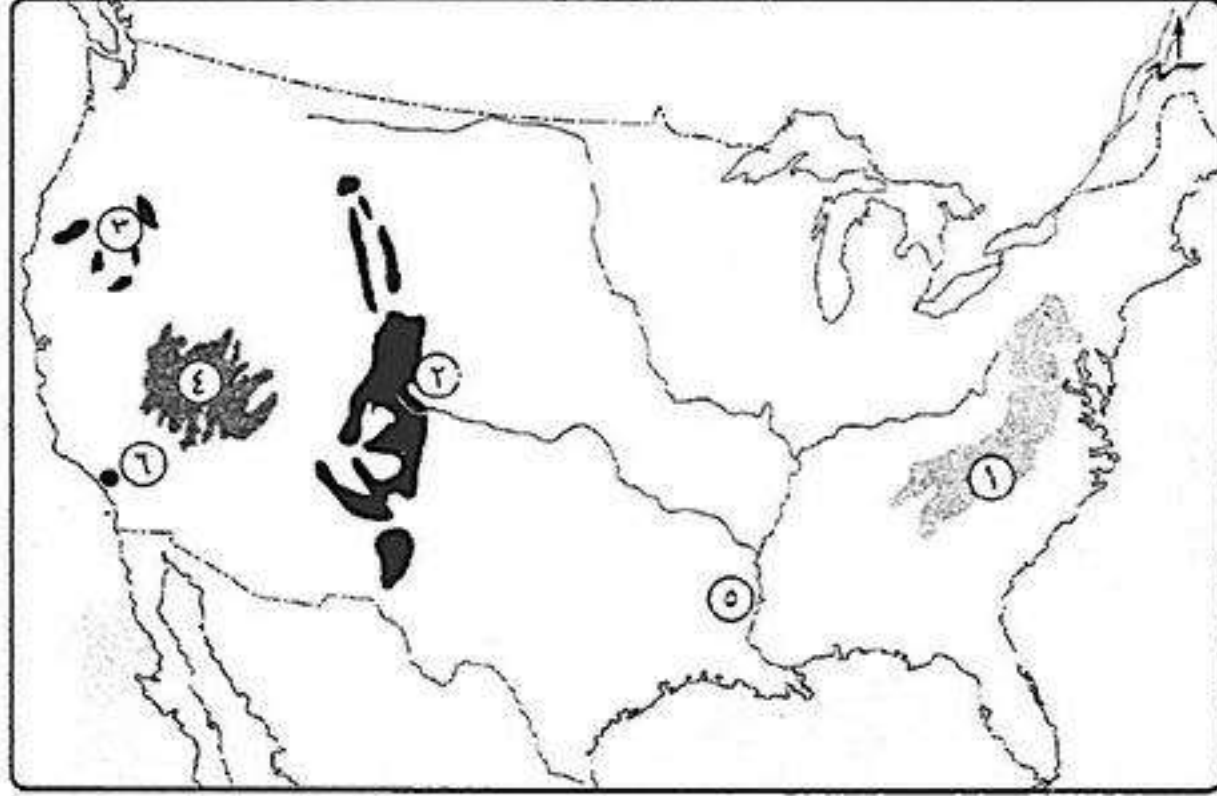
ضع علامة (✓) أو (×) مع التصويب:

- ١) تتكون الولايات المتحدة من ٥٠ ولاية وتقع ولاية أسكا ونيويورك خارج موقعها الفلكى. ()
- ٢) تمتد السهول الوسطى في الولايات المتحدة من إقليم البحيرات العظمى شمالاً حتى خليج المكسيك جنوباً. ()
- ٣) تنتج الولايات المتحدة كميات كبيرة من اللحوم وتستهلكها محلياً. ()
- ٤) تتسم المرتفعات الشمالية الغربية بالولايات المتحدة بندرة الأمطار والحرارة المنخفضة. ()
- ٥) تنمو الغابات في وسط السهول الوسطى بالولايات المتحدة بينما تنمو الحشائش في أقصى الجنوب. ()
- ٦) يتركز ثلثى السكان في إقليم نيو إنجلند. ()
- ٧) شيكاغو أكبر الموانئ الأمريكية على ساحل المحيط الهادى. ()

دلل على صحة العبارات الآتية:

- ١) تنوع الصناعات بالولايات المتحدة الأمريكية؟
- ٢) ترتبط مصر بالولايات المتحدة بعلاقات قوية؟

اختبار



أكتب ما تشير إليه الأرقام الآتية:

- (١) جبال
- (٢) جبال
- (٣) جبال
- (٤) هضبة
- (٥) نهر
- (٦) مدينة

بم تفسر:

- (١) ارتباط صناعة الألومنيوم بالدول المتقدمة ؟
- (٢) يقل عدد السكان في دلتا نهر النيجر ؟
- (٣) تقدم الصناعة في ألمانيا بعد الحرب العالمية الثانية ؟

أكتب ما تشير إليه الجمل الآتية:

- (١) تتم في مزارع واسعة وتستخدم أحدث الآلات الزراعية والطرق العلمية الحديثة.
- (٢) مصدر طاقة يستخرج من باطن الأرض على شكل صلب.
- (٣) أكبر الأقاليم الصناعية في العالم الجديد وقد تطورت الصناعة فيه بسبب تنوفر مقومات الصناعة.

في أي دول توجد المدن الآتية:

- (١) ميونخ ؟
- (٢) لاجوس ؟
- (٣) نيويورك ؟

ما المقصود بـ: (١) عدم الانحياز ؟

- (٢) الحياة النيابية ؟

ضع علامة (✓) أو (×) مع التصويب:

- () (١) يعد قصب السكر من المحاصيل الأساسية لإنتاج السكر ويزرع في المناطق المعتدلة.
- () (٢) تنتشر الزراعة الكثيفة على هوامش الغابات الاستوائية.
- () (٣) تعد قارة أوروبا ثاني قارات العالم إنتاجاً للطاقة النووية.
- () (٤) السلطة التشريعية تتكون من مؤسسة الرئاسة ويرأسها رئيس الجمهورية.
- () (٥) قام حزب الإصلاح على المبادئ الدستورية برئاسة الشيخ على يوسف.

قارن بين: القطن والمطاط الطبيعي من حيث: (أولى الدول المنتجة - الأهمية الاقتصادية).

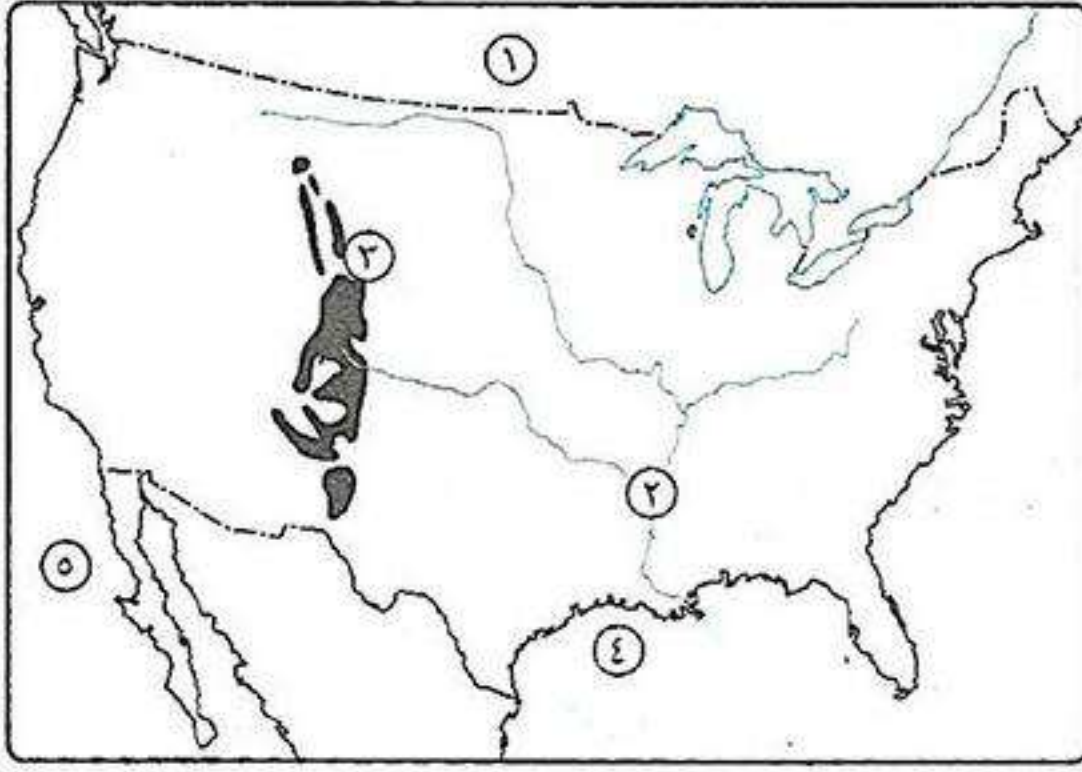
ما النتائج المترتبة على:

- (١) عقد مؤتمر سان ريمو أبريل ١٩٢٠م ؟
- (٢) حرب فلسطين ١٩٤٨م ؟

رتب الأحداث الآتية من الأقدم إلى الأحدث:

- (١) خروج آخر جندي بريطاني من فلسطين.
- (٢) أقامت الولايات المتحدة جسراً جواً لتقديم المساعدات العسكرية لإسرائيل.
- (٣) استعادت مصر طابا وعادت للسيادة المصرية.
- (٤) تشكيل لجنة الوفد المركزية للسيدات وانتخاب هدى شعراوي رئيساً لها.

اختبار



أكتب ما تشير إليه الأرقام الآتية:

١. دولة.....
٢. نهر.....
٣. جبال.....
٤. خليج.....
٥. المحيط.....

بم تفسر:

- (١) ارتباط صناعة الألومنيوم بالدول المتقدمة ؟
- (٢) يقل عدد السكان في دلتا نهر النيجر ؟
- (٣) تقدم الصناعة في ألمانيا بعد الحرب العالمية الثانية ؟

أكتب ما تشير إليه الجمل الآتية:

- (١) تتم في مزارع واسعة وتستخدم أحدث الآلات الزراعية والطرق العلمية الحديثة.
- (٢) مصدر طاقة يستخرج من باطن الأرض على شكل صلب.
- (٣) أكبر الأقاليم الصناعية في العالم الجديد وقد تطورت الصناعة فيه بسبب تنوفر مقومات الصناعة.

في أي دول توجد المدن الآتية:

- (١) ميونخ ؟
- (٢) لاجوس ؟
- (٣) نيويورك ؟

ما المقصود بـ:

- (١) عدم الانحياز ؟
- (٢) الحياة النيابية ؟

ضع علامة (✓) أو (×) مع التصويب:

- () (١) يعد قصب السكر من المحاصيل الأساسية لإنتاج السكر ويزرع في المناطق المعتدلة.
- () (٢) تنتشر الزراعة الكثيفة على هوامش الغابات الاستوائية.
- () (٣) تعد قارة أوروبا ثاني قارات العالم إنتاجاً للطاقة النووية.
- () (٤) السلطة التشريعية تتكون من مؤسسة الرئاسة ويرأسها رئيس الجمهورية.
- () (٥) قام حزب الإصلاح على المبادئ الدستورية برئاسة الشيخ على يوسف.

قارن بين: القطن والمطاط الطبيعي من حيث: (أولى الدول المنتجة - الأهمية الاقتصادية).

ما النتائج المترتبة على:

- (١) عقد مؤتمر سان ريمو أبريل ١٩٢٠م ؟
- (٢) حرب فلسطين ١٩٤٨م ؟

رتب الأحداث الآتية من الأقدم إلى الأحدث:

- (١) خروج آخر جندي بريطاني من فلسطين.
- (٢) أقامت الولايات المتحدة جسراً جويّاً لتقديم المساعدات العسكرية لإسرائيل.
- (٣) استعادت مصر طابا وعادت للسيادة المصرية.
- (٤) تشكيل لجنة الوفد المركزية للسيدات وانتخاب هدى شعراوي رئيساً لها.

ثورة ٢٣ يوليو ١٩٥٢م

* تعددت الكتابات واختلفت الآراء حول ثورة ٢٣ يوليو ١٩٥٢م **حيث:**

يرى بعض المؤرخون:

أنها تكتسب أهمية كبيرة لما تركته من آثار على أغلب الحركات التحررية في المنطقة العربية بشكل خاص، وفي العالم بشكل عام، ومشاركة قادتها في تأسيس حركات دولية مثل حركة عدم الانحياز والحياد الإيجابي.

يرى مؤرخون آخرون:

أنها لم تبدأ عندما تأسس تنظيم الضباط الأحرار، وتحركت قيادة الثورة للسيطرة على مقرات الإذاعة والجيش، وإنما كان ذلك مكملاً لما قام به الشعب المصري من ثورة ضد الفساد والاحتلال وسوء الحكم منذ الثورة العربية وثورته ١٩١٩م وحتى قيام ثورة ٢٣ يوليو ١٩٥٢م.



تنظيم الضباط الأحرار

تنظيم الضباط الأحرار

هو تنظيم أسسه **جمال عبد الناصر**، وتكون من مجموعة من ضباط الجيش المصري في سرية تامة بهدف القيام بثورة للقضاء على الفساد وتحرير مصر من الاحتلال البريطاني.

عوامل قيام ثورة ٢٣ يوليو ١٩٥٢م**١ استمرار الاحتلال البريطاني وتدخله فيه شئون مصر الداخلية**

حيث لم تؤدي معاهدة ١٩٣٦م إلى استقلال حقيقي للبلاد وظهر ذلك حينها حاصرت القوات البريطانية قصر عابدين فبراير ١٩٤٢م لأجبار **الملك فاروق** على تعيين **مصطفى النحاس باشا** رئيساً للحكومة.

٢ هزيمة الجيش المصري فيه حرب فلسطين ١٩٤٨م**بسبب:**

- (١) دعم الولايات المتحدة وبريطانيا لإسرائيل.
- (٢) عدم استعداد الجيش المصري والعربي عسكرياً للحرب.

٣ فساد النظام الملكي**تمثل ذلك في:**

- (١) استبداد الملك فاروق بالحكم.
- (٢) انتشار الرشاوى كما حدث في صفقة الأسلحة الفاسدة.



محاصرة قوات الاحتلال البريطاني لقصر عابدين

٤ عدم وجود حياة ديمقراطية سليمة

حيث: أدى خضوع مصر للاحتلال البريطاني وفساد النظام الملكي بجانب فساد الأحزاب إلى زيادة الصراع بين الأحزاب من أجل الوصول إلى الحكم.

٥ سوء الحالة الاقتصادية

حيث: أدى توقيع معاهدة ١٩٣٦م إلى:

- جعل مصر ميداناً لمعارك الحرب العالمية الثانية.
- استنزاف موارد مصر الاقتصادية لخدمة بريطانيا وحلفائها.
- مما أدى إلى:** (١) إرهاب الاقتصاد المصري. (٢) زيادة معاناة الشعب المصري.

٦ سوء الحالة الاجتماعية

بسبب: (١) عدم وجود سياسات واضحة للإصلاح الاجتماعي نتيجة الصراع السياسي بين الأحزاب. (٢) ظاهرة الإقطاع (سوء توزيع ملكية الأرض الزراعية) مما جعل فئة صغيرة تملك وتستبد. **أدى ذلك إلى:** انتشار الجهل والفقر والمرض.

أهداف ثورة ٢٣ يوليو ١٩٥٢م

- القضاء على: (١) الاستعمار وأعوانه. (٢) الإقطاع. (٣) الاحتكار وسيطرة رأس المال على الحكم.
- إقامة: (١) جيش وطني قوى. (٢) عدالة اجتماعية. (٣) حياة ديمقراطية سليمة.

قيام ثورة ٢٣ يوليو ١٩٥٢م

■ أحداث الثورة:

• في صباح يوم ٢٣ يوليو ١٩٥٢م تحرك الضباط الأحرار وسيطروا على المواقع المهمة في القاهرة واسكندرية واعتقلوا كبار الضباط والمسؤولين القدامى في الجيش.

• في الساعة السابعة والنصف صباحاً أذيع أول بيان للثورة من دار الإذاعة المصرية باسم اللواء محمد نجيب القائد العام للقوات المسلحة بصوت محمد أنور السادات وبموجب هذا البيان أصبح اللواء محمد نجيب مسيطراً على كل قطاعات الجيش المصري.



محمد أنور السادات

■ مطالب الثورة من الملك فاروق:

(١) أن يتنازل عن العرش لأبنة أحمد فؤاد الثاني الذي كان طفلاً.

(٢) أن يغادر البلاد قبل الساعة السادسة من مساء يوم ٢٦ يوليو ١٩٥٢م.

بم تفسر: مغادرة الملك فاروق وأسرته البلاد قبل الموعد المحدد؟

لأنه: أدرك أن الجيش والشعب يكرهان حكمه وتحملي الإنجليز عنه.

إنجازات ثورة ٢٣ يوليو ١٩٥٢م

* نجحت ثورة ٢٣ يوليو ١٩٥٢م في تحقيق بعض أهدافها في مختلف المجالات كما يلي:



اللواء محمد نجيب

أولاً إنجازات ثورة ٢٣ يوليو في المجال السياسي

- (١) إلغاء دستور ١٩٢٣م في ديسمبر ١٩٥٢م.
- (٢) حل الأحزاب السياسية في يناير ١٩٥٣م.
- (٣) إلغاء الملكية وإعلان الجمهورية وتعيين اللواء محمد نجيب أول رئيس لجمهورية مصر العربية في يونيو ١٩٥٣م.
- (٤) توقيع اتفاقية الجلاء تقرر فيها جلاء القوات البريطانية عن مصر خلال ٢٠ شهر من توقيع الاتفاقية في أكتوبر ١٩٥٤م.
- (٥) رحيل القوات البريطانية عن مصر بعد احتلال دام ٧٤ عام وأصبح هذا اليوم هو عيد الجلاء في يونيو ١٩٥٦م.
- (٦) تأميم شركة قناة السويس البحرية وأصبحت شركة مصرية بإدارة مصرية في يوليو ١٩٥٦م.

ثانياً إنجازات ثورة ٢٣ يوليو في المجال الاقتصادي

١ الزراعة



السد العالي

اهتمت الثورة بالزراعة وقامت بالآتي:

- (١) التوسع في استصلاح الأراضي الصحراوية لزيادة الأراضي الزراعية.
 - (٢) إنشاء السد العالي وافتتاحه عام ١٩٧١م.
- ما النتائج المترتبة على: إنشاء السد العالي؟
- كـ ما النتائج المترتبة على: (١) حماية البلاد من خطر الفيضان.
- (٢) تخزين المياه وتوليد الكهرباء.

٢ الصناعة



مصنع حديد وصلب حلوان

اهتمت الثورة بالصناعة وقامت بالآتي:

- (١) إنشاء المصانع مثل مصنع الحديد والصلب في حلوان ومصنع الأسمدة في أسوان.
- (٢) الاهتمام بالتعليم الصناعي ومراكز التدريب المهني.
- (٣) الاهتمام بالبحث والتنقيب عن البترول وإنشاء معامل تكرير البترول.

٣ التجارة

اهتمت الثورة بالتجارة وقامت بالآتي:

- (١) فتح أسواق خارجية لتسويق المنتجات المصرية.
- (٢) تمصير البنوك وشركات التأمين وشركات الإستيراد والتصدير.

ثالثاً إنجازات ثورة ٢٣ يوليو في المجال الاجتماعي

- (١) القضاء على الإقطاع **من خلال** إصدار قانون الإصلاح الزراعي الأول في **سبتمبر ١٩٥٢م** ثم إصدار قوانين أخرى حددت الملكية الزراعية بنحو **٥٠ فدان** للفرد مما زاد من تملك الفلاحين للأراضي الزراعية.
- (٢) مجانية التعليم: حيث تم جعل التعليم بالمجان بجميع مراحلها بما فيه التعليم الجامعي.
- (٣) إقامة الوحدات الصحية والجمعيات الزراعية.
- (٤) تحديد ساعات العمل وإشراك العمال في مجالس إدارة الشركات والمصانع وتحديد نسبة لهم من الأرباح.
- (٥) إصدار قوانين التأمينات الاجتماعية والمعاشات للموظفين والعمال.
- (٦) منح المرأة عام ١٩٥٦م الحق في الانتخاب والترشح لمجلس الأمة (مجلس النواب).

رابعاً إنجازات ثورة ٢٣ يوليو في المجال العربي والدولي

- (١) ساندت الدول العربية وبعض الدول الإفريقية لنيل الاستقلال مثل المغرب وتونس والجزائر والسودان وكينيا والعراق واليمن والكويت.
- (٢) ساندت حقوق الشعب الفلسطيني في إقامة دولة مستقلة عاصمتها القدس الشريف.
- (٣) قيام أول تجربة لتحقيق الوحدة العربية بين **مصر وسوريا** في فبراير ١٩٥٨م.
- (٤) كسرت احتكار السلاح العالمي بعقد **صفقة الأسلحة الشرقية**.
- (٥) ساهمت في تشكيل حركة عدم الإنحياز وظهر الدور الرائد لمصر مع **الهند ويوغسلافيا سابقاً** و **إندونيسيا** في **مؤتمر باندونج** عام ١٩٥٥م.

“عدم الانحياز”
عدم الانضمام إلى
أى من الكتلتين
الشرقية والغربية.

أسئلة عامة علم الدرس**أكمل:**

- (١) حدد قوانين الملكية الزراعية للفرد بنحو
- (٢) لتحقيق العدالة الاجتماعية عقب ثورة ٢٣ يوليو تم جعل التعليم في جميع
- (٣) لتحقيق العدالة الاجتماعية تم تحديد وإشراك العمال في مجالس الشركات والمصانع.
- (٤) تحرك الضباط الأحرار صباح يوم ٢٣ يوليو للسيطرة على المواقع المهمة في
- (٥) في الساعة السابعة والنصف صباح ٢٣ يوليو أذيع لثورة ٢٣ يوليو من دار الإذاعة المصرية.
- (٦) من مطالب ثورة ٢٣ يوليو أن يتنازل الملك عن الحكم لابنه الملك
- (٧) من أهداف ثورة ٢٣ يوليو القضاء على والاحتكار وسيطرة رأس المال على الحكم.
- (٨) من أهداف ثورة ٢٣ يوليو إقامة: جيش وطني قوى و..... و.....
- (٩) من إنجازات ثورة ٢٣ يوليو في مجال الصناعة إنشاء مصنع في حلوان ومصنع في أسوان.

بم تفسر:

- (١) أسباب قيام ثورة ٢٣ يوليو ١٩٥٢م؟
- (٢) سوء الأحوال الاجتماعية قبل ثورة ٢٣ يوليو ١٩٥٢م؟
- (٣) هزيمة الجيش المصري في حرب فلسطين ١٩٤٨م؟
- (٤) رحيل الملك فاروق عن مصر قبل الموعد المحدد؟
- (٥) عجز الأحزاب السياسية عن التعبير عن إرادة الشعب ومطالبه قبل ثورة ٢٣ يوليو؟

ما النتائج المترتبة على:

- (١) إصدار قانون الإصلاح الزراعي الأول سبتمبر ١٩٥٢م؟
- (٢) إنشاء السد العالي؟
- (٣) اهتمام ثورة ٢٣ يوليو ١٩٥٢م بمجال التجارة؟
- (٤) عقد اتفاقية ١٩٣٦م؟
- (٥) انتشار ظاهرة الاقطاع في المجتمع المصري؟

دل على صحة العبارات الآتية:

- (١) نجحت ثورة ٢٣ يوليو ١٩٥٢م في القضاء على الاستعمار وأعوانه؟
- (٢) نجاح ثورة ٢٣ يوليو ١٩٥٢م في القضاء على الاقطاع؟
- (٣) اهتمت ثورة ٢٣ يوليو ١٩٥٢م بالمرأة؟
- (٤) اهتمت ثورة ٢٣ يوليو بالتعليم؟

اقرأ ثم أجب:

«استقبل الشعب في صباح يوم ٢٣ يوليو نبأ قيام ثورة الجيش التي أعادت حكم مصر للمصريين»، في ضوء هذه العبارة وضح:

- (١) أهداف ثورة ٢٣ يوليو ١٩٥٢م؟
- (٢) إنجازات ثورة ٢٣ يوليو في المجال السياسي؟
- (٣) إنجازات ثورة ٢٣ يوليو في المجال العربي والدولي؟

رتب الأحداث الآتية:

- * اتفاقية الجلاء بين مصر وبريطانيا.
- * محاصرة الإنجليز الملك فاروق بقصر عابدين.
- * هزيمة الجيش المصري في حرب فلسطين.
- * إصدار قانون الإصلاح الزراعي الأول.

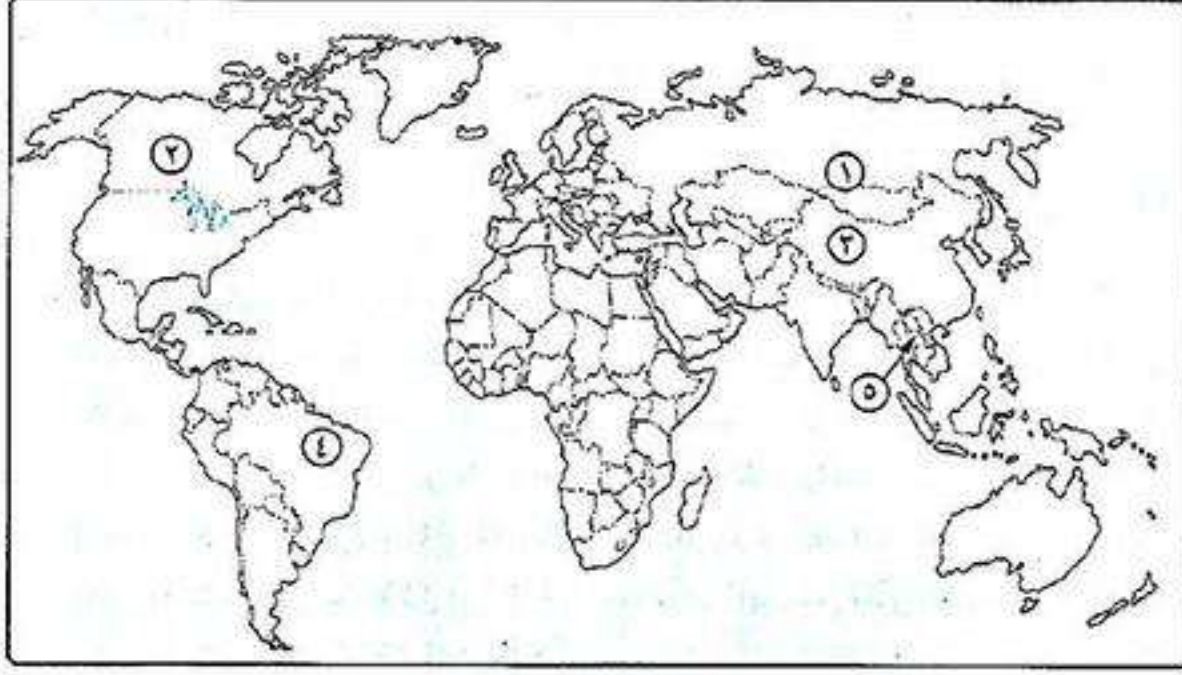
أمامك بعض الإنجازات انسب كل منها إلى المجال الذي تنتمي إليه:

- (١) كسر احتكار السلاح العالمي؟
- (٢) حل الأحزاب السياسية؟
- (٣) تمصير الشركات والبنوك؟
- (٤) إصدار قانون الإصلاح الزراعي الأول؟
- (٥) مساعدة الشعب الفلسطيني على قيام حكومة على أرضه؟
- (٦) تحديد ساعات العمل وإشراك العمال في مجالس إدارة الشركات؟

ما المقصود بكل من:

- (١) عدم الانحياز؟
- (٢) تنظيم الضباط الأحرار؟

اختبار

**أكتب ما تشير إليه الأرقام الآتية:**

- (١) أولى قارات العالم في إنتاج المطاط
- (٢) أولى قارات العالم في إنتاج الذرة
- (٣) أولى دول العالم في إنتاج القمح والشاي والقطن
- (٤) أولى دول العالم المنتجة للسكر
- (٥) أولى دول العالم المنتجة للمطاط

أكتب ما تشير إليه الجمل الآتية:

- (١) زراعة الأرض بشكل مكثف ولأكثر من مرة في العام لأشباع حاجات السكان المحليين من الغذاء.
- (٢) تنظيم كونه ضباط الجيش المصري قبل ثورة ٢٣ يوليو ١٩٥٢م للقضاء على الاستعمار والفساد.
- (٣) يستخرج من عصارة أشجار استوائية ويصنع منه اطارات السيارات.
- (٤) معاهدة جعلت مصر ميداناً للحرب العالمية الثانية.

بم تفسر:

- (١) هزيمة الجيش المصري في حرب فلسطين؟
- (٢) موافقة الملك فاروق على مطالب الثورة ومغادرته البلاد؟
- (٣) عجز الأحزاب السياسية عن التعبير عن إرادة الشعب ومطالبه؟
- (٤) يعد النشاط الزراعي من الأنشطة الاقتصادية الأساسية في العالم؟
- (٥) شهرة قارة أوروبا بإنتاج السكر من البنجر؟

- قارن بين:** (١) الزراعة الكثيفة والزراعة التجارية والعلمية من حيث: (المفهوم - أهم المحاصيل).
(٢) قصب السكر والبنجر من حيث: (ظروف الزراعة - أهم القارات والدول المنتجة).

من هو:

- (١) تولى رئاسة الحكومة المصرية في فبراير ١٩٤٤م؟
- (٢) أذاع البيان الأول لثورة ٢٣ يوليو من دار الإذاعة المصرية؟
- (٣) تنازل له الملك فاروق عن عرش مصر عام ١٩٥٢م؟
- (٤) أول رئيس لجمهورية مصر العربية عقب إلغاء الملكية ١٩٥٣م؟

اختر الإجابة الصحيحة:

- (١) من محاصيل الألياف
 - (٢) ينتج قصب السكر في كل قارات العالم ماعدا قارة
 - (٣) توقيع اتفاقية الجلاء أكتوبر ١٩٥٤م من إنجازات ثورة ٢٣ يوليو في المجال.
 - (٤) أول رئيس للجمهورية المصرية هو:
 - (٥) من الانجازات السياسية لثورة ٢٣ يوليو تأميم:
- (الذرة - الكتان - الشاي - المطاط)
(أفريقيا - أستراليا - أوروبا - آسيا)
(السياسي - الاجتماعي - الاقتصادي)
(محمد أنور السادات - جمال عبد الناصر - اللواء محمد نجيب)
(شركات التأمين - شركة قناة السويس - البنوك)

دل:

- (١) لم يؤدي توقيع معاهدة ١٩٣٦م للاستقلال التام لمصر؟

مصر والقضية الفلسطينية



* تتميز فلسطين بموقعها الجغرافي المتميز نسبياً مما كان سبباً في طمع الغزاة فيها على مر العصور.

- فلسطين هي دولة عربية لها أهمية خاصة في قلوب العرب مسلمين ومسيحيين
- لأن: (١) ولد فيها السيد المسيح عيسى عليه السلام.
- (٢) أسرى إليها بسيدنا محمد صلى الله عليه وسلم.
- (٣) بها المسجد الأقصى أولى القبلتين وثالث الحرمين.

* عاش في فلسطين المسلمين والمسيحيين وقليل من اليهود حتى قيام الحرب العالمية الأولى (١٩١٤م - ١٩١٨م).

الحركة الصهيونية ووعد بلفور



هرتزل

الحركة الصهيونية

هي حركة سياسية أسسها هرتزل في لندن عاصمة بريطانيا وكانت تنادي بإقامة وطن قومي خاص لليهود.

■ وعد بلفور:

أدركت بريطانيا أهمية فلسطين فقررت تأييد فكرة إقامة وطن قومي لليهود في فلسطين فأصدر بلفور وزير خارجية بريطانيا عام ١٩١٧م تصريح عُرف بـ (وعد بلفور) نص على: «تعهد بريطانيا ببذل مساعيها لإنشاء وطن قومي لليهود في فلسطين».

* قد وصف هذا الوعد: بأنه وعد من لا يملك (بريطانيا) لمن لا يستحق (اليهود).



بلفور

■ الانتداب البريطاني على فلسطين ١٩٢٠م - ١٩٤٨م:

وفقاً لنظام الانتداب الذي وضعتة عصبة الأمم:

- (١) قررت دول الحلفاء (الدول المنتصرة في الحرب العالمية الأولى) وضع فلسطين تحت الانتداب البريطاني وتنفيذ وعد بلفور.
- (٢) إعطاء بريطانيا حق الانتداب على فلسطين وفقاً لمؤتمر سان ريمو أبريل ١٩٢٠م.

■ إجراءات تنفيذ وعد بلفور:

اتخذت بريطانيا عدة اجراءات لتنفيذ وعد بلفور تمثلت في:

- (١) السماح بهجرة أعداد كبيرة من اليهود من جميع أنحاء العالم إلى فلسطين.
- (٢) السماح بانتقال ملكية الأراضي من عرب فلسطين لليهود عن طريق الشراء.

"الانتداب"

هو نظام وضعتة عصبة الأمم بعد انتهاء الحرب العالمية الأولى، وهو شكل من أشكال الاستعمار يقضى بوضع الدول التي كانت تابعة للدول المنهزمة (ألمانيا - الدولة العثمانية) تحت إدارة دول متقدمة للنهوض بها.



الحاج أمين الحسيني

موقف الشعب الفلسطيني من إجراءات تنفيذ وعد بلفور

- قام الشعب الفلسطيني بالعديد من الحركات الوطنية فيما بين عامي ١٩٢٠ : ١٩٤٨ م ومنها:
 - (١) انتفاضة ١٩٢٩ م.
 - (٢) قيام ثورة ١٩٣٦ م بقيادة اللجنة العربية برئاسة الحاج أمين الحسيني مفتي القدس.
 - (٣) قيام ثورة ١٩٣٩ م.

تقسيم فلسطين عام ١٩٤٧ م

* عرضت بريطانيا حل القضية الفلسطينية على هيئة الأمم المتحدة التي وافقت عام ١٩٤٧ م على تقسيم فلسطين إلى:

١ دولة عربية.

٢ دولة يهودية.

٣ منطقة دولية حيث تم وضع القدس تحت إدارة دولية.



* المواقف المختلفة بشأن قرار التقسيم عام ١٩٤٧ م:

• موقف الدول العربية: رفضت الدول العربية مشروع تقسيم فلسطين.

• موقف اليهود: وافق اليهود على مشروع التقسيم وقامت العصابات اليهودية المسلحة بالآتي:

- طرد الفلسطينيين من ديارهم.
- ارتكاب المذابح البشعة مثل **مذبحة دير ياسين**.

• موقف بريطانيا: امتنعت بريطانيا عن التصويت وأعلنت إنها ستسحب قواتها وتنتهي الانتداب على فلسطين في ١٤ مايو ١٩٤٨ م.



قيام دولة إسرائيل

* عقب خروج آخر جندي بريطاني من فلسطين في ١٥ مايو ١٩٤٨ م أعلن اليهود قيام دولة إسرائيل، واعترف بها كل من «الولايات المتحدة الأمريكية والاتحاد السوفيتي سابقاً».

الحروب بين العرب وفلسطين

* تعددت الحروب بين العرب وإسرائيل من عام ١٩٤٨ م وحتى ١٩٧٣ م وتمثلت في:

حرب السادس من أكتوبر ١٩٧٣ م

حرب الاستنزاف ١٩٦٩ م: ١٩٧٠ م

عدوان ٥ يونيو ١٩٦٧ م

العدوان الثلاثي على مصر ١٩٥٦ م

حرب فلسطين ١٩٤٨ م

حرب فلسطين ١٩٤٨م



الجيش العربي
في حرب فلسطين ١٩٤٨م

- تحركت الجيوش العربية نحو فلسطين عقب إعلان اليهود قيام دولة إسرائيل للأسباب الآتية:
 - (١) نصرته وانقاذ الشعب الفلسطيني من بطش اليهود.
 - (٢) مساعدة الشعب الفلسطيني على إقامة حكومة وطنية على أرضه.

الأسباب

- تمكنت الجيوش العربية في البداية من تحقيق انتصارات على القوات الإسرائيلية.
- تقدمت الولايات المتحدة الأمريكية باقتراح إلى مجلس الأمن تضمن:
 - وقف القتال.

أحداث
الحرب

- إقامة هدنة مدتها شهر يمتنع خلالها العرب واليهود عن جلب الأسلحة والمحاربين إلى فلسطين ويكون ذلك تحت إشراف دولي.

- لم يلتزم اليهود بالهدنة واخترقوها وبدأوا في تقوية قواتهم من حيث العدد والتسليح والتدريب.
- بدأ القتال مرة أخرى وظهر تفوق اليهود على جميع جبهات القتال مما أدى إلى تراجع وهزيمة الجيوش العربية.

- ترتب على هزيمة العرب في حرب فلسطين ١٩٤٨م، استيلاء اليهود على جميع أراضي فلسطين ماعدا:
 - (١) قطاع غزة تحت إدارة مصرية.
 - (٢) الضفة الغربية بها قوات أردنية.
 - (٣) القدس تم تقسيمها بين العرب واليهود.

نتائج حرب
فلسطين
١٩٤٨م

العدوان الثلاثي على مصر ١٩٥٦م

الأطراف إسرائيل - بريطانيا - فرنسا × مصر

- (١) عقدت مصر اتفاقية مع الاتحاد السوفيتي لتزويد مصر بالأسلحة لمواجهة أطماع إسرائيل والاعتداءات على الشعب الفلسطيني.
- (٢) مساندة مصر لحركات التحرر الوطني في الجزائر ضد الاستعمار الفرنسي.
- (٣) تأميم مصر قناة السويس في يوليو ١٩٥٦م مما أضر بمصالح الدولة الاستعمارية خاصة بريطانيا.

أسباب العدوان
الثلاثي على
مصر
١٩٥٦م

- احتلت القوات الإنجليزية والفرنسية مدينة بورسعيد وعجزت عن احتلال مدينة الإسمايلية لشدة المقاومة المصرية، انتهزت إسرائيل الفرصة وهاجمت سيناء وتوغلت فيها.

أحداث العدوان

- (١) المقاومة الباسلة من الجيش والشعب المصري.
- (٢) وقوف الشعوب العربية بجانب مصر.
- (٣) تهديد الاتحاد السوفيتي بالتدخل لوقف العدوان.
- (٤) رفض الولايات المتحدة الأمريكية استخدام القوة في حل النزاعات.
- (٥) تنديد الأمم المتحدة بالعدوان.

أسباب فشل
العدوان الثلاثي

- (١) انسحاب القوات الفرنسية والإنجليزية من بورسعيد ٢٣ ديسمبر ١٩٥٦م.
- (٢) انسحاب القوات الإسرائيلية من قطاع غزة وسيناء أوائل عام ١٩٥٧م.

نتائج فشل
العدوان الثلاثي

- (٣) وضع قوات طوارئ دولية بين مصر وإسرائيل.
- (٤) إدراك الدول العربية خطر إسرائيل وأطماعها في السيطرة على العالم العربي فقامت وحدة بين مصر وسوريا عام ١٩٥٨م واستمرت حتى عام ١٩٦١م.

* يعتبر يوم ٢٣ ديسمبر
عيداً للنصر وعيد سنوي
لمدينة بورسعيد.

العدوان الإسرائيلي، ٥ يونيو ١٩٦٧م

أسباب العدوان
الإسرائيلي
٥ يونيو ١٩٦٧م

* قامت إسرائيل بمساعدة الولايات المتحدة بالإعداد والتهيئة والتخطيط للعدوان. رغبة إسرائيل في القضاء على قوة مصر خاصة بعد فشل العدوان الثلاثي عن طريق استدراج مصر والدول العربية إلى حرب غير مستعدين لها.

■ قامت إسرائيل بحشد قواتها على الحدود مع سوريا عام ١٩٦٧م.
■ فقامت مصر بعدة إجراءات اتخذتها إسرائيل ذريعة للحرب وهي:

- إعلان مصر وقوفها إلى جانب سوريا تطبيقاً لاتفاقية الدفاع المشترك بينهما، فأرسلت مصر قواتها بسرعة إلى سيناء.
- مطالبة مصر قوات الطوارئ الدولية الموجودة على الحدود بينها وبين إسرائيل بالانسحاب من بعض النقاط.
- قيام مصر بإغلاق خليج العقبة في وجه الملاحة الإسرائيلية في مايو ١٩٦٧م لإحكام الحصار الاقتصادي الذي يفرضه العرب على إسرائيل.

أحداث العدوان

* رغم التحركات الدولية لمعالجة الموقف بين العرب وإسرائيل، قامت إسرائيل بغارات مفاجئة على المطارات المصرية في صباح يوم ٥ يونيو ١٩٦٧م وبدأت الحرب.

■ هزيمة العرب ونجاح إسرائيل في احتلال:

(١) قطاع غزة.

(٢) مدينة القدس العربية.

(٣) الضفة الغربية لنهر الأردن.

(٤) هضبة الجولان في سوريا.

(٥) شبه جزيرة سيناء حتى الضفة الشرقية لقناة السويس.

نتائج العدوان
الإسرائيلي
٥ يونيو ١٩٦٧م

* استولت إسرائيل على
فلسطين كلها عقب
عدوان ٥ يونيو ١٩٦٧م.

بم تفسر: هزيمة العرب العدوان الإسرائيلي على مصر ١٩٦٧م؟

كـ بسبب: (١) نقص التدريب وعدم توافر الأسلحة المتطور للقوات المصرية.

(٢) التفوق العسكري لإسرائيل خاصة سلاح الجو.

(٣) استخدام إسرائيل عنصر المفاجأة في ضرب المطارات المصرية بعد أن صورت

أجهزة تجسس أمريكية المواقع المصرية.

(٤) مساندة الولايات المتحدة وبعض دول أوروبا لأسرائيل عسكرياً وسياسياً واقتصادياً.

* تدخل مجلس الأمن وأصدر قرار رقم ٢٤٢ في نوفمبر ١٩٦٧م ونص على:

• إنهاء حالة الحرب بين العرب وإسرائيل.

• احترام سيادة دول المنطقة على أراضيها.

• حرية الملاحة في الممرات الدولية.

• إنشاء مناطق منزوعة السلاح.

• انسحاب إسرائيل من الأراضي التي احتلتها في ١٩٦٧م.

* موقف مصر وإسرائيل من قرار مجلس الأمن رقم ٢٤٢:

■ مصر: قبلت القرار والتزمت به.

■ إسرائيل: امتنعت عن تنفيذ القرار ولم تنسحب من الأراضي التي احتلتها.

إعادة بناء القوات المسلحة المصرية

- * قامت مصر بإعادة بناء القوات المسلحة المصرية (الجيش) على أسس جديدة من حيث: الاختيار والتدريب والتسليح.
- مرت عملية إعادة بناء القوات المسلحة بمرحلتين هما:

١ مرحلة الصمود والتصدي

- يقصد بها: تصدى القوات المصرية للاعتداءات الإسرائيلية.
- شملت عدة عمليات مهمة:
- معركة رأس العش: نجحت فيها القوات المصرية في التصدي لقوات إسرائيل عندما حاولت احتلال مدينة بورفؤاد.
- تدمير المدمرة الإسرائيلية إيلات: نجحت صواريخ البحرية المصرية في تدمير المدمرة إيلات في أكتوبر ١٩٦٧م.

٢ مرحلة (حرب الاستنزاف والمواجهة بين عامي ١٩٦٩ : ١٩٧٠م)



حائط صواريخ

- يقصد بها: استنزاف طاقات العدو الإسرائيلي في سيناء.
- قامت مصر في هذه المرحلة بالآتي:
- بناء حائط الصواريخ على الضفة الغربية لقناة السويس لمنع اختراق الطائرات الإسرائيلية الأجواء المصرية.
- القصف المستمر بالمدفعية لخط بارليف وتحصيناته على طول قناة السويس.
- * نتيجة لذلك تدخلت الولايات المتحدة وقدم وزير خارجيتها روجرز مبادرة عرفت باسم مبادرة روجرز لوقف إطلاق النار وحل النزاع سلمياً.

خلال مرحلة حرب الاستنزاف والمواجهة:

* استشهد الفريق أول عبد المنعم رياض الذي كان:

- رئيس أركان حرب القوات المسلحة المصرية.
- أحد أهم الأعمدة التي أعتمد عليها جمال عبد الناصر في بناء القوات المسلحة المصرية في حرب الاستنزاف.



الفريق أول عبد المنعم رياض

وفاة الرئيس جمال عبد الناصر

- في سبتمبر ١٩٧٠م توفي الرئيس جمال عبد الناصر وخلفه في رئاسة الجمهورية الرئيس محمد أنور السادات لتشهد مصر مرحلة جديدة من المواجهة مع إسرائيل هي حرب أكتوبر ١٩٧٣م.



جمال عبد الناصر

أسئلة عامة علم الدرس

أكمل:

- (١) وضعت فلسطين تحت الانتداب البريطاني وفقاً لمؤتمر أبريل ١٩٢٠ م.
- (٢) امتنعت عن التصويت على مشروع تقسيم فلسطين عام ١٩٤٧ م.
- (٣) انسحبت القوات الفرنسية والإنجليزية من مدينة في ديسمبر ١٩٥٦ م.
- (٤) إحكاماً للحصار الاقتصادي الذي يفرضه العرب على إسرائيل أغلقت مصر
- (٥) قامت مصر في حرب الاستنزاف بتدمير
- (٦) استولت إسرائيل على هضبة الجولان عقب عام ١٩٦٧ م.

بم تفسر:

- (١) وقوف مصر إلى جانب سوريا عام ١٩٦٧ م؟
- (٢) إغلاق مصر لخليج العقبة في وجه الملاحة الإسرائيلية؟
- (٣) هزيمة الدول العربية في عدوان ٥ يونيو ١٩٦٧ م؟
- (٤) تقديم الولايات المتحدة لمبادرة روجرز ١٩٧٠ م؟

ما المقصود بكل من:

- (١) الحركة الصهيونية؟
- (٢) انتداب؟

إلى من تنسب الأعمال الآتية:

- (١) مؤسس الحركة الصهيونية في لندن؟
- (٢) مفتى القدس وقاد اللجنة العربية للقيام بثورة ١٩٣٦ م في فلسطين؟

ضع علامة (✓) أو (×) مع التصويب:

- (١) ترجع جذور الحركة الصهيونية كحركة سياسية إلى بلفور. ()
- (٢) عُرفت مرحلة تصدى القوات المصرية للاعتداءات الإسرائيلية باسم حرب الاستنزاف. ()
- (٣) أغلقت مصر خليج العقبة أمام الملاحة الإسرائيلية عام ١٩٦٧ م. ()

ما النتائج المترتبة على:

- (١) وضع فلسطين تحت الانتداب البريطاني؟
- (٢) العدوان الثلاثي على مصر ١٩٥٦ م؟
- (٣) معركة رأس العش؟
- (٤) بناء مصر حائط للصواريخ على الضفة الغربية لقناة السويس عام ١٩٦٩ م؟

أجب عما يأتي:

«تعهدت بريطانيا بإنشاء وطن قومي لليهود في فلسطين عن طريق وعد بلفور ١٩١٧ م الذي وصف بأنه وعد ممن لا يملك

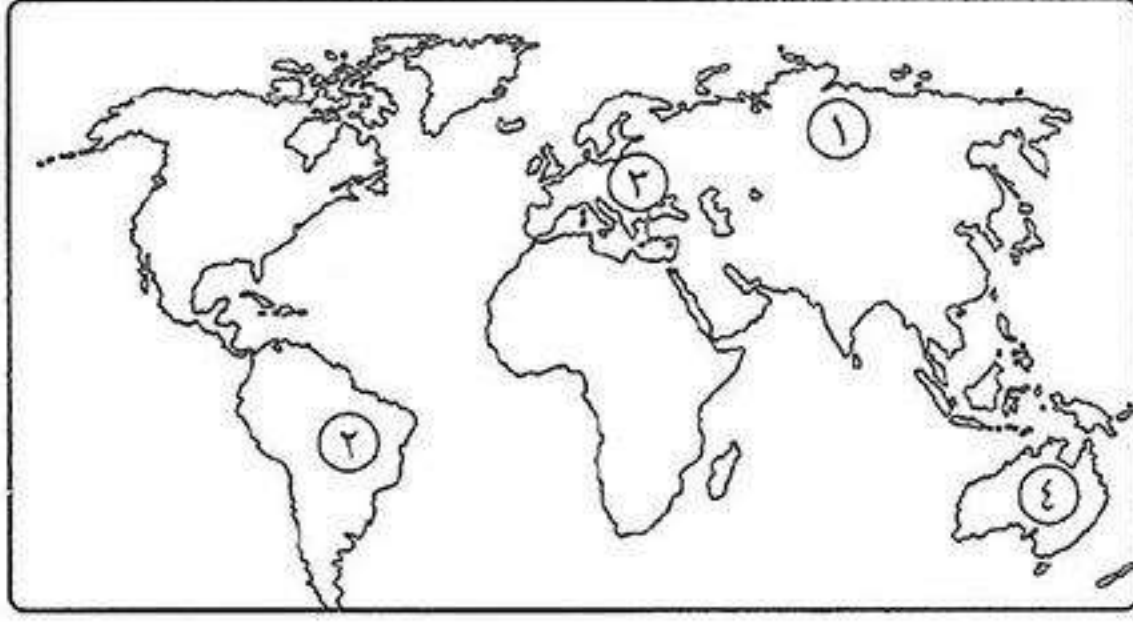
لمن لا يستحق»، في ضوء هذه العبارة وضح:

- (١) إجراءات تنفيذ وعد بلفور؟
- (٢) موقف الشعب الفلسطيني من إجراءات تنفيذ وعد بلفور؟
- (٣) أهم الحروب التي قامت بين العرب واليهود؟

وضح:

- (١) بنود قرار مجلس الأمن رقم ٢٤٢ الذي صدر في نوفمبر ١٩٦٧ م.
- (٢) مراحل إعادة بناء القوات المسلحة المصرية.

اختبار

**أكتب ما تشير إليه الأرقام الآتية:**

- ١) أولى دول قارة آسيا إنتاجاً للقمح
- ٢) ثانياً قارات العالم في تربية الأبقار
- ٣) أولى قارات العالم إنتاجاً للسكر من البنجر
- ٤) ثانياً دول العالم في تربية الأغنام

بم تفسر :

- ١) زيادة معدل استهلاك العالمى للحوم؟
- ٢) يعتبر النشاط الزراعى من الأنشطة الاقتصادية المهمة فى العالم؟
- ٣) فلسطين لها أهمية خاصة فى قلوب العرب والمسلمين؟
- ٤) هزيمة الجيوش العربية فى حرب فلسطين ١٩٤٨ م؟

ضع علامة (✓) أو (×) مع التصويب:

- ١) القارة الوحيدة التى لا يزرع فيها قصب السكر هى أفريقيا. ()
- ٢) تنتشر الزراعة الكثيفة على هوامش الغابات الاستوائية. ()
- ٣) وافقت عصبة الأمم على قرار تقسيم فلسطين عام ١٩٤٧ م. ()
- ٤) أعلن اليهود قيام دولة إسرائيل فى ١٤ مايو ١٩٤٨ م. ()
- ٥) حاصر الإنجليز قصر عابدين فى سبتمبر ١٩٥٢ م. ()

اختر الإجابة الصحيحة مما بين الأقواس:

- ١) سيطر على جميع قطاعات الجيش المصرى بعد إذاعة البيان الأول لثورة ٢٣ يوليو ١٩٥٢ م.
(جمال عبد الناصر - أنور السادات - محمد نجيب - حسنى مبارك)
- ٢) من الإنجازات الاجتماعية لثورة ٢٣ يوليو ١٩٥٢ م. (إعلان الجمهورية - مجانية التعليم - تأميم قناة السويس - حل الأحزاب السياسية)
- ٣) أولى دول العالم فى إنتاج قصب السكر. (فرنسا - الهند - البرازيل - مصر)
- ٤) تعد الصين أولى دول العالم المنتجة للحوم الحمراء ومعظمها لحوم. (أغنام - أبقار - خنازير - إبل)

قارن بين: ١) الزراعة البسيطة والزراعة الكثيفة من حيث: (أماكن انتشارها - خصائصها - أهم محاصيلها).

٢) الأغنام والأبقار من حيث: (الأهمية - الدول المربية).

أكتب ما تشير إليه الجمل الآتية:

- ١) زراعة تتم فى حقول واسعة وتهدف للإنتاج التجارى الضخم.
- ٢) يستخرج من عصارة أشجار استوائية ويدخل فى صناعة إطارات السيارات.
- ٣) أبشع المذابح التى ارتكبتها العصابات اليهودية فى فلسطين.
- ٤) أذاع البيان الأول لثورة ٢٣ يوليو بصوته.

أجب عما يأتى:

«تعتبر الزراعة أقدم الحرف التى عرفها الإنسان وكانت سبباً فى استقراره على ضفاف الأنهار»، فى ضوء العبارة أجب عن الآتى:

- ١) أهم خصائص الزراعة التجارية والعلمية؟
- ٢) ما أهم محصول تشتهر به مصر عالمياً؟

حرب أكتوبر ١٩٧٣م

* خاض الجيش المصري حرباً أخرى ضد إسرائيل وهي حرب السادس من أكتوبر ١٩٧٣م / العاشر من رمضان ١٣٩٣هـ.

حرب أكتوبر ١٩٧٣م

الأطراف مصر وسوريا X إسرائيل.

(١) رفض إسرائيل لكل نداءات السلام بالانسحاب من الأراضي التي احتلتها في عدوان

الأسباب

٥ يونيو ١٩٦٧م بموجب قرار مجلس الأمن رقم ٢٤٢.

(٢) رغبة مصر وسوريا على استرداد شبه جزيرة سيناء والجولان و نحو آثار نكسة يونيو ١٩٦٧م.

■ حيث قامت مصر بالآتي:

تهيئة الجبهة العربية عن طريق

- (١) تصفية الخلافات العربية وتوحيد الصف العربي.
- (٢) الاستفادة من كل الموارد والإمكانات العربية المتاحة.

تهيئة الجبهة الداخلية فـ مصر عن طريق

- (١) تجهيز الجيش وتسليحه بأحدث الأسلحة وتدريبه عليها.
- (٢) إلغاء الحراسات والإجراءات المقيدة للحريات.
- (٣) رفع الرقابة عن الصحف.
- (٤) القضاء على مراكز القوى.
- (٥) إصدار دستور جديد للبلاد «دستور ١٩٧١م».

الاستعدادات

للحرب:

أحداث حرب أكتوبر ١٩٧٣م

١ علم الجبهة المصرية



- أعطى الرئيس محمد أنور السادات إشارة بدء الحرب وبدأت العمليات العسكرية.
- قام سلاح الطيران المصري بقيادة محمد حسني مبارك بضربة جوية ناجحة، وقامت المدفعية بإطلاق النيران على طول قناة السويس مما أدى إلى:

- (١) تحطيم أعداد كبيرة من الطائرات والمعدات العسكرية الإسرائيلية.
- (٢) تدمير خط بارليف (أسطورة إسرائيل) في ست ساعات.
- (٣) إنشاء معابر على طول قناة السويس لمرور الدبابات والمدرعات والآليات العسكرية المصرية.
- (٤) انتشار القوات المصرية على الضفة الشرقية لقناة السويس ورفع علم مصر عليها.
- (٥) أسر مئات الجنود الإسرائيليين.

علم الجبهة السورية



- قامت القوات السورية بالهجوم في نفس اللحظة التي بدأت فيها القوات المصرية الهجوم طبقاً للاتفاق بين القيادة العسكرية للبلدين **حيث:**
- عبرت الطائرات السورية إلى منطقة الجولان المحتلة.
- اندفعت الدبابات والمدرعات السورية نحو **خط أكون** «خط الدفاع الإسرائيلي في هضبة الجولان بإثايل خط بارليف».
- دارت معارك جوية عديدة بين الطيران الإسرائيلي والطيران السوري الذي استمر يقدم دعمه للقوات البرية التي اخترقت خط الدفاع الإسرائيلي ودمرته تماماً.

نتيجة للخسائر الكبيرة في أعداد الجنود والطائرات الإسرائيلية على الجبهتين المصرية والسورية طلبت إسرائيل المساعدة من الولايات المتحدة الأمريكية.

دور الدول العربية والولايات المتحدة أثناء حرب أكتوبر ١٩٧٣ م

دور الولايات المتحدة الأمريكية في الحرب	دور الدول العربية في الحرب (الدعم العربي)	
(١) أقامت جسراً جواً لتقديم المساعدات العسكرية إلى إسرائيل. (٢) قدمت معلومات عسكرية لإسرائيل ساعدتها في إحداث ثغرة في منطقة الدفرسوار.	قدمت بعض الدول العربية دعماً عسكرياً لمصر وسوريا مثل: العراق والكويت والسعودية والأردن والسودان وليبيا والمغرب وتونس والجزائر.	عسكرياً
قدمت مساعدات مالية ضخمة لإسرائيل.	قدمت بعض الدول العربية دعماً مالياً لمصر وسوريا مثل: قطر والإمارات والسعودية والجزائر.	مالياً
تدخلت مع الدول الأعضاء في مجلس الأمن وتم إصدار القرار (رقم ٣٣٨) الذي نص على: وقف جميع الأعمال الحربية بدءاً من يوم ٢٢ أكتوبر ١٩٧٣ م، وبعدها بدأت مفاوضات بين الطرفين (المصري والإسرائيلي).	أصدر وزراء النفط العربي قراراً في اجتماعهم بالكويت نص على: (١) خفض إنتاج البترول. (٢) حظر الصادرات النفطية إلى الولايات المتحدة الأمريكية خاصة حينما طلب الرئيس الأمريكي مساعدات عاجلة لإسرائيل.	سياسياً

النتائج والدروس المستفادة من حرب أكتوبر ١٩٧٣ م

- تعتبر نقطة تحول في الصراع العربي الإسرائيلي حيث أثبتت أن منطق القوة لا يمنح السلام.
- تخطيط إسطورة الجيش الإسرائيلي الذي لا يقهر وعودة الثقة للمقاتل المصري والعربي.
- تقويض (هدم) أسس العقيدة القتالية للقوات الإسرائيلية.
- انتهاء نظرية الأمن الإسرائيلية بعد انهيار الخطوط الدفاعية والتحصينات القوية مثل خط بارليف.
- أنهت حالة اللا حرب واللا سلم وأفسحت المجال للمفاوضات السياسية من منطلق القوة العربية.
- أظهرت أهمية استخدام سلاح النفط العربي في السياسة العربية.
- أثرت الحرب في العلاقات بين إسرائيل وبعض الدول المحبة للسلام في آسيا وأفريقيا وأوروبا.

شخصيات مضيئة من حرب أكتوبر ١٩٧٣م



المتشير أحمد إسماعيل

المتشير أحمد إسماعيل

- كان مديراً للمخابرات العامة ثم وزيراً للحربية وقائد للقوات المسلحة.
- تولى القيادة العامة الموحدة للقوات المصرية والسورية في حرب أكتوبر ١٩٧٣م.
- تولى التخطيط والتنسيق على الجبهتين المصرية والسورية بدقة ومهارة عالية.
- قاد خطة الخداع لصرف أنظار إسرائيل عن التجهيزات الهجومية.
- حصل على وسام **نجمة سيناء** وهو أعلى الأوسمة العسكرية.



الفريق سعد الدين الشاذلي

الفريق سعد الدين

- اختاره الرئيس محمد أنور السادات **رئيساً لأركان حرب** القوات المسلحة عام ١٩٧١م.
- شارك مع القادة العسكريين في تطوير القوات المسلحة.
- شارك في وضع خطة عبور قناة السويس وتحطيم خط بارليف وقام بتنفيذ الخطة في حرب أكتوبر ١٩٧٣م.
- تم تكريمه في الذكرى ٣٩ لنصر أكتوبر بمنح اسمه «**قناة النيل العظمى**».



الفريق محمد عبد الغنى الجمسى

الفريق محمد عبد الغنى الجمسى

- شغل منصب رئيس هيئة عمليات القوات المسلحة ١٩٧٢م، وقامت الهيئة بإعداد دراسة عن أنسب التوقيتات للقيام بالعمليات الهجومية على إسرائيل على الجبهتين المصرية والسورية مما كان له الأثر في إحراز النصر.
- أصبح رئيساً **لأركان حرب** القوات المسلحة عام ١٩٧٣م بعد الحرب مباشرة.

أسئلة عامة علم الدرس

أكمل:

- (١) يعرف خط الدفاع الإسرائيلي في سيناء بخط بينما يعرف على الحدود مع سوريا بخط
- (٢) حصل على وسام نجمة سيناء الذي يعد أعلى الأوسمة العسكرية.
- (٣) شارك في وضع خطة العبور وقام بتنفيذها.
- (٤) شغل منصب رئيس هيئة عمليات القوات المسلحة المصرية عام ١٩٧٢م.
- (٥) قام سلاح الطيران المصري بضربة جوية ناجحة بقيادة
- (٦) قدمت الولايات المتحدة معلومات عسكرية ساعدت إسرائيل في إحداث ثغرة

- (٧) أنهت حرب أكتوبر ١٩٧٣ م حالة في المنطقة وأفسحت المجال للمفاوضات.
- (٨) تدخلت الولايات المتحدة لانتهاء حرب أكتوبر وتم إصدار قرار مجلس الأمن رقم الى ينص على وقف القتال.
- (٩) منهية الأوضاع الداخلية في مصر قبل حرب أكتوبر القضاء على مراكز

بم تفسر:

- (١) قيام حرب أكتوبر ١٩٧٣ م؟
- (٢) تجنب الطائرات الإسرائيلية الاقتراب من الضفة الغربية لقناة السويس؟
- (٣) إحداث ثغرة الدفرسوا أثناء حرب أكتوبر ١٩٧٣ م؟
- (٤) طلب إسرائيل المساعدة من الولايات المتحدة أثناء حرب أكتوبر ١٩٧٣ م؟
- (٥) أنهت حرب أكتوبر ١٩٧٣ م نظرية الأمن الإسرائيلية؟

ضع علامة (✓) أو (×) مع التصويب:

- () (١) شغل سعد الدين الشاذلي منصب رئيس هيئة عمليات القوات المسلحة عام ١٩٧٢ م.
- () (٢) أصدر الرئيس جمال عبد الناصر دستور ١٩٧١ م.
- () (٣) قرر وزراء النفط العربي أثناء حرب أكتوبر حظر تصدير البترول لأوروبا.
- () (٤) أنهت حرب أكتوبر نظرية الأمن الإسرائيلية.
- () (٥) تمكنت القوات السورية من تدمير خط بارليف في ست ساعات.
- () (٦) قدمت الدول العربية دعماً عسكرياً ومالياً لمصر وسوريا أثناء حرب أكتوبر ١٩٧٣ م.

ما النتائج المترتبة على:

- (١) الضربة الجوية الناجحة التي قامت بها مصر في حرب أكتوبر ١٩٧٣ م؟
- (٢) تعرض إسرائيل للخسائر على الجبهتين المصرية والسورية؟
- (٣) نتائج حرب أكتوبر ١٩٧٣ م؟ (يكتفى بثلاثة)
- (٤) تقديم الولايات المتحدة معلومات عسكرية لإسرائيل أثناء حرب أكتوبر ١٩٧٣ م؟
- (٥) اجتماع وزراء النفط العربي في الكويت أثناء حرب أكتوبر ١٩٧٣ م؟

قارن بين:

- (١) أوجه الشبه والاختلاف بين خطوط إسرائيل الدفاعية على الجبهتين المصرية والسورية؟

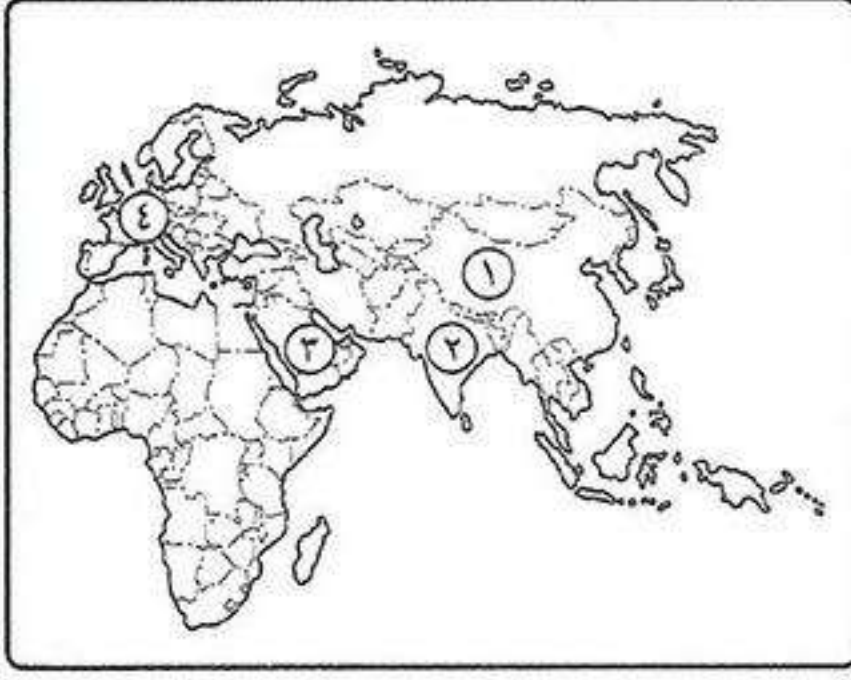
أيد بالأدلة:

- (١) كان للدعم السياسي العربي أثره في نصر أكتوبر ١٩٧٣ م؟
- (٢) دعمت الولايات المتحدة إسرائيل عسكرياً ومالياً أثناء حرب أكتوبر ١٩٧٣ م؟
- (٣) اتخذت مصر عدة إجراءات داخلية وخارجية لتهيئة الوضع لحرب أكتوبر ١٩٧٣ م؟

اختر الإجابة الصحيحة:

- (١) قدمت الولايات المتحدة عام ١٩٧٣ م معلومات عسكرية لإسرائيل ساعدتها على إحداث ثغرة
(رأس العش - الإسماعيلية - الدفرسوار - القنطرة)
- (٢) أقامت جسراً جويّاً من المساعدات العسكرية عام ١٩٧٣ م لإنقاذ إسرائيل من الهزيمة.
(فرنسا - إنجلترا - الولايات المتحدة - الاتحاد السوفيتي)
- (٣) رئيس أركان حرب القوات المسلحة عام ١٩٧١ م والذي منح قلادة النيل العظمى
(عبد المنعم رياض - أحمد إسماعيل - محمد عبد الغنى الجمسى - سعد الدين الشاذلي)

اختبار

**أكتب ما تشير إليه الأرقام الآتية:**

- (١) أولى دول العالم إنتاجاً للأسماك
- (٢) من أهم الدول الآسيوية المنتجة للقطن
- (٣) أولى دول العالم إنتاجاً للبتروال
- (٤) قارة تتركز بها زراعة البنجر

ضع علامة (✓) أو (×) مع التصويب:

- () (١) يعتمد الرعى البدائي على التخصص في تربية حيوان واحد.
- () (٢) أكثر القارات استخداماً للطاقة النووية هي أوروبا.
- () (٣) يتم إنتاج الألومنيوم من معدن المنجنيز.
- () (٤) قائد القيادة الموحدة للقوات المصرية والإسرائيلية في حرب أكتوبر هو المشير أحمد إسماعيل.
- () (٥) طلبت مصر من قوات الطوارئ الدولية الإنسحاب من على حدودها عام ١٩٦٧ م.

بم تفسر:

- (١) قلة عدد العاملين بحرفة الرعى البدائي في صحراء شبه الجزيرة العربية وبادية الشام؟
- (٢) أهمية معدن النحاس؟
- (٣) توسع العالم في استخدام الغاز الطبيعي كبديل لمصادر الطاقة الأخرى؟
- (٤) فشل العدوان الثلاثي على مصر؟
- (٥) هزيمة الجيش المصري في حرب فلسطين ١٩٤٨ م؟

حدد الدول الأولى عالمياً في إنتاج كل من:

- (١) قصب السكر. (٢) القمح. (٣) الألومنيوم. (٤) البترول.

اختر الإجابة الصحيحة مما بين الأقواس:

- (١) أولى دول العالم إنتاجاً للمطاط الطبيعي.
 - (٢) استمرت الوحدة بين مصر وسوريا لمدة سنوات.
 - (٣) تعد قارة آسيا أولى قارات العالم إنتاجاً لـ .
 - (٤) وضعت فلسطين تحت الانتداب البريطاني وفقاً لقرارات مؤتمر.
 - (٥) أعطى الرئيس إشارة بدء حرب أكتوبر ١٩٧٣ م.
- (الصين - الهند - البرازيل - تايلاند)
(خمسة - سبع - تسع - ثلاث)
(القمح - الغاز الطبيعي - الطاقة النووية - البنجر)
(لندن - الصلح - كامب ديفيد - سان ريمو)
(محمد نجيب - جمال عبدالناصر - السادات - مبارك)

دليل:

- (١) لم تكن قرارات الأمم المتحدة عام ١٩٤٧ م في مصلحة القضية الفلسطينية؟

أكتب ما تشير إليه الجمل الآتية:

- (١) نوع من أنواع الرعى يمارسه سكان المناطق الصحراوية في مساحات واسعة في قارات العالم.
- (٢) أذاع أول بيان لثورة ٢٣ يوليو ١٩٥٢ م.
- (٣) قاد اللجنة العربية في ثورة عام ١٩٣٦ م.

ما النتائج المترتبة على:

- (١) إصدار قوانين الإصلاح الزراعي؟
- (٢) إنشاء السد العالي؟

مصر والصراع العربي الإسرائيلي

* حققت حرب أكتوبر ١٩٧٣ م بعض أهدافها ومنها تحريك القضية الفلسطينية نحو الحل الشامل للصراع العربي الإسرائيلي واختيار مبدأ الأرض مقابل السلام.

سياسة مصر نحو إنهاء الصراع العربي الإسرائيلي لتحقيق السلام تمثلت في:

تأييد اتفاقية أوسلو للسلام ١٩٩٣ م	المشاركة في مؤتمر مدريد للسلام ١٩٩١ م	اللجوء للتحكيم الدولي لاستعادة طابا	معاهدة السلام مارس ١٩٧٩ م	مؤتمر كامب ديفيد سبتمبر ١٩٧٨ م	مبادرة الرئيس السادات لزيرة إسرائيل ١٩٧٧ م
---	---	---	---------------------------------	--------------------------------------	--

١ مبادرة الرئيس السادات لزيارة إسرائيل من أجل السلام ١٩٧٧ م

- بعد حرب أكتوبر ١٩٧٣ م فكر الرئيس السادات في إنهاء الصراع العربي / الإسرائيلي سلمياً فقام بزيارة إسرائيل عام ١٩٧٧ م وهناك:
 - نادى بالسلام العادل لكل شعوب المنطقة.
 - دعا العالم لمساندته في تحقيق السلام الدائم بعد سلسلة حروب استنزفت موارد البلاد البشرية والمالية.



الرئيس السادات في إسرائيل

ما النتائج المترتبة على: مبادرة السادات لزيارة إسرائيل ١٧٩٩ م؟
كم ترتب على ذلك: تمهيد الطريق أمام إسرائيل للقبول بمبدأ التفاوض مع الأطراف المعنية بقضية الصراع العربي / الإسرائيلي.

٢ مؤتمر كامب ديفيد سبتمبر ١٩٧٨ م

- دعا الرئيس الأمريكي كارتر كلاً من الرئيس محمد أنور السادات ورئيس وزراء إسرائيل **مناحم بيجين** لعقد اجتماعات في **كامب ديفيد** بالولايات المتحدة الأمريكية.



إجتماعات كامب ديفيد

ما النتائج المترتبة على: مؤتمر كامب ديفيد سبتمبر ١٩٧٨ م؟
كم ترتب على ذلك: التوصل إلى إطار اتفاق (معاهدة) للسلام بين مصر وإسرائيل.



مذكرات السلطان

www.facebook.com/EL.Sulttan

٣ معاهدة السلام مارس ١٩٧٩م



توقيع معاهدة السلام

■ أطرافها: مصر وإسرائيل بمشاركة ورعاية الولايات المتحدة الأمريكية.

■ أهم نصوصها:

- (١) إنهاء حالة الحرب بين مصر وإسرائيل وحل المنازعات بالطرق السلمية.
- (٢) التطبيق الكامل لقرار مجلس الأمن رقم ٢٤٢.
- (٣) انسحاب إسرائيل الكامل من سيناء التي احتلتها عام ١٩٦٧م.
- (٤) احترام كل طرف لسيادة واستقلال الطرف الآخر.
- (٥) احترام حرية الملاحة في الممرات الدولية.
- (٦) إقامة علاقات ودية (سياسية - اقتصادية - ثقافية) بين البلدين.
- (٧) إقامة مناطق محدودة السلاح على جانبي الحدود مع تحديد عدد الأسلحة والقوات.
- (٨) البدء بمفاوضات لإنشاء حكم ذاتي للفلسطينيين في الضفة الغربية وقطاع غزة.

ما النتائج المترتبة على: عقد معاهدة السلام مارس ١٩٧٩م؟

كما ترتب على ذلك: رفع العلم المصري فوق سيناء في ٢٥ أبريل ١٩٨٢م بعد استعادتها كاملة، فيما عدا منطقة طابا على رأس خليج العقبة.

إغتيال الرئيس محمد أنور السادات

اغتيال السادات أثناء الاحتفال
بذكرى حرب أكتوبر ١٩٨١م

- بالرغم من الجهود التي بذلها الرئيس السادات لتحقيق السلام وتأييده لكل المبادرات السياسية التي تتفق مع الأهداف والمواقف العربية إلا أنه تم إغتياله أثناء الاحتفال السنوي بذكرى ٦ أكتوبر ١٩٨١م.
- خلف الرئيس السادات الرئيس محمد حسني مبارك وبدأت صفحة جديدة في مسار تحقيق السلام العادل والشامل للصراع العربي / الإسرائيلي.

٤ اللجوء للتحكيم الدولي لاستعادة طابا

- حدث خلاف حول تعيين مكان بعض علامات الحدود، ونتيجة لذلك اتفق الطرفان (مصر وإسرائيل) على إحالة قضية طابا إلى هيئة تحكيم دولي «محكمة العدل الدولية».

ما النتائج المترتبة على: عرض قضية طابا على هيئة تحكيم دولي؟

كما ترتب على ذلك: أصدرت هيئة التحكيم بمحكمة العدل الدولية في سبتمبر ١٩٨٨م حكمها لصالح مصر وعادت طابا إلى السيادة المصرية في مارس ١٩٨٩م في عهد الرئيس محمد حسني مبارك.

٥ المشاركة في مؤتمر مدريد للسلام ١٩٩١م

- شاركت مصر بفاعلية في مؤتمر السلام بمدريد «عاصمة إسبانيا» عام ١٩٩١م، برعاية كل من الولايات المتحدة الأمريكية والاتحاد السوفيتي سابقاً.
- دعا هذا المؤتمر إلى: حل الصراع العربي/ الإسرائيلي على ضوء قرارات مجلس الأمن وعلى أساس مبدأ الأرض مقابل السلام.

٦ تأييد اتفاقية أوسلو للسلام ١٩٩٢م

- ترتب على مؤتمر مدريد للسلام حدوث مفاوضات سرية بين إسرائيل ومنظمة التحرير الفلسطينية ترتب عليها توقيع اتفاق برعاية أمريكية في سبتمبر ١٩٩٣م بواشنطن ونصت على:

نصوص الاتفاقية
هي نتائج الاتفاقية

- (١) إقامة سلطة حكومية ذاتية انتقالية فلسطينية (تعرف الآن بالسلطة الوطنية الفلسطينية).
- (٢) إنشاء قوة شرطة فلسطينية لضمان حفظ الأمن والنظام.
- (٣) إقامة مجلس تشريعي منتخب للشعب الفلسطيني في قطاع غزة والضفة الغربية لفترة انتقالية.
- (٤) تغطي المفاوضات فيما بعد القضايا المتبقية (القدس - اللاجئون - الحدود - المستوطنات - الترتيبات الأمنية - التعاون - العلاقات).

* أيدت مصر هذه الاتفاقية وما حدث بعدها من اتفاقيات أخرى تتعلق بالانسحاب الإسرائيلي من الأراضي المحتلة وإقامة سلطة وطنية فلسطينية.

مزايا تحقيق السلام و إنهاء الصراع العربي الإسرائيلي

* إن اختيار السلام بدلاً من الحرب التي تستنزف موارد البلاد الاقتصادية والبشرية يعود بالنفع على الدول العربية ويحقق ما يلي: (١) الاستقرار الداخلي للدول العربية.

- (٢) دفع عجلة التنمية الاقتصادية والاجتماعية وإصلاح البنية الأساسية للبلاد.
- (٣) تشجيع رؤس الأموال العربية والأجنبية على الاستثمار في مصر والدول العربية.
- (٤) تنشيط حركة السياحة مما يؤدي إلى: • زيادة الدخل القومي.
- توفير العملات الأجنبية.
- (٥) إقامة المشروعات وتحقيق التنمية في مصر والدول العربية.



مذكرات السلطان

www.facebook.com/EL.Sulttan

أسئلة عامة على الدرس

أكمل:

- (١) بادر الرئيس بزيارة إسرائيل من أجل السلام عام
- (٢) دعا الرئيس الأمريكي كل من الرئيس السادات وبيجين رئيس وزراء إسرائيل لعقد مؤتمر
- (٣) تم اغتيال السادات عقب عقد مارس ١٩٧٩ م.
- (٤) خلف السادات الرئيس في حكم مصر عام ١٩٨١ م.
- (٥) تم عقد مؤتمر للسلام عام ١٩٩١ م برعاية كل من الولايات المتحدة والاتحاد السوفيتي سابقاً.
- (٦) نصت اتفاقية على إنشاء سلطة وطنية فلسطينية ذاتية.
- (٧) تم رفع العلم في سيناء بعد استعادتها عام ١٩٧٩ م ماعدا
- (٨) ترتب على مؤتمر مدريد للسلام عقد مفاوضات سرية بين إسرائيل و.....

بم تفسر:

- (١) زيارة الرئيس السادات لإسرائيل عام ١٩٧٧ م؟
- (٢) أهمية توقيع اتفاقية أوسلو للسلام عام ١٩٩٣ م؟
- (٣) مشاركة مصر بفاعلية في مؤتمر مدريد للسلام بإسبانيا عام ١٩٩١ م؟

قارن بين:

- (١) مؤتمر مدريد للسلام واتفاقية أوسلو للسلام من حيث النتائج.

أختر الإجابة الصحيحة:

- (١) كانت معاهدة السلام بين مصر وإسرائيل في ١٩٧٩ م برعاية. (أوروبية - أمريكية - الاتحاد السوفيتي - عربية)
- (٢) في مارس ١٩٨٩ م استردت مصر منطقة (رفح - طابا - العريش - القنطرة)
- (٣) أجريت مفاوضات سلام بين الفلسطينيين والإسرائيليين في (كامب ديفيد - أوسلو - مدريد - باندونج)
- (٤) إقامة سلطة وطنية فلسطينية نصت عليها اتفاقية (لندن - أوسلو - جنيف - باريس)
- (٥) انسحبت إسرائيل من سيناء ماعدا طابا عام. (مارس ١٩٨٩ م - ٢٥ أبريل ١٩٨٢ م - ٦ أكتوبر ١٩٧٣ م)

ما النتائج المترتبة على:

- (١) مبادرة السادات لزيارة إسرائيل عام ١٩٧٧ م؟
- (٢) مؤتمر كامب ديفيد سبتمبر ١٩٧٨ م؟
- (٣) معاهدة السلام مارس ١٩٧٩ م؟
- (٤) صدور حكم هيئة التحكيم بمحكمة العدل الدولية سبتمبر ١٩٨٨ م؟
- (٥) عقد مؤتمر مدريد للسلام ١٩٩١ م؟

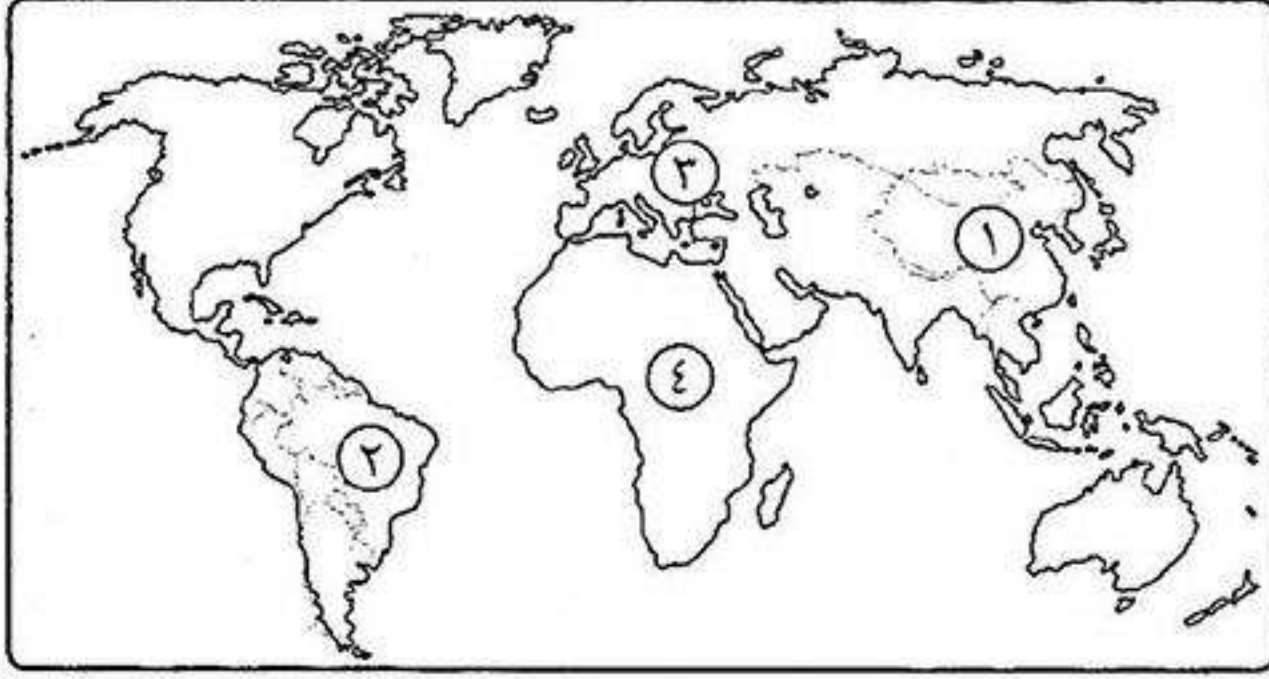
دل:

- (١) لتحقيق السلام وحل الصراع العربي الإسرائيلي مزايا عديدة؟

إلى من تنسب الأعمال الآتية:

- (١) نادى بالسلام العادل لكل شعوب المنطقة وزار إسرائيل عام ١٩٧٧ م؟
- (٢) دعا إلى عقد مؤتمر كامب ديفيد للتوصل إلى إطار للسلام بين مصر وإسرائيل؟
- (٣) خلف الرئيس السادات في حكم مصر؟
- (٤) مدينة عقد فيها مؤتمر السلام عام ١٩٩١ م برعاية أمريكية والاتحاد السوفيتي سابقاً؟

اختبار

**أكتب ما تشير إليه الأرقام الآتية:**

- (١) أولى دول العالم إنتاجاً للشاي
- (٢) أولى دول العالم إنتاجاً لقصب السكر
- (٣) أولى قارات العالم في إنتاج البنجر
- (٤) ثاني قارات العالم في إنتاج المطاط

ضع علامة (✓) أو (×) مع التصويب:

- () (١) تنتشر الزراعة البدائية في المناطق الباردة على هوامش الغابات الصنوبرية.
- () (٢) تسهم دول الكاريبي بنحو ٤٧٪ مما يدخل في التجارة الدولية للبترول والغاز الطبيعي.
- () (٣) تعد دولة الهند أكبر الدول إنتاجاً للقمح.
- () (٤) عقد مؤتمر بانديونج بمديريد عام ١٩٥٥ م.
- () (٥) يعرف خط الدفاع الإسرائيلي في هضبة الجولان السورية بخط بارليف.

بم تفسر:

- (١) يعتبر النشاط الزراعي من الأنشطة الأساسية في العالم؟
- (٢) عدم جودة زراعة قصب السكر في قارة أوروبا؟
- (٣) احتلال الصين المركز الأول في صيد الأسماك؟
- (٤) إصدار قرار بناء السد العالي؟
- (٥) العدوان الثلاثي على مصر ١٩٥٦ م؟

حدد الدول الأولى عالمياً في إنتاج كل من:

- (١) الذرة. (٢) الالقطن. (٣) المطاط. (٤) الطاقة النووية.

اختر الإجابة الصحيحة مما بين الأقواس:

- (١) أهم العوامل البشرية التي تساعد على حرفة الصيد.
(ضحالة مياه الساحل - التقاء التيارات البحرية - الأرصفة القارية - توافر الخبرات الفنية)
 - (٢) أكثر أنواع القمح انتشاراً في العالم
 - (٣) تقع أهم مراكز الصناعة الحديثة في جنوب شرق آسيا بدولة
 - (٤) صدر قرار مجلس الأمن رقم ٢٤٢ بعد
 - (٥) اعتمد عليه جمال عبد الناصر في بناء القوات المسلحة واستشهد في حرب الاستنزاف
- (سعد الدين الشاذلي - محمد فوزي - محمد عبد الغنى الجمسى - عبد المنعم رياض)

دل:

- (١) لثورة ٢٣ يوليو ١٩٥٢ م إنجازات في المجال العربي والدولي؟

لمن تنسب الأعمال الآتية:

- (١) تولى القيادة العامة الموحدة للقوات المصرية السورية في حرب أكتوبر ١٩٧٣ م؟
- (٢) دعا لعقد مؤتمر كامب ديفيد في سبتمبر ١٩٧٨ م؟
- (٣) مفتى القدس الذي رأس اللجنة العربية التي قامت بثورة ١٩٣٦ م في فلسطين؟

ثورتا ٢٥ يناير ٢٠١١ و ٣٠ يونيو ٢٠١٣

أولاً ثورة ٢٥ يناير ٢٠١١م

* تعد ثورة ٢٥ يناير من الثورات الفريدة في تاريخ مصر الحديث والمعاصر **لأن** التكنولوجيا المتطورة لوسائل الاتصال ساهمت في إندياع الثورة وتمثلت في: • الشبكة الدولية للمعلومات (الإنترنت).



• مواقع التواصل الاجتماعي (الفيس بوك وغيره).

* لم تكن ثورة ٢٥ يناير وليدة هذا التاريخ **حيث** سبقتها حركات سياسية إحتجاجية مهدت لها الطريق.

أسباب وعوامل قيام ثورة ٢٥ يناير ٢٠١١م

١ سوء الأحوال الاقتصادية بسبب:



- ١) تطبيق سياسة الانفتاح الاقتصادي بدون ضوابط علمية.
- ٢) التطبيق غير السليم لسياسة الخصخصة حيث تم بيع مؤسسات الدولة بأقل من سعرها الحقيقي لصالح فئة معينة من رجال الأعمال **مما أدى إلى:**
 - ارتفاع الأسعار.
 - خروج آلاف العاملين بنظام التقاعد المبكر وانضمامهم إلى صفوف البطالة مع الشباب الخريجين وقيامهم بوقفات احتجاجية.

٢ سوء الأحوال الاجتماعية

■ بسبب: زيادة الفوارق الاجتماعية بين طبقات المجتمع وغياب العدالة الاجتماعية في توزيع الثروات.

٣ سوء الأحوال الصحية والخدمية والتعليمية

٤ استمرار العمل بقانون الطوارئ

■ وذلك منذ بداية حكم الرئيس حسنى مبارك أكتوبر ١٩٨١م.



٥ تزوير انتخابات مجلس الشعب عام ٢٠١٠م

■ حيث حصل الحزب الوطنى الحاكم على ٩٧% من مقاعد مجلس الشعب وبهذا خلا المجلس من أى معارضة وطنية.

أحداث ثورة ٢٥ يناير ٢٠١١ م

- تم اختيار يوم ٢٥ يناير ٢٠١١ م بداية للاحتجاج والتظاهر السلمى.
- اتخذ الشباب من الميادين العامة في القاهرة (ميدان التحرير) والإسكندرية والسويس والمنصورة مكان للتظاهر.
- استمرت الثورة ١٨ يوم عبر فيها المتظاهرون عن مطالبهم حدث خلالها:
- اضطراب أمنى شديد فقام الشعب المصرى بتشكيل لجان شعبية في الشوارع والميادين بهدف:
- حماية المناطق والممتلكات.
- مواجهة أعمال السرقة والحرق والترويع.



- تم الاستعانة بالقوات المسلحة بهدف:
- حماية وتأمين الممتلكات العامة والخاصة.
- المحافظة على أمن المواطنين.

موقف النظام

- قام نظام مبارك ببعض الإجراءات لتهدئة المتظاهرين مثل:

- (١) تعيين نائب للرئيس وتفويض صلاحيات رئيس الجمهورية إليه.
- (٢) تشكيل حكومة جديدة.

لكن هذه الإجراءات لم تمنع استمرار التظاهرات والمطالبة برحيل مبارك.

ما النتائج المترتبة على: قيام ثورة ٢٥ يناير ؟

كما ترتب على ذلك: تخلى الرئيس مبارك عن الرئاسة في ١١ فبراير ٢٠١١ م وسلم إدارة شؤون البلاد للمجلس الأعلى للقوات المسلحة فخرجت ملايين الجماهير تحتفل.



* أثبتت أحداث ثورة ٢٥ يناير:

- مدى إصرار الشعب المصرى على الاستمرار من أجل تحقيق مطالبه.
- أن الجيش قوة مساندة للشعب وليس أداة لدى النظام لقمع المتظاهرين وإجهاض الثورة.

ثانياً ثورة ٣٠ يونيو ٢٠١٢ م

- * تولى محمد مرسى مرشح حزب الحرية والعدالة حكم البلاد بعد فوزه في انتخابات الرئاسة عام ٢٠١٢ م.
- * لم تحقق السياسات الجديدة للدولة حلول للمشكلات التي يعانى منها الشعب المصرى مثل:
- استمرار سوء الأحوال الاقتصادية.
- عدم تحقيق العدالة الاجتماعية.

أحداث ثورة ٢٠ يونيو ٢٠١٢م

- تدخلت القوات المسلحة حافظاً على الأمن العام للدولة وأعلنت بيان في ٢٣ يونيو ٢٠١٣م:
- **وضحت فيه:** «أن المسؤولية الوطنية والأخلاقية للقوات المسلحة تجاه الشعب تحتم التدخل لمنع انزلاق مصر في نفق مظلم من الصراع والقتال والفتنة الطائفية».
- **دعت فيه:** إلى إيجاد صيغة توافق ومصالحة لحماية مصر وشعبها خلال اسبوع.
- رفض الرئيس محمد مرسي الموافقة على إجراء انتخابات رئاسية مبكرة، كما رفضت المعارضة دعوته للحوار.
- خرجت أعداد كبيرة من المصريين إلى الشوارع واليادين يوم ٣٠ يونيو ٢٠١٣م للمطالبة بالتغيير.

ما النتائج المترتبة على: قيام ثورة ٣٠ يونيو ٢٠١٣م؟

كما ترتب على ذلك:



- (١) عزل الرئيس محمد مرسي في ٣ يوليو ٢٠١٣م وتسليم السلطة إلى المستشار عدلي منصور رئيس المحكمة الدستورية العليا حين إجراء انتخابات رئاسية مبكرة.
- (٢) تعديل دستور ٢٠١٢م وإصدار دستور جديد للبلاد في يناير ٢٠١٤م.
- (٣) إجراء انتخابات رئاسية وفوز المرشح عبد الفتاح السيسي.

أسئلة عامة علم الدرس

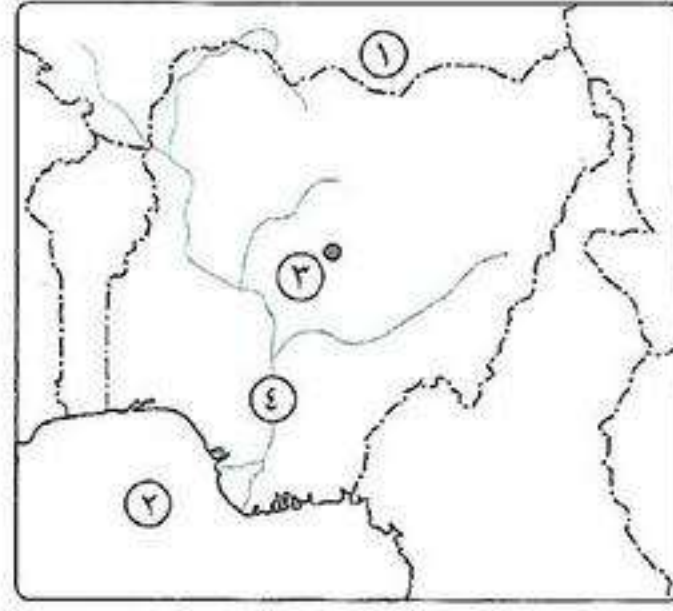
أكمل:

- (١) من أسباب ثورة ٢٥ يناير زيادة الاجتماعية وغياب
- (٢) استمر العمل بقانون الطوارئ منذ بداية تولي الرئيس حكم مصر عام ١٩٨١م.
- (٣) نتج عن تزوير انتخابات مجلس الشعب عام ٢٠١٠م على حصول الحزب على نحو ٩٧٪ من مقاعد
- (٤) حدث أثناء ثورة ٢٥ يناير اضطراب أمني فقام الشعب بتشكيل
- (٥) قام نظام مبارك بإجراءات لامتناس غضب المتظاهرين مثل تعيين للرئيس وتشكيل
- (٦) تولى مرشح حزب الحرية والعدالة حكم مصر بعد فوزه في انتخابات الرئاسة.
- (٧) عقب عزل الرئيس مرسي تولى حكم البلاد المستشار رئيس المحكمة
- (٨) تم إجراء انتخابات رئاسية عام ٢٠١٤م وأعلن فوز المرشح

بم تفسر:

- (١) تدهور الأوضاع الاقتصادية في مصر قبل ثورة ٢٥ يناير؟
- (٢) قيام الشعب بتشكيل لجان شعبية أثناء ثورة ٢٥ يناير؟
- (٣) الاستعانة بالقوات المسلحة أثناء ثورة ٢٥ يناير؟
- (٤) قيام ثورة ٣٠ يونيو ٢٠١٣م؟
- (٥) تدخل القوات المسلحة وإعلانها بيان في يونيو ٢٠١٣م؟
- (٦) يعتبر يوم ١١ فبراير ٢٠١١م يوماً تاريخياً في حياة الشعب المصري؟

اختبار



أكتب ما تشير إليه الأرقام الآتية:

- (١) دولة
- (٢) خليج
- (٣) مدينة
- (٤) نهر

أختر الإجابة الصحيحة:

- (١) قاد خطة الخداع لصرف أنظار إسرائيل عن التجهيزات الهجومية في حرب أكتوبر ١٩٧٣ م.
(سعد الدين الشاذلي - عبد المنعم رياض - أحمد إسماعيل - عبد الغنى الجمسى)
- (٢) أكدت الأحداث أن قوة مساندة للشعب في ثورة ٢٥ يناير ٢٠١١ م.
(الشرطة - الشعب - القضاء - الجيش)
- (٣) تحققت أول تجربة للوحدة العربية بين مصر و عام ١٩٥٨ م.
(إسرائيل - سوريا - الأردن - العراق)
- (٤) استمرت ثورة ٢٥ يناير ٢٠١١ م يوماً.
(١١ - ١٥ - ١٧ - ١٨)

قارن بين: الحديد والبترو من حيث: (الأهمية - أولى الدول المنتجة)

أكتب ما تشير إليه الجمل الآتية:

- (١) معاهدة جعلت مصر ميدان للحرب العالمية الثانية واستنزاف موارد مصر.
- (٢) الخام الرئيسى للألمونيوم.
- (٣) قانون أصدرته ثورة ٢٣ يوليو ويمقتضاه تم تحديد الملكية الزراعية في سبتمبر ١٩٥٢ م.
- (٤) مؤتمر دعا إليه كل من الولايات المتحدة الأمريكية والاتحاد السوفيتى مؤكداً على مبدأ الأرض مقابل السلام.

ما النتائج المترتبة على:

- (١) ثورة ٢٥ يناير؟
- (٢) ثورة ٣٠ يونيو؟
- (٣) انتشار التعليم بين قبائل وسط آسيا؟
- (٤) الوحدة الاقتصادية الأوروبية؟

بم تفسر:

- (١) العدوان الثلاثى على مصر ١٩٥٦ م؟
- (٢) اندلاع حرب أكتوبر ١٩٧٣ م؟

دل على صحة العبارات الآتية:

- (١) للسلام مزايا متعددة على وطننا العربى؟

ضع علامة (✓) أو (×) مع التصويب:

- () (١) تعد دولة بنجلاديش أولى دول العالم فى إنتاج المطاط.
- () (٢) تساهم الأغنام بنسبة كبيرة فى التجارة الدولية للثروة الحيوانية.
- () (٣) الموطن الأصلي للشاي هو شرق أفريقيا.
- () (٤) من الاحياء البحرية الرخويات مثل الجمبرى.
- () (٥) أعطى مؤتمر جنيف فى أبريل ١٩٢٠ م لبريطانيا حق الانتداب على فلسطين.
- () (٦) قامت مصر بإغلاق خليج السويس أمام الملاحة الإسرائيلية عهام ١٩٦٧ م.

الحياة النيابية والحزبية ودور المرأة فى العمل الوطنى

تطور الحياة النيابية فى مصر

١ مرحلة ما قبل الاحتلال البريطانى

١ عصر محمد على (١٨٠٥: ١٨٤٨م)

* أنشأ محمد على عدة مجالس استشارية صورية لا سلطة لها مثل:

■ مجلس المشورة: أنشئ عام: ١٨٢٩م.

• تكون من: العلماء والمشايخ والأعيان وكان محمد على يختارهم بنفسه.

• مهمته: النظر فى المسائل الإدارية.

■ المجلس العالى: أنشئ عام: ١٨٣٤م (يماثل مجلس الوزراء حالياً).

• يتكون من: نظار الدواوين ورؤساء المصالح، وضم إليه اثنين لشتون الحسابات وضم إليه

اثنين من كلاً من: (المشايخ - العلماء - الأعيان - التجار) عن كل مديرية.



محمد على

٢ عصر الخديو إسماعيل (١٨٦٣: ١٨٧٩م) أنشأ الخديو إسماعيل:

■ مجلس شورى النواب: فى ديسمبر ١٨٦٦م.

• أعضاؤه: أغلبهم من (العمد - المشايخ - كبار الملاك) ينتخبون لمدة ٣ سنوات.

بم تفسر: يعد مجلس شورى النواب خطوة مهمة فى تطور الحياة النيابية ؟

ك لأنه أول مجلس منتخب منذ عهد محمد على.



الخديو إسماعيل

٢ مرحلة عهد الاحتلال البريطانى

يمكن تقسيمها إلى مرحلتين:

■ المرحلة الأولى: من بداية الاحتلال حتى الحرب العالمية الأولى (١٨٨٢م - ١٩١٤م):

■ تم إنشاء مجلسين استشاريين لا سلطة لهم عام ١٨٨٣م: مجلس شورى القوانين.

• الجمعية العمومية.

■ فى عام ١٩١٣م تم إنشاء الجمعية التشريعية.

■ المرحلة الثانية: من ١٩٢٣م حتى قيام ثورة ٢٣ يوليو ١٩٥٢م:

■ تم إصدار دستور ١٩٢٣م وتضمن:

• حرية تكوين الأحزاب السياسية.

• إنشاء برلمان يمثل (السلطة التشريعية) وتكون من مجلسين هما: (مجلس النواب - مجلس الشيوخ).

“حياة نيابية”

أن يقوم الشعب بانتخاب ممثلين لإدارة شئون الحكم فى البلاد وسن القوانين ومراقبة أعمال الحكومة نيابة عنه.

“دستور”

الوثيقة الرسمية التى تحدد نظام الحكم فى الدولة وتحدد شكل واختصاص المؤسسات الدستورية المختلفة.

“برلمان”

يطلق على المجالس النيابية التى تتولى السلطة التشريعية.

٣ مرحلة ما بعد ثورة ٢٣ يوليو ١٩٥٢م

- قامت الثورة بالآتي: إلغاء دستور ١٩٢٣م.
- حل الأحزاب السياسية التي كانت قائمة قبل الثورة.
- تطورت الحياة النيابية خلال عهد رؤساء مصر كما يلي:



جمال عبد الناصر

عهد الرئيس جمال عبد الناصر (١٩٥٤ - ١٩٧٠م):

- تم إصدار دستور ١٩٥٦م: هو أول دستور لمصر بعد ثورة ٢٣ يوليو ١٩٥٢م.
- نص على: أن تكون السلطة التشريعية في يد مجلس منتخب.
- تم إنشاء مجلس الأمة: في يوليو ١٩٥٧م (يشبه مجلس النواب حالياً).

عهد الرئيس السادات (١٩٧٠ - ١٩٨١م):

- تم إصدار دستور ١٩٧١م: أطلق عليه (الدستور الدائم).

بم تفسر: أطلق على دستور ١٩٧١م الدستور الدائم؟

١) سيادة القانون.

٢) استقلال القضاء.

٣) إقرار مبادئ التعددية الحزبية.



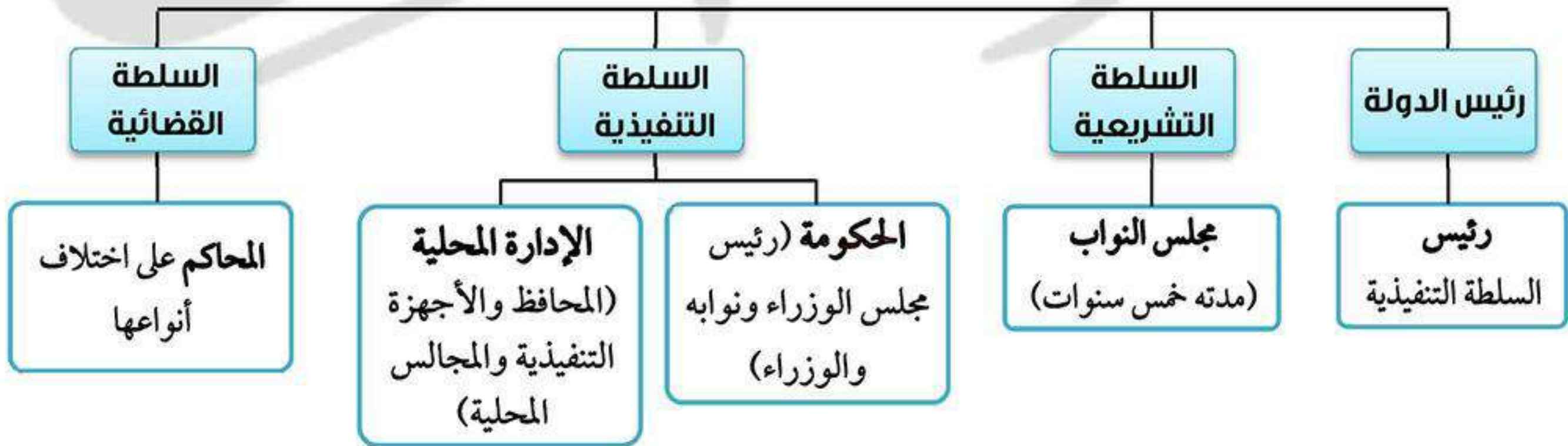
محمد أنور السادات

تذكر

إصدار دستور ١٩٧١م من إجراءات تهيئة الجبهة الداخلية قبل حرب أكتوبر ١٩٧٣م.

تمثل سلطات الحكم بمصر في أربع سلطات هي:

سلطات الحكم في مصر



مذكرات السلطان

www.facebook.com/EL.Sulttan

تابعنا على صفحتنا

تطور الحياة الحزبية فى مصر

* ظهرت الأحزاب السياسية فى مصر تعبيراً عن تفاعلات اجتماعية واقتصادية وثقافية نتيجة لظروف تاريخية ووطنية وسياسية وقد مرت الحياة الحزبية بثلاث مراحل هى:



مصطفى كامل

١ مرحلة ما قبل ثورة ١٩١٩م (١٩٠٧ - ١٩١٤م)

- فى هذه المرحلة تم تأسيس عدة أحزاب سياسية وأهمها:
- الحزب الوطنى: برئاسة مصطفى كامل.
- الأمة: برئاسة الفيلسوف والمفكر أحمد لطفى السيد.

٢ مرحلة ما بعد ثورة ١٩١٩م (١٩٢٣ - ١٩٥٢م)

- تميزت هذه الفترة بوجود:
- عدة أحزاب مثل حزب الوفد والهيئة السعدية والأحرار الدستوريين.
- ضعف الأحزاب وعدم الاستقرار السياسى بسبب: الصراعات بين الأحزاب والصدام بين حزب الوفد والقصر الملكى أو بينه وبين سلطات الاحتلال البريطانى.

٣ مرحلة ما بعد ثورة ٢٣ يوليو ١٩٥٢م مرت هذه المرحلة بثلاث مراحل:

أ مرحلة التنظيم السياسى الواحد (١٩٥٣ - ١٩٧٦م)

- تم إنشاء تنظيم سياسى واحد هو الاتحاد الإشتراكى.
- بعد أن تولى الرئيس السادات الحكم عام ١٩٧٠م قام بالآتى:
- السماح بقيام ثلاثة منابر للرأى تمثل (اليمن - اليسار - الوسط) فى مارس ١٩٧٦م.
- تحويل التنظيمات الثلاثة (الثلاثة منابر) إلى أحزاب سياسية فى نوفمبر ١٩٧٦م.

تذكر

بعد قيام ثورة ٢٣ يوليو ١٩٥٢م تم حل الأحزاب السياسية.

ب مرحلة تعدد الأحزاب (١٩٧٧ - ١٩٨١م)

- أصدر الرئيس السادات قانون الأحزاب السياسية فى يونيو ١٩٧٧م واشترط القانون لتأسيس أى حزب:
- عدم تعارض مبادئ الحزب مع مبادئ الشريعة الإسلامية.
- الحفاظ على الوحدة الوطنية والسلام الاجتماعى والنظام الإشتراكى الديمقراطى.
- عدم قيام الحزب على أساس طبقى أو طائفى.

ج مرحلة التعددية الحزبية (١٩٨١ - ٢٠١١م)

- فى هذه المرحلة تم تخفيف القيود على النشاط الحزبى، وبعد أن كان عدد الأحزاب خمسة عام ١٩٨١م زادت وأصبح عددها ٢٤ حزباً.

تطور دور المرأة في العمل الوطني

* ارتبط تطور دور المرأة المصرية في العمل الوطني بقضايا اجتماعية طرحتها الصحافة والهيئات النيابية **ومر ذلك بعدة مراحل:**

١ مرحلة ما قبل ثورة ١٩١٩م

■ في هذه المرحلة تم:

- بدأت هذه المرحلة حينما استجاب الخديو إسماعيل لدعوة رفاة الطهطاوي بتعليم البنات، فأنشأ أول مدرسة لتعليم البنات هي **المدرسة السنينة** عام ١٨٧٣م بحى السيدة زينب.
- تأسست أول صحيفة نسائية تتبنى قضايا المرأة وتدافع عن حقوقها، وهي **مجلة الريحانة** في فبراير ١٩٠٧م وأصدرتها **جميلة حافظ** ثم تحولت إلى جريدة في مارس ١٩٠٨م.



جميلة حافظ

٢ مرحلة ما بعد ثورة ١٩١٩م

■ شهدت هذه المرحلة نهضة نسائية ودور رائد للمرأة في مختلف المجالات حيث:

- شاركت المرأة إلى جانب الرجال في المظاهرات عقب نفي سعد زغلول مارس ١٩١٩م.
- شكلت المرأة لجنة الوفد المركزية للسيدات عام ١٩٢٠م وانتخبت **هدى شعراوي** رئيساً لها.
- التحقت المرأة بالجامعة المصرية عام ١٩٢٨م (جامعة القاهرة حالياً).

٣ مرحلة ما بعد ثورة ٢٣ يوليو ١٩٥٢م وحتى الآن

تم ترسيخ مبدأ مشاركة المرأة في كافة المجالات انقسمت إلى ثلاث مراحل:

أ الفترة من (١٩٥٢م إلى ١٩٧١م)

- حصلت المرأة على حق الانتخاب والترشح في دستور ١٩٥٦م واصبحت عضو بالبرلمان المصري.
- شغلت المرأة المناصب الوزارية وكانت **حكمت أبو زيد** أول وزيرة للشئون الاجتماعية عام ١٩٦٢م.
- شاركت المرأة في النقابات العمالية والمهنية والمنظمات الغير حكومية.



حكمت أبو زيد



عائشة راتب

ب الفترة من (١٩٧١م إلى ١٩٨١م)

- شغلت المرأة مناصب وزارية حيث عين الرئيس السادات **الدكتورة عائشة راتب** وزيرة للشئون الاجتماعية عام ١٩٧١م.
- شاركت المرأة في الحياة النيابية حيث شغلت **الدكتورة آمال عثمان** منصب رئيس اللجنة التشريعية بمجلس الشعب.



آمال عثمان

ج الفترة من ١٩٨١م وحتى الآن

- تم العمل على تدعيم مكانة المرأة على كافة المستويات **حيث تم:**
- إنشاء كيان مؤسسى خاص بالمرأة هو **المجلس القومى للمرأة**.
- تعيين أول قاضية بالمحكمة الدستورية العليا عام ٢٠٠٣م وهى **تهانى الجبالى**.
- تعيين أول ماذونة عام ٢٠٠٨م وهى **آمل سليمان عفيفى**.
- تعيين أول عمدة امرأة بإحدى قرى محافظة أسيوط وهى **إيضا هايبيل**.



تهانى الجبالى



آمل سليمان عفيفى



إيضا هايبيل

منظمات المجتمع المدني

تضم: (جميعات المجتمعات المحلية والجمعيات الخيرية والمنظمات الغير حكومية والنقابات العمالية وغيرها).

دلل: لمنظمات المجتمع المدني دور مكمل للعمل الحكومي ؟

كـ حيث: تقوم منظمات المجتمع المدني بتقديم الخدمات الإجتماعية وتنفيذ برامج التنمية وذلك من خلال الأنشطة التي تقوم بها:

- (١) تثقيف المواطنين وتعريفهم بحقوقهم السياسية كالتصويت والانتخاب والترشح للمناصب السياسية.
- (٢) توضيح علاقة المواطن بالدولة وكيفية التعبير عن حقوقه وواجباته.
- (٣) توفير مناخ يحقق الوحدة الوطنية من خلال التوعية بنبذ العنف.
- (٤) تدعيم السياسة العامة للدولة: ومواقفها من القضايا الدولية مثل:
 - حظر استخدام الألغام الأرضية.
 - محاربة الإرهاب.
 - حماية البيئة.

أسئلة عامة علم الدرس

أكمل:

- (١) أنشئ في عهد محمد علي مجلس عام ١٨٢٩ م والمجلس عام ١٨٣٤ م.
- (٢) أنشأ الخديو إسماعيل مجلس وتكون من العمدة والمشايخ وكبار الملاك ويتخبون لمدة
- (٣) أنشأ الاحتلال البريطاني في بداية احتلاله لمصر مجلسين استشاريين لا سلطة لهم هما و
- (٤) تضمن دستور ١٩٢٣ م حرية تكوين
- (٥) عقب إصدار دستور ١٩٢٣ م تم إنشاء يتكون من مجلسين هما و
- (٦) قامت ثورة ٢٣ يوليو ١٩٥٢ م بإلغاء دستور وحل
- (٧) أنشئ مجلس في عهد الرئيس جمال عبد الناصر عام ١٩٥٧ م.
- (٨) أكد دستور ١٩٧١ م على سيادة واستقلال وإقرار مبادئ
- (٩) هو رئيس السلطة التنفيذية في الدولة.
- (١٠) تضم السلطة القضائية بمختلف أنواعها.
- (١١) تأسس حزب برئاسة الفيلسوف أحمد لطفى السيد بينما تأسس الحزب الوطنى برئاسة
- (١٢) أنشئ في مرحلة التنظيم السياسى الواحد بعد ثورة ٢٣ يوليو ١٩٥٢ م.
- (١٣) أصدر الرئيس السادات قرار يسمح بقيام ثلاثة منابر للرأى هى و و
- (١٤) أصدر الرئيس السادات قانون يونيو ١٩٧٧ م.
- (١٥) في مرحلة التعددية الحزبية زاد عدد الأحزاب السياسية فبعد أن كان عددهم أصبح عدد الأحزاب
- (١٦) استجاب الخديو إسماعيل لدعوة بتعليم البنات فأنشأ المدرسة
- (١٧) أصدرت أول مجلة نسائية باسم في فبراير ١٩٠٧ م.
- (١٨) شكلت لجنة الوفد المركزية للسيدات عام ١٩٢٠ م وانتخبت رئيساً لها.
- (١٩) تولت منصب وزارة الشؤون الاجتماعية عام ١٩٦٢ م.
- (٢٠) تم تعيين أول عمدة امرأة بإحدى قرى محافظة أسيوط.

- (٢١) شغلت المرأة المناصب الوزارية في عهد الرئيس السادات حيث تولت وزارة الشؤون الاجتماعية.
 (٢٢) أول قاضية بمصر هى وأول قاضية بالمحكمة الدستورية العليا هى

بم تفسر:

- (١) يعد مجلس شورى النواب خطوة مهمة في تطور الحياة النيابية المصرية ؟
 (٢) إصدار الرئيس السادات الدستور الدائم ؟
 (٣) يعد إنشاء الخديو إسماعيل مجلس شورى النواب تطوراً للحياة النيابية ؟
 (٤) أهمية الدستور الدائم لمصر ؟

ما النتائج المترتبة على:

- (١) الصراعات الحزبية في مصر من عام ١٩٢٣م إلى ١٩٥٢م ؟
 (٢) قيام ثورة ٢٣ يوليو ١٩٥٢م بالنسبة للحياة النيابية والمرأة ؟

اكتب ما تشير إليه الجمل الآتية:

- (١) وثيقة رسمية تحدد نظام الحكم في الدولة واختصاصات المؤسسات الدستورية.
 (٢) قيام الشعب بانتخاب ممثلين لإدارة شئون الحكم وسن القوانين ومراقبة أعمال الحكومة نيابة عنه.
 (٣) المجالس النيابية التى تتولى السلطة التشريعية.
 (٤) إحدى سلطات الحكم في مصر وتتكون من الحكومة والإدارة المحلية.
 (٥) جمعيات المجتمع المحلية والمنظمات غير الحكومية والنقابات العمالية والجمعيات الخيرية وغيرها.

اختر الإجابة الصحيحة مما بين القوسين:

- (١) صدر دستور ١٩٥٦م في عهد الرئيس (أنور السادات - محمد نجيب - جمال عبد الناصر - حسنى مبارك)
 (٢) أنشأ الخديو إسماعيل أول مدرسة لتعليم البنات عام ١٨٧٣م استجابة لدعوة
 (أحمد لطفى السيد - مصطفى كامل - رفاعه الطهطاوى - الشيخ على يوسف)
 (٣) أول وزيرة للشئون الاجتماعية في مصر عام ١٩٦٢م هى (درية شفيق - حكمت أبو زيد - عائشة راتب - تهانى الجبالى)
 (٤) أنشأ محمد على عام ١٨٣٤م. (مجلس الشيوخ - المجلس العالى - مجلس النواب - الجمعية العمومية)
 (٥) أول امرأة تولت منصب عمدة هى (تهانى الجبالى - إيڤا هايبيل - أمل سليمان - حكمت أبو زيد)

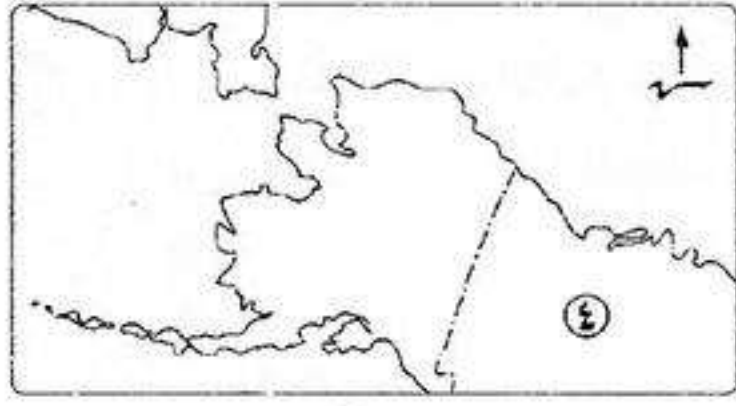
ضع علامة (✓) أو (×) مع التصويب:

- () (١) حصلت المرأة لأول مرة على حق الانتخاب والترشح في دستور ١٩٧١م.
 () (٢) أنشأ محمد على مجلس المشورة للنظر في المسائل الإدارية.
 () (٣) ألغت ثورة ١٩١٩م دستور ١٩٢٣م.
 () (٤) مرحلة التنظيم السياسى الواحد كانت في الفترة من ١٩٥٣م : ١٩٧٦م.
 () (٥) تشكلت لجنة الوفد المركزية للسيدات عام ١٩٢٠م برئاسة هدى شعرواى.
 () (٦) مجلس النواب يمثل السلطة التشريعية.
 () (٧) تزعم حزب الأمة الشيخ على يوسف.

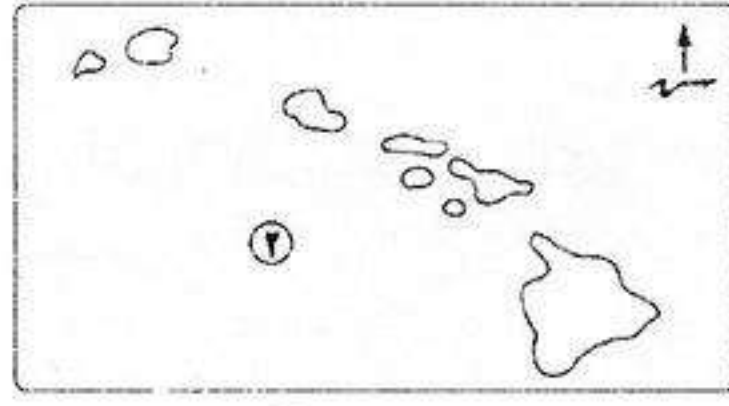
دل على صحة العبارات الآتية:

- (١) كان للمرأة دور رائد في الفترة من ١٩١٩م وحتى ثورة ٢٣ يوليو ١٩٥٢م ؟
 (٢) لمنظمات المجتمع المدني دور مكمل للعمل الحكومى في النواحي الاجتماعية والتنمية ؟
 (٣) للرئيس السادات دور مهم في تنظيم الحياة الحزبية ؟
 (٤) شاركت المرأة المصرية في كافة المجالات منذ عام ١٩٨١م ؟

اختبار



(4)



(1)

أكتب ما تشير إليه الأرقام الآتية:

- (1) ولاية.....
- (2) ولاية.....
- (3) المحيط.....
- (4) دولة.....

بم تفسر:

- (1) ممارسة الإنسان للأنشطة الاقتصادية البدائية في الماضي؟
- (2) تتطلب الزراعة الكثيفة أيدى عاملة وفيرة؟
- (3) يعد البترول أهم مصادر الطاقة في العالم؟
- (4) تركز صناعة الألمنيوم في الدول المتقدمة؟

اختر الإجابة الصحيحة:

- (1) وقعت اتفاقية الجلاء عن مصر في (يونيو ١٩٥٣م - أكتوبر ١٩٥٤م - نوفمبر ١٩٥٢م - يناير ١٩٥١م)
- (2) تم عقد مؤتمر كامب ديفيد ١٩٧٨م برعاية (أمريكية - روسية - فرنسية - بريطانية)
- (3) تعد أول ماذونة شرعية في مصر. (أمال عثمان - أمل سليمان عفيفي - عائشة راتب - هدى شعراوي)

لمن تنسب الأعمال الآتية:

- (1) مفتى القدس الذي قاد اللجنة العربية في ثورة ١٩٣٦م.
- (2) مؤسس الحركة الصهيونية.

أكتب ما تشير إليه الجمل الآتية:

- (1) من المحاصيل المدارية الحارة المنتجة للسكر يزرع في كل قارات العالم عدا أوروبا. (مع أذكر أولى الدول المنتجة له)
- (2) مادة تستخرج من عصارة الأشجار الاستوائية ويصنع منها إطارات السيارات. (مع أذكر أولى الدول المنتجة له)

برهن تاريخياً على صحة العبارات الآتية:

- (1) لم تؤدي معاهدة ١٩٣٦م إلى استقلال حقيقى لمصر؟
- (2) لثورة ٢٣ يوليو ١٩٥٢م العديد من الإنجازات في مجال الزراعة؟
- (3) هناك أسباب اقتصادية لثورة ٢٥ يناير ٢٠١١م؟

حدد أولى القارات إنتاجاً لكل مما يأتى:

- | | | | |
|------------|------------|-------------|-------------|
| (1) القمح. | (2) الذرة. | (3) النحاس. | (4) المطاط. |
|------------|------------|-------------|-------------|

ضع علامة (✓) أو (×) مع التصويب:

- () (1) يوجد الرعى البدائى في مناطق الحشائش القصيرة بأمريكا الشمالية.
- () (2) يوجد الحديد في جميع قارات العالم.
- () (3) إقليم غرب ووسط أوروبا من أكبر الأقاليم الصناعية بالعالم الجديد.
- () (4) ترجع جذور الحركة الصهيونية كحركة سياسية إلى بلفور.
- () (5) تغطى الغابات الاستوائية والمدارية الجزء الشمالى لنيجيريا.

قارن بين:

- (1) نيجيريا والهند من حيث: (القارة - مناطق تركيز السكان - ما تصدره مصر لها)

مصر والمنظمات الإقليمية والدولية

* الفرق بين المنظمات الإقليمية والدولية:

منظمة دولية	منظمة إقليمية
هي المنظمة التي تضم عدد من دول العالم المستقلة وإن لم ترتبط ببعضها بروابط معينة.	هي المنظمة التي تضم عدد من الدول المستقلة وترتبط ببعضها بروابط معينة.
<p>■ مثل:</p> <ul style="list-style-type: none"> • منظمة الأمم المتحدة. • حركة عدم الإنحياز. 	<p>■ مثل:</p> <ul style="list-style-type: none"> • جامعة الدول العربية. • الاتحاد الأفريقي (الوحدة الإفريقية سابقاً). • منظمة المؤتمر الإسلامي.

أولاً المنظمات الإقليمية

1 جامعة الدول العربية

■ دور مصر في إنشاء جامعة الدول العربية:

- قامت مصر بدعوة رئيس وزراء سوريا والكتلة الوطنية اللبنانية للتباحث في القاهرة حول فكرة إقامة جامعة عربية.
- في مارس ١٩٤٥م أقر **ميثاق القاهرة** وهو أول وثيقة تخص الجامعة العربية وتضمن مبادئ قيامها، وتم التوقيع عليه من ٧ دول عربية هي: (مصر - سوريا - الأردن - السعودية - العراق - اليمن - لبنان).
- عدد الدول الأعضاء في جامعة الدول العربية الآن ٢٢ دولة بما فيهم **فلسطين**.

■ الهدف من إنشاء جامعة الدول العربية:

- (١) تنسيق العلاقات بين الدول الأعضاء.
- (٢) تنسيق الخطط السياسية والأمنية والاقتصادية والاجتماعية والثقافية.
- (٣) حماية استقلال الدول الأعضاء وسيادتها.
- (٤) التعاون وحماية الأمن القومي العربي.
- (٥) تعزيز العمل العربي المشترك في مختلف المجالات.

■ الهيكل التنظيمي لجامعة الدول العربية:

الأمانة العامة	اللجان الدائمة	مجلس الجامعة
<ul style="list-style-type: none"> • تتكون من الأمين العام وعدد من الأمانة المساعدون وعدد من الموظفين. • يعين الأمين العام بموافقة مجلس الجامعة بأغلبية الثلثين لمدة خمس سنوات. 	<ul style="list-style-type: none"> • هي لجان معنية بمختلف مجالات التعاون فيما بين الدول الأعضاء. • عددها ١٢ لجنة. • تحول الكثير منها إلى منظمات متخصصة في مختلف المجالات. 	<ul style="list-style-type: none"> • هو أعلى سلطة داخل الجامعة. • يتكون من ممثلي الدول الأعضاء بما فيهم ممثل دولة فلسطين ولكل دولة صوت واحد. • له مهام محددة أقرها ميثاق الجامعة.



شعار جامعة الدول العربية

٢ الاتحاد الإفريقي



شعار الاتحاد الإفريقي

■ دور مصر في إنشاء منظمة الاتحاد الإفريقي:

- شاركت مصر مع الدول الأفريقية في تأسيسه بعد استقلال معظم الدول الأفريقية.
- استضافت مصر أول قمة أفريقية على أرضها عام ١٩٦٤م.
- رأست مصر الاتحاد الإفريقي مرتين.
- أسهمت مصر في إقرار السلام والأمن في أفريقيا باعتبارها العمق الاستراتيجي لمصر.

٣ منظمة المؤتمر الإسلامي



شعار منظمة المؤتمر الإسلامي

■ دور مصر في إنشاء منظمة المؤتمر الإسلامي:

- مصر من أوائل الدول التي ساهمت في فكرة إنشاء منظمة المؤتمر الإسلامي.
- شاركت مصر في كافة المؤتمرات الإسلامية وأهمها مؤتمر القمة الإسلامي في مدينة الرباط بالمغرب سبتمبر ١٩٦٩م.

ثانياً المنظمات الدولية

١ منظمة الأمم المتحدة



شعار الأمم المتحدة

■ إنشائها: أنشئت أواخر عام ١٩٤٥م.

■ مقرها: في مدينة نيويورك بالولايات المتحدة الأمريكية.

■ تضم: في عضويتها جميع دول العالم المستقلة.

■ أهدافها: (١) الحفاظ على السلام والأمن الدوليين.

(٢) تنمية العلاقات الودية والتعاون الدولي لحل المشكلات الاقتصادية والاجتماعية والثقافية.

(٣) تعزيز احترام حقوق الإنسان وحرياته دون تفرقه بسبب الجنس أو الدين.

■ أجهزتها: تتكون الأمم المتحدة من ستة أجهزة رئيسية هي:

مجلس الاقتصادي والاجتماعي	محكمة العدل الدولية	مجلس الوصاية	مجلس الأمن	الأمانة العامة	الجمعية العامة
---------------------------------	------------------------	-----------------	---------------	-------------------	-------------------

١ الجمعية العامة

■ تضم جميع الدول الأعضاء في الأمم المتحدة ولكل دولة صوت واحد.

٢ الأمانة العامة

■ مقرها: مدينة نيويورك بالولايات المتحدة الأمريكية.

■ يرأسها: الأمين العام ويتم تعيينه عن طريق الجمعية العامة بتوصية من مجلس الأمن لمدة خمس سنوات.

٣ مجلس الأمن

بم تفسر: مجلس الأمن هو أهم أجهزة الأمم المتحدة ؟
لأنه: مسئول عن حفظ السلام والأمن الدوليين وله سلطة قانونية على حكومات الدول الأعضاء.

٤ مجلس الوصايا

اختصاصه: رعاية مصالح شعوب البلدان التي كانت مستعمرات (محتلة) والأخذ بيدها نحو الحكم الذاتي والاستقلال.



شعار محكمة العدل الدولية

٥ محكمة العدل الدولية

هو الجهاز القضائي الأساسي للأمم المتحدة.
مقرها: مدينة لاهاي بهولندا.
اختصاصتها: النظر في القضايا التي تضعها الدول أمامها.
 تقديم الاستشارات القانونية للهيئات القضائية.

٦ المجلس الاقتصادي والاجتماعي

مسئول عن نشاط الأمم المتحدة الاقتصادي والاجتماعي.

المنظمات التابعة له هي:

(١) منظمة اليونسكو: هي منظمة متخصصة في التربية والعلوم والثقافة.

• تأسست: عام ١٩٤٥ م.

• هدفها: المساهمة في إحلال السلام والأمن عن طريق رفع مستوى التعاون بين دول العالم في مجال التربية والعلوم والثقافة.

• أمثلة التعاون بين منظمة اليونسكو ومصر:

(١) ساهمت اليونسكو في إنقاذ معابد أبو سمبل من الغرق عام ١٩٦٤ م.

(٢) ساهمت اليونسكو في إحياء مكتبة الإسكندرية.



شعار منظمة اليونسكو

(٢) منظمة الصحة العالمية:

• تأسست: في أبريل عام ١٩٤٨ م.

• مقرها: مدينة جنيف في سويسرا.

• هدفها: (١) توفير أفضل سبل الرعاية الصحية لجميع الشعوب.

(٢) نشر الوعي لحماية مياه الشرب من التلوث.

(٣) عقد دورات تدريبية لتطوير الخدمات الصحية.



شعار منظمة الصحة العالمية

(٣) منظمة الأغذية والزراعة (الفاو): هي منظمة متخصصة في المجال الزراعي.

• مقرها: مدينة روما في إيطاليا.

• هدفها: (١) القضاء على الجوع.

(٢) مساعدة البلدان النامية على تطوير وتحسين الإنتاج الزراعي والتغذية الجيدة.



منظمة الأغذية والزراعة (الفاو)

(٤) منظمة اليونيسيف: هي المنظمة الوحيدة المتخصصة في مجال الطفولة.

• مقرها: مدينة نيويورك في الولايات المتحدة الأمريكية.

• هدفها: حماية حقوق الأطفال ورفاهيتهم.

* قامت المنظمة في عام ١٩٥٩ م بإعلان حقوق الطفل حيث يمثل الأطفال محور التنمية.



منظمة اليونيسيف

مصر والأمم المتحدة



قوات حفظ السلام المصرية

دليل: لمصر دور واضح في الأمم المتحدة ؟

- كـ حيث: (١) شاركت مصر في الأنشطة المختلفة للأمم المتحدة.**
(٢) شاركت مصر بجنودها في قوات حفظ السلام الدولية في بلدان منها:
 (الكويت - الكونغو - البوسنة والهرسك - الصومال).



شعار حركة عدم الإنحياز

حركة عدم الانحياز

دور مصر في تأسيسها:

ساهمت مصر في تأسيس حركة عدم الانحياز في مؤتمر باندونج عام ١٩٥٥ م بالاشتراك مع الهند وإندونيسيا ويوغسلافيا (سابقاً).

عدد الدول المنضمة إليها:

كانت تضم في البداية ٢٥ دولة وأصبحت حالياً كيان ضخم يضم ١١٨ دولة من قارات آسيا وأفريقيا وأوروبا وأمريكا الجنوبية (اللاتينية).

أسئلة عامة على الدرس

أكمل:

- (١) تتكون من جميع الدول الأعضاء في الأمم المتحدة.
- (٢) يهتم برعاية مصالح شعوب البلدان التي كانت مستعمرات للنهوض بها.
- (٣) ساهمت مصر في تأسيس حركة في مؤتمر بإندونيسيا عام ١٩٥٥ م.
- (٤) يوجد مقر محكمة العدل الدولية في مدينة بهولندا.
- (٥) هو الجهاز القضائي الأساسي في الأمم المتحدة.
- (٦) شاركت مصر في كافة المؤتمرات الإسلامية مثل مؤتمر في مدينة بالمغرب عام ١٩٦٩ م.
- (٧) من أهداف جامعة الدول العربية التعاون وحماية العربي.
- (٨) من أمثلة المنظمات الإقليمية و
- (٩) يقع مقر الأمانة العامة للأمم المتحدة في مدينة بالولايات المتحدة الأمريكية.

أكتب ما تشير إليه الجمل الآتية:

- (١) منظمة تجمع عدد من الدول المستقلة التي ترتبط ببعضها بروابط معينة.
- (٢) يُعد أول وثيقة تخص الجامعة العربية ويتضمن مبادئ قيامها.
- (٣) يُعد أعلى سلطة داخل الجامعة العربية ويتألف من ممثلي الدول الأعضاء بها.
- (٤) منظمة هدفها إحلال السلام عن طريق رفع مستوى التعاون بين الدول في مجال التربية والثقافة والعلوم.
- (٥) منظمة عالمية متخصصة في مجال الطفولة وهدفها تعزيز حماية حقوق الأطفال ورفاهيتهم.
- (٦) منظمة متخصصة في مجال الزراعة ومقرها روما.
- (٧) منظمة تضم كل الدول الإفريقية بعد استقلالها من الاستعمار.

بم تفسر:

- ١) مجلس الأمن هو أهم أجهزة الأمم المتحدة؟
- ٢) الأمم المتحدة منظمة دولية؟
- ٣) أهمية منظمة الأغذية والزراعة الفاو؟
- ٤) إنشاء مجلس الوصاية؟
- ٥) أهمية منظمة اليونسيف؟

ما النتائج المترتبة على:

- ١) تعاون منظمة اليونسكو مع مصر؟

قارن بين:

- ١) جامعة الدول العربية والأمم المتحدة من حيث: (الأهداف والمقر)
- ٢) منظمة الصحة العالمية ومنظمة اليونسيف من حيث: (المقر - الأهداف)

اختر الإجابة الصحيحة مما بين الأقواس:

- ١) عقد مؤتمر القمة الإسلامية عام ١٩٦٩م بمدينة
 - ٢) يوجد مقر الأمانة العامة للأمم المتحدة في مدينة
 - ٣) يوجد مقر محكمة العدل الدولية في مدينة
 - ٤) المنظمة التي تهدف إلى توفير الغذاء على المستوى العالمي هي
 - ٥) أصدرت منظمة .إعلان حقوق الطفل عام ١٩٥٩م.
 - ٦) ساهمت مصر في تأسيس حركة عدم الانحياز في مؤتمر
- (الكويت - الرباط - الرياض - القاهرة)
(مدريد - روما - نيويورك - جنيف)
(نيويورك - لاهاي - روما - جنيف)
(اليونسكو - اليونسيف - الفاو - الصحة العالمية)
(الفاو - اليونسكو - الصحة العالمية - اليونسيف)
(جنيف - سان مارينو - باندونج - باريس)

ضع علامة (✓) أو (×) مع التصويب:

- ١) أنشئت جامعة الدول العربية في مارس ١٩٥٥م. ()
- ٢) من أهداف جامعة الدول العربية المحافظة على السلام والأمن الدوليين. ()
- ٣) يعين الأمين العام لجامعة الدول العربية بأغلبية الثلثين لمدة ٥ سنوات. ()
- ٤) يتألف مجلس الجامعة العربية من جميع الدول الأعضاء بما فيهم ممثل دولة فلسطين. ()
- ٥) الأمم المتحدة منظمة عالمية تضم في عضويتها جميع الدول المستقلة ومقرها نيويورك. ()
- ٦) سلطة مجلس الأمن سلطة قانونية على حكومات الدول الأعضاء. ()
- ٧) محكمة العدل الدولية هي الجهاز القضائي الأساسي في الأمم المتحدة ومقرها نيويورك بهولندا. ()
- ٨) اليونسيف إحدى منظمات الأمم المتحدة المتخصصة في مجال الزراعة. ()
- ٩) ساهمت مصر بدور كبير في تشكيل حركة عدم الإنحياز من خلال مؤتمر مونرو عام ١٩٥٥م. ()

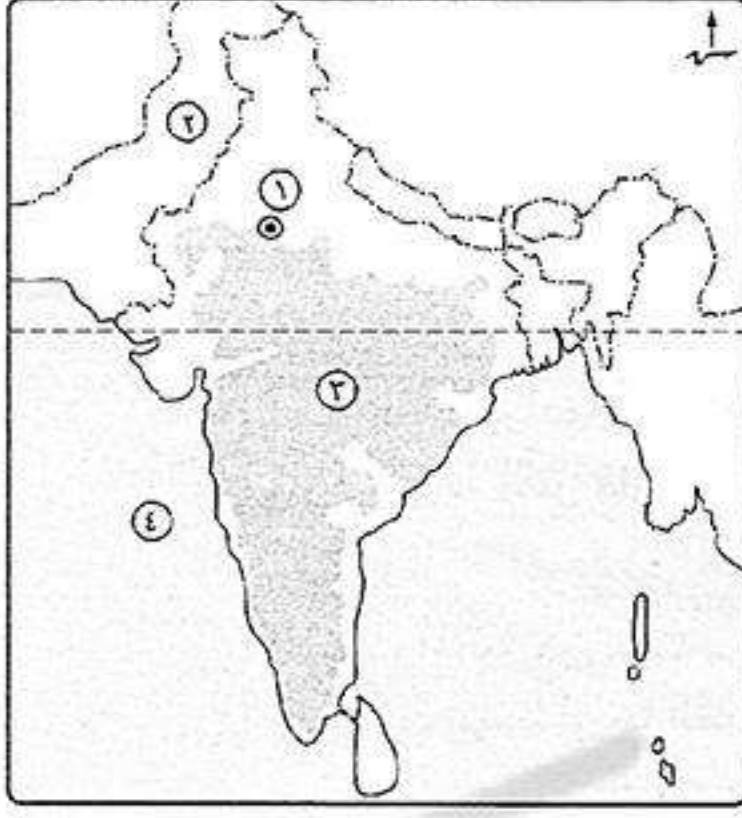
دل على صحة العبارات الآتية:

- ١) لمصر دور مهم في منظمة المؤتمر الإسلامي؟
- ٢) الأمم المتحدة منظمة عالمية في أهدافها؟

أذكر هدفاً واحداً لكل منظمة من المنظمات الآتية:

- ١) منظمة اليونسيف؟
- ٢) منظمة الأغذية والزراعة؟
- ٣) منظمة الصحة العالمية؟
- ٤) منظمة اليونسكو؟

اختبار (1)



أكتب ما تشير إليه الأرقام الآتية:

- (١) مدينة
- (٢) مدينة
- (٣) هضبة
- (٤) البحر

بم تفسر:

- (١) توسع العالم في استخدام الغاز الطبيعي كبديل لمصادر الطاقة الأخرى؟
- (٢) ينتج قصب السكر في كل قارات العالم عدا قارة أوروبا؟
- (٣) فشل العدوان الثلاثي على مصر؟

ما النتائج المترتبة على:

- (١) الوحدة الاقتصادية الأوروبية؟
- (٢) فشل العدوان الثلاثي على مصر ١٩٥٦م؟
- (٣) وضع فلسطين تحت الانتداب البريطاني وفقاً لمؤتمر سان ريمو ١٩٢٠م؟

ما المقصود بكل من:

- (١) الزراعة الكثيفة؟
- (٢) الرعى التجاري؟
- (٣) الفحم؟
- (٤) دستور؟

قارن بين:

- (١) الهند ونيجيريا من حيث: (العاصمة - مناطق تركيز السكان - العلاقات مع مصر).
- (٢) نصوص معاهدة السلام مارس ١٩٧٩م وقرار مجلس الأمن رقم ٢٤٢ عام ١٩٦٧م ومدى تنفيذ كل منها.

اختر الإجابة الصحيحة:

- (١) أكبر دول العالم في تربية الأغنام
 - (٢) من الدول النامية المشاركة في التجارة الدولية للحديد دولة.
 - (٣) من المراكز الصناعية المهمة في جنوب شرق آسيا الصناعي.
 - (٤) أولى دول العربية في توليد الكهرباء من الرياح.
 - (٥) تنتج قارة أوروبا ثلث إنتاج العالم من
 - (٦) ساهمت مصر في تأسيس حركة عدم الانحياز في مؤتمر
- (بريطانيا - السودان - أستراليا - الصين)
(السودان - الهند - نيجيريا - موريتانيا)
(كندا - ماليزيا - الأرجنتين - المكسيك)
(المغرب - العراق - سوريا - مصر)
(البترو - الفحم - الغاز الطبيعي - الفوسفات)
(جنيف - شرم الشيخ - باندونج - باريس)

لمن تنسب الأعمال الآتية:

- (١) رئيس المحكمة الدستورية العليا الذي تولى حكم مصر عام ٢٠١٣م.
- (٢) أصدرت أول مجلة نسائية وهي الريحانة وتحولت إلى جريدة عام ١٩٠٨م.
- (٣) قاد خطة الخداع في حرب أكتوبر ١٩٧٣م لصرف أنظار إسرائيل عن التجهيزات الهجومية.
- (٤) منظمة عملت على إنقاذ معابد أبو سمبل وإحياء مكتبة الإسكندرية.
- (٥) قام بدعوة الرئيس السادات ورئيس وزراء إسرائيل إلى مؤتمر كامب ديفيد.

- (٦) أشار على الخديو إسماعيل بإنشاء أول مدرسة للبنات في مصر.
 (٧) القيام بالنظر في القضايا الدولية وتقديم الاستشارات القانونية للهيئات الدولية.

ضع علامة (✓) أو (×) مع التصويب:

- () (١) من عوامل قيام ثورة ٢٣ يوليو ١٩٥٢م استمرار الاحتلال البريطاني وتدخله في شئون مصر الداخلية.
 () (٢) فشل مؤتمر كامب ديفيد بين السادات وبيجين ولم يصل إلى نتائج.
 () (٣) توفير مناخ الوحدة الوطنية أحد أنشطة منظمات المجتمع المدني.
 () (٤) وافقت الدول العربية على تقسيم فلسطين ١٩٤٧م.
 () (٥) تعد مصر أولى دول أفريقيا من حيث عدد السكان.
 () (٦) يعتبر الذرة المحصول الغذائي الرئيسي لمعظم شعوب العالم.
 () (٧) تشتهر الصين بإنتاج الأصواف من أغنام المارينو.
 () (٨) يوجد الحديد في أفريقيا وآسيا فقط.

ماذا كان يحدث إذا:

- (١) لم تتصارع الأحزاب السياسية في مرحلة ما بعد ثورة ١٩١٩م؟

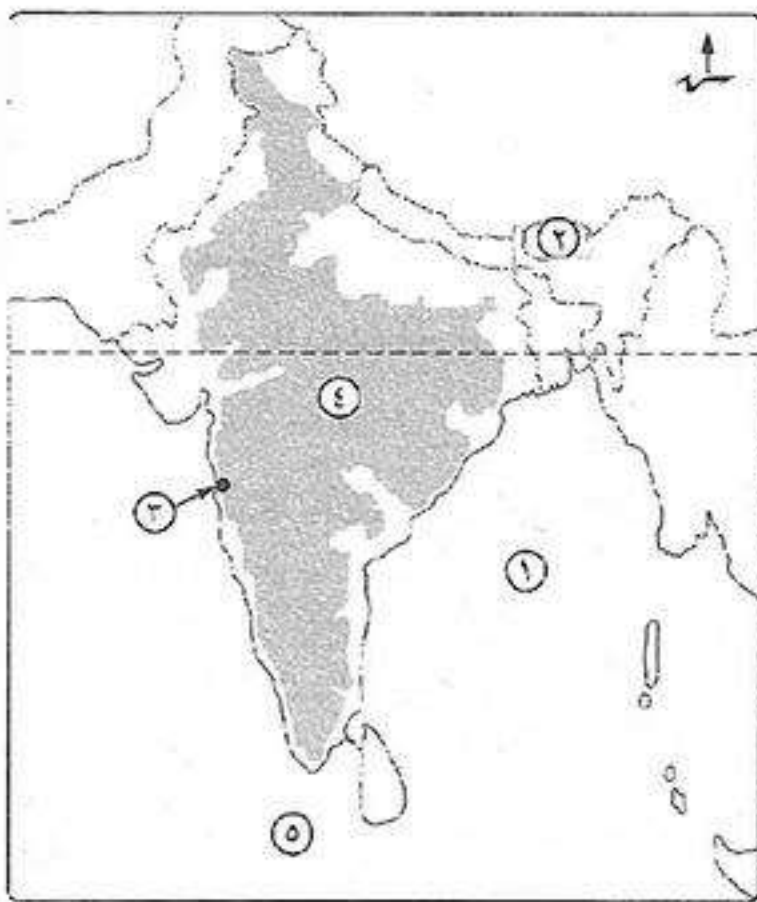
أيد صحة العبارات الآتية:

- (١) كان للدعم العربي أثناء حرب أكتوبر ١٩٧٣م أثر فعال في تحقيق النصر.
 (٢) لفلسطين أهمية خاصة في قلب كل عربي مسلم ومسيحي.
 (٣) لم يحقق مجلس المشورة في عصر محمد علي حياة نيابية سليمة.
 (٤) تعددت الآراء حول ثورة ٢٣ يوليو ١٩٥٢م؟

«قام الضباط الأحرار في الجيش المصري بثورة ٢٣ يوليو ١٩٥٢م والتي حققت أهداف وإنجازات في جميع المجالات»

في ضوء العبارة السابقة وضع:

- (١) أهداف ثورة ٢٣ يوليو ١٩٥٢م؟
 (٢) كيف قضت ثورة ٢٣ يوليو ١٩٥٢م على الإقطاع؟
 (٣) دور ثورة ٢٣ يوليو ١٩٥٢م في تطوير الحياة النيابية في مصر؟

اختبار (٢)**أكتب ما تشير إليه الأرقام الآتية:**

- (١) خليج
 (٢) دولة
 (٣) مدينة
 (٤) هضبة
 (٥) المحيط

بم تفسر:

- (١) أهمية البترول كمصدر من مصادر الطاقة؟
 (٢) يعد النشاط الزراعي من أهم الأنشطة الاقتصادية في العالم؟
 (٣) تفوق الهند في صناعة الحديد والصلب؟

أذكر ما يميز كل مدينة مما يأتي:

(١) نيودلهي ؟ إيبادان ؟

اكتب ما تشير إليه الجمل الآتية:

- (١) تنظيم كونه ضباط الجيش المصري وقام بثورة ٢٣ يوليو ١٩٥٢م.
- (٢) معاهدة جعلت مصر ميداناً للحرب العالمية الثانية.
- (٣) قانون صدر في سبتمبر ١٩٥٢م لتحديد الملكية الزراعية.
- (٤) حركة ساهمت مصر في تشكيلها تؤيد عدم الانضمام إلى أي من الكتلتين الشرقية والغربية.

أذكر أهم الدول المنتجة لكل محصول مما يأتي:

(١) المطاط الطبيعي ؟

(٢) القمح ؟

(٣) البنجر ؟

دلل تاريخياً على صحة كل عبارة مما يأتي:

- (١) ساندت الولايات المتحدة الأمريكية إسرائيل في عدوان ١٩٦٧م ؟
- (٢) نجاح ثورة ٢٣ يوليو ١٩٥٢م في تحقيق هدفها في القضاء على الاستعمار وأعوانه ؟

ماذا يحدث إذا:

(١) لم تقم ثورة ٢٣ يوليو ١٩٥٢م بانجاز مشروع بناء السد العالي ؟

(٢) نفذت إسرائيل قرار مجلس الأمن ٢٤٢ ؟

(٣) لم تقم الوحدة الاقتصادية الأوروبية ؟

من هو:

(١) رئيس أركان حرب القوات المسلحة المصرية واستشهد أثناء حرب الاستنزاف ؟

(٢) تنازل له والده عن عرش مصر عام ١٩٥٢م ؟

(٣) رئيس اللجنة العربية التي قامت بثورة ١٩٣٦م بفلسطين ؟

ما العلاقة بين:

(١) الرعى البدائي وتدفق البترول في شبه الجزيرة العربية ؟

(٢) حرب فلسطين وثورة ٢٣ يوليو ١٩٥٢م ؟

ما النتائج المترتبة على:

(١) نجاح الضربة الجوية التي قام بها سلاح الطيران المصري في حرب أكتوبر ١٩٧٣م ؟

(٢) العدوان الثلاثي على مصر ١٩٥٦م ؟

(٣) صغر مساح الحقول الزراعية في نطاق الزراعة الكثيفة ؟

(٤) استخدام آلات حديثة في الزراعة التجارية والعلمية ؟

ما المقصود بكل من:

(١) الغاز الطبيعي ؟

(٣) الزراعة الكثيفة ؟

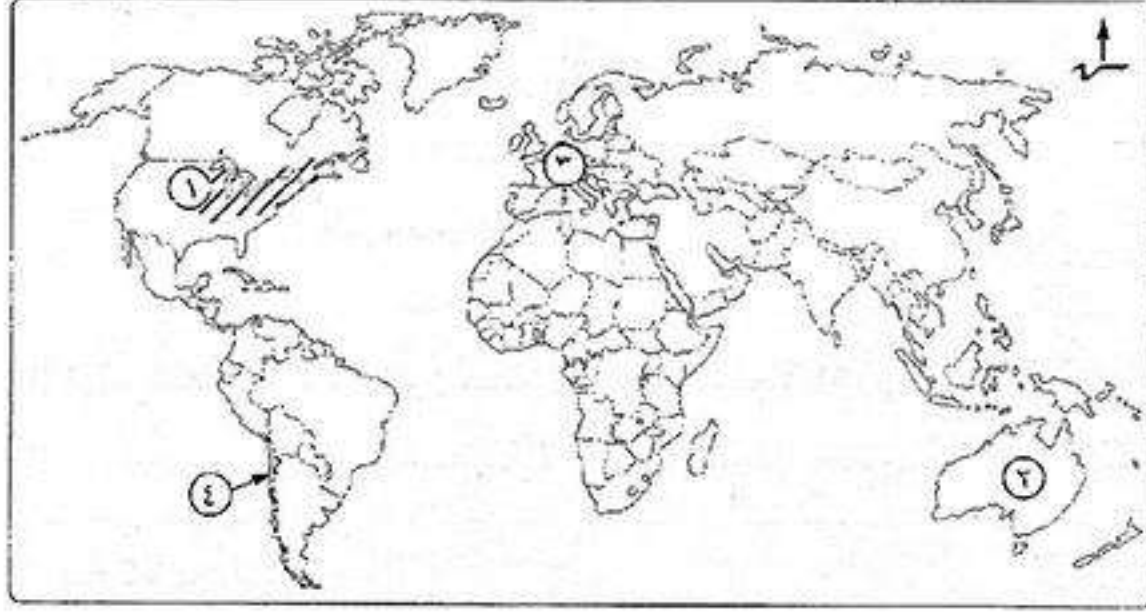
(٢) انتداب ؟

(٤) دستور ؟

قارن بين:

(١) ما تستورده مصر من كل من (الهند - نيجيريا).

اختبار (٣)



- (السعودية - روسيا - الولايات المتحدة - فرنسا)
 (البرازيل - فنزويلا - بيرو - كندا)
 (الأبقار - الأغنام - الماعز - الإبل)
 (البرازيل - الهند - الصين - تايلاند)

أكتب ما تشير إليه الأرقام الآتية:

- (١) إقليم صناعي
- (٢) ثاني دول العالم إنتاجاً للحديد
- (٣) أولى قارات العالم في إنتاج الطاقة النووية
- (٤) أولى دول العالم إنتاجاً للنحاس

اختر الإجابة الصحيحة مما بين القوسين:

- (١) تعد دولة ثاني دول العالم في إنتاج البترول.
- (٢) من المراكز الصناعية في قارة أمريكا الجنوبية
- (٣) تعد أستراليا من أهم الدول المربية لـ
- (٤) تعتبر دولة أكبر دول العالم إنتاجاً للشاي.

ما النتائج المترتبة على:

- (١) افتقار الهند للبترول؟

ما العلاقة بين:

- (١) الألومنيوم والبوكسيت؟
- (٢) مصر ومنظمة الاتحاد الأفريقي؟
- (٣) ثورة ٢٥ يناير ٢٠١١م والتكنولوجيا المتطورة؟

إلى من تنسب الأعمال الآتية:

- (١) أذاع البيان الأول لثورة ٢٣ يوليو ١٩٥٢م؟
- (٢) قام بإعداد دراسة عن أنسب التوقيتات للقيام بحرب أكتوبر ١٩٧٣م؟
- (٣) نادى بالسلام العادل لكل شعوب المنطقة وزار إسرائيل عام ١٩٧٧م؟
- (٤) دعا إلى عقد مؤتمر كامب ديفيد للتوصل إلى إطار للسلام بين مصر وإسرائيل؟
- (٥) مؤسس الحركة الصهيونية؟

قارن بين:

- (١) حرب فلسطين ١٩٤٨م وعدوان ٥ يونيو ١٩٦٧م من حيث الأسباب.

وضح:

- (١) كيف تم وضع فلسطين تحت الانتداب البريطاني؟
- (٢) الإجراءات التي اتخذتها بريطانيا لتنفيذ وعد بلفور؟
- (٣) شهرة مدينة نيويورك؟
- (٤) شهرة مدينة بومباي؟

دل على صحة العبارات الآتية:

- (١) توجد عدة عمليات تسبق التعدين؟
- (٢) تعد الصناعة مقياس لتطور الشعوب وازدهارها؟

أين يقع كل من:

- (١) منظمة الصحة العالمية؟
- (٢) محكمة العدل الدولية؟

فهرس الموضوعات

الصفحة

أولاً: الجغرافيا

◀ الوحدة الأولى: الموارد والأنشطة الاقتصادية في العالم

١	الدرس الأول: النشاط الزراعى وموارده فى العالم
٧	الدرس الثانى: الرعى والثروة الحيوانية والسلكية فى العالم
١٢	الدرس الثالث: النشاط التعدينى فى العالم
١٧	الدرس الرابع: النشاط الصناعى فى العالم

◀ الوحدة الثانية: نماذج لبعض الدول النامية والمتقدمة

٢١	الدرس الأول: جمهورية الهند
٢٦	الدرس الثانى: جمهورية البرازيل الاتحادية
٣١	الدرس الثالث: جمهورية نيجيريا الاتحادية
٣٦	الدرس الرابع: ألمانيا الاتحادية
٤١	الدرس الخامس: الولايات المتحدة الأمريكية

ثانياً: التاريخ

◀ الوحدة الثالثة: ثورة يوليو والصراع العربى / الإسرائيلى

٤٨	الدرس الأول: ثورة ٢٣ يوليو ١٩٥٢ م
٥٤	الدرس الثانى: مر والقضية الفلسطينية
٦١	الدرس الثالث: حرب أكتوبر ١٩٧٣ م
٦٦	الدرس الرابع: مصر والصراع العربى / الإسرائيلى
٧١	الدرس الخامس: ثورتا ٢٥ يناير ٢٠١١ م و٣٠ يونيو ٢٠١٣ م

◀ الوحدة الرابعة: الحياة السياسية وعلاقات مصر الدولية

٧٥	الدرس الأول: الحياة النيابية والحزبية ودور المرأة فى العمل الوطنى
٨٢	الدرس الثانى: مصر والمنظمات الإقليمية والدولية