



الاسم:

المستقبل

في الدراسات الاجتماعية

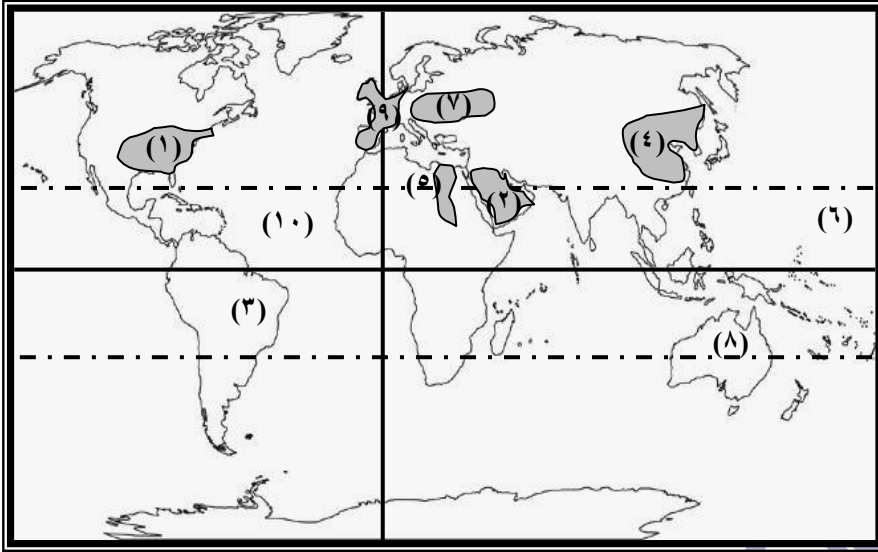


الفصل الدراسي الثاني

المراجعة النهائية

الصف الثالث الإعدادي

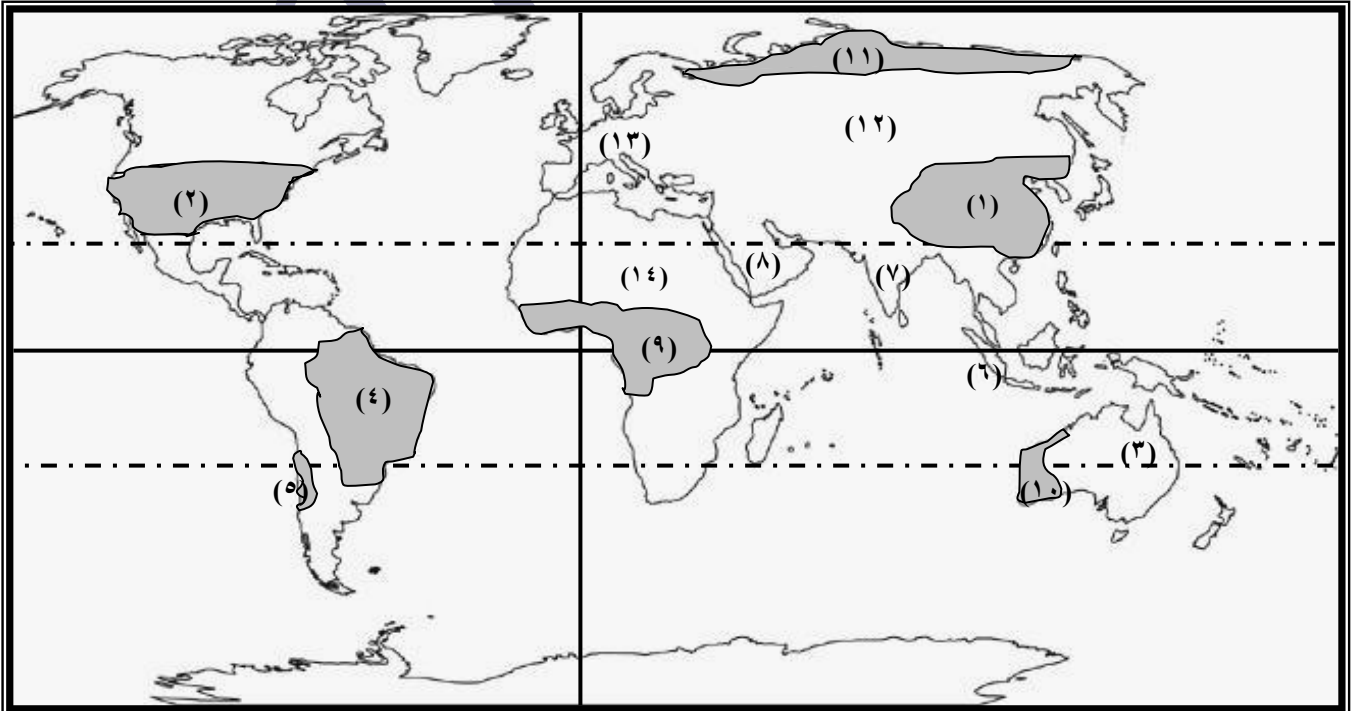
السؤال الأول: أمامك خريطة للعالم اكتب ما تشير إليه الأرقام التالية:

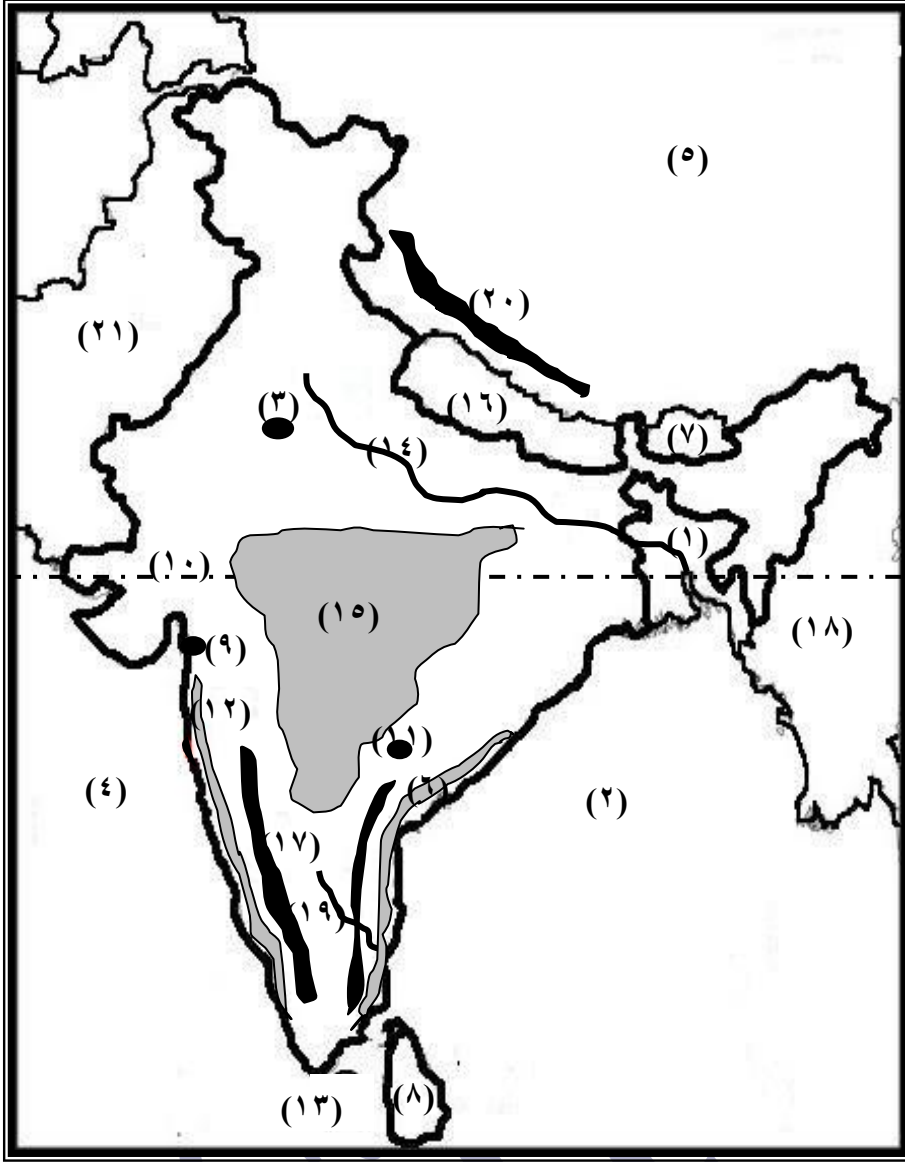


- ١- إقليم صناعي: شمال شرق الولايات المتحدة
- ٢- منطقة رعي: رعي بدائي
- ٣- قارة: أمريكا الجنوبية
- ٤- إقليم صناعي: شرق آسيا
- ٥- منطقة زراعة: زراعة كثيفة
- ٦- المحيط: الهادي
- ٧- إقليم صناعي: روسيا وأوكرانيا
- ٨- قارة: استراليا
- ٩- إقليم صناعي: غرب ووسط أوروبا
- ١٠- المحيط: الأطلسي

السؤال الأول: أمامك خريطة للعالم اكتب ما تشير إليه الأرقام التالية:

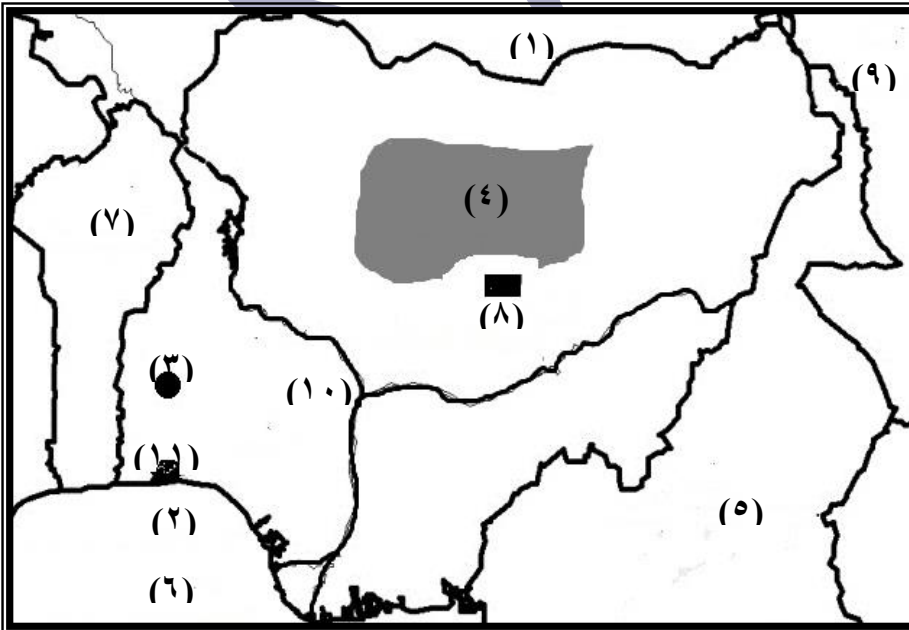
- ١- أولى الدول في إنتاج القمح: الصين
- ٢- أولى الدول المنتجة للذرة: الولايات المتحدة الأمريكية
- ٣- أولى الدول المنتجة للصوف: أستراليا
- ٤- أولى الدول في قصب السكر: البرازيل
- ٥- أولى الدول المنتجة للنحاس: شيلي
- ٦- ثاني الدول المنتجة للأسمك: أندونيسيا
- ٧- ثاني الدول المنتجة للقطن: الهند
- ٨- أولى الدول المنتجة للبتترول: السعودية
- ٩- نوع الزراعة السائد: زراعة بدائية بسيطة
- ١٠- نوع الرعي السائد: رعي تجاري
- ١١- حيواني يرعى في هذه المنطقة: الرنة
- ١٢- القارة الأولى في إنتاج الفحم: آسيا
- ١٣- أولى القارات في الغاز الطبيعي: أوروبا
- ١٤- ثاني القارات في إنتاج المطاط: أفريقيا



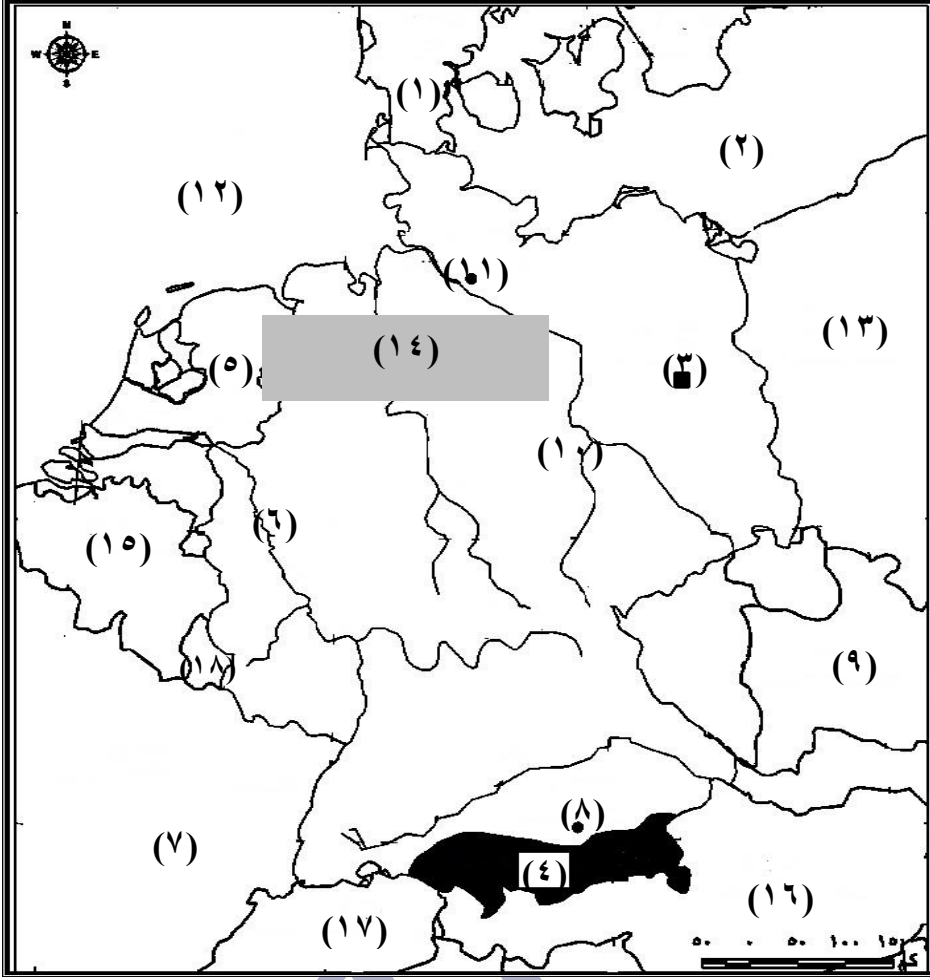


- ١- دولة: بنجلاديش
- ٢- خليج: البنغال
- ٣- مدينة: نيودلهي
- ٤- البحر: العربي
- ٥- دولة: الصين
- ٦- سهول: كروماندل
- ٧- دولة: بوتان
- ٨- جزيرة: سيلان
- ٩- مدينة: بومباي
- ١٠- دائرة عرض: السرطان
- ١١- مدينة: حيدر أباد
- ١٢- سهول: ملبار
- ١٣- المحيط: الهندي
- ١٤- نهر: الجانج
- ١٥- هضبة: الدكن
- ١٦- دولة: نيبال
- ١٧- جبال: الغات الغربية
- ١٨- دولة: ميانمار
- ١٩- نهر: كوفري
- ٢٠- جبال: الهيمالايا
- ٢١- دولة: باكستان

بد أمامك خريطة لدولة نيجيريا اكتب ما تشير إليه الأرقام التالية:

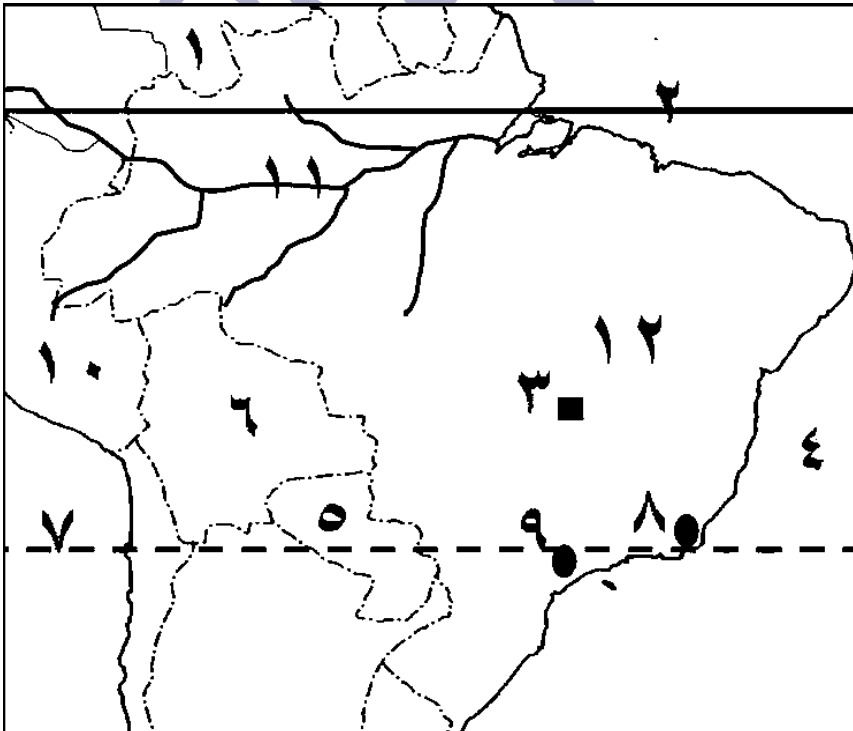


- ١- اسم الدولة: النيجر
- ٢- اسم الخليج: غينيا
- ٣- اسم المدينة: إيبادان
- ٤- اسم الهضبة: جوس
- ٥- اسم الدولة: الكامرون
- ٦- اسم المحيط: الأطلنطي
- ٧- اسم الدولة: بنين
- ٨- اسم المدينة: أبوجا
- ٩- اسم الدولة: تشاد
- ١٠- اسم النهر: النيجر
- ١١- اسم المدينة: لاجوس

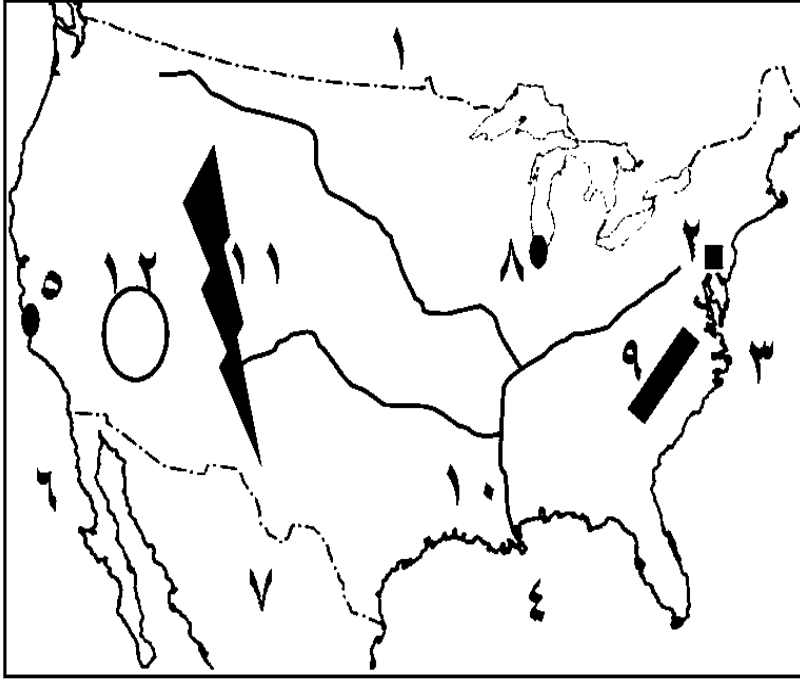


- ١- اسم الدولة: الدنمارك
- ٢- اسم البحر: البلطي
- ٣- اسم المدينة: برلين
- ٤- اسم الجبال: الألب
- ٥- اسم الدولة: هولندا
- ٦- اسم النهر: الراين
- ٧- اسم الدولة: فرنسا
- ٨- اسم المدينة: ميونخ
- ٩- اسم الدولة: التشيك
- ١٠- اسم النهر: الألب
- ١١- اسم المدينة: هامبورج
- ١٢- اسم البحر: الشمال
- ١٣- اسم الدولة: بولندا
- ١٤- اسم السهل: السهل الألماني
- ١٥- اسم الدولة: بلجيكا
- ١٦- اسم الدولة: النمسا
- ١٧- اسم الدولة: سويسرا
- ١٨- اسم الدولة: لوكسمبورج

د- أمامك خريطة دولة البرازيل اكتب ما تشير إليه الأرقام التالية:



- ١- دولة: فنزويلا
- ٢- دائرة عرض: الاستواء
- ٣- مدينة: برازيليا
- ٤- المحيط: الأطلنطي
- ٥- دولة: باراجواي
- ٦- دولة: بوليفيا
- ٧- مدار: الجدي
- ٨- مدينة: ريو دي جانيرو
- ٩- مدينة: ساو باولو
- ١٠- دولة: بيرو
- ١١- نهر: الأمزون
- ١٢- هضبة: البرازيل



- ١- دولة: كندا
- ٢- مدينة: واشنطن
- ٣- المحيط: الأطلنطي
- ٤- خليج: المكسيك
- ٥- مدينة: سان فرانسيسكو
- ٦- المحيط: الهادي
- ٧- دولة: المكسيك
- ٨- مدينة: شيكاغو
- ٩- جبال: الأبلاش
- ١٠- نهر: المسيسيبي
- ١١- جبال: روكي
- ١٢- هضبة: كلورادو

أكمل العبارات التالية:

- تهدف الزراعة التجارية والعلمية إلى الإنتاج التجاري الضخم.
- تنتشر الزراعة البدائية البسيطة في المناطق الحارة على هوامش الغابات الاستوائية وحشائش السافانا.
- من أهم محاصيل الزراعة البدائية البسيطة اليام و الكسافا والذرة والموز.
- تنتشر الزراعة الكثيفة في المناطق الحارة والمعتدلة ومن أهم محاصيلها القمح والقطن والأرز.
- تشمل المحاصيل الغذائية حبوب غذائية مثل القمح والأرز والذرة
- تشمل المحاصيل السكرية قصب السكر وبنجر السكر
- تشمل المحاصيل النسيجية القطن والكتان والجوت
- محاصيل ذات طبيعة خاصة المطاط والبن والشاي
- مصر أكبر دول إفريقيا المنتجة للقطن
- ينتج قصب السكر في جميع القارات عدا قارة أوروبا
- المحصول الأول لإنتاج السكر قصب السكر والمحصول الثاني بنجر السكر
- يعد القطن في مصر والسودان من أجود أنواع القطن في العالم وهو من أنواع القطن طويل التيلة
- تعد قارة أمريكا الشمالية أكبر قارة لإنتاج الذرة ويستخدم فيها كعلف للماشية والباقي يصدر للخارج.
- تعتبر أكبر قارات العالم إنتاجاً للمطاط هي قارة آسيا و أولى الدول هي دولة تايلاند.
- الموطن الأصلي للشاي هو شرق آسيا وأكبر الدول في إنتاجه هي دولة الصين.
- دولة الهند أولى دول العالم في تربية الأبقار بينما دولة الصين أولى دولة العالم في تربية الأغنام.
- ينتشر الرعي التجاري في بعض الدول مثل الأرجنتين والولايات المتحدة الأمريكية وأستراليا.
- ينتشر الرعي البدائي في الصحاري الحارة في آسيا مثل صحراء شبه الجزيرة العربية وبادية الشام.
- ينتشر الرعي البدائي في الصحراء التندرا في قارتي آسيا و أوروبا حيث يرعى حيوان الرنة.
- أولى القارات في تربية الأبقار هي قارة آسيا ثم يليها قارة أمريكا الجنوبية.
- تربي الأغنام في مناطق الرعي التجاري من أجل الاستفادة من لحومها وأصوافها.
- تعد اللحوم المنتج الرئيسي للحيوان والغذاء الرئيسي للإنسان
- تعد الألبان المنتج الثاني للثروة الحيوانية بعد اللحوم.

- تعتبر دولة إستراليا أولى دول العالم في إنتاج الصوف.
- تقوم على جلود الحيوانات بعض الصناعات مثل دبغ الجلود والمنتجات الجلدية.
- تعتبر الولايات المتحدة الأمريكية أولى دول العالم في تربية الدواجن .
- الصين أكبر الدول المنتجة والمصدرة للأسماك.
- دولة أندونيسيا هي ثاني الدول المنتجة للأسماك ودولة النرويج هي ثاني الدول المصدرة للأسماك.
- ينتج أكثر من نصف إنتاج الأسماك في العالم من مصايد المياه المالحة.
- تنتج دولة الصين أكثر من ثلث إنتاج العالم من الأسماك.
- يعتبر الجمبري من أنواع القشريات والسيب من الرخويات.
- يتم صيد الحيتان من أجل الاستفادة من لحومها و شحومها .
- تحتل الصين المركز الأول في إنتاج الحديد في العالم ثم يليها إستراليا.
- يصدر الحديد من الدول النامية مثل موريتانيا على الدول المتقدمة مثل اليابان و بريطانيا.
- تستهلك الدول المتقدمة حوالي ٨٥% من معادن العالم على الرغم أن بها خمس سكان العالم فقط.
- النحاس أقل بكثير من الحديد في الطبيعة وأكبر الدول المنتجة له هي دولة شيلي في قارة أمريكا الجنوبية.
- يمثل النحاس المصدر الرئيسي لصناعات الأسلاك والأدوات الكهربائية.
- يعد البوكسيت الخام الرئيسي لمعدن الألومنيوم وأكبر الدول المنتجة له هي إستراليا.
- الولايات المتحدة أكبر الدول إنتاجاً للألومنيوم.
- يشكل البترول والغاز الطبيعي نحو ٥٥% من الطاقة المستخدمة في العالم.
- يرتبط البترول بالتنمية الاقتصادية والتنمية الإجتماعية .
- تعد أوروبا أكبر القارات المنتجة للطاقة النووية في العالم يليها قارة أمريكا الشمالية.
- من أهم دول إقليم شرق آسيا الصناعي دولتي الصين وكوريا وجزيرة هنشو اليابانية.
- احتل الفحم المصدر الرئيسي للطاقة في العالم حتى القرن الـ ٢٠
- قارتا أوروبا وآسيا أكبر قارتين في إنتاج الفحم حوالي ثلاثة أرباع إنتاج العالم
- قارة أوروبا أكبر القارات إنتاجاً للغاز الطبيعي بنحو ثلث إنتاج العالم.
- أكبر الأقاليم الصناعية في العالم الجديد إقليم شمال شرق الولايات المتحدة
- تقع دولة الهند في قارة آسيا
- تقع معظم دولة بنجلاديش داخل الهند
- يحد الهند من الشمال الشرقي دولة ميانمار.
- تبلغ مساحة الهند حوالي ٣,٢ مليون كم^٢
- تمتد شمال الهند سهول نهر الجانج بينما في جنوبها سهول نهر كوفري
- السهول الساحلية شرق الهند تعرف بسهول كروماندل
- تقل كمية الأمطار في الهند كلما اتجهنا نحو الشمال
- تنمو الغابات الموسمية على السواحل الشرقية والغربية بالهند بينما تنمو الحشائش القصيرة على هضبة الدكن
- تحتل الهند المركز الثاني بين دول العالم من حيث عدد السكان بعد دولة الصين
- تعد الهند ثالث دول العالم إنتاجاً لـ الفحم وتوجد مناجمه في هضبة الدكن
- لجأت الهند إلى الطاقة النووية والطاقة الكهربائية بديلاً عن البترول ومصادر الطاقة الأخرى
- العاصمة السياسية للهند مدينة نيودلهي بينما العاصمة التجارية مدينة بومباي
- واجهت الهند المشكلة السكانية بسياسات تنموية مثل الاهتمام بالتعليم وتطوير البحث العلمي.
- تستورد مصر من الهند السهم و الشاي وتصدر مصر للهند القطن و الأسمدة
- تقع نيجيريا في غرب قارة أفريقيا.
- تسقط الأمطار طول العام في نيجيريا على الأجزاء الجنوبية.

تعد نيجيريا أكبر دول أفريقيا سكاناً .

يزرع في جنوب نيجيريا الكثير من المحاصيل مثل المطاط والأرز بينما في الوسط والشمال كلاً من الفول السوداني والذرة الرفيعة والذرة الشامية وزيت النخيل.

يحد نيجيريا من الشرق دولة تشاد ودولة الكاميرون

أكثر من نصف مساحة نيجيريا يصلح للزراعة لكن المستغل فعلياً لا يتجاوز ١٥% .

يستخرج القصدير من هضبة جوس بينما يستخرج الفحم من المنطقة الشرقية.

تمثل الغابات نحو ثلث مساحة نيجيريا وهي غابات مدارية و استوائية وتعتبر مصدر للأخشاب.

تأتى مدينة إيبادان في المركز الثاني بنيجيريا بعد لاجوس

تصدر مصر إلى نيجيريا مواسير الألومنيوم والأسلاك النحاسية وتستورد منها السلع الزراعية أهمها الحبوب الزيتية.

تقع ألمانيا في غرب قارة أوروبا

تطل ألمانيا على البحر البلطي وبحر الشمال

تنتشر الزراعة في ألمانيا في السهل الشمالى والأودية على جوانب الأنهار

تجرى في السهل الألماني الشمالي انهار الألب و الراين

يحد ألمانيا من الجنوب النمسا و سويسرا

أهم موانئ ألمانيا وقريبة من بحر الشمال هي مدينة هامبورج.

تعتبر الصناعة هي العمود الفقري للاقتصاد الألماني.

تمثل الغابات نحو ثلث مساحة ألمانيا.

تنمو الغابات النفضية و المخروطية في دولة ألمانيا.

تقوم ألمانيا بتمويل محطات توليد الكهرباء من الرياح.

تصدر مصر إلى ألمانيا البتترول والغاز الطبيعي والملابس وتستورد منها الآلات والسيارات والصناعات الكيماوية.

تحتل البرازيل وحدها حوالي نصف مساحة قارة أمريكا الجنوبية.

يسود المظهر الهضبي الأراضي البرازيلية .

تنمو فوق هضبة البرازيل حشائش السافانا .

يمثل الرعي حرفة مهمة في الاقتصاد البرازيلي.

البرازيل ليست غنية بموارد الطاقة.

كانت الصناعة في البرازيل تقتصر في الماضي على الصناعات الغذائية ، المنسوجات ، الصناعات الكيماوية.

ترتبط مصر بالبرازيل بعلاقات قديمة تمتد إلى القرن ١٩.

مناخ السهول الوسطى بالولايات المتحدة تختلف فيه أنواع النباتات من الحشائش في الوسط و الغابات في أقصى الجنوب

يسود شرق الولايات المتحدة كثافة سكانية مرتفعة

من المناطق الزراعية في الولايات المتحدة سهول نهر المسيسيبي في الوسط والوادي الأوسط بـ كاليفورنيا

من المدن الصناعية في الغرب الساحلي بالولايات المتحدة سان فرانسيسكو

أختر الإجابة الصحيحة من بين القوسين:

١- من أقدم المناطق التي ظهرت فيها الزراعة سهول


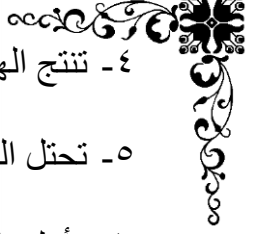
(المسيسيبي - الأمازون - نهر النيل - الراين)

٢- تتميز الزراعة بضيق وصغر المساحة المزروعة وتباعدها عن بعضها.

(البيسطة - الكثيفة - التجارية - المختلطة)

٣- تعتبر دولة هي أولى دول العالم في إنتاج كل من القمح والقطن.

(الهند - البرازيل - الصين - مصر)



- ٤- تنتج الهند نحو ثلث انتاج العالم من
(البترول - الفحم - الغاز الطبيعي - الطاقة الشمسية)
- ٥- تحتل البرازيل المركز في انتاج قصب السكر .
(الأول - الثاني - الثالث - الرابع)
- ٦- أولى الدول العربية في توليد الطاقة الكهربائية من الرياح
(المغرب - تونس - مصر - الأردن)
- ٧- تعتبر أولى الدول الأفريقية إنتاجاً للمطاط دولة
(جنوب أفريقيا - كينيا - السودان - نيجيريا)
- ٨- أهم دول أفريقيا في انتاج القطن
(المغرب - ليبيا - تونس - مصر)
- ٩- تحتل دولة المركز الأول عالمياً في انتاج لحوم الدواجن.
(الولايات المتحدة الأمريكية - المملكة المتحدة - الهند - الصين)
- ١٠- أكبر الدول المنتجة للصوف
(الولايات المتحدة - الهند - استراليا - الصين)
- ١١- يسود الرعي التجاري في دولة بأمريكا الجنوبية.
(شيلي - الأرجنتين - البرازيل - فنزويلا)
- ١٢- تعتبر دولة أولى دول العالم في انتاج الاسماك.
(بيرو - الصين - البرازيل - الأرجنتين)
- ١٣- أولى دول العالم في تربية الأغنام
(الهند - المملكة المتحدة - الصين - الولايات المتحدة)
- ١٤- يستخدم البوكسيت في صناعة
(الأسلاك - الأدوات الكهربائية - الحديد والصلب - الألومنيوم)
- ١٥- من الدول المستوردة للحديد دولة (الهند - اليابان - موريتانيا - جنوب أفريقيا)
- ١٦- يأتي ثلاثة أرباع انتاج العالم من الفحم من قارتي
(أوروبا وأفريقيا - آسيا وأوروبا - آسيا واستراليا - الأمريكتين)
- ١٧- يبدو إقليم الصناعي في شكل مناطق صناعية متباعدة.
(غرب ووسط أوروبا - شمال شرق الولايات المتحدة الأمريكية - شرق آسيا - روسيا وأوكرانيا)
- ١٨- أكبر الأقاليم الصناعية في العالم الجديد هو
(غرب ووسط أوروبا - شمال شرق الولايات المتحدة - روسيا وأوكرانيا - شرق آسيا)
- ١٩- العاصمة السياسية لدولة الهند هي مدينة (حيدر أباد - بمباي - نيودلهي - كلكتا)
- ٢٠- الدولة التي يقع معظمها في حدود الهند هي
(بنجلاديش - بوتان - باكستان - نيبال)
- ٢١- تسود الغابات على سواحل دولة الهند. (الاستوائية - الموسمية - المعتدلة - الباردة)
- ٢٢- تعد نيجيريا اكبر دول افريقيا
(سكاناً - مساحة - إنتاجاً للبترول - إنتاجاً للقمح)
- ٢٣- تحتل نيجيريا المركز الثاني في افريقيا في انتاج بعد مصر .
(الذرة - المطاط - القطن - الأرز)
- ٢٤- يستخرج معدن من هضبة جوس. (القصدير - الحديد - المنجنيز - الذهب)
- ٢٥- تعتبر مدينة هي العاصمة الاقتصادية لدولة نيجيريا. (كانو - أبوجا - لاجوس - إبيدبان)
- ٢٦- يجري نهر الألب والراين في دولة ألمانيا ويصبان في بحر
(المانش - الإديراتي - الشمال - الأسود)
- ٢٧- تقع ألمانيا في إقليم المناخي (غرب أوروبا - اللورانسى - التندرا)
- ٢٨- تعتبر مدينة هي عاصمة إقليم بافاريا في ألمانيا.



(بون - ميونخ - هامبورج - برلين)

٢٩- ترتفع الحرارة صيفا في دولة ألمانيا كلما اتجهنا نحو
(الشمال - الجنوب - الشرق - الغرب)

(البرانس - روكي - الألب - الإنديز)

٣٠- يوجد في جنوب ألمانيا جبال

(الأسكا - بوسطن - هاواي - كاليفورنيا)

٣٢- يطلق على المرتفعات الشرقية في الولايات المتحدة الأمريكية اسم جبال

(الأبلاش - روكي - كسكيد - سيرانيفادا)

٣٣- يتركز ٥٠% من سكان الولايات المتحدة الأمريكية في % من المساحة الكلية.
(١٢ - ١٥ - ٢٥ - ٣٥)

(٨,٥ - ٩,٥ - ١٠,٥ - ١١,٥)

٣٤- تبلغ مساحة البرازيل حوالي م كم^٢.

٣٥- يسود المناخ المعتدل الرطب في أقصى البرازيل.

(شرق - شمال - جنوب شرق - شمال شرق)

٣٦- يمثل سكان البرازيل نحو سكان أمريكا الجنوبية.

(ثلث - ربع - نصف - ثلثي)

٣٧- تمر دائرة الاستواء بأطراف البرازيل (الشمالية - الجنوبية - الغربية - الشرقية)

بم تفسر؟

* تعبر الزراعة من الأنشطة الاقتصادية الهامة في العالم

١- مصدر رئيسي لغذاء الإنسان

٢- ترتبط الزراعة بتربية الحيوان

* تحتاج الزراعة الكثيفة إلى أيدي عاملة كثيرة

- لأنها تتم من خلال عمليات عديدة مثل بذر الحبوب والري وتنقية الحشائش

* صعوبة استخدام الآلات والميكنة الزراعية في الزراعة الكثيفة؟

- بسبب ضيق مساحة الحقول الزراعية.

* توجد الزراعة التجارية في نطاقات زراعية محددة؟

لأنها تستخدم أحدث الآلات الزراعية لذلك لا توجد إلا في مناطق زراعة القمح والقطن في الولايات المتحدة .

مزارع المطاط والشاي في جنوب شرق آسيا ومناطق زراعة القمح في أوروبا

* يزرع قصب السكر في جميع القارات ما عدا قارة أوروبا

لأنه محصول مداري يحتاج لدرجة حرارة مرتفعة ومياه وفيرة بينما قارة أوروبا تقع في المنطقة المعتدلة.

* تمركز زراعة بنجر السكر في أوروبا؟

بسبب ملائمة المناخ والتربة لزراعته

* أهمية الاقتصادية للقطن؟

١- يستخدم في صناعة أجود أنواع الملابس ٢- تستخدم مخلفاته علف الحيوان ٣- يستخدم في صناعة الزيوت

* ينتشر المطاط الطبيعي في نطاق المناخ الاستوائي

لأنه يستخرج من عصارة أشجار الغابات استوائية

* الشاي من المحاصيل ذات الطبيعة الخاصة؟

لأنه نبات دائم الخضرة يحتاج إلى حرارة مرتفعة وأمطار غزيرة وهواء رطب وتربة خصبة خفيفة.

* يعتبر القمح الغذاء الرئيسي لمعظم شعوب العالم؟

لأنه يستخدم في صناعة رغيف الخبز والمكرونات والحلويات.

* تعتبر الصين أكبر دول العالم إنتاجاً للأغنام

بسبب توفر الحشائش التي تربي عليها الأغنام

* زيادة معدل الاستهلاك العالمي للحوم

بسبب ارتفاع مستوى المعيشة في كثير من دول العالم

* استيراد مصر اللحوم والألبان من الخارج

بسبب زيادة عدد السكان وزيادة الاستهلاك

* ابتعاد قبائل وسط قارة آسيا عن العمل بالرعي البدائي

لانتشار التعليم بينهم والعمل بالصناعة والزراعة والخدمات

قلة عدد العاملين بجرفة الرعي البدائي في شبه الجزيرة العربية وبادية الشام ؟

بسبب ظهور البترول وتوطين البدو.

* تعد الصين من الدول الرئيسية في إنتاج وتصدير الأسماك

١- طول سواحلها ٢- تقدم وسائل الصيد ٣- وصناعة حفظ وتعليب الأسماك.

* تنتشر مناطق الصيد على سواحل القارات (تطور حرفة الصيد)

١- ضحالة المياه الساحلية وغناها بالمواد الغذائية .

٢- التقاء التيارات البحرية الدافئة مع الباردة

٣- وفرة الموانئ لرسو السفن

* يصدر البوكسيت من الدول النامية إلى الدول المتقدمة

- بسبب عدم توفر مقومات صناعته وهي الطاقة الكهربائية والخبرة الفنية والأسواق الداخلية والخارجية

* أهمية المعادن بصفة عامة ؟

١- لأنها تعد أساس قيام الصناعة بشكل عام والصناعات الهندسية والمعدنية بشكل خاص.

* أهمية معدن النحاس.

يستخدم في صناعة الأسلاك والأدوات الكهربائية .

* أهمية معدن الحديد؟

أهم المعادن المستخدمة في الصناعة ويدخل في العديد من الصناعات أهمها الحديد والصلب.

* تستهلك الدول المتقدمة نحو ٨٥% من معادن العالم على الرغم أن بها خمس سكان العالم فقط؟

بسبب تقدم الصناعة بها وانتشار الصناعات التي تستخدم هذه المعادن.

* أهمية الفحم في العالم ؟

يستخدم في الصناعة وتوليد الكهرباء

* يعتبر البترول أهم مصادر الطاقة

١- يستخرج منه مشتقات عديدة مثل البنزين والسيولان

٢- يرتبط بالتنمية الاقتصادية والاجتماعية والعلاقات السياسية بين الدول الكبرى والدول النامية

٣- يمثل هو والغاز الطبيعي ٥٥% من مصادر الطاقة في العالم.

* زيادة أسعار البترول بصورة مستمرة

١- زيادة الطلب عليه ٢- تعدد استخداماته ٣- قابليته للنفاذ

* توسع دول العالم في استخدام الغاز الطبيعي

١- نظافته ٢- رخص ثمنه ٣- سهولة نقله ٤- أقل تلويثاً للبيئة

* أهمية الغاز الطبيعي في العالم؟

يمثل نحو ٢٥% من الوقود في العالم – يستخدم في الصناعة والاستخدامات المنزلية – يستخدم في توليد الكهرباء أو كوقود للسيارات للحد من التلوث – من مصادر الطاقة الرخيصة والنظيفة في العالم.

* تطور الصناعة تطوراً مذهلاً في الدول المتقدمة

- بسبب اعتمادها على ١- الأساليب العلمية ٢- تطبيق الأبحاث والتجارب العلمية في الاختراع وتحديث الصناعة بشكل مستمر ٣- توافر مقومات الصناعة الطبيعية والبشرية

* ارتفاع مستوى معيشة الأفراد في الدول الصناعية المتقدمة

لأنه يتركز فيها الكثير من الصناعات المتطورة والمتنوعة التي ارتفعت بمستوى شعوبها وأدت إلى تطور شعوبها وازدهارها مثل الصين وجنوب أفريقيا .

* توافر مراكز صناعية عديدة في دول أوروبا

بسبب توافر كل مقومات الصناعة بها.

* يعتمد إقليم شمال شرق الولايات المتحدة أكبر الأقاليم الصناعية في العالم الجديد

بسبب توافر مقومات الصناعة في الإقليم وتطور الصناعة في الإقليم

* تمتلك الهند أكبر عدد من الأبقار في العالم ولكنها ذات قيمة اقتصادية محدودة؟

بسبب وجود الديانة الهندوسية التي تحرم أكل لحوم الأبقار.

* تنتج الهند محاصيل غذائية بكميات كبيرة؟

حيث تم تطوير البحث العلمي بها مما أدى إلى تطوير الزراعة وزادت كمية الحبوب الغذائية لتواجه المشكلة السكانية بها.

* تعد الهند من الدول الرئيسية المنتجة للأسماك؟

لأنها تطل على مسطحات مائية بجبهات ساحلية طويلة مثل خليج البنغال والبحر العربي.

* شهدت الهند قفزات سريعة في تطور الصناعة؟

بسبب توافر مقومات الصناعة بها مثل المادة الخام ومصادر الطاقة والخبرات العلمية والفنية والأيدي العاملة.

* تفوق الهند في صناعة الحديد والصلب؟

بسبب وجود الفحم بكميات كبيرة بها الذي يعد أساس قيام صناعة الحديد والصلب.

* يوجد بالهند ثروة حيوانية ضخمة؟

بسبب كثرة المراعي بدولة الهند

* تسقط الأمطار طوال العام على جنوب نيجيريا

لأنها تقع في نطاق الإقليم الاستوائي الممطر طول العام

* يقل السكان في دلتا النيجر

بسبب كثافة النبات (الغابات الاستوائية) وقسوة المناخ

* يتركز السكان في هضبة جوس والسهول الشمالية وفي الغرب؟

حيث توجد الزراعة والتعدين والمراعي الطبيعية.

* يعتمد الإقليم الغربي أهم المناطق الاقتصادية في نيجيريا

حيث تسود به الزراعة التي تعتبر أهم حرفة في نيجيريا.

* أهمية الغابات في نيجيريا

حيث تغطي مساحه واسعة وهي مصدر للأخشاب .

* انتشار أعداد كبيرة من الأبقار والأغنام والماعز في نيجيريا؟

بسبب انتشار مراعي السافانا الغنية

* شهرة نيجيريا بالمطاط

بسبب وجود الغابات الاستوائية التي تغطي مساحه واسعة

* تنتج نيجيريا كميات كبيرة من الأسماك

بسبب طول السواحل على خليج غينيا ونهر النيجر والبحيرات الداخلية

* أهمية البترول في نيجيريا

لأنها تنتج ٣% من الإنتاج العالمي وتعتبر من الدول الرئيسية المنتجة والمصدرة له

* يعد اقتصاد نيجيريا اقتصاداً نامياً رغم امتلاك نيجيريا طواد خام ومصادر طاقة

بسبب : اعتمادها على الزراعة في المقام الأول.

* أهمية نهر النيجر لدولة نيجيريا؟

تعتمد عليه نيجيريا في الري والزراعة.

* تعتمد المرتفعات الوسطى في ألمانيا عن مناطق الجذب السياحي؟

حيث ينمو بها الغابات الصنوبرية ويوجد بها التلال وتنتشر بها ينابيع المياه.

* سقوط الأمطار طوال العام في دولة ألمانيا؟

لأنها تقع في إقليم غرب أوروبا الممطر طول العام وقربها من بحر الشمال والمحيط الأطلنطي.

* انكماش مساحة الحشائش في ألمانيا؟

لإحلال الزراعة والتوسع العمراني.

* تركز السكان في ألمانيا في المناطق الصناعية وجوانب الانهار والمدن الكبرى؟

بسبب توفر فرص العمل في الشركات والمصانع الألمانية وتوافر الخدمات.

* تطور الصناعة في ألمانيا بعد الحرب العالمية الثانية؟

بسبب توافر مقومات الصناعة – تدفق الاستثمارات الوطنية والأجنبية – توافر المراكز العلمية المتقدمة.

* شهرة مدينة ميونخ الألمانية؟

لأنها عاصمة إقليم بافاريا وثالث أكبر المدن من حيث عدد السكان ويوجد بها مقر العديد من الشركات والمصانع الألمانية ذات الشهرة العالمية.

* قوة العلاقات المصرية الألمانية؟

حيث يوجد علاقات ثقافية وعلمية بين البلدين مثل : هيئة التبادل العلمي – الجامعة الألمانية في القاهرة – معهد الآثار الألماني – المركز الثقافي ، وعلاقات اقتصادية تتمثل في: تقوم ألمانيا بتمويل محطات توليد الكهرباء من الرياح في مصر ومصدر تصدر لألمانيا البترول والغاز الطبيعي والملابس وتستورد مصر من ألمانيا الآلات والسيارات والصناعات الكيماوية.

* يعد سكان البرازيل خليطاً من معظم الأجناس؟

يوجد بها : أ- الهنود الحمر (السكان الأصليين). ب- العناصر السوداء (ذات أصول أفريقية). ج- الأوروبيون.

* تركز السكان في الساحل الجنوبي الشرقي للبرازيل؟

بسبب وجود العديد من المدن الرئيسية مثل: ريو دي جانيرو – ساو باولو .

* تعد البرازيل من الدول المنتجة للأسماك؟

بسبب امتلاكها سواحل طويلة على المحيط الأطلنطي والبحر الكاريبي ووجود نهر الأمزون.

* نقل العاصمة من ريو دي جانيرو إلى برازيليا؟

لإعادة توزيع السكان نحو الداخل وتعمير هضبة البرازيل.

* رغم فقر البرازيل بموارد الطاقة فقد تطورت الصناعة بها؟

بسبب توفر مقومات الصناعة بها مثل المادة الخام والتطور العلمي.

* تعد البرازيل من الدول التي تعاني قلة عدد السكان؟

بسبب مساحتها الواسعة ووجود مناطق شبه خالية من السكان مثل سهول نهر الامزون (عدد السكان لا يتناسب مع المساحة).

* أهمية مدينة ساو باولو؟

لأنها تقع على المحيط الأطلنطي وتشتهر بمبانيها الضخمة وشواطئها الرملية الواسعة.

* قلة عدد السكان بنطاق المرتفعات والأحواض الغربية بالولايات المتحدة؟

بسبب الظروف الطبيعية الصعبة.

* تقدم الولايات المتحدة في مجال الزراعة؟

بسبب وجود أراضي زراعية خصبة وواسعة واعتمادها على التكنولوجيا الحديثة وتوافر مياه الري.

* قوة العلاقات بين مصر والولايات المتحدة الأمريكية؟

حيث توجد اتفاقيات بين البلدين في إطار التعاون الاقتصادي والتكنولوجي والثقافي والعلمي – توجد اتفاقيات تجارية بين البلدين منها: (اتفاقية التجارة الحرة – اتفاقية الكويز)

* تنوع النبات الطبيعي في الولايات المتحدة؟

بسبب اتساع مساحة الولايات المتحدة وتنوع تضاريسها فيوجد بها : غابات الإقليم الصيني – الحشائش والأعشاب الصحراوية – والنباتات الجبلية)

* تعدد الأنشطة الاقتصادية في الولايات المتحدة؟

لأنها تتمتع بموارد طبيعية وفيرة ومتنوعة

* تنوع المناخ في البرازيل؟

حيث أن الموقع الفلكي للبرازيل جعلها تقع في المنطقة الاستوائية والمدارية لذلك يوجد بها (مناخ استوائي في حوض الامزون في الشمال – مناخ مداري حار في السهول الشرقية وهضبة البرازيل – مناخ معتدل رطب في أقصى جنوب شرق البرازيل).

ما النتائج المترتبة على ؟

* استخدام المكنة الزراعية في الزراعة التجارية والعلمية؟

قلة التكاليف وقلة الأيدي العاملة

* تعدد المراحل التي يمر بها الزراعة الكثيفة؟

أصبحت الزراعة الكثيفة تتطلب أيدي عاملة وفيرة.

* ضيوع مساحة الحقول الزراعية في الزراعة الكثيفة؟

أدى إلى صعوبة استخدام المكنة الزراعية.

* عدم وقوع أوروبا في نطاق المناخ المداري الحار

عدم نجاح زراعة قصب السكر بها

* انتشار المراعى في العالم

أصبحت مصدراً رئيسياً للثروة الحيوانية في العالم .

* استخدام الأساليب العلمية في تربية الحيوانات في الرعي التجاري؟

أصبح الرعي التجاري هو المصدر الرئيسي لإنتاج اللحوم والألبان في العالم.

* تربية أغنام المارينو بأعداد كبيرة في دولة أستراليا؟

أصبحت أستراليا تحتل المركز الأول في إنتاج الصوف في العالم.

* طول سواحل الصين على البحار والميطات وتقدم وسائل الصيد بها؟

أصبحت الصين أولى دول العالم المنتجة والمصدرة للأسماك.

* عدم توافر مصادر الطاقة الكهربائية والخبرات العلمية في الدول المنتجة للبوكسيت؟

أدى إلى تصدير البوكسيت كمادة خام إلى الدول المتقدمة لتصنيع الألومنيوم.

* الوحدة الاقتصادية الأوروبية

التكامل الاقتصادي والصناعي بين الدول الأوروبية وحمايتها وتدعيمها جمركيًا من جانب هيئة الاتحاد الأوروبي.

* فقر الهند للبرول ومصادر الطاقة؟

لجأت إلى الهند إلى التوسع في إنتاج الطاقة النووية والكهربائية.

* تحريم الديانة الهندوسية أكل لحوم الأبقار؟

أصبحت قيمتها الاقتصادية محدودة ولا تشارك بنسبة كبيرة في التجارة الدولية للحوم. اعتماد الهند على مصادر أخرى بديلة للحوم مثل الجاموس والأغنام.

* إشراف الهند على محيطات وخليجان مهمة؟

أصبحت الهند من الدول الرئيسية المنتجة للأسمك في العالم.

* وجود مساحات واسعة من الأراضي الزراعية في الهند؟

أصبحت الهند تنتج كميات كبيرة من المحاصيل الزراعية.

* تمتع نيجيريا بساحل على خليج غينيا

تنتج نيجيريا كميات من الأسماك

* اتساع مساحة حشائش السافانا الغنية في نيجيريا؟

أدى إلى ارتفاع أعداد الثروة الحيوانية (الأبقار والأغنام والماعز) في دولة نيجيريا.

* قوة العلاقات بين مصر ونيجيريا

تصدر مصر لها الأسمدة والمعدات الثقيلة والأسلاك النحاسية والإطارات والمحولات الكهربائية ومواسير الألومنيوم وتستورد مصر منها السلع الزراعية وأهمها الحبوب الزيتية.

* وقوع أطنابا في إقليم غرب أوروبا؟

أدى إلى سقوط الأمطار طوال العام واعتدال الحرارة صيفاً وانخفاضها شتاءً ونمو الغابات النفضية

* نمو الغابات النفضية وكثرة بنايع المطاه في وسط أطنابا؟

أصبحت المرتفعات الوسطى من مناطق الجذب السياحي في دولة ألمانيا.

* وجود المدن الرئيسية على الساحل الجنوبي الشرقي للبرازيل؟

تركز السكان في الساحل الجنوبي الشرقي للبرازيل وإنشاء مدن جديدة لإعادة توزيع السكان نحو الداخل.

* امتلاك البرازيل سواحل طويلة على المحيط الأطلسي والبحر الكاريبي؟

أصبحت البرازيل من الدول المنتجة للأسماك بكميات كبيرة في العالم.

* توافر الأيدي العاملة ومقومات الصناعة في البرازيل؟

تطور الصناعة في البرازيل.

* وعورة التضاريس والظروف الطبيعية الصعبة في نطاق المرتفعات والأحواض الغربية بالولايات المتحدة؟ ج- أدى إلى قلة

السكان في نطاق المرتفعات والأحواض الغربية.

* وقوع الولايات المتحدة الأمريكية بين محيطين كبيرين؟

أدى إلى وجود ثروة سمكية بكميات كبيرة في الولايات المتحدة.

* توافر مقومات الصناعة في الولايات المتحدة الأمريكية؟

أصبحت الولايات المتحدة القوة الصناعية الأولى في العالم وأولى الدول الصناعية السبع.

* غنى السهول الوسطى في الولايات المتحدة بالحشائش والأراضي الخصبة ووجود أكبر النطاقات الزراعية؟ ج- تتمتع

الولايات المتحدة بخصامة وتنوع الإنتاج الزراعي.

* **الزراعة البدائية** :- زراعة تنتشر في المناطق الحارة من العالم على هوامش الغابات الإستوائية وحشائش السافانا ويعمل بها عدد قليل من السكان في مناطق صغيرة ومعزولة

* **الزراعة الكثيفة** : زراعة الأرض أكثر من مرة خلال العام لإشباع حاجة السكان المحليين من الغذاء .

* **الزراعة التجارية والعلمية** : هي الزراعة الواسعة وتهدف إلى الإنتاج التجاري الضخم وتستخدم احدث الآلات الزراعية الحديثة وتتم في مزارع واسعة باستخدام احدث الآلات الزراعية والطرق العلمية.

* **الرعي البدائي** : هو رعي تمارسه جماعات من السكان في المناطق الصحراوية في الدول النامية.

* **النشاط التعدين** - هو استخراج المعادن ومصادر الطاقة ونقلها إلى المصانع وهو يكون إما سطحي أو باطني

* **مصادر الطاقة** : هي القوى المحركة لحياة الإنسان في جميع مجالات حياته ولا غنى عنها في الصناعة أو الاستخدامات المنزلية ومنها ما هو متجدد مثل الشمس والرياح ومنها ما هو غير متجدد مثل الفحم أو البترول أو الغاز الطبيعي.

* **الكهرباء المائية (الطاقة الكهرومائية)** : هي كهرباء تنتج من اندفاع المياه من الشلالات والسدود والأمواج والمد والجزر

* **الكهرباء الحرارية** : هي الكهرباء التي تنتج من محطات تدار بالفحم أو البترول أو الغاز الطبيعي.

* **الكهرباء النووية** : هي كهرباء تنتج من محطات نووية سلمية.

مقارنات هامة

التعريف	الزراعة البسيطة	الزراعة الكثيفة	الزراعة التجارية
زراعة يعمل بها عدد قليل من السكان في مناطق صغيرة ومعزولة	زراعة الأرض أكثر من مرة خلال العام لإشباع حاجة السكان من الغذاء	تسمى بالزراعة الواسعة التي تعتمد على الأساليب الحديثة	
المناطق الحارة على هامش الغابات الإستوائية وحشائش السافانا	توجد في المناطق الحارة والمعتدلة	في مناطق القمح والقطن في الولايات المتحدة مزارع المطاط والشاي في جنوب شرق آسيا زراعة القمح في استراليا	
استخدام أدوات بدائية ضيق المساحات وتباعدها . تمارس لتوفير الاحتياجات اللازمة للسكان دون وجود فائض للتصدير	** يتم فيها زراعة الأرض أكثر من مرة خلال العام. ** تتم من خلال عمليات عديدة مثل بذر البذور والري وتنقية الحشائش تتطلب أيدي عاملة وفيرة ** يصعب فيها استخدام الميكنة بسبب ضيق الحقول الزراعية	** وتهدف إلى الإنتاج التجاري الضخم ** وتستخدم احدث الآلات الحديثة ** تتميز بالتخصص في محصول واحد قلة التكاليف والأيدي العاملة	
اليام و الكسافا والذرة والموز	القمح الأرز القطن	القمح والمطاط والشاي والقطن	

الرعي التجاري	الرعي البدائي	
يعتمد على الأساليب الحديثة والتخصص في حيوان المراعى لإنتاج الألبان واللحوم - عدم اختلاط الحيوانات ببعضها	تمارسه جماعات سكانية في المناطق الصحراوية في الدول النامية	خصائصه
مناطق الحشائش (السافانا - الإستبس) ويسود في الولايات المتحدة و الأرجنتين وأستراليا.	آسيا: الصحارى الحارة بشبه الجزيرة العربية وبادية الشام- ودول وسط آسيا أفريقيا: شمال قارة. أوروبا وآسيا في صحراء التندرا.	انتشاره
البتترول	الفحم	
- يتسخرج منه العديد من المشتقات مثل البنزين والسولار. - يرتبط بالتنمية الاقتصادية والاجتماعية والعلاقات السياسية بين الدول الكبرى والنامية. - يمثل هو والغاز الطبيعي نحو ٥٥% من مصادر الطاقة المستخدمة.	المصدر الأول لإنتاج الطاقة ويستخدم في الصناعة وتوليد الكهرباء الحرارية	الأهمية
أكبر الدول: المملكة العربية السعودية المركز الأول - روسيا المركز الثاني	أكبر القارات هي آسيا وأوروبا ثلاثة أرباع الانتاج في العالم. أكبر الدول: الصين المركز الأول - الولايات المتحدة الأمريكية المركز الثاني.	مناطق الانتاج

أكبر دولة منتجة		أكبر قارة منتجة		
الهند	الصين	—	آسيا	القمح
—	—	—	أمريكا الشمالية	الذرة
—	البرازيل	—	—	قصب السكر
الولايات المتحدة	فرنسا	أمريكا الشمالية	أوروبا	بنجر السكر
الهند	البرازيل	—	—	السكر
الهند	الصين	أمريكا الشمالية	آسيا	القطن
—	تايلاند	أفريقيا	آسيا	المطاط
-----	الصين	-----	آسيا	الشاي
—	الهند	أمريكا الجنوبية	آسيا	الأبقار
الهند	الصين	-----	—	الأغنام
الولايات المتحدة	الصين	—	—	اللحوم
الصين	الولايات المتحدة	—	—	الدواجن
الولايات المتحدة	الهند	—	—	الألبان
الصين	استراليا	—	—	الصوف
أندونيسيا	الصين	—	—	الأسماك
استراليا	الصين	—	—	الحديد
الصين	شيلي	---	—	النحاس
—	استراليا	-----	استراليا	البوكسيت
الولايات المتحدة	الصين	أوروبا	آسيا	الفحم
روسيا	السعودية	-----	---	البتترول
—	الولايات المتحدة	-----	أوروبا	الغاز الطبيعي
-----	-----	امريكا الشمالية	أوربا	الطاقة النووية

نماذج من الدول النامية والمتقدمة

جمهورية الهند (جنوب آسيا)	
الموقع الجغرافي	* يحدها شمالاً نيبال والصين وبوتان * الشمال الشرقي ميانمار * الشمال الغربي باكستان * الجنوب المحيط الهندي ولها سواحل طويلة على خليج البنغال والبحر العربي
العاصمة	نيودلهي
العلاقات المصرية الهندية	* تشهد العلاقات المصرية الهندية نمو كبيراً في السنوات الأخيرة * تصدر مصر إلى الهند القطن والأسمدة الخام والأسمدة المصنعة والبتروول والجلود والفوسفات، وتستورد مصر من الهند غزل القطن والسمسم والشاي والتوابل وقطع غيار وسائل النقل وغيرها

جمهورية نيجيريا (غرب أفريقيا)	
الموقع الجغرافي	تقع نيجيريا على خليج غينيا في النطاقات المدارية الحارة شمال دائرة الاستواء حتى دائرة عرض ١٢ شمالاً وتطل على خليج غينيا من الجنوب ، يحدها من الشمال النيجر ومن الغرب دولة بنين ومن الشرق دولة تشاد والكاميرون
العاصمة	أبوجا
العلاقات المصرية النيجيرية	توجد علاقات قوية بين البلدين وتقوم مصر بتصدير الأسمدة والمعدات الثقيلة والأسلاك النحاسية والإطارات والمحولات الكهربائية ومواسير الألومنيوم وتنحصر الواردات المصرية في السلع الزراعية وأهمها الحبوب الزيتية.

دولة ألمانيا الاتحادية (غرب أوربا)	
الموقع الجغرافي	من الشمال : البحر البلطي ودولة الدنمارك وبحر الشمال . من الجنوب : النمسا و سويسرا من الشرق : بولندا و التشيك . من الغرب : هولندا وبلجيكا ولوكسمبورج وفرنسا.
العاصمة	برلين
العلاقات المصرية الألمانية	علاقات ثقافية وعلمية تتمثل في هيئة التبادل العلمي - الجامعة الألمانية بالقاهرة - معهد الآثار الألماني - المركز الثقافي . علاقات اقتصادية تتمثل في: تقوم ألمانيا بتمويل محطات توليد الكهرباء من الرياح - تصدر مصر لألمانيا البترول والغاز الطبيعي والملابس وغيرها من المنتجات وتستورد مصر السيارات والآلات والصناعات الكيماوية .

البرازيل	
الموقع الجغرافي	- يحدها شمالاً جيانا سورينام وجويانا وفنزويلا شرقاً : المحيط الأطلنطي - غرباً كولومبيا وبيرو وبوليفيا جنوباً بارجواي و الأرجنتين و اورجواي - تقع دولة البرازيل بقارة أمريكا الجنوبية
العلاقات مع مصر	١- ترتبط مصر بالبرازيل بعلاقات قديمة ٢- تصدر مصر إلى البرازيل الأقطان والمواد الغذائية والأثاث والمنسوجات والأسمدة ٣- تستورد مصر من البرازيل الحبوب خاصة الزيتية والسكر والمعادن وخاصة الحديد واللحوم والدخان والبن.

الولايات المتحدة الأمريكية	
القارة	أمريكا الشمالية
الموقع الجغرافي	من الشمال : دولة كندا . من الجنوب : المكسيك و خليج المكسيك من الشرق : المحيط الأطلنطي . من الغرب : المحيط الهادي . تنتمي إليها الجزر الواقعة بالمحيط الهادي مثل (هاواي) بالإضافة لولاية الاسكا
العاصمة	واشنطن
العلاقات المصرية الأمريكية	العلاقات قوية بين البلدين حيث توجد اتفاقيات بين البلدين اقتصادية وتكنولوجية وثقافياً وعلمياً . توجد اتفاقيات تجارية في منطقة التجارة الحرة و اتفاقية الكويز . تستورد مصر : منتجات تكنولوجية حديثة ، أسلحة ، طائرات .

المدن الهامة

الهند

نيو دلهي	* العاصمة السياسية * تقع بين حوضي نهري الكانج والسند * تتميز بوجود الجامعات والمراكز الصناعية والمعالم التاريخية المهمة
بومباي	* أهم مدن الساحل الغربي * من اكبر الموانئ * العاصمة التجارية للهند * من أكبر المدن الصناعية بها
حيدر أباد	* بهضبة الدكن * أكبر مراكز الصناعات اليدوية * تجمع بين الفن المعماري الجميل والمدنية الحديثة تضم العديد من المراكز الإسلامية.

نيجيريا

أبوجا	* العاصمة الحالية	* مدينة داخلية حديثة.
لاجوس	* العاصمة القديمة	* أكبر المدن النيجيرية ازدهاما بالسكان * العاصمة الاقتصادية للبلاد
إيبادان	* الثانية في الأهمية	بعد لاجوس * مركز للتجارة والتعليم والمواصلات

ألمانيا

برلين	* العاصمة الحالية	* أكبر المدن من حيث عدد السكان
ميونخ	عاصمة إقليم بافاريا – ثالث أكبر المدن من حيث عدد السكان – يوجد بها مقر العديد من المصانع والشركات الألمانية ذات الشهرة العالمية	
هامبورج	أكبر الموانئ الألمانية وقريبة من بحر الشمال.	

البرازيل

برازيليا	* أهم المدن البرازيلية	* تتميز بطبيعتها الجميلة	* العاصمة
ريودي جانيرو	* العاصمة القديمة للبرازيل	* من أجمل مدن العالم.	
ساو باولو	* أهم الموانئ بالبرازيل	* تقع على المحيط الأطلنطي وتشتهر بمبانيها	* يوجد بها العديد من الصناعات المهمة.

الولايات المتحدة الأمريكية

واشنطن	تطل علي المحيط الأطلنطي هي العاصمة وهي مقر الحكومة المركزية (البيت الأبيض) و الكونجرس (البرلمان الأمريكي)
نيويورك	ميناء هام تطل علي المحيط الأطلنطي بها مقر الأمم المتحدة .
شيكاغو	أكبر مدن السهول الوسطي تقع علي بحيرة متشجن
سان فرانسكو	أكبر الموانئ الأمريكية علي ساحل المحيط

التاريخ

أكمل العبارات الآتية

- أدى توقيع معاهدة ١٩٣٦م إلى جعل مصر ميداناً لمعارك الحرب العالمية الثانية
- من أسباب تدهور الأحوال الاجتماعية في مصر قبل ثورة يوليو ١٩٥٢م انتشار ظاهرة الإقطاع
- تزعم جمال عبد الناصر تنظيم الضباط الأحرار في الجيش المصري
- أذاع محمد أنور السادات أول بيان لثورة ٢٣ يوليو ١٩٥٢م
- تحقق القضاء على الاستعمار بعقد اتفاقية الجلاء في عام ١٩٥٤م
- صدر أول قانون للإصلاح الزراعي في شهر سبتمبر ١٩٥٢م
- تحولت مصر من النظام الملكي إلى النظام الجمهوري منذ عام ١٩٥٣م.
- تم تعيين محمد نجيب أول رئيس لجمهورية مصر العربية.
- تم انشاء مصانع الأسمدة في مدينة أسوان والحديد والصلب في حوان.
- قامت أول تجربة لتحقيق الوحدة العربية عام ١٩٥٨م بين مصر وسوريا
- صدر عام ١٩١٧م وعد بلفور لإنشاء وطن لليهود في فلسطين
- وضعت فلسطين منذ عام ١٩٢٠م تحت الانتداب البريطاني
- أصدرت الأمم المتحدة أول قرار لتقسيم فلسطين عام ١٩٤٧م.
- أعلن اليهود قيام دولة إسرائيل في شهر مايو عام ١٩٤٨م
- في حرب فلسطين ١٩٤٨م استولت إسرائيل على فلسطين كلها عدا غزة و الضفة الغربية
- اشترك في العدوان الثلاثي على مصر كل من إسرائيل و انجلترا و فرنسا
- استمرت حرب الاستنزاف من الفترة (١٩٦٩ - ١٩٧٠)
- في أكتوبر ١٩٦٧م نجحت القوات البحرية المصرية في تدمير المدمرة الإسرائيلية إيلات
- خط الدفاع الإسرائيلي على الجبهة المصرية كان يسمى بارليف
- خط الدفاع الإسرائيلي في هضبة الجولان كان يسمى ألوان
- من الدول العربية التي ساعدت مصر في حرب ١٩٧٣م مالياً: الجزائر ، قطر ، الإمارات ، السعودية.
- تعد حرب أكتوبر ١٩٧٣م نقطة تحول في الصراع العربي الإسرائيلي
- في حرب أكتوبر ١٩٧٣م انتهت نظرية الأمن الإسرائيلي
- أنهت حرب ١٩٧٣م حالة اللاسلم و اللاحرب بين مصر وإسرائيل
- قام الرئيس السادات بزيارة القدس (إسرائيل) عام ١٩٧٧م منادياً بالسلام
- عقد مؤتمر كامب ديفيد بدعوة من الرئيس الأمريكي كارتر ١٩٧٨م
- تم توقيع معاهدة السلام بين مصر وإسرائيل في مارس ١٩٧٩م
- استردت مصر آخر جزء من أراضيها في مارس عام ١٩٨٩م بإسترداد مدينة طابا.
- أكد مؤتمر مدريد للسلام على مبدأ الأرض مقابل السلام
- تمثلت أول اتفاقية رسمية ومنظمة التحرير الفلسطينية في اتفاقية أوسلو
- قام الشعب المصري في ثورة ٢٥ يناير ٢٠١١م بتشكيل اللجان الشعبية لمواجهة الاضطراب الأمني.
- أثبتت أحداث ثورة ٢٥ يناير أن الجيش قوة مساندة للشعب وليس أداة لقمع المتظاهرين واجهاض الثورة.
- بعد عزل الرئيس محمد مرسي تم تكليف المستشار عدلي منصور بإدارة شؤون البلاد.
- أنشأ محمد علي مجلس المشورة عام ١٨٢٩م.
- أنشأ الخدوي إسماعيل مجلس شورى النواب عام ١٨٦٦م.
- بموجب دستور عام ١٩٥٦م تم تشكيل مجلس الأمة عام ١٩٥٧م.
- صدر ما عرف بالدستور الدائم لمصر عام ١٩٧١م.

- أصدرت **جميلة حافظ** أو مجلة نسائية في مصر عام ١٩٠٧م عرفت بمجلة **الريحانة**.
- تم تعيين **حكمت أبو زيد** أول وزيرة للشئون الاجتماعية في مصر عام ١٩٦٢م.
- أنشأ **الخدوي إسماعيل** أول مدرسة لتعليم البنات في مصر وهي **المدرسة السنوية**.
- من المنظمات الإقليمية **جامعة الدول العربية** ومن المنظمات الدولية **الأمم المتحدة**.
- أنشئت **جامعة الدول العربية** في مارس عام ١٩٤٥م.
- وضع ميثاق الجامعة العربية عام ١٩٤٥م ووقعته **سبعة** دول عربية.
- يعين الأمين العام للجامعة العربية بأغلبية أكثر من **ثلثي** الأعضاء لمدة ٥ سنوات.
- عقد مؤتمر القمة الإسلامي عام ١٩٦٩م في مدينة **الرباط** في المغرب.
- من أهداف الأمم المتحدة المحافظة على **السلام والأمن** الدوليين.
- الأمانة العامة للأمم المتحدة مقرها **نيويورك** ويرأسها **الأمين العام**.
- منظمة الأمم المتحدة المتخصصة في مجال الطفولة يطلق عليها **اليونيسيف**.

بم تفسر؟

* **أهمية ثورة ٢٣ يوليو ١٩٥٢**

- ١- أثرت على الحركات التحررية في المنطقة العربية والعالم
- ٢- كانت ثورة ضد الفساد والاحتلال وسوء الحكم
- ٣- أسهم قادتها في تأسيس حركات استمرت حتى اليوم مثل عدم الانحياز

* **قيام ثورة ٢٣ يوليو ١٩٥٢**

- ١- استمرار الاحتلال البريطاني وتدخله في شئون مصر
- ٢- عدم وجود حياة ديمقراطية سليمة
- ٣- فساد النظام الملكي واستبداد الملك فاروق وحاشيته
- ٤- هزيمة الجيش في حرب فلسطين ١٩٤٨
- ٥- سوء الأحوال الاقتصادية
- ٦- سوء الأحوال الاجتماعية

* **سقوط الادعاءات المزيفة باستغلال مصر عقب حاد في ٤ فبراير ١٩٤٢**

- لان معاهدة ١٩٣٦ لم تؤدي إلى الاستقلال الحقيقي حيث حاصرت قوات الاحتلال في ٤ فبراير ١٩٤٢ قصر عابدين لإجبار الملك فاروق على تعيين مصطفى النحاس رئيساً للحكومة.

* **عجز الأحزاب عن التعبير عن إرادة الشعب ومطالبه**

بسبب فساد الأحزاب وتصارعها على الحكم وموالاتها بعض الأحزاب للملك والبعض الآخر للإنجليز

* **عدم وجود حياة ديمقراطية سليمة قبل ثورة ٢٣ يوليو ١٩٥٢**

- ١- الصراع على الحكم
- ٢- فساد الأحزاب السياسية
- ٣- فساد النظام الملكي وخضوعه للاحتلال

* **فساد النظام الملكي في مصر قبل ثورة ٢٣ يوليو ١٩٥٢**

- ١- استبداد الملك فاروق بالحكم
- ٢- انتشار الرشاوي في تعيين وإقالة الوزارات.

* **هزيمة الجيش المصري في حرب فلسطين ١٩٤٨**

- ١- عدم استعداد الجيش للحرب
- ٢- مساعدة الولايات المتحدة وبريطانيا لإسرائيل.

* **تدهور الأحوال الاقتصادية في مصر قبل ثورة ٢٣ يوليو**

- ١- أدى توقيع معاهدة ١٩٣٦م إلى جعل مصر ميدان لمعارك الحرب العالمية الثانية واستنزاف موارد البلاد لخدمة بريطانيا.

٢- أرهقت الحرب الاقتصاد المصري وزادت معاناة الشعب

* **سوء الأحوال الاجتماعية في مصر قبل ثورة ٢٣ يوليو**

- ١- لم يكن هناك سياسة واضحة وثابتة للإصلاح وفساد الأحزاب
- ٢- بسبب نظام الإقطاع وسوء توزيع الأرض الزراعية انتشر الفقر والمرض والجهل.

* **عدم وجود سياسة واضحة وثابتة للإصلاح قبل الثورة**

بسبب الصراعات السياسية بين الأحزاب .



* تأسيس جمال عبد ناصر تنظيم الضباط الأحرار

- ١- استمرار الاحتلال وفساد الأوضاع في مصر
- ٢- إيمانهم بضرورة القيام بثورة تقضى على الفساد وتعمل على تحرير واستقلال الوطن من احتلال * موافقة الملك فاروق على مطالب قادة ثورة ٢٣ يوليو
- ١- لأنه أدرك أن الجيش والشعب يكرهان حكمه
- ٢- تخلى الانجليز عنه

* يعتبر يوم ١٩ أكتوبر ١٩٥٤ يوماً مهماً في تاريخ مصر

- لان في هذا اليوم تم توقيع اتفاقية جلاء الانجليز عن مصر التي تنص على رحيل الانجليز خلال ٢٠ شهر.
- * اعتبار يوم ١٨ يونيو ١٩٥٦ عيداً للجلاء

- لان في هذا اليوم رحل آخر جندي بريطاني عن مصر بعد احتلال ٧٤ عام
* أهمية فلسطين لكل عربي؟

- ١- ولد بها السيد المسيح
- ٢- إليها أسرى بسيدنا محمد ٣- بها المسجد الأقصى أولى القبلتين وثالث الحرمين
- * إصدار بريطانيا وعد بلغور في ١٩١٧

- من أجل انشاء وطن قومي لليهود في فلسطين لأنها أدركت أهمية فلسطين بعد احتلالها لمصر عام ١٨٨٢.
* اشترك الدول العربية في حرب فلسطين عام ١٩٤٨

- ١- لنصرة وإنقاذ عرب فلسطين من بطش اليهود
- ٢- لمساعدة الشعب الفلسطيني على إقامة حكومة وطنية على أرضه
- * هزيمة العرب في حرب فلسطين ١٩٤٨

١- تقدمت الولايات المتحدة باقتراح لمجلس الأمن بـ

- أ- وقف القتال وإقامة هدنة لمدة شهر يمتنع فيها العرب واليهود من جلب الأسلحة والمحاربين إلى فلسطين ويكون ذلك تحت إشراف دولي
- ٢- لم يلتزم اليهود بالهدنة وبدوا في تقوية قواتهم
- * العدوان الثلاثي على مصر عام ١٩٥٦

١- عقد حكومة الثورة اتفاق مع الاتحاد السوفيتي لتزويد مصر بالأسلحة

- ٢- مساندة مصر حركات التحرر الوطني في الجزائر ضد الاحتلال الفرنسي
- ٣- تأمين مصر قناة السويس
- * نجاح إسرائيل في الاستيلاء على سيناء أثناء العدوان الثلاثي

- لان مصر سحبت قواتها من سيناء إلى غرب القناة للدفاع عن مدن القناة.
* فشل العدوان الثلاثي على مصر عام ١٩٥٦

١- مقاومة الجيش والشعب وصلابة القيادة

- ٢- وقوف الشعوب العربية بجانب مصر
- ٣- تهديد الاتحاد السوفيتي بالتدخل لوقف العدوان
- ٤- رفض الولايات المتحدة استخدام القوة في حل المنازعات
- ٥- تنديد الأمم المتحدة بالعدوان

* يوم ٢٣ ديسمبر يعتبر عيداً للنصر؟

- لان في هذا اليوم انسحبت انجلترا وفرنسا من بورسعيد عام ١٩٥٦ بعد فشل العدوان الثلاثي.
- * قيام الوحدة بين مصر وسوريا عام ١٩٥٨

- بسبب إدراك العرب خطر إسرائيل وأطماعها في السيطرة على العالم العربي
* وقوف مصر إلى جانب سوريا

- تطبيقاً لاتفاقية الدفاع المشترك بعد قيام إسرائيل بحشد قواتها على الحدود السورية.

* إغلاق مصر خليج العقبه في وجه الملاحه الإسرائيلية

- لحصار إسرائيل اقتصادياً وتطبيقاً لاتفاقية الدفاع المشترك بين مصر وسوريا.



*العدوان الإسرائيلي على مصر في ٥ يونيو ١٩٦٧

- ١- بسبب رغبة إسرائيل في القضاء على قوة مصر وتهديد إسرائيل لسوريا وحشد قواتها على حدود سوريا
- ٢- إعلان مصر وقفها إلى جانب سوريا تطبيقاً لاتفاقية الدفاع المشترك
- ٣- أرسلت مصر قواتها إلى سيناء وطلبت من قوات الطوارئ الدولية الموجودة بين مصر وإسرائيل الانسحاب من بعض النقاط
- ٤- إغلاق مصر خليج العقبة في وجه الملاحة الإسرائيلية في مايو ١٩٧٦ م.

*هزيمة الدول العربية في عدوان ٥ يونيو ١٩٦٧

- ١- تفوق إسرائيل العسكري وخاصة السلاح الجوي
 - ٢- عنصر إسرائيل المفاجأة في ضرب المطارات المصرية بعد تصوير المواقع المصرية بأجهزة تجسس أمريكية
 - ٣- مساندة الولايات المتحدة وأوروبا لإسرائيل
 - ٤- نقص التدريب وقلة الأسلحة الحديثة للقوات المصرية
- *قيام مصر بإعادة بناء القوات المسلحة بعد هزيمة ٥ يونيو
- ١- بسبب امتناع إسرائيل عن تنفيذ قرار مجلس الأمن ٢٤٢
 - ٢- رفض إسرائيل الانسحاب من الأراضي التي احتلتها
 - ٣- لمحو عار الهزيمة
- *تقديم الولايات المتحدة مبادرة روجرز

لوقف إطلاق النار وحل النزاع سلمياً بعد ظهور التفوق المصري أثناء حروب الاستنزاف.

*قيام مصر وسوريا بحرب أكتوبر ١٩٧٣

- ١- رفض إسرائيل كل نداءات السلام بالانسحاب من الأراضي التي احتلتها عام ١٩٦٧ م.
 - ٢- تصميم مصر وسوريا على إزالة نكسة ١٩٦٧ و استرداد سيناء وهضبة الجولان
- *حظر العرب صادرات البترول إلى الولايات المتحدة عام ١٩٧٣
- بسبب قيامها بمساعدة إسرائيل في الحرب وطلب الرئيس الأمريكي مساعدات لإسرائيل .
- *فجأح إسرائيل في إحداث ثغرة في منطقة الدفرسوار
- لان الولايات المتحدة قدمت معلومات عسكرية لإسرائيل أثناء حرب أكتوبر ١٩٧٣ م.

*فشلت الطائرات الإسرائيلية في الاقتراب من قناة السويس

بسبب شبكة الصواريخ المصرية المنتشرة غرب القناة

*ظهور مشكلة طابا

- بسبب الخلاف حول تعيين بعض علامات الحدود عند منطقة طابا

*شاركت مصر بغايلية في مؤتمر مدريد للسلام ١٩٩١

- لأنه دعا إلى حل النزاع العربي الإسرائيلي في ضوء قرارات الأمم المتحدة على أساس مبدأ الأرض مقابل السلام

* تعتبر ثورة ٢٥ يناير ٢٠١١ من الثورات العريضة في التاريخ

- لان التكنولوجيا المتطورة ساهمت في اندلاعها مثل الانترنت ومواقع الاتصال الاجتماعي (الفيس بوك)

* لم تكن ثورة ٢٥ يناير ٢٠١١ وليدة هذا التاريخ

- لأنه كانت هناك حركات سياسية ووقفات احتجاجية سبقتها ومهدت لها .

* خلو مجلس الشعب ٢٠١٠ من المعارضين

١- بسبب حصول الحزب الوطني على ٩٧% من مقاعد مجلس الشعب بعد إقصاء المعارضة بالتزوير

* تشكيل اطرين اللجان الشعبية أثناء ثورة ٢٥ يناير

١- حماية المنشآت والمناطق المحيطة بها

٢- مواجهة أعمال السرقة والحرق والترويع بعد انسحاب الشرطة المصرية من مواقعها.

* الاستعانة بالقوات المسلحة المصرية أثناء ثورة ٢٥ يناير

١- حماية أمن الممتلكات العامة والخاصة

٢- المحافظة علي أمن المواطنين

* تدهور الأوضاع الاقتصادية في مصر قبل ثورة ٢٥ يناير ٢٠١١م؟

بسبب تطبيق سياسة الانفتاح الاقتصادي دون ضوابط - التطبيق غير السليم لسياسة الخصخصة.

* سوء الأحوال الاجتماعية في مصر قبل ثورة ٢٥ يناير ٢٠١١م؟

بسبب زيادة الفوارق بين الطبقات - فقدان العدالة الاجتماعية في توزيع الثروات.

* قيام الشعب بثورة ٣٠ يونيو ٢٠١٣

- بسبب استمرار سوء الأوضاع الاقتصادية و فقدان العدالة الاجتماعية وإقصاء المعارضة.

* كانت الحياة النيابية أثناء حكم محمد علي حياة صورية

١- لأنه أنشأ عدة مجالس استشارية لا سلطة لها مثل مجلس المشورة والمجلس العالي.

* يعد عصر الحزب إسماعيل بداية الحياة النيابية في مصر

- لأنه أنشأ مجلس شورى النواب عام ١٨٦٦م. (أول مجلس منتخب)

* تميزت الفترة من ١٩٨١ حتى الآن بتدعيم مكانة المرأة.

حيث ظهر أول كيان مؤسسي خاص بالمرأة - تقلدت المرأة العديد من المناصب السياسية المهمة

* أهمية منظمات المجتمع المدني؟

- تعمل على تثقيف المواطنين وتعريفهم بحقوقهم السياسية كالتصويت والانتخاب - توضيح علاقة المواطنين بالدولة

وكيفية التعبير عن حقوقه وواجباته - توفير مناخ يحقق الوحدة الوطنية ونبذ العنف - التعريف بأسس المواطنة

الصالحة و دفع عجلة التنمية - تدعيم السياسة العامة للدولة ومواقفها من بعض القضايا مثل محاربة الارهاب وحظر

استخدام الألغام الأرضية.

* أهمية جامعة الدول العربية؟

لأنها تقوم ب: ١- تنسيق العلاقات بين الدول الأعضاء

٢- تنسيق الخطط السياسية والاقتصادية والاجتماعية والثقافية والأمنية

٣- التعاون وحماية الأمن القومي العربي

٥- تعزيز العمل العربي المشترك في مختلف المجالات

* إنشاء منظمة الأمم المتحدة للطفولة؟

لتعزيز وحماية حقوق الأطفال ورفاهيتهم

* أهمية الدور الذي تقوم به الأمم المتحدة عالميا ؟

١- المحافظة على السلام والأمن الدوليين

٢- تنمية العلاقات الودية و التعاون الدولي لحل المشكلات الاقتصادية والاجتماعية والثقافية

٣- تعزيز احترام حقوق الإنسان وحرياته دون تفرقة بسبب الجنس أو الدين

* مجلس الأمن من أهم أجهزة الأمم المتحدة؟

لأنه المسئول عن حفظ السلام والأمن الدوليين ، وسلطته قانونية على حكومات الدول الأعضاء

* إنشاء مجلس الوصاية ؟

ليرعى مصالح شعوب البلدان التي كانت مستعمرات والأخذ بيدها نحو الحكم الذاتي والاستقلال

* أهمية منظمة اليونسكو (العلوم والثقافة والتربية)؟

المساهمة في إحلال السلام والأمن عن طريق رفع مستوى التعاون بين دول العالم في مجالات التربية والعلوم والثقافة

* إنشاء محكمة العدل الدولية ؟

هي الجهاز القضائي الأساسي للأمم المتحدة - تنظر في القضايا التي تضعها الدول أمامها وتقدم الاستشارات القانونية

للهيئات الدولية

* شاركت مصر في تأسيس الاتحاد الأفريقي ؟

بسبب تحرر الكثير من الدول الإفريقية - لإقرار الأمن والسلام باعتباره عمقاً استراتيجياً لمصر

* أهمية منظمة الصحة العالمية ؟

تعمل على توفير أفضل سبل الرعاية الصحية لجميع الشعوب ، ونشر الوعي من أجل حماية مياه الشرب من التلوث ، وعقد دورات تدريبية لتطوير الخدمات الصحية.

* أهمية منظمة الأغذية والزراعة العالمية (الفاو) ؟

للقضاء على الجوع ، ومساعدة البلدان النامية على تطوير وتحسين الإنتاج الزراعي والتغذية الجيدة

ما النتائج المترتبة على ؟

١- توقيع معاهدة ١٩٣٦

١- أصبحت مصر ميدان لمعارك الحرب العالمية الثانية واستنزاف موارد البلاد لخدمة بريطانيا .

٢- أرهقت الحرب الاقتصاد المصري وزادت معاناة الشعب

٣- سوء الأحوال الاقتصادية - قيام ثورة ٢٣ يوليو ١٩٥٢ م .

٢- إنشاء السد العالي

حماية مصر من الفيضان ٢- تخزين المياه وتوليد الكهرباء ٣- إقامة دلتا جديدة في جنوب مصر

٣- عقد مؤتمر سان ريمو ١٩٢٠

ج- أعطى لبريطانيا حق الانتداب على فلسطين - السماح بهجرة أعداد كبيرة من اليهود إلى فلسطين والسماح بانتقال ملكية الأراضي من العرب لليهود.

٤- عرض القضية الفلسطينية على الأمم المتحدة عام ١٩٤٧

أصدرت قرارها بتقسيم فلسطين إلى ثلاثة أقسام :

١- دولة عربية ٢- دولة يهودية ٣- منطقة دولية وهي مدينة القدس

٥- حرب فلسطين ١٩٤٨

- استولت إسرائيل على كل فلسطين ما عدا :

قطاع غزة: تحت إدارة مصرية - الضفة الغربية: بها قوات أردنية - القدس: وقسمت بين العرب واليهود

٦- مساندة مصر ثورة الجزائر ضد الاحتلال الفرنسي

- أدى ذلك لاشتراك فرنسا في العدوان الثلاثي على مصر

٧- العدوان الثلاثي على مصر عام ١٩٥٦

١- انسحاب إنجلترا وفرنسا من بورسعيد وإسرائيل من سيناء

٢- وضع قوات طوارئ دولية بين مصر وإسرائيل عام ١٩٥٧

٣- أدرك العرب خطر إسرائيل وأطماعها في السيطرة على العالم العربي

٤- قامت الوحدة بين مصر وسوريا عام ١٩٥٨

٨- عدوان ٥ يونيو ١٩٦٧

أ- بالنسبة لمصر :

١- استولت إسرائيل على غزة وسيناء ووصلت للضفة الشرقية لقناة السويس

٤- خسرت مصر عدد كبير من قواتها في سيناء

* بالنسبة لسوريا : استولت إسرائيل على هضبة الجولان

* بالنسبة لفلسطين : استولت إسرائيل على القدس الغربية وعلى الضفة الغربية لنهر الأردن

٩- معركة رأس العش

- أدى ذلك إلى تصدى القوات المصرية للقوات الإسرائيلية وأجبرتها على الانسحاب من بورفؤاد

١٠- الضربة الجوية التي قام بها سلاح الطيران في حرب أكتوبر

- ١- مهدت لعبور الدبابات والآليات العسكرية المصرية إلى سيناء
- ٢- تدمير خط بارليف في ست ساعات
- ٣- انتشار القوات المصرية على الضفة الشرقية للقناة
- ٤- أسر مئات الجنود الإسرائيليين
- ٥- تحطيم عدد كبير من المعدات العسكرية الإسرائيلية

١١- حرب أكتوبر على الجبهة السورية :

- ١- اخترقت القوات السورية خط الدفاع الإسرائيلي (خط ألوان)
- ٢- خسرت إسرائيل أعداد كبيرة من الجنود والطائرات
- ١٢- اجتماع وزراء النفط العربي في الكويت في أكتوبر ١٩٧٣

- اتخذوا القرارات الآتية :

- ١- خفض إنتاج البترول
- ٢- حظر صادرات البترول إلى الولايات المتحدة
- ١٣- مبادرة الرئيس السادات بزيارة إسرائيل عام ١٩٧٧

- ١- مهد الطريق أمام إسرائيل للقبول بمبدأ التفاوض بين الأطراف المهمة بالقضية
- ١٤- عقد مؤتمر كامب ديفيد في ٥ سبتمبر ١٩٧٨

١- تم التوصل إلى اتفاق للسلام بين مصر وإسرائيل

١٥- توقيع معاهدة السلام بين مصر وإسرائيل في مارس ١٩٧٩م؟

- رفع العلم المصري فوق سيناء في ٢٥ أبريل ١٩٨٢م ما عدا منطقة طابا.

١٦- عرض قضية طابا على هيئة التحكيم الدولي ١٩ سبتمبر ١٩٨٩

١- أصدرت هيئة التحكيم حكمها لصالح مصر

٢- في ١٩ مارس ١٩٨٩ استعادت مصر طابا

٣- استردت مصر آخر جزء من أراضيها

١٧- مؤتمر مدريد للسلام ١٩٩١م؟

- حدوث مفاوضات سرية بين إسرائيل ومنظمة التحرير الفلسطينية مما أسفر عن توقيع اتفاقية أوسلو ١٩٩٣م في مدينة واشنطن.

١٨- الانفتاح الاقتصادي دون ضوابط في مصر

١- تدهور الأوضاع الاقتصادية وقيام ثورة ٢٥ يناير ٢٠١١م.

١٩- تطبيق نظام الخصخصة في أواخر عصر مبارك

١- خروج آلاف العاملين بنظام التقاعد (المعاش المبكر)

٣- ارتفاع أسعار الحاجات والسلع الأساسية ٤- تدهور الأوضاع الاقتصادية وقيام ثورة ٢٥ يناير ٢٠١١م.

٢٠- سوء الأوضاع الاجتماعية في مصر في أواخر عصر مبارك

١- زيادة الفوارق الاجتماعية ٢- فقدان العدالة الاجتماعية في توزيع الثروات وقيام ثورة ٢٥ يناير ٢٠١١م

٢١- استمرار العمل بقانون الطوارئ منذ تولي مبارك الحكم

١- عانى المواطن المصري الكثير من الظلم وانتهاك لحقوقه الإنسانية ٢- قيام ثورة ٢٥ يناير ٢٠١١م.

٢٢- الانتخابات البرلمانية لمجلس الشعب ٢٠١٠

١- حصل الحزب الوطني الحاكم علي نسبة ٩٧ ٪ من المقاعد ٢- خلا المجلس من وجود أي معارضة وطنية

٢٣- انسحاب قوات الشرطة والأمن من مواقعها

١- حدوث اضطراب وانفلات أمني شديد

٢- شكل المجتمع المصري بكل فئاته ما عرف باللجان الشعبية في الشوارع والحارات والميادين

٣- الاستعانة بالقوات المسلحة المصرية للحفاظ على الأمن

- ١- تخلي مبارك عن الرئاسة يوم ١١ فبراير ٢٠١١
- ٢- تسليم إدارة شئون البلاد للمجلس الأعلى للقوات المسلحة
- ٣- خرجت الملايين من الجماهير تحتفل بهذا الحدث التاريخي

٢٥- صدور دستور ١٩٥٦

- نص على أن السلطة التشريعية تكون في يد مجلس منتخب هو مجلس الأمة والذي تم انتخابه عام ١٩٥٧م.
- ٢٦- صدور دستور ١٩٦٣م؟

- حرية تكوين الأحزاب السياسية - جعل السلطة التشريعية في يد البرلمان الذي يتكون من مجلسين هما (مجلس النواب ومجلس الشيوخ)

٢٧- اشترك مصر كعضو فعال في الأمم المتحدة ؟

- شاركت مصر في الأنشطة المختلفة للأمم المتحدة كما شاركت بجنودها في قوات حفظ السلام الدولية في بلدان عديدة منها (الكونغو - البوسنة والهرسك - الصومال - الكويت)

٢٨- التعاون بين مصر ومنظمة اليونسكو عام ١٩٦٤م؟

- ١- ساهمت في إنقاذ معابد (أبو سمبل) في عام ١٩٦٤م لتجنب تعرضها للغرق
- ٢- إحياء مكتبة الإسكندرية

أيد صحة العبارات التالية

- ١- كانت معاهدة ١٩٣٦ معاهدة اسمية كشفت عن زيف ادعاءات الاحتلال البريطاني لان معاهدة ١٩٣٦ لم تؤدي إلى الاستقلال الحقيقي حيث حاصرت قوات الاحتلال في ٤ فبراير ١٩٤٢ قصر عابدين لإجبار الملك فاروق على تعيين مصطفى النحاس رئيساً للوزارة .
- ٢- انعكس فساد نظام الحكم على الأحوال الاقتصادية والاجتماعية لمصر قبل ثورة ٢٣ يوليو ١٩٥٢ لم يكن هناك سياسة واضحة وثابتة للإصلاح كانت فنة صغيرة تملك وتستبد بسبب نظام الإقطاع وسوء توزيع الأرض الزراعية
- ٣- كماه للدعم الحربي كور هام في تحقيق نصر أكتوبر
- ١- قدمت بعض الدول الدعم المادي مثل السعودية والإمارات وقطر والجزائر
- ٢- خفض إنتاج البترول العربي ثم منعه تماما عن الدول المساندة لإسرائيل
- ٣- حظر الصادرات النفطية إلى الولايات المتحدة
- ٤- قدمت بعض الدول دعم عسكري مثل العراق والجزائر وليبيا والأردن والمغرب والسعودية والسودان والكويت وتونس

- ٦- تعتبر حرب أكتوبر نقطة تحول في الصراع العربي الإسرائيلي حيث أثبتت أن القوة لا تمنح سلاما

- ٧- نجحت حرب أكتوبر في تقييد أسس العقيدة القتالية لإسرائيل

- حيث أ- فقدت الدبابات الإسرائيلية قدرتها ب- فشلت الطائرات الإسرائيلية في الاقتراب من قناة السويس

- ٨- أنهت حرب أكتوبر نظرية الأمن الإسرائيلي

- أ- انهارت الخطوط الدفاعية مثل خط بارليف

- ب- ثبت أن الموانع الطبيعية والصناعية لا يمكنها أن تقف مانعا أمام الجيوش الحديثة

أذكر ما تعرفه عن:

١- أهداف ثورة ٢٣ يوليو ١٩٥٢ :-

- ١- القضاء على الاستعمار وأعدائه
- ٢- القضاء على الإقطاع
- ٣- إقامة جيش وطني قوى
- ٤- إقامة عدالة اجتماعية
- ٥- إقامة حياة ديمقراطية سليمة
- ٦- إقامة حياة ديمقراطية سليمة

٢- كيف نجحت ثورة ٢٣ يوليو في القضاء على الإقطاع

- أصدرت قانون للإصلاح الزراعي في ٩ سبتمبر ١٩٥٢ الذي حدد الملكية الزراعية بـ ٢٠٠ فدان ووزعت الأراضي على الفلاحين
- أصدرت قوانين أخرى انتهت بتحديد الملكية بـ ٥٠ فدان

٣- كيف نجحت ثورة ٢٣ يوليو في إقامة جيش وطني

- عندما رفضت الدول الغربية والولايات المتحدة إمداد مصر بالسلح اتجه قادة الثورة إلى المعسكر الشرقي بزعامة روسيا للحصول على الأسلحة والمعدات اللازمة لبناء الجيش

٤- كيف نجحت ثورة ٢٣ يوليو في إقامة حياة ديمقراطية سليمة

- حل جميع الاحزاب الفاسدة

٥- إنجازات ثورة ٢٣ يوليو ١٩٥٢ في المجال السياسي

- ١- إلغاء الملكية وإعلان الجمهورية وتعيين اللواء محمد نجيب أول رئيس للجمهورية (١٨ يونيو ١٩٥٣)
- ٢- إلغاء دستور ١٩٢٣م وحل الأحزاب السياسية (يناير ١٩٥٣)
- ٣- توقيع اتفاقية الجلاء عن مصر (١٩ أكتوبر ١٩٥٤)
- ٤- رحيل القوات الانجليزية عن مصر (١٨ يونيو ١٩٥٦)
- ٥- تأميم شركة قناة السويس (٢٦ يوليو ١٩٥٦)

٦- إنجازات ثورة ٢٣ يوليو ١٩٥٢ في الزراعة

- استصلاح أراضي صحراوية لزيادة الأرض الزراعية - إنشاء السد العالي وتم انجازه ١٩٧١

٧- إنجازات ثورة ٢٣ يوليو ١٩٥٢ في الصناعة

- ١- إنشاء مصانع مثل (الحديد والصلب بحلوان - مصنع الأسمدة بأسوان)
 - ٢- البحث عن البترول وإنشاء معامل لتكريره ٣- الاهتمام بالتعليم الصناعي وإنشاء مراكز التدريب المهني
- ٨- إنجازات ثورة ٢٣ يوليو ١٩٥٢ في التجارة

- ١- قامت بتمصير البنوك وشركات التأمين وشركات الاستيراد والتصدير
- ٢- قامت بفتح أسواق خارجية لتسويق المنتجات المصرية

٩- كيف نجحت ثورة ٢٣ يوليو ١٩٥٢ في إقامة عدالة اجتماعية

- ١- أقامت الوحدات الصحية والجمعيات الزراعية
- ٢- أصدرت قوانين التأمينات الاجتماعية والمعاشات للعمال والموظفين
- ٣- حددت ساعات العمل وأشركت العمال في مجلس إدارة الشركات وخصصت لهم نسبة من الأرباح
- ٤- اهتمت بالمرأة وأصبح من حقها الترشيح لمجلس الأمة ١٩٥٦

١٠- إنجازات ثورة ٢٣ يوليو ١٩٥٢ في المجال العربي

- ١- ساندت السودان والجزائر وتونس واليمن وساهمت في استقلال الكويت والعراق واليمن
- ٢- إقامة أول وحدة عربية بين مصر وسورية في فبراير ١٩٥٨
- ٣- لا تزال تؤيد حقوق الشعب الفلسطيني في دولة مستقلة عاصمتها القدس

١١- إنجازات ثورة ٢٣ يوليو ١٩٥٢ في المجال الدولي

- ١- ساهمت في تشكيل حركة عدم الانحياز وظهر دورها مع الهند ويوغسلافيا في مؤتمر باندونج باندونيسيا ١٩٥٥
- ٢- كسرت احتكار السلاح العالمي بعقد صفقة الأسلحة الشرقية عام ١٩٥٥
- ٣- ساندت الدول الإفريقية لنيل الاستقلال مثل كينيا

١٢- كيف تم وضع فلسطين تحت الانتداب البريطاني؟؟

- ١- قررت دول الحلفاء وضع فلسطين تحت الانتداب البريطاني مع تنفيذ وعد بلفور
- ٢- تم ذلك في مؤتمر سان ريمو بإيطاليا الذي أعطى لبريطانيا حق الانتداب على فلسطين
- ٣- أصدرت عصبة الأمم قراراً بوضع فلسطين تحت الانتداب

١٣- الإجراءات التي اتخذتها بريطانيا لتنفيذ وعد بلفور

- ١- السماح بهجرة أعداد كبيرة من اليهود إلى فلسطين
- ٢- السماح بانتقال ملكية الأراضي من العرب إلى اليهود بالشراء
- ٤١- دور الولايات المتحدة في مساعدة إسرائيل في حرب أكتوبر ١٩٧٣
- ١- أقامت جسر جوي لتقديم المساعدات العسكرية لإسرائيل
- ٢- قدمت مساعدات مالية عاجلة لإسرائيل .
- ٣- قدمت معلومات عسكرية لإسرائيل ساعدتها على إحداث ثغره في منطقة الدفرسوار التابعة للجيش الثالث الميداني
- ٤- تدخلت هي والدول الأعضاء في مجلس الأمن وتم إصدار القرار ٣٣٨ الذي يقضي بوقف جميع الأعمال الحربية بدء من يوم ٢٢ أكتوبر ١٩٧٣ وقبلت مصر القرار

١٥- مزايا السلام وحل الصراع العربي الإسرائيلي

- ١- تحقيق الاستقرار الداخلي للدول العربية
- ٢- دفع عجلة التنمية وإصلاح البنية الأساسية للبلاد
- ٣- تشجيع رؤوس الأموال العربية والأجنبية على الاستثمار
- ٤- زيادة حركة السياحة مما يؤدي إلى زيادة الدخل القومي وتوفير العملات الأجنبية
- ١٦- الدروس المستفادة من حرب أكتوبر ١٩٧٣

- ١- تعد نقطة تحول في الصراع العربي الإسرائيلي
- ٢- تحطيم أسطورة الجيش الإسرائيلي الذي لا يقهر وعادت الثقة للمقاتل المصري
- ٣- تحطيم أسس العقيدة القتالية لإسرائيل
- ٤- انتهاء نظرية الأمن الإسرائيلي
- ٥- أنهت حالة اللاسلم واللاحرب
- ٦- أظهرت أهمية استخدام سلاح البترول العربي
- ٧- أثرت في العلاقات بين إسرائيل وبعض الدول المحبة للسلام في العالم
- ١٧- نصوص معاهدة السلام في ٢٦ مارس ١٩٧٩ :-

- ١- انسحاب إسرائيل الكامل من سيناء
- ٢- إنهاء حالة الحرب بين الطرفين وحل المنازعات بينهما بالطرق السلمية
- ٣- احترام كل طرف لسيادة واستقلال الطرف للآخر
- ٤- إقامة علاقات ودية بين الطرفين (سياسية واقتصادية وثقافية)
- ٥- إقامة مناطق منزوعة السلاح على جانبي الحدود
- ٦- احترام حرية الملاحة في الممرات الدولية
- ٧- البدء بمفاوضات الحكم الذاتي للفلسطينيين في الضفة الغربية قطاع غزة
- ٨- تطبيق قرار مجلس الأمن رقم ٢٤٢
- ١٨- أهم المبادئ التي تضمنها دستور ١٩٧١

- ١- سيادة القانون
- ٢- استقلال القضاء
- ٣- التعددية الحزبية
- ٤- حدد سلطات الحكم في مصر (رئيس الدولة - السلطة التشريعية - السلطة التنفيذية - السلطة القضائية)

وضح معنى ؟

- ١- عدم الاخياز :- عدم الانضمام إلى أي من الكتلتين الشرقية والغربية
- ٢- البرلمان :- يطلق على المجالس النيابية التي تتولى السلطة التشريعية.
- ٣- حياة نيابية :- إدارة شؤون الحكم في البلاد عن طريق ممثلي الشعب الذين يقومون بسن القوانين ومراقبة أعمال الحكومة

٥- دستور :- هو الوثيقة الرسمية التي تحدد نظام الحكم في الدولة وتحدد شكل واختصاصات المؤسسات الدستورية المختلفة

٦- منظمات المجتمع المدني: منظمات تضم جمعيات محلية وجمعيات خيرية ومؤسسات غير حكومية ونقابات عمالية.

٧- المنظمة الإقليمية: هي المنظمة التي تجمع عددًا من الدول المستقلة وترتبط ببعضها بروابط معينة مثل جامعة الدول العربية

٨- المنظمة الدولية: هي التي تضم في عضويتها دول العالم المستقلة وإن لم ترتبط ببعضها بروابط معينة مثل منظمة الأمم المتحدة وحركة عدم الانحياز

أكتب ما تشير إليه العبارة

- ١- قام بالتوقيع على معاهدة ١٩٣٦ بين مصر وانجلترا
- ٢- أجبر الملك فاروق على تعيينه و تكليفه بتشكيل الوزارة لخدمة مصالح البريطانية (مصطفى النحاس)
- ٣- تم حصاره في ٤ فبراير ١٩٤٢ واجبر على أن يكلف مصطفى النحاس بتشكيل الحكومة (الملك فاروق)
- ٤- أسس وترعّم تنظيم الضباط الأحرار (جمال عبد الناصر)
- ٥- أذاع أول بيان للثورة باسم اللواء محمد نجيب (محمد أنور السادات)
- ٨- من مطالب الثورة من الملك أن يتنازل له عن العرش (احمد فؤاد الثاني)
- ٩- قام بعقد اتفاقية الجلاء مع الانجليز ١٩ أكتوبر ١٩٥٤ (جمال عبد الناصر)
- ١٠- بمقتضاها رحل آخر جندي انجليزي عن مصر بعد ٧٤ عام من الاحتلال (معاهدة الجلاء)
- ١١- قانون حدد الملكية الزراعية ووزرع الأراضي على الفلاحين (قانون الإصلاح الزراعي)
- ١٢- أول رئيس للجمهورية ١٩٥٣ (محمد نجيب)
- ١٣- حمى مصر من خطر الفيضان (السد العالي)
- ١٤- المجلس الذي مُنحت المرأة حق الترشيح له (مجلس الأمة)
- ١٥- أول تجربة للوحدة العربية ١٩٥٨ (الوحدة بين مصر وسوريا)
- ١٦- بعد هزيمة يونيو ١٩٦٧ أعلن ان ما أخذ بالقوة لا يسترد إلا بالقوة (جمال عبد الناصر)
- ١٧- مؤتمر عقد في اندونيسيا ١٩٥٥ لحركة عدم الانحياز (مؤتمر باندونج)
- ١٨- صفقة عقدتها مصر أدت إلى كسر احتكار السلاح العالمي (صفقة الأسلحة الشرفية)
- ١٩- قام بتأميم شركة قناة السويس (جمال عبد الناصر)
- ٢٠- اصدر تصريح في نوفمبر ١٩١٧ لإنشاء وطن قومي لليهود في فلسطين (بلفور)
- ٢١- مؤتمر عقد بايطاليا أعطى لبريطانيا حق الانتداب على فلسطين (مؤتمر سان ريمو)
- ٢٣- أصدرت أول مجلة نسائية في مصر عام ١٩٠٧ (جميلة حافظ)
- ٢٤- أصدرت قرار بتقسيم فلسطين (الأمم المتحدة)
- ٢٥- مذبحه ارتكبها اليهود في فلسطين (دير ياسين)
- ٢٦- أول دولة تعترف بإسرائيل (الولايات المتحدة الأمريكية)
- ٢٧- اشتركت في العدوان الثلاثي بسبب مساعدة مصر لثورة الجزائر (فرنسا)
- ٢٨- أعلن وقوفه إلى جانب مصر في العدوان الثلاثي (الاتحاد السوفيتي)
- ٢٩- قوات دولية كانت توجد على الحدود بين مصر وإسرائيل عام ١٩٥٧ (قوات الطوارئ الدولية)
- ٣٠- أصدره مجلس الأمن في نوفمبر ١٩٦٧ ورفضته إسرائيل (قرار ٢٤٢)
- ٣١- معركة انتصرت فيها مصر على إسرائيل جنوب بورسعيد في يوليو ١٩٦٧ (رأس العش)
- ٣٢- مدمرة إسرائيلية دمرتها الصواريخ المصرية (المدمة إيلات)
- ٣٣- حرب شنتها القوات المصرية على القوات الإسرائيلية في شرق القناة لاستنزاف طاقات إسرائيل وإرباك قيادتها العسكرية (الاستنزاف)



- ٣٤- تولى حكم مصر بعد وفاة جمال عبد الناصر
٣٥- إن توضع القدس تحت إدارة دولية
٣٦- بادر بزيارة إسرائيل عام ١٩٧٧
٣٧- الرئيس الأمريكي الذي دعا إلى مؤتمر كامب ديفيد
٣٨- رئيس وزراء إسرائيل الذي حضر مؤتمر كامب ديفيد
٣٩- دعا إلى حل النزاع العربي الإسرائيلي في ضوء قرارات الأمم المتحدة على أساس مبدأ الأرض مقابل السلام
٤٠- عدم الانضمام إلى أي من الكتلتين الشرقية والغربية
٤٢- نظام طبق في أواخر عصر مبارك أدى إلى بيع المؤسسات بأقل من سعرها الحقيقي (الخصخصة)
٤٣- شكلها المصريون أثناء ثورة ٢٥ يناير لحماية المنشآت ومواجهة أعمال السرقة (اللجان الشعبية)
٤٤- تسلم إدارة شئون البلاد بعد تنحي مبارك
٤٥- يطلق على المجالس النيابية التي تتولى السلطة التشريعية في الدولة (برلمان)
٤٦- أن يقوم الشعب بانتخاب ممثلين لإدارة شئون البلاد وسن القوانين ومراقبة أعمال الحكومة (حياة نيابية)
٤٧- أنشأه إسماعيل ويعتبر بداية الحياة النيابية في مصر. (مجلس شورى النواب)
٤٨- نص دستور ١٩٥٦ على أن السلطة التشريعية تكون في يده (مجلس الأمة)
٤٩- تولت منصب أول وزيرة للشئون الاجتماعية عام ١٩٦٢م. (حكمت أبو زيد)
٥٠- الوثيقة الرسمية التي تحدد نظام الحكم في الدولة وتحدد شكل واختصاصات المؤسسات الدستورية المختلفة (الدستور)
٥١- أول كيان مؤسسي خاص بالمرأة. (المجلس القومي للمرأة)
٥٢- تولت رئاسة اللجنة المركزية للسيدات في حزب الوفد عام ١٩٢٠م. (هدى شعراوي)
٥٣- أول مدرسة لتعليم البنات في مصر ١٨٧٣م. (مدرسة السنية)
٥٤- تولت منصب وزيرة الشئون الاجتماعية عام ١٩٧١م. (عائشة راتب)
٥٥- تولت منصب رئيس اللجنة التشريعية في مجلس الشعب. (د / آمال عثمان)
٥٦- أنشأ أول مدرسة لتعليم البنات في مصر. (الخدوي إسماعيل)
٥٧- هي المنظمة الوحيدة المتخصصة في مجال الطفولة (منظمة الأمم المتحدة للطفولة "يونيسيف")
٥٨- شاركت مصر في تأسيسه بعد تحرر الكثير من البلدان الإفريقية (الاتحاد الأفريقي)
٥٩- منظمة عالمية تضم في عضويتها جميع دول العالم المستقلة ومقرها نيويورك (الأمم المتحدة)
٦٠- تضم جميع الدول الأعضاء في الأمم المتحدة ولكل دولة صوت واحد (الجمعية العامة)
٦١- هو أهم أجهزة الأمم المتحدة لأنه المسنول عن حفظ السلام والأمن الدوليين (مجلس الأمن)
٦٢- مجلس تابع للأمم المتحدة يرعى مصالح شعوب البلدان التي كانت مستعمرات والأخذ بيدها نحو الحكم الذاتي والاستقلال (مجلس الوصاية)
٦٣- هي الجهاز القضائي الأساسي للأمم المتحدة ، ولها نشاط قضائي واسع ومقرها "لاهاي" وتنظر في القضايا التي تضعها أمامها الدول. (محكمة العدل الدولية)
٦٤- منظمة متخصصة في التربية والعلوم والثقافة (اليونسكو)
٦٦- منظمة متخصصة في المجال الصحي ، أنشئت في إبريل ١٩٤٨م ومقرها "جنيف" والهدف منها توفير أفضل سبل الرعاية الصحية لجميع الشعوب (منظمة الصحة العالمية)
٦٧- هي منظمة متخصصة في المجال الزراعي ، ومقرها "روما" بإيطاليا (منظمة الأغذية والزراعة "الفاو")
٦٨- أعلى سلطة داخل جامعة الدول العربية ، ويتألف من ممثلي جميع الدول الأعضاء (مجلس الجامعة)

