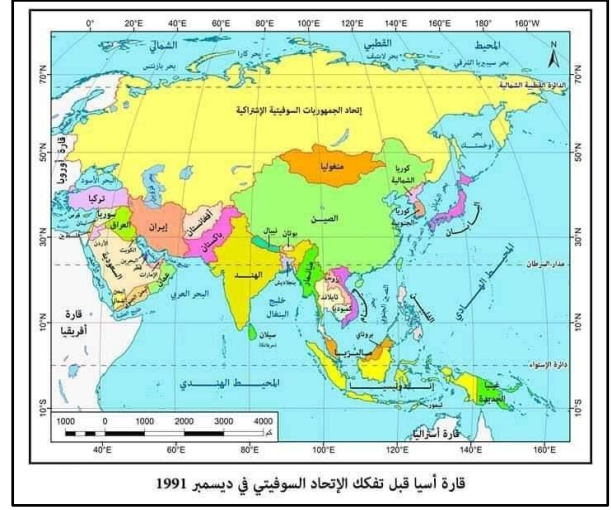
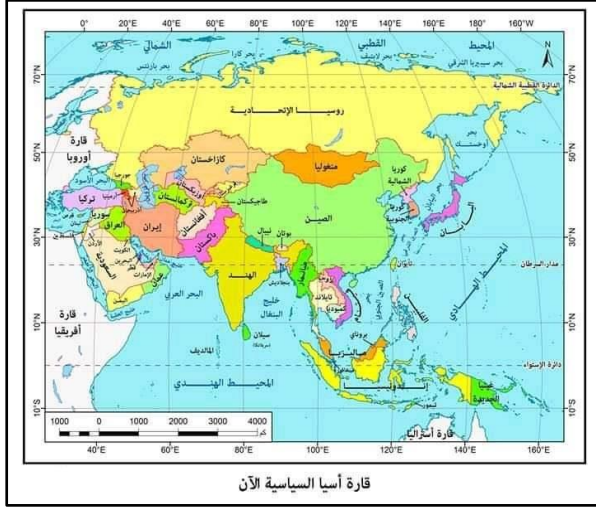


## النماذج الاسترشادية لمادة الجغرافيا

### الصف الثالث الثانوي

#### النموذج الأول

#### 1- أمامك خريطتين لقارة اسيا في فترتين زمنيتين مختلفتين أدرسهما جيداً ثم أستنتج



ظهرت الجوانب السلبية لموقع دولة كازاخستان بعد تفكك الاتحاد السوفيتي متمثلة في .....

- أ / مساحتها الكبيرة  
ب/ اشرافها على سطح مائي صغير وشبه مفتوح  
ج / مساحتها الصغيرة  
د/ اتصالها بالمسطحات المائية المفتوحة غير مباشر

2- يصنف خليج السويس على أنه مياه .....

- أ/ إقليمية  
ب/ ملاصقة  
ج/ محايدة  
د/ داخلية

3- أمامك جدول يوضح الموقع الفلكي لبعض الدول أدرسهما جيداً ثم أستنتج :

الدولة	دوائر العرض	خطوط الطول
س	من 10 شمالاً إلى 10 جنوباً	من 27 غرباً إلى 30 غرباً
ص	من 5 شمالاً إلى 33 جنوباً	من 15 غرباً إلى 65 غرباً
ع	من 15 شمالاً إلى 20 شمالاً	من 20 غرباً إلى 25 غرباً
ك	من 22 جنوباً إلى 35 جنوباً	من 22 غرباً إلى 30 غرباً

أي الدول الآتية الأكثر اقتراباً من الاكتفاء الذاتي من الغذاء ؟

- أ / ( س )  
ب / ( ص )  
ج / ( ع )  
د / ( ك )

4- تظهر تطبيقات عملية المسح الميداني في مرحلة تخطيط الحدود السياسية التي تعرف ب .....

أ / التعريف والتخطيط

ب/ التحديد

ج / التعيين

د/ إدارة الحد

5- من المتوقع ظهور عملة موحدة لدول مجلس الخليج العربي في حالة أقيم بينهم .....

أ / اتحاد جمركي

ب/ سوق مشتركة

ج / وحدة اقتصادية

د/ توحيد التعريف الجمركية

6- معرفة الوزن السكاني لدولة ما يمثل أحد أهداف الجغرافيا السياسية وهو يرتبط ب .....

أ / تحليل التجمعات العالمية تحليلاً جغرافياً

ب/ دراسة ملامح الوحدات السياسية.

ج / التعرف بالمشكلات السياسية وتحليلها

د/ توفير المعلومات العسكرية لمتخذي القرارات

7- يمكن اعتبار حدود الهند مع باكستان داخل اقليم كشمير بأنها حدود .....

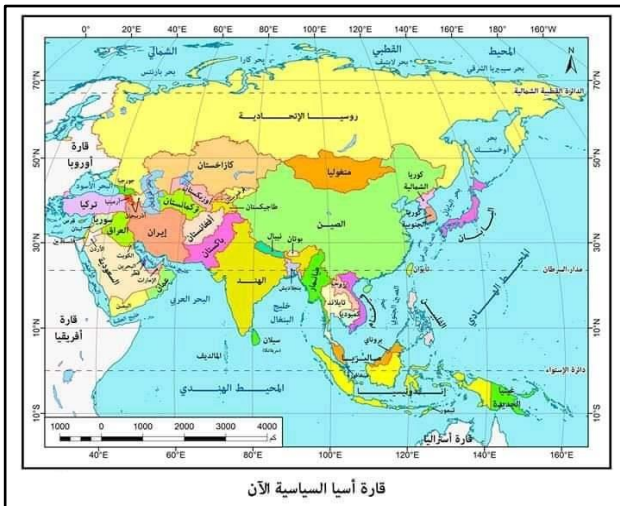
أ / تحكيم دولي

ب/ وقف إطلاق النار

ج / حضارية فلكية

د/ بشرية هندسية

8- أمامك خريطة لقارة آسيا أدرسها جيداً ثم أستنتج



من المتوقع أن تتأثر دولة أرمينيا بالكوارث الطبيعية أكثر من دولة روسيا بسبب خصائصها .....

أ / الديموغرافية

ب/ المورفولوجية

ج / الاثنوغرافية

د/ الأيديولوجية

9- يمكن معرفة ما تمتلكه الدولة من موارد طبيعية من خلال أحد مجالات الجغرافيا السياسية وهو مجال .....

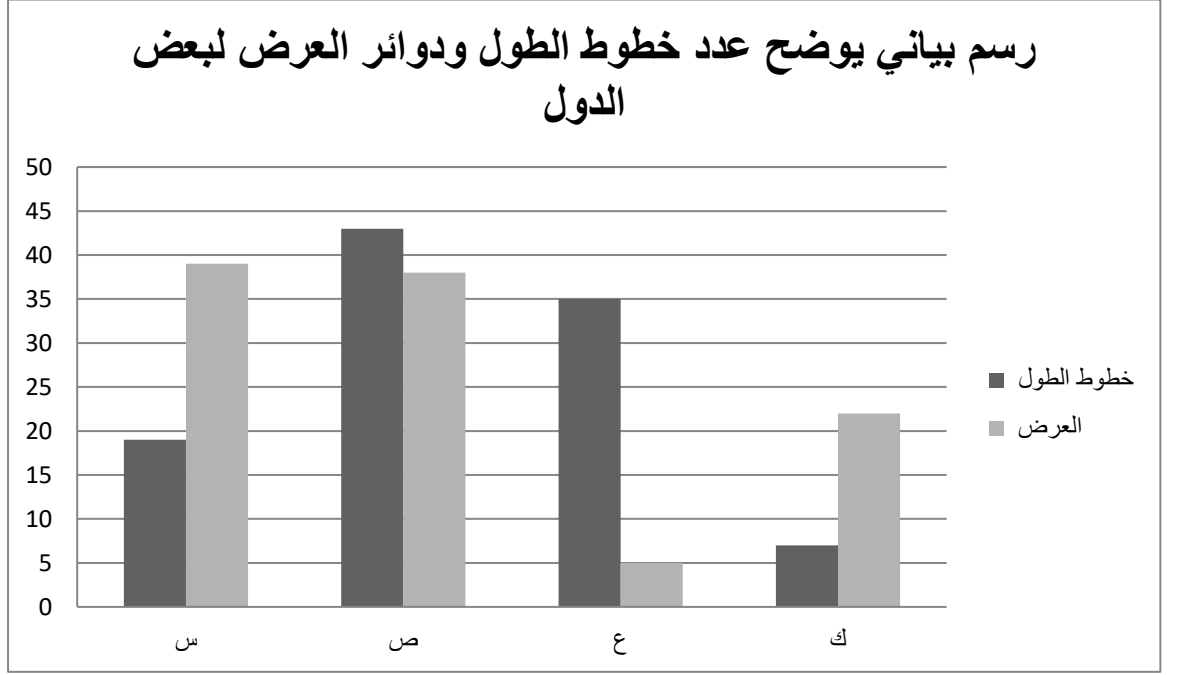
ب/ النظام العالمي الجديد

أ / الوحدات السياسية

د/ المشكلات السياسية

ج / العلاقات الدولية

10- أدرس الجدول الذي أمامك ثم استنتج :



أي الدول الآتية تتميز بحرية حركة الجيوش؟

أ / ( س )

ب / ( ص )

ج / ( ع )

د / ( ك )

11- تستطيع المجر الصيد السمكي دون ممانعة الدول الأخرى في نطاق المياه .....

أ / الإقليمية

ب / التكميلية

ج / المحايدة

د / الدولية

12- أصبح الاتحاد الأوروبي أقوى وأنجح التكتلات الاقتصادية رغم اختلاف أشكال الحكم ويرجع السبب لـ .

ب/ تشابه الخصائص الثقافية

أ / تحقيق الحكم الديموقراطي

د/ تشابه تاريخهم الحضاري

ج / تنوع مصالحهم السياسية

13- تندرج أزمة المياه في الأنهار الدولية ضمن دراسة مجال .....

أ / الدولة كمجال لدراسة الجغرافيا السياسية

ب/ دراسة علم الجيوبولتيك

ج / النظام العالمي الجديد وما نتج عنه من تغيرات

د/ التحليل السياسي للقوة

14- تشترك الدول الأتية في اتفاقيات سياسية ذات طابع اقتصادي يخرج عنها.....

أ / النيجر وبوركينا فاسو

ب/ موريتانيا والسنغال

ج / اليمن والسعودية

د/ نيجيريا وأوغندا

15- يوجد اختلاف بين الكوميسا والاتحاد الأوربي في .....

أ / مراحل التكوين

ب/ اتصالها الارضي

ج / الاتحاد الجمركي

د/ كثرة مواردها

16- عند ظهور حدود الهدنة بين دولتين يمكن متابعتها باستخدام أحد التقنيات الحديثة وهو .....

أ / تكنولوجيا المعلومات

ب/ نظم المعلومات الجغرافية

ج / وسائل الاتصال

د/ الاستشعار من بعد

17- أي من الانهار الاتية الأكثر اهمية ملاحية ؟

أ / نهر بوج

ب/ نهر الدانوب

ج / نهر السين

د/ نهر ريوجراند

18- تنطبق أي من الخصائص التالية علي حلف الناتو.....

أ / الاتصال الارضي

ب/ عدم التجانس الجغرافي

ج / التشابه العرقي

د/ تشابه نظمه السياسية

19- نشأت أكبر الاحلاف العسكرية نتيجة صراعات مرتبطةً بدولة تتميز بكونها.....

- أ / جبلية  
ب/ متنوعة المناخ  
ج / سهلية  
د/ متنوعة التضاريس



20- أمامك خريطة سياسية لقارة أمريكا الجنوبية، ادرسها جيداً ثم استنتج:

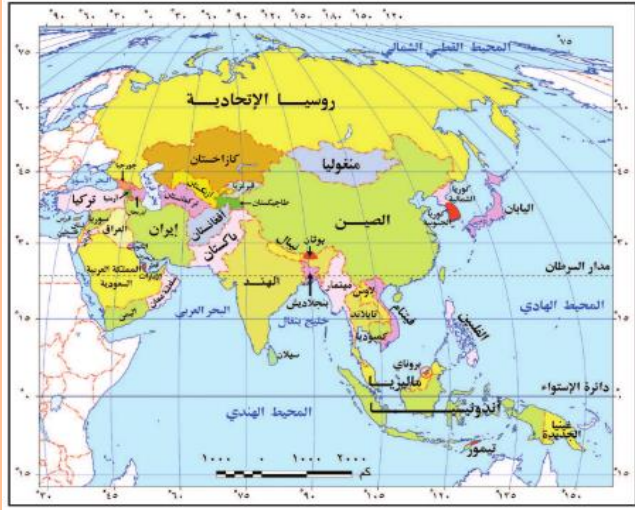
تتشابه دولتي بوليفيا وكولومبيا من حيث .....

- أ / تنوع النبات الطبيعي والاحتكاك الحضاري.  
ب/ الاحتكاك الحضاري وعدد الدول المجاورة.  
ج/ عدد الدول المجاورة والتكوين المورفولوجي  
د/ التكوين المورفولوجي وتنوع النبات الطبيعي

21- أمامك خريطة سياسية لقارة اسيا، ادرسها جيداً ثم استنتج:

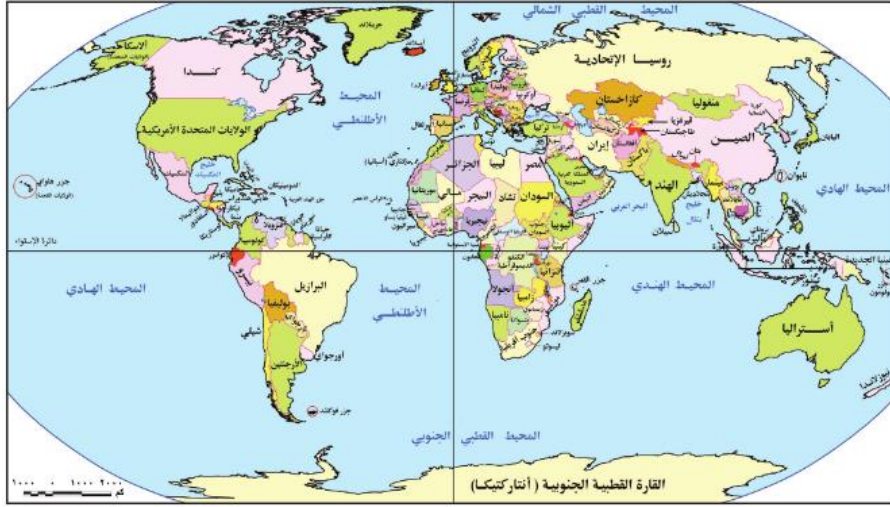
الدولة التي يتقاطع بها دائرة عرض 30<sup>5</sup> شمالاً مع خط طول 120<sup>5</sup> شرقاً ، وفيها تتواجد أقليات .....

- أ/ قومية  
ب/ دينية  
ج/ لغوية  
د/ عرقية



22- ادرس الخريطة المقابلة استنتج :

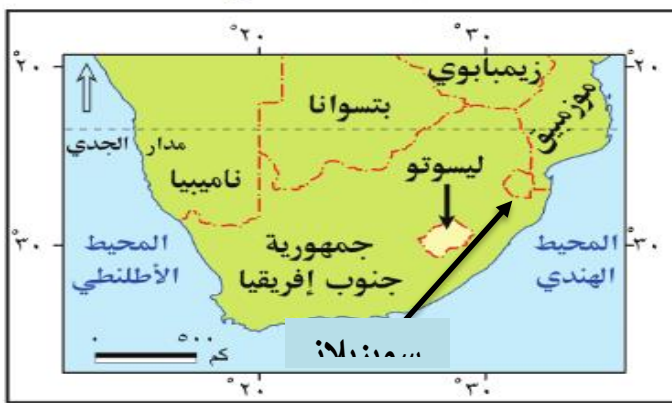
" سوريا ، بوليفيا ، الأرجنتين " تتفق هذه الدول في.....



- أ / الاحتكاك الحضاري
- ب / عدد الدول المجاورة
- ج / القوة المورفولوجية
- د / القوة الديموغرافية

23- ادرس الخريطة المقابلة استنتج :

في حال اعتبار سويسرا وليسوتو دولة واحدة فسوف تتصف ب.....



- أ/ التبعية لجنوب أفريقيا
- ب/ التبعية لموزمبيق
- ج/ الحرية في اتخاذ القرار
- د/ الاحتكاك الحضاري

24- إذا كانت المسافة من عاصمة الدولة لجهة الشمال 100 كم، وإلى جهة الجنوب 102 كم، ثم قيست المسافة من شرق الدولة إلى غربها فكانت 800 كم بالتساوي ، فإن هذه الدولة تتسم ب ...

- أ / سهولة حمايتها
- ب/ تعدد خطوط الطول
- ج / سهولة الاتصال
- د / تعدد دوائر العرض

25- يختلف الاتحاد الاوروبي عن الولايات المتحدة الأمريكية في النظام السياسي والاداري في بعض الخصائص منها ...

- أ / أداء الوظائف السيادية
- ب / تعدد سلطات الحكم
- ج / اعتبارها اتحادية مركبة
- د / لا مركزية الحكم

26- بالنظر الى تغيرات خريطة العالم في أوائل القرن العشرين وآخره نجدتها تتبع عوامل ذكرها العالم الجغرافي....

أ / رودلف كلين

ب / ارسطو

ج / ابن خلدون

د / اندريه سيجفريد

27- في حال قيام منظمة التنمية الصناعية في تطبيق برنامج لتنمية الصناعات الاستراتيجية فانه يتوقع اختيارها لدولة

أ/ سوريا

ب / اليمن

ج / السودان

د / موريتانيا

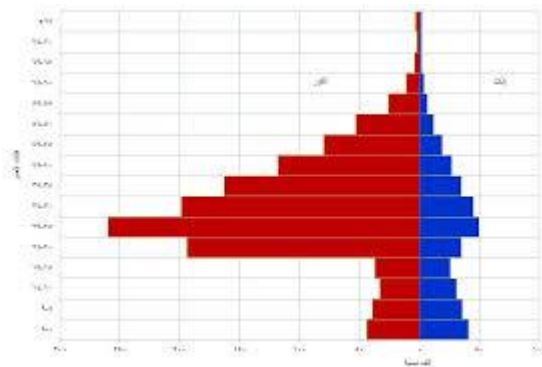
28- الهرم السكاني الموضح أمامك نستنتج منه.....

أ / انخفاض معدل قوه العمل

ب / انخفاض معدل الاعالة

ج / وفرة العمالة الوطنية

د / اختلال التركيب الاقتصادي



29- الأمن القومي للدولة ووحدتها وتماسكها الداخلي تتحقق جميعا بواسطة اهتمام الدولة بـ ...

أ / الأمن الغذائي والنقل

ب / الامن الغذائي والقدرات الدفاعية

ج / مصادر الطاقة والامن المائي

د / مصادر الطاقة والتقدم الصناعي

30- يعتبر من أهم عناصر قوه الدولة الاقتصادية أنه لابد أن يتوافر بها...

أ / القوه المورفولوجية

ب / الاكتفاء الذاتي

ج / حجم السكان

د / حركة الجيش

31- تعد من عناصر القوه العسكرية التي لا تخضع الى احصاءات بيانية رقمية وكانت عاملا حاسما في انتصارات الجيش المصري...

أ/ إنفاق الدولة من داخلها

ب / حجم القوه العسكرية

ج/ إيمان افراده بقضيتهم

د / الطائرات والسفن الحربية

32- " الانتخابات أداه للاختيار لا تضع فوارق بسبب الأصل والمنشأ بين جموع الناخبين "

تتفق العبارة مع مبدأ.....

أ / العدالة

ب / المساواة

ج / الديمقراطية

د / البيروقراطية

33- " الحدود السياسية تحدد الرقعة الأرضية التي تمارس عليها الدولة سيادتها "

حتى تتحقق هذه العبارة لابد للدولة أن ...

أ/ تتصارع مع الدول المجاورة

ب / تتوافق مع المجتمع الدولي

ج / تتوافق مع المجتمع المحلي

د / تتوسع على حساب جيرانها

34- ارتبطت بداية الحدود الخطية بين الدول بظهور.....

أ/ الدول ذات الخصائص الثقافية المشتركة

ب / عملية المسح الميداني للحدود السياسية

ج / الثورة الصناعية الأولى في أوروبا

د / بدايات القرن التاسع عشر وأوائل العشرين

35- تتميز الحدود السياسية عن التخوم ب....

أ/ الأبعاد المساحية

ب / الطول والعرض

ج / الإطار القانوني

د / ثباتها المكاني

36- ساعدت على نشأة الحدود السياسية في أوروبا ....

أ/ هجره السكان للحدود

ب / تطور البنية التحتية

ج / قيام الدول الحديثة

د / المسح الميداني للحدود

37- " نجاح مصر في اكتشاف حقل ظهر في البحر المتوسط على بعد 200 كيلو متر شمال بورسعيد "

يرجع ذلك الى .....

أ/ عدم الرضا عن الانتاج الحالي

ب / استغلال المناطق الهامشية

ج / زيادة ثروة البلد الإنتاجية

د / زيادة استهلاك السوق الداخلي

38- تعتمد الدولة على مواردها الطبيعية عند تخطيط الحدود السياسية في المرحلة... .

أ / الأولي

ب / الثانية

ج / الثالثة

د / الرابعة

39- تختلف جبال البرانس عن جبال الأنديز بأنها ...

أ/ ظاهرة دائمة ومرئية

ب / خطوط دفاعية حصينة

ج / صعوبة اختراقها وعبرها

د / النشاط السياسي لقاطنيها

40- تتفق الحدود الشمالية والحدود الجنوبية للولايات المتحدة الأمريكية من حيث ...

أ / التقسيم على أساس خط المنتصف

ب / التأثير بعوامل التعرية

ج / رسمها على أساس فلكي

د / التقسيم على أساس خط العمق

41 - ادرس الشكل المقابل واستنتج :

شكل الدولة التي تمتد بين دائرتي عرض 15 شمالاً حتى 10 شمالاً

وبين خطي طول 4 غرباً حتى 20 غرباً

٢٠ غرباً	١٦ غرباً	١٢ غرباً	٨ غرباً	٤ غرباً	٠ غرباً
					٢٥ شمالاً
					٢٠ شمالاً
					١٥ شمالاً
					١٠ شمالاً

أ / مستطيل عرضي

ب/ مندمج

ج/ مجزأ بري

د/ مستطيل طولي

42- ظهرت بدايات أفكار النظام العالمي الجديد مع الدعوة إلي نشأة .....

ب/ أحلاف عسكرية

أ/ منظمات دولية

د/ منظمات إقليمية

ج/ تكتلات اقتصادية

43- ترتب على تنفيذ مرحلة إدارة الحد السياسي العديد من الوظائف منها .....

أ/ القضاء على مشكلات الحدود النهرية

ب/ الحد من ظاهرة الهجرة غير الشرعية

ج/ منع مشكلة تقسيم منطقة ما بين دولتين

د/ سقوط نظرية الحدود الآمنة بين الدول

44- تعد من مزايا الدولة الوحدوية .....

أ/ سهولة حصر مواردها

ب/ تمتعها بالسيادة القومية

ج/ وفرة الثروات المعدنية

د/ تنوع الموارد الاقتصادية

ثانيا : الأسئلة المقالية

45- ما العلاقة بين النظام العالمي الجديد والدول المتقدمة؟

.....

.....

.....

46- ما مدي مصداقية العبارة؟

لعبت الامم المتحدة دوراً سياسياً في حل المشكلات بدول جنوب البحر المتوسط

.....

.....

.....

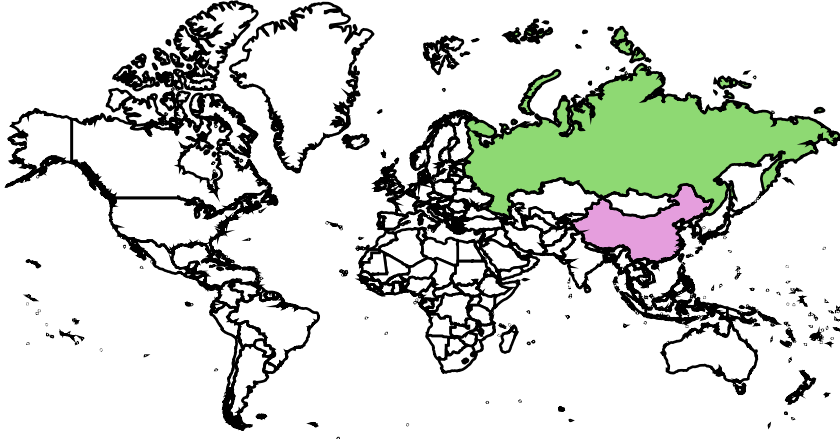
## النماذج الاسترشادية لمادة الجغرافيا

### الصف الثالث الثانوي

#### النموذج الثاني

1- ادرس الخريطة المقابلة ثم استنتج:

يمكن دراسة أثر القوة المورفولوجية والديموغرافية والعسكرية علي قوة الدول الموضحة علي الخريطة عن طريق أحد مجالات الجغرافيا السياسية، وهو.....



أ- الوحدات السياسية

ب- العلاقات الدولية

ج- المشكلات السياسية

د- التحليل السياسي للقوة

2- " يجب أن تكون المدينة صعبة الاختراق من الأعداء، ويسهل في نفس الوقت دخول وخروج المواطنين منها ". نستنتج من المقولة السابقة أنها تعبر عن.....

أ- الجيوش العسكرية

ب- الحدود المحصنة

ج- الموارد الاقتصادية

د- النقل والمواصلات

3- " تابعت الجماهير المصرية وجماهير العالم حفل قرعة كأس العالم للأندية في الولايات المتحدة الأمريكية "

تعبر المقولة السابقة عن أهمية أحد التقنيات الحديثة في الجغرافيا السياسية وهي ...

أ- الاستشعار من بعد

ب- تكنولوجيا الاتصالات

ج- نظم المعلومات الجغرافيا

د- نظام تحديد المواقع

4- ترتبط العملية الانتخابية باستخدام التقنيات الحديثة وهي ...

أ- الاستشعار عن بعد، ونظم المعلومات الجغرافية

ب- وسائل الاتصالات، ونظم المعلومات الجغرافية

ج- الاستشعار من بعد، ووسائل الاتصالات

د- نظام تحديد المواقع، ووسائل الاتصالات

5- يقول ابن خلدون: " غاية العمران هي الحضارة والترفة، وإنه إذا بلغ غايته انقلب وأخذ في الهرم، كالأعمار الطبيعية للحيوانات".

يتشابه مضمون العبارة السابقة مع آراء العالم ...

د- سيجفريد

ج- كيلين

ب- راتزل

أ- ارسطو

6- في حال تحول الدول العربية إلي وحدة سياسية واحدة، أي العناصر التالية يجب أن يضاف إليها .....

ب- استقرار الشعب

أ- رقعة الأرض

د- الروابط المشتركة

ج- سيادة السلطة

7- تتشابه الولايات المتحدة الأمريكية مع الاتحاد الأوروبي في ...

ب- وظائف السلطة المركزية

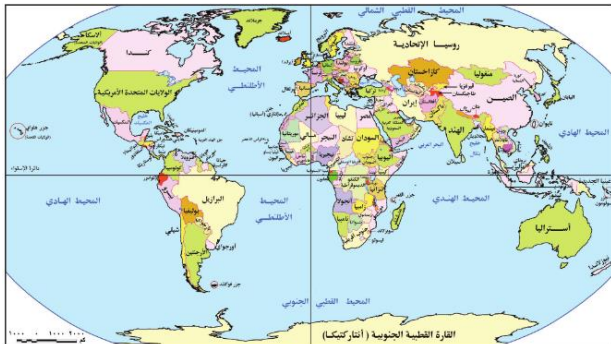
أ- مركزية الحكم

د- وظائف السلطة المحلية

ج- لامركزية الحكم

8- ادرس خريطة العالم ثم استنتج:

نتوقع إذا اتحدت دول الاتحاد السوفيتي مرة أخرى فإن التغيرات الناتجة على الخريطة هي .....



أ- نقص عدد الدول الحبيسة

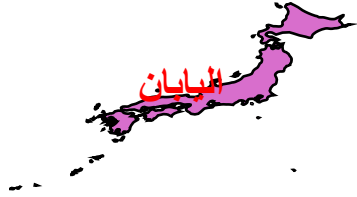
ب- زيادة عدد الدول الحبيسة

ج- زيادة الوحدات السياسية

د- نقص مساحة الدول المجاورة

9- ادرس خريطة اليابان وفرنسا التي أمامك ثم استنتج :

تتشابه اليابان مع فرنسا في كونهما دولتين وحدويتين، ولكن تتميز فرنسا عن اليابان في ....



ب- الروابط المشتركة

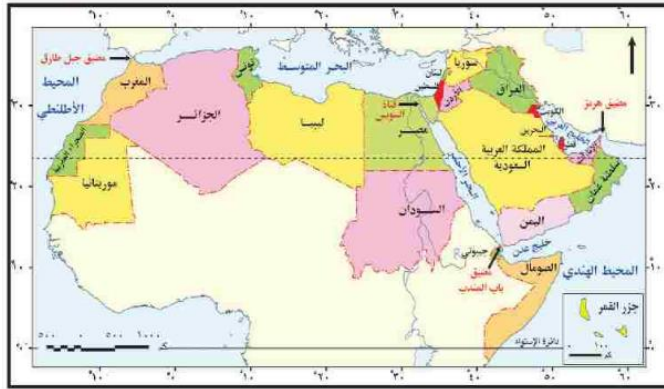
أ- العامل الديموغرافي

د- الحكومة المركزية

ج- العامل المورفولوجي

10- ادرس خريطة الوطن العربي المقابلة ثم استنتج:

الدول التي يقل تأثير الموقع البحري لها عن غيرها دولتي ...



أ- مصر والمغرب

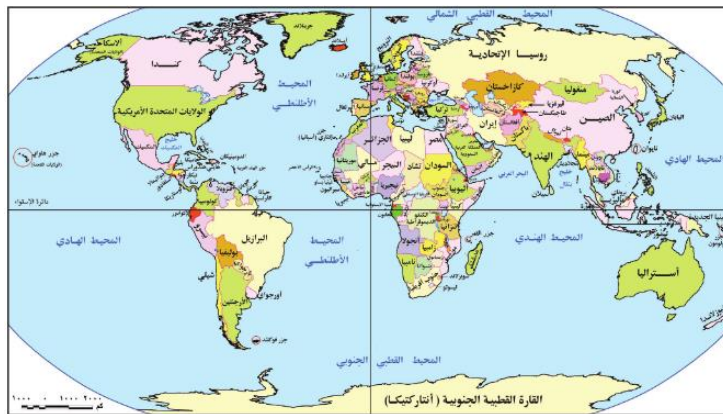
ب- السعودية واليمن

ج- تونس وموريتانيا

د- الأردن والعراق

11- ادرس خريطة العالم التي أمامك ثم استنتج

ينتمي العلماء الذين درست آرائهم في تطور الجغرافيا السياسية إلى دول تقع بالنسبة للعالم في الجزء ....



أ- الشمال الشرقي

ب- الشمال الغربي

ج- الجنوب الشرقي

د- الجنوب الغربي

12- ادرس خريطة العالم التي أمامك ثم استنتج

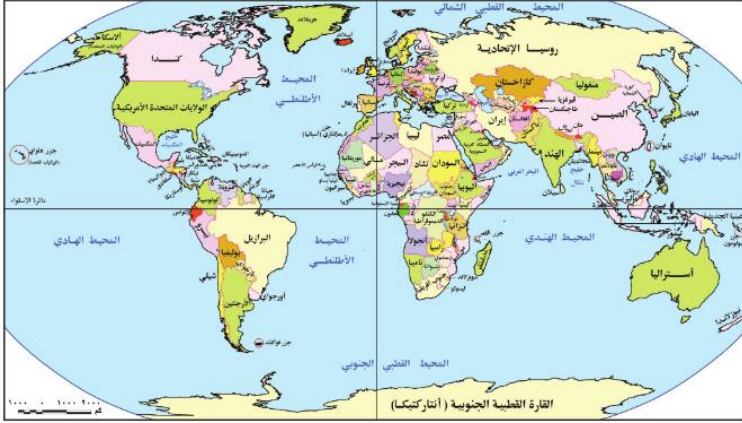
أ- تتشابه دولتي أفغانستان وناميبيا في ...

أ- الشكل المندمج ذو البروز

ب- صعوبة الاتصال الحضاري

ج- عدد الدول المجاورة

د- الموقع الاستراتيجي



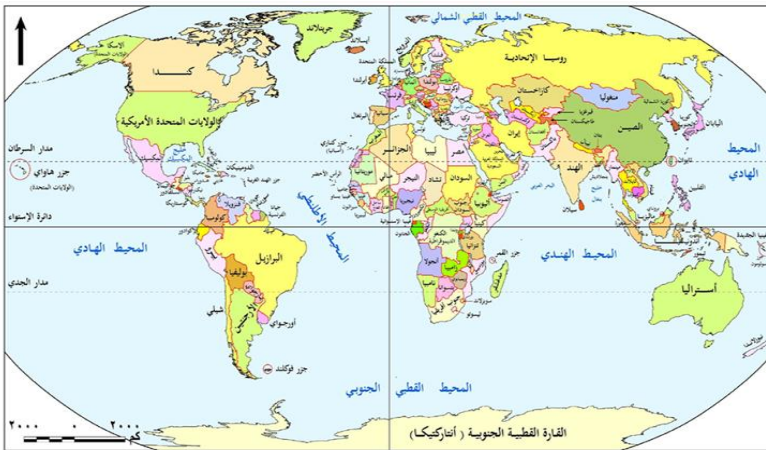
13- تعد من أكثر الدول التي اهتمت باستخدام الأساليب والوسائل الحديثة في الإنتاج دولة ...

أ- أوغندا

ب- ناميبيا

ج- كولومبيا

د- فنلندا



14- ادرس خريطة العالم ثم استنتج:

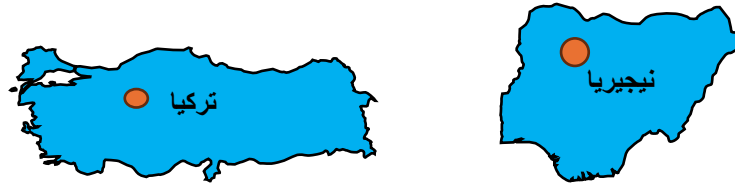
أ- وجود مشكلات سياسية

ب- زيادة في الإنتاج الحيواني

ج- سهولة الاتصال بالعالم الخارجي

د- الاشتراك في الأحلاف العسكرية

15- تتشابه الدولتان الموضحتان أمامك أنه عند اختيار العاصمة اهتمت بالعامل .....



أ- التاريخي      ب- الجغرافي      ج- السيادة القومية      د- سهولة الوصول

16- تستطيع أي من الدول الآتية مواجهة الكوارث الطبيعية دون أن تضرر لمنشآتها الحيوية الهامة ...

أ- قطر      ب- اورجواي      ج- كندا      د- هولندا

17- تتميز أي من الدول الآتية باللامركزية في الحكم دولة ...

أ- مصر      ب- فرنسا      ج- الهند      د- الصين

18- " أجريت الانتخابات في كندا، وفاز حزب الأغلبية في الانتخابات، وشكل الحكومة "

تعبّر المقولة السابقة عن أحد أنظمة الحكم وهي النظام ...

أ- الرئاسي      ب- البرلماني      ج- شبه الرئاسي      د- الملكي

19- تعتمد المؤسسات التنظيمية في الدول الديمقراطية على ...

أ- الفصل بين السلطات      ب- تمركز السلطات في جهة واحدة

ج- ديكتاتورية الحكم      د- تداخل اختصاصات السلطات

20- "تم عقد اتفاقية بين دولتي مصر وقبرص لترسيم الحدود البحرية الاقتصادية في البحر المتوسط "

تعبّر المقولة السابقة عن ..

أ- النظام السياسي في صورته المؤسسية      ب- النظام السياسي في صورته الاجتماعية

ج- النظام الانتخابي      د- النظام الإداري

21- يعبر مضمون الصورة التي أمامك عن أحد مراحل العملية الانتخابية يليها مرحلة .... ...



أ- الترشح للانتخابات

ب- تقسيم الدوائر الانتخابية

ج- إعلان الفائزين

د- اجراء العملية الانتخابية

22- حلل بيانات الجدول المقابل ثم استنتج:

بيانات لإجراء الانتخابات في أحد الدوائر لدولة س			
جملة المقيدون باللجنة	الأصوات الصحيحة	الأصوات الباطلة	غير المشاركين
20000	5000	1000	14000

يمكن دراسة هذا البيانات في أحد مجالات جغرافيا الانتخابات وهو ...

أ- توزيع الدوائر الانتخابية

ب- التباين المكاني في التصويت

ج- دراسة أثر الانتخابات

د - دراسة السلوك الانتخابي

23- "سمحت دولة العراق للأقليات باستخدام لغتهم الخاصة بهم "

في ضوء العبارة استنتج

تعبر المقولة السابقة عن حل لأحد المشكلات الاجتماعية وهي..

ب- مناهضة التمييز العنصري

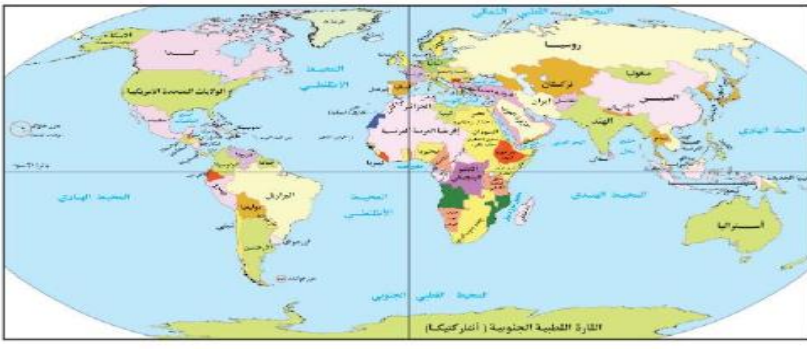
أ- الحركات القومية الانفصالية

د- التحرر من القوى الاستعمارية

ج- مناهضة التمييز الديني

24- ادرس خريطتان العالم التي أمامك ثم استنتج:

التغيرات التي حدثت في الخريطة السياسية نتج عنها زيادة عدد الدول التي تشرف على ....



خريطة (١٩٠٢) : خريطة العالم السياسية قبل الحرب العالمية الأولى



خريطة (٢٠١٥) : خريطة العالم السياسية عام ٢٠١٥م

أ- البحر البلطي

ب- بحر الشمال

ج- بحر العرب

د- خليج المكسيك

25- يعد من أكثر العوامل التي تؤثر على مستقبل خريطة العالم بالنسبة لغرب قارة أفريقيا ...

ب- سباق التسلح

أ- الصراع على المياه العذبة

د- انتهاء الصراع الأيديولوجي

ج- الهجرة الشرعية

26- " حدث خلاف بين مجموعات مختلفة من المهاجرين من دول س ، ص ، ع في دولة ل" في مدينة حدودية"

في ضوء العبارة السابقة استنتج

يمكن أن يتم محاسبة المدانين وفقا للقانون الخاص بدولة .....

د- ل

ج- ع

ب- ص

أ- س

27- يتشابه نهر الراين ونهر الدانوب من حيث ..

ب- عدد الدول المطلة عليهما

أ- الاتجاه العام لكل منهما

د- عدم خضوعهما لاتفاقيات الأنهار

ج- استغلالهما في التواصل الحضاري

28- تعد أقل الأقليات انتشارًا في العالم هي التي توجد في دولة ...

أ- اليمن

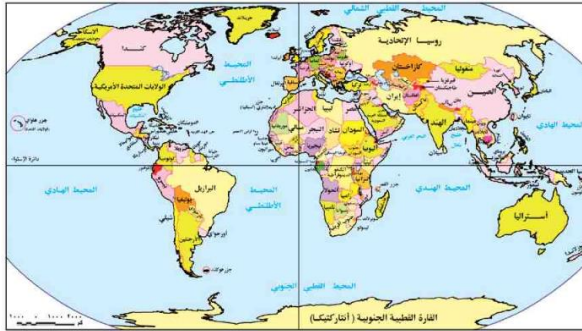
ب- تركيا

ج- جنوب أفريقيا

د- صربيا

29- ادرس خريطة العالم ثم استنتج:

توجد أكثر الأقليات تأثيرًا على الاستقرار السياسي للدولة في دولتين يمر بهما إحدى الدوائر والخطوط الفلكية التالية.....



أ- مدار السرطان وخط جرينتش

ب- مدار الجدي ومدار السرطان

ج- دائرة الاستواء وخط جرينتش

د- مدار الجدي وخط جرينتش

30- يظهر دور الأنهار كعامل فصل بين الوحدات الإدارية الداخلية في .....

أ- خط المنتصف لنهر الريبوجراند

ب- الحوض الأدنى لنهر النيل

ج- الحوض الأوسط لنهر الراين

د- خط العمق الملاحي لنهر الراين

31- يمكن أن يتغير الحد السياسي لأسباب جيومورفولوجية بين دولتي يفصلها بينهما حدود ...

أ- جبلية

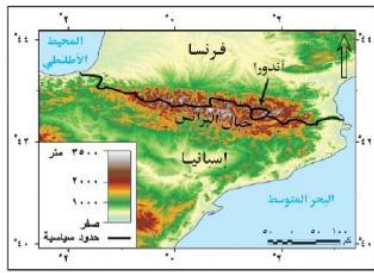
ب- نهريّة

ج- بحيريّه

د- بحرية

### 32- ادرس الخريطة المقابلة ثم استنتج:

تتوقع إذا رسمت الحدود الجنوبية لفرنسا مع أقدام الجبال فسوف يحدث.....

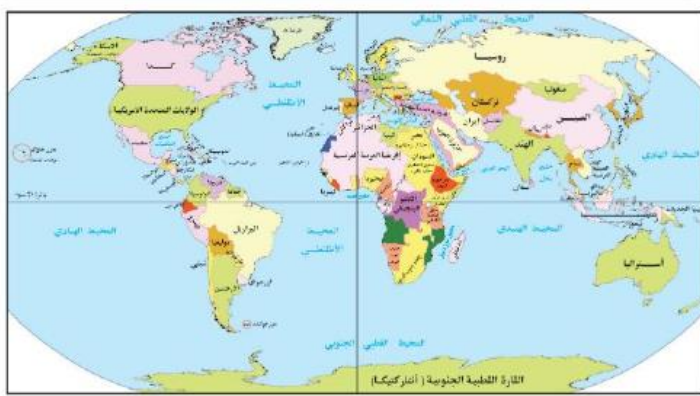


خريطة (٢-٢) :الحدود الجبلية بين فرنسا وإسبانيا

- أ- زيادة عدد الدول المجاورة لأسبانيا
- ب- ثبات عدد الدول المجاورة لفرنسا
- ج- زيادة عدد الدول المجاورة لفرنسا
- د- قلة عدد الدول المجاورة لأسبانيا

### 33- ادرس خريطة العالم ثم استنتج:

تقع المنطقة التي نشأ بها الصراع حول مصادر الطاقة بين ألمانيا ودول الحلفاء بين ...



خريطة (٩-٢) : خريطة العالم السياسية قبل الحرب العالمية الأولى

- أ- بحر قزوين والبحر الأسود
- ب- البحر الأسود والبحر المتوسط
- ج- البحر البلطي وبحر الشمال
- د- خليج عدن وخليج عمان

### 34- " تزامنت في مصر هجرة قسرية في الستينيات من القرن العشرين نتيجة مشروعات قومية وصراعات دولية "

تنطبق العبارة السابقة عن الهجرة القسرية التي حدثت في محافظتي ...

- أ- بورسعيد واسكندرية
- ب- القاهرة والجيزة
- ج- أسوان والسويس
- د- الفيوم وبني سويف



39- " انضمام مصر لتكتل الكوميسا ساعدها على التواصل الحضاري في قارة أفريقيا "

في ضوء العبارة السابقة استنتج

الأهداف السياسية التي حققتها مصر من الانضمام للكوميسا يتمثل في ...

أ- الاستفادة من السوق الرحبة للتكتل

ب- تسهيل الإعفاءات الجمركية المتبادلة

ج- تصدير الخبرات الفنية المصرية

د- إدارة الحوار وتسوية المنازعات للقارة

40- " لا تقتصر التكتلات على التعاون الاقتصادي ، وإنما تمكن الدول في استقرارها والدفاع عنها " تتفق العبارة السابقة مع أي من التكتلات الآتية.....

ب- مجلس التعاون لدول الخليج

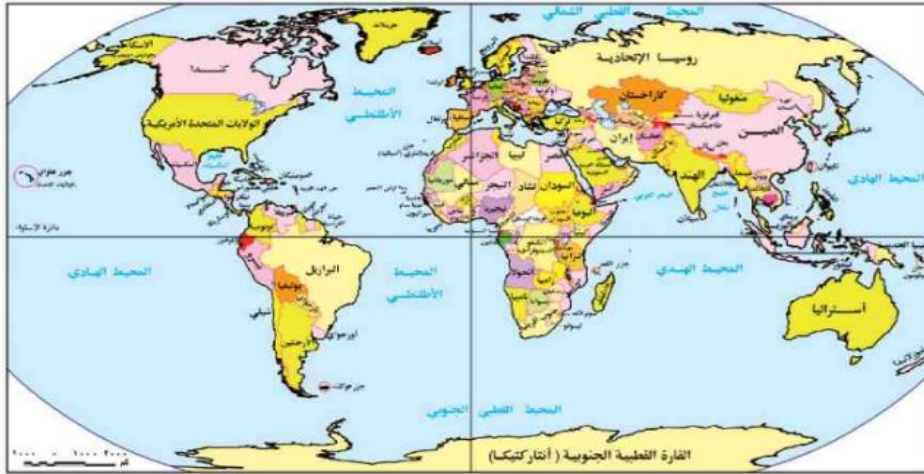
أ- اتحاد المغرب العربي

د- منتدى التعاون الاقتصادي

ج- اتحاد الكوميسا

41- ادرس خريطة العالم المقابلة ثم أجب :

تعد من الدول التي يؤثر موقعها الجغرافي سلبا على علاقاتها الدولية دولتي ...



أ- استراليا وشيلي

ب- مصر وتركيا

ج- استراليا وماليزيا

د- شيلي وتونس

42- " لقد أصبح العالم اليوم كسوق كبير تستطيع الشراء منه دون قيود وبأي عملة وأصبحت الدول تتشارك في الإنتاج "

تعبّر المقولة السابقة عن أحد خصائص النظام العالمي الجديد وهي ...

أ- ثورة المعلومات والاتصالات

ب- الاعتماد الدولي وظهور التكتلات

ج- تدويل المشاكل والقضايا

د- تقلص دور السيادة الوطنية

43- " كان العالم يسعى جاهدا لوقف الحروب وكلما فشل حاول من جديد "

تشير العبارة السابقة عن فشل عصبة الأمم لأنها فقدت القدرات ...

أ- الاقتصادية والديموغرافية

ب- السياسية والتنظيمية

ج- العسكرية والتنظيمية

د- الاقتصادية والتنظيمية

44- تتوقع إذا قامت الدول النامية باستغلال مواردها في الصناعات التكنولوجية أن يؤدي ذلك إلى.....

أ- تدخل الدول الكبرى في شئونها

ب- تهديد سيادتها الوطنية

ج- اختراق أمنها الثقافي

د- بعدها عن هيمنة الدول الكبرى

الأسئلة المقالية :

45- من وجهة نظرك : كيف يمكن التغلب على مشكلات الرعاة في غرب أفريقيا؟

.....  
.....  
.....

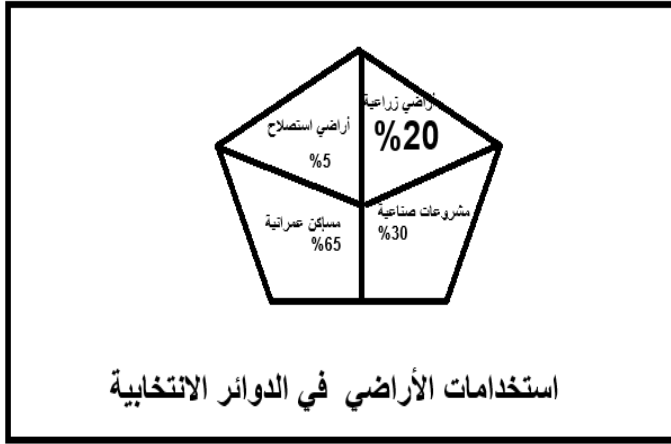
46-- دال جغرافيا

أثر انتهاء الحرب الباردة على القوة المورفولوجية للدول الربع الشمالي الشرقي

.....  
.....  
.....

النماذج الاسترشادية لمادة الجغرافيا  
الصف الثالث الثانوي  
النموذج الثالث

1- تعبر بيانات الرسم البياني المقابل عن دور أحد التقنيات الحديثة وهو... ..



أ- الاستشعار عن بعد

ب- نظم المعلومات الجغرافية

ج- نظام تحديد المواقع العالمي

د- وسائل الاتصال وتكنولوجيا المعلومات

2- (الحجم السكاني الكبير، والمساحة الكبيرة، والمرتفعات)

تتشابه العوامل السابقة في أحدي السلبيات التي لها تأثير على استقرار الدولة هي... ..

أ - اللجوء للتحالف مع الدول الكبرى

ب - صعوبة نجاح مشروعات التنمية

ج - وجود حركات تمرد بالعاصمة

د - وجود جيوش عسكرية ضخمة

3- " يحدد الحد السياسي للدولة سيادتها على الموارد الأرضية والسطحية والباطنية والبحرية"

تنطبق العبارة السابقة على العديد من الدول يخرج عنها.....

أ- نيوزيلاند

ب -ميانمار

ج-سوازيلاند

د- بنجلادش

4- تتصف المرحلة الثانية من مراحل تخطيط الحد السياسي بـ....

أ- الوصف

ب- المرونة

ج- الإدارة

د- الفصل

5- تظهر الحدود البحرية الفاصلة بين الدول مناصفة في قارة.....

أ - أمريكا الجنوبية

ب - أفريقيا

ج - أوروبا

د - أمريكا الشمالية

6- تمكنت دولة المجر بوسط قارة أوروبا من الوصول إلى سواحل البحر الأسود بسبب .....

أ- المعارك العسكرية

ب- المعاهدات الدولية

ج- تفوقهما التكنولوجي

د- المناطق الهامشية

7- تقع ثاني المدن المغربية التي استولت عليها اسبانيا في دولة المغرب جهة .....

أ - الجنوب الشرقي

ب - الشمال الشرقي

ج- الشمال الغربي

د-الجنوب الغربي

8- (أظهرت نتائج العملية الانتخابية في دولة العراق حصول مرشح علي أصوات سكان الريف بصورة أكبر من

سكان الحضر )

يعبر مضمون العبارة السابقة عن .....

أ - التباين المكاني في التصويت

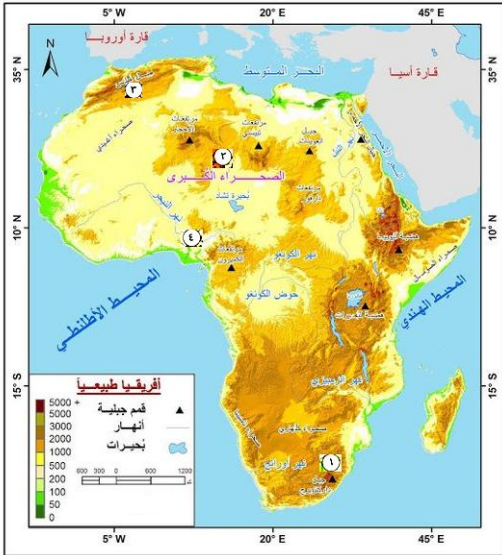
ب - الآثار الاقتصادية على الانتخابات

ج - أثر الانتخابات على الظروف البيئية

د - عدد الدوائر الانتخابية

9- ساهم انتشار المعادن المستخرجة من القارة السمراء في .....

- أ- عمل مشروعات صناعية متطورة بالقارة
- ب -انتشار التكنولوجيا المتقدمة بالقارة
- ج - بناء علاقات دولية متميزة مع الغرب
- د -تبعية بعض الدول وزعزعة استقرارها



10- ادرس الخريطة المقابلة ثم استنتج:  
المنطقة التي تُعدّ مناسبة للامتزاج الثقافي  
والعمراني هي المنطقة المشار لها بالرقم ....

- أ- ( 1 )
- ب- ( 2 )
- ج - ( 3 )
- د - ( 4 )

11- المنظمة التي تهتم بدعم الاقتصاد في الدول النامية لتضييق الفجوة بينها وبين الدول المتقدمة هي...

- أ- اليونيدو
- ب- الفاو
- ج-اليونسكو
- د- الإيدمو

12- الهدف النهائي من دراسة المقومات الطبيعية والبشرية لدولة بنين التعرف على..

- أ - نشاطها الاقتصادي
- ب- نشاطها البشري
- ج -تنظيمها الداخلي
- د- قوتها السياسية

13- ادرس الخريطة المقابلة ثم استنتج:

معظم دول شمال وغرب أفريقيا عواصمها.....



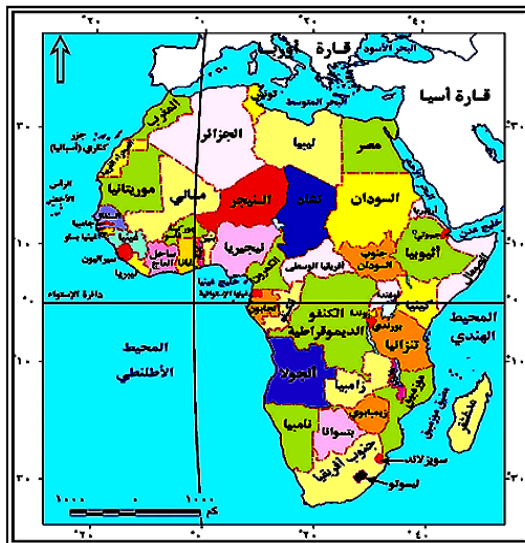
- أ - تتسم بالحماية والدفاع
- ب- تفتقد للعمق الجغرافي
- ج- بعيدة عن السواحل
- د- تحقق السيادة القومية

14- تمتعت الأقلية على غير المتبع بفرض سيطرتها على الدولة في منطقة يقطعها.....

- أ - دائرة الإستواء
- ب - خط جرينتش
- ج - مدار السرطان
- د - مدار الجدي

15- تستطيع الدفاع عن نفسها دون استنزاف مواردها دولة .....

- أ - البرازيل
- ب- إيطاليا
- ج- سويسرا
- د- الكونغو



16- ادرس الخريطة المقابلة ثم استنتج:

أدي انقسام السودان إلى دولتين إلى زيادة

عدد الدول المجاورة لدولتي.....

- أ- كينيا وأثيوبيا
- ب - أوغندا والكونغو
- ج- تشاد وإريتريا
- د - أثيوبيا وأفريقيا الوسطى

17- "تطورت الجغرافيا السياسية لتصبح هي الأم للعديد من الفروع مثل الجيوبولتيك وجغرافيا الانتخابات" نستنتج من العبارة أن أحداثها دارت في دول ..

- أ- ألمانيا وفرنسا والسويد
- ب- اليونان والسويد وألمانيا
- ج- السويد والمجر والنمسا
- د- روسيا وأوكرانيا وسويسرا

18- ادرس الخريطة المقابلة ثم استنتج:

في حال قيام دولة فيدرالية بين الدول التي تقع جنوب دولتي تنزانيا والكونغو الديمقراطية نستنتج.....



- أ- تحول نهر الزمبيزي لنهر محلي
- ب- صعوبة وصول بتسوانا للبحر
- ج- زيادة حدة التمييز العنصري
- د- زيادة حدة مشكلات الرعاة

19- نستنتج من تحليل الشكل المقابل انه يعبر عن أحد صور النظام السياسي والتي من مهامها اتخاذ قرار



أ- استثمار المناطق الصحراوية

ب- إقامة مشروعات اقتصادية

ج- ترسيم الحدود السياسية

د- استثمار العقول المفكرة

20- من المقولات الشهيرة: « تكمن قوة الدولة في ثبات حدودها ».

أى مما يلى يعبر بشكل واضح عن مضمون هذه المقولة؟

أ- نهر السنغال بين موريتانيا والسنغال

ب- الحد السياسي الفلكي بين كندا والولايات المتحدة

ج- جبال البرانس بين إسبانيا وفرنسا

د- الحدود الهندسية في بحيرة فيكتوريا

21- اتسمت فترة الحرب الباردة بين المعسكرين الشرقي والغربي ب.....

أ- تفوق المعسكر الغربي

ب تفوق المعسكر الشرقي

ج- المنافسة الاستعمارية

د- انتشار التسليح الجماعي

22- يتضح من معطيات الخريطة محاولات روسيا تحويل بحر اوزوف إلى بحيرة روسية يفسر ذلك بأنه

.....

أ- احياء الفكر الاستاتيكي

ب- استعادة روسيا حدودها المسلوبة منها

ج- احياء الفكر الديناميكي

د- معاهدات المبرمة بين روسيا واوكرانيا



23- يوجد تشابه بين الولايات المتحدة والاتحاد السوفتي سياسياً في .....

أ -التنوع الجيولوجي والمناخي

ب- التدخل في شئون الدول

ج- احترام سيادة الدول

د- تحقيق الديمقراطية

24- تقلص دورها في ظل النظام العالمي الجديد.....

أ- الأحلاف العسكرية

ب- الشركات متعددة الجنسيات

ج- حركة عدم الانحياز

د- صندوق النقد الدولي

25- يتشابه النظام العالمي الجديد و حلف وارسو في .....

أ- تطبيق الديمقراطية

ب- احترام سيادة الدول

ج- مخالفة أهدافهما

د- احترام دور الامم المتحدة

26- تكاد تضعف العلاقات الدولية لدولة .....

أ- نيوزيلاندا

ب- الهند

ج- مصر

د- الصين

27 - تعبر السلطة التنفيذية والإدارة المحلية عن أحد جوانب مفهوم الجغرافيا السياسية ويتمثل في.....

أ - التنظيم الداخلي

ب- المقومات الطبيعية

ج -العلاقات الدولية

د -الحدود السياسية

28- يُشكل عنصرًا هامًا في تحديد العملية الانتاجية ومسار التنمية المستقبلية التركيب.....

أ- النوعي

ب- العمري

ج- الاقتصادي

د- السياسي

29- التكتل الذي تميز بوجود هيئة تشريعية هو .....

أ) اتحاد دول جنوب وشرق افريقيا

ب) منندي التعاون الاقتصادي

ج) مجلس التعاون الخليجي

د) الاتحاد الأوروبي

30- أحد العلماء ركز على أهمية توافر العوامل الإثنوغرافية لتحقيق قوة الدولة هو .....

أ. أرسطو

ب. كيلين

ج. راتزل

د. ابن خلدون

31- تشبه المفوضية الأوروبية مجلس الأمن في كونهما .....

أ- جهاز تنفيذي

ب- جهة إصدارالقوانين

ج- مركز للتشريعات

د- جهة تنسيق السياسات

32- أحد اهتمامات جغرافية الانتخابات يتم دراستها قبل العملية الانتخابية وهي .....

أ دراسة السلوك الانتخابي للسكان

ب توزيع الدوائر الانتخابية للدولة

ج دراسة أثر الانتخابات على الظروف البشرية

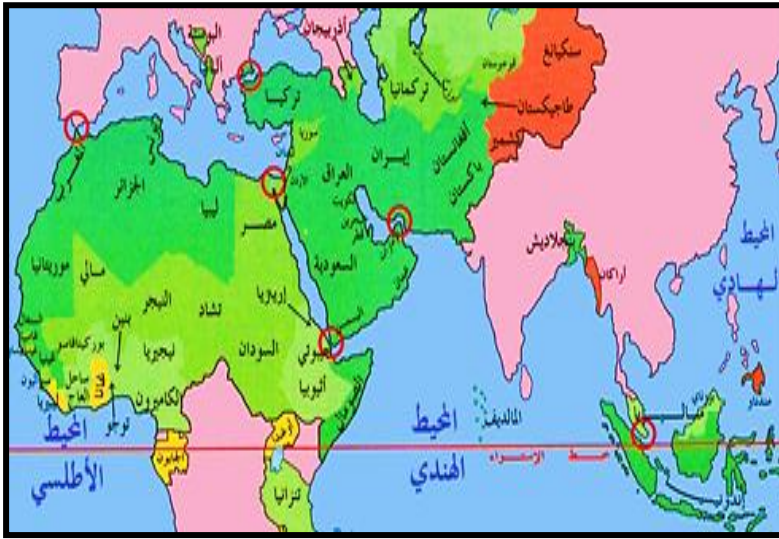
د- دراسة أثر الظروف الاقتصادية على سلوك الناخبين

33- تتميز جميع عواصم دول أي من التكتلات الاقتصادية بالعمق الجغرافي؟.....

- أ - اتحاد المغرب العربي
- ب - الناftا
- ج - الكوميسا
- د - الأبيك

34- ادرس الخريطة المقابلة ثم استنتج:

أي المضائق الأتية أكثر ارتباطا بمصادر الطاقة الحفرية؟ مضيق .....



- أ- هرمز
- ب- ملقا
- ج - باب المنذب
- د- صقلية

35- يتمتع الأكراد بوجود وطن لهم تشكلت فيه ملامحهم الخاصة على أطراف كل من.....

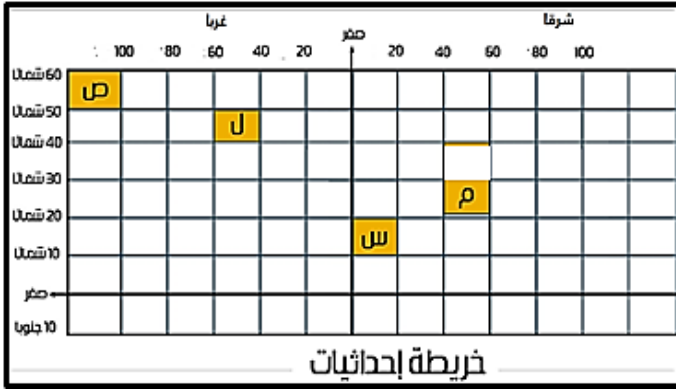
- أ -العراق وسوريا وتركيا وإيران
- ب - العراق والكويت وتركيا وسوريا
- ج- سوريا والأردن وإيران وتركيا
- د -العراق وتركيا وسوريا وعمان

36- تستقبل هجرات غير شرعية لأسباب اقتصادية واجتماعية مناطق .....

- أ-جنوب غرب آسيا وساحل المتوسط الشمالي
- ب- جنوب شرق أوروبا وجنوب شرق آسيا
- ج-أمريكا الشمالية وغرب أمريكا الجنوبية
- د-شمال أوروبا وجنوب غرب إفريقيا

37- بعد مطابقة خريطة العالم السياسية وشبكة الاحداثيات التي أمامك نستنتج أن القلب الديني للعالم الإسلامي

يمثله الرمز .....



أ- ( ص )

ب- ( ل )

ج- ( م )

د- ( س )

38- تتزايد النزاعات بين الدول حول مصادر الطاقة والثروات في مناطق .....

أ- المياه المحايدة

ب- أعالي البحار

ج- المياه الملاصقة

د- الرصيف القاري

39- تتركز الأقليات بالجهة الشمالية لكل من .....

أ - إيطاليا - أسبانيا - العراق

ب - إيران - تركيا - سوريا

ج - أستونيا - لاتفيا - ليتوانيا

د- المجر - النمسا - التشيك



40- ادرس الخريطة المقابلة ثم استنتج:

أي الدول الآتية يجاورها أكبر عدد من الدول

الحبيسة؟

أ- السودان

ب- تنزانيا

ج - زامبيا

د - النيجر

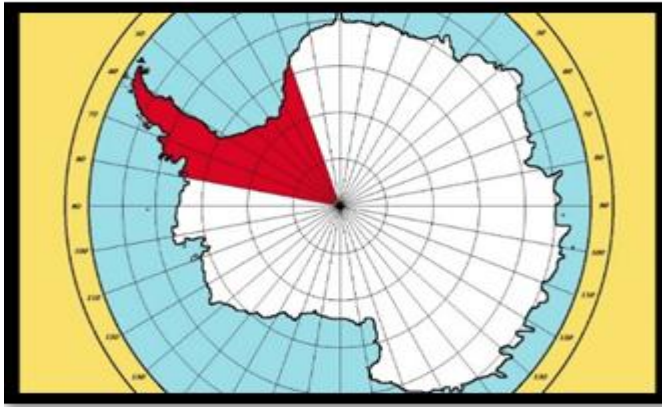
41. تمثل نقاط استراتيجية هامة في الخليج العربي والبحر المتوسط هما مضيقي.....

- أ - هرمز وملقا
- ب - باب المندب وجبل طارق
- ج - صقلية وباب المندب
- د - هرمز وجبل طارق

42- يختلف التركيب الديموغرافي لدولة موريتانيا من الناحية الإثنوغرافية عن دولة ..

- أ-مالي
- ب-جزر القمر
- ج- الصومال
- د- السودان

43- " تقسم حدود القارة القطبية الجنوبية بين مجموعة دول من نقطة القطب الجنوبي " نستنتج من ذلك أن الحدود السياسية بها تشبه أكثر الحدود السياسية انتشارا في قارتي:



- (أ) آسيا وأفريقيا .
- (ب) أوروبا وآسيا
- (ج) أمريكا الجنوبية وأوروبا .
- (د) أفريقيا وأمريكا الشمالية

44- أي المدن الآتية شهدت توقيع أحد المعاهدات التي ساهمت في متغيرات النظام العالمي الجديد ؟

- أ- واشنطن
- ب- وارسو
- ج- الرياض
- د- ماسترخيت

45- ما دور هيئة الأمم المتحدة في حل مشكلتي (سبتة ومليلة) و(كشمير) ؟

.....

.....

.....

46- حدد الأثر الناتج عن التعاون بين دول العالم للتغلب على المشكلات الاقتصادية .

.....

.....

.....

## النموذج الاسترشادي الرابع لمادة الجغرافيا

### الصف الثالث الثانوي

1) ظهر الدور الإيجابي للجغرافيا السياسية كأحد العلوم التطبيقية في الربع الأخير من القرن العشرين لدولة تقع في ..... .

(أ) شمال شرق أفريقيا (ب) وسط أوروبا

(ج) جنوب آسيا (د) شمال غرب أفريقيا

2) "أصدرت محكمة العدل حكماً بين ليبيا وتونس بأن يسير الحد السياسي بزاوية 26 درجة ثم زاوية 52 درجة بسبب مورفولوجية تونس"، في ضوء هذه العبارة استنتج: أي مراحل ترسيم الحدود كان من الممكن أن يتم الاعتماد عليها في ذلك؟ مرحلة .....

(أ) التعريف والتخطيط (ب) التحديد

(ج) التعيين (د) إدارة الحد

3) "يحدد الحد السياسي سيادة الدولة على الموارد السطحية والباطنية والبحرية"، تنطبق العبارة على دولة .....

(أ) بوليفيا (ب) أوغندا

(ج) النمسا (د) بنجلاديش

4) ظهرت التكتلات الاقتصادية على الخريطة السياسية .....

(أ) قبل الحرب العالمية الثانية (ب) مع الحرب العالمية الأولى

(ج) أثناء الحرب الباردة (د) بعد حرب الخليج الثانية

5) التكتل الاقتصادي أحادي المورد .....

(أ) مجلس التعاون لدول الخليج العربي

(ب) منتدى التعاون الاقتصادي

(ج) مجلس الاتحاد الأوروبي

(د) السوق الأوروبية المشتركة

6) من خلال تحليلك لخريطة التكتلات الاقتصادية استنتج: تقطع دائرة الاستواء مجموعة من الدول تستفيد من مزايا الإنتاج الكبير يخرج عنها .....

أ- أندونيسيا

ب) أوغندا

ج- الكونغو الديمقراطية

د- كولومبيا

7) من خلال دراستك للجغرافيا السياسية: فإن الدولة الأقرب لسياسة الحياد العسكري والاقتصادي تقع فى .....

أ- وسط أوروبا

ب- شمال أمريكا الشمالية

ج- شمال أوروبا

د- جنوب أمريكا الشمالية

8) "في بداية عام 2025م أعلنت الولايات المتحدة فرض تعريفه جمركيه تقدر بـ 25% على منتجات دولة كندا"، تتعارض العبارة السابقة مع إحدى مراحل قيام التكتلات الاقتصادية وهى .....

أ- التجارة الحرة

ب- السوق المشتركة

ج- التجارة التفضيلية

د- الوحدة الاقتصادية

9) أي الدول التالية رُسمت حدودها نتيجة تصفية الاستعمار لمستعمراته.....

أ- روسيا الاتحادية وجورجيا

ب- مصر والسودان

ج- اليمن والسعودية

د- كوريا الشمالية والجنوبية

10) تتشابه دول (استونيا - ليتوانيا - مالدوفيا) فى.....

أ- الأقليات القومية

ب- الموقع الجغرافى

ج- الانضمام لحلف الناتو

د- الانضمام للاتحاد الأوروبي

11) "الباسك- تيمور الشرقية- الأكراد" مناطق تتشابه فى تأثيرها الكبير على عدم استقرار دولهم سياسياً بسبب....

أ - الخصائص العرقية

ب- الموقع على الأطراف

ج - حجم الاقلية

د - قوتها الاقتصادية

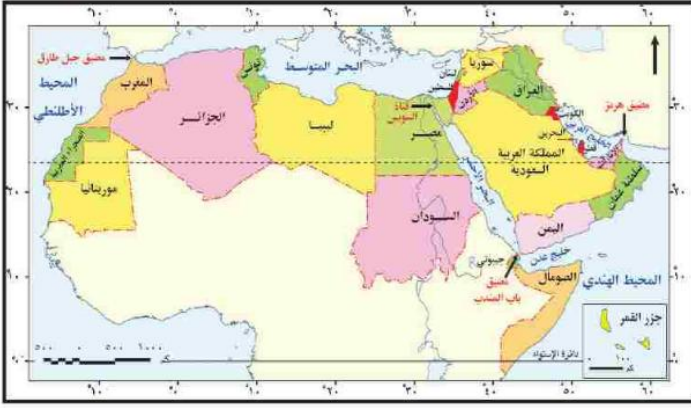
12) يصنف النزاع بين دول بحر الشمال ضمن المشكلات.....

أ- العسكرية الاجتماعية

ب- الاجتماعية السياسية

ج- الاقتصادية السياسية

د- الاقتصادية الاجتماعية



13) ادرس خريطة المقابلة استنتج:

توقع إذا كان الوطن العربي وحدة سياسية

واحدة فإن أقرب شكل لهذه الدولة هو ...

أ- المندمج ذو البروز

ب- المجزأ البري

ج- المستطيل الطولي

د- البري البحري المجزأ

14) بمقارنة الدول التي تطل على بحيرة فيكتوريا ومالاوي نلاحظ أن الدول

المشرفة عليهما تتشابه من حيث .....

أ) شكل الدول

ب) أسباب نشأة الحد

ج) اشتراك في تكتل اقتصادي

د) امتلاك حدود بحرية



15) المنطقة التي زاد عدد الدول المطلة عليها بعد الحرب العالمية الثانية  
سواحل .....

- (أ) شرق المحيط الأطلنطي  
(ب) شمال البحر البلطي  
(ج) غرب البحر الأدرياتي  
(د) جنوب بحر قزوين

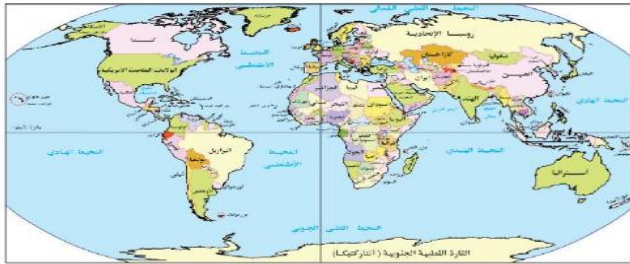
16) الدولة التي نجحت في تنظيم حركة الرعاة وتحديد رؤوس الماشية ومناطق  
ارتجاعها على جميع حدودها وهي ....

- (أ) غينيا.  
(ب) بوتسوانا  
(ج) موريتانيا .  
(د) بوركينا فاسو.

17) تم رسم حدود وسط أوروبا على أساس .....  
أ- ديني ب - حضاري ج- اقتصادي د - عرقي



خريطة (١٩٠٢) : خريطة العالم السياسية قبل الحرب العالمية الأولى



خريطة (٢٠١٥) : خريطة العالم السياسية عام ٢٠١٥م

18) ادرس الخريطين ثم استنتج :  
"حدثت تغيرات شكلت الحدود السياسية  
على خريطة العالم نتيجة عوامل طبيعية "

ينطبق مضمون العبارة السابقة على  
الحدود السياسية في.....

- أ- شمال غرب العالم  
ب- جنوب غرب العالم  
ج- جنوب شرق أوروبا  
د- جنوب شرق اسيا

19) العالم الذي تناول أهمية تأثير البنية التحتية على قوة الدولة هو.....

- أ- ابن خلدون  
ب- راتزل  
ج- كيلين  
د- ارسطو

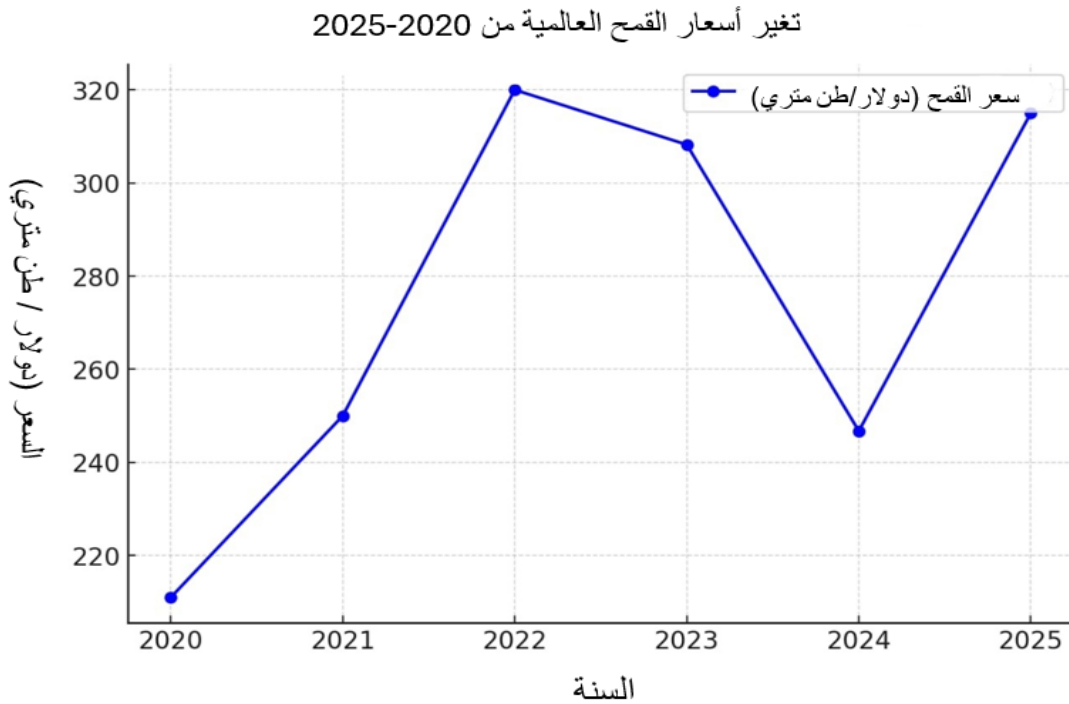
20) أي العبارات التالية تعتمد على تقنية نظم المعلومات الجغرافية محليًا ؟  
أ- متابعة تطورات فيروس كورونا بالاتحاد الأوروبي

ب- محاولة اثبات ادعاء الدولة س على الدولة ص

ج- مراقبه الهجوم العسكري لروسيا على أوكرانيا

د- تقييم أداء الخدمات الصحية والتعليمية بمصر

21) ادرس الشكل الذي أمامك ثم استنتج:



يمكن دراسة ما ورد بهذا الشكل في أحد مجالات الجغرافيا .....

أ- النظام العالمي الجديد

ب- التحليل السياسي للقوة

د- العولمة

ج- سياسة الاستقطاب

22) "تسعى الدولة لتحقيق مصالحها بالاندماج والتمثيل السياسي الموحد مع دولة اخري"، في ضوء العبارة استنتج: حال رغبة بوركينا فاسو تحقيق التواصل بالعالم الخارجي يجب عليها اقامة اتحاد .....

ب- فيدرالي مع ساحل العاج

أ- كونفدرالي مع مالي

د- كونفدرالي مع ساحل العاج

ج- فيدرالي مع مالي

23) تقع الدولة الفيدرالية التي تتصل بالعالم الخارجي من جميع واجهاتها البحرية في الركن .....

- أ- الشمالي الشرقي  
ب- الجنوب الشرقي  
ج- الشمال الغربي  
د- الجنوب الغربي

24) ادرس الخريطة المقابلة ثم استنتج:



نتج عن تفكك تشيكوسلوفاكيا.....

- أ- ثبات عدد الدول المجاورة للنمسا  
ب زيادة عدد الدول الحبيسة لبولندا  
ج- زيادة عدد الدول الحبيسة لألمانيا  
د- تناقص عدد جيران دولة ألمانيا

25) أمامك جدول يوضح الموقع الفلكي لبعض الدول استنتج:

الدولة	دوائر العرض	خطوط الطول
س	من 22 شمالاً إلى 29 جنوباً	من 4 شرقاً إلى 11 غرباً
ص	من 11 شمالاً إلى 24 شمالاً	من 14 غرباً إلى 57 شرقاً
ع	من 68 شمالاً إلى 80 شمالاً	من 17 غرباً إلى 22 شرقاً
ك	من 2 شمالاً إلى 37 جنوباً	من 16 شرقاً إلى 25 غرباً

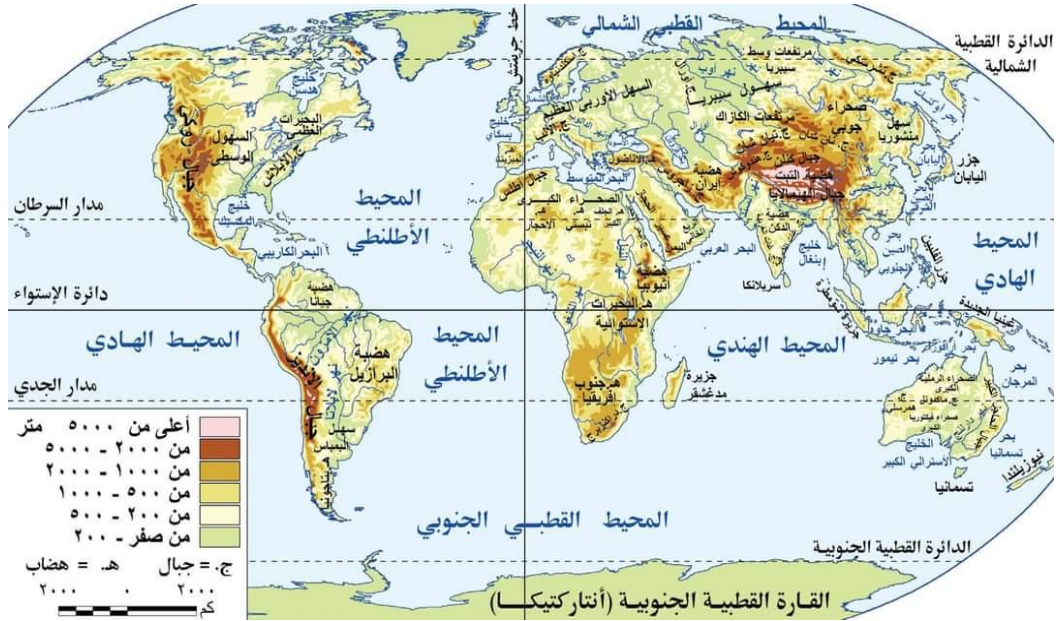
أي من الرموز السابقة يشير إلى الدولة الأوفر حظاً من حيث حرية الحركة المكانية لجيشها ؟

- أ - ( س )  
ب- ( ص )  
ج - ( ع )  
د- ( ك )

26) أحد العوامل الطبيعية التي أثرت سلباً على اندونيسيا وايجاباً على تونس، هي .....

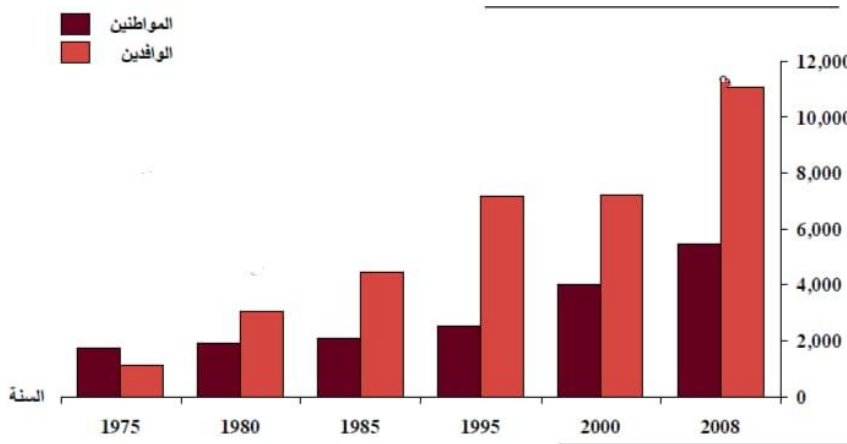
- أ- المساحة  
ب- التضاريس  
ج- الشكل  
د- الموارد الطبيعية

27) ادرس الخريطة المقابلة ثم استنتج:



يقع الحوض الأدنى لنهر الفولجا في دولة تتمتع بـ .....

- أ- شكلها المندمج ذو البروز  
ب- شكلها المجزأ البحري  
ج- وجود عاصمة مستحدثة  
د- وجود عاصمة قومية داخلية



28) ادرس الشكل

الذي يوضح  
نسبة المواطنين  
إلى الوافدين في  
دولة :

نستنتج أن هذه  
الدولة بها .....

أ- اختلال ثقافي .

ب- تشابه ثقافي.

ج- انخفاض معدل البطالة

د- زيادة معدل الإعالة.

29) أحد خصائص السكان لها دور في تحديد حق الادلاء بأصواتهم فى العملية الانتخابية ....

أ- التركيب النوعي

ب- التركيب العمري

ج- الحالة التعليمية

د- الدين واللغة

30) أي مما يلي يعبر عن مفهوم النظام السياسي بصوره المجتمعية يخرج عنها

أ- تطوير البنية التحتية للمغرب

ب- توسيع السعودية فى التأمين الصحي

ج- قرار مصر الانضمام للبريكس

د- تطوير الامارات لنظام التعليم

31) " اتبعت البرازيل مبدأ إعلام مواطنيها بحقيقة الوضع المالي بكل صراحة وتطبيق برنامج التقشف حتى أصبحت سادس اقتصاد فى العالم "، من تحليلك للعبارة المقابلة يرجع نجاح البرازيل الى القوة .....

أ- العسكرية

ب- التنظيمية

ج- المورفولوجية

د- الديموغرافية

32) ظهرت معاهدة الصداقة والتعاون والمساعدة المتبادلة كرد فعل مباشر بعد .....

أ- عقد ميثاق حلف شمال الأطلنطي 1949

ب- اتباع ألمانيا الغربية سياسة التسلح الجماعي

ج- التدخل العسكري فى دولة تشيكو سلوفاكيا

د- عقد ميثاق منظمة حركة عدم الانحياز 1955م

33 من خلال دراسة خريطة العالم الطبيعية، من المتوقع أن يشبه اتجاه مصب النهر في الدولة ( س ) يشبه اتجاه مصب نهر .....



- أ) الامازون في البرازيل  
 ب) الراين في هولندا  
 ج) النيل في مصر  
 د) النيجر في نيجيريا

34 ادرس الجدول الذي أمامك ثم استنتج:

المؤشرات	الخطة (س)	الخطة (ص)	الخطة (ل)	الخطة (ع)
الدخل القومي	41	28	21	14
الإنتاج الصناعي	50	43	24	15
الإنتاج الزراعي	21	13	9	5
انتاجية العمل	37	25	17	13
متوسط الدخل للفرد	33	24	18	9
معدلات النمو في الدولة (ق) بين ( 1966 - 1985 )				

الفترة الزمنية التي شجعت الحركات القومية ذات الجانب الانفصالي تمثلت في الفترة الزمنية في الخطة .....

ب - ص

أ - س

د - ع

ج - ل

35 الحد السياسي الحضاري الذي فُرض بقوى خارجية يفصل بين دولتي.....

ب- مصر والسودان

أ- المجر والنمسا

د- مصر وليبيا

ج- الهند و بنجلاديش

36) أي المناطق الآتية تمثل أحد أهم مناطق إنتاج واستهلاك الوقود الحفري في العالم هي منطقة دول .....

- أ- بحر الشمال  
ب- البحر الأحمر  
ج- الخليج العربي  
د- خليج البنغال

37) الجهة المسؤولة عن تدويل القضايا والمشاكل في الأمم المتحدة .....

- أ- البنك الدولي  
ب- صندوق النقد الدولي  
ج- مجلس الأمن  
د- منظمة الأغذية والزراعة

38) "تصت اتفاقيه فيينا 1975 في المادة 84 في حالة نشوب نزاع بين دولتين أو أكثر تجرى

مفاوضات فيما بينهما"، تعبر العبارة السابقة عن طرق حل النزاعات سلميا وهي .....

- أ- المساعي الحميدة  
ب- الوساطة  
ج- المفاوضات  
د- التوفيق

39) "شهد العالم تحولات كبيرة في العلاقات الدولية عبر تاريخه"، في ضوء العبارة السابقة

استنتج: أقدم المناطق التي ظهرت بها العلاقات الدولية ....

- أ- المشرق العربي  
ب- البحر البلطي  
ج- بلاد الحجاز  
د- بحر المانش

40) في ضوء دراستك للمقومات الطبيعية لقوة الدولة: أي المناطق التالية يوجد بها وفرة

في المواد الخام لتوطن الصناعات الثقيلة؟ .....

- أ- شرق هولندا  
ب- غرب المانيا  
ج- جنوب فرنسا  
د- جنوب هولندا

41) المنطقة التي فرضت حدودها دون رغبة السكان ونتج عنها مشكلات سياسية ولا تزال

مستمرة توجد في .....

- أ- شرق السودان  
ب- شرق تشاد  
ج- جنوب اليمن  
د- جنوب انجولا

42) «الموقع الجغرافي قدر ثابت تتغير عليه الدول ولا يتغير». تنطبق المقولة السابقة

بشكل واضح علي الحدود بين كل من .....

- أ- ألمانيا وفرنسا  
ب- ليبيا الجزائر  
ج- تشيلي والأرجنتين.  
د- السعودية و الأردن



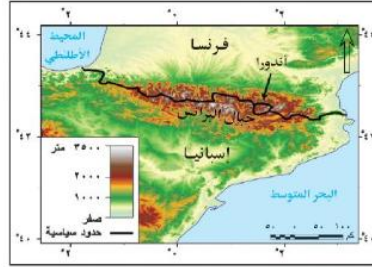
43)- ادرس الخريطة السياسية لقارة أمريكا الجنوبية،

ثم استنتج: تتميز البرازيل عن باقي دول القارة ب ..

- أ- قلة عدد الدول المجاورة والمساحة الصغيرة..  
ب- زيادة عدد الدول المجاورة والمساحة الصغيرة..  
ج- زيادة عدد الدول المجاورة والمساحة الكبيرة.  
د- قلة عدد الدول المجاورة والمساحة الكبيرة.

44) ادرس الخريطة المقابلة ثم استنتج:

تتوقع إذا اختفت جبال البرانس فإن الحدود السياسية سوف تكون.....



خريطة (٢٠٢) :الحدود الجبلية بين فرنسا وإسبانيا

- أ- بحرية  
ب- هندسية  
ج- طبيعية  
د- نهريّة

45) ما مدى مصداقية العبارة الآتية ؟

لعب حلف الناتو دورًا إنسانيًا في العقد الأول من الألفية الثالثة

.....

.....

.....

.....

46) دتل جغرافيا

"لعبت الطبيعة دور كبير في تغير مساحات بعض الدول "

.....

.....

.....

.....

## النماذج الاسترشادية لمادة الجغرافيا

### الصف الثالث الثانوي

#### النموذج الخامس

1- يعد من أبرز المفكرين الذي حدد العلاقة بين البيئة الجغرافية والمجتمعات البشرية بأنها علاقة ديناميكية تعتمد على التحولات الاجتماعية والاقتصادية العالم .....

(أ) ابن خلدون

(ب) سيجفريد

(ج) كيلين

(د) راتزل

2-- يتم دراسة العلاقات بين الحدود السياسية والمقومات الجغرافية ضمن مجال .....

(أ) الوحدات السياسية

(ب) النظام العالمي الجديد

(ج) التحليل السياسي للقوة

(د) العلاقات الدولية

3- أمامك خريطة سياسية لقارة آسيا درسها جيداً ثم استنتج :

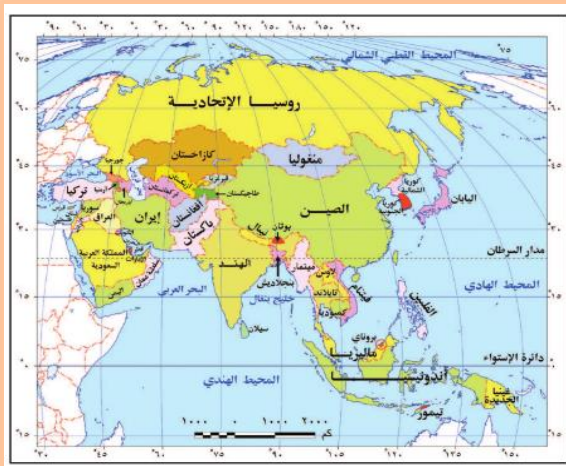
تتشابه دولتي منغوليا واوزبكستان في .....

(أ) التنوع في الأقاليم المناخية

(ب) الموقع الاستراتيجي

(ج) الموقع الفلكي

(د) صعوبة الوصول بين أجزائها



4-التقنية الحديثة التي تعتمد عليها الأمم المتحدة فى قرار الفصل بين نزاع حدودي بين دولتين  
هى تقنية.....

أ) تكنولوجيا المعلومات

ب) نظم المعلومات الجغرافية

ج) نظم تحديد المواقع

د) وسائل الاتصال اللاسلكى

5-مشكلة سياسية تدخلت الأمم المتحدة لحلها مرتين تقع بالقرب من .....

أ) غرب الصين

ب) غرب باكستان

ج) شرق الهند

د) شرق بنجلاديش

6-دولة استطاعت زيادة القوة الاقتصادية دون الدخول فى التكتلات الاقتصادية .....

أ) ألمانيا

ب) اليونان

ج) السويد

د) النرويج

7-يوجد اختلاف بين المياه الدولية والمياه الإقليمية فى.....

أ) ثرواتها البحرية

ب) أهميتها الملاحية

ج) التغطية الجغرافية

د) الحقوق السيادية

8- يحق للدولة مكافحة التلوث فى المسطحات المائية التى تشرف عليها ابتداءً من خط الساحل وحتى.....

أ) نهاية المياه الاقليمية

ب) نهاية المياه التكميلية

ج) بداية المياه الاقليمية

د) بداية المياه التكميلية

9- " تعانى بعض الدول من الانعزال الجغرافي وتقييد للقوة العسكرية والسياسية والاقتصادية" تنطبق العبارة السابقة علي دولة .....

أ) ليسوتو

ب) نامبيا

ج) زيمبابوى

د) بتسوانا

10- لضمان الحقوق المائية اتجهت الدول إلى تحقيق التعاون الدولى من خلال .....

أ) إنشاء منظمة الفاو

ب) عقد اتفاقية باريس

ج) عقد مؤتمر سان فرانسيسكو

د) إنشاء منظمة الأمم المتحدة

11- أي مما يلي ينطبق عليه مفهوم الأمة؟

أ) الأقلية الزنجية

ب) الأقلية الكردية

ج) الأمم المتحدة

د) الاتحاد الأوروبي

12- "تستطيع توفير المادة الخام اللازمة للصناعات الثقيلة وتمتع باستقلال السلطات المحلية" تنطبق العبارة السابقة علي دولة .....

أ) الصين

ب) مصر

ج) كندا

د) اليابان

13- تكاد تخلو بعض مناطقها من السكان وتعانى من صعوبة الوصول بين أجزاءها دولة.....

أ) مالطة

ب) بولندا

ج) هولندا

د) النرويج

14- تتمتع مصر بالوحدة والتجانس بين سكانها ويرجع ذلك إلى.....

أ) الشكل - التضاريس - اللغة .

ب) الموقع -الدين - التعليم

ج) المساحة - المناخ-الهجرة

د) المساحة -الدين -اللغة

15- (( تقع العاصمة نيودلهى على نهر يامونا فى شمال الهند وعلى مسافة 300 كم من الحدود الشمالية من جبال الهيمالايا))

فى ضوء العبارة استنتج

تم اختيار العاصمة نيودلهى على أساس .....

- أ) الموقع البحري- الحماية والدفاع
- ب) السيادة القومية-سهولة الوصول
- ج) سهولة الوصول-الحماية والدفاع
- د) العامل التاريخي-السيادة القومية

16- تتمتع سويسرا بمجموعة من الحدود الطبيعية كالجبال والأنهار التى تفصلها عن جيرانها وساعدها فى ذلك .....

- أ) الموقع الجغرافي
- ب) نظام الحكم
- ج) التعدد اللغوى
- د) شكل الدولة

17- تتشابه كل من التخوم والمياه الدولية فى.....

- أ) الأهمية الاقتصادية
- ب) الصفة القانونية
- ج) الفصل بين الدول
- د) الحماية والأمن

18- (يعتبر جدار الحماية العظيم فى الصين هو أشهر أنظمة الرقابة على الانترنت للحد من المعلومات التى تهدد استقرار الدولة )

فى ضوء العبارة استنتج

يهدف جدار الحماية العظيم إلى تطبيق أحد وظائف الحدود السياسية وهى الوظيفة .....

أ) السياسية

ب) الاقتصادية

ج) الأمنية

د) القانونية

19- فى حال استقلال كشمير كدولة سوف تعاني من .....

أ) العوامل الخارجية

ب) الاختلاف العرقي

ج) الاختلاف اللغوى

د) الانغلاق الجغرافى

20- (( استطاع الاتحاد السوفيتى فترة الحرب العالمية الثانية نقل سكان المناطق الشرقية إلى الوسط وسهول سيبيريا ونقل الصناعات الحيوية ))

فى ضوء العبارة استنتج

-استخدمت روسيا لحماية السكان والمصانع فى الحرب .....

أ) مقوماتها المورفولوجية

ب) أسلحتها المتطورة

ج) صناعتها الحيوية

د) مقوماتها البشرية

21- تم عقد الاتفاقات السياسية بين بعض الدول بسبب التغير المناخى كما في دولتي .....

أ) بوركينافاسو والنيجر

ب) السودان ومالى

ج) موريتانيا وأوغندا

د) اليمن وعمان

22- اتجهت ألمانيا فى الحرب العالمية الثانية إلى التوجه شرقاً من أجل .....

أ) تطبيق أهداف الجيوبولتيك

ب) توفير المادة الخام

ج) فرض السيطرة العالمية

د) تحقيق التوازن الدولى

23- يرجع الاختلاف فى التركيب النوعى و محاولات محو الهوية بدول الخليج العربى إلى.....

أ) الهجرة غير الشرعية - العولمة

ب) وسائل الاتصال - الدين

ج) الهجرة القسرية - اللغة

د) المساحة الكبيرة - العولمة

24- تكاد تخلو خريطة العالم فى الوقت الحالى من.....

أ) الوحدات السياسية

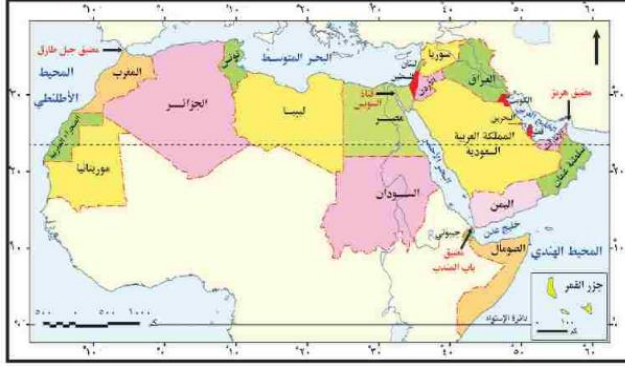
ب) التكتلات الاقتصادية

ج) الأحادية القطبية

د) الامبراطوريات

25- ادرس خريطة المقابلة ثم استنتج:

توقع إذا كان الوطن العربي وحدة سياسية واحدة فإن شكل لهذه الدولة هو ...



أ) المندمج

ب) المجزأ

ج) المستطيل

د) المحتوي

26- أدى الطابع التضاريسي في دولة هولندا إلى .....

أ) الانسجام الحضارى

ب) توفير المعادن

ج) تعدد اللغات

د) إعاقة التنمية

27- (( يعتبر الإمبراطور فى اليابان رئيساً للدولة بلا سلطات تنفيذية ،ورئيس الوزراء هو المسؤول عن تنفيذ السياسات ))

فى ضوء العبارة استنتج

تتبع اليابان نظام الحكم.....

أ) البرلمانى

ب) الرئاسى

ج) شبه رئاسى

د) شبه برلمانى

28- تعمل الدول على توفير الأمن المائي من خلال تسوية الخلافات الإقليمية وهو ما يعبر عن مفهوم .....

أ) النظام السياسي فى صورته المؤسسية

ب) النظام السياسي فى صورته الاجتماعية

ج) المنظمات الإقليمية والدولية

د) اتفاقية القانون الدولي للبحار

29- أثناء فترة الانتخابات فى احدي الدول حدث خلاف علي ترشيح أحد المنافسين ويُدرس ذلك ضمن أحد مجالات الجغرافية السياسية وهو مجال.....

أ) تشابه التصويت

ب) سلوك الناخبين

ج) أثر البيئة الطبيعية على الانتخابات

د) أثر البيئة البشرية على الانتخابات

30- تتشابه الجغرافيا السياسية وجغرافية الانتخابات فى .....

أ) المنهج السائد

ب) أهداف كلاً منهما

ج) دراسة المقومات الجغرافية

د) مجالات الدراسة



31- أمامك خريطة سياسية لقارة أمريكا الجنوبية،

ادرسها جيداً ثم استنتج:

تشابه دولتي بوليفيا وكولومبيا من حيث .....

- أ) نوع النبات الطبيعي والاحتكاك الحضاري.
- ب) الاحتكاك الحضاري وعدد الدول المجاورة.
- ج) عدد الدول المجاورة والتكوين المورفولوجي.
- د) التكوين المورفولوجي وتنوع النبات الطبيعي

32- يوجد اختلاف بين عوامل قيام التكتل الاقتصادي والعولمة الاقتصادية يتمثل في المقوم .....

أ) السياسي - الاقتصادي

ب) الاقتصادي - العسكري

ج) البشري - الجغرافي

د) الجغرافي - السياسي

33- العامل السياسي المشترك بين عناصر قوة الدولة الاقتصادية والتكتلات الاقتصادية هو

السعى لتحقيق .....

أ) رفاهية المواطنين

ب) الصمود الاقتصادي

ج) مزايا الإنتاج الكبير

د) كفاءة استثمار الموارد

34- (الحجم السكاني الكبير - التركيز الجغرافي للأقلية - تعدد اللغات)

كلها عوامل جغرافية تساعد على.....

(أ) الحركات الانفصالية

(ب) ضعف القوة التنظيمية

(ج) توقف حركة التنمية

(د) الصراعات الإقليمية

35- (يبلغ عدد العمال في أقلية ما للدولة (س) 3 مليون شخص منتشرين جغرافيًا لكنهم يعانون من التمييز العنصري )

في ضوء العبارة استنتج

-تسعى هذه الأقلية في الحصول على حقوقهم داخل الدولة (س) عن طريق.....

(أ) الحركات الانفصالية

(ب) الحركات الاجتماعية

(ج) الانضمام لأحلاف عسكرية

(د) الانضمام لتكتلات اقتصادية

36- تم حل العديد من المشكلات الاقتصادية والاجتماعية في أوروبا من خلال.....

(أ) الحدود الخطية-اتفاقية باريس

(ب) تكتل الاتحاد الأوروبي -حلف وارسو

(ج) إزالة التخوم -الاستقطاب العالمي

(د) إنهاء الحرب الباردة -الأمم المتحدة

37- (تعد معاهدة وستفاليا 1648م نقطة تحول حاسمة فى العلاقات الدولية لأنها أنهت الحروب الدينية فى أوروبا وأرست مفهوم السيادة الوطنية )

فى ضوء العبارة استنتج

يتشابه الدور الذى قامت به معاهدة وستفاليا مع دور .....

أ) الحدود السياسية

ب) معاهدة باريس

ج) تكتل الكوميسا

د) عصبة الأمم

38- من أبرز معالم العلاقات الدولية فى بداية القرن العشرين .....

أ) تكوين الامبراطوريات

ب) قيام عصبة الأمم

ج) تأسيس الاتحاد الأوروبي

د) ظهور العولمة

39- يعانى الشرق الأوسط فى الفترة الحالية من صراعات أدت لزيادة .....

أ) التمييز العرقي

ب) تفكك المنظمات

ج) ظهور أقليات

د) الهجرة القسرية

40- لجأت الدول التي تعاني من مشكلات حدودية متأثرة بالتغيرات المناخية إلى.....

أ) التحالفات عسكرية

ب) الاتحادات الفدرالية

ج) الصراع المسلح

د) عقد المعاهدات

41- يعد التحدي الرئيسي للنظام العالمي الجديد سياسيًا في بداية القرن الواحد والعشرين هو....

أ) تنامي النزاعات الداخلية في الدول المتقدمة

ب) ظهور نظام متعدد الأقطاب على خريطة العالم

ج) انهيار النظام الدولي عقب الحرب العالمية الثانية

د) انتشار الأسلحة النووية في الدول النامية

42- تزامن تحول العلاقات الدولية من الجوار إلى أفاق أوسع شملت العالم بأسره مع .....

أ) ظهور المسح الميداني

ب) نشأة الحدود الخطية

ج) عقد معاهدة بارشيلونة

د) ظهور النظام العالمي

43- (يدور الصراع بين الدول المتقدمة على المواد الخام التي تدخل فى صناعة التكنولوجيا )

فى ضوء العبارة استنتج

يتم دراسة مضمون العبارة السابقة ضمن أحد مجالات الجغرافيا السياسية وهو مجال .....

أ) النظام العالمى الجديد

ب) التحليل السياسي للقوة

ج) الوحدات السياسية

د) العلاقات الدولية

44- يعد من أبرز خصائص النظام العالمى الجديد .....

أ) النزاع المسلح بين الدول الكبرى

ب) الهيمنة الاستعمارية

ج) تعزيز التعاون الاقتصادي

د) تعزيز السيادة الوطنية

الأسئلة المقالية

45- دلل على صدق العبارة:

الأمم المتحدة وحلف الناتو لهم أهداف وأدوار مشتركة.

.....

.....

.....

.....

46- إقترح حلول للمشكلات السياسية الناتجة عن التغيرات المناخية.

.....

.....

.....

.....

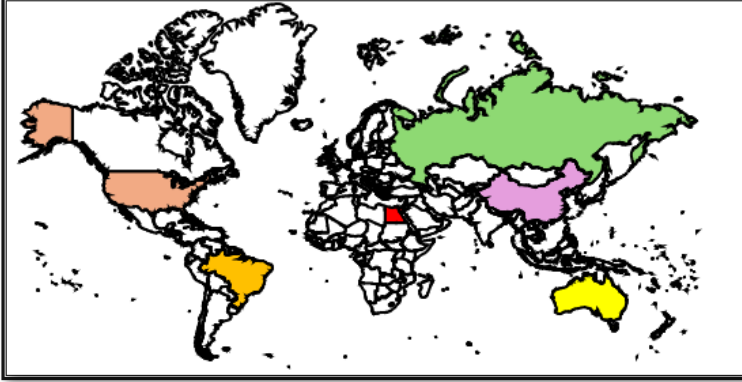
## النماذج الاستراتيجية لمادة الجغرافيا

### الصف الثالث الثانوي

#### النموذج السادس

1- ادرس الخريطة المقابلة ثم استنتج:

يمكن دراسة أثر التفاعلات للدول الموضحة مع بعضها أو مع دول أخرى، عن طريق أحد مجالات الجغرافيا السياسية، وهو



....

أ- الوحدات السياسية

ب- العلاقات الدولية

ج- المشكلات السياسية

د- التحليل السياسي للقوة

2- " إذا رأيت الدول تنقص من أطرافها وتدور بها الصراعات الداخلية فانتظر زوالها"

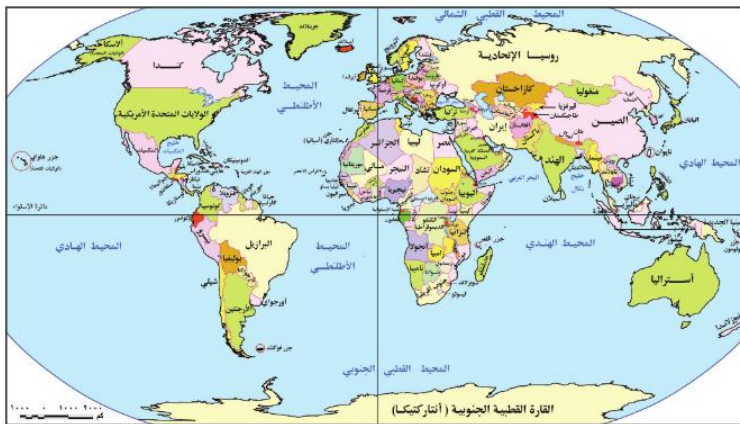
يعبر مضمون المقولة السابقة عن أحد مراحل دورة حياة الدولة عند ابن خلدون وهي مرحلة .....

ب- الشباب

أ- النشأة

د- الاضمحلال

ج- النضج



3- ادرس الخريطة المقابلة ثم استنتج:

- ينتمي مؤسس علم الجيوبولتيك لدولة تتصف بـ ...

أ- التنوع المناخي والشكل الشريطي

ب- الشكل المنتظم والتطرف المناخي

ج- الشكل المنتظم والتنوع المناخي

د- التطرف المناخي والشكل الشريطي

4- " تابع العالم الانتخابات الأمريكية في نوفمبر 2024 م، ورصد نتائج وأرقام الولايات المختلفة أولاً بأول حتى تم اعلان المرشح الفائز "

يتبين من تحليل مضمون العبارة السابقة أنها توضح أهمية دور التقنيات الحديثة وهي ..

أ- الاستشعار من بعد

ب- وسائل الاتصالات المختلفة

ج- نظم المعلومات الجغرافية

ج- نظام تحديد المواقع العالمي

5- " في الفترة من أوائل القرن العشرين إلى منتصفه بدأ التوسع الاستعماري على حساب الدول المجاورة وحدث خلط بين علم الجيوبولتيك والجغرافيا السياسية والذي ظهر في وسط أوروبا " -

يتماشى مضمون العبارة السابقة مع ما يحدث الآن بين دولتي :

أ- روسيا وأوكرانيا

ب- الصين والولايات المتحدة

ب- إيطاليا وفرنسا

ج- باكستان والهند

6- (إذا اتحدت دول الوطن العربي في دولة واحدة، لها دستور وعلم وعملة موحدة)

من المتوقع أن أنسب نظام سياسي وإداري للدولة الناشئة يتشابه مع نظام دولة.....

أ- الصين

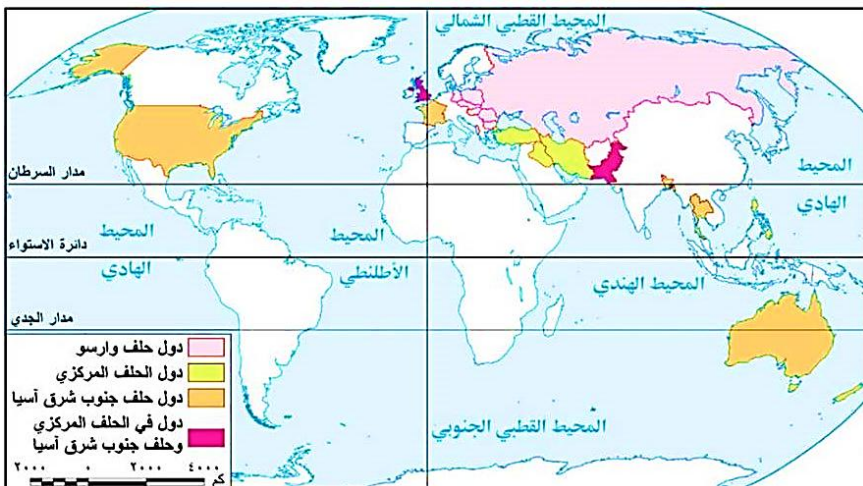
ب- فرنسا

ج- البرازيل

د- اليابان

7- ادرس الخريطة أمامك ثم استنتج:

الدولة التي اشتركت في ثلاث أحلاف عسكرية هي ....



أ - ألمانيا

ب- فرنسا

ج- الولايات المتحدة الأمريكية

د- المملكة المتحدة

8- ادرس خريطة العالم المقابلة ثم استنتج:

تتشابه الدول الموضحة على الخريطة مع

خصائص الأمة ويخرج عنها الدولة التي

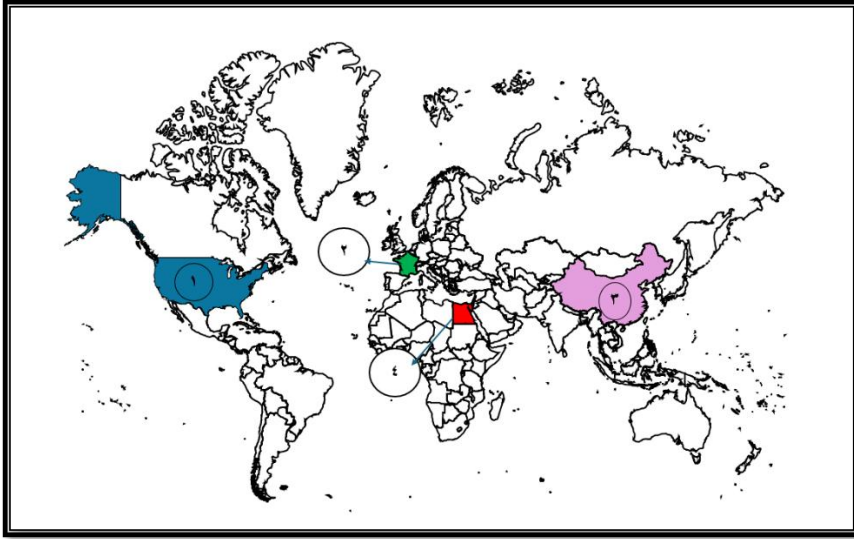
يرمز لها بالرقم ...

أ- 1

ب- 2

ج 3

د- 4



9- ادرس خريطة أمريكا الجنوبية المقابلة ثم استنتج:

تعد من أكثر المقومات الطبيعية تأثيرًا سلبيًا

في الوزن السياسي للدولة الموضحة بالخريطة .....

أ- مساحة الدولة

ب- موقع الدولة

ج- شكل الدولة

د- اثنوغرافية الدولة



10- ادرس خريطة الوطن العربي ثم استنتج:

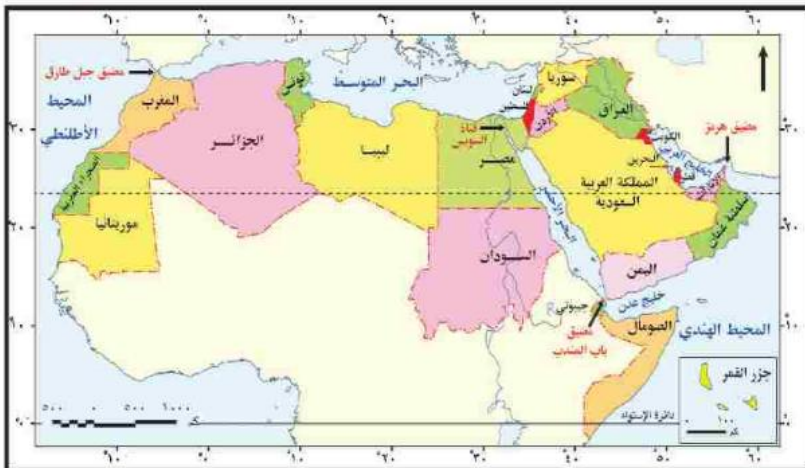
يمر مدار السرطان بدولة أكثر تأثرًا بالكوارث الطبيعية وهي دولة ....

أ- الجزائر

ب- موريتانيا

ج- الإمارات

د- البحرين



## 11- أمامك شكل يوضح الهرم السكاني لدولة الإمارات العربية المتحدة،



من خلال تحليل هذا الهرم السكاني نستنتج .....

أ- زيادة معدل الإعالة وعدم تجانس السكان.

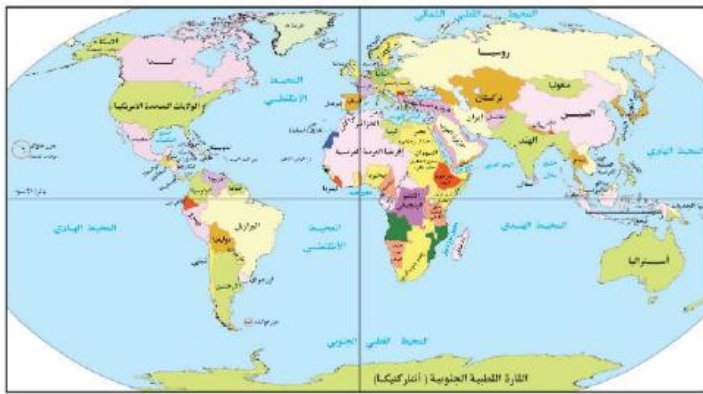
ب- عدم تجانس السكان وانخفاض معدل الإعالة.

ج- انخفاض معدل الإعالة ووفرة العمالة الوطنية.

د- وفرة العمالة الوطنية واختلال التركيب النوعي.

## 12- ادرس الخريطة المقابلة ثم استنتج:

تتصف الدولة المسؤولة عن رسم الحدود السياسية بين مصر والسودان بأنها.....



خريطة (٩-٢) : خريطة العالم السياسية قبل الحرب العالمية الأولى

أ- غير مترابطة جغرافيا

ب- يتولى الملك مسؤوليه الحكم

ج- تقتصر للحدود الطبيعية

د- صعوبة الاتصال الحضاري

## 13- " مصر غنية بشعبها، ويمكن استثمار الثروة البشرية لمصر في شتى المجالات "

في ضوء العبارة استنتج

تتعدد العوامل البشرية المؤثرة في قوة مصر والتي تتمثل إحداها في .....

أ- التنوع الاثنوغرافي

ب- التفوق العرقي

د- التقدم التكنولوجي

ج- التجانس الديموغرافي

14- تتشابه الدولتان الموضحتان في عوامل اختيار العاصمة، ومنها عاملي.....



ب- القدم والعمق

أ- القومية والعمق

د- الحداثة والحماية

ج- القدم والقومية

15- ادرس الخريطة التي أمامك واستنتج:

عند نقطة التقاء دائرة عرض 40 درجة شمالاً مع خط طول 4 درجة غرباً، فإن هذه النقطة تمثل دولة تتصف بأن لها عاصمة .....



خريطة (٢-٣) : دول الاتحاد الأوربي

أ- تاريخية، وسيادة قومية

ب- مستحدثة، وصعوبة الاتصال

ج- عاصمة داخلية ، وسهولة الوصول

د- ساحلية، وبها تنوع مناخي

16- " أهمية الدولة لا تقاس بالكيلومترات المربعة "

تعبر هذه المقولة عن دولة ...

د- سنغافورة

ج- أوزبكستان

ب- طاجيكستان

أ- افغانستان

17- تتوقع أي الدول الآتية تواجه صعوبة في الاتصال بالعالم الخارجي ؟

د- استراليا

ج- تشاد

ب- الولايات المتحدة

أ- البرازيل

18- تتشابه دولة فرنسا مع المملكة المتحدة في .....

- أ- طريقة اختيار السلطة التشريعية  
ب- صلاحيات رئيس الوزراء  
ج- صلاحيات رئيس الدولة  
د- أنظمة الحكم من حيث الشكل

19- يستخدم في النظام شبه الرئاسي مضمون الصورة الآتية



لتحديد مهام السلطة التنفيذية بين .....

- أ- الرئيس ورئيس الحكومة  
ب- الرئيس والسلطة القضائية  
ج- البرلمان والسلطة القضائية  
د- رئيس الحكومة و البرلمان

20- " قامت الحكومة المصرية في الفترة الأخيرة بإقامة مدينة العلمين الجديدة لتوفير فرص عمل للشباب "

يشير الهدف في العبارة السابقة الى أحد أشكال النظام السياسي وهو ....

- أ- النظام السياسي في صورته المؤسسية  
ب- النظام السياسي في صورته الاجتماعية  
ج- النظام الانتخابي  
د- النظام الإداري .

21- يتمثل دور الجغرافيين في العملية الانتخابية في.....

- أ- الترشح للانتخابات  
ب- تقسيم الدوائر الانتخابية  
ج- إعلان الفائزين  
د- اجراء العملية الانتخابية

## 22- حلل بيانات الجدول المقابل ثم استنتج:

يمكن دراسة هذا البيانات في أحد مجالات جغرافيا الانتخابات وهي ...

النسبة	الحزب	المركز الانتخابي
50%	س	أوسيم
40%	س	كرداسة
10%	ص	بولاق الذكور
20%	ص	العمرانية

أ- توزيع الدوائر الانتخابية

ب- التباين المكاني في التصويت

ج- دراسة السلوك الانتخابي

د- دراسة أثر الانتخابات على البيئة

## 23- كافح الزوج في الولايات المتحدة الأمريكية للحصول علي حقوقهم القانونية بمطالب يخرج عنها....

ب- مناهضة التمييز العنصري

أ- الحركات القومية الانفصالية

د- العدالة الاجتماعية

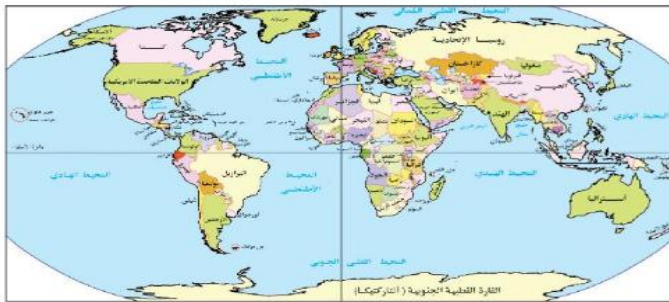
ج- حقوق الإنسان

## 24- ادرس الخريطة ثم استنتج:

حدثت تغيرات في الخريطة السياسية أواخر ق 20 نتج عنها زيادة عدد الدول التي تشرف على بحر ....



خريطة (٩٠٢) : خريطة العالم السياسية قبل الحرب العالمية الأولى



خريطة (١٠٠٢) : خريطة العالم السياسية عام ٢٠١٥م

أ- قزوين

ب- الشمال

ج- العرب

د- الصين

25- يعد من أكثر العوامل التي تؤثر على مستقبل خريطة العالم بالنسبة لجنوب غرب قارة أوروبا..

أ- الصراع على المياه العذبة

ب- سباق التسلح

ج- الهجرة غير الشرعية

د- انتهاء الصراع الأيديولوجي

26- يبدأ الرصيف القاري لمصر عند .....

أ- نهاية الحوض الأدنى لنهر النيل

ب- نهاية الحوض الأعلى لنهر النيل

ج- مخرج النيل عند بحيرة تانا

د- مخرج النيل عند بحيرة فيكتوريا

27- تتشابه أي من الدول الآتية في الموقع الاستراتيجي ومشكلات المياه المتقابلة ...

أ- ليبيا ومصر

ب- اليمن وتونس

ج- المغرب وموريتانيا

د- نيجيريا والسنغال

28- يرتبط زيادة الأقليات القومية حول بحر قزوين بـ ...

أ- انتهاء الحرب العالمية الأولى

ب- بداية الحرب الباردة

ج- بداية الحرب العالمية الثانية

د- انتهاء الاستقطاب العالمي

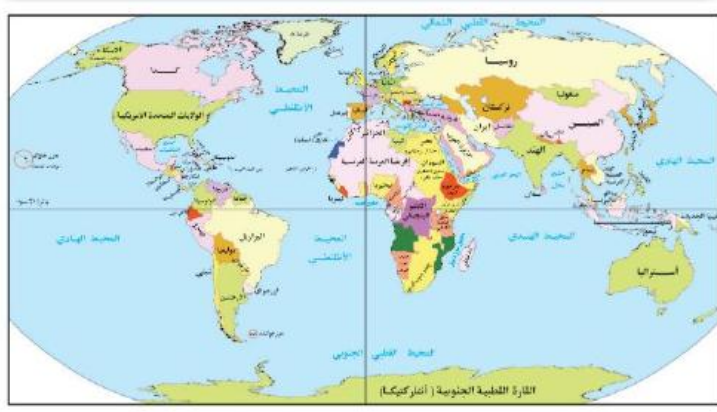
29- تعد أكثر الأقليات تأثيرًا على الاستقرار السياسي للدولة حاليًا هي ...

أ- الزنوج في الولايات المتحدة

ب- البيض في جنوب أفريقيا

ج- الباسك في أسبانيا

د- الروس في كازاخستان



خريطة (٩٠٢) : خريطة العالم السياسية قبل الحرب العالمية الأولى

30- ادرس الخريطة المقابلة ثم استنتج:

تتصف الدولة المسؤولة عن رسم الحدود

السياسية بين النيجر ومالي بأنها..

أ- متعددة السلطات المحلية

ب- ثنائية في السلطة التنفيذية

ج- مفتقرة للحدود الطبيعية

د- صعوبة الاتصال الحضاري

31- يتصف الحد السياسي لجنوب الجزائر بـ ...

أ- قوة الفصل ب- قلة السكان والموارد

ج- صعوبة التغيير د- زيادة السكان والموارد

32- ادرس الخريطة المقابلة ثم استنتج :

في حال تحرك الحد السياسي لفرنسا إلى جنوب دائرة

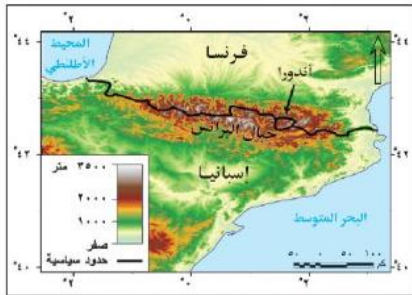
عرض 42° شمالاً .....

أ- تصبح أندورا دوله جيبية

ب- تصبح أندورا تابعة لأسبانيا

ج- زيادة عدد الدول المجاورة لفرنسا

د- زيادة عدد الدول المجاورة لأسبانيا



خريطة (٢٠٢) : الحدود الجبلية بين فرنسا وإسبانيا

33- تمركز الخلاف القانوني حول تحديد الحد السياسي البحري بين دولتين متجاورتين في حوض البحر المتوسط ..

أ- الشمالي ب- الجنوبي

ج- الشرقي د- الغربي

34- " شهدت مصر هجرة قسرية في بداية الستينيات من القرن العشرين لأسباب .....

أ- مشروعات قومية

ب- خلافات أيولوجية

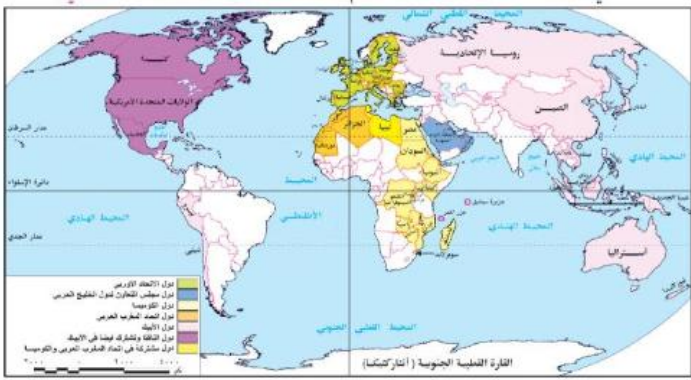
د- صراعات دولية

ج- كوارث طبيعية

35- ادرس الخريطة المقابلة ثم استنتج:

(تعدد العوامل التي تساعد على قيام التكتلات الاقتصادية منها الاتصال الأرضي والتجانس السكاني) تنطبق العبارة

السابقة علي .....



خريطة (1-3) التكتلات الاقتصادية العالمية

أ- الكوميسا ومجلس التعاون لدول الخليج العربي

ب- الكوميسا والتجمع الاقتصادي لدول أمريكا الشمالية

ج- مجلس التعاون الخليجي واتحاد المغرب العربي

د- الناftا واتحاد دول المغرب العربي

36- " من أهداف تأسيس حلف الناتو ضمان أمن أعضائه والمساهمة في تقديم المساعدات لهم. "

في ضوء العبارة استنتج

تركزت جهود حلف الناتو علي المجالين ...

ب- العسكري والاقتصادي

أ- السياسي والعسكري

د- العسكري والإنساني

ج- الاقتصادي والإنساني

37- يصعب انضمام مصر إلى تكتل مجلس التعاون لدول الخليج العربي نتيجة .....

ب- وجود التباين القاري

أ- تباين الخصائص الثقافية

د- عدم توفر البنية التحتية

ج- عدم تنوع الموارد الاقتصادية

38- " ساعد انضمام مصر لتكتل الكوميسا على تحقيق العديد من المزايا الاقتصادية "

في ضوء العبارة استنتج

حققت مصر مزايا اقتصادية من الانضمام لتكتل الكوميسا منها.....

أ- تصدير المواد الخام ب- استيراد السيارات وآلات الحفر

ج- تصدير الخبرات الفنية د- الإلمام بمشكلات القارة ومحاولة حلها

39- " تعتبر مواجهة تهديد استقرار الدول عسكريًا واقتصاديًا أحد أهداف إقامة التكتلات "

أكثر التكتلات التي تنطبق عليها العبارة السابقة تكتل ...

أ- اتحاد المغرب العربي ب- السوق المشتركة لشرق وجنوب أفريقيا

ج- مجلس التعاون لدول الخليج العربي د- منتدى التعاون الاقتصادي

40- " الموقع الاستراتيجي سلاح ذو حدين فهو يفيد الدولة في تحسين علاقاتها الدولية، ولكن يجعلها مطمع للدول "

ينطبق مضمون العبارة على دولتي ...

أ- نيوزيلندا واليابان ب- مصر والمغرب

ج- اليمن والبرازيل د- استراليا وشيلي

41- قد تتأثر الخريطة السياسية للعالم مستقبلا نتيجة الخصائص السلبية للنظام العالمي من خلال....

أ- ظاهرة الاعتماد الدولي المتبادل ب- تدويل القضايا والمشكلات

ج- تدعيم دور الأمم المتحدة د- ظهور الشركات متعددة الجنسيات

42- تمثل دور الدولتان الموضحتان أمامك في العلاقات الدولية بعد الحرب العالمية الأولى في..

أ- الإسهام في نسج العلاقات الدولية

ب- الإسهام في أضعاف العلاقات الدولية

ج- الاشتراك في أحلاف عسكرية مشتركة

د- رفض الانضمام لعصبة الأمم



43- يمكن للدول النامية أن تواجه تأثيرات النظام العالمي الجديد إذا اعتمدت على .....

- أ- التوسع في سياسة القروض الخارجية  
ب- الدخول في تحالفات اقتصادية  
ج- استخدام شركات متعددة الجنسيات بها  
د- تصدير الخبرات إلى الخارج

44- "ترتبط الصناعات الهندسية ببعض المواد الخام النباتية الطبيعية "

في ضوء العبارة استنتج

يصعب تواجد هذه المواد الخام في بيئة دولة .....

- أ - نيجيريا  
ب- إندونيسيا  
ج- البرازيل  
د- إيطاليا

الأسئلة المقالية :

45- يتناقض دور هيئة الأمم المتحدة في حل مشكلتي (سبته ومليلة) و(كشمير) - وضح ذلك

.....  
.....  
.....  
.....

46- دلل جغرافيا :

يوجد تشابه بين جنوب غرب آسيا وشمال غرب أوروبا في تغيرات الخريطة السياسية بعد الحرب العالمية الثانية.

.....  
.....  
.....  
.....

## النماذج الاسترشادية لمادة الجغرافيا

### الصف الثالث الثانوي

#### النموذج السابع

1- اربط الخط بين الجغرافيا السياسية والجيوبولتيك ب.....

أ) النظرة الاستاتيكية للدولة

ب) النظرة الديناميكية للدولة

ج) مجال الدراسة

د) أهداف الدراسة

2- يدخل تحليل موقف الدولة بالنسبة للحدود السياسية ضمن مجال .....

أ) الدولة كمجال لدراسة الجغرافيا السياسية

ب) التحليل السياسي للقوة

ج) النظام العالمي وما ينتج عنه من متغيرات

د) تحليل الخصائص البشرية

3- ادرس الخريطة التي امامك ثم استنتج

نتج عن انقسام الهند زيادة عدد الدول المجاورة لدولة .....



أ) بوتان

ب) أفغانستان

ج) ميانمار

د) إيران

4- (رغم المعوقات الطبيعية والتباين الثقافي لدولة سويسرا إلا أن ذلك لم يؤثر علي تماسكها الاجتماعي)

تتفق العبارة السابقة مع آراء العالم.....

(أ) أرسطو

(ب) ابن خلدون

(ج) راتزل

(د) كيلين

5- تم اتخاذ قرار لترسيم حدود الهدنة في إقليم كشمير بالاعتماد على تقنية .....

(أ) الاستشعار من بعد

(ب) نظم المعلومات الجغرافية

(ج) وسائل الاتصال اللاسلكي

(د) تكنولوجيا المعلومات

6- يعد اختلال التوازن البيئي وفقدان التنوع البيولوجي سبباً في ظهور مشكلات سياسية بين بعض الدول مثلما حدث في منطقة .....

(أ) شرق آسيا

(ب) غرب أوروبا

(ج) شرق استراليا

(د) غرب أفريقيا

7- ادرس الخريطة التي امامك ثم استنتج

(مثلت الصعوبات الجغرافية دافعا لانضمام بعض الدول إلي تكتل آسيان )



تنطبق العبارة السابقة علي دولة .....

أ) لاوس

ب) الصين

ج) كوريا الجنوبية

د) ميانمار (بورما سابقا)

8- ((المنطقة الاقتصادية للدولة بها حقوق اقتصادية مثل الصيد والنفط والسيادة عليها مشروطة))

في ضوء العبارة استنتج

تعد المنطقة الاقتصادية المشار اليها جزءاً من .....

أ) المياه الاقليمية

ب) المياه الدولية

ج) المياه الداخلية

د)الرصيف القاري

9- عند تحديد المياه الاقليمية للدولة فمن المتوقع أن تكون أكبر مساحة أمام دولة.....



أ) اكوادور

ب) ليبيا

ج) المانيا

د) سلطنة عمان

10- كانت الصحاري تستخدم قديماً كمناطق تخوم بسبب دورها فى .....

أ) سهولة الاتصال

ب) تنشيط التجارة

ج) الحماية والدفاع

د) تحقيق السيادة

11- السبب الرئيسي لعقد اتفاقية برشلونة 1921م هو .....

أ) حماية المصالح المشتركة

ب) زيادة حجم الموارد

ج) الحماية من الفيضانات

د) تقييد الملاحة الدولية

12- باتت بعض الأيديولوجيات القومية عرضة للانهايار حديثاً بسبب .....

أ) الاستقطاب الثنائي

ب) التعددية القطبية

ج) العولمة الاجتماعية

د) الانفتاح الاقتصادي

13- ((قد تلجأ دولة صغيرة المساحة وغنية بالموارد الاقتصادية وتعتمد على تحالفات دولية للحفاظ على سيادتها ))

## في ضوء العبارة استنتج

تتسم هذه الدولة ب.....

أ) ضعف الاستقلالية السياسية

ب) القدرة العسكرية الذاتية

ج) مواجهة التهديدات الخارجية

د) الصراعات الاقليمية

14- أدرس الخريطة المقابلة ثم استنتج:

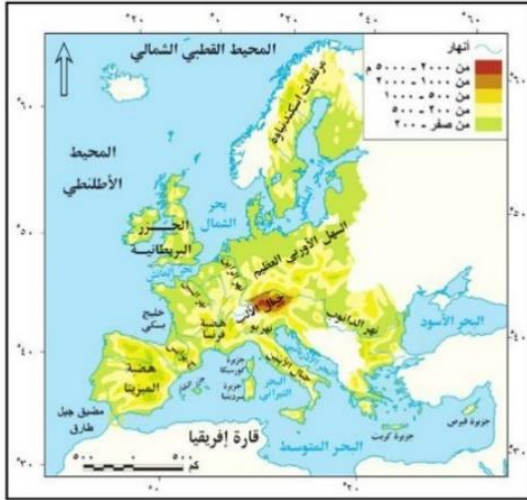
الأنهار التي قد تثير مشكلات سياسية حدودية نهري .....،.....

أ) الراين، الدانوب

ب) الدانوب، السين

ج) السين، بو

د) بو، الراين



15- التنوع الثقافي نعمة ونقمة في أن واحد ويتوقف ذلك على.....

أ) القدرة التنظيمية

ب) القوة الاقتصادية

ج) القوة العسكرية

د) التنوع المناخي

16- اختيرت مدينة كانبيرا عاصمة لدولة استراليا بهدف تعزيز الهوية الوطنية وهي بذلك تتشابه مع مدينة .....



أ) طوكيو

ب) نواكشوط

ج) اسطنبول

(د) موسكو

17- خطوط دفاعية مرنة لها بروتوكولات سياسية تنطبق العبارة بشكل أكبر على .....

(أ) التخوم

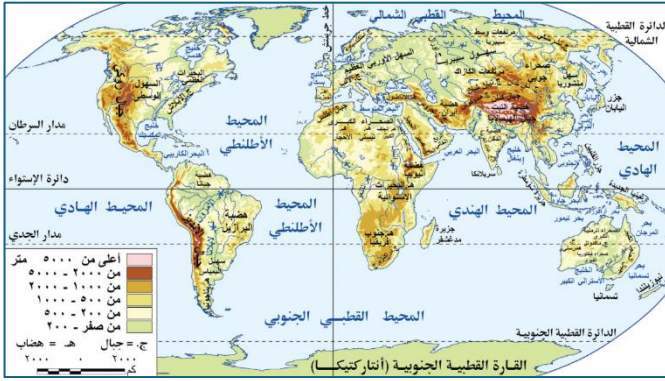
(ب) الحدود الجبلية

(ج) الحدود النهرية

(د) البحيرات

18- أمامك خريطة العالم ادرسها جيداً ثم استنتج :

تمثل جبال الأنديز حدًا بين شيلي والأرجنتين ، وهو ما يتشابه مع اتجاه الحدود الجبلية



بين دولتي.....،.....

(أ) الهند والصين

(ب) فرنسا وإسبانيا

(ج) ايران والعراق

(د) سوريا وتركيا

19- يمكن للدولة أن تتبادل ثقافيا مع الدول الأخرى وتحافظ على هويتها عن طريق .....

(أ) الحدود

(ب) التخوم

(ج) العولمة

(د) القوميات

20- يتم الاعتماد على المصادر التاريخية مثل ( كتابات الجغرافيين - الخرائط القديمة - تقرير بالتغيرات الديموغرافية ) عند ترسيم الحدود.

في ضوء العبارة استنتج

ينطبق مضمون العبارة السابقة عند ترسيم الحدود السياسية في المرحلتين .....

أ) الأولى والثانية

ب) الثانية والثالثة

ج) الثالثة والرابعة

د) الأولى والرابعة

21- عمل حلف الناتو والأمم المتحدة معًا في ليبيا لتعزيز الأمن والاستقرار وتقديم المساعدات وهو ما يتشابه مع دورهم في دولة.....

أ) كرواتيا

ب) البوسنة

ج) مقدونيا

د) باكستان

22- أمامك خريطة لدولة اليابان ادرسها جيدًا ثم استنتج :

تعرضت اليابان لإعصار هاجبييس عام 2019م وتسبب في أضرار وخسائر كبيرة فمن المتوقع أن أكثر الجزر تأثرًا به من الناحية المورفولوجية جزيرة .....

أ) هوكايدو

ب) هنشو

ج) شيكوكو

د) كيوشو



23- العامل المشترك بين الحدود الهندسية والنزاعات السياسية المترتبة على حركة الرعاة على الحدود أن كلاهما مرتبط بـ.

(أ) إغفال التوزيع المكاني للقبائل

(ب) النمو السكاني

(ج) تحويل أراضي الرعي إلى أراضي زراعية

(د) التغيرات المناخية

24- تشابهت العوامل المؤثرة على مستقبل خريطة العالم السياسية مع خصائص النظام العالمي الجديد من خلال .....

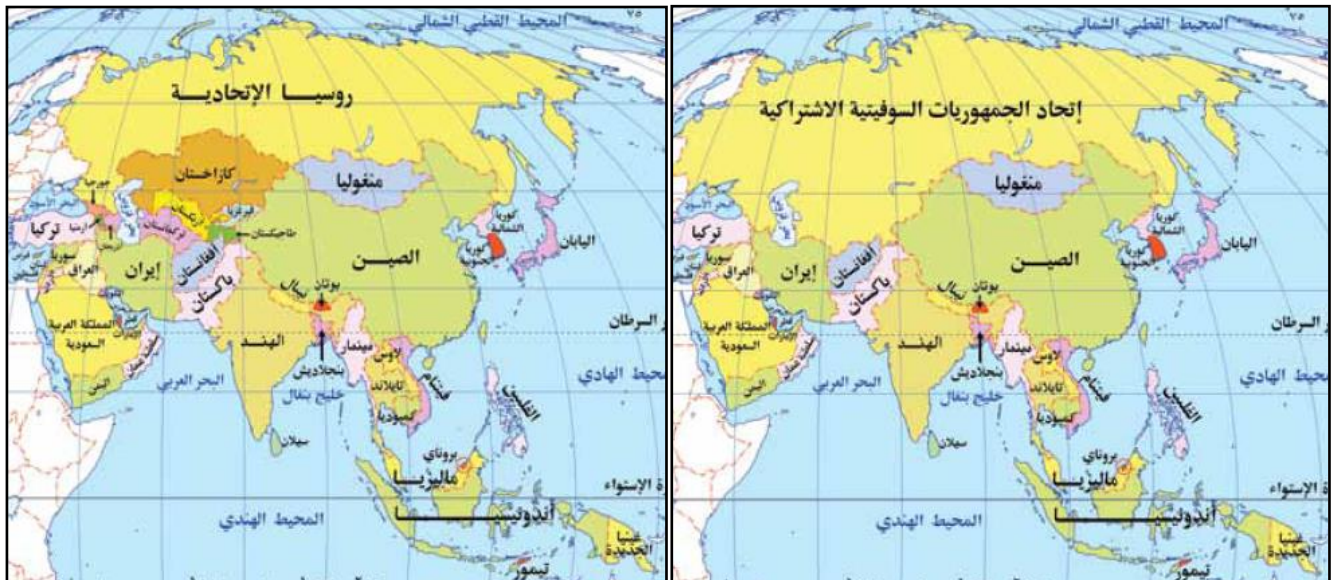
(أ) زيادة دور السيادة الوطنية

(ب) الشركات متعددة الجنسيات

(ج) تحرير التجارة العالمية

(د) تدويل القضايا والمشاكل

25- ادرس الخريطتان التي أمامك ثم استنتج :



شهدت منطقة بحر قزوين .....

أ) تناقص عدد دول قارة اسيا

ب) تناقص عدد دول شمال بحر قزوين

ج) تزايد عدد دول قارة اسيا

د) تزايد عدد دول جنوب بحر قزوين

26- أمامك خريطة توزيع السكان اقرأها جيدا ثم استنتج



يظهر الأثر السلبي لتوزيع السكان على الاستفادة من .....

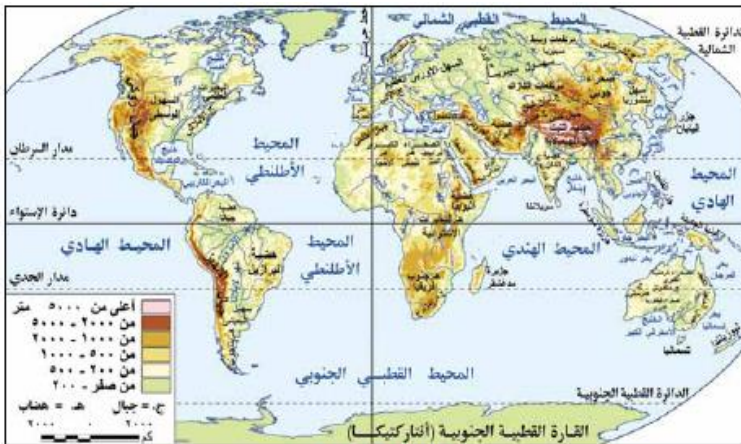
أ) المساحة

ب) الموقع

ج) الشكل

د) التضاريس

27- امامك خريطة لتضاريس العالم ادرسها جيدا ثم اختر



تتسم المناطق الواقعة جنوب غرب الصين بـ...

أ) الامتزاج الثقافي والحماية والدفاع

ب) وفرة المعادن والحماية والدفاع

ج) سهولة الاتصال ووفرة المعادن

د) الامتزاج الثقافي وسهولة الاتصال

28- ((أعلنت اليونان تعيين رئيس الدولة من قبل البرلمان بينما يتولي رئيس الوزراء رئاسة الحكومة فعليا))

في ضوء العبارة استنتج

يتشابه نظام الحكم في اليونان مع دولة .....

أ) فرنسا

ب) مصر

ج) الولايات المتحدة

د) المملكة المتحدة

29- أمامك خريطة طبيعية للوطن العربي ادرسها جيدا ثم استنتج:

أثر الامتداد الجغرافي لجبال البحر الأحمر سلباً على الجانب .....



أ) الاقتصادي

ب) الاجتماعي

ج) العسكري

د) السياسي

30- العامل الاكثر تأثيرا في حدوث نزاعات سياسية دولية .....

أ) وفرة الثروات الطبيعية

ب) وفرة حجم سكاني

ج) تنوع المناخ

د) تنوع التضاريس

31- في حال أصبحت كشمير وحدة سياسية مستقلة فإن ذلك يتفق مع أفكار .....

أ) أرسطو

ب) كيلين

ج) سيجفريد

د) راتزل

32- يؤثر المقوم الجغرافي لدول التكتل الاقتصادي على المقومات .....

أ) الاقتصادية والاجتماعية

ب) البيئية والاقتصادية

ج) السياسية والعسكرية

د) الاجتماعية والعسكرية

33- رغم التباعد الجغرافي بين دول تكتل الأبيك إلا أنه يعد تكتلاً مؤثراً لوجود عامل مشترك وهو .....

أ) التشابه السياسي

ب) التنوع الاقتصادي

ج) التحالف العسكري

د) التقارب التكنولوجي

34- أمة تفتقد للسلطة المطلقة واستفادت من المادة 27 من القانون الدولي وساعدتها الطبيعة الجغرافية تتمثل

في .....

أ) الأكراد

ب) المقدونيين

ج) النمساويين

د) البولنديين

35- (( كانت ندرة الموارد وزيادة الطلب عليها في ظل التغيرات المناخية الأخيرة سببًا في بعض النزاعات بين الدول))

تنطبق العبارة السابقة على مشكلة .....

أ) كشمير

ب) سبتة ومليلة

ج) القبائل الرعوية

د) الباسك

36- أحد اهتمامات جغرافية الانتخابات ويتم دراستها من خلال تتبع عملية الاقتراع .....

أ) الظروف الاقتصادية للناخبين

ب) توزيع الدوائر الانتخابية

ج) التباين المكاني للتصويت

د) أثر البيئة على الانتخابات

37- من المشكلات الاقتصادية التي تؤثر على مستقبل خريطة العالم السياسية مشكلة .....

أ) اللاجئين

ب) الصراع على المياه

ج) الأقليات

د) الهجرة غير الشرعية

38- يرجع تعدد العلاقات الدولية لدولة المغرب إلى .....

أ) الموقع الجغرافي

ب) المساحة الكبيرة

ج) القوة العسكرية

د) الحجم السكاني

39- (( حدث صراع بين الهند وباكستان انتهى بتدخل الاتحاد السوفيتي سابقا لإنهاءها عام 1965 م ))

فى ضوء العبارة استنتج

تم حل النزاع بين الهند وباكستان عن طريق .....

أ) المفاوضات

ب) الوساطة

ج) الوفاق

د) التحكيم

40- تتشابه الحدود بين الولايات المتحدة الأمريكية وكندا مع الحدود بين الولايات المتحدة والمكسيك من

حيث.....

أ) التقسيم على أساس المنتصف

ب) رسمها على خطوط الطول

ج) التقسيم على خط العمق

د) التأثير بعوامل التعرية

41- أخذت العلاقات الدولية فترة تكوين الامبراطوريات شكل ....

أ) الحرب والسلام

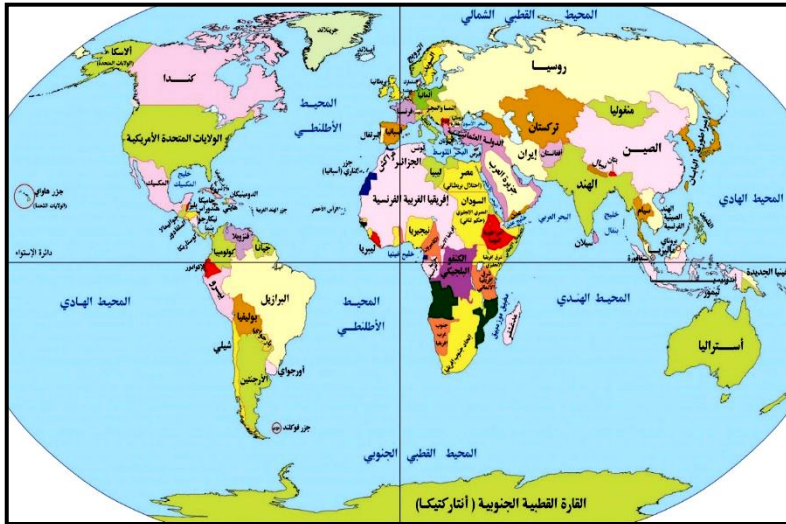
ب) تعدد العلاقات

ج) تشعب العلاقات

د) التحكيم والتمثيل الدبلوماسي

42- أمامك خريطة العالم السياسية قبل الحرب العالمية الأولى ادرسها جيدا ثم استنتج

القارتان اللتان استقرت حدودهما السياسية في العصر الحديث ولم تتأثر بالاستعمار هما.....



- أ) استراليا وأمريكا الشمالية
- ب) أفريقيا وأمريكا الجنوبية
- ج) آسيا وأمريكا الجنوبية
- د) أوروبا وأمريكا الشمالية

43- أي من الدول الأتية أزلت غاباتها نتيجة زيادة سكانها وكانت الطبيعة حجر عثرة لوحدة سكانها .....

- أ) فرنسا
- ب) إسبانيا
- ج) بريطانيا
- د) إيطاليا

44- دول شاركت في التسلح الجماعي وأخري فضلت التسلح المنفرد هي .....

- أ) تشيكوسلوفاكيا (سابقا )
- ب) ألبانيا
- ج) ألمانيا
- د) يوغسلافيا

45- دلل على صدق العبارة

توجد علاقة بين منظمة الأمم المتحدة وإرساء قواعد السلام في بعض الدول النامية .

.....  
.....  
.....  
**46- ماذا تتوقع أن يحدث إذا : تم إجراء استفتاء في إقليم كشمير ؟**  
.....  
.....  
.....

النماذج الاسترشادية لمادة الجغرافيا  
الصف الثالث الثانوي  
النموذج الثامن

1- (توفر نظم المعلومات الجغرافية بيانات دقيقة وخرائط حديثة في حل النزاع سلمياً )  
في ضوء العبارة السابقة استنتج  
استفادات دول جنوب غرب آسيا في حل بعض المشكلات السياسية من هذه التقنية في مرحلة .....

أ- التخطيط والتعريف

ب- التحديد على الخريطة

ج- التعيين في الطبيعة

د- إدارة الحد السياسي

2- أي مما يلي يمكن تصنيفه ضمن مجال التحليل السياسي للقوة ؟

أ- التنافس الاقتصادي بين الصين والولايات المتحدة

ب- خروج بريطانيا من الاتحاد الأوروبي

ج- دخول فنلندا كعضو في حلف الناتو

د- انتشار الشركات متعددة الجنسيات

3- ادرس الخريطة ثم استنتج

حال نجاح الأقلية اللغوية في الوطن العربي في الاستقلال فمن المتوقع تناقص عدد الدول المجاورة لدولة ....

أ- سوريا

ب- تركيا

ج- العراق

د- إيران



4- بعد نجاح مؤتمر السلام في شرم الشيخ انطلقت مصر نحو إعمار غزة بالاعتماد على تقنية .....

أ- نظم المعلومات الجغرافية

ب- الاستشعار من بعد

ج- عمليات المسح الميداني

د- تكنولوجيا المعلومات

5- ادرس الخريطة ثم استنتج

أى المناطق التالية تعاني من

مشكلة اجتماعية واقتصادية

ذات بعد سياسي ؟

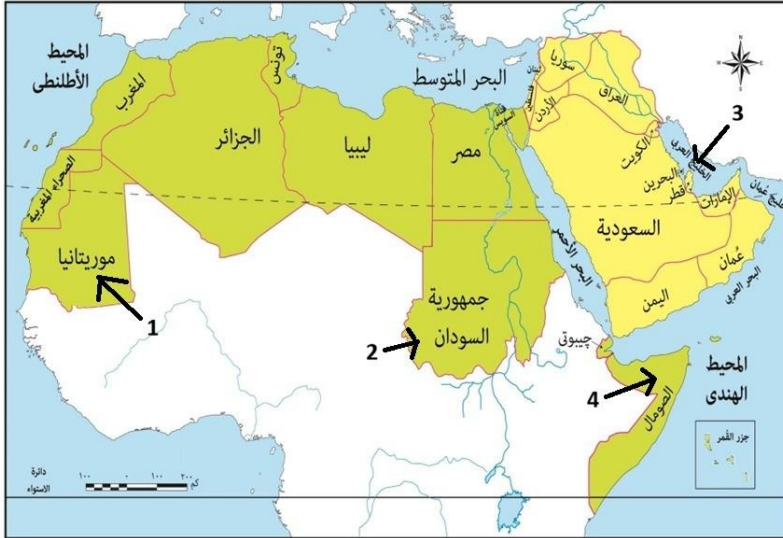
المنطقة المشار اليها بالرقم ....

أ- 1

ب- 2

ج- 3

د- 4



6- ادرس الخريطة ثم استنتج

يقع أقل عدد من التكتلات الاقتصادية

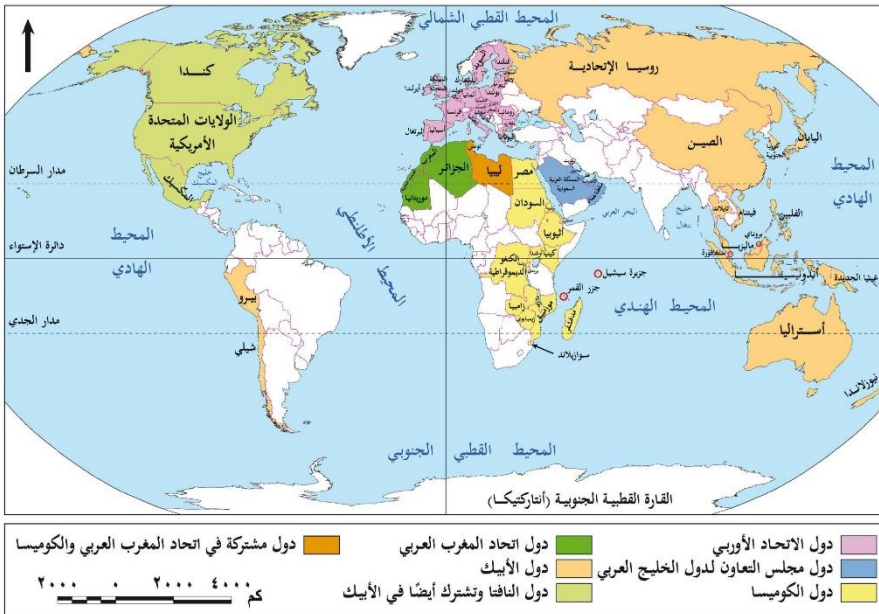
على خريطة العالم في الربع .....

أ- الجنوبي الشرقي

ب- الجنوبي الغربي

ج- الشمال الشرقي

د- الشمال الغربي



خريطة التكتلات الاقتصادية العالمية

7- تستطيع الدولة (س) عقد اتفاقيات سياسية واقتصاديته متوازنة تراعي مصالحها

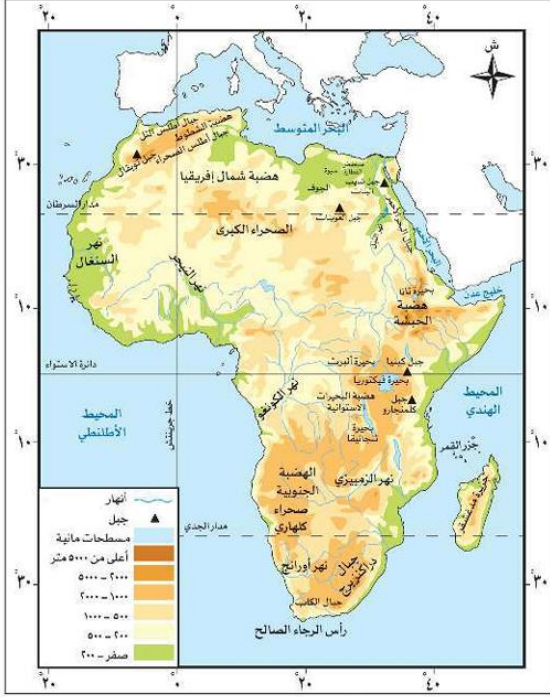
تعبّر العبارة السابقة عن أحد مراحل دورة الحياة للدولة لابن خلدون وهي مرحلة.....

أ- النشأة

ب- الشباب

ج- النضج

د- الإضمحلال



8- أمامك خريطة لقارة أفريقيا الطبيعية ادرسها ثم إستنتج أي المناطق التالية تزداد أهميتها بفضل الظهير الساحلي ؟

سواحل .....

أ- بلاد المغرب العربي

ب- غرب البحر الأحمر

ج- غرب أفريقيا

د- جنوب أفريقيا

9- (روسيا القيصرية - الإتحاد السوفيتي - روسيا الإتحادية )

دول تنتمي لفترات زمنية مختلفة إلا أن جميعها لها حدود سياسية مشتركة مع .....

أ- تركيا بريا

ب- بولندا

ج- أفغانستان

د- النرويج

10- ( قد يكون للمقوم الطبيعي للدولة أثر سلبي مما يجعلها لقمة سائغة وقت الخطر )

أقرب الدول التي تنطبق عليها العبارة السابقة هي .....

أ- موريتانيا

ب- سيراليون

ج- مالي

د- النيجر

11- أي المناطق التالية تمتلك ممرات استراتيجية جبلية بريا تمكنها من التحكم في طرق التجارة .....

أ- شرق هولندا

ب- شمال بلجيكا

- ج- جنوب ألمانيا  
د- غرب لوكسمبورج

12- ظهر أثر المعيار القومى فى اختيار الحدود السياسية بمنطقة .....

- أ- شمال شيلى  
ب- غرب تشاد  
ج- جنوب نامبيا  
د- شرق سويسرا

13-(تساعد المقومات الطبيعية على الامتزاج السكاني )

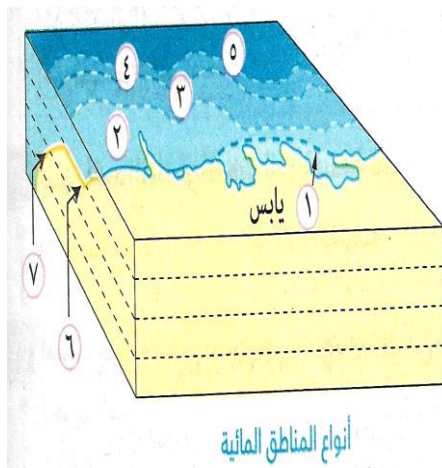
تنطبق العبارة السابقة على أي من المناطق الآتية ؟

- أ- شرق ألمانيا  
ب- شمال أسبانيا  
ج- غرب السويد  
د- جنوب فرنسا

14- عند الاتجاه من خط الساحل نحو البحر فإن المياه التى تسبق المياه

التكميلية مباشرة تتميز بـ.....

- أ- السيادة المطلقة للدولة عليها  
ب- أنها جزء من يابس الدولة  
ج- ادعاء بعض الدول السيادة عليها  
د- أنها مشروطة السيادة عليها



15- " عقد الملك رمسيس الثانى مع ملك الحيثيين معاهدة لتنظيم مبادئ الحرب والسلم "

فى ضوء العبارة استنتج

تميزت المناطق الفاصلة بين الدول في تلك الفترة بأنها .....

أ- مناطق ممسوحة

ب- قابلة للنقل والحركة

ج- ظاهرة قانونية

د- ظاهرة جغرافية

16- ( تؤثر البيئة الطبيعية في الأنشطة الاقتصادية التي يمارسها الإنسان )

تعبّر السابقة عن أفكار أحد العلماء .....

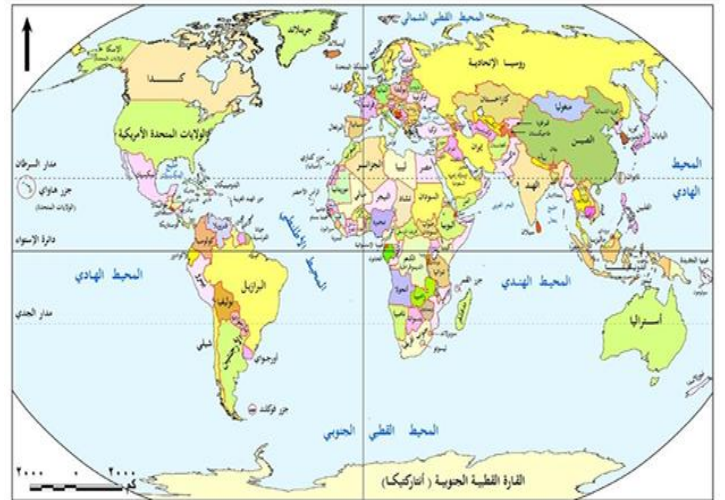
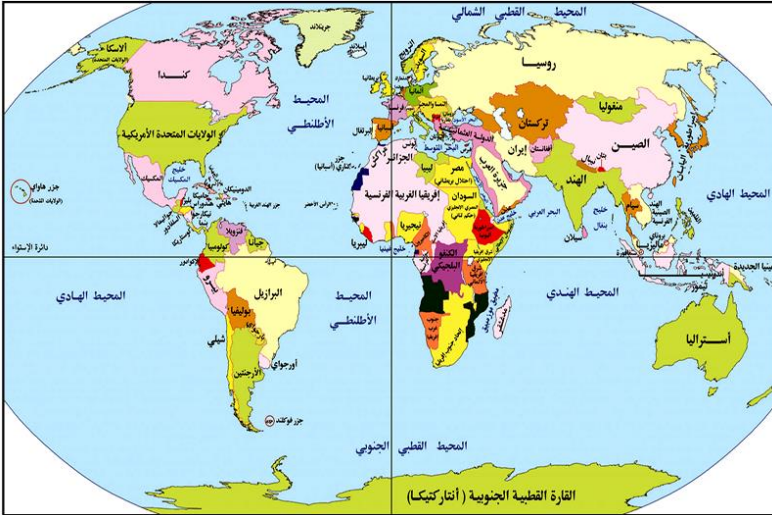
أ- الألمان

ب- العرب

ج- اليونان

د- السويد

17- ادرس الخريطين ثم استنتج



( لعب الإستعمار دوراً في رسم الحدود السياسية بين الدول )

في ضوء العبارة استنتج

الدول الأوروبية التي أسهمت في رسم الحدود السياسية بين تنزانيا وكينيا هي .....

أ- ألمانيا وبلجيكا

ب- بريطانيا وفرنسا

ج- بريطانيا وألمانيا

د- إيطاليا وهولندا

18- ( شاركت مصر في مبادرة إسكات البنادق عام 2020 على مستوى قارة أفريقيا )

تتشابه العبارة السابقة مع اتفاقية تم تطبيقها على خريطة العالم السياسية في الربع ...

- أ- الشمال الشرقي  
ب- الشمال الغربي  
ج- الجنوب الشرقي  
د- الجنوب الغربي

19- ادرس الجدول ثم استنتج

المدينة	العاصمة	موقع العاصمة	تصنيف العاصمة
س	الحالية	نهريّة	قديمة
ص	الحاليه	ساحلية	مستحدثة

الرمز (س وص ) يمثلان مدينتين على الترتيب هما .....

- أ- القاهرة ونواكشوط  
ب- طوكيو والقاهرة  
ج- باريس و طوكيو  
د- روما وللاجوس

20- التقطت الأقمار الصناعية سفينة تقف عند مسافة 12 ميلا بحريا من خط الساحل ، وبذلك فإنها تقف بين .....

- أ- المياه الاقليمية والمياه الدولية  
ب- خط الساحل وبداية الحد البحرى  
ج- المياه الداخلية والمياه الإقليميه  
د- الحافة الداخلية للمياه الإقليمية والتكميلية

21- (الانتخابات هي الأداة الديمقراطية لعملية الاختيار )

أى ممايلى يتفق مع العبارة السابقة ؟

- أ- الهيئة الإدارية المركزية لمجلس التعاون لدول الخليج العربي  
ب- رأس الأمانة العامة فى مجلس التعاون لدل الخليج  
ج- الأمناء المساعدين فى المجلس الوزارى  
د- البرلمان الأوربي كمؤسسة بتكتل اقتصادي

22- ادرس الخريطة ثم استنتج:

الدولة الأشد عمقًا والتي لا تستطيع الإتصال بالبحر الأسود إلا بالمرور في أرض عدة دول .....



- أ- سلوفاكيا
- ب- المجر
- ج- النمسا
- د- بيلاروسيا

23- هناك علاقة تأثير وتأثر بين مساحة المراعى والأراضى الزراعية مما يؤثر سلبيًا على مساحة الأراضى الرعوية داخل الدولة الواحدة ، يرجع ذلك للعامل .....

- أ- الإقتصادي
- ب- الديموغرافى
- ج- السياسى
- د- العقائدى

24- يظهر استبقاء فاعلية الحد البحرى للدولة فى .....

- أ- نهاية المياه الاقليمية
- ب- نهاية المياه التكميلية
- ج- بدايه المياه الداخلية
- د- بدايه المياه المحايدة

25- أكثر العوامل الجغرافية التى أثرت سلبا على خريطة جنوب أوروبا هو .....

- أ- سباق التسلح
- ب- الصراع على المياه العذبة
- ج- الهجرات غير الرسمية
- د- البنك الدولى

26- أحد المقومات الطبيعية المؤثرة فى العلاقات الدولية لدولتى جيبوتى وإيطاليا هو .....

- أ- الموقع الإستراتيجى
- ب- العامل المورفولوجى
- ج- المظهر التضاريسى
- د- العامل الإقتصادى



ب- الألبانية

أ- الروسية

ج- الصربية

ب- المقدونية

31- ( تركيا - إيطاليا - إيران - سوريا ) دول تنتمي لقارتين مختلفتين إلا إنهم .....

أ- يتشابهان في نوع الأقلية الموجودة بهما

ب- يتشابهان في شكل الدولة جغرافيا

ج- يتطابقان في عدد الوجهات البحرية

د- يختلفان في نوع الاقلية الموجودة بهما

32- الدافع الرئيسي لإنشاء الإتحاد الجمركي للمنظمة السياسية والاقتصادية الإقليمية في جنوب غرب آسيا هو .....

ب- زيادة وارداتها من السلع المختلفة

أ- زيادة صادراتها من السلع المختلفة

د- إهتمامهم بالصناعات البترولية ومشتقاتها

ج- كون الميزان التجارى فى صالحها

33- أى من الخصائص السكانية المؤثرة فى تحديد من لهم حق التصويت فى الإنتخابات البرلمانية ....

ب- الجوانب الحضارية

أ- الحالة التعليمية

د- التركيب العمرى

ج- التركيب النوعى

34- (الكونجرس الأمريكى - مجلس العموم البريطانى - مجلس النواب المصرى) كيانات تعبر عن .....

ب- النظام السياسى المجتمعى

أ- النظام السياسى المؤسسى

د- عناصر القوة المورفولوجية

ج- عناصر القوة العسكرية

35- ( الأنهار الدولية نعمة للدول الداخلية )

تمكنت بعض الدول من استغلال ذلك من خلال .....

ب- اتفاقية برشلونة

أ- مؤتمر الصلح بباريس

د- اتفاقية الهدنة

ج- معاهدة ماسترخيت

36- إذا أرادت جميع دول حوض النيل توقيع إتفاقيات بشأن تنظيم حركة الرعاة فإن ذلك يكون مع دول .....

أ- خارج تجمع دول غرب أفريقيا

ب- تنتمى لتجمع دول غرب أفريقيا

ج- خارج السوق المشتركة لشرق أفريقيا

د- تنتمى للسوق المشتركة لشرق أفريقيا

37- في ضوء ما درست يوجد على المسرح العالمي حركات إجتماعية مناهضة للتفرقة العنصرية وحركات قومية انفصالية

تتوقع أن يكون أقل نشاط لهذه الحركات فى دولة .....

- أ- إيطاليا  
ب- تركيا  
ج- الولايات المتحدة  
د- اليابان

38- أى العبارات التالية تعبر عن تشعب العلاقات الدولية بين دول العالم ؟

- أ- عقد معاهدة سلام بين الملك الفرعونى ومع ملك الحيثيين  
ب- سيطرة دول أوربا على شمال أفريقيا للحصول على المواد الخام  
ج- إعتبار سوريا منطقة صراع لممالك الفرس والروم  
د- إرسال مصر مساعدات طبية للصين فى بداية أزمة كورونا

39- ينطبق مفهوم الأمة على منظمات إقليمية تقع فى .....

- أ- شرق الخليج العربي  
ب- غرب البحر الأحمر  
ج- شمال البحر المتوسط  
د- غرب الخليج العربي

40- شهد الجزء الجنوبي لقارة آسيا زيادة فى عدد الدول نتيجة .....

- أ- تفكك الإتحاد السوفيتى  
ب- تنمية المناطق الهامشية  
ج- تصفية الاستعمار  
د- تدخل عصبة الأمم

41- يحدد الحد السياسي للدولة سيادتها على الموارد السطحية والباطنية والبحرية "

فى ضوء العبارة استنتج

تنطبق العبارة كاملا على العديد من الدول منها .....

- أ- العراق  
ب- أوغندا  
ج- بوليفيا  
د- أفغانستان

42- يرجع نجاح الدولة المصرية فى إقامت حفل افتتاح المتحف المصرى الكبير إلى القوة .....

- أ- المورفولوجية  
ب- التنظيمية  
ج- العسكرية  
د- الاقتصادية

43- يصنف الاتحاد السوفيتى السابق حسب النظام السياسى والإدارى على أنه.....

- أ- دولة وحدوية  
ب- اتحاد فيدرالى  
ج- اتحاد كونفدرالى  
د- دولة مركزية

44- تصور أن قارة أفريقيا دولة واحدة فإن شكلها سيكون دولة .....

- أ- مندمجة برية بحرية  
ب- شريطية مجزأة بحرية  
ج- برية بحرية مجزأة  
د- منتظمة مندمجة ب بروز

#### الأسئلة المقالية

45- حدد الأثر الناتج عن انقسام تشيكوسلوفاكيا بالنسبة لدولتي بولندا والنمسا

.....

.....

.....

.....

46- أيد صحة العبارة مع التطبيق بمثال

ساهمت طبيعة العلاقات الدولية وقت السلم فى حل المشكلات

.....

.....

.....

.....



## النماذج الاسترشادية لمادة الجغرافيا

### الصف الثالث الثانوي

#### النموذج التاسع

1- ( تدرس التنظيم السياسي الداخلي للدولة " ، تهتم بالإمتزاج الديموغرافي " )

نستنتج أن العبارتان تمثلان على الترتيب افكار علمي.....

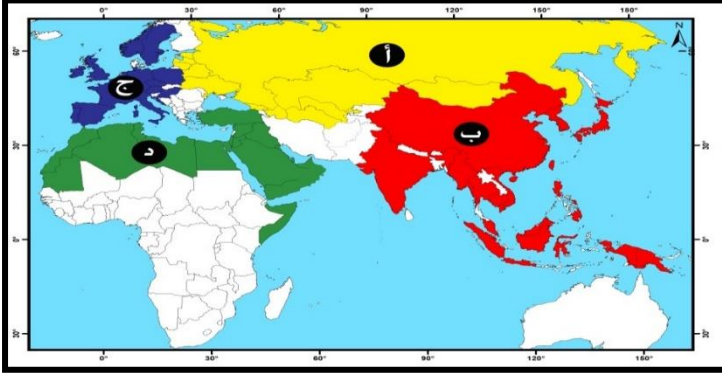
- أ- الجيوبولوتيك والجغرافيا السياسية  
ب - الجغرافيا السياسية والجيوبولوتيك  
ج - الحدود السياسية والجيوبولوتيك  
د- الجيوبولوتيك والحدود السياسية

2- يتم دراسة علاقات الدولة الخارجية ومواردها ذات العائد من خلال مجال .....

- أ - المشكلات السياسية  
ب- التحليل السياسي للقوة  
ج- الدولة كوحدة سياسية  
د- العلاقات الدولية

3- ادرس الخريطة ثم استنتج:

توجد مجموعة دول سعت للحصول على مكانة بالساحة الدولية من خلال النظام العالمي الجديد يرمز لها بالرمز ....



أ - ( أ )

ب- ( ب )

ج- ( ج )

د- ( د )

4- توجد علاقة بين الطبيعة البحرية على أطراف الدولة وافكار العالم.....

أ - أرسطو

ب- ابن خلدون

ج- كلين

د- رانتزل

5- يتضح من تحليل نظم المعلومات للشكل

المقابل انه يمثل منطقة نواة حدودية بين

دولتي.....

أ- ألمانيا وفرنسا

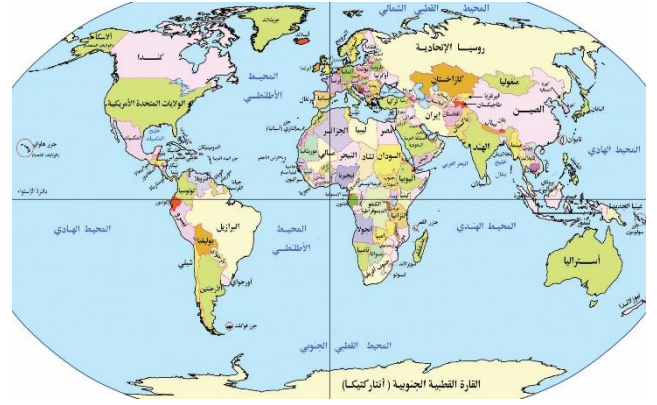
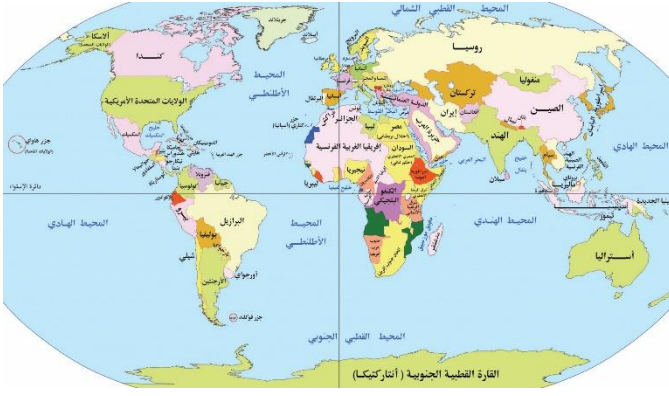
ب- كندا والولايات المتحدة

ج- فرنسا وأسبانيا

د- الولايات المتحدة والمكسيك



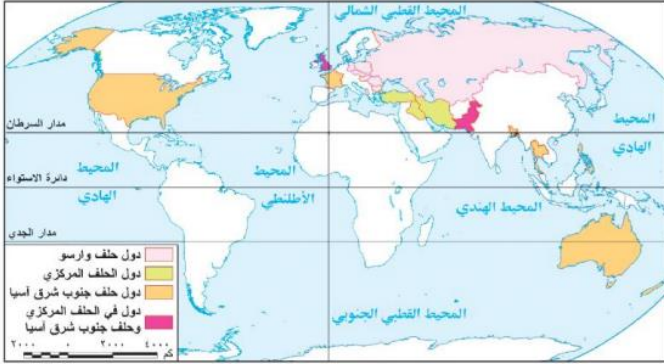
## 6- ادرس الخريطة التي أمامك ثم استنتج



يتشابه شكل امبراطورية النمسا والمجر مع شكل دولة تواجه مشكلات في ظل النظام العالمي الجديد .....

- ب- هجرة وافدة
- د- نزاعات داخلية

- أ- هجرة الرعاة
- ج- أحلاف عسكرية



7- ادرس خريطة الأحلاف العسكرية ثم استنتج:  
دولة كانت عضو في حلفين عسكريين بالعالم القديم

- أ- إيران
- ب- باكستان
- ج- بنجلاديش
- د- العراق

8- بالاستعانة بخريطة إفريقيا " تتمتع دول العالم بحريتها في المياه الدولية، وتمارس سيادتها المطلقة في مياهها الإقليمية "

في ضوء العبارة استنتج  
تنتهي السيادة القانونية المطلقة عند الحافة الخارجية للمياه الإقليمية على الحدود الغربية لدولة...

- ب- نيجيريا
- د- الجابون

- أ- موزمبيق
- ج- تنزانيا



9- (أكدت اتفاقية المياه الإقليمية بالأمم المتحدة حسب قانون البحار (1982) سيادة الدولة على 12 ميلاً بحرياً والحقوق في المناطق البحرية الأخرى)

في ضوء العبارة استنتج

الدولتان التي يمكن أن تمدا سيادتهما أكثر 12 ميلاً بحرياً هما.....

- أ- اليابان والارجنتين  
ب- الصين والامارات  
ج- فرنسا والنمسا  
د- شيلي وبوليفيا

10- (تتعدد العوامل الطبيعية التي تؤثر على قوة الدولة ومنها الشكل)

في ضوء العبارة استنتج

- أقرب الدول تحقيقاً للاكتفاء الذاتي من الغذاء هي الدول التي يغلب عليها الشكل.....
- أ- المندمج ذو البروز  
ب- الشريطي العرضي  
ج- الشريطي الطولي  
د- البحري المجزأ

11- أدى تصاعد النزاعات في الشرق الأوسط إلى.....

- أ - تراجع أهمية الموقع الجغرافي للمنطقة  
ب - تراجع أهمية الممرات الاستراتيجية بالمنطقة  
ج- زيادة المخاوف المتعلقة بأمن الطاقة العالمي  
د- استقرار أسواق الطاقة العالمية

12- تتميز الأمة عن الدولة في بعض السمات تتمثل في أي من العبارات التالية ؟

- أ- كيان سياسي يتمتع بالسيادة على منطقة جغرافية محددة.  
ب- تقوم بتنظيم الحياة الاجتماعية والاقتصادية داخل حدودها.  
ج- تعتمد على مؤسسات لإدارة شؤون الحياة وتوفير الخدمات.  
د- امتلاكها تراث شعبي شديد الخصوصية

13- أقل أنواع الأقليات انتشاراً في العالم توجد في دولة .....

- أ- سويسرا.  
ب- إيطاليا.  
ج- الولايات المتحدة الأمريكية.  
د- روسيا الاتحادية.

14- ادرس الأشكال الآتية ثم استنتج:

أي من الأشكال التالية يمثل دولة طبيعتها الجغرافية أكثر تأثير إيجابي اقتصادي واجتماعي على قوة الدولة؟

الشكل المشار إليه بالرمز.....



ع



ل



ص



س

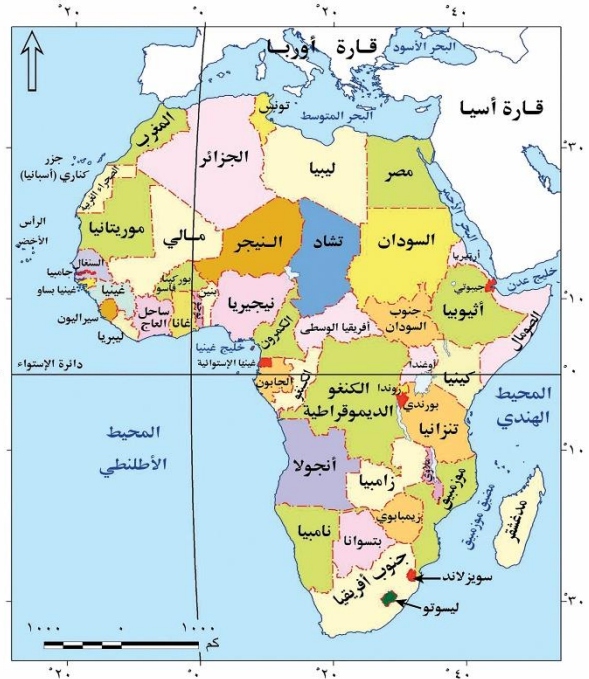
- أ- (س) ب (ص) ج- (ل) د- (ع)
- 15 استضافة مصر لمعظم مؤتمرات السلام يؤكد على قوة مصر .....
- أ- التنظيمية  
ب- المورفولوجية  
ج- الديموغرافية  
د- العسكرية
- 16- تتسم الدول التي يوجد بها مناطق نواة دينية عالمية بكونها ذات عواصم .....
- أ- ساحلية  
ب- قومية  
ج- مستحدثة  
د- داخلية
- 17- تم ترسيم الحدود السياسية في أوروبا على أساس .....
- أ- العامل التاريخي  
ب- الجانب الديني  
ج- العامل المورفولوجي  
د- الوعاء الثقافي
- 18- تتسم التخوم بصفة مورفولوجية تميزها عن الحدود السياسية تتمثل في .....
- أ- الإطار المكاني  
ب- الثبات والاستقرار  
ج- وجود الموارد  
د- البعد الزمني
- 19- (تتعدد العوامل التي أثرت على نشأة الحدود السياسية في العالم) في ضوء العبارة وضح العامل الذي أدى إلى رسم الحدود في قارة إفريقيا هو .....
- أ- العامل الطبيعي  
ب- القوى الخارجية  
ج- العامل الديموغرافي  
د- العامل الاقتصادي
- 20- انتشار الصراعات المسلحة والكوارث الطبيعية في العديد من مناطق العالم دفع الأمم المتحدة وحلف الناتو إلى إرسال مساعدات إنسانية للاجئين في .....
- أ- قرغيزستان وطاجكستان  
ب- باكستان وأفغانستان  
ج- تركمنستان وأذربيجان  
د- كازخستان وأوزبكستان
- 21- ترتفع الكثافة السكانية في غالبية الدول التي تتبع نظام الإدارة المركزية يرجع ذلك للعامل ....
- أ- الانتوغرافي  
ب- الإداري  
ج- المورفولوجي  
د- السياسي
- 22- الفكرة المحورية التي يقوم عليها النظام الرئاسي هي .....
- أ- الفصل بين السلطات  
ب- سيطرة مطلقة لرئيس الدولة  
ج- تغليب السلطة التنفيذية  
د- تغليب السلطة التشريعية

- 23- يخرج عن مفهوم النظام السياسي في صورته المؤسسية .....
- أ- وضع الموازنة العامة  
ب- ترسيم الحدود السياسية  
ج- الدخول في كتل اقتصادية  
د- استثمار المناطق الصحراوية

- 24- العوامل التي تساعد على تحقيق الامتزاج الثقافي داخل الدولة.....
- أ- المناخ والجبال.  
ب- السهول واللغة.  
ج- الجبال والبنية التحتية.  
د- الغابات والشكل المندمج.

- 25- تتشابه العراق والاردن والكونغو الديمقراطية في عدة سمات يخرج عنها
- أ- الانضمام للأحلاف العسكرية  
ب- الاتصال بالعالم دون عوائق  
ج- تقارب طول الساحل بهم  
د- خضوعهم للاستعمار الغربي

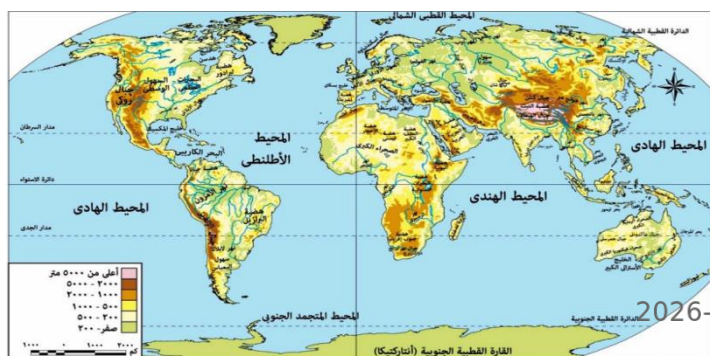
26- ادرس خريطة افريقيا الطبيعية والسياسية استنتج:



- نهر يفصل بين دولتين تنتمي احدهما لتكتل اثنوغرافي خالص هو نهر.....
- أ- النيل  
ب- السنغال  
ج- النيجر  
د- الزمبيزي

27- ادرس خريطة العالم الطبيعية ثم استنتج:  
نهران يتفكان في المصب ونوع النبات الطبيعي  
المحيط بهما، ويختلفان في الاتجاه هما نهري..

-5-



أ- النيل والنيجر

ب- دارلنج ولابلاتا

ج- الدانوب والراين

د- الكونغو والأمازون

28- تشترك دولة سويسرا في حدودها الجنوبية مع دولة.....

أ - بحرية مجزأة تحترم حقوق الانسان.

ب- برية بحرية مجزأة.

ج- وحدوية ذات نظام رئاسي.

د -حققت كل شروط كوينهاجن.

29- ادرس الخريطة ثم استنتج:

إذا استقلت كشمير عن الهند وباكستان فإن أطول

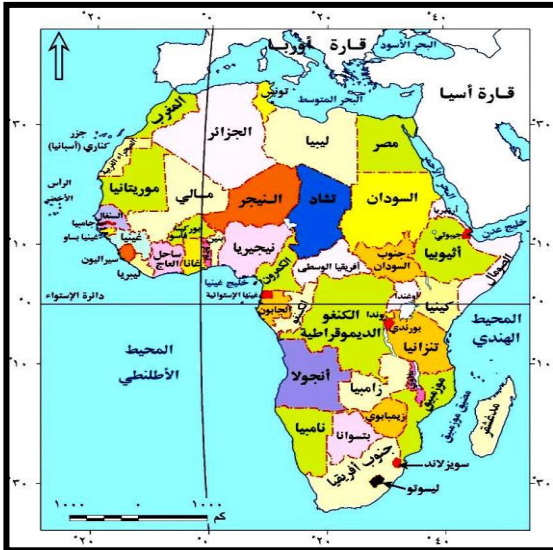
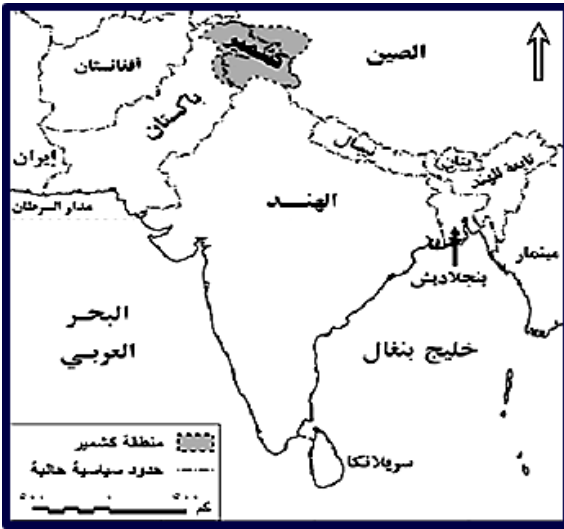
حدودها السياسية سيكون مع دولة.....

أ- تستقل إدارتها المحلية عن الحكومة المركزية.

ب- اتحادية متنوعة في الموارد والامكانات البشرية.

ج- تتسم إدارتها بالنظام اللامركزي سياسياً.

د- مركزية يسهل السيطرة عليها وقت الحرب.



30- ادرس الخريطة ثم استنتج

دولة تمر بها دائرة الاستواء

وتشرف على موقع استراتيجي.....

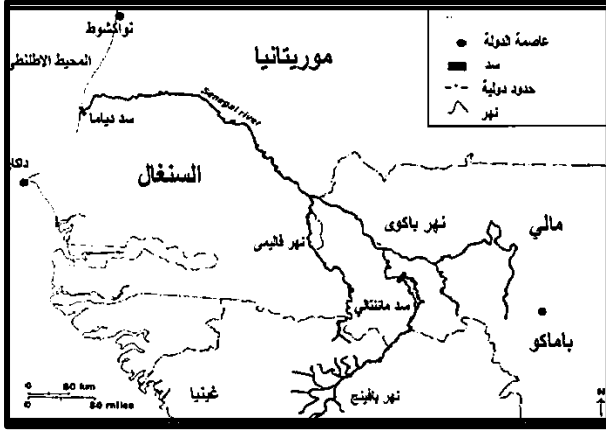
أ- كينيا

ب- الصومال

ج- الكونغو

د- أوغندا

31- باستخدام الخريطة المقابلة يعد الحد السياسي الشمالي لدولة السنغال حدًا .....



- أ- طبيعيًا قد يغير مجراه
- ب- طبيعيًا يتميز بالثبات
- ج- حضاريًا اثنوغرافيا
- د- هندسيًا فلكيًا فاصلاً

32- في ضوء ما درست استنتج من الخريطة التالية:

توجد حدود بين بعض الدول تتشابه مع ترسيم الحدود السياسية بالخريطة التي امامك بالخريطة تكثر في قارتي

.....



- أ- أمريكا الجنوبية وأوروبا.
- ب- إفريقيا وأمريكا الشمالية.
- ج- استراليا وأمريكا الجنوبية.
- د- استراليا وأوروبا.

33- حدد العبارة الأقرب لدور المساعي الحميدة في حل النزاعات وقت السلم .....

- أ - يجتمع بالأطراف لحل يلبي احتياجات الجميع.
- ب- تشكيل لجنة تقدم تقارير وتقرح حلاً للنزاع.
- ج - يصدر حكماً نهائياً ملزماً للطرفين.
- د- تدخل دولة لتقريب وجهات النظر.



34- ادرس الخريطة ثم استنتج:

تتشابه دولة بوركينا فاسو في موقعها الجغرافي وعدد الدول الحبيسة والساحلية المجاورة لها مع دولة....

- أ- أثيوبيا
- ب- تشاد
- ج- مالي
- د - النيجر

35- ادرس الخريطة ثم استنتج:

"دولة تفتقد عاصمتها للحماية والدفاع وتبعد عن حدها الشمالي 500 كم وحدها الجنوبي 700 كم وحدها الشرقي 200 كم"



تشبه هذه الدولة.....

أ- السويد

ب- إسبانيا

ج- تركيا

د- بريطانيا

36- يمكن متابعة وقائع مؤتمر شرم الشيخ للسلام من خلال تقنية .....

أ- الاستشعار من بعد.

ب- وسائل الاتصالات.

ج- نظم المعلومات الجغرافية .

د- الصور الجوية.

37- توجد عوامل اجتماعية تؤثر على مستقبل خريطة العالم السياسية تتمثل في.....

أ- مشكلة النازحون قسراً

ب- تدخل البنك الدولي

ج- الشركات متعددة الجنسيات

د- الصراع على المياه العذبة

38- تتميز الحدود السياسية عن التخوم بكونها ظاهرة.....

أ- بشرية - ثابتة- قانونية

ب- بشرية- ثابتة - ذات مساحة

ج- بشرية- متغيرة- قانونية

د- بشرية- متغيرة- ذات موارد كثيرة

39- تكاد تتطابق خصائص أحد مرحل إدارة الحد السياسي وأحد وظائف الحدود السياسية في.....

أ- الوظيفة السياسية.

ب- وظيفة الفصل بين الدول.

ج- وظيفة الحماية والأمن.

د- وظيفة الحماية الاقتصادية.

40- تتميز دولة ألمانيا وهولندا عن دولة سويسرا واليابان ب .....



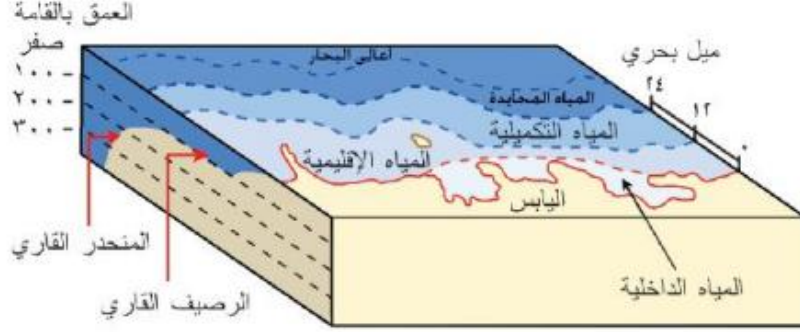
.....  
.....  
.....  
.....  
46- أيد صحة العبارة مع التطبيق بمثال:

ساهمت الامم المتحدة سياسيا في حل بعض المشكلات داخل تجمع دول المغرب العربي

.....  
.....  
.....  
.....

النماذج الاسترشادية لمادة الجغرافيا  
الصف الثالث الثانوي  
النموذج العاشر

1- نستنتج من دراسة الشكل المقابل أن المساحة الإجمالية لأرض تلك الدولة تشمل.....

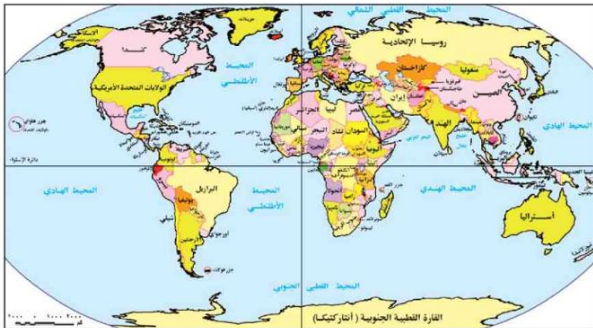


- أ- المياه الداخلية والاقليمية  
ب- اليابس والمياه التكميلية.  
ج- اليابس والمياه الداخلية  
د - المياه المحايدة والاقليمية.

2- (استطاعت اليابان أن تتخلص من عزلتها الجغرافية وأصبحت من القوى الاقتصادية الكبرى في العالم )  
تتفق العبارة مع آراء العالم ...

- أ- أرسطو  
ب- ابن خلدون  
ج- فردريك راتزل  
د- سيجفريد

3- يمكن استخدام تقنية نظم المعلومات الجغرافية في رسم الحدود المائية للدول المطلة على البحر المتوسط، حيث أنها توفر ...  
أ- مساحات تفصيلية لليابس  
ب- حصر للموارد الأرضية  
ج- الدقة والسرعة في تحديد ورسم الحدود  
د- اتفاقيات لترسيم الحدود في المضائق



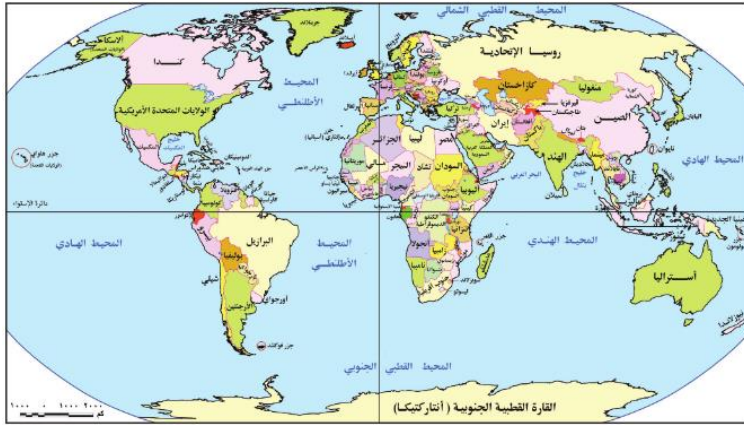
4- أمامك خريطتان ادرسهما جيدا ثم استنتج :  
يوجد تغيير في خريطة المنطقة العربية بشكل متناقض يظهر في دولتي .....

- أ- المغرب والعراق  
ب- الصومال وعمان  
ج - الجزائر وسوريا  
د- اليمن والسودان



1 -

5- ادرس خريطة العالم ثم استنتج :  
يلتقي خط جرينتش ومدار السرطان داخل تكتل اقتصادي كان يعاني من مشكلة اقتصادية هو.....



- أ - الإيكواس
- ب - المغرب العربي
- ج- الكوميسا
- د- الأتحاد الأفريقي

6- ادرس خريطة العالم ثم استنتج :  
دولة اشتركت في حلقي الناتو و جنوب شرق آسيا ، وتكتلي الأبيك والنافتا .....

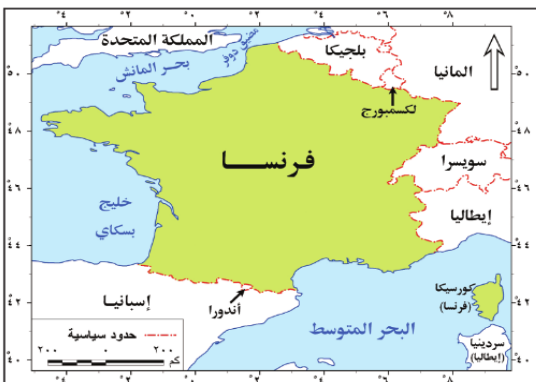
- أ- تركيا
- ب- الولايات المتحدة
- ج- فرنسا
- د- روسيا الاتحادية

7- تتمثل أقدم صور العلاقات الدولية في .....

- أ - التكتلات الاقتصادية
- ب - الشركات متعددة الجنسيات
- ج - الأحلاف العسكرية
- د - المنظمات الدولية

8- أي من المناطق الآتية يصعب بها ترسيم الحدود المائية في مصر على أساس 12 ميل بحري .....

- أ- البحر المتوسط
- ب- خليج العقبة
- ج- البحر الأحمر
- د- بحيرة ناصر



9- ادرس خريطة فرنسا ثم استنتج :  
أكثر العوامل التي ساعدت على حسن الإدارة الداخلية .....

- أ- الموقع الجغرافي.
- ب- القوة المورفولوجية .
- ج- القوة الديموغرافية.
- د- النشاط الاقتصادي.

10- ادرس خريطة نهر الراين المقابلة ثم استنتج :  
تتعدد الدول المطلة على النهر ولكن هناك دول أكثر احتياجا إلى اتفاقية الأنهار للاتصال بالعالم الخارجي

.....

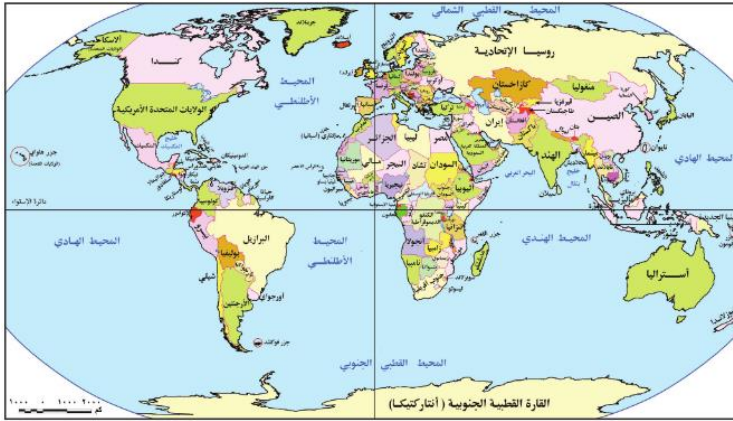


- أ- دولتان
- ب- ثلاث دول
- ج- أربعة دول
- د- خمس دول

11- يمكن للأمة العربية أن تكون وحدة سياسية إذا .....

- أ- زادت مساحات دولها
- ب- أصبحت في قارة واحدة
- ج- أصبح لها حكومة واحدة
- د- أصبح بها لغة واحدة

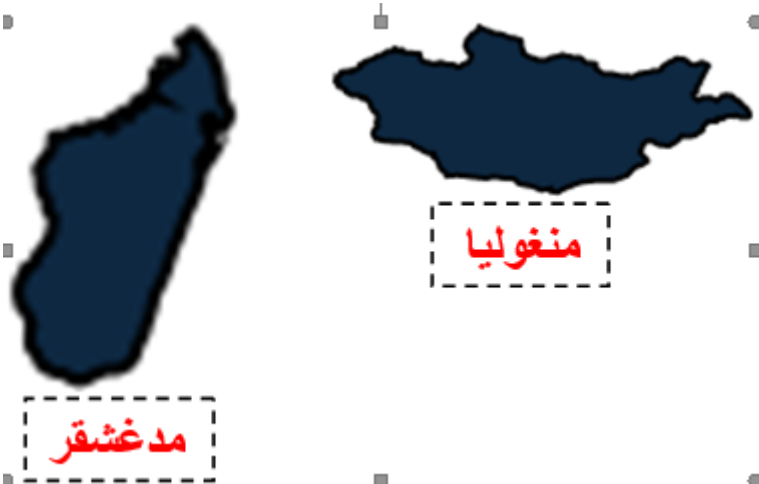
12- ادرس خريطة العالم المقابلة ثم استنتج :



تتشابه مصر مع تركيا في .....

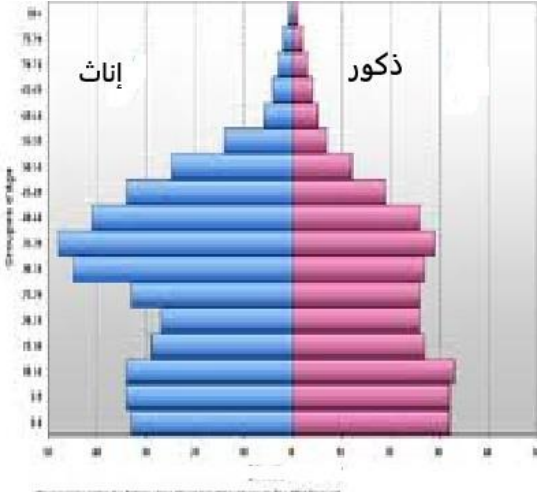
- أ- الشكل
- ب- الموقع الفلكي
- ج- الموقع المركزي
- د- عدد الجيران

13- يتضح من شكل الدولتين المقابلتين تميز مدغشقر بـ .....



- أ- سهولة الإدارة الداخلية
- ب- سهولة الاتصال الداخلي
- ج- سهولة الدفاع والمراقبة
- د- تنوع الأقاليم المناخية

14- أمامك شكل يمثل الهرم السكاني لإحدى الدول النامية :



- نستنتج من هذا الشكل .....
- أ- كثرة مساهمة المرأة في الإنتاج
  - ب- انخفاض معدلات الاعالة
  - ج- قلة مشاركة المرأة في الإنتاج
  - د- ارتفاع معدلات كبار السن

15- أمامك خريطة ادرسهما جيدا ثم استنتج :

تتشابه مدينة الخرطوم مع مدينة انقره في.....



- أ- الموقع الساحلي المميز
- ب- العمق الجغرافي
- ج- وقوعها على نهر محلي
- د- السيادة القومية

16- تتشابه الحدود السياسية الخطية من الناحية الديناميكية مع الحدود السياسية الطبيعية إذا كانت

متماشية على.....

- أ- البحار
- ب- الجبال
- ج- الأنهار
- د- البحيرات

17- تتميز المناطق الفاصلة بين دول غرب أوربا قبل ظهور الدولة القومية بأنها مناطق .....

- أ- تحدد حقوق وواجبات الدول حولها
- ب- مناطق ذات توجه داخلي
- ج- ظاهرة ديناميكية تتغير بتغير الظروف
- د- تضم ثروات حيوية نباتية وحيوانية

18- ((قامت بعض الدول بمنع دخول كتب معينة إلى داخل أراضيها))

- نستدل من مضمون العبارة علي أهمية إحدى وظائف الحدود وهي .....
- أ- الفصل بين الدول
  - ب- الحماية العسكرية
  - ج- الحماية الاقتصادية
  - د- السياسية والقانونية



19- بتحليل الصورة المقابلة نستنتج أنها

- تعبير عن أحد خصائص النظام العالمي الجديد وهو .....
- أ- تدويل المشاكل والقضايا التي يواجهها العالم
  - ب- تقلص دور السيادة الوطنية

ج- تحرير دور السيادة الوطنية

د- ظهور التكتلات الاقتصادية

20- تزايدت مشكلات الأقليات القومية في الربع الشمالي الشرقي للكرة الأرضية.....

أ- بعد الحرب العالمية الأولى

ب- مع انتهاء الحرب الباردة

ج- في بداية القرن التاسع عشر

21- التكامل الاقتصادي يساعد المستهلكين في الحصول على السلع بأقل الأسعار مما يؤدي إلى .....

أ- رفع مستوى رفاهية المواطنين

ب- تخفيف أثر الصدمات الخارجية

ج- الاستفادة من المراكز البحثية

22- (تنتشر المناطق الأفريقية التي تتعدد بها مشكلات ناتجة عن حركة الرعاة وتتعدد أسبابها)

في ضوء العبارة استنتج

الأسباب الطبيعية لهذه المشكلة تتواجد في ...

أ- شمال القارة

ب- شرق القارة

ج- غرب القارة

23- تعد من الظواهر الاجتماعية التي تعاني منها دولة الكويت...

أ- زيادة نسبة البطالة

ب- ارتفاع معدلات الإعالة

ج- هجرة العقول والكفاءات

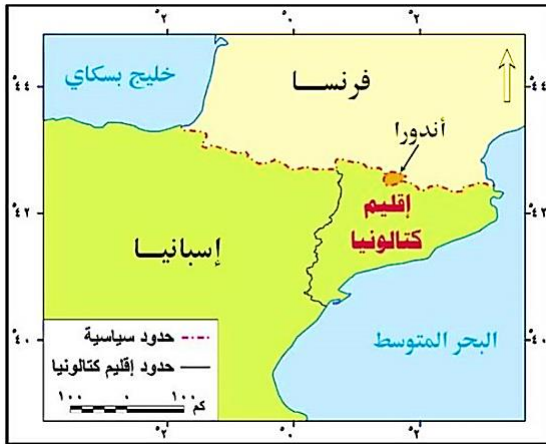
د- عدم التجانس السكاني

24- يمكن ملاحظة تركيز التغيرات في الحدود السياسية في النصف الأول من القرن العشرين في قارة

أ- أوروبا

ب- استراليا

ج- أفريقيا



25- استعن بالخريطة المقابلة ثم استنتج:

حال أصبح إقليم كتالونيا دولة مستقلة ذات سيادة فاتها ستتشابه

مع إسبانيا من حيث.....

أ- الموقع الاستراتيجي البحري

ب- عدد الدول المجاورة

ج- عدد الواجهات البحرية

د- الموقع في نصف الكرة الغربي

26- دولة استفادت من مزايا التضاريس وعانت من مشكلة اجتماعية ناتجة عن المرتفعات تقع هذه

الدولة في .....

أ- شمال أوروبا

ب- وسط أوروبا

ج - غرب أوروبا

د - شرق أوروبا

27- من الدول التي يسود فيها الملك ولا يحكم ، ويمر بها خط الطول الرئيسي ، دولة تتسم ب....  
أ- جبهة ساحلية ضيقة  
ب - الشكل المجزأ البحري

ج- الشكل الشريطي الطولي  
د- المساحة الكبيرة  
28- يعبر كل مما يأتي عن النظام السياسي في صورته الاجتماعية ويخرج عن ذلك .....  
أ- إقامة مشروعات اقتصادية  
ب- استصلاح الأراضي الصحراوية  
ج- مناقشة تقرير الحساب الختامي  
د- خطط التنمية البشرية الشاملة

29- (أجريت الانتخابات البرلمانية في مصر في شهر نوفمبر عام 2025 م) - في ضوء هذه العبارة  
وضح  
يمكن التعرف على إجمالي عدد المتقدمين في الدوائر الانتخابية في المرحلة التي تلي .....  
أ- تقسيم الدوائر  
ب- الترشح للانتخابات  
ج- اجراء الاقتراع  
د- تحديد الفائزين

30- ( تعد جغرافيا الانتخابات فرع من فروع الجغرافيا السياسية ويتأثر بمجالاتها )  
في ضوء العبارة استنتج  
كل مما يأتي من مجالات جغرافيا الانتخابات ويستثني من ذلك .....  
أ- التباين المكاني للتصويت  
ب- التحليل السياسي للقوة  
ج- دراسة الآثار الاقتصادية  
د- تغيير الظروف البشرية

31- ( يرجع نجاح الاتحاد الأوروبي إلي اعتماده علي مؤسسات متميزة تدير شئونه )  
في ضوء العبارة استنتج  
الاتحاد الأوروبي يتشابه مع الدول الفيدرالية والوحدوية الديمقراطية في .....  
أ- التمثيل النيابي  
ب- الوحدة الثقافية  
ج- النظام الدفاعي  
د- الدستور الموحد

32- (التكتل الاقتصادي هو مجموعة من الدول تجمعها مصالح اقتصادية مشتركة )  
في ضوء العبارة استنتج  
تتواجد القوة الديموجرافية الأكبر في تكتل .....  
أ- الأبيك  
ب - الكوميسا  
ب- الاتحاد الأوروبي  
د- اتحاد المغرب العربي

33- يوجد تشابه بين الدور الذي تقوم هيئة تسوية المنازعات التابعة للمجلس الأعلى لمجلس التعاون  
لدول الخليج العربي مع أحد مؤسسات الكوميسا وهو .....  
أ- لجنة الخبراء الحكوميين  
ب - وكالة الاستثمارات الإقليمية  
ج- مجلس أعمال الكوميسا  
د- مفوضية المنافسة بكوميسا

- 34- يرجع سبب النزاعات الحدودية داخل قارة أفريقيا إلى .....
- أ- المصاهرة والاندماج الاجتماعي  
ب- تقسيم الاستعمار لمستعمراته  
ج- الهجرة الداخلية بين دول القارة  
د- الصراع الداخلي والسيطرة

- 35- تختلف مظاهر التفرقة العنصرية في أفريقيا عن أمريكا الشمالية في .....
- أ- سيطرة الأغلبية على الأقلية  
ب- سيطرة الأقلية على الأغلبية  
ج- الحصول على الحقوق السياسية  
د- ثبات نوع الأقلية في القارتين

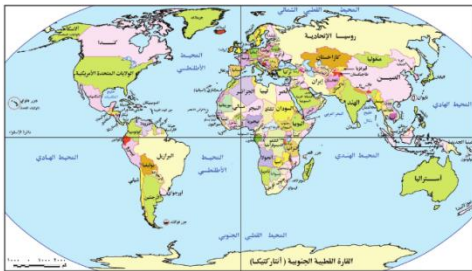
- 36- ادرس الخريطة المقابلة ثم استنتج :
- يتشابه تأثير الأقلية بالدولة الموضحة أمامك من حيث التوزيع الجغرافي مع تأثير الأقلية في دولة تقع.....



خريطة (17-2) : موقع تيمور الشرقية من أندونيسيا

- أ- شمال شرق أوروبا  
ب- جنوب أفريقيا  
ج- جنوب أمريكا الشمالية  
د- جنوب غرب أوروبا

- 37- في نهاية الألفية الثانية حدث تغير في الحدود السياسية على أساس قومي في منطقة تتواجد في ....



- أ- جنوب البحر المتوسط  
ب- شرق البحر الأدرياتي  
ج- جنوب البحر الأسود  
د- شمال البحر البلطي

- 38- العامل الأكثر تأثيرًا في توتر العلاقة بين الصين والولايات المتحدة الأمريكية وظهور ما يسمى بالحرب التجارية حاليا هو.....
- أ- التوسع الاستعماري  
ب- الموارد النادرة  
ج- الغزو الثقافي  
د- استقطاب العقول

- 39- " تتعدد أهداف الجغرافيا السياسية ويمكن تصنيفها إلى أهداف علمية وأخرى عملية تطبيقية "

في ضوء تلك العبارة وضح : أى الأهداف الآتية يمثل الجانب العملى التطبيقى .....  
 أ- وضع حلول للمشكلات السياسية  
 ب- دراسة المعوقات الطبيعية والبشرية للدولة  
 ج- دراسة سلوك الدولة السياسي  
 د- تحليل التجمعات الإقليمية والدولية  
**40- ( يعد نقص المياه العذبة أحد الأسباب في الوقت المعاصر في التوترات بين الدول )**

في ضوء العبارة استنتج  
 من الأنهار التي تثار حولها النزاعات الدولية نهر يتواجد في .....  
 أ- جنوب غرب أوربا  
 ب- وسط أمريكا الشمالية  
 ج- شرق أفريقيا  
 د- شرق آسيا

**41- ( الاستعمار كان سبباً في المشكلات الحدودية بين الهند وباكستان على إقليم كشمير )**  
 في ضوء العبارة استنتج

أنسب الحلول لحل هذه المشكلة هو ....  
 أ- ضم الإقليم للهند.  
 ب- ضم الإقليم لأفغانستان  
 ج- جعل الإقليم مشاعاً للبشرية  
 د- عمل استفتاء تقرير المصير

**42- توضح الصورة المقابلة أن لروسيا تأثير في العلاقات الدولية من خلال القوة .....**



أ- العسكرية  
 ب- الاثنوغرافية  
 ج- الاقتصادية  
 د- الديموجرافية

**43- يعد من خصائص النظام العالمي الجديد التي تتعارض مع الهدف المعلن من إنشائه أي العبارات التالية تعبر عن ذلك .....**

أ - إنهاء الحرب الأهلية في بعض الدول  
 ب- تدخل الدول الكبرى في انتخابات دولة نامية  
 ج- تدعيم دور الأمم المتحدة في حل المشكلات  
 د- ظهور الثورة الصناعية الثالثة أو المعلوماتية

**44- تمثل أحد الوسائل غير المادية في النظام العالمي الجديد للسيطرة على الدول النامية في الخريطة السياسية مستقبلاً.....**

أ- سباق التسلح  
 ب - الغزو الفكري  
 ج- التهجير القسري  
 د- الصراع الاقتصادي

الأسئلة المقالية

**45- دلل علي صدق العبارة**  
 يتشابه الدور العسكري الذي قام به حلف الناتو مع الدور الذي قامت به منظمة الأمم المتحدة.

.....  
.....  
.....

46- "هناك العديد من المقومات التي تؤدي إلى نجاح التكتلات الاقتصادية " في ضوء العبارة حدد المقومات الاقتصادية التي تؤدي لنجاح أي تكتل اقتصادي

.....  
.....  
.....