

نموذج ١١

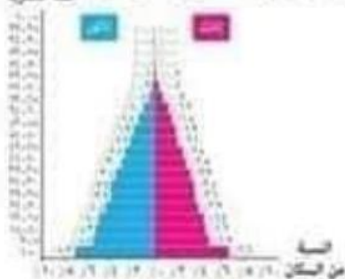

١. اختر الإجابة الصحيحة عن كل سؤال من بين الإجابات التي تليه : «شهد القرن التاسع عشر صراع بين إنجلترا وفرنسا للحصول على مستعمرات في الخارج .» تعتبر تلك العبارة تجسيداً لأفكار.....

○ كيلين ○ أرسطو. ○ أندريه سيجفريد. ○ ابن خلدون.

٢. اختر الإجابة الصحيحة عن كل سؤال من بين الإجابات التي تليه : أى من المضائق الموضحة في الخرائط التالية تتشابه في موقعها مع مضيق باس في قارة أستراليا؟.....



٣. اختر الإجابة الصحيحة عن كل سؤال من بين الإجابات التي تليه يدل على تطور الهرم السكاني التالي لدولة ما على
○ وجود هجرات نازحة.
○ تدنى الخدمات الطبية.
○ انخفاض فئة قوة العمل.
○ ضبط معدلات النمو السكاني.



(١٩٥٠م)

(٢٠١٥م)

٤. اختر الإجابة الصحيحة عن كل سؤال من بين الإجابات التي تليه : يتمثل الهدف الرئيسي للنظام السياسي في صورته الاجتماعية في.....

○ إصدار التشريعات والقوانين. ○ عقد الاتفاقيات الخارجية.

○ إجراء الاستفتاء على الدستور. ○ حسن استغلال الإمكانيات الجغرافية.

٥. اختر الإجابة الصحيحة عن كل سؤال من بين الإجابات التي تليه : شهد بداية عام ١٢٠٢م خروج إنجلترا من الاتحاد الأوروبي وقد ساعدها على ذلك.....

○ ظهور الثورة الصناعية الثالثة. ○ النظام السياسي الذي يتبعه الاتحاد الأوروبي.

○ عدم الاتصال الأرضي مع الاتحاد الأوروبي. ○ انتهاء الصراع الأيديولوجي.

٦. اختر الإجابة الصحيحة عن كل سؤال من بين الإجابات التي تليه : تتصف المناطق التي تقربها الحدود المصرية البرية بأنها.....

○ صالحة للاستيطان. ○ ذات كثافة سكانية مرتفعة.

○ فقيرة اقتصادياً. ○ ملجأ في حالة الحرب.

٧. اختر الإجابة الصحيحة عن كل سؤال من بين الإجابات التى تليه : إذا أرادت الدولة الموضحة بالخريطة المقابلة زيادة صادراتها مع دول العالم المتقدم فمن الأفضل لها تحسين علاقاتها السياسية مع دولة.....



- ليبيا.
○ الجزائر.
○ نيجيريا.
○ النيجر.



لدى إسرائيل لحدود سياسية مع دولتين متناوبتين

٨. اختر الإجابة الصحيحة عن كل سؤال من بين الإجابات التى تليه : الصورة المقابلة تمثل نتاج لمرحلتين من مراحل الحدود السياسية هما.....

- التعريف والتحديد.
○ التخطيط والتعيين.
○ التعيين وإدارة الحد.
○ التحديد والتعيين.

٩. اختر الإجابة الصحيحة عن كل سؤال من بين الإجابات التى تليه : يتشابه تكتل الناتفا مع تكتل الاتحاد الأوروبى في.....

- عدد الدول الأعضاء المشاركة فى التكتل.
○ استقبال تيارات هجرة غير شرعية.
○ وجود الاتصال الأرضى بين أعضاؤه.
○ إصدار عملة موحدة بين أعضاء التكتل.

١٠. اختر الإجابة الصحيحة عن كل سؤال من بين الإجابات التى تليه : السبب الرئيسى لظهور الأقليات في بعض دول شرق أوروبا وشمال آسيا هو.....

- إنهاء سباق التسلح.
○ فترة الاستقطاب العالمى.
○ الصراعات الدولية.
○ تفكك الكتلة الشيوعية.

١١. اختر الإجابة الصحيحة عن كل سؤال من بين الإجابات التى تليه : يفضل اتباع النظام الوجدوى في الدولة التى.....

- يتوازن فيها عدد السكان والموارد.
○ يغلب على سطحها الطابع السهلى.
○ تكون ذات شكل شريطى طولى.
○ يتميز شعبها بالتنوع الثقافى.

١٢. اختر الإجابة الصحيحة عن كل سؤال من بين الإجابات التى تليه : يرجع استقلال القرار السياسى للدولة المظللة على الخريطة المقابلة إلى قدراتها.....



- العسكرية.
○ البحرية.
○ الزراعية.
○ الديموجرافية.

١٣ . اختر الإجابة الصحيحة عن كل سؤال من بين الإجابات التى تليه : تعبر عن أحد أهداف الجغرافيا السياسية.....

- نفذ منظمة الأمم المتحدة.
○تعديل الهرم السكاني.
○تحديد أماكن التوسع العمرانى.
○زيادة القوة الصناعية للدولة.

١٤ . اختر الإجابة الصحيحة عن كل سؤال من بين الإجابات التى تليه : من خلال دراستك لخريطة الوطن العربى التالية نجد أن أكثر الدول التى يؤثر عليها المناخ بشكل سلبى هى الدولة التى تحمل الرقم.....

- (1) ○(2) ○(3) ○(4)

١٥ . اختر الإجابة الصحيحة عن كل سؤال من بين الإجابات التى تليه : تولى المرأة للمناصب السيادية داخل دولة نامية يشير إلى.....

- أهمية التركيب العمرى.
○تمتع الدولة بتجانس سكاني.
○تضاؤل الأثر السلبي للتركيب النوعى.
○القوة التنظيمية للدولة.

١٦ . اختر الإجابة الصحيحة عن كل سؤال من بين الإجابات التى تليه : يوجد ارتباط بين تحول بعض القوميات لتصبح دول وظهور.....

- الثورة الصناعية الأولى.
○الحدود الخطية.
○مناطق التخوم.
○الثورة الصناعية الثالثة.

١٧ . اختر الإجابة الصحيحة عن كل سؤال من بين الإجابات التى تليه : إذا خرجت سفينة من ميناء الإسكندرية فإنها تبخر مباشرة في المياه.....

- الإقليمية. ○الداخلية. ○الملاصقة. ○المحايدة.

١٨ . اختر الإجابة الصحيحة عن كل سؤال من بين الإجابات التى تليه : «تُعد معاهدة باريس ١٦٥٨م من أهم المعاهدات الخاصة بالأنهار» في ضوء العبارة : يكاد يندم تأثير معاهدة باريس على نهري.....

- الريوجراند والدانوب. ○الداونوب والراين.
○الريوجراند والدانوب. ○الراين والمسيبى.

١٩ . اختر الإجابة الصحيحة عن كل سؤال من بين الإجابات التى تليه : تتشابه أنظمة الحكم بين الدولتين المظلتين في الخريطة المقابلة في.....



- سلطات البرلمان.
○طريقة تعيين رئيس الدولة.
○سلطات رئيس الدولة.
○طريقة اختيار أعضاء البرلمان.

٢٠. اختر الإجابة الصحيحة عن كل سؤال من بين الإجابات التى تليه : السواحل الشمالية لدولة روسيا هى الأقل تأثيراً لـ قوتها السياسية بسبب.....

- ⊙ العامل المناخى.
⊙ الظهير الساحلى.
⊙ التركيز السكانى.
⊙ طول الساحل.

٢١. اختر الإجابة الصحيحة عن كل سؤال من بين الإجابات التى تليه : لـ ضوء دراستك لأهداف الجغرافيا السياسية يمكن توجيه نقد موضوعى لمنظمة مجلس التعاون لدول الخليج العربى متمثلاً لـ.....

- ⊙ محدودية التركيب الاقتصادى.
⊙ صغر مساحة التكتل.
⊙ خصائص سكان التكتل.
⊙ افتقار القوة العسكرية.

٢٢. اختر الإجابة الصحيحة عن كل سؤال من بين الإجابات التى تليه : تؤكد العبارة المقابلة على.....

الهنود النمر هم السكان الأصليين لغارة أمريكا الشمالية وهم من أصول مغولية أسبوية ومن المرجح قدمها عبر مضيق بيرنج منذ حوالي ثلاثة آلاف سنة.

- ⊙ تنوع اللغات.
⊙ حركة السكان.
⊙ تعدد الثقافات.
⊙ امتزاج السلالات.

٢٣. اختر الإجابة الصحيحة عن كل سؤال من بين الإجابات التى تليه لـ ضوء دراستك للخريطة المقابلة اذا اصبح هناك حدود سياسية مشتركة بين دولتى بتسوانا وانجولا فهذا معناه.....



خريطة سياسية لكنت القطنى من مادة الخريطة

- ⊙ اختفاء بروز دولة ناميبيا.
⊙ تحول بتسوانا لدولة كبيرة المساحة.
⊙ قلة عدد النول المجاورة لبتسوانا.
⊙ اختفاء دولة زامبيا.

٢٤. اختر الإجابة الصحيحة عن كل سؤال من بين الإجابات التى تليه : يسمح لاهراد دولة ما بعمل مشروعات استثمارية داخل دولة أخرى من دول التكتل بداية من مرحلة.....

- ⊙ التجارة التفضيلية.
⊙ الوحدة الاقتصادية.
⊙ الاتحاد الجمركى.
⊙ السوق المشتركة.

٢٥. اختر الإجابة الصحيحة عن كل سؤال من بين الإجابات التى تليه : تخضع جزيرة كورسيكا لنظام سياسى وادارى يجعلها.....

- ⊙ مستقلة فى نظامها التعليمى.
⊙ تابعة للعاصمة السياسية.
⊙ تختص بشئونها الداخلية.
⊙ تتفرد بالقرارات السيادية.

٢٦. اختر الإجابة الصحيحة عن كل سؤال من بين الإجابات التى تليه : بتحليل الخريطة المقابلة، يظهر أهمية دور الجغرافيين بشكل خاص لـ رسم الحدين المشار إليهما بالرقم.....



- ⊙ (2) ، (4) ⊙ (1) ، (5) ⊙ (1) ، (2) ⊙ (3) ، (5)

٢٧. اختر الإجابة الصحيحة عن كل سؤال من بين الإجابات التى تليه : أى مما يلى يمكن اعتباره أحد المتغيرات التى دفعت لظهور النظام العالمى الجديد؟.....

- زيادة حدة الاستقطاب العالمى.
○ الحفاظ على السيادة القومية للدول.
○ تدخل الأمم المتحدة فى مشكلة كشمير.
○ ظهور دول النور الآسيوية.

٨. اختر الإجابة الصحيحة عن كل سؤال من بين الإجابات التى تليه : نستنتج من العبارة المقابلة امتلاك دولة البرازيل لبعض عناصر قوة الدولة ومنها القوة.....

استخدمت الحكومة البرازيلية لعبور أزمتها الاقتصادية فى نهاية القرن العشرين مبدأ الملائمة والتشفيف وتحمل الشعب البرازيلى بنجاح أعباء تلك السياسة وعبرت أزمتها الاقتصادية.

- التنظيمية والديموقراطية.
○ الاقتصادية والديموقراطية.
○ التنظيمية والمورفولوجية.
○ الاقتصادية والمورفولوجية.

٩. اختر الإجابة الصحيحة عن كل سؤال من بين الإجابات التى تليه : تتشابه الدولتان المظللتان بالخريطين التاليين في.....



- شكل الدولة.
○ التنوع المناخى.
○ انضمامها لتكتل اقتصادى واحد.
○ وجود تعاون عسكرى بينهما.

١٠. اختر الإجابة الصحيحة عن كل سؤال من بين الإجابات التى تليه : يتشابه موقع سوريا البحرى مع موقع دولة.....

- المغرب.
○ موريتانيا.
○ كولومبيا.
○ إسبانيا.

١١. اختر الإجابة الصحيحة عن كل سؤال من بين الإجابات التى تليه : في حال موافقة المغاربة داخل سبتة ومليلة على القانون الذى أصدرته إسبانيا عام ٥٨٩١م فإن ذلك سوف يؤدي إلى.....

- تدخل المنظمات الدولية.
○ تفاقم مشكلة المغرب السياسية.
○ حل مشكلة سبتة ومليلة.
○ اعتراف إسبانيا بحقوق المغاربة.

١٢. اختر الإجابة الصحيحة عن كل سؤال من بين الإجابات التى تليه : من خلال تحليل الخريطة التى أمامك نلاحظ أن العواصم الحالية للدولتين المظلتين تشترك في.....



- العامل التاريخى وتصنيف العاصمة.
○ الموقع البحرى والعامل التاريخى.
○ السيادة القومية والموقع البحرى.
○ العمق الجغرافى وتصنيف العاصمة.

٢٣. اختر الإجابة الصحيحة عن كل سؤال من بين الإجابات التى تليه : يزداد الأثر السلبى لشكل الدولة على قوتها السياسية كما في دولة.....

- أفريقيا الوسطى.
○ الأرجنتين.
○ المكسيك.
○ البرتغال.

٣٤. اختر الإجابة الصحيحة عن كل سؤال من بين الإجابات التي تليه : تتميز الأمة عن الدولة بضرورة وجود
- سكان دائمين.
 - حدود سياسية منيعة.
 - كيان سياسي موحد.
 - تجانس سكاني.




٣٥. اختر الإجابة الصحيحة عن كل سؤال من بين الإجابات التي تليه : أي من الدول المشار إليها بالخريطة المقابلة تحاول أن تجد حل لمشكلة الرعى رغم معاناتها من صعوبات خاصة بالمناخ والموقع الجغرافي؟
- (1)
 - (2)
 - (3)
 - (4)

٣٦. اختر الإجابة الصحيحة عن كل سؤال من بين الإجابات التي تليه : الجانب الديموجرافي الأكثر تأثيراً على قوة الدولة في ظل النظام العالی الجديد هو.....
- المستوى التعليمي.
 - التركيب النوعي.
 - التقارب الثقافي.
 - التركيب العمري.

٣٧. اختر الإجابة الصحيحة عن كل سؤال من بين الإجابات التي تليه : تمكنت مصر من استعادة طابا من خلال أحد مراحل تخطيط الحد السياسي وهي المرحلة.....
- الثانية.
 - الثالثة.
 - الأولى.
 - الرابعة.

٣٨. اختر الإجابة الصحيحة عن كل سؤال من بين الإجابات التي تليه يدل الهرم السكاني المقابل أن هذه الدولة



- مستقبله للهجرات من الشباب.
- تزداد بها فئة صغار السن.
- يرتفع بها معدل الإعالة.
- يرتفع بها معدل الزيادة الطبيعية.

٣٩. اختر الإجابة الصحيحة عن كل سؤال من بين الإجابات التي تليه : أي مما يلي ساهم في الفصل بين الدول وجعل العلاقات الدولية تتميز بالشمولية؟
- الثورة الصناعية الأولى.
 - التكتلات الاقتصادية.
 - الحدود السياسية.
 - الأحلاف العسكرية.

٤٠. اختر الإجابة الصحيحة عن كل سؤال من بين الإجابات التي تليه : الدوا. الأعضاء بالانظمة القتالية
- عليهم نفس الواجبات.
 - يمثلون كل دول العالم.
 - يختلفون في الحقوق.
 - أعضاء في كل الأجيحة.



٤١ . اختر الإجابة الصحيحة عن كل سؤال من بين الإجابات التى تليه : يعود الصراع على منطقة الشرق الأوسط إلى الوقت الحالى إلى.....

- الموقع الجغرافى. ○ الموارد الاقتصادية.
○ الثروة البشرية. ○ الموارد المائية.

٤٢ . اختر الإجابة الصحيحة عن كل سؤال من بين الإجابات التى تليه : تعاني دولة مالطة في علاقتها مع بقية دول الاتحاد الأوروبي من صعوبات خاصة ب.....

- الاتصال الأرضى. ○ الجوانب الاقتصادية.
○ الأنظمة السياسية. ○ التركيب الديموجرافى.

٤٣ . اختر الإجابة الصحيحة عن كل سؤال من بين الإجابات التى تليه : يمكن اعتباره أحد أهداف تشكيل الأحلاف العسكرية.....

- المحافظة على استدامة الموارد. ○ تبني سياسة عسكرية هجومية.
○ التوسع على حساب الدول المجاورة. ○ زيادة ميزانيات الجيوش المتحالفة.

٤٤ . اختر الإجابة الصحيحة عن كل سؤال من بين الإجابات التى تليه : تتشابه معظم الحدود السياسية في قارتي أمريكا الجنوبية وأفريقيا في.....

- قرة الفصل. ○ سبب نشأة الحد.
○ معيار الاختيار. ○ تعرضها لعوامل التعرية.

٤٥ . اختر الإجابة الصحيحة عن كل سؤال من بين الإجابات التى تليه الدولة الملونة على الخريطة



- ذات شكل منتظم نموذجى.
○ ذات موقع هامشى وتفنّد لمصادر الطاقة.
○ وقفت على الحياد أثناء الحرب الباردة.
○ تفنّد الدخول فى التكتلات الاقتصادية.

١ . اختر الإجابة الصحيحة عن كل سؤال من بين الإجابات التى تليه : من خلال دراستك للجغرافيا السياسية فإن آثار التدمير التى تظهر في الصورة المقابلة تؤكد على أهمية.....

- وحدة اللغة بين سكان الدولة. ○ وجود النظام السياسى فى صورته المؤسسية.
○ احترام الثقافات المختلفة داخل الدولة. ○ تفعيل دور النظام السياسى فى صورته الاجتماعية.

نموذج (١٣)

٢. اختر الإجابة الصحيحة عن كل سؤال من بين الإجابات التى تليه : تتميز الجيوبولتيك عن الجغرافيا السياسية بـ.....

- ثبات الحدود المنبئة للدولة.
- انعدام مشروعية هدفها الخارجى.
- البحث الدائم عن السلم الدولى.
- الإقرار بوجود صراع دولى.

٣. اختر الإجابة الصحيحة عن كل سؤال من بين الإجابات التى تليه : الصورة المقابلة تمثل واحدة من أهم إنجازات الجندى المصرى على مر العصور وهى تأكيد على.....



سور الديش المصرى لغناه للسويس ٦ أكتوبر ١٩٧٣م

- قدرة الحد السياسى على القيام بوظائفه.
- أهمية دور المنظمات الدولية.
- استخدام نظرية الدفاع بالعمق.
- سقوط نظرية الحد الأمن.

٤. اختر الإجابة الصحيحة عن كل سؤال من بين الإجابات التى تليه : إذا واجهت دولة ما صعوبات فى تقديم ما يحتاج إليه مواطنيها من متطلبات، فإن ذلك قد يعود إلى.....

- سوء تخطيط الخريطة الإدارية.
- سوء تقسيم الدوائر الانتخابية.
- مركزية اتخاذ القرارات.
- افتقار الحكومة إلى الشفافية.

٥. اختر الإجابة الصحيحة عن كل سؤال من بين الإجابات التى تليه : أى من الدول التالية تتشابه فى الصعوبات التى تواجهها للاتصال بالعالم الخارجى؟.....

- جنوب السودان - النمسا - باراجواى.
- منغوليا - الهند - الصين.
- كندا - المكسيك - بوليفيا.
- سوريا - تركيا - سويسرا.

٦. اختر الإجابة الصحيحة عن كل سؤال من بين الإجابات التى تليه : أكثر مراحل التخطيط للحد السياسى قابلية تعديل ما تم الاتفاق عليه هما.....

- إدارة الحد والتحديد.
- التعيين وإدارة الحد.
- التعريف والتحديد.
- التحديد والتعيين.

٧. اختر الإجابة الصحيحة عن كل سؤال من بين الإجابات التى تليه : بتحليل الخريطة المقابلة، نجد أن أهم ما تكتسبه دولة لبنان من مقوماتها الطبيعية.....



- سهولة الاتصال الداخلى.
- تنوع الإنتاج الزراعى.
- التمتع بالشهرة السياحية.
- النمو العمرانى السريع.

٨. اختر الإجابة الصحيحة عن كل سؤال من بين الإجابات التى تليه : يفضل للدولة فى النظام السياسى والإدارى أن تكون وحدوية إذا.....

- كانت ذات طابع سهلى.
- توازن فيها عدد السكان والموارد.
- تعددت فيها المناطق الاقتصادية الهامة.
- تميز شعبها بالتنوع الثقافى.

٩. اختر الإجابة الصحيحة عن كل سؤال من بين الإجابات التى تليه : أى من القارات الآتية كانت دولها الأثرى تأثراً بانتهاء الصراعات الدولية كأحد متغيرات النظام العالمى الجديد؟.....

- آسيا.
○ أستراليا.
○ أمريكا الجنوبية.
○ أوروبا.

١٠. اختر الإجابة الصحيحة عن كل سؤال من بين الإجابات التى تليه : تحديد الأسباب التى جعلت ألمانيا تنجح أثناء الحرب العالمية الثانية فى احتلال هولندا وبلجيكا وتفشل فى احتلال القوقاز يدخل ضمن دراسة

- التحليل السياسى للقوة.
○ الجيوبولتيك.
○ الوحدات السياسية.
○ النظام العالمى الجديد.

١١. اختر الإجابة الصحيحة عن كل سؤال من بين الإجابات التى تليه : يظهر وجه الشبه فى التوزيع الجغرافى للأقلية المظللة على الخريطة التالية مع الأقلية الموجودة فى.....



- جنوب غرب أوروبا.
○ جنوب أمريكا الشمالية.
○ جنوب أفريقيا.
○ شرق أوروبا.

١٢. اختر الإجابة الصحيحة عن كل سؤال من بين الإجابات التى تليه : فى ضوء دراستك تعبر الصورة المقابلة عن.....



- التأثير السلبى للتركيب النوعى.
○ تحقيق الهدف الداخلى للجيوبولتيك.
○ قوة الدولة التنظيمية.
○ القوة المورفولوجية للدولة.

١٣. اختر الإجابة الصحيحة عن كل سؤال من بين الإجابات التى تليه : «يعد من أهداف الأحلاف العسكرية تنمية التعاون الاقتصادى والاجتماعى بين الدول الأعضاء.» فى ضوء العبارة السابقة : قد يواجه حلف

الأتاو بعض الصعوبات لتحقيق هذا الهدف بسبب.....

- الافتقاد للمقومات الجغرافية.
○ تشابه الأنشطة الاقتصادية.
○ عدم وجود حجم سكاني مناسب.
○ عدم وجود تقارب تكنولوجى.

١٤. اختر الإجابة الصحيحة عن كل سؤال من بين الإجابات التى تليه يتشابه الموقع الجغرافى للدولتان



الموضحتان بالخريقتين التاليتين.....

- صعوبة الاتصال بالعالم الخارجى.
○ ضيق الواجبة البحرية.
○ التأثير السلبى على قوة الدولة.
○ قلة أهمية المسطح المائى.

١٥. اختر الإجابة الصحيحة عن كل سؤال من بين الإجابات التى تليه أى عوامل اختار العواصم التالية



يسبب معرفته من خلال قراءة الخريطة المقابلة

- الحماية والدفاع.
○ السيادة القومية.
○ سهولة الوصول.
○ العمق الجغرافى.

١٦. اختر الإجابة الصحيحة عن كل سؤال من بين الإجابات التي تليه : أي من أشكال الدول الآتية يعد الأ
تعرضًا لحدوث صراعات مع الدول المجاورة؟.....

⊙ المنتظم. ⊙ البرى المجزا.

⊙ البحرى المجزا. ⊙ المنتمج ذو بروز.

١٧. اختر الإجابة الصحيحة عن كل سؤال من بين الإجابات التي تليه : تتشابه عصبية الأمم مع هيئة الأمم
المتحدة في.....

⊙ نجاحهما في تحقيق الأمن والسلم الدولى. ⊙ اقتقارهما للقوة العسكرية.

⊙ خلوصهما من الدول الرأسمالية. ⊙ الظروف التي أدت إلى نشأتها.

١٨. اختر الإجابة الصحيحة عن كل سؤال من بين الإجابات التي تليه : ينتهى الحد السياسى البحرى للدولة
ببداية قلهور.....

⊙ المياه المحايدة. ⊙ المياه الإقليمية. ⊙ خط الساحل. ⊙ المياه الملاصقة.

١٩. اختر الإجابة الصحيحة عن كل سؤال من بين الإجابات التي تليه : يمكن أن نجد رابطًا مشتركًا بين التنوع
المناخى للدولة وتمتعها بالطابع السهل متمثلًا في.....

⊙ زيادة القدرة الدفاعية. ⊙ قلة الكثافة السكانية.

⊙ تنوع الأنشطة الاقتصادية. ⊙ تنوع النبات الطبيعى.

٢٠. اختر الإجابة الصحيحة عن كل سؤال من بين الإجابات التي تليه : يُعد من السمات الأساسية التي يتصف
بها الاتحاد الكونفدرالى.....

⊙ وجود مرجعية دستورية موحدة. ⊙ هيمنة السلطة المركزية على الأمور السيادية.

⊙ التمتع بصفات تبقى قوة سياسية. ⊙ وجود أكثر من نواة.

٢١. اختر الإجابة الصحيحة عن كل سؤال من بين الإجابات التي تليه : اتفق كل من عبدالرحمن بن خلدون
وفردريك راتزل مع نظرتهمما للدولة والتي تحققت في.....

⊙ مجلس التعاون لدول الخليج العربى. ⊙ الاتحاد الأوروبى.

⊙ الحلف المركزى. ⊙ حلف الناتو.

٢٢. اختر الإجابة الصحيحة عن كل سؤال من بين الإجابات التي تليه : الجانب السلبي للعولمة هو أحد أسباب
عجز النظام العالمى الجديد عن.....

⊙ احترام سيادة الدول على أراضيها. ⊙ احترام دور الأمم المتحدة.

⊙ نشر قيم الديمقراطية. ⊙ إحلال السلام العالمى.

٢٣. اختر الإجابة الصحيحة عن كل سؤال من بين الإجابات التي تليه : يظهر في حالة تقسيم شبه القارة
الهندية على أساس إثنوغرافى بالكامل.....

⊙ زيادة واجهات الهند البحرية. ⊙ وجود حدود مشتركة بين الصين وباكستان.

⊙ تناقص مساحة دولة باكستان الحالية. ⊙ زيادة حدة الصراع بين الهند وباكستان.

٢٤. اختر الإجابة الصحيحة عن كل سؤال من بين الإجابات التي تليه تستج من الخريطة التالية ان التكتل



الاقتصادي الأكثر اتقادا الى التجانس السكاني هو

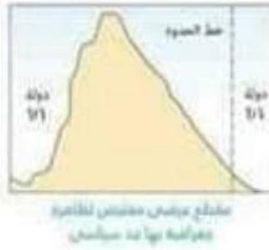
الاتحاد الأوروبي.

○ منتدى التعاون الاقتصادي (الأبيك)

○ اتحاد المغرب العربي.

○ مجلس التعاون لدول الخليج العربي.

٢٥. اختر الإجابة الصحيحة عن كل سؤال من بين الإجابات التي تليه : يمكن أن نجد تشابه في طريقة ترسيم



الحد السياسي بالشكل المقابل مع طريقة ترسيم الحد السياسي في نهر.....

○ الراين.

○ الميسيسيبي.

○ الريبوجراند.

○ بوج.

٢٦. اختر الإجابة الصحيحة عن كل سؤال من بين الإجابات التي تليه : يوجد ارتباطا

بين وضع شروط كوبنهاجن ١٩٩٢م للانضمام للاتحاد الأوروبي و.....

○ بروز أهمية منظمة عدم الانحياز.

○ تفكك الكتلة الشرقية وانحياز حلف وارسو.

○ حدوث أزمة الخليج العربي ١٩٩٠م.

٢٧. اختر الإجابة الصحيحة عن كل سؤال من بين الإجابات التي تليه : من خلال دراستك للجغرافيا السياسية

فإن آثار التدمير التي تظهر في الصورة المقابلة تؤكد على أهمية.....



الدمار في مدينة البصرة من سوريا

○ تفعيل دور النظام السياسي في صورته الاجتماعية.

○ وحدة اللغة بين سكان الدولة.

○ احترام الثقافات المختلفة داخل الدولة.

○ وجود النظام السياسي في صورته المؤسسية.

٢٨. اختر الإجابة الصحيحة عن كل سؤال من بين الإجابات التي تليه : تتشابه منطقتا جنوب غرب اسيا وغرب اوربا في.....

○ أسباب نشأة الحدود السياسية بهما.

○ دورهم الرئيسي في تأسيس المنظمات الدولية.

○ استقبالهما لهجرة شرعية وهجرة غير قانونية.

○ وزنهم السياسي على المسرح العالمي.

٢٩. اختر الإجابة الصحيحة عن كل سؤال من بين الإجابات التي تليه : إذا تسببت الحدود النهرية بين كل من

دولتي بولندا وبيلاروسيا في ظهور مشكلات فإنها سوف تكون بالضرورة مرتبطة ب.....

○ تغيير مجرى النهر.

○ تقسيم المياه.

○ حرية الملاحة الدولية.

٣٠. اختر الإجابة الصحيحة عن كل سؤال من بين الإجابات التي تليه : تنقل أهمية الوظيفة الاقتصادية

للحدود السياسية بين دول التكتل الاقتصادي الواحد مع بداية تحقيقها لمرحلة.....

○ الوحدة الاقتصادية.

○ السوق المشتركة.

○ الاتحاد الجمركي.

○ رفع الحواجز الجمركية.

٣١. اختر الإجابة الصحيحة عن كل سؤال من بين الإجابات التى تليه : يتضح من خلال تحليل الحدود السياسية بين الدولتين الموضحتين على الخريطة المقابلة بأن تلك الحدود تتصف بـ.....



حدود مصر الطبيعية مع السودان

أقلة عدد السكان فى جزئها الشمالى.

أتمتع بقوة الفصل.

أالاستقرار فى جزئها الجنوبى.

أأنها طبيعية فى كافة قطاعاتها.

٣٢. اختر الإجابة الصحيحة عن كل سؤال من بين الإجابات التى تليه : يتضح من خلال تحليل خريطة العالم السياسية قبل الحرب العالمية الأولى والآن أن أكثر الدول التى زاد عددها توجد فى العالم.....

أالجديد.

أالقديم.

أالمتقدم.

أالناسى.

٣٣. اختر الإجابة الصحيحة عن كل سؤال من بين الإجابات التى تليه فى ضوء دراستك للمقومات الطبيعية لقوة الدولة نلاحظ أن الدولة المشار إليها فى الخريطة المقابلة



أتمتلك موقع استراتيجى رغم صغر مساحتها.

أيصعب حمايتها رغم سهولة ضبطها إدارياً.

أتتميز بزيادة وزنها الاقتصادى.

أتمتلك مقومات القوة المورفولوجية.

٣٤. اختر الإجابة الصحيحة عن كل سؤال من بين الإجابات التى تليه توجد علاقة بين احتفاظ الدولة المظلة على الخريطة المقابلة بحق الفيتو وامتلاكها القوة



أالديموجرافية والاقتصادية.

أالاقتصادية والعسكرية.

أالعسكرية والتنظيمية.

أالمورفولوجية والعسكرية.

٣٥. اختر الإجابة الصحيحة عن كل سؤال من بين الإجابات التى تليه : يتميز مجلس التعاون لدول الخليج العربى بـ.....

أتنوع الموارد الاقتصادية.

أاختلاف التركيب الجيولوجى لدول النكتل.

أتمتعه بسمات الأمة الواحدة.

أالوصول للاندماج الاقتصادى الكامل.

٣٦. اختر الإجابة الصحيحة عن كل سؤال من بين الإجابات التى تليه : تقدم منظمة اليونيدو جهودها لدعم الصناعة فى.....

أغرب أمريكا الجنوبية.

أشمال أمريكا الشمالية.

أشمال آسيا.

أغرب أوروبا.

٣٧. اختر الإجابة الصحيحة عن كل سؤال من بين الإجابات التى تليه : يوجد ارتباط واضح بين تهميش هو الدول النامية و.....

(تغيرات الخريطة السياسية فى بداية القرن العشرين.

○ مستقبل الخريطة السياسية.

○ تغيرات الخريطة السياسية فى النصف الثانى من القرن العشرين.

○ الصراع الأيدولوجى العالمى.

٣٨. اختر الإجابة الصحيحة عن كل سؤال من بين الإجابات التى تليه تعود النزاعات السياسية الناتجة عن



حركة الرعاة على الحدود بين الوتئين المظللين فى الخريطة المقابلة لأسباب

○ مناخية واقتصادية.

○ ديموجرافية ومناخية.

○ سياسية واقتصادية.

○ ديموجرافية واقتصادية.

٣٩. اختر الإجابة الصحيحة عن كل سؤال من بين الإجابات التى تليه نستنتج من الشكل البيانى المقابل



○ انقصار وجود الاحتياطى فى الدول النامية.

○ زيادة الوزن الاقتصادى لبعض الدول النامية.

○ تركيز الاحتياطى فى نصف الكرة الأرضية الجنوبية.

○ محدودية تأثير منطقة الشرق الأوسط فى العلاقات الدولية.

٤٠. اختر الإجابة الصحيحة عن كل سؤال من بين الإجابات التى تليه : تقدم المنظمات الدولية مساعدات

لدول القارة السمراء التى عانت من التشريد بسبب الحروب، وهو ما يتشابه مع دورها فى.....

○ البوسنة والهرسك وفلسطين.

○ تركيا وسوريا وإيران.

٤١. اختر الإجابة الصحيحة عن كل سؤال من بين الإجابات التى تليه : تعد من الأهداف السياسية للتكتلات

الاقتصادية.....

○ تنويع التركيب الاقتصادى.

○ تحقيق فائض فى الميزان التجارى.

٤٢. اختر الإجابة الصحيحة عن كل سؤال من بين الإجابات التى تليه : أكثر المظاهر تأثيراً بشكل إيجابى على

الكيان السياسى للدولة.....

○ عدم اشتراكها فى تكتلات اقتصادية.

○ تنوع مظاهر السطح.

٤٣. اختر الإجابة الصحيحة عن كل سؤال من بين الإجابات التى تليه : تتوقع فى حالة تحول منظمة الكوميس ب هيكلها التنظيمى القائم إلى شركة متعددة الجنسيات فإن ذلك سيؤدى إلى.....

- Ⓐ الحفاظ على السيادة الوطنية للدول الأعضاء.
- Ⓑ تناقص حجم التبادل التجارى بين الدول الأعضاء.
- Ⓒ زيادة السيادة الإقليمية لدولة زامبيا.
- Ⓓ سيطرة الدول الكبرى عليها.

٤٤. اختر الإجابة الصحيحة عن كل سؤال من بين الإجابات التى تليه فى ضوء دراستك أى من الدول المشار



إليها فى الخريطة المقابلة انضمت إلى أكثر من حلف عسكرى

- Ⓐ دولة (١)
- Ⓑ دولة (٤)
- Ⓒ دولة (٣)
- Ⓓ دولة (٢)

٤٥. اختر الإجابة الصحيحة عن كل سؤال من بين الإجابات التى تليه : أى من المؤسسات التالية تتشابه فى طبيعتها وبعض صلاحياتها؟.....

- Ⓐ المفوضية الأوروبية والأمانة العامة لمجلس التعاون لدول الخليج العربى.
- Ⓑ البرلمان الأوروبى والمجلس الوزارى لمجلس التعاون لدول الخليج العربى.
- Ⓒ المجلس الأوروبى والمجلس الأعلى لمجلس التعاون لدول الخليج العربى.
- Ⓓ مجلس الاتحاد الأوروبى والمجلس الأعلى لمجلس التعاون لدول الخليج العربى.

٤٦. اختر الإجابة الصحيحة عن كل سؤال من بين الإجابات التى تليه تتشابه حاليا الدول الموضحة على

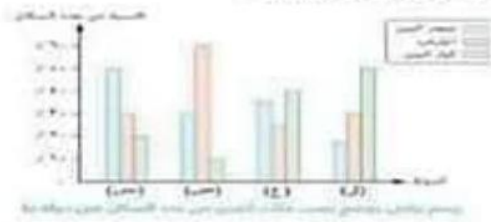


الخريطة التالية فى

- Ⓐ انتشار الأقليات القومية بها.
- Ⓑ تشكيلها لتكتل اقتصادى واحد.
- Ⓒ انتمائها لحلف عسكرى واحد.
- Ⓓ انتشار الأقليات اللغوية داخلها.

نموذج ١٣١

١. اختر الإجابة الصحيحة عن كل سؤال من بين الإجابات التي تليه بعد التركيب العمري للسكان مؤشراً على قوة الدولة وبالإستعانة بالشكل البياني المقابل نجد ان الدولة الأقوى هي



- (ص)
○ (س)
○ (ل)
○ (ع)

٢. اختر الإجابة الصحيحة عن كل سؤال من بين الإجابات التي تليه : تعد الأقليات اللغوية هي الأقل انتشاراً في العالم ويرجع ذلك إلى حرص الدول على.....

- مواجهة العولمة.
○ تغليب المصالح الاقتصادية.
○ نشر الثقافة.
○ تدعيم سيادتها القومية.

٣. اختر الإجابة الصحيحة عن كل سؤال من بين الإجابات التي تليه : تتشابه دولتي شيلي وسويسرا في.....

- صعوبة الاتصال بين أجزاء الدولة.
○ مركزية الموقع الجغرافي.
○ طول المناطق الساحلية.
○ تنوع الأقاليم المناخية.

٤. اختر الإجابة الصحيحة عن كل سؤال من بين الإجابات التي تليه : تتفق الجغرافيا السياسية مع الجيوبولتيك في.....

- موضوع الدراسة.
○ عدم وجود نزاعات دولية.
○ الهدف من الدراسة.
○ حل المشكلات العالمية.

٥. اختر الإجابة الصحيحة عن كل سؤال من بين الإجابات التي تليه : تضائل دور حركة عدم الانحياز نتيجة.....

- إنشاء منظمة عصبة الأمم.
○ انتشار الأحلاف العسكرية.
○ لاختلال التوازن الدولي.
○ قيام الحرب العالمية الثانية.

٦. اختر الإجابة الصحيحة عن كل سؤال من بين الإجابات التي تليه : كان من المستبعد عند رسم الحدود بين



الدول التي تظهر على الخريطة التالية استخدام الحدود.....

- الإثنوغرافية اللغوية.
○ الهندسية الفلكية.
○ الطبيعية البحرية.
○ الهندسية الخطية.

٧. اختر الإجابة الصحيحة عن كل سؤال من بين الإجابات التي تليه : أي مما يلي تناقض تأثير موقعه على قوة الدولة ؟

- الأقليات والجبال.
○ الأنهار والسهول.
○ الأقليات والسهول.
○ الجبال والغابات.

٨. اختر الإجابة الصحيحة عن كل سؤال من بين الإجابات التى تليه من خلال تحليلك للخريطة المقابلة يؤثر



العامل المورفولوجى لدولة الكويت في

- Ⓐ صعوبة الاتصال الخارجى.
- Ⓑ تنوع التركيب الجيولوجى.
- Ⓒ حسن الإدارة الداخلىة.
- Ⓓ تنوع الأقاليم المناخية.

٩. اختر الإجابة الصحيحة عن كل سؤال من بين الإجابات التى تليه الدولة ذات اللون بالخريطة المقابلة تشبه



في الشكل دولة

- Ⓐ اليابان.
- Ⓑ عمان.
- Ⓒ إنجلترا.
- Ⓓ إيطاليا.

١٠. اختر الإجابة الصحيحة عن كل سؤال من بين الإجابات التى تليه : ظهرت على الساحة الدولية عدة

متغيرات أدت إلى ضرورة الإعلان عن نظام عالمى جديد وارتبط معظمها بدول قارتى.....

- Ⓐ أمريكا الجنوبية وأوروبا.
- Ⓑ أوروبا وآسيا.
- Ⓒ أمريكا الشمالية وأستراليا.
- Ⓓ أفريقيا وآسيا.

١١. اختر الإجابة الصحيحة عن كل سؤال من بين الإجابات التى تليه : يعود السبب في ترسيم الحدود السياسية

جنوب غرب شبه الجزيرة العربية إلى عوامل.....

- Ⓐ ديموجرافية.
- Ⓑ إثنوغرافية.
- Ⓒ مورفولوجية.
- Ⓓ اقتصادية.

١٢. اختر الإجابة الصحيحة عن كل سؤال من بين الإجابات التى تليه : يوجد عدد محدود من دول العالم

يمكنها تطبيق ما تحتويه الصورة المقابلة في منطقة المياه.....



- Ⓐ الداخلىة.
- Ⓑ الملاصقة.
- Ⓒ الإقليمية.
- Ⓓ المحايدة.

١٣. اختر الإجابة الصحيحة عن كل سؤال من بين الإجابات التى تليه : من خلال تحليل الجدول المقابل

الدولة	عدد دوائر العرش	عدد خطوط الطول
(س)	١٤	٢٩
(ص)	١٨	٣٦
(ع)	٣٤	٢٢
(ل)	١٢	٣٤

جغرافياً نستنتج أن أكثر الدول التى يتوقع تنوعها الجيولوجى....

- Ⓐ الدولة (ع)
- Ⓑ الدولة (س)
- Ⓒ الدولة (ص)
- Ⓓ الدولة (ل)

١٤ . اختر الإجابة الصحيحة عن كل سؤال من بين الإجابات التي تليه : تقع مسؤولية تقسيم الدولة إلى دوا انتخابية عند اختيار رئيس الدولة على السلطة.....

المحلية في الدولة الوحشية. المركزية في الدولة الفيدرالية.

المحلية في الدولة الفيدرالية. المركزية في الاتحاد الكونفدرالي.

١٥ . اختر الإجابة الصحيحة عن كل سؤال من بين الإجابات التي تليه : «تعد المقومات الاقتصادية من أهم المقومات التي تشجع على قيام التكتلات الاقتصادية ومنها تواهر عناصر الإنتاج الأساسية» . في ضوء العبارة السابقة : نستنتج أن التكتل الاقتصادي الذي يفتقد إلى عنصر العمل المحلي.....

منتدى التعاون الاقتصادي. الاتحاد الأوروبي.

السوق المشتركة لشرق وجنوب أفريقيا. مجلس التعاون لدول الخليج العربي.

١٦ . اختر الإجابة الصحيحة عن كل سؤال من بين الإجابات التي تليه : طبقاً للمؤشر الاقتصادي الموضح في الأشكال المقابلة، فإن الدولة الأكثر قدرة على الصمود هي التي يعبر عنها المدلول.....



الشكلان المقابلان يبين بعض الدول

(ع)

(ل)

(ص)

(س)

١٧ . اختر الإجابة الصحيحة عن كل سؤال من بين الإجابات التي تليه : تظهر أهمية دور الجغرافيين في خطوات النظام الانتخابي في المرحلة.....

الثانية. الثالثة. الأولى. الرابعة.

١٨ . اختر الإجابة الصحيحة عن كل سؤال من بين الإجابات التي تليه : يدل قيام دولة مصر بتنظيم بطولة العالم لكرة اليد عام ٢٠٢٢م والتي يوضحها الشكل المقابل على.....



شعار بطولة كأس العالم لكرة اليد في مصر ٢٠٢٢م

تشابك العلاقات الدولية.

الاعتماد الدولي المتبادل.

التمتع بالقوة التنظيمية.

الوزن السكتي الكبير.

١٩ . اختر الإجابة الصحيحة عن كل سؤال من بين الإجابات التي تليه : أي من مؤسسات الاتحاد الأوروبي الآتية هي الأقل تأثيراً في تشريعات الاتحاد الأوروبي؟.....

البرلمان الأوروبي. المجلس الأوروبي.

المفوضية الأوروبية. مجلس الاتحاد الأوروبي.

٢٠. اختر الإجابة الصحيحة عن كل سؤال من بين الإجابات التى تليه من خلال تحليك للخريطة المقابلة ند
 لا حالة تكوين إقليم كشمير لدولة مستقلة أن يكون أهم مصادر الدخل بها ناتج عن نشاط.....



○ الزراعة.

○ السياحة.

○ الصيد البحرى.

○ التجارة الخارجية.

٢١. اختر الإجابة الصحيحة عن كل سؤال من بين الإجابات التى تليه : أقدم الدول التى ظهرت بها الشكل
 الأقرب للحدود الخطية.....

○ فرنسا. ○ بريطانيا. ○ الصين. ○ الولايات المتحدة الأمريكية.

٢٢. اختر الإجابة الصحيحة عن كل سؤال من بين الإجابات التى تليه : يرتبط تحقيق دولة كندا لأمنها
 الداخلى ب.....

○ وفرة إنتاجها الغذائى. ○ انضمامها إلى حلف الناتو.

○ قوتها المورفولوجية. ○ اشتراكها فى تكتل النفط.

٢٣. اختر الإجابة الصحيحة عن كل سؤال من بين الإجابات التى تليه : يساعد الاستشعار عن بُعد فى تحديد
 قوة الدولة العسكرية عن طريق توفير البيانات والمعلومات عن.....

○ نوعية المقاتل ودرجة تعلمه. ○ كفاءة جهاز المخابرات الحربية.

○ مقدار المعدات العسكرية. ○ كفاءة المقاتل ومدى إخلاصه.

٢٤. اختر الإجابة الصحيحة عن كل سؤال من بين الإجابات التى تليه يظهر من خلال تحليك للخريطة المقابلة
 أن لدولة إيطاليا حدود مشتركة فى مناطق مياه متقابلة مع دولتى



○ الجزائر وإسبانيا.

○ ليبيا وتونس.

○ فرنسا وليبيا.

○ تونس وفرنسا.

٢٥. اختر الإجابة الصحيحة عن كل سؤال من بين الإجابات التى تليه : ساعد الوزن السكانى لدولة الصين على
 وجود دوراً مؤثراً لها فى العلاقات الدولية.....

○ مع بداية ظهور المنظمات الدولية. ○ بعد تضاول دور حركة عدم الانحياز.

○ عقب نهاية الصراع الأيدولوجى. ○ قبل ظهور الاستقطاب العالمى.

٢٦. اختر الإجابة الصحيحة عن كل سؤال من بين الإجابات التى تليه : أى من الدول التالية يمكن اعتبارها
 حلقة وصل بين تكتلات قارة أفريقيا الاقتصادية؟.....

○ إثيوبيا والكنغو. ○ أوغندا وزامبيا.

○ ليبيا وتونس. ○ مصر وليبيا.

٢٧. اختر الإجابة الصحيحة عن كل سؤال من بين الإجابات التى تليه : من خلال تحليلك للخريطة المقابلة يتضح أن هذه الحدود النهرية في شمال الولايات المتحدة الأمريكية تتماشى مع.....



- Ⓐ خط المنتصف.
- Ⓑ خط العمق الملاحى.
- Ⓒ إحدى ضفتى النهر.
- Ⓓ الجزر الطينية.

٢٨. اختر الإجابة الصحيحة عن كل سؤال من بين الإجابات التى تليه : «في مرحلة التجارة الحرة يتم الاستغناء عن وظائف الحد السياسى بين دول التكتل الواحد». العبارة السابقة تنطبق على.....

- Ⓐ الأيدى العاملة.
- Ⓑ التكنولوجيا.
- Ⓒ السلع.
- Ⓓ رأس المال.

٢٩. اختر الإجابة الصحيحة عن كل سؤال من بين الإجابات التى تليه تعانى الدولة الموضحة في الخريطة المقابلة من صعوبة في السيطرة على اجزائها بسبب.....



- Ⓐ مساحتها وموقعها البحرى.
- Ⓑ عدد السكان وموقعها الفلكى.
- Ⓒ شكلها وتوزيع الأقلية بها.
- Ⓓ مظهرها التضاريسى ومناخها السائد.

٣٠. اختر الإجابة الصحيحة عن كل سؤال من بين الإجابات التى تليه : أى من الدول الآتية تعوقها مقوماتها المورفولوجية من أن تصبح دولة مركزية؟.....

- Ⓐ مصر.
- Ⓑ روسيا.
- Ⓒ ألمانيا.
- Ⓓ هولندا.

٣١. اختر الإجابة الصحيحة عن كل سؤال من بين الإجابات التى تليه : يمكن اعتبارها قاطرة الاتحاد الأوروبى لتحقيق التنمية بفضل قوتها الديموجرافية دولة.....

- Ⓐ مالطة.
- Ⓑ ألمانيا.
- Ⓒ هولندا.
- Ⓓ بلجيكا.

٣٢. اختر الإجابة الصحيحة عن كل سؤال من بين الإجابات التى تليه : تنعدم الاستفادة من بنود اتفاقية برشلونة ١٢٩١م في حالة حدوث نزاع حدودى بين دولتي.....

- Ⓐ ألمانيا وسويسرا.
- Ⓑ بولندا وأوكرانيا.
- Ⓒ المكسيك والولايات المتحدة الأمريكية.
- Ⓓ فرنسا وألمانيا.

٣٣. اختر الإجابة الصحيحة عن كل سؤال من بين الإجابات التى تليه : «تحوّلت رؤى واتجاهات حلف الناتو من مفاهيم عسكرية بحتة إلى مفاهيم تهتم بقضايا الأمن الإنسانى». هذا التغير كان نتيجة ل.....

- Ⓐ تفكك المنظومة الأمنية للكتلة الشيوعية الشرقية.
- Ⓑ رغبة الحلف فى منافسة هيئة الأمم المتحدة فى المجالات الاجتماعية.
- Ⓒ الرغبة فى تطبيق الأهداف التى أعلن عنها النظام العالمى الجديد.
- Ⓓ ضعف دور هيئة الأمم المتحدة فى الحفاظ على السلم الدولى.

٢٤. اختر الإجابة الصحيحة عن كل سؤال من بين الإجابات التى تليه : تتشابه دولة الهند مع دولة الولايات المتحدة الأمريكية فى.....

- Ⓐ صعوبة توفير الغذاء للسكان.
Ⓑ تنوع التركيب الجيولوجى.
Ⓒ مركزية كل القرارات.
Ⓓ عدد الدول المجاورة.

٢٥. اختر الإجابة الصحيحة عن كل سؤال من بين الإجابات التى تليه : يُعد من عناصر قوة الدولة المثالية عند أرسطو.....

- Ⓐ نواة الدولة.
Ⓑ التركيب العمرى.
Ⓒ مساحة الدولة.
Ⓓ التركيب النوعى.

٢٦. اختر الإجابة الصحيحة عن كل سؤال من بين الإجابات التى تليه : تختلف عوامل قوة الدولة فى المغرب عن اليمن ومنها.....

- Ⓐ محدودية التركيب اللغوى.
Ⓑ الواجهة البحرية.
Ⓒ عدد الدول المجاورة.
Ⓓ الخصائص المناخية.

٢٧. اختر الإجابة الصحيحة عن كل سؤال من بين الإجابات التى تليه : فشل حلف شمال الأطلسى فى تحقيق أحد أهداف الأحلاف العسكرية المتمثلة فى.....

- Ⓐ الابتعاد عن سياسة التسلح المنفرد.
Ⓑ حماية المصالح المشتركة بين الدول الأعضاء.
Ⓒ تسوية النزاعات بين الدول الأعضاء بالطرق السلمية.
Ⓓ الدفاع عن كيان الحلف إقليمياً.

٢٨. اختر الإجابة الصحيحة عن كل سؤال من بين الإجابات التى تليه نستنتج من الخريطة القابلة عند اندماج كل من البرازيل وبوليفيا والارجنتين فى اتحاد فيدرالى فان دولة بارجواى تصبح فى الشكل مثل الدولة ...



- Ⓐ ليسوتو.
Ⓑ فرنسا.
Ⓒ سويسرا.
Ⓓ منغوليا.

٢٩. اختر الإجابة الصحيحة عن كل سؤال من بين الإجابات التى تليه تتشابه الدولتان المظللتان على الخريطة المقابلة فى.....



- Ⓐ سهولة الاتصال بين أجزاء الدولة.
Ⓑ عدد الدول المجاورة.
Ⓒ الإيمان بأهمية الأحلاف العسكرية.
Ⓓ موقفهم من الوحدة الأوروبية.

٤٠. اختر الإجابة الصحيحة عن كل سؤال من بين الإجابات التي تليه : ظهور النزعة الانفصالية بين الجمهوريات السوفيتية يدل على التقاد الاتحاد السوفيتي إلى.....

- القوة المورفولوجية.
○ القوة العسكرية.
○ الاتصال الأرضي.
○ القوة التنظيمية.

٤١. اختر الإجابة الصحيحة عن كل سؤال من بين الإجابات التي تليه : من خلال تحليلك للصورة المقابلة نجد أن المياه المستخدمة في هذا النشاط الاقتصادي تكون سيادة الدولة عليها مشروطة إذا كانت.....



- تلي المياه الإقليمية.
○ تسبق المياه الإقليمية.
○ تسبق المياه الملاصقة.
○ تلي المياه المحايدة.

٤٢. اختر الإجابة الصحيحة عن كل سؤال من بين الإجابات التي تليه : يندرج الصراع الدائر على الموارد الطبيعية في منطقة الشرق الأوسط ضمن أحد مجالات الجغرافيا السياسية وهو دراسة.....

- النظام العالمي الجديد.
○ التحليل السياسي للقوة.
○ الوحدات السياسية.
○ العلاقات الدولية.

٤٣. اختر الإجابة الصحيحة عن كل سؤال من بين الإجابات التي تليه : أي من المحطات الواقعة على الخريطة المقابلة تقع في نطاق المياه الداخلية؟.....



- (١)
○ (٣)
○ (٢)
○ (٤)

٤٤. اختر الإجابة الصحيحة عن كل سؤال من بين الإجابات التي تليه : يرجع السبب في تباين الثقافات والعبادات بدول الخليج العربي في الوقت الحالي إلى.....

- تكريس اللغات العالمية.
○ نقص العمالة المحلية.
○ تقدمها التكنولوجي.
○ قوتها الديموجرافية.

٤٥. اختر الإجابة الصحيحة عن كل سؤال من بين الإجابات التي تليه : من المظاهر السياسية التي تزامنت مع انتهاء الحرب الباردة.....

- تقلص دور الأمم المتحدة.
○ زيادة عدد دول شرق أوروبا.
○ تفكك الكومينكون.
○ احترام السيادة الوطنية للدول.

نموذج ١٤

١. اختر الإجابة الصحيحة عن كل سؤال من بين الإجابات التى تليه : يمكن تحقيق الهدف الداخلى للـج بوبولتيك بسهولة في دولة.....

- بلجيكا. ○ الهند.
○ الولايات المتحدة الأمريكية. ○ جنوب أفريقيا.

٢. اختر الإجابة الصحيحة عن كل سؤال من بين الإجابات التى تليه : إذا توافرت للدولة ما تحتويه الصورة المقابلة فينتج عن ذلك.....



لله مدنومات الطيق

- قدرتها على تحقيق الاكتفاء الذاتى.
○ قدرة مؤسساتها التنظيمية على اتخاذ القرار.
○ صعوبة تعرضها لقيام حركات انفصالية.
○ سهولة اتصالها بالعالم الخارجى.

٣. اختر الإجابة الصحيحة عن كل سؤال من بين الإجابات التى تليه : نتوقع في حالة تحول ولاية اسكا لدولة مستقلة فإن دولة الولايات المتحدة الأمريكية.....

- تتحول لدولة مندمجة الشكل. ○ تفقد أحد مواقعها الاستراتيجية.
○ يقل عدد الدول المجاورة لها. ○ تفقد أهمية موقعها المركزى.

٤. اختر الإجابة الصحيحة عن كل سؤال من بين الإجابات التى تليه : ساعد على تفاقم مشكلة الأقليات في شمال شرق إسبانيا العوامل.....

- الدينية. ○ الديموجرافية. ○ الاقتصادية. ○ الطبيعية.

٥. اختر الإجابة الصحيحة عن كل سؤال من بين الإجابات التى تليه : يتميز الاتحاد الأوروبى عن مجلس التعاون لدول الخليج العربى في.....

- رفع الحواجز الجمركية. ○ إصدار عملة موحدة.
○ الاتصال الجغرافى. ○ وجود قوة عسكرية موحدة.

٦. اختر الإجابة الصحيحة عن كل سؤال من بين الإجابات التى تليه ننتج من الخريطة المقابلة أنه في حالة نجاح الهند في ضم إقليم كشمير اليها فسوف يؤدي ذلك الى.....



مملكة الهند

- حل مشكلة كشمير السياسية.
○ ظهور أقليات عرقية في الهند.
○ تحول الهند إلى دولة بحرية مجزأة.
○ زيادة طول حدود الهند البرية مع الصين.

٧. اختر الإجابة الصحيحة عن كل سؤال من بين الإجابات التى تليه : نتج عن الخلط بين مفهوم الجغرافيا السياسية والجيوبولتيك حدوث.....

- Ⓐ اشتعال الحرب الباردة.
Ⓑ النزاعات الدولية.
Ⓒ اتساع مجالات الجغرافيا.
Ⓓ التوازن الدولى.

٨. اختر الإجابة الصحيحة عن كل سؤال من بين الإجابات التى تليه : «يمر تخطيط وترسيم الحدود بين الدول بأربع مراحل» . في ضوء العبارة السابقة : تبدأ وظيفة الحدود في الحماية والأمن بعد الانتهاء من مرحلة

- Ⓐ التعريف والتخطيط. Ⓑ التحديد. Ⓒ إدارة الحد. Ⓓ التعيين.

٩. اختر الإجابة الصحيحة عن كل سؤال من بين الإجابات التى تليه : من خلال الخريطة المقابلة نستنتج ان عاصمة دولة البرازيل تتشابه مع العاصمة الحالية لدولة السودان في



- Ⓐ الموقع الفلكى.
Ⓑ الموقع على نهر ملاحى.
Ⓒ الحماية والدفاع.
Ⓓ الأهمية التجارية.

١٠. اختر الإجابة الصحيحة عن كل سؤال من بين الإجابات التى تليه : أى من المنظمات الآتية يمكن اللجوء إليها لتنمية الموارد الرعوية في دولة ما ؟.....

- Ⓐ منظمة الأمم المتحدة.
Ⓑ صندوق النقد الدولى.
Ⓒ منظمة الأغذية والزراعة.
Ⓓ مركز التجارة الدولى.

١١. اختر الإجابة الصحيحة عن كل سؤال من بين الإجابات التى تليه : أى من السمات التالية تجعل الدولة أكثر احتياجاً للدخول في تحالفات عسكرية ؟.....

- Ⓐ صغيرة المساحة ومفتدة للقدرة الديموجرافية.
Ⓑ مرتفعة الكثافة السكانية وصغيرة المساحة.
Ⓒ صغيرة المساحة وذات الطابع الجبلى.
Ⓓ منمجة الشكل وذات الطابع السهلى.

١٢. اختر الإجابة الصحيحة عن كل سؤال من بين الإجابات التى تليه : أكثر أنواع الحدود السياسية النهرية ثباتاً هو الذى يتفق مع.....

- Ⓐ سطح المجرى النهري.
Ⓑ إحدى ضفتى النهر.
Ⓒ خط المنتصف.
Ⓓ خط العمق الملاحى.

١٣. اختر الإجابة الصحيحة عن كل سؤال من بين الإجابات التى تليه : أى من الدول الموضحة بالخريطة المقابلة تعد الافضل في امتلاك القوة المورفولوجية



- Ⓐ الدولة 3
Ⓑ الدولة 2
Ⓒ الدولة 4
Ⓓ الدولة 1

١٤ . اختر الإجابة الصحيحة عن كل سؤال من بين الإجابات التى تليه : تقدم المنظمات الدولية مساعدات إنسانية للفلسطينيين والسوريين بدول العالم نتيجة.....

- العولمة السلبية.
- الهجرة الإجبارية.
- الهجرة غير الشرعية.
- الحروب العالمية.

١٥ . اختر الإجابة الصحيحة عن كل سؤال من بين الإجابات التى تليه : يقل تأثير مصدر الطاقة الموضح بالصورة المقابلة فى العلاقات السياسية الدولية بسبب.....



النفط

- تأثيره السلبى على البيئة.
- قلة إنتاجه فى الدول المتقدمة.
- استخدامه فى مناطق استخراج.
- ثقل وزنه وصعوبة نقله.

١٦ . اختر الإجابة الصحيحة عن كل سؤال من بين الإجابات التى تليه : استطاع مجلس التعاون لدول الخليج العربى.....

- تنويع الإنتاج بطريقة اقتصادية.
- تحديد تعريف موحدة على السلع المستوردة.
- توحيد النظم السياسية بين الدول الأعضاء.
- تنسيق السياسات المالية والنقدية بين الأعضاء.

١٧ . اختر الإجابة الصحيحة عن كل سؤال من بين الإجابات التى تليه : ضوء دراستك للخريقتين التاليتين تشابه جزيرة تسمانيا مع جزر هاواى فى



- تبعيتها للحكومة المركزية فى كل القرارات.
- موقعها الاستراتيجى على خريطة العالم.
- وجود عاصمة الدولة بها.

١٨ . اختر الإجابة الصحيحة عن كل سؤال من بين الإجابات التى تليه : بالرغم من تميز دول الوطن العربى ببساطة التركيب اللغوى إلا أن الجهات الشرقية منه فى السنوات الأخيرة التفتت بعض هذه المميزات نتيجة

- اعتماد أكثر من لغة رسمية.
- الانفتاح على الحضارات الأوروبية.
- استخدام نظم التعليم الحديثة.
- ارتفاع معدلات الزيادة غير الطبيعية.

١٩ . اختر الإجابة الصحيحة عن كل سؤال من بين الإجابات التى تليه : يشتمل النظام العالمى الجديد على عدة حقائق منها.....

- التواصل بين دول العالم هو العامل المؤثر فى ظهوره.
- تضال دول روسيا فى العلاقات الدولية.
- هيمنة الصراعات الأيدولوجية على العلاقات الدولية.
- ظهور الأحادية القطبية وانتهاء الحرب الباردة.

٢٠. اختر الإجابة الصحيحة عن كل سؤال من بين الإجابات التى تليه : نتوقع عند حدوث الكوارث الطبيعية أن تكون الدولة الأكثر تضرراً هي.....

- جيبوتى. ○ روسيا. ○ إسبانيا. ○ المغرب.

٢١. اختر الإجابة الصحيحة عن كل سؤال من بين الإجابات التى تليه يتضح من الخريطة التالية أن هيئات النظام السياسى فى صورته التنظيمية تقع فى منطقة القلب التى يشير إليها رقم



- (1) ○
(2) ○
(3) ○
(4) ○

٢٢. اختر الإجابة الصحيحة عن كل سؤال من بين الإجابات التى تليه : أى مما يلى يخرج من كونه مشكلة سياسية للدولة ؟.....

- زيادة حجم السكان. ○ الصراع على القوى المحركة.
○ نقص الحبوب الغذائية. ○ تهديد الأمن المائى.

٢٣. اختر الإجابة الصحيحة عن كل سؤال من بين الإجابات التى تليه : تأثرت دولة اليابان فى اختيار العاصمة العالية بالنواحى.....

- الثقافية. ○ الاقتصادية. ○ العسكرية. ○ السياسية.

٢٤. اختر الإجابة الصحيحة عن كل سؤال من بين الإجابات التى تليه تتشابه الدولتان الموضعتان على الخريطةين التاليتين فى



- عدد الدول المجاورة.
○ وجود مشكلة أقليات.
○ أهمية الموقع المركزى.
○ الإشراف على مواقع استراتيجية.

٢٥. اختر الإجابة الصحيحة عن كل سؤال من بين الإجابات التى تليه : انتهى الصراع الأيدولوجى بين الكتلتين الشرقية والغربية بنهاية الحرب الباردة، ويتضح نتائج ذلك من خلال.....

- إعلان الميثاق العالمى لحقوق الإنسان.
○ تمتع كل من روسيا والولايات المتحدة الأمريكية بحق الفيتو.
○ انضمام روسيا والولايات المتحدة الأمريكية لنفس التكتل الاقتصادى.
○ ظهور الثورة المعلوماتية الثالثة.

٢٦. اختر الإجابة الصحيحة عن كل سؤال من بين الإجابات التى تليه : بتحليل الصادرات المصرية المستهدفة داخل كتل الكومبسا نجد أن مصر تمتلك.....

- صناعات استراتيجية.
- قوة مورفولوجية.
- معادن استراتيجية.
- قوة تنظيمية.

٢٧. اختر الإجابة الصحيحة عن كل سؤال من بين الإجابات التى تليه نستنتج من الخريطة المقابلة ان اماره اندروا تواجه بعض المشكلات منها



- صعوبة وجود ثروات معدنية.
- صعوبة حماية حدودها السياسية.
- اختفاء المواقع المناسبة لعملية المراقبة.
- ضرورة التنسيق مع حكومات الدول المجاورة.

٢٨. اختر الإجابة الصحيحة عن كل سؤال من بين الإجابات التى تليه : لعب الاستعمار الاوروبى دورا فى رسم الحدود السياسية بين دولتي.....

- الولايات المتحدة الأمريكية والمكسيك.
- روسيا ومنغوليا.
- بارجواى وبوليفيا.
- السويد والنرويج.

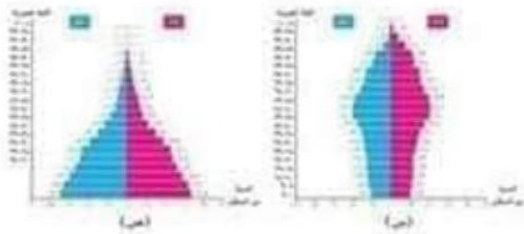
٢٩. اختر الإجابة الصحيحة عن كل سؤال من بين الإجابات التى تليه : أى مما يلى يمثل واجهة سياسية عالمية للاتحاد الأوروبى؟.....

- الجهاز التنفيذى.
- السلطة التشريعية.
- المجلس الأوروبى.
- مجلس الاتحاد الأوروبى.

٣٠. اختر الإجابة الصحيحة عن كل سؤال من بين الإجابات التى تليه : «مرت مصر بفترة زمنية وقعت فيها تحت احتلال الرومان الذين اعتبروها مخزن للقلال ليكفى حاجة السكان الرومان». تنطبق هذه العبارة حاليًا مع.....

- النظام العالمى الجديد.
- العلاقات الدولية.
- دراسة الوحدات السياسية.
- التحليل السياسى للقوة.

٣١. اختر الإجابة الصحيحة عن كل سؤال من بين الإجابات التى تليه : ضوء تحليلك للهرمين السكانيين التاليين نستنتج اختلاف الدولة (س) عن الدولة (ص) فى



- تقارب نسبة الذكور والإناث.
- انخفاض فئة قوة العمل.
- ارتباط ارتفاع معدل الإعالة بكمبار السن.
- ارتباط ارتفاع معدل الإعالة بصغار السن.

٣٢. اختر الإجابة الصحيحة عن كل سؤال من بين الإجابات التي تليه : امتلكت الدول المنضمة لحلف وارسو الحق في.....

- رسم سياسات الدول الأعضاء.
○ التدخل في الشؤون الداخلية للدول الأعضاء.
○ تغيير الأنظمة السياسية للدول الأعضاء.
○ رفض دخول دول جديدة للحلف.

٣٣. اختر الإجابة الصحيحة عن كل سؤال من بين الإجابات التي تليه : ساهمت عدة جهات في حل المشكلات الخاصة بالبوسة والهرسك منها.....

- حلف الناتو والأمم المتحدة.
○ حلف الناتو وعصبة الأمم.
○ الأمم المتحدة وحلف وارسو.
○ حلف وارسو وعصبة الأمم.

٣٤. اختر الإجابة الصحيحة عن كل سؤال من بين الإجابات التي تليه : أي من المسطحات المائية الآتية والتي تشرف عليها الدول العربية تعد الأكثر احتياجاً لتشديد الرقابة للحد من استقبال الهجرات غير الشرعية ؟

- البحر الأحمر.
○ البحر المتوسط.
○ بحر العرب.
○ المحيط الأطلنطي.

٣٥. اختر الإجابة الصحيحة عن كل سؤال من بين الإجابات التي تليه : بالرغم من تميز السويد بالشكل المستطيل (امتداد طولي) إلا أنها تفتقر للتنوع المناخي بسبب.....

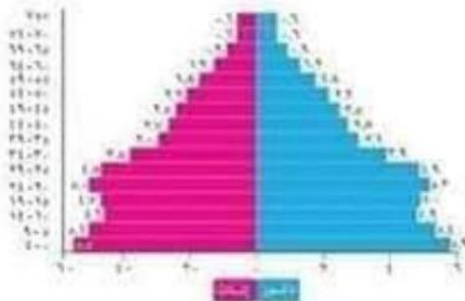
- صغر المساحة.
○ عدم تنوع التضاريس.
○ الموقع الفلكي.
○ الموقع الجغرافي.

٣٦. اختر الإجابة الصحيحة عن كل سؤال من بين الإجابات التي تليه : يُعد القاسم المشترك بين معظم العوامل الجغرافية التي تؤثر على مستقبل خريطة العالم السياسية.....

- ازدهار الأوضاع الاقتصادية للدول.
○ وجود تأثير على تماسك الدول.
○ الثورة الصناعية الثالثة.
○ اختفاء الإمبراطوريات العظمى.

٣٧. اختر الإجابة الصحيحة عن كل سؤال من بين الإجابات التي تليه أي من التقنيات الحديثة التالية ساهمت في توفير الشكل المقابل والذي يستفاد منه كمؤشر لمدي قوة الدولة

- وسائل الاتصال اللاسلكية.
○ الاستشعار من بُعد.
○ نظم المعلومات الجغرافية.
○ التصوير الجوي والفضائي.



الهرم السكاني لمصر عام ٢٠١٧م.

٢٨. اختر الإجابة الصحيحة عن كل سؤال من بين الإجابات التى تليه نستنتج من الخريطة المقابلة تتش



الحدود السياسية بين دولتى فرنسا وإيطاليا مع حدود دولتى

أورجواى والأرجنتين.

○ مصر وليبيا.

○ الأرجنتين وشيلي.

○ الولايات المتحدة الأمريكية والمكسيك.

٢٩. اختر الإجابة الصحيحة عن كل سؤال من بين الإجابات التى تليه يصعب وجود مفهوم الامة في الدولة



المشار إليها بالخريطة التالية برقم

○ (3)

○ (2)

○ (4)

○ (1)

٤٠. اختر الإجابة الصحيحة عن كل سؤال من بين الإجابات التى تليه : إذا استطاعت الدول العربية تكوين

حلف عسكري واحد فإن ذلك سوف يؤدي إلى

○ زيادة الحروب مع الدول المجاورة.

○ حفظ توازن القوى فى الشرق الأوسط.

○ انهماك الدول العربية فى سباق التسلح.

٤١. اختر الإجابة الصحيحة عن كل سؤال من بين الإجابات التى تليه : أى من الدول الموقعة على الخريطة تعد

الابرز في امتلاكها قوة طبيعية ساعدتها على إنتاج ما توضحه الصورة



○ الدولة 4

○ الدولة 1

○ الدولة 2

○ الدولة 3

٤٢. اختر الإجابة الصحيحة عن كل سؤال من بين الإجابات التى تليه : أى من وظائف الحد السياسى الآتية

تكون الأكثر تأثيراً داخل الدول الأعضاء في تكتل اقتصادى واحد بعد وصوله إلى مرحلة التجارة الحرة ؟

○ الحماية الاقتصادية.

○ الوظيفة السياسية والقانونية.

○ الفصل بين الدول.

○ الحماية والأمن.

٤٣. اختر الإجابة الصحيحة عن كل سؤال من بين الإجابات التى تليه : أى من الدول الآتية تتشابه في المقومات

الطبيعية التى تجعلها مؤثرة في علاقاتها الدولية ؟

○ مالى وإيطاليا.

○ أوغندا وتونس.

○ عُمان واليمن.

○ سويسرا وفرنسا.

٤٤. اختر الإجابة الصحيحة عن كل سؤال من بين الإجابات التى تليه : أى من الدول الآتية لها القدرة على تحديد منطقة المياه المجيدة والاستفادة منها؟.....

الولايات المتحدة الأمريكية. الصومال. أورجواى. العراق.

٤٥. اختر الإجابة الصحيحة عن كل سؤال من بين الإجابات التى تليه : يعد السبب الرئيسى لـ تعدد اللغات الرسمية داخل الاتحاد الكونفدرالى الذى يشمل معظم قارة أوروبا، هو الفصل بين أجزائها على أساس

إثنوغرافى. هندسى. مورفولوجى. أيدولوجى.

نموذج ١٥١

١. اختر الإجابة الصحيحة عن كل سؤال من بين الإجابات التى تليه : لـ ضوء دراستك للخريطة المقابلة نجد أنه لـ حالة انضمام كشمير لدولة الصين فسيؤدى ذلك إلى



دول جنوب وجنوب شرق آسيا

زيادة عدد الدول المجاورة للهند.

وجود حدود بين الصين وباكستان.

تغيير شكل دولة أفغانستان.

زيادة الحدود البحرية للصين.

٢. اختر الإجابة الصحيحة عن كل سؤال من بين الإجابات التى تليه : بتحليل الخريطة المقابلة، تُعد أكثر



العوامل تأثيراً على الأنشطة الاقتصادية بولاية ألاسكا الأمريكية.....

المناخ.

التضاريس.

النبات الطبيعى.

الموقع الجغرافى.

٣. اختر الإجابة الصحيحة عن كل سؤال من بين الإجابات التى تليه : لعبت الأمم المتحدة دوراً هاماً لـ تفاقم المشكلة السياسية بين دولتى.....

المغرب وإسبانيا.

السعودية واليمن.

٤. اختر الإجابة الصحيحة عن كل سؤال من بين الإجابات التى تليه : من خلال دراستك للخريطة المقابلة، أى

مما يلى يعبر عن دولتان غير عربيتان بينهما اتفاقية لتنظيم أمور الرعى؟.....

(١) و (٢) (٣) و (٤) (٥) و (٦) (١) و (٤)

٥. اختر الإجابة الصحيحة عن كل سؤال من بين الإجابات التى تليه : تزداد صلاحيات السلطة التشريعية بشكل واضح لـ نظام الحكم.....

البرلمانتى. الجمهورى. شبه الرئاسى. الرئاسى.

٦. اختر الإجابة الصحيحة عن كل سؤال من بين الإجابات التي تليه : قد تخشى الهند من الاضطرابات السياسية الداخلية بسبب.....

- ⊙ تركيبتها الديموجرافي.
⊙ عدم انضمامها لأحلاف عسكرية.
⊙ ضخامة مواردها الاقتصادية.
⊙ ضعف قوتها العسكرية.

٧. اختر الإجابة الصحيحة عن كل سؤال من بين الإجابات التي تليه : ساهم وجود جبال البحر الأحمر بشرق مصر.....

- ⊙ تنشيط السياحة وسهولة تحقيق التنمية العمرانية.
⊙ قيام النشاط الصناعي وتقليل أثر البحر الأحمر على المناخ.
⊙ تحقيق التنمية وسهولة إقامة التجمعات العمرانية.
⊙ سهولة التواصل مع الدول المجاورة وقيام النشاط التعدين.

٨. اختر الإجابة الصحيحة عن كل سؤال من بين الإجابات التي تليه : لتفادي حدوث المشكلات بين الدول عند ترسيم الحدود السياسية يجب.....

- ⊙ عدم الاهتمام بالمسائل الصغيرة التي قد تظهر.
⊙ جمع المعلومات الدقيقة عن المناطق الحدودية.
⊙ الاعتماد على قرارات الساسة دون غيرهم.
⊙ تحديد المناطق الهامشية بين الدول.

٩. اختر الإجابة الصحيحة عن كل سؤال من بين الإجابات التي تليه : تظهر الحدود الإثنوغرافية الدينية في.....

- ⊙ جنوب آسيا.
⊙ شمال أفريقيا.
⊙ وسط أوروبا.
⊙ شمال آسيا.

١٠. اختر الإجابة الصحيحة عن كل سؤال من بين الإجابات التي تليه : تتشابه مشكلات تقسيم المياه في دولتي اليمن وإثيوبيا.

- ⊙ إيطاليا وجيبوتي.
⊙ إيطاليا وليبيا.
⊙ جيبوتي وليبيا.

١١. اختر الإجابة الصحيحة عن كل سؤال من بين الإجابات التي تليه : نستنتج من الخريطة التالية أنه عند خروج السفينة من بوغاز أشتوم الجميل فإنها بذلك قد غادرت المياه



- ⊙ التكميلية.
⊙ الإقليمية.
⊙ المحايدة.
⊙ الداخلية.

١٢. اختر الإجابة الصحيحة عن كل سؤال من بين الإجابات التي تليه : «يُعد السوق المشترك لدول الشرق والجنوب الأفريقي نموذج للتجمعات الاقتصادية في دول العالم القديم». يمكن دراسة ما توضحه العبارة السابقة من خلال.....

- ⊙ التحليل السياسي للقوة.
⊙ النظام العالمي الجديد.
⊙ الوحدات السياسية.
⊙ المشكلات السياسية.

٢٠. اختر الإجابة الصحيحة عن كل سؤال من بين الإجابات التى تليه : يُعد القاسم المشترك بين تشابه الأحلاف العسكرية والتكتلات الاقتصادية هو.....

- تركيز وجودهم فى الدول الغنية.
○ عدد الدول المنضمة.
○ قابلية الظهور والاختفاء على خريطة العالم.
○ أقدمية الانتشار على الخريطة السياسية.
٢١. اختر الإجابة الصحيحة عن كل سؤال من بين الإجابات التى تليه : أكثر الاقليات انتشارا بالدولة



الموضحة في الخريطة التالية هي الأقلية

- اليابانية.
○ الهندية.
○ الروسية.
○ الباكستانية.

٢٢. اختر الإجابة الصحيحة عن كل سؤال من بين الإجابات التى تليه : قيام حلف الناتو عام ٢٠١١م بحملة جوية في ليبيا يؤكد على.....

- تحقيق الديمقراطية وسيادة القانون.
○ دوره فى نشر السلام العالمى.
○ احترامه لحقوق الإنسان والأقليات.
○ دوره فى الأزمات بالشرق الأوسط.
٢٣. اختر الإجابة الصحيحة عن كل سؤال من بين الإجابات التى تليه : يصبح الحد السياسى نهائياً بين الدول بعد.....

- استخدام المسح الميدانى.
○ وضع معاهدة الحد.
○ اعتراف المجتمع الدولى.
○ تحديد الموارد الأرضية.
٢٤. اختر الإجابة الصحيحة عن كل سؤال من بين الإجابات التى تليه : تجتمع العاصمة وقلب الدولة معاً في مدينة.....

- مكة.
○ الرياض.
○ واشنطن.
○ القاهرة.
٢٥. اختر الإجابة الصحيحة عن كل سؤال من بين الإجابات التى تليه : تلعب اليابان دوراً هاماً في النظام العالمى الجديد بسبب.....

- تطورها التكنولوجى.
○ موقعها الجغرافى.
○ قوتها العسكرية.
○ حجم سكانها.
٢٦. اختر الإجابة الصحيحة عن كل سؤال من بين الإجابات التى تليه : يرتبط تعرض الدولة للضغوط الخارجية ب.....

- انتهاء الصراع الأيدولوجى.
○ ثورة الاتصالات الحديثة.
○ عجز الميزان التجارى.
○ ظهور المنظمات الدولية.

٢٧. اختر الإجابة الصحيحة عن كل سؤال من بين الإجابات التى تليه : أى من الدول الآتية تمسكت بالطرق السلمية لحل المشكلة الحدودية بينهما؟.....

- الهند وبنجلاديش.
○ المغرب وإسبانيا.
○ إسبانيا وفرنسا.
○ الهند وباكستان.

٢٨. اختر الإجابة الصحيحة عن كل سؤال من بين الإجابات التى تليه : توجد علاقة بين مجلس الاتحاد الأوروبى والبرلمان الأوروبى فى.....

- إصدار القرارات.
○ الوظيفة التنفيذية.
○ الوظيفة التشريعية.
○ إبرام المعاهدات.

٢٩. اختر الإجابة الصحيحة عن كل سؤال من بين الإجابات التى تليه : توقيع معاهدة الصداقة والتعاون والمساعدة المتبادلة ارتبط بشكل مباشر ب.....

- أسيس حلف الناتو ١٩٤٩م.
○ انضمام ألمانيا الغربية لسياسة التسلح الجماعى.
○ وصول جورباتشوف للحكم.
○ انتهاء الحرب العالمية الثانية.

٣٠. اختر الإجابة الصحيحة عن كل سؤال من بين الإجابات التى تليه : التكتل الاقتصادى الذى يضم فى عضويته بعض دول العالم القديم والحديث معاً هو.....

- منتدى التعاون الاقتصادى (الأبيك).
○ اتحاد المغرب العربى.
○ السوق المشتركة لدول الشرق والجنوب الأفرقى.
○ مجلس التعاون لدول الخليج العربى.

٣١. اختر الإجابة الصحيحة عن كل سؤال من بين الإجابات التى تليه : ترتب على حدوث نزاعات غير مسلحة بين الدول فى النصف الثانى من القرن العشرين إلى الاتجاه نحو.....

- إنشاء عصبة الأمم.
○ تكوين الأحلاف العسكرية.
○ قلة الإنفاق العسكرى.
○ تكوين التكتلات الاقتصادية.

٣٢. اختر الإجابة الصحيحة عن كل سؤال من بين الإجابات التى تليه : نتج عن التغيرات التى شهدتها خريطة العالم السياسية فى أواخر القرن العشرين.....

- انتهاء الحروب الأهلية وقلة العنف.
○ ضعف القوة العسكرية الروسية.
○ تمتع الدول بالسيادة الوطنية.
○ انتشار فلسفة العولمة الغربية.

٣٣. اختر الإجابة الصحيحة عن كل سؤال من بين الإجابات التى تليه : فى ضوء دراستك للخريطة المقابلة لى تتصل دولة افريقيا الوسطى بالعالم الخارجى من الافضل لها التعاون مع دولة



خريطة أفريقيا السياسية

- تشاد.
○ الكاميرون.
○ نيجيريا.
○ جنوب السودان.

٣٤. اختر الإجابة الصحيحة عن كل سؤال من بين الإجابات التي تليه : تتشابه دولة مصر مع دولة المغرب L

- عدد الدول المجاورة.
- مساحة الدولة.
- الموقع الاستراتيجي.
- شكل الدولة.

٣٥. اختر الإجابة الصحيحة عن كل سؤال من بين الإجابات التي تليه : تأثرت الحدود السياسية بعوامل التعرية بين.....

- مصر والسودان.
- أوغندا وكينيا.
- الولايات المتحدة الأمريكية والمكسيك.
- الصين والهند.

٣٦. اختر الإجابة الصحيحة عن كل سؤال من بين الإجابات التي تليه : كان من المتوقع إذا تميز إقليم كتالونيا بانبساط السطح فإن ذلك سيؤدي لـ.....

- زيادة قدرة إسبانيا في المراقبة والدفاع.
- تعزيز روح الانفصال عن إسبانيا.
- صعوبة التطور العمراني بإسبانيا.
- زيادة روح التماسك والترابط.

٣٧. اختر الإجابة الصحيحة عن كل سؤال من بين الإجابات التي تليه : استطاعت الدول المتقدمة تحقيق التجانس بين سكانها عن طريق.....

- رفض تعدد اللغات.
- زيادة الحجم السكاني.
- استيعاب التنوع الديني.
- زيادة قوتها العسكرية.

٣٨. اختر الإجابة الصحيحة عن كل سؤال من بين الإجابات التي تليه : تستمد الدولة قوتها الاقتصادية من.....

- زيادة حجم صادراتها عن وارداتها.
- تحقيق رفاهية في مستوى المعيشة.
- الاتجاه نحو التخصص في الإنتاج الزراعي.
- رفض الاتجاه نحو العولمة الاقتصادية.

نموذج (١)

(١) كيلين

(٢) الشكل الثانى

(٣) ضبط معدلات النمو السكانى

(٤) حسن استغلال الإمكانيات الجغرافية

(٥) النظام السياسى الذى يتبعه الاتحاد الاوروبى

(٦) فقيرة اقتصاديا

(٧) ليبيا

(٨) التعريف والتحديد

(٩) وجود الاتصال الأرضى بين أعضاؤه

(١٠) تفكك الكتلة الشيوعية

(١١) يغلب على سطحها الطابع السهلى

(١٢) الزراعية

(١٣) نقد منظمة الأمم المتحدة

(١٤) ملغى



(١٥) تضاؤل الأثر السلبي للتركيب النوعي

(١٦) الحدود الخطية

(١٧) الإقليمية

(١٨) بوج والسين

(١٩) طريقة اختيار أعضاء البرلمان

(٢٠) العامل المناخى

(٢١) محدودية التركيب الاقتصادى

(٢٢) حركة السكان

(٢٣) اختفاء بروز دولة ناميبيا

(٢٤) السوق المشتركة

(٢٥) تابعة للعاصمة السياسية

(٢٦) (١)، (٥)

(٢٧) ظهور دول النمر الآسيوية

(٨) التنظيمية والديموجرافية

(٩) وجود تعاون عسكرى بينهما



(١٠) موريتانيا

(١١) تفاقم مشكلة المغرب السياسية

(١٢) العمق الجغرافي وتصنيف العاصمة

(٣٣) أفريقيا الوسطى

(٣٤) تجانس سكانى

(٣٥) (٢)

(٣٦) المستوى التعليمى

(٣٧) الرابعة

(٣٨) مستقبله للهجرات من الشباب

(٣٩) الثورة الصناعية الأولى

(٤٠) يختلفون فى الحقوق

(٤١) الموارد الاقتصادية

(٤٢) الاتصال الأرضى

(٤٣) المحافظة على استدامة الموارد

(٤٤) سبب نشأة الحد



(٤٥) وقفت على الحياد اثناء الحرب الباردة

(١) ملغى

النموذج (٢)

(٢) انعدام مشروعية هدفها الخارجى

(٣) سقوط نظرية الحد الآمن

(٤) سوء تخطيط الخريطة الإدارية

(٥) جنوب السودان - النمسا - باراجواى

(٦) التعريف والتحديد

(٧) التمتع بالشهرة السياحية

(٨) كانت ذات طابع سهلى

(٩) آسيا

(١٠) الوحدات السياسية

(١١) جنوب غرب أوروبا

(١٢) تحقيق الهدف الداخلى للجيوبولتيك



(١٣) الافتقاد للمقومات الجغرافية

(١٤) ضيق الواجهة البحرية

(١٥) السيادة القومية

(١٦) المنتظم

(١٧) الظروف التي أدت إلى نشأتها

(١٨) المياة الملاصقة

(١٩) تنوع الأنشطة الاقتصادية

(٢٠) وجود أكثر من نواة

(٢١) الحلف المركزي

(٢٢) احترام سيادة الدول على أراضيها

(٢٣) وجود حدود مشتركة بين الصين وباكستان

(٢٤) منتدى التعاون الاقتصادي (الأبيك)

(٢٥) بوج

(٢٦) تفكك الكتلة الشرقية وانهايار حلف وارسو

(٢٧) تفعيل دور النظام السياسى فى صورته الاجتماعية



(٣٨) استقبالهما لهجرة شرعية وهجرة غير قانونية

(٣٩) تغيير مجرى النهر

(٣٠) رفع الحواجز الجمركية

(٣١) قلة عدد السكان في جزئها الشمالي

(٣٢) القديم

(٣٣) يصعب حمايتها رغم سهولة ضبطها إداريا

(٣٤) المورفولوجية والعسكرية

(٣٥) تمتعه بسمات الأمة الواحدة

(٣٦) غرب أمريكا الجنوبية

(٣٧) مستقبل الخريطة السياسية

(٣٨) سياسية واقتصادية

(٣٩) زيادة الوزن الاقتصادي لبعض الدول النامية

(٤٠) البوسنة والهرسك وفلسطين

(٤١) الحفاظ على سيادة الدول الأعضاء

(٤٢) وجود نهر محلي



(٤٣) زيادة السيادة الإقليمية لدولة زامبيا

(٤٤) دولة (٤)

(٤٥) المجلس الأوروبي والمجلس الأعلى لمجلس التعاون لدول الخليج العربي

(٤٦) انتشار الأقليات القومية بها

نموذج (٣)

(١) (ص)

(٢) تدعيم سيادتها القومية

(٣) صعوبة الاتصال بين أجزاء الدولة

(٤) موضوع الدراسة

(٥) لاختلال التوازن الدول

(٦) الإثنوغرافية اللغوية

(٧) الأقليات والجبال

(٨) حسن الإدارة الداخلية

(٩) إيطاليا



(١٠) أوروبا وآسيا

(١١) اقتصادية

(١٢) المحايدة

(١٣) الدولة (ص)

(١٤) المركزية في الدولة الفيدرالية

(١٥) مجلس التعاون لدول الخليج العربي

(١٦) (ص)

(١٧) الأولى

(١٨) تشابك العلاقات الدولية

(١٩) المجلس الأوروبي

(٢٠) السياحة

(٢١) الصين

(٢٢) وفرة إنتاجها الغذائي

(٢٣) مقدار المعدات العسكرية

(٢٤) تونس وفرنسا



(٢٥) قبل ظهور الاستقطاب العالمي

(٢٦) ليبيا وتونس

(٢٧) خط العمق الملاحى

(٢٨) السلع

(٢٩) شكلها وتوزيع الأقلية بها

(٣٠) روسيا

(٣١) ألمانيا

(٣٢) بولندا وأوكرانيا

(٣٣) تفكك المنظومة الأمنية للكتلة الشيوعية الشرقية

(٣٤) تنوع التركيب الجيولوجى

(٣٥) نواة الدولة

(٣٦) الخصائص المناخية

(٣٧) الابتعاد عن سياسة التسلح المنفرد

(٣٨) ليسوتو

(٣٩) الإيمان بأهمية الأحلاف العسكرية

(٤٠) القوة التنظيمية

(٤١) تلى المياه الإقليمية

(٤٢) النظام العالمى الجديد

(٤٣) (٣)

(٤٤) نقص العمالة المحلية

(٤٥) زيادة عدد دول شرق أوروبا



النموذج (٤)

(١) بلجيكا

(٢) صعوبة تعرضها لقيام حركات انفصالية

(٣) تفقد أحد مواقعها الاستراتيجية

(٤) الطبيعية

(٥) إصدار عملة موحدة

(٦) زيادة طول حدود الهند البرية مع الصين

(٧) النزاعات الدولية

(٨) التعيين

(٩) الحماية والدفاع

(١٠) منظمة الأغذية والزراعة

(١١) صغيرة المساحة ومفتقدة للقوة الديموجرافية

(١٢) خط العمق الملاحى

(١٣) الدولة ٤

(١٤) الهجرة الإجبارية



- (١٥) استخدامه في مناطق استخراجه
- (١٦) تحديد تعريفه موحدة على السلع المستوردة
- (١٧) تمتعها بالاستقلال في الشؤون الحياتية
- (١٨) ارتفاع معدلات الزيادة غير الطبيعية
- (١٩) ظهور الأحادية القطبية وانتهاء الحرب الباردة
- (٢٠) جيپوتى
- (٢١) (٣)
- (٢٢) زيادة حجم السكان
- (٢٣) الاقتصادية
- (٢٤) الإشراف على مواقع استراتيجية
- (٢٥) انضمام روسيا والولايات المتحدة الأمريكية لنفس التكتل الاقتصادي
- (٢٦) صناعات استراتيجية
- (٢٧) ضرورة التنسيق مع حكومات الدول المجاورة
- (٢٨) بارجواى وبوليفيا
- (٢٩) الجهاز التنفيذى

(٣٠) النظام العالمى الجديد

(٣١) ارتباط ارتفاع معدل الإعالة بكبار السن

(٣٢) رفض دخول دول جديدة للحلف

(٣٣) حلف الناتو والأمم المتحدة

(٣٤) بحر العرب

(٣٥) الموقع الفلكى

(٣٦) وجود تأثير على تماسك الدول

(٣٧) نظم المعلومات الجغرافية

(٣٨) الأرجنتين وشيلي

(٣٩) (١)

(٤٠) حفظ توازن القوى فى الشرق الأوسط

(٤١) الدولة ١

(٤٢) الحماية الاقتصادية

(٤٣) عمان واليمن

(٤٥) إثنوغرافى

(٤٤) الولايات المتحدة الأمريكية



نموذج (٥)

(١) وجود حدود بين الصين وباكستان

(٢) المناخ

(٣) المغرب وإسبانيا

(٤) ملغى

(٥) البرلمان

(٦) تركيبها الديموجرافى

(٧) قيام النشاط الصناعى وتقليل أثر البحر الأحمر على المناخ

(٨) جمع المعلومات الدقيقة عن المناطق الحدودية

(٩) جنوب آسيا

(١٠) إيطاليا وجيبوتى

(١١) الداخلية

(١٢) النظام العالمى الجديد

(١٣) يستخدم فى الملاحة الدولية

(١٤) استقبال تيارات الهجرة المختلفة



(١٥) حصول الدول على استقلالها

(١٦) تحصيل الضرائب والرسوم

(١٧) عمومية الإيرادات العامة

(١٨) سهولة استغلال مواردها

(١٩) قدم العلاقات الدولية

(٢٠) قابلية الظهور والاختفاء على خريطة العالم

(٢١) الروسية

(٢٢) دوره في الأزمات بالشرق الأوسط

(٢٣) اعتراف المجتمع الدول

(٢٤) القاهرة

(٢٥) تطورها التكنولوجي

(٢٦) عجز الميزان التجاري

(٢٧) المغرب وإسبانيا

(٢٨) الوظيفة التشريعية

(٢٩) انضمام ألمانيا الغربية لسياسة التسليح الجماعي



(٣٠) منتدى التعاون الاقتصادي (الأبيك)

(٣١) تكوين الأحلاف العسكرية

(٣٢) انتشار فلسفة العولمة الغربية

(٣٣) الكاميرون

(٣٤) الموقع الاستراتيجي

(٣٥) الولايات المتحدة الأمريكية والمكسيك

(٣٦) زيادة روح التماسك والترابط

(٣٧) استيعاب التنوع الديني

(٣٨) زيادة حجم صادراتها عن وارداتها

