

السؤال الأول : أكتب المفهوم الذي تشير إليه كل عبارة

أولاً : الجغرافيا

١ - نشاط عرفه الإنسان منذ ما يقرب من ٥٠٠٠ سنة وعرف معه الاستقرار في الأراضي الخصبة على ضفاف الأنهار (النشاط الزراعي)

٢ - نوع من الزراعة ينتشر في المناطق الحارة على هوامش الغابات الاستوائية وحشائش السافانا

(الزراعة البسيطة أو البدائية)

٣ - يقصد بها زراعة الأرض أكثر من مرة في العام الواحد لإشباع حاجة السكان المحليين من الغذاء

(الزراعة الكثيفة)

٤ - نوع من الزراعة تنتشر في المناطق الحارة و المعتدلة (الزراعة الكثيفة)

٥ - زراعة تعرف بنظام الزراعة الواسعة وتهدف للإنتاج التجاري الضخم (الزراعة التجارية والعلمية)

٦ - هو الغذاء الرئيسي لمعظم شعوب العالم ويصنع منه الخبز والمكرونه والحلويات (القمح)

٧ - محصول مداري هام لإنتاج الخيوط التي تستخدم في صناعة أجود أنواع الملابس والمنسوجات (القطن)

٨ - يستخرج من عصارة اشجار استوائية وتايلاند أولى دول العالم في إنتاجه (المطاط الطبيعي)

٩ - نبات دائم الخضرة موطنه الأصلي شرق الصين (الشاي)

١٠ - تعتبر القارة الأكبر في العالم في إنتاج القمح و القطن و المطاط الطبيعي و الشاي و الفحم و البترول (آسيا)

١١ - أولى دول العالم إنتاجاً للقمح و القطن و الشاي (الصين)

١٢ - قارة في المركز الأول في إنتاج محصول الذرة (أمريكا الشمالية)

١٣ - دولة تعتبر أكبر دول العالم إنتاجاً لقصب السكر و السكر (البرازيل)

١٤ - أكبر الدول الأفريقية المنتجة للبنجر (مصر) ١٥ - أكبر دول العالم إنتاجاً للمطاط الطبيعي (تايلاند)

١٦ - نوع من الرعي يمارسه سكان المناطق الصحراوية في مساحات واسعة بقارات العالم (الرعي البدائي)

١٧ نوع من الرعي يوجد في مناطق الحشائش في العالم (الرعي التجاري)

١٨ - المصدر الرئيسي للحوم والألبان والجلود والصوف في العالم (الثروة الحيوانية)

١٩ - المصدر الرئيسي للحوم لغالبية سكان العالم وتدخل بنسبة كبيرة في التجارة الدولية (الأبقار)

٢٠ - ترتبط تربيتها بالمراعي التجارية الواسعة وأولى دول العالم فيها الصين (الأغنام)

٢١ - تمثل الغذاء الرئيسي لكثير من سكان العالم خاصة في المناطق الساحلية على البحار والمحيطات

(الأسماك)

٢٢ - أكبر دول العالم في إنتاج الأبقار والألبان (الهند)

٢٣ - أكبر دول العالم في إنتاج الأغنام واللحوم "معظمه من الخنزير" والأسماك (الصين)

٢٤ - أكبر دول العالم في إنتاج الأصواف من أغنام المارينو الشهيرة (أستراليا)

٢٥ - أكبر دول العالم في إنتاج الدواجن (الولايات المتحدة الأمريكية)

٢٦ - دولة بأمريكا الجنوبية تشتهر بالرعي التجاري (الأرجنتين)

٢٧ - القارة الأكبر في إنتاج الأبقار في العالم (آسيا)

٢٨ - دولة أوروبية تشتهر بتصدير الأسماك (النرويج)

٢٩ - عملية استخراج المعادن ومصادر الطاقة من فحم وبتترول وغاز طبيعي من باطن القشرة الأرضية أو بالقرب من السطح (النشاط التكتوني)

٣٠ - يعتبر من أهم المعادن المستخدمة في العديد من الصناعات مثل صناعة الحديد والصلب (الحديد)

٣١ - يستخدم في الكثير من الصناعات مثل الاسلاك والأدوات الكهربائية (النحاس)

٣٢ - يعتبر الخام الرئيسي لمعدن الألومنيوم وأستراليا أولى دول العالم إنتاجاً له (البوكسيت)

٣٣ - كان عماد الثورة الصناعية في أوروبا أواخر القرن ١٨ م والمصدر الأول والرئيسي للطاقة المستخدمة في العالم حتى أوائل القرن ٢٠ م (الفحم)

٣٤ - أهم مصادر الطاقة في العالم حالياً بسبب ارتباطه بالتنمية الاقتصادية والاجتماعية والعلاقات السياسية

(البترول)

٣٥ - يعد من مصادر الطاقة رخيصة الثمن وسهلة النقل والأقل تلويثاً للبيئة (الغاز الطبيعي)

٣٦ - الكهرباء التي يتم إنتاجها من الفحم والبتترول والغاز الطبيعي (الكهرباء الحرارية)

٣٧ - الكهرباء التي يتم إنتاجها من الأمواج وحركة المد والجزر والسدود والشلالات (الكهرباء المائية)

٣٨ - الدولة الأولى في العالم في إنتاج كل من الحديد ، والفحم (الصين)

٣٩ - الدولة الأولى في العالم في إنتاج كل من الألومنيوم ، والغاز الطبيعي (الولايات المتحدة الأمريكية)

٤٠ - أولى دول العالم في إنتاج النحاس (شيلي) ٤١ - أولى دول العالم في إنتاج البترول (السعودية)

٤٢ - أكثر الدول العربية في إنتاج كل من الطاقة الكهربائية من الرياح ،، والطاقة الشمسية (مصر)

٤٣ - القارة الأولى في العالم في إنتاج كل من الغاز الطبيعي ،، والطاقة النووية (أوروبا)

٤٤ - يعد في قمة الأنشطة الاقتصادية المتطورة (النشاط الصناعي)

٤٥ - تجمع اقتصادي وسياسي يضم معظم دول أوروبا ويهدف للوحدة الاقتصادية الأوروبية والتكامل

(هيئة الاتحاد الأوروبي)

٤٦ - أكبر الأقاليم الصناعية في العالم الجديد ويشمل منطقة البحيرات العظمى

(إقليم شمال شرق الولايات المتحدة)

٤٧ - يبدو في مناطق متباعدة أهمها إقليم موسكو وإقليم الأورال (إقليم روسيا وأوكرانيا)

٤٨ - إقليم صناعي أهم مراكزه جزيرة هانشو باليابان وجمهورية كوريا ومناطق بالصين (إقليم شرق آسيا)

٤٩ - نهر تعتمد عليه نيجيريا في الري والزراعة (نهر النيجر)

٥٠ - هضبة تقع وسط السهول الشمالية في نيجيريا ويستخرج منها القصدير (هضبة جوس)

- ٥١ - مناخ يسود معظم دولة نيجيريا عدا الأطراف الجنوبية التي تنتمي للمناخ الاستوائي (المداري الحار)
- ٥٢ - تعد أكبر دول قارة أفريقيا من حيث السكان وتقع غرب أفريقيا (نيجيريا)
- ٥٣ - النشاط الاقتصادي الذي تعتمد عليه نيجيريا في المقام الأول (الزراعة)
- ٥٤ محصول زراعي تعد نيجيريا أولى دول أفريقيا إنتاجاً له (المطاط)
- ٥٥ - العاصمة الحالية لنيجيريا وهي مدينة داخلية حديثة (أبوجا)
- ٥٦ - العاصمة القديمة لنيجيريا واكبر المدن وأكثرها كثافة بالسكان وتعتبر العاصمة الاقتصادية (لاجوس)
- ٥٧ - مدينة نيجيرية تعتبر مركز للتجارة والتعليم والمواصلات (إبيداتن)
- ٥٨ يعد من أكبر الأقاليم التضاريسية في ألمانيا، وهو جزء من السهل الأوروبي العظيم الخصب (السهل الألماني الشمالي)
- ٥٩ - عبارة عن هضاب متقطعة بألمانيا تفصل بينها سهول خصبة تجري فيها الأنهار، وتغطي بالغابات المخروطية وتكثر بها التلال والينابيع المائية (المرتفعات الوسطى)
- ٦٠ - المناخ الذي يسود دولة ألمانيا (مناخ غرب أوروبا)
- ٦١ - تعد العمود الفقري للإقتصاد الألماني ويعمل بها نحو ثلث القوى العاملة (الصناعة)
- ٦٢ - أهم الموانئ الألمانية وقريبة من بحر الشمال (هامبورج)
- ٦٣ - العاصمة السياسية لدولة ألمانيا (برلين)
- ٦٤ - عاصمة إقليم بافاريا جنوباً ويوجد بها مقر عدد من الشركات والمصانع الألمانية العالمية (ميونيخ)
- ٦٥ - عاصمة الولايات المتحدة الأمريكية (واشنطن)
- ٦٦ - ميناء هام على المحيط الاطلنطي وبه مقر الأمم المتحدة (نيويورك)
- ٦٧ - أكبر مدن السهول الوسطى على بحيرة متشجن (شيكاغو)
- ٦٨ - أكبر الموانئ على ساحل المحيط الهادي (سان فرانسيسكو)
- ٦٩ - من أهم المناطق الصناعية الرئيسية في الولايات المتحدة الأمريكية في الجنوب (برمنجهام)
- ٧٠ - من أهم المناطق الصناعية الرئيسية في الولايات المتحدة في الشمال الشرقي (البحيرات العظمى)
- ٧١ - من أهم المناطق الصناعية الرئيسية في الولايات المتحدة في الغرب الساحلي (سان فرانسيسكو)

السؤال الثاني : بم تفسر

أولاً : الجغرافيا

١- يعد النشاط الزراعي من الأنشطة الاقتصادية الأساسية في العالم ؟

* يمثل مصدراً رئيساً لغذاء الإنسان بجانب الأسماك والحيوانات * يرتبط بتربية الحيوان

* يعد مصدراً مهماً للمواد الخام الزراعية التي تدخل في الصناعة مثل الألياف التي تدخل في صناعة المنسوجات والمطاط الذي يدخل في صناعة إطارات السيارات

٢- تتطلب الزراعة الكثيفة أيدي عاملة وفيرة ؟

* لأنها تتم من خلال عمليات عديدة مثل بذر الحبوب والري وتنقية الحشائش

٣- زراعة الأرض أكثر من مرة في العام الواحد في الزراعة الكثيفة ؟

* لإشباع حاجة السكان المحليين من الغذاء

٤- يصعب استخدام الآلات والميكنة الزراعية في الزراعة الكثيفة ؟

* لصغر مساحات الحقول الزراعية

٥- أهمية الزراعة التجارية والعلمية ؟

* تهدف للإنتاج التجاري الضخم

٦- يعتبر القمح الغذاء الرئيسي لمعظم شعوب العالم ؟

* حيث يصنع منه الخبز والمكرونه والحلويات وينتج في كل قارات العالم

٧- أهمية محصول الذرة في امريكا الشمالية ؟

* يستخدم معظم الإنتاج كعلف للماشية ويصدر جزء منه إلى الخارج

٨- زراعة قصب السكر في جميع القارات ماعدا أوروبا ؟

* حيث يحتاج لدرجة حرارة مرتفعة وكمية مياه وفيرة ، ولوقوع أوروبا في المنطقة المعتدلة

٩- تركز زراعة البنجر في دول أوروبا مثل فرنسا وامريكا الشمالية في الولايات المتحدة ؟

بسبب ملاءمة ظروف المناخ والتربة الزراعية في تلك المناطق لزراعته

١٠- أهمية محصول القطن ؟

* ينتج الخيوط التي تستخدم في صناعة أجود أنواع الملابس والمنسوجات ويعد مصدراً لاستخراج زيت بذرة القطن والأعلاف

١١- يعد القطن في مصر والسودان من أجود أنواع القطن في العالم ؟

* لان معظمه من الأنواع طويل النيلة

١٢- أهمية المطاط الطبيعي ؟

* تصنع منه إطارات السيارات وصناعات أخرى

- ١٣ - للشاي خصائص معينة تحتاجها زراعته ؟
* يحتاج إلى تربة خصبة خفيفة ومناخ حار وهواء رطب ومطر غزير
- ١٤ - يعتمد الرعي التجاري على الأساليب العلمية الحديثة ؟
* لإنتاج الألبان واللحوم حيث يرعى كل نوع من الحيوانات في مزارع خاصة به
- ١٥ - قل عدد القائمين بحرفة الرعي البدائي في شبه الجزيرة العربية وبادية الشام ؟
* بسبب توطين البدو لتدفق البترول
- ١٦ - قل عدد القائمين على حرفة الرعي البدائي في دول وسط آسيا ؟
* بسبب انتشار التعليم بين القبائل وتغير نشاطهم للعمل بالصناعة والزراعة والخدمات
- ١٧ - أهمية الثروة الحيوانية في العالم ؟
* تعد المصدر الرئيسي لإنتاج اللحوم والألبان بجانب الجلود والصوف وغيرها
- ١٨ - الصين والهند وأستراليا من أوائل الدول في تربية الأغنام ؟
* بسبب توافر الحشائش حيث ترتبط تربية الأغنام بمناطق المراعي التجارية الواسعة
- ١٩ - زاد معدل الاستهلاك العالمي للحوم ؟
* بسبب ارتفاع مستوى المعيشة في كثير من دول العالم
- ٢٠ - تعتبر أستراليا أولى دول العالم في إنتاج الأصواف ؟
* بسبب وجود أغنام المارينو فيها والتي تتميز بغزارة صوفها
- ٢١ - إنتاج الألبان في مصر لا يكفي سكانها ؟
* لزيادة الاستهلاك من الألبان ولزيادة السكان في مصر
- ٢٢ - تربية الدواجن في كل دول العالم تقريباً ؟
* لأنها تساهم في إنتاج اللحوم والبيض وسد حاجة السكان من الغذاء
- ٢٣ - هناك عدة عوامل بشرية وطبيعية تساعد في تطور حرفة الصيد في العالم ؟
* ضحالة المياه الساحلية وغناها بالمواد الغذائية
- *التقاء التيارات البحرية الدافئة مع الباردة
* توفر الموانئ لرسو سفن الصيد
* توفر الخبرات الفنية والعلمية في صناعة مراكب وأدوات الصيد والثلاجات
* التوسع في تربية الأسماك على أسس علمية حديثة
- ٢٤ - تحتل الصين المركز الأول في إنتاج الأسماك بأكثر من ثلث إنتاج العالم ؟
* بسبب مصادها على المحيط الهادي والأنهار والبحيرات ومزارع تربية الأسماك
- ٢٥ - وجود إندونيسيا والولايات المتحدة في المراكز المتقدمة بعد الصين في إنتاج الأسماك بالعالم ؟
* يرجع ذلك لطول السواحل على البحار والمحيطات وكذلك تقدم وسائل الصيد

٢٦ - تستهلك الدول المتقدمة نحو %٨٥ من معادن العالم رغم أن بها نحو ١٥ سكان العالم فقط ؟
حيث تتوفر بها الصناعات المختلفة التي تقوم على هذه المعادن

٢٧ - يدخل %٣٠ من الإنتاج العالمي للحديد في التجارة الدولية ؟

* حيث تقوم الدول النامية مثل موريتانيا بتصدير خام الحديد إلى الدول الصناعية المتقدمة مثل اليابان وبريطانيا

٢٨ - بالرغم من أن بريطانيا دولة منتجة للحديد إلا أنها من أهم الدول المستوردة له ؟

* لأنها من الدول الصناعية المتقدمة والتي تنتشر فيها الصناعة بشكل كبير

٢٩ - أهمية معدن النحاس ؟

* يستخدم في الكثير من الصناعات مثل الأسلاك والأدوات الكهربائية

٣٠ - أهمية معدن البوكسيت ؟ * يعد الخام الرئيسي لمعدن الألومنيوم

٣١ - تقوم الدول النامية المنتجة للبوكسيت بتصديره لدول المتقدمة ؟

* لعدم توافر مقومات تحويل البوكسيت إلى الألومنيوم في الدول النامية من طاقة كهربائية وفيرة وخبرات متطورة وأسواق محلية وخارجية تستوعب الإنتاج

٣٢ - أهمية مصادر الطاقة في حياة الإنسان ؟

* تعد مصادر الطاقة هي القوى المحركة لحياة الإنسان في جميع المجالات ومن الموارد الطبيعية المهمة التي لا غنى عنها على مستوى الاستخدامات البشرية المختلفة أو على مستوى الصناعة

٣٣ - لم يعد الفحم المصدر الأول للطاقة في العصر الحديث ؟

* لظهور أنواع أخرى مثل البترول والغاز الطبيعي وكذلك مصادر الطاقة المتجددة النظيفة

٣٤ - يعد البترول أهم مصادر الطاقة في العالم ؟

* بسبب ارتباطه بالتنمية الاقتصادية والاجتماعية والعلاقات السياسية، ويشكل مع الغاز الطبيعي نحو ٥٥% من الطاقة المستخدمة في العالم

٣٥ - ارتفاع أسعار البترول بشكل مستمر ؟

* نظراً لزيادة الطلب عليه وتعدد استخداماته ولأنه من موارد الطاقة القابلة للنفاذ

٣٦ - توسع العالم في استخدام الغاز الطبيعي كبديل لمصادر الطاقة الأخرى ؟

* لأنه يعد من مصادر الطاقة رخيصة الثمن وسهلة النقل والأقل تلويثاً للبيئة

٣٧ - اتجهت بعض الدول ومنها مصر لاستخدام الطاقة الشمسية ؟

* لأنها طاقة نظيفة لا تلوث البيئة ومتجددة

٣٨ - اختلاف الصناعة من دولة لدولة في العالم ؟

* حسب نوعيتها "خفيفة أو ثقيلة" وحسب تركزها وحسب جودتها

٣٩ - قيام مراكز صناعية حديثة في دول الخليج العربي ؟

* حيث تكون معظم الصناعات بها صناعات بترولية لوفرة البترول

- ٤٠ - يسود نيجيريا المناخ الحار وسقوط المطر ؟
 * حيث تقع معظمها في نطاق المناخ المداري ذي الحرارة المرتفعة والمطر الصيفي، بينما الأطراف الجنوبية ضمن الإقليم الاستوائي ذي الحرارة الأشد ارتفاعاً وأمطار طوال العام
- ٤١ - يقل السكان في دلتا نهر النيجر جنوب نيجيريا ؟
 * بسبب وجود الغابات الكثيفة والظروف المناخية القاسية
- ٤٢ - يعد اقتصاد نيجيريا اقتصاداً نامياً ؟
 * حيث تعتمد على الزراعة في المقام الأول
- ٤٣ - توجد في نيجيريا أعداد كبيرة من الأبقار والأغنام والماعز ؟
 * بسبب وجود مراعي حشائش السافانا
- ٤٤ - تنتج نيجيريا كميات كبيرة من الأسماك ؟
 * لان بها ساحل طويل على خليج غينيا وانهار وبحيرات داخلية
- ٤٥ - أهمية مدينة لاجوس بنيجيريا ؟
 * لأنها أكبر المدن وأكثرها تكديساً بالسكان وهي مدينة ساحلية تعتبر العاصمة الاقتصادية لنيجيريا
- ٤٦ - تعتبر المرتفعات الوسطى بألمانيا مناطق جذب للسياح ؟
 * لأنها مغطاة بالغابات المخروطية وتكثر بها التلال والينابيع المانية
- ٤٧ - انكماش مساحة الحشائش في ألمانيا بالوقت الحالي ؟
 * بسبب إحلال الزراعة محلها والتوسع العمراني
- ٤٨ - يتركز السكان بالمدن الكبرى والمناطق الصناعية في ألمانيا ؟
 * حيث تتوفر فرص العمل في الشركات والمصانع العالمية
- ٤٩ - الأودية على جانبي الأنهار من مناطق تركز السكان بألمانيا ؟
 * حيث تقوم عليها الزراعة
- ٥٠ - شهدت الصناعة الألمانية توسعاً وتطوراً كبيراً بعد الحرب العالمية الثانية ؟
 * بسبب توافر مقومات الصناعة وتدفق الاستثمارات
- ٥١ - يتنوع المناخ في الولايات المتحدة الأمريكية ؟
 * بسبب كبر مساحتها وتنوع تضاريسها
- ٥٢ - يتركز ٥٠% من سكان الولايات المتحدة في إقليم نيو إنجلند ؟
 * بسبب وجود المدن الكبرى مثل نيويورك * وجود المناطق الصناعية والتجارية الكبرى
- ٥٣ - يقل السكان في نطاق المرتفعات والاحواض الغربية في الولايات المتحدة ؟
 * بسبب الظروف الطبيعية الصعبة

- ٥٤- يقل السكان في ولاية اسكا ؟ * لبرودة الجو
- ٥٥- تعد الولايات المتحدة الامريكية القوة الاقتصادية الاولى في العالم ؟
* لانها تتمتع بموارد طبيعية وفيرة ومتنوعة بالاضافة الى تعدد الأنشطة الاقتصادية وضخامه إنتاجها
- ٥٦- تتميز الولايات المتحدة الامريكية بضخامة وتنوع في الإنتاج ؟
* وجود الاراضى الزراعية الخصبة في سهول نهر المسيسبي في الوسط والجنوب الشرقى وفى الوادى الأوسط بكاليفورنيا وعلى جوانب المرتفعات * اعتمادها على التكنولوجيا الحديثة
- ٥٧- توجد ثروة سمكية كبيرة بالولايات المتحدة الامريكية ؟
* لوقوعها على محيطين كبيرين الهادى والاطلنطى * وجود الأنهار والبحيرات
- ٥٨- تنوع الأنشطة الاقتصادية في الهند ؟
* بسبب توفر الموارد الاقتصادية بالهند سواء كانت موارد زراعية أو معدنية
- ٥٩- تمتلك الهند ثروة حيوانية ضخمة ؟
* بسبب كثرة المراعى
- ٦٠- القيمة الاقتصادية المحدودة للأبقار في الهند ؟
* بسبب تحريم الديانة الهندوسية أكل لحوم الأبقار
- ٦١- تعد الهند من الدول الرئيسية المنتجة للأسمك ؟
* لأنها تطل على مسطحات مائية واسعة على خليج البنغال و البحر العربى
- ٦٢- تفوق الهند في صناعة الحديد والصلب ؟
* لأنها ثالث دول العالم في انتاج الفحم الذي يعد أساس قيام صناعة الحديد و الصلب
- ٦٣- لجوء الهند للطاقة النووية و الكهربائية ؟
* لأنها تفتقر للبتروى ومصادر الطاقة الأخرى
- ٦٤- شهدت الهند قفزات سريعة في تطوير الصناعة ؟
* بسبب توافر مقومات الصناعة بها والاهتمام بالتعليم و البحث العلمى
- ٦٥- تعاني البرازيل من قلة في السكان بالرغم من ان عدد سكانا ٢٠٣ نسمة؟
* بسبب مساحتها الواسعة ووجود اماكن شبة خالية من السكان مثل نهر الامازون
- ٦٦- تركز السكان في البرازيل في الساحل الجنوبي الشرقى ؟
* بسبب وجود المدن الرئيسية مثل ريو دي جانيرو (العاصمة القديمة) وساباولو وبسبب المناخ المعتدل الرطب
- ٦٧- امتلاك البرازيل ثروة حيوانية كبيرة ؟
* بسبب وجود المراعى الدائمة (الغنية) في شمال هضبة البرازيل
- ٦٨- تعد البرازيل من الدول المنتجة للاسماك ؟
* بسبب امتلاكها سواحل طويلة على المحيط الاطلنطى والبحر الكاريبى و وجود نهر الامازون

السؤال الثالث : اختر الاجابه الصحيحه مما بين القوسين

أولاً : الجغرافيا

- ١- تتشابه الزراعة البسيطة والزراعة الكثيفة في.....
(مناطق الزراعة - صغر المساحة الزراعية - استخدام الميكنة الحديثة - الأيدي العاملة)
- ٢- من المحاصيل المتشابهة في الزراعة الكثيفة والزراعة التجارية محصولي.....
(المطاط والشاي - القمح والشاي - القمح والقطن - المطاط والقطن)
- ٣- توجد الدولة الاكبر في إنتاج قصب السكر بقارة.....
(آسيا - أفريقيا - أمريكا الشمالية - أمريكا الجنوبية)
- ٤- يستخرج محصول..... من عصارة الأشجار الاستوائية
(المطاط الطبيعي - الذرة - الشاي - القطن)
- ٥- من الدول التي تتميز بالرعي التجاري بأمريكا الجنوبية دولة.....
(بوليفيا - الأرجنتين - شيلي - بيرو)
- ٦- يمارس سكان المناطق..... الرعي البدائي بقارات العالم
(الصناعية - الساحلية - الزراعية - الصحراوية)
- ٧- ترتبط تربية..... بالمراعي التجارية الواسعة
(الأبقار - الأغنام - الجاموس - الماعز)
- ٨- برغم أن الصين الدولة الأكبر في الاغنام إلا أن استراليا تتصدر انتاج الصوف بسبب.....
(التقدم العلمي - غزارة أغنامها بالصوف - كثرة المراعي بها - وفرة المياه العذبة)
- ٩- إنتاج الألبان لا يكفي السكان في مصر بسبب.....
(قلة السكان - قلة الإنتاج - زيادة الاستهلاك - غلاء الأسعار)
- ١٠- تتواجد دولة..... في قائمة أهم الدول المنتجة والمصدرة للأسماك
(الولايات المتحدة - اليابان - النرويج - الصين)
- ١١- من الدول العربية التي تتميز بتصدير خام الحديد للدول الصناعية دولة.....
(مصر - موريتانيا - الصومال - السعودية)
- ١٢- أي من الدول التالية تعد منتجة لمعدن البوكسيت ومصنعة للألومنيوم.....
(كندا - أستراليا - الولايات المتحدة - فرنسا)
- ١٣- يستخدم معدن..... في صناعة الأسلاك والأدوات الكهربائية
(المنجنيز - النحاس - الحديد - البوكسيت)
- ١٤- أكبر قارات العالم إنتاجاً للقمح والبتترول قارة.....
(استراليا - أوروبا - آسيا - أفريقيا)

- ١٥ - تتصدر قارة أوروبا إنتاج الغاز الطبيعي إلا أن أكبر دولة منتجة له تقع في قارة.....
(أفريقيا - أمريكا الشمالية - آسيا - أمريكا الجنوبية)
- ١٦ - من الدول العربية التي اتجهت للطاقة المتجددة دولة.....
(مصر - سوريا - الإمارات - اليمن)
- ١٧ - كل هذه الدول متقدمة صناعياً ما عدا تعتبر دولة نامية تخطو نحو مستوى الدول المتقدمة.....
(ألمانيا - الولايات المتحدة - فرنسا - الصين)
- ١٨ - من المقومات الطبيعية لقيام الصناعة.....
(المواد الخام - الأسواق - التطور التكنولوجي - العمالة الماهرة)
- ١٩ - إقليم شمال شرق الولايات المتحدة هو أكبر الأقاليم الصناعية في.....
(أمريكا الشمالية - أمريكا الجنوبية - العالم الجديد - العالم)
- ٢٠ - من المراكز الصناعية الهامة جزيرة هنشو بدولة.....
(الصين - اليابان - كوريا الشمالية - تايلاند)
- ٢١ - معظم الصناعات في دول الخليج العربي صناعات.....
(بترولية - تقليدية - حديد و صلب - معدنية)
- ٢٢ - يبدو إقليم..... الصناعي في شكل مناطق متباعدة
(غرب ووسط أوروبا - شمال شرق الولايات المتحدة - روسيا وأوكرانيا - شرق آسيا)
- ٢٣ - تقع الأطراف.....من نيجيريا في نطاق المناخ الاستوائي
(الشمالية - الجنوبية - الشرقية - الغربية)
- ٢٤ - تتصدر نيجيريا محصول..... في قارة أفريقيا
(القطن - الأرز - المطاط - القطن)
- ٢٥ - توجد في نيجيريا ثروة حيوانية كبيرة بسبب مراعي.....
(حشائش الاستبس - حشائش السافانا - حشائش التندرا - الرعاية الطبية)
- ٢٦ - أهم مصادر الطاقة التي تنتج منه نيجيريا ٣% من إنتاج العالم.....
(الفحم - الغاز الطبيعي - البترول - الكهرباء)
- ٢٧ - أكثر المدن النيجيرية كثافة سكانية.....
(أبوجا - لاجوس - إيبادان - كانو)
- ٢٨ - تتدرج تضاريس ألمانيا من الانخفاض للإرتفاع كلما اتجهنا.....
(شمالاً - شرقاً - غرباً - جنوباً)
- ٢٩ - من أكبر الأقاليم التضاريسية في ألمانيا.....
(السهل الألماني الشمالي - المرتفعات الوسطى - جبال الألب - جبال الفوج)

٣٠- يعد النشاط العمود الفقري للاقتصاد الألماني (

(الزراعي - الرعوي - الصناعي - التعدين)

٣١- تمول ألمانيا محطات توليد الكهرباء من في مصر

(المياه - الرياح - الأمواج - الفحم)

٣٢- يتمثل وجه التشابه بين المرتفعات الوسطى وجبال الألب بدولة ألمانيا في

(الغطاء النباتي - أعلى القمم الجبلية - المناخ المعتدل - السهول الخصبة)

٣٣- يحد الولايات المتحدة الأمريكية من الجنوب

(المحيط الاطلنطي - المحيط الهادي - خليج المكسيك - دولة كندا)

٣٤- يفصل الولايات المتحدة الأمريكية عن ولاية الاسكا

(المحيط الاطلنطي - المحيط الهادي - خليج المكسيك - دولة كندا)

٣٥- الولايتان الخاضعتان ل الولايات المتحدة الأمريكية وتقعان خارج موقعها الفلكي تشرفان على

(المحيط الاطلنطي - المحيط الهادي - خليج المكسيك - المحيط القطبي الشمالي)

٣٦- تقترب الولايات المتحدة من روسيا عند ولاية

(نيويورك - هاواي - الاسكا - لوس أنجلوس)

٣٧- تعد سلاسل جبال أعلى جبال نطاق المرتفعات والاحواض الجبلية الغربية ب الولايات المتحدة

(كسكيد - الأبلاش - روكي - سيرانفادا)

السؤال الرابع : ما النتائج المترتبة على

أولاً : الجغرافيا

١- صغر مساحات الحقول الزراعية في الزراعة الكثيفة ؟

* يؤدي ذلك إلى صعوبة استخدام الآلات والميكنة الزراعية

٢- استخدام أحدث الآلات الزراعية والطرق العلمية الحديثة في الزراعة التجارية ؟

* يؤدي ذلك إلى قلة التكاليف وقلة العمالة الزراعية

٣- تحتاج زراعة قصب السكر إلى درجة حرارة مرتفعة ؟

* أدى ذلك إلى زراعته في جميع القارات ما عدا قارة أوروبا لوقوعها في المنطقة المعتدلة

٤- انتشار التعليم بين قبائل دول وسط آسيا ؟

* أدى ذلك إلى قلة عدد القانمين على حرفة الرعي البدائي

٥- تدفق البترول في شبه الجزيرة العربية وبادية الشام ؟

* أدى ذلك إلى توظيف البدو وقلة عدد القانمين على حرفة الرعي البدائي بها

٦- غزارة صوف اغنام المارينو في استراليا ؟

أصبحت استراليا تتصدر انتاج الأصواف في العالم

٧- طول سواحل وتقدم وسائل الصيد في الولايات المتحدة واندونيسيا ؟

*أصبحوا من أهم الدول المنتجة للأسماك في العالم

٨-توافر النشاط الصناعي بكثرة في الدول المتقدمة ؟

* أصبحت تستهلك نحو %٨٥ من معادن العالم رغم أن بها نحو ١/٥ سكان العالم

٩- عدم توافر مقومات تحويل البوكسيت إلى ألومنيوم في الدول النامية المنتجة للبوكسيت ؟

*أصبحت تصدر البوكسيت إلى الدول المتقدمة

١٠- زيادة الطلب على البترول وتعدد استخداماته ؟

* أصبحت أسعاره في زيادة مستمرة

١١ - يعد الغاز الطبيعي من مصادر الطاقة رخيصة الثمن سهلة النقل والعقل تلويثاً للبيئة ؟

*توسع العالم في استخدامه كبديل لمصادر الطاقة الأخرى، ويستخدم في الصناعة والاستخدامات المنزلية وتوليد الطاقة الكهربائية وكوقود للسيارات بديلاً للبنزين

١٢ - الوحدة الاقتصادية الأوروبية في إقليم غرب ووسط أوروبا الصناعي ؟

*أدت إلى التكامل في الجوانب الاقتصادية وحماتها جمركياً وتدعيمها من جانب هيئة الاتحاد الأوروبي

١٣ - انتشار الغابات الاستوائية في دلتا نهر النيجر جنوب نيجيريا ؟

*أدى إلى قلة السكان في تلك المنطقة للظروف المناخية والطبيعية القاسية

١٤ - تغطية الغابات نحو ١/٣ مساحة نيجيريا ؟

* أصبحت تعد مصدراً هاماً للأخشاب من قطع الأشجار

١٥ - انتشار الغابات المخروطية والتلال والينابيع المانية في المرتفعات الوسطى بألمانيا ؟

* أصبحت تعد من مناطق جذب السياح

١٦ - التوسع العمراني والزراعة في السهل الساحلي لألمانيا ؟

* أدى إلى انكماش مساحة الحشائش في الوقت الحالي

١٧ - توافر مقومات الصناعة والمراكز العلمية المتقدمة والاستثمارات في ألمانيا ؟

* أدى إلى التوسع والتطور الكبير في الصناعة الألمانية بعد الحرب العالمية الثانية

١٨ - الاهتمام بالتعليم وتطوير البحث العلمي بالهند ؟

*ترتب على ذلك تطوير الزراعة والصناعة وبالتالي استطاعت الهند مواجهه المشكلة السكانية

١٩ - تحريم الديانة الهندوسية أكل لحوم الابقار في الهند ؟

*ترتب على ذلك أصبحت القيمة الاقتصادية للابقار الموجوده في الهند محدودة

٢٠- اشراف الهند على مسطحات مانية ساحلية طويلة ؟

* ترتب على ذلك ان أصبحت الهند من الدول الرئيسية المنتجة للأسماك

السؤال الخامس : دتل

أولاً : الجغرافيا

- ١- يعد القمح أكثر المحاصيل الزراعية انتشاراً في العالم ؟
- * حيث ينتج في جميع قارات العالم وتعد آسيا أولى القارات إنتاجاً
- ٢- هناك عوامل طبيعية وعوامل بشرية تساعد على تطور حرفة الصين وتربية الأسماك ؟

عوامل طبيعية وهي:

- أ) ضحالة المياه الساحلية وغناها بالمواد الغذائية
- ب) التقاء التيارات البحرية الدافئة مع الباردة
- ج) توافر الموانئ لرسو سفن الصيد

* عوامل بشرية وهي:

- أ) توافر الخبرات الفنية والعلمية في صناعة المراكب وأدوات الصيد والثلاجات
- ب) التوسع في تربية الأسماك على أسس علمية حديثة

٣- توجد عدة عمليات تسبق التعدين ؟

- * حيث يتم البحث والكشف عن الخامات ثم إعداد المنجم لعملية التعدين والاستخراج مثل مد الخطوط الحديدية والطرق وإنشاء مساكن العاملين

٤- يتطلب إنتاج الألومنيوم من البوكسيت عدة مقومات تتواجد في الدول المتقدمة ؟

- * وفرة الطاقة الكهربائية * خبرة علمية وفنية متطورة * سوق محلية وخارجية تستوعب الإنتاج
- ٥- أهمية الفحم الكبيرة منذ القرن ال ١٨ م ؟

- * حيث كان عماد الثروة الصناعية في أوروبا أواخر القرن ال ١٨ م والمصدر الأول والرئيسي للطاقة المستخدمة في العالم حتى أوائل القرن ال ٢٠ م

٦- توسع العالم في استخدام الغاز الطبيعي كبديل لمصادر الطاقة الأخرى ؟

- * حيث يستخدم في الصناعة على نطاق واسع وفي الاستخدامات المنزلية وفي توليد الطاقة الكهربائية وكوقود للسيارات بديلاً للبنزين للحد من تلوث البيئة

٧- تعد الصناعة الحديثة مقياساً رئيسياً لتطور الشعوب وازدهارها ؟

- * حيث أن الدول المتقدمة هي الدول التي تطورت فيها الصناعة تطوراً مذهباً أخذت بالأساليب العلمية وتطبيق الأبحاث والتجارب وتحديث المنتجات الصناعية بشكل مستمر لذلك تتركز فيها الصناعة المتطورة

٨- يعد اقتصاد نيجيريا اقتصاداً نامياً ؟

- * حيث يعتمد على الزراعة في المقام الأول

٩- تمتلك نيجيريا تميزاً كبيراً في بعض المحاصيل على مستوى أفريقيا ؟

- * حيث تعد الأولى في إنتاج المطاط في أفريقيا و الثانية في إنتاج الارز بعد مصر
- ١٠- توجد بنيجيريا ثروات معدنية ومصادر طاقة ؟

- * يوجد بها القصدير الذي يستخرج من هضبة جوس

- * الفحم ويستخرج من المنطقة الشرقية

- * البترول ويستخرج من المنطقة القريبة من الساحل الجنوبي الشرقي وتنتج ٣% من الإنتاج العالمي

١١ - توجد علاقات قوية بين مصر ونيجيريا ؟

* حيث تصدر مصر إلى نيجيريا الأسمدة والأسلاك الكهربائية والمعدات الثقيلة والاطارات والمحولات الكهربائية ومواسير الألومنيوم ونستورد منها الحبوب الزيتية

١٢ - تعد الصناعة العمود الفقري للاقتصاد الألماني ؟

* حيث يعمل بها نحو ثلث القوى العاملة في ألمانيا وتتميز بالتطور والجودة والتنوع

١٣ - توجد علاقات ثقافية وعلمية بين مصر وألمانيا ؟

* تتمثل في هيئة التبادل العلمي الألمانية، المركز الثقافي الألماني، الجامعة الألمانية بالقاهرة، معهد الآثار الألماني

١٤ - توجد علاقات اقتصادية بين مصر وألمانيا ؟

* حيث تمول ألمانيا محطات توليد الكهرباء من الرياح في مصر

* كما تصدر مصر إلى ألمانيا البترول والغاز الطبيعي والملابس بينما تستورد من ألمانيا الصناعات الكيماوية والآلات والسيارات

١٥ - وجود علاقات قوية بين مصر و الولايات المتحدة الأمريكية في مختلف المجالات ؟

* وجود اتفاقيات تعاون إقتصادي وتكنولوجي وثقافي وعلمي

* اتفاقيات تجارية بين البلدين مثل إتفاقيه منطقة التجارة الحرة * إتفاقيه الكويز

* استيراد مصر منتجات تكنولوجية حديثة وأسلحة وطائرات وغيرها

السؤال السادس : ما العلاقة بين

١ - مساحات الحقول الزراعية واستخدام الآلات والميكنة الزراعية بالزراعة الكثيفة ؟

* أدى صغر مساحات الحقول الزراعية إلى صعوبة استخدام الآلات والميكنة الزراعية بالزراعة الكثيفة

٢ - المناخ في أوروبا ومحصول قصب السكر ؟

* يزرع قصب السكر في جميع القارات ما عدا قارة أوروبا لوقوعها في المنطقة المعتدلة وهو من المحاصيل المدارية الحارة

٣ - الأشجار الاستوائية وإطارات السيارات ؟

* تصنع اطارات السيارات من المطاط الطبيعي الذي يستخرج من عصارة الأشجار الاستوائية

٤ - زراعة القطن والثروة الحيوانية ؟

* يعد القطن مصدراً لصناعة الاعلاف التي تتغذى عليها الثروة الحيوانية

٥ - انتشار التعليم بدول وسط آسيا وحرفة الرعي بها ؟

* قل عدد العاملين بحرفة الرعي البدائي في دول وسط آسيا بسبب انتشار التعليم بين القبائل

٦ - مستوى معيشة الأفراد والاستهلاك العالمي للحوم الحمراء ؟

* زاد معدل الاستهلاك العالمي للحوم الحمراء بسبب ارتفاع مستوى المعيشة للأفراد في كثير من دول العالم

٧- الدول المتقدمة ومعادن العالم ؟

* تستهلك الدول المتقدمة نحو ٨٥% من معادن العالم رغم أن بها نحو ١/٥ سكان العالم حيث تتوفر بها الصناعات المختلفة التي تقوم على هذه المعادن

٨- الفحم والثورة الصناعية في أوروبا أواخر القرن ١٨ م ؟

* كان الفحم عماد الثورة الصناعية في أوروبا أواخر القرن ال ١٨ م والمصدر الأول والرئيسي للطاقة المستخدمة في العالم حتى أوائل القرن ٢١ م

٩- الغاز الطبيعي والكهرباء ؟

* يستخدم الغاز الطبيعي في توليد الطاقة الكهربائية فيما يعرف بالكهرباء الحرارية

١٠ - الاقتصاد النيجيري والزراعة ؟

* يعد اقتصاد نيجيريا اقتصاداً نامياً يعتمد على الزراعة في المقام الأول

١١ - حشائش السافانا والثروة الحيوانية في نيجيريا ؟

* توجد في نيجيريا أعداد كبيرة من الأبقار والأغنام والماعز بسبب وجود مراعي حشائش السافانا

١٢ - الظروف الطبيعية وتوزيع السكان في نيجيريا ؟

* يقل السكان في دلتا نهر النيجر جنوب نيجيريا بسبب وجود الغابات الاستوائية الكثيفة والظروف المناخية القاسية

١٣ - قوة العمل الألمانية والنشاط الصناعي ؟

* تعد الصناعة العمود الفقري للاقتصاد الألماني حيث يعمل بها نحو ثلث ١/٣ القوى العاملة الألمانية

السؤال السابع : ماذا كان يحدث إذا

١ - لم تتميز أغنام المارينو الشهيرة بغزارة صوفها في استراليا ؟

* كانت الصين ستكون الأولى في إنتاج الصوف في العالم بدلاً من استراليا، لأنها الأولى في إنتاج الأغنام

٢- لم تتوفر المصائد الكبيرة والمزارع السمكية بشكل كبير في الصين ؟

* كانت لن تصيح الأولى في إنتاج الاسماك بالعالم

٣- اتبعت مصر الأساليب العلمية في الرعي ؟

* ستزيد الثروة الحيوانية وإنتاج الألبان واللحوم وسيكفي إنتاج الألبان السكان

٤- لم يتدفق البترول في دول الخليج العربي ؟

* كان لن يقل عدد القانمين بحرفة الرعي البدائي في شبه الجزيرة العربية ولن يتوطن السكان

٥- كانت موريتانيا دولة متقدمة ؟

* كانت لن تصدر خام الحديد للدول الصناعية المتقدمة وستقوم هي باستغلاله والاستفادة منه

٦- توافرت مقومات تحويل البوكسيت إلى ألومنيوم عند الدول النامية ؟

* ستقوم بإنتاج الألومنيوم ولن تصدر خام البوكسيت إلى الدول المتقدمة

٧- أنتجت مصر الكهرباء من الأمواج وحركة المد والجزر ؟

*سيكون لدينا مصدر طاقة نظيف لا يلوث البيئة وغير قابل للنفاذ

٨- أخذت الدول النامية بالاساليب العلمية في الصناعة ؟

* سترتفع بمستوى شعوبها وتقترب من مستوى الدول المتقدمة

٩- لم تقع دلتا نهر النيجر في جنوب نيجيريا في الإقليم الاستوائي ؟

*كان لن يقل السكان فيها ولن توجد الغابات الكثيفة والظروف المناخية القاسية

١٠ - قل اهتمام ألمانيا بالصناعة ؟

* سيندهور الاقتصاد الألماني ولن تكون ألمانيا من الدول المتقدمة في العالم ولن يعمل ثلث القوى العاملة بالصناعة

ثانياً : التاريخ

السؤال الاول أكتب المفهوم الذي تشير إليه كل عبارة

١ - مجموعة ضباط من الجيش المصري الذين نظموا صفوفهم في سرية تامة بهدف القيام بثورة للقضاء على الفساد وتحريرو واستقلال مصر من الاحتلال البريطاني (تنظيم الضباط الأحرار)

٢- سوء توزيع ملكية الأرض الزراعية وامتلاك فئة صغيرة لمساحات كبيرة من الأراضي الزراعية وتسخير الفلاحين في زراعتها (الإقطاع)

٣- منظمة دولية قامت على أساس عدم الانضمام إلى أي من الكتلتين الشرقية والغربية وساهمت مصر في تأسيسها وأصبحت حالياً كياناً ضخماً يضم ١١٨ دولة (حركة عدم الانحياز)

٤- دولة عربية صار بينها وبين مصر وحدة سياسية فبرابر ١٩٥٨م (سوريا)

٥- إجراء حكومي تم من خلاله تمصير شركة قناة السويس وشركات التأمين والبنوك (التأميم)

٦- توزيع الثروات القومية بين المواطنين توزيعاً عادلاً (عدالة اجتماعية)

٧- يوصف بوعد ممن لا يملك لمن لا يستحق (وعد بلفور)

٨- مؤتمر عقد بإيطاليا ابريل ١٩٢٠م وأعطى لبريطانيا حق الانتداب على فلسطين (مؤتمر سان ريمو)

٩- حرب شنتها كل من بريطانيا وفرنسا وإسرائيل على مصر عام ١٩٥٦م (العدوان الثلاثي على مصر)

١٠ - معركة نجحت فيها القوات المصرية في هزيمة القوات الاسرائيلية عندما حاولت احتلال مدينة بورفؤاد (معركة رأس العش)

١١- قامت صواريخ البحرية المصرية في أكتوبر ١٩٦٧م بتدميرها (المدمرة الإسرائيلية إيلات)

١٢ - المرحلة الأولى من إعادة بناء القوات المسلحة وشملت معركة رأس العش وتدمير المدمرة الإسرائيلية إيلات (مرحلة الصمود والتصدي)

١٣ - المرحلة الثانية من إعادة بناء القوات المسلحة ويقصد بها استنزاف طاقات العدو الإسرائيلي في سيناء (حرب الاستنزاف والمواجهة)

- ١٤ - مبادرة قدمها وزير خارجية الولايات المتحدة لوقف إطلاق النار وحل النزاع سلمياً (مبادرة روجرز)
- ١٥ - دستور جديد أصدره الرئيس السادات ١٩٧١ م ضمن خطوات تهيئة الجبهة الداخلية للحرب وأطلق عليه الدستور الدائم وأقر مبادئ تعدد الأحزاب وسيادة القانون واستقلال القضاء (دستور ١٩٧١ م)
- ١٦ - أسطورة إسرائيل الذي تم تدميره في ساعات بحرب أكتوبر ١٩٧٣ م (خط بارليف)
- ١٧ - حرب دفاعية في المقام الأول، انتصرت فيها مصر وسوريا على إسرائيل (حرب أكتوبر ١٩٧٣ م)
- ١٨ - خط الدفاع الإسرائيلي في هضبة الجولان الذي دمرته القوات السورية تماماً في حرب أكتوبر ١٩٧٣ م (خط ألون)
- ١٩ - دولة اجتمع فيها وزراء النفط العربي وقرروا حظر الصادرات النفطية للولايات المتحدة (الكويت)
- ٢٠ - منطقة حدثت بها ثغرة أثناء حرب أكتوبر نتيجة تقديم الولايات المتحدة معلومات عسكرية الى إسرائيل ساعدتها في ذلك (منطقة الدفرسوار)
- ٢١ - قرار أصدره مجلس الأمن يقضي بوقف جميع الأعمال الحربية بدءاً من يوم ٢٢ أكتوبر ١٩٧٣ م (قرار رقم ٣٣٨)
- ٢٢ - مبادرة ترتب عليها تمهيد الطريق أمام إسرائيل لقبول مبدأ التفاوض مع الأطراف المعنية بقضية الصراع (العربي / الإسرائيلي) (مبادرة الرئيس السادات لزيارة إسرائيل ١٩٧٧ م)
- ٢٣ - مؤتمر ١٩٧٨ م تم التوصل فيه إلى إطار اتفاق "معاهدة" للسلام بين مصر وإسرائيل (مؤتمر كامب ديفيد)
- ٢٤ - اتفاقية جمعت مصر وإسرائيل بمشاركة ورعاية الولايات المتحدة الأمريكية ١٩٧٩ م نتج عنها رفع العلم المصري فوق سيناء عدا منطقة طابا (معاهدة السلام)
- ٢٥ - هيئة دولية أصدرت حكمها بأحقية مصر وسيادتها على طابا (هيئة التحكيم بمحكمة العدل الدولية)
- ٢٦ - مؤتمر دعا إلى حل الصراع العربي الإسرائيلي على أساس مبدأ الأرض مقابل السلام (مؤتمر مدريد للسلام)
- ٢٧ - اتفاقية تم توقيعها بواشنطن عام ١٩٩٣ م بين إسرائيل ومنظمة التحرير الفلسطينية بعد محادثات سرية (اتفاقية أوسلو للسلام)
- ٢٨ - من الثورات الفريدة في التاريخ المصري الحديث والمعاصر، حيث ساهمت التكنولوجيا المتطورة ووسائل الاتصال في اندلاعها لتشمل شتى أنحاء البلاد (ثورة ٢٥ يناير ٢٠١١ م)
- ٢٩ - ميدان بالقاهرة كان مكاناً رئيسياً للتظاهر بثورة يناير (ميدان التحرير)
- ٣٠ - ثورة نتج عنها عزل محمد مرسي في ٣ يوليو ٢٠١٣ م وتسليم السلطة إلى المستشار عدلي منصور رئيس المحكمة الدستورية العليا لحين إجراء انتخابات رئاسية مبكرة (ثورة ٣٠ يونيو ٢٠١٣ م)
- ٣١ - قيام الشعب بانتخاب ممثلين لإدارة شئون الحكم في البلاد وسن القوانين ومراقبة أعمال الحكومة نيابة عنه (الحياة النيابية)
- ٣٢ - مجلس نيابي أنشأه الخديو اسماعيل ١٨٦٦ م (مجلس شورى النواب)
- ٣٣ - وثيقة رسمية تحدد نظام الحكم في الدولة وشكل واختصاصات المؤسسات الدستورية المختلفة (دستور)
- ٣٤ - يطلق على المجالس النيابية التي تتولى السلطة التشريعية في الدولة (برلمان)

- ٣٥- أول دستور لمصر بعد ثورة يوليو ١٩٥٢ م والذي نص على أن السلطة التشريعية تكون في يد مجلس منتخب هو مجلس الأمة، وحصلت فيه المرأة على حق الانتخاب والترشح (دستور ١٩٥٦ م)
- ٣٦- يعتبر هو رئيس السلطة التنفيذية في مصر (رئيس الدولة)
- ٣٧- سلطة يمثلها مجلس النواب والذي مدته خمس سنوات (السلطة التشريعية)
- ٣٨- سلطة تشمل كل من الحكومة والإدارة المحلية في مصر (السلطة التنفيذية)
- ٣٩- سلطة تتمثل في المحاكم على اختلاف أنواعها (السلطة القضائية)
- ٤٠- أول مدرسة لتعليم البنات عام ١٨٧٣ م وأنشأها الخديو اسماعيل استجابة لدعوة رفاة الطهطاوي بتعليم البنات (مدرسة السنية)
- ٤١- أول مجلة نسائية مصرية ظهرت عام ١٩٠٧ م وأصدرتها جميلة حافظ (مجلة الريحانة)
- ٤٢- مجلس تم انشائه لتدعيم الدولة مكانة المرأة على كافة المستويات (المجلس القومي للمرأة)
- ٤٣- تضم جمعيات المجتمعات المحلية والمنظمات غير الحكومية والنقابات العمالية والجمعيات الخيرية (منظمات المجتمع المدني)
- ٤٤- حزب تأسس في مرحلة ما قبل ثورة ١٩١٩م وكان برئاسة مصطفى كامل (الحزب الوطني)
- ٤٥- حزب تأسس في مرحلة ما قبل ثورة ١٩١٩م برئاسة أحمد لطفي السيد (حزب الأمة)
- ٤٦- حزب اصطدم بالقصر الملكي وبسلطات الاحتلال البريطاني (حزب الوفد)
- ٤٧- تنظيم سياسي واحد تم انشائه بعد ثورة يوليو ١٩٥٢م (الاتحاد الاشتراكي)

السؤال الثاني : إلى من تنسب الأعمال الآتية

- ١- مؤسس تنظيم الضباط الأحرار الذي قاد ثورة ٢٣ يوليو ١٩٥٢م (جمال عبد الناصر)
- ٢- حاكم قامت القوات الإنجليزية بحصار قصره وإجباره على تعيين مصطفى النحاس باشا رئيساً للحكومة (الملك فاروق)
- ٣- أذاع البيان الأول للثورة في ٢٣ يوليو ١٩٥٢م من دار الإذاعة المصرية (محمد أنور السادات)
- ٤- أصبح بموجب البيان الأول للثورة مسيطراً على جميع قطاعات الجيش المصري (اللواء محمد نجيب)
- ٥- غادر البلاد هو وأسرته قبل الموعد المحدد لأنه أدرك أن الجيش والشعب يكرهان حكمه والإنجليز تخلوا عنه (الملك فاروق)
- ٦- تم تعيينه كأول رئيس للجمهورية المصرية بعد إلغاء الملكية وإعلان الجمهورية (اللواء محمد نجيب)
- ٧- وزير خارجية بريطانيا الذي أصدر وعد لليهود، والذي نص على تعهد بريطانيا لهم ببذل مساعيها لإنشاء وطن قومي لليهود في فلسطين (جيمس بلفور)
- ٨- الدول المنتصرة في الحرب العالمية الأولى والتي قررت وضع فلسطين تحت الانتداب البريطاني مع تنفيذ وعد بلفور (دول الحلفاء)
- ٩- قام بالعديد من الحركات الوطنية مثل انتفاضة ١٩٢٩م وثورة ١٩٣٦م بقيادة اللجنة العربية (الشعب الفلسطيني)

١٠ - وافقت على تقسيم فلسطين عام ١٩٤٧ م إلى دولة عربية ودولة يهودية وتدويل منطقة القدس

(هيئة الأمم المتحدة)

١١ - عرضت على هيئة الأمم المتحدة حل القضية الفلسطينية إلى دولة عربية ودولة يهودية وتدويل منطقة القدس (بريطانيا)

١٢ - رفضوا مشروع تقسيم فلسطين ١٩٤٧ م (الدول العربية)

١٣ - امتنعت عن التصويت على قرار تقسيم فلسطين وسحبت قواتها وانتهت الانتداب على فلسطين (بريطانيا)

١٤ - وافقوا على قرار التقسيم وارتكبوا مذبحه دير ياسين واعلنوا قيام دولة إسرائيل ١٩٤٨ م (اليهود)

١٥ - تقدمت إلى مجلس الأمن باقتراح لوقف القتال وإقامة هدنة مدتها شهر بعد تحقيق الجيوش العربية

انتصارات على القوات الاسرائيلية في حرب فلسطين ١٩٤٨ م (الولايات المتحدة الأمريكية)

١٦ - لم يلتزموا بالهدنة التي وضعها مجلس الأمن وبدأوا في تقوية قواتهم من حيث العدد والتسليح والتدريب

وتفوقوا على القوات العربية في حرب فلسطين ١٩٤٨ م (اليهود)

١٧ - دولة هددت بالتدخل لوقف العدوان الثلاثي على مصر (الاتحاد السوفيتي "سابقاً")

١٨ - دولة صورت المواقع المصرية بأجهزة التجسس لصالح إسرائيل وساندها عسكرياً واقتصادياً وسياسياً

في حرب ١٩٦٧ م (الولايات المتحدة الأمريكية)

١٩ - وزير خارجية الولايات المتحدة الذي قدم مبادرة لوقف إطلاق النار أثناء حرب الاستنزاف لحل النزاع بين

مصر وإسرائيل سلميا (روجرز)

٢٠ - رئيس أركان حرب القوات المسلحة واحد الأعمدة الأساسية التي اعتمد عليها الرئيس جمال عبد الناصر

في إعادة بناء وتنظيم القوات المسلحة في حرب الاستنزاف والذي استشهد أثناء حرب الاستنزاف

(الفريق أول عبد المنعم رياض)

٢١ - رئيس مصري توفي في سبتمبر ١٩٧٠ م بعد مرحلة طويلة من الكفاح لتحقيق حلم الاستقلال والتقدم

للأمة (جمال عبد الناصر)

٢٢ - الرئيس الذي خلف جمال عبد الناصر في حكم مصر وفي عهده حدثت حرب أكتوبر ١٩٧٣ م

(محمد أنور السادات)

٢٣ - أعطى إشارة بدء الحرب والعمليات العسكرية في حرب أكتوبر ١٩٧٣ م (الرئيس محمد أنور السادات)

٢٤ - قائد سلاح الطيران في حرب أكتوبر والذي قام بضربة جوية ناجحة (محمد حسني مبارك)

٢٥ - أصدروا قرار في اجتماعهم بالكويت بتخفيض إنتاج البترول وحظر تصديره للولايات المتحدة لمساندتها

إسرائيل (وزراء النفط العربي)

٢٦ - أقامت جسراً جويماً لتقديم المساعدات العسكرية لإسرائيل بالإضافة لمعلومات عسكرية ساعدت إسرائيل في

إحداث ثغرة الدفرسوار (الولايات المتحدة الأمريكية)

٢٧ - أصدر قرار رقم ٣٣٨ بوقف الأعمال الحربية بين مصر وإسرائيل بدءاً من ٢٢ أكتوبر ١٩٧٣ م

(مجلس الأمن الدولي)

٢٨ - تولى القيادة العامة الموحدة للقوات المصرية السورية في حرب أكتوبر ١٩٧٣ م وتولى التخطيط والتنسيق على الجبهتين وقاد خطة الخداع وحصل على وسام نجمة سيناء (المشير أحمد إسماعيل)

٢٩ - عينه الرئيس السادات رئيساً لأركان حرب القوات المسلحة عام ١٩٧١ م حتى ١٣ ديسمبر ١٩٧٣ م وقام بتنفيذ خطة العبور وتحطيم خط بارليف وتم تكريمه في الذكرى ٣٩ لنصر أكتوبر بمنح إسمه قلادة النيل العظمى (الفريق سعد الدين الشاذلي)

٣٠ - شغل منصب رئيس هيئة عمليات القوات المسلحة، والتي أعدت دراسة لأنسب التوقيتات للقيام بالعمليات الهجومية على إسرائيل مما كان له الأثر في إحراز النصر، وأصبح رئيساً لأركان حرب القوات المسلحة ديسمبر ١٩٧٣ م (الفريق محمد عبد الغني الجمسي)

٣١ - بادر بزيارة إسرائيل ١٩٧٧ م لإنهاء الصراع العربي الإسرائيلي سلمياً وتحقيق السلام العادل ويطلق عليه بطل الحرب والسلام (الرئيس محمد أنور السادات)

٣٢ - دعا كلاً من الرئيس المصري السادات ورئيس وزراء إسرائيل بيغن لعقد اجتماعات في كامب ديفيد بالولايات المتحدة (الرئيس الأمريكي جيمي كارتر)

٣٣ - رئيس مصري عادت طابا إلى السيادة المصرية ١٩٨٩ في عهده (محمد حسني مبارك)

٣٤ - كانت راعية لاتفاقية السلام بين مصر وإسرائيل ولاتفاقية أوسلو للسلام بين إسرائيل ومنظمة التحرير الفلسطينية (الولايات المتحدة الأمريكية)

٣٥ - استمر العمل بقانون الطوارئ منذ توليه الحكم أكتوبر ١٩٨١ م (الرئيس محمد حسني مبارك)

٣٦ - الحزب الحاكم الذي حصل على ٩٧٪ من مقاعد الانتخابات البرلمانية المزورة لمجلس الشعب ٢٠١٠ م (الحزب الوطني)

٣٧ - اتخذ بعض الإجراءات لامتناس غضب الجماهير في ثورة يناير مثل تعيين نائب للرئيس وتشكيل حكومة جديدة (الرئيس محمد حسني مبارك)

٣٨ - تخلى عن الرئاسة في ١١ فبراير ٢٠١١ م وسلم إدارة شئون البلاد للمجلس الأعلى للقوات المسلحة (الرئيس محمد حسني مبارك)

٣٩ - كان دائماً قوة مساندة للشعب المصري وليس أداة لدى النظام لقمع المتظاهرين (الجيش المصري)

٤٠ - مرشح حزب الحرية العدالة الذي تولى حكم البلاد نتيجة فوزه في انتخابات رئاسة الجمهورية ٢٠١٢ م (محمد مرسي)

٤١ - أعلنت في ٢٣ يونيو ٢٠١٣ م بياناً بالتدخل لمنع انزلاق مصر في نفق مظلم من الصراع والافتتال و دعت لتفاهم ومصالحة حقيقية بين الرئيس مرسي والمعارضة خلال أسبوع (القوات المسلحة)

٤٢ - رفض الموافقة على إجراء انتخابات رئاسية مبكرة وخرجت جموع الشعب المصري ضده في ثورة ٣٠ يونيو ٢٠١٣ م (الرئيس محمد مرسي)

٤٣ - تم عزله في ٣ يوليو ٢٠١٣ م وتسليم السلطة للمستشار عدلي منصور رئيس المحكمة الدستورية العليا (الرئيس محمد مرسي)

٤٤ - رئيس المحكمة الدستورية العليا الذي تسلم السلطة عقب عزل الرئيس مرسي بعد ثورة ٣٠ يونيو و لحين إجراء انتخابات رئاسية مبكرة وتعديل دستور ٢٠١٢ م (المستشار عدلي منصور)

٤٥- نجح في الانتخابات الرئاسية التي عقدت بناءً على دستور يناير ٢٠١٤ م وأعلن فوزه بالرئاسة

(عبد الفتاح السيسي)

٤٦- أنشأ مجالس استشارية لا سلطة لها مثل مجلس المشورة والمجلس العالي (محمد علي باشا)

٤٧- أنشأ مجلس شورى النواب عام ١٨٦٦م (الخدوي إسماعيل)

٤٨- أنشأ مجلس شورى القوانين والجمعية العمومية والجمعية التشريعية (الاحتلال الإنجليزي)

٤٩- أصدر أول دستور لمصر بعد الثورة وهو دستور ١٩٥٦م والذي نص على أن السلطة التشريعية تكون في يد مجلس الأمة (الرئيس جمال عبد الناصر)

٥٠- أصدر دستور ١٩٧١م والذي أطلق عليه الدستور الدائم والذي أقر التعددية الحزبية واستقلال القضاء

(الرئيس محمد أنور السادات)

٥١- أنشأ أول مدرسة لتعليم البنات عام ١٨٧٣م وهي مدرسة السنية (الخدوي إسماعيل)

٥٢- أصدرت أول مجلة نسائية مصرية "الريحانة" عام ١٩٠٧م (جميلة حافظ)

٥٣- تم انتخابها رئيساً للجنة الوفد المركزية للسيدات ١٩٢٠م (هدى شعراوي)

٥٤- كانت أول وزيرة للشئون الاجتماعية عام ١٩٦٢م (حكمت أبو زيد)

٥٥- أصبحت وزيرة للشئون الاجتماعية في عهد الرئيس السادات ١٩٧١م (الدكتورة عائشة راتب)

٥٦- تولت منصب رئيس اللجنة التشريعية بمجلس الشعب (الدكتورة أمل عثمان)

ثالثاً بم تفسر

١- تأسيس تنظيم الضباط الأحرار ؟

* بهدف القيام بثورة للقضاء على الفساد وتحرير واستقلال مصر من الاحتلال البريطاني

٢- لم تحقق معاهدة ١٩٣٦م الاستقلال الحقيقي لمصر ؟

* حيث قامت قوات الاحتلال البريطاني بحصار قصر عابدين في فبراير ١٩٤٢م لإجبار الملك فاروق على تعيين مصطفى النحاس باشا رئيساً للحكومة

٣- هزيمة الجيش المصري في حرب فلسطين ١٩٤٨م ؟

* بسبب دعم الولايات المتحدة الأمريكية وبريطانيا لإسرائيل * عدم استعداد الجيش المصري والعربي عسكرياً للحرب

٤- عدم وجود حياة ديمقراطية سليمة في مصر قبل ثورة ٢٣ يوليو ١٩٥٢م ؟

* لخضوع مصر للاحتلال البريطاني وفساد النظام الملكي وفساد الأحزاب السياسية وتصارعها على الحكم

٥- يعتبر يوم ١٨ يونيه من كل عام هو عيد الجلاء ؟

* لأنه اليوم الذي رحلت فيه القوات البريطانية عن مصر عام ١٩٥٦م بعد احتلال دام ٧٤ عام

٦- وافق الملك فاروق على مغادرة البلاد هو وأسرته قبل الموعد الذي تم تحديده ؟

* لأنه أدرك أن الجيش والشعب يكرهان حكمه بالإضافة إلى تخلي الإنجليز عنه

٧- أهمية فلسطين الدينية والجغرافية ؟

ولد فيها السيد المسيح، وإليها أسري سيدنا محمد، وبها المسجد الأقصى أولى القبلتين وثالث الحرمين، وتتميز بموقع جغرافي جعلها مطعماً للغزاة على مر العصور

٨- إصدار بريطانيا وعد بلفور ١٩١٧ م ؟

* لأنها أدركت أهمية فلسطين وبذلت مساعيها لإقامة وطن لليهود في فلسطين

٩- قيام حرب فلسطين ١٩٤٨ م ؟

* بسبب إعلان اليهود قيام دولة إسرائيل لذلك تحركت الجيوش العربية لنصرة الشعب الفلسطيني ضد اليهود و مساعدته على إقامة حكومة وطنية على أرضه

١٠- ظهر تفوق اليهود على جميع جبهات القتال في حرب فلسطين ١٩٤٨ م بعد استئناف القتال ؟

* لأنهم لم يلتزموا بالهدنة وبدأوا في تقوية قواتهم من حيث العدد والتسليح والتدريب

١١- أسباب العدوان الثلاثي على مصر ١٩٥٦ م ؟

* بسبب عقد حكومة الثورة اتفاقية مع الاتحاد السوفيتي لتزويد مصر بالأسلحة والمعدات لمواجهة الأطماع الإسرائيلية

* مساندة مصر لحركات التحرر الوطني في الجزائر ضد الاستعمار الفرنسي ؟

* تأميم شركة قناة السويس في يوليو ١٩٥٦ م

١٢- لم تستطع القوات الإنجليزية والفرنسية في احتلال الإسماعيلية بالعدوان الثلاثي ١٩٥٦ م ؟

* بسبب شدة مقاومتها ضد دول العدوان

١٣- فشل العدوان الثلاثي على مصر ١٩٥٦ م ؟

* المقاومة الباسلة من الجيش والشعب

* ووقوف الشعوب العربية إلى جانب مصر

* تهديد الاتحاد السوفيتي بالتدخل لوقف العدوان

* رفض الولايات المتحدة الأمريكية استخدام القوة في حل النزاعات تنديد الأمم المتحدة بالعدوان

١٤- أسباب العدوان الإسرائيلي على مصر ١٩٦٧ م ؟

* أرادت إسرائيل القضاء على قوة مصر واستدراج الدول العربية إلى حرب غير مستعدة لها فقامت بحشد القوات على الحدود مع سوريا في ١٩٦٧ م

١٥- إغلاق مصر لخليج العقبة في وجه الملاحة الإسرائيلية مايو ١٩٦٧ م ؟

* إحكاماً للحصار الاقتصادي الذي فرضه العرب على إسرائيل

١٦- أسباب هزيمة الدول العربية في عدوان ٥ يونيو ١٩٦٧ م ؟

* التفوق العسكري الإسرائيلي خاصة السلاح الجوي

* استخدام عنصر المفاجأة في ضرب المطارات المصرية بعد أن صوروا أجهزة تجسس أمريكية المواقع المصرية

* مساندة الولايات المتحدة وبعض الدول الأوروبية لإسرائيل عسكرياً واقتصادياً وسياسياً

* نقص التدريب وعدم توافر الأسلحة المتطورة للقوات المصرية

١٧- اندلاع حرب اكتوبر ١٩٧٣ م ؟

* رفض إسرائيل لكل نداءات السلام بالانسحاب من الأراضي التي احتلتها في العدوان الإسرائيلي ٥ يونيه ١٩٦٧ م بموجب قرار مجلس الأمن ٢٤٢

*تصميم مصر وسوريا على إزالة آثار نكسة يونيه ١٩٦٧ م و استرداد شبه جزيرة سيناء والجولان

١٨- طلب إسرائيل المساعدة من الولايات المتحدة الأمريكية أثناء حرب اكتوبر ١٩٧٣ م ؟

* نتيجة الخسائر الكبيرة التي لحقت بها في أعداد الجنود والطائرات على الجبهتين المصرية والسورية

١٩- إحداه إسرائيل ثغرة في منطقة الدفرسوار ؟

* بسبب تقديم الولايات المتحدة الأمريكية معلومات عسكرية لإسرائيل ساعدتها في ذلك

٢٠- مبادرة الرئيس السادات لزيارة إسرائيل ١٩٧٧ م ؟

* لإنهاء الصراع العربي / الإسرائيلي سلمياً

٢١- المشاركة الفعالة لمصر في مؤتمر مدريد للسلام ١٩٩١ م ؟

* لأنه دعا إلى حل الصراع العربي الإسرائيلي على ضوء قرارات الأمم المتحدة "مجلس الأمن" وعلى أساس مبدأ الأرض مقابل السلام

٢٢- تأييد مصر اتفاقيات السلام بين الفلسطينيين والإسرائيليين ؟

* لأنها كانت دائماً مساندة لحقوق الشعب الفلسطيني وحريصة على دعم السلطة الوطنية الفلسطينية

٢٣- اختيار السلام بدلاً من الحرب يعود بالنفع على الدول العربية ؟

*لأنه يحقق الاستقرار الداخلي للبلاد العربية

* دفع عجلة التنمية الاقتصادية والاجتماعية وإصلاح البنية الأساسية للبلاد

* تشجيع رءوس الأموال العربية والأجنبية للإستثمار في مصر وغيرها من الدول العربية

*تنشيط حركة السياحة لزيادة الدخل القومي وتوفير العملات الأجنبية

* إقامة المشروعات الوطنية وتحقيق التنمية في مصر والمنطقة العربية بشكل عام

٢٤- كانت ثورة ٢٥ يناير من الثورات الفريدة في التاريخ المصري الحديث والمعاصر ؟

*حيث ساهمت التكنولوجيا المتطورة ووسائل الاتصال مثل الانترنت والفيديو بوك في اندلاع الثورة لتشمل شتى أنحاء البلاد

٢٥- تدهور الأوضاع الاقتصادية كان من أسباب ثورة يناير ؟

* بسبب اتباع سياسة الانفتاح الاقتصادي دون ضوابط علمية

* التطبيق غير السليم لسياسة الخصخصة وبيع مؤسسات الدولة بأقل من سعرها الحقيقي

٢٦- سوء الأوضاع الاجتماعية من أسباب قيام ثورة يناير ؟

* بسبب زيادة الفوارق الاجتماعية بين طبقات المجتمع وغياب العدالة الاجتماعية في توزيع الثروات

٢٧- تزوير الانتخابات البرلمانية لمجلس الشعب عام ٢٠١٠ م ؟

* حيث حصل الحزب الوطني الحاكم على ٩٧% من المقاعد وبهذا خلا المجلس من اي معارضة وطنية

٢٨ - تشكيل اللجان الشعبية أثناء ثورة ٢٥ يناير ؟

* بهدف حماية المنشآت والمناطق، ومواجهة أعمال السرقة والحرق والترويع

٢٩ - الاستعانة بالقوات المسلحة أثناء ثورة ٢٥ يناير ؟

* لحماية وتأمين الممتلكات العامة والخاصة والمحافظة على أمن المواطنين

٣٠ اندلاع ثورة ٣٠ يونيو ٢٠١٣ م ؟

* لأن السياسات الجديدة للرئيس محمد مرسي لم تحقق حلول للمشكلات التي يعاني منها غالبية الشعب المصري خاصة العدالة الاجتماعية واستمرار سوء الأحوال الاقتصادية

٣١ - إعلان القوات المسلحة بيان ٢٣ يونيو ٢٠١٣ م ؟

* حفاظاً على الأمن العام للدولة ومحاولة إيجاد صيغة تفاهم بين الأطراف السياسية لمصلحة الوطن

٣٢ - أهمية صدور دستور ١٩٢٣ م ؟

* لأنه تضمن حرية تكوين الأحزاب السياسية

* إنشاء برلمان يمثل السلطة التشريعية وتكون من مجلسين "مجلس النواب ومجلس الشيوخ"

٣٣ - قيام السادات بإصدار دستور ١٩٧١ م "الدستور الدائم" ؟

* ليؤكد على سيادة القانون واستقلال القضاء وإقرار مبادئ التعددية الحزبية

٣٤ - مساهمة المرأة في تأسيس الصحافة النسائية مثل مجلة الريحانة ؟

* لكي تتبنى القضايا النسائية وتدافع عن حقوق المرأة ومكانتها

٣٥ - شهدت مرحلة ما بعد ثورة ١٩١٩ م حتى ثورة ٢٣ يوليو ١٩٥٢ م نهضة نسائية بمختلف المجالات ؟

* حيث شاركت المرأة إلى جانب الرجل في المظاهرات عقب نفي سعد زغلول بصورة لم يعهدها المجتمع المصري من قبل * التحقت المرأة بالجامعة المصرية ١٩٢٨ م

* شكلت المرأة لجنة الوفد المركزية للسيدات وانتخبت هدى شعراوي رئيساً لها

٣٦ - أهمية دستور ١٩٥٦ م للمرأة ؟

* حصلت فيه المرأة على حق الانتخاب والترشح وأصبحت عضواً بالبرلمان المصري

٣٧ - انشاء المجلس القومي للمرأة ؟

* لإدراك الدولة مكانة المرأة والعمل على تدعيمها على كافة المستويات

رابعاً اختر الاجابه الصحيحه مما بين القوسين

١ - كانت هزيمة الجيش المصري في حرب فلسطين ١٩٤٨ في عهد.....

(الملك فاروق - جمال عبد الناصر - محمد أنور السادات - الملك فؤاد)

٢ - أدى توقيع معاهدة ١٩٣٦ أن أصبحت مصر ميداناً لمعارك.....

(الحرب العالمية الأولى - حرب فلسطين - الحرب العالمية الثانية - العدوان الثلاثي)

٣ - أول رئيس للجمهورية المصرية هو.....

(محمد نجيب - جمال عبد الناصر - محمد أنور السادات - محمد حسني مبارك)

- ٤- إنشاء السد العالي كان من إنجازات الثورة في المجال.....
(السياسي - الاقتصادي - الاجتماعي - الدولي)
- ٥- تم منح المرأة حق الانتخاب والترشح لأول مرة بمجلس.....
(المشورة - شورى النواب - النواب - الأمة)
- ٦- تحققت أول تجربة للوحدة العربية بين مصر و..... ١٩٥٨ م
(فلسطين - الأردن - سوريا - العراق)
- ٧- مؤتمر دول عدم الانحياز الذي عقد عام ١٩٥٥ م كان في قارة.....
(افريقيا - أوروبا - آسيا - استراليا)
- ٨- سعت لإقامة وطن قومي لليهود في فلسطين.....
(الاتحاد السوفيتي - الولايات المتحدة - فرنسا - بريطانيا)
- ٩- أعطى مؤتمر لبريطانيا حق الانتداب على فلسطين
(باندونج - سان ريمو - مدريد - كامب ديفيد)
- ١٠- ارتكب اليهود مذبحه دير ياسين عقب.....
(قيام دولة إسرائيل - قرار تقسيم فلسطين - حرب فلسطين - انتفاضة ١٩٢٩ م)
- ١١- دولة موافقها متناقضة، اعترفت بدولة إسرائيل عند قيامها، وساندت مصر وهددت بصد العدوان الثلاثي
(بريطانيا - فرنسا - الاتحاد السوفيتي - الولايات المتحدة)
- ١٢- دولة كان لتحركاتها مع مجلس الأمن دور في انتصار اليهود على الجيوش العربية بحرب فلسطين
(الولايات المتحدة - فرنسا - بريطانيا - ألمانيا)
- ١٣- عجزت قوات العدوان الثلاثي على احتلال مدينة..... لشدة المقاومة
(السويس - الإسماعيلية - بورسعيد - العريش)
- ١٤- الوحدة بين مصر وسوريا كانت من نتائج ادراك العرب خطورة إسرائيل بعد.....
(حرب فلسطين - العدوان الثلاثي - العدوان الإسرائيلي - حرب أكتوبر ١٩٧٣ م)
- ١٥- أصدر قرار بانسحاب إسرائيل من الأراضي التي احتلتها ١٩٦٧ م
(الولايات المتحدة - مجلس الأمن - عصبة الأمم - الجامعة العربية)
- ١٦- نجحت القوات المصرية في معركة رأس العش صد القوات الإسرائيلية عن احتلال مدينة.....
(الإسماعيلية - بورسعيد - بورفؤاد - السويس)
- ١٧- استشهد الفريق عبد المنعم رياض أثناء.....
(حرب فلسطين - العدوان الإسرائيلي ١٩٦٧ م - حرب الاستنزاف - حرب أكتوبر ١٩٧٣ م)
- ١٨- من إجراءات تهينة الجبهة الداخلية لحرب أكتوبر إصدار دستور.....
(١٩٢٣ م - ١٩٥٦ م - ١٩٧١ م - ٢٠١٢ م)

- ١٩ - قام سلاح الطيران بقيادة بضربة جوية ناجحة في بداية حرب أكتوبر
(محمد حسني مبارك - سعد الدين الشاذلي - عبد الغني الجمسي - أحمد إسماعيل)
- ٢٠ - من الاجتماعات العربية الضاغطة على الدول الداعمة لإسرائيل هو إجتماع وزراء النفط في
(القاهرة - الرياض - دمشق - الكويت)
- ٢١ - اختلفت مساعدة الولايات المتحدة الأمريكية لإسرائيل عن مساندة العرب لمصر وسوريا في
حرب أكتوبر ١٩٧٣ م بتقديم.....
- (معلومات عسكرية - مساعدات مالية - معدات عسكرية - قوات حربية)
- ٢٢ - الرئيس الذي كان شجاعاً في إنهاء الصراع العربي / الإسرائيلي سلميا بزيارة إسرائيل.....
(جمال عبد الناصر - محمد أنور السادات - محمد حسني مبارك - محمد نجيب)
- ٢٣ - بدأ العزم في مفاوضات وجود حكم ذاتي للفلسطينيين في
(مؤتمر كامب ديفيد ١٩٧٨ م - معاهدة السلام ١٩٧٩ م - مؤتمر مدريد ١٩٩١ م - اتفاقية أوسلو ١٩٩٣ م)
- ٢٤ - أصدرت هيئة التحكيم بمحكمة العدل الدولية قرار رجوع طابا للسيادة المصرية في عهد الرئيس
(محمد نجيب - جمال عبد الناصر - محمد أنور السادات - محمد حسني مبارك)
- ٢٥ - مؤتمر دعا إلى حل الصراع العربي الإسرائيلي على أساس مبدأ الأرض مقابل السلام.....
(باندونج - سان ريمو - كامب ديفيد - مدريد)
- ٢٦ - من أسباب انفجار ثورة ٢٥ يناير ٢٠١١م.....
(خلو مجلس الشعب ٢٠١٠م من اي معارضة - تعديل قانون الطوارئ - إلغاء الدستور - محاربة الخصخصة)
- ٢٧ - قام الشعب المصري بتشكيل اللجان الشعبية عقب.....
(الاعلان عن ثورة ٢٥ يناير - الاضطراب الأمني الشديد - تخلي الرئيس مبارك عن الحكم - الاستعانة بالقوات المسلحة)
- ٢٨ - الإجراء الأول للرئيس مبارك لامتنصاص غضب الجماهير أثناء الثورة تعيين
(رئيس وزراء جديد - وزير داخلية جديد - نائب للرئيس - حكومة جديدة)
- ٢٩ - بعد تخلي الرئيس مبارك عن الحكم تسلم إدارة البلاد
(رئيس مجلس الشعب - جبهة المعارضة - الشرطة المصرية - المجلس الأعلى للقوات المسلحة)
- ٣٠ - عقدت انتخابات رئاسية مبكرة في عام ٢٠١٤م في عهد الرئيس.....
(عدلي منصور - محمد مرسي - محمد حسني مبارك - عبد الفتاح السيسي)
- ٣١ - أنشأ الخديو مجلس شورى النواب ١٨٦٦م
(إسماعيل - سعيد - عباس حلمي الثاني - توفيق)
- ٣٢ - تم إنشاء برلمان يمثل السلطة التشريعية وتكون من مجلسين هما النواب والشيوخ في.....
(دستور ١٩٢٣م - الدستور الدائم - دستور ١٩٥٦م - الجمعية التشريعية)

- ٤- ادراك الملك فاروق أن الجيش والشعب يكرهان حكمه ؟
* قام بمغادرة البلاد هو وأسرته قبل الموعد الذي تم تحديده
- ٥- توقيع اتفاقية الجلاء بين مصر وانجلترا ١٩٥٤م ؟
* أدت إلى جلاء القوات البريطانية خلال عشرين شهراً من توقيع الاتفاقية ورحيل القوات البريطانية عن مصر بعد احتلال دام أربعة وسبعين عام
- ٦- تأميم شركة قناة السويس البحرية ١٩٥٦م ؟
* أصبحت منذ هذا التاريخ شركة مصرية بإدارة مصرية
- ٧- قوانين الإصلاح الزراعي في عهد ثورة يوليو ؟
* أدت إلى تحديد الملكية الزراعية بخمسين فدان، مما زاد من تملك الفلاحين للأرض الزراعية
- ٨- إدراك بريطانيا أهمية فلسطين ؟
سعت لتأييد فكرة إقامة وطن قومي لليهود في فلسطين، وأصدر بلفور وزير خارجية بريطانيا ١٩١٧م وعد بالعمل على ذلك
- ٩- مؤتمر سان ريمو بإيطاليا ١٩٢٠م ؟
* أعطى بريطانيا حق الانتداب على فلسطين
- ١٠- قرار هيئة الأمم المتحدة بتقسيم فلسطين ١٩٤٧م ؟
* رفضت الدول العربية مشروع التقسيم
- * وافق اليهود على التقسيم وقامت عصابات اليهود المسلحة بطرد العرب من ديارهم وارتكاب أبشع المذابح مثل مذبحه دير ياسين
- * امتنعت بريطانيا عن التصويت واعلنت أنها ستسحب قواتها وتنتهي انتدابها على فلسطين
- ١١- اعلان اليهود قيام دولة إسرائيل ١٩٤٨م ؟
* اعترفت بها كل من الولايات المتحدة الأمريكية والاتحاد السوفيتي * تحركت الجيوش العربية إلى فلسطين لنصرة الشعب الفلسطيني من بطش اليهود
- ١٢- حرب فلسطين ١٩٤٨م ؟
* ترتب عليها هزيمة الجيوش العربية واستيلاء اليهود على جميع أراضي فلسطين ما عدا قطاع غزة تحت إدارة مصرية والضفة الغربية بها قوات أردنية، والقدس قسمت بين العرب واليهود
- ١٣- فشل العدوان الثلاثي على مصر ١٩٥٦م ؟
* ترتب على ذلك انسحاب القوات الإنجليزية والفرنسية من بورسعيد
- * انسحاب القوات الإسرائيلية من قطاع غزة وسيناء، ووضع قوات طوارئ دولية بين مصر وإسرائيل منذ عام ١٩٥٧م
- * ادراك الدول العربية الخطر الإسرائيلي وأطماعه في السيطرة على العالم العربي ولذلك قامت الوحدة بين مصر وسوريا منذ عام ١٩٥٨م وحتى الانفصال ١٩٦١م

١٤ - العدوان الإسرائيلي ٥ يونيه ١٩٦٧ م؟

* استيلاء إسرائيل على قطاع غزة وسيناء، وهضبة الجولان من سوريا، والقدس العربية، والضفة الغربية لنهر الأردن

١٥ - قرار مجلس الأمن رقم ٢٤٢؟

* قبلت مصر تنفيذ القرار

* امتنعت إسرائيل عن تنفيذ القرار ولم تنسحب من الأراضي التي احتلتها

١٦ - معركة رأس العش؟

* نجحت القوات المسلحة المصرية في هزيمة القوات الإسرائيلية عندما حاولت احتلال مدينة بورفؤاد

١٧ - الضربات العسكرية المصرية في حرب الاستنزاف لإسرائيل؟

* تدخلت الولايات المتحدة الأمريكية وقدم وزير خارجيتها روجرز مبادرة عرفت بمبادرة روجرز لوقف إطلاق النار تمهيداً لحل النزاع سلمياً

١٨ - الضربة الجوية الناجحة لسلاح الطيران وقيام المدفعية بإطلاق النيران على طول القناة بحرب أكتوبر؟

* أدى إلى تحطيم أعداد كبيرة من الطائرات والمعدات العسكرية الإسرائيلية عبور الدبابات والمدرعات والآليات العسكرية المصرية بمختلف أنواعها

١٩ - الخسائر الكبيرة التي لحقت بإسرائيل على الجبهتين المصرية والسورية بحرب أكتوبر؟

* طلبت إسرائيل المساعدة من الولايات المتحدة الأمريكية

٢٠ - دور الدول العربية العسكري والمالي والسياسي في دعم مصر وسوريا بحرب أكتوبر؟

* كان لهذه المساهمات دوراً هاماً في انتصارات أكتوبر ١٩٧٣ م

٢١ - تقديم الولايات المتحدة الأمريكية معلومات عسكرية لإسرائيل بحرب أكتوبر؟

* ساعدتها في إحداث ثغرة في منطقة الدفرسوار .

٢٢ - قرار مجلس الأمن رقم ٣٣٨؟

* وقف جميع الأعمال الحربية بدءاً من : يوم ٢٢ أكتوبر ١٩٧٣ م وبدء مباحثات المفاوضات بين الطرفين المصري والإسرائيلي

٢٣ - مبادرة الرئيس السادات لزيارة إسرائيل ١٩٧٧ م؟

* ترتب على ذلك أن مهد الطريق أمام إسرائيل للقبول بمبدأ التفاوض مع الأطراف المهتمة والمعنية بقضية الصراع العربي / الإسرائيلي

٢٤ - مؤتمر كامب ديفيد سبتمبر ١٩٧٨ م؟

* تم التوصل إلى إطار اتفاق "معاهدة" للسلام بين مصر وإسرائيل

٢٥ - معاهدة السلام مارس ١٩٧٩ م؟

* نتج عنها رفع العلم المصري فوق شبه جزيرة سيناء ٢٥ ابريل ١٩٨٢ م بعد استعادتها من المحتل الإسرائيلي، فيما عدا منطقة طابا على رأس خليج العقبة

٢٦ - حدوث خلاف بين مصر وإسرائيل على تعيين مكان بعض علامات الحدود بينهما؟

* اتفق الطرفان على مبدأ التحكيم فتم إحالة قضية طابا إلى هيئة التحكيم الدولي "محكمة العدل الدولية" والتي أصدرت حكمها لصالح مصر وعادت طابا للسيادة المصرية ١٩٨٩ م في عهد الرئيس مبارك
٢٧- مؤتمر مدريد للسلام ١٩٩١ م ؟

* ترتب عليه حدوث مفاوضات سرية بين إسرائيل ومنظمة التحرير الفلسطينية وأسفرت هذه المفاوضات عن توقيع اتفاقية برعاية أمريكية في ١٩٩٣ م بواشنطن

٢٨ - التطبيق غير السليم لسياسة الخصخصة ؟

* أدى إلى ارتفاع الأسعار

* تجمع آلاف العاملين بعد خروجهم بنظام التقاعد المبكر وانضمامهم لصفوف البطالة في وقفات احتجاجية

٢٩ - ثورة ٢٥ يناير ٢٠١١ م ؟

* تخلى الرئيس مبارك عن الرئاسة ١١ فبراير ٢٠١١ م وتسليم إدارة شئون البلاد للمجلس الأعلى للقوات المسلحة، واحتفل الملايين بهذا الحدث التاريخي

* أثبتت أحداث الثورة مدى إصرار الشعب المصري على تحقيق مطالبه، وأن الجيش المصري قوة مساندة للشعب وليس أداة لدى النظام لقمع المتظاهرين

٣٠ - ثورة ٣٠ يونيو ٢٠١٣ م ؟

* عزل محمد مرسي وتسليم السلطة إلى المستشار عدلي منصور رئيس المحكمة الدستورية العليا لحين إجراء انتخابات رئاسية مبكرة وتعديل دستور ٢٠١٢ م

٣١ - الانتخابات الرئاسية التي حدثت عقب دستور ٢٠١٤ م ؟

* أعلن فوز المرشح عبد الفتاح السيسي وأصبح رئيسا لمصر

٣٢ - صدور دستور ١٩٢٣ م ؟

* تضمن حرية تكوين الأحزاب السياسية

* انشاء برلمان يمثل السلطة التشريعية ويتكون من مجلسين هما مجلس النواب ومجلس الشيوخ

٣٣ - دستور ١٩٥٦ م بالنسبة للمرأة ؟

* حصلت المرأة بناءً عليه على حق الانتخاب والترشح وأصبحت عضواً بالبرلمان المصري

سادساً دلائل :

١ - اختلفت الكتابات وتعددت الآراء حول ثورة ٢٣ يوليو ١٩٥٢ م ؟

* حيث يرى بعض المؤرخين أنها تكتسب أهميتها مما تركته من آثار على أغلب الحركات التحررية العربية وفي العالم أجمع، وإسهامات قادتها في تأسيس حركات دولية مثل عدم الانحياز والحياد الإيجابي

يرى مؤرخين آخرون أن الثورة كانت امتداداً ومكملة لنضال طويل لشعب مصر ضد الفساد والاحتلال منذ الثورة العربية وثورة ١٩١٩ م وحتى قيامها

٢ - لم تحقق معاهدة ١٩٣٦ م الاستقلال الحقيقي لمصر ؟

* حيث قامت قوات الاحتلال البريطاني بحصار قصر عابدين في فبراير ١٩٤٢ م لإجبار الملك فاروق على تعيين مصطفى النحاس باشا رئيساً للحكومة

٣ - فساد النظام الملكي قبل ثورة يوليو ١٩٥٢ م ؟

* تمثل في استبداد الملك فاروق بالحكم * انتشار الرشاوي كما حدث في صفقة الأسلحة الفاسدة

٤ - تأثر الاقتصاد المصري بالحرب العالمية الثانية ؟

* حيث أدى توقيع معاهدة ١٩٣٦ م إلى جعل مصر ميداناً لمعارك الحرب العالمية الثانية و استنزاف موارد مصر لخدمة بريطانيا وحلفائها

٥ - اهتمام ثورة يوليو ١٩٥٢ م بالزراعة ؟

* التوسع في استصلاح الأراضي الصحراوية لزيادة الرقعة الزراعية

* انشاء السد العالي بهدف حماية البلاد من خطر الفيضان وتخزين المياه وتوليد الكهرباء

٦ - اهتمام ثورة يوليو ١٩٥٢ م بالصناعة ؟

* الاهتمام بالتعليم الصناعي ومراكز التدريب المهني

* حيث تم إنشاء العديد من المصانع مثل مصنع الحديد والصلب بحلوان ومصنع الأسمدة بأسوان

* الاهتمام بالبحث والتنقيب عن البترول وانشاء معامل لتكرير البترول

٧ - اهتمام ثورة يوليو ١٩٥٢ م بالتجارة ؟

* حيث تم فتح أسواق خارجية جديدة لتسويق المنتجات المصرية

* تمصير البنوك وشركات التأمين وشركات التصدير والاستيراد

٨ - وصف وعد بلفور بأنه وعد من لا يملك لمن لا يستحق ؟

* حيث تعهدت بريطانيا التي تحتل فلسطين بإنشاء وطني قومي لليهود فيها

٩ - قام الشعب الفلسطيني بالعديد من الحركات الوطنية ضد إجراءات تنفيذ وعد بلفور ؟

* حيث قام بانتفاضة عام ١٩٢٩ م ، وثورة ١٩٣٦ م بقيادة اللجنة العربية

١٠ - أثرت الهدنة التي اقترحتها الولايات المتحدة على مجلس الأمن بين اليهود والعرب في تغير مسار حرب فلسطين ؟

* حيث لم يلتزم اليهود بالهدنة، وبدأوا في تقوية قواتهم من حيث العدد والتسليح والتدريب وعند استئناف القتال ظهر تفوقهم في جميع جبهات القتال مما أدى إلى تراجع وهزيمة القوات العربية

١١ - كان للولايات المتحدة الأمريكية دور في ضرب إسرائيل للمطارات المصرية في حرب ١٩٦٧ م ؟

* حيث صورت أجهزة التجسس الأمريكية الحديثة المواقع المصرية لصالح إسرائيل

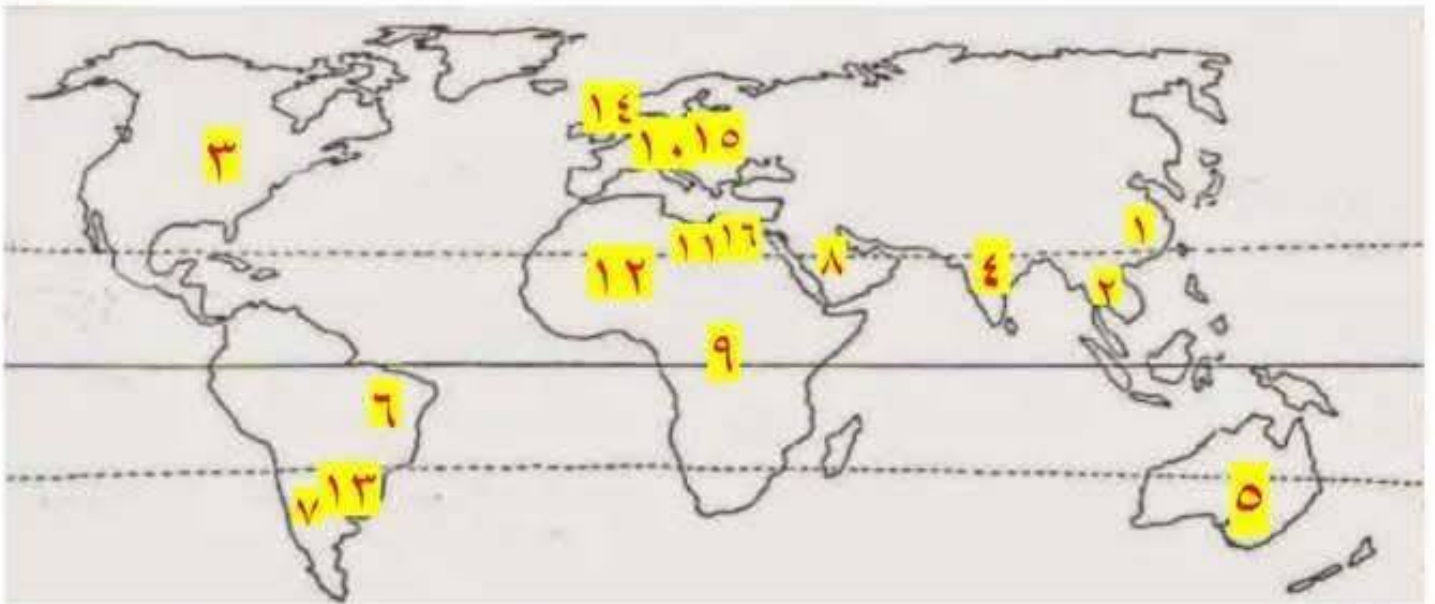
١٢ - كان دور الدول العربية داعم بشدة لمصر وسوريا في حرب أكتوبر ١٩٧٣ م ؟

* حيث قدمت بعض الدول العربية دعماً عسكرياً مثل العراق والجزائر والسعودية والأردن، ومالياً مثل السعودية والجزائر والإمارات

*ومن الناحية السياسية أصدر وزراء النفط العربي قرار في اجتماعهم بالكويت نص على خفض انتاج البترول وحقل الصادرات النفطية للولايات المتحدة بعد مساعدتها لإسرائيل

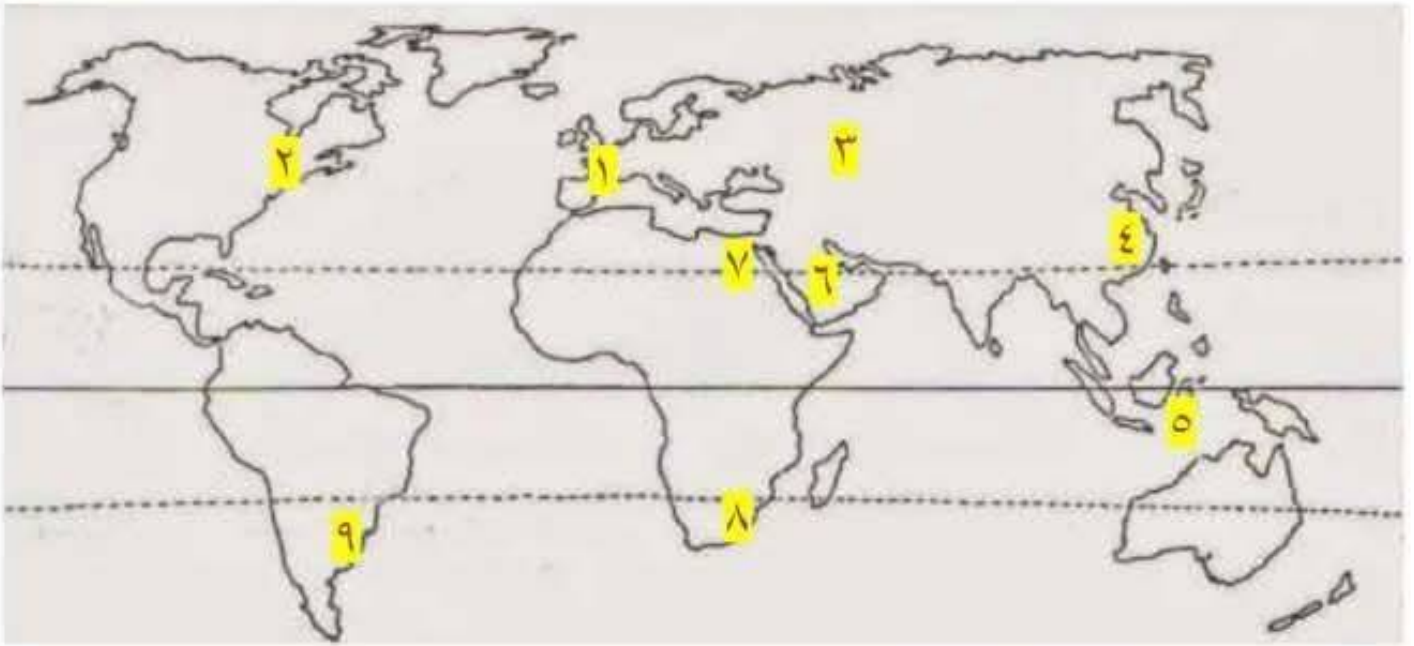
- ١٧ - لم يتخذ الرئيس السادات قرار مبادرة السلام عام ١٩٧٧ م ؟
 لم يتم تمهيد الطريق أمام إسرائيل للقبول بمبدأ التفاوض مع الأطراف المهمة والمعنية بقضية الصراع العربي الإسرائيلي وبالتالي لم يتم إنهاء الصراع العربي الإسرائيلي سلمياً
- ١٨ - فشل مؤتمر كامب ديفيد ١٩٧٨ م ؟
 * كان لن يتم التوصل إلى اطار اتفاق "معاهدة" للسلام . بين مصر وإسرائيل
- ١٩ - رفضت إسرائيل تنفيذ قرار محكمة العدل الدولية ١٩٨٨ م ؟
 * ستتوتر العلاقات بين الطرفين وستصر مصر على استرداد أرضها بكل الطرق وستعرض إسرائيل لعقوبات من الأمم المتحدة
- ٢٠ - لم يتم الاستعانة بالقوات المسلحة خلال أحداث ثورة ٢٥ يناير ٢٠١١ م ؟
 * كانت ستزداد حالة الفوضى والتخريب في البلاد ولن يتم تأمين وحماية الممتلكات العامة والخاصة

السؤال التاسع الخريطة



- ١- الدولة الأولى في القمح والقطن والشاي والاعناب واللحوم والاسماك والحديد والفحم (الصين)
 ٢- الدولة الأولى في المطاط (تايلاند)
 ٣- الدولة الأولى في الدواجن والألمونيوم والغاز الطبيعي (الولايات المتحدة الأمريكية)
 ٤- الدولة الأولى في الابقار والالبان (الهند)
 ٥- الدولة الأولى في الاصواف والبيوكسيت (استراليا)
 ٦- الدولة الأولى في قصب السكر والسكر والبن (البرازيل)
 ٧- الدولة الأولى في النحاس (شيلي)
 ٨- الدولة الأولى في البترول (السعودية)
 ٩- نوع من الزراعة (الزراعة البسيطة)
 ١٠- نوع من الزراعة (الزراعة التجارية والعلمية)
 ١١- نوع من الزراعة (الزراعة الكثيفة)
 ١٢- نوع من الرعى (الرعى البدائي)
 ١٣- نوع من الرعى (الرعى التجارى)
 ١٤- دولة تشتهر بتصدير الأسماك (النرويج)
 ١٥- أولى قارات العالم في إنتاج الغاز الطبيعي والطاقة النووية (أوروبا)
 ١٦- أولى الدول العربية في إنتاج الكهرباء من طاقة الرياح (مصر)

خريطة الأقاليم والمراكز الصناعية الحديثة في العالم



- ١- إقليم صناعي : غرب ووسط أوروبا
- ٢- إقليم صناعي : شمال شرق الولايات المتحدة الأمريكية
- ٣- إقليم صناعي : إقليم روسيا و أوكرانيا
- ٤- إقليم صناعي : إقليم شرق آسيا
- ٥- مركز صناعي حديث : إندونيسيا
- ٦- مركز صناعي حديث : دول الخليج العربي
- ٧- مركز صناعي حديث : مصر
- ٨- مركز صناعي حديث بأفريقيا : جنوب أفريقيا
- ٩- مركز صناعي حديث في أمريكا الجنوبية : الأرجنتين

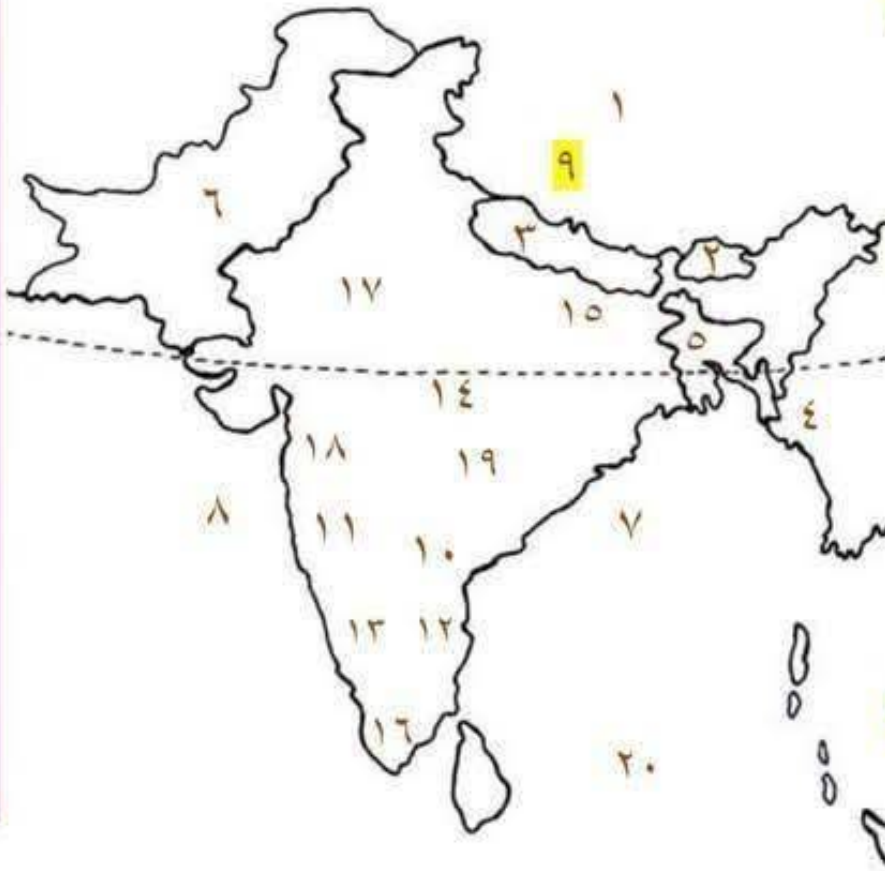
جمال

خريطة صماء لدولة نيجريا الاتحادية



- ١- دولة النيجر
- ٢- دولة تشاد
- ٣- دولة الكاميرون
- ٤- دولة بنين
- ٥- خليج غينيا
- ٦- نهر النيجر
- ٧- دلتا نهر النيجر
- ٨- هضبة جوس
- ٩- العاصمة الحالية "أبوجا"
- ١٠- أكبر المدن وأكثرها كثافة والعاصمة الاقتصادية "لاجوس"
- ١١- مركز للتجارة والتعليم والمواصلات "إبيدان"

خريطة دولة الهند



- ١- دولة الصين
- ٢- دولة بوتان
- ٣- دولة نيبال
- ٤- دولة ميانمار
- ٥- دولة بنجلاديش
- ٦- دولة باكستان
- ٧- خليج البنغال
- ٨- البحر العربي
- ٩- جبال الهيمالايا
- ١٠- جبال الغات الشرقية
- ١١- جبال الغات الغربية
- ١٢- ساحل كروماندل
- ١٣- ساحل ملبار
- ١٤- هضبة الدكن
- ١٥- نهر الجانج
- ١٦- نهر كوفرى
- ١٧- العاصمة السياسية "نيودلهي"
- ١٨- العاصمة التجارية وأهم مدن الساحل الغربي "بومباي"
- ١٩- مركز للصناعات اليدوية "حيدر أباد"
- ٢٠- المحيط الهندي