



# الدراسات الإجتماعية الصف الثالث الإعدادي

اعداد الإستاذ محمود طارق



## أولاً: (معلومات تهمك)

### الزراعة



١. تنقسم الزراعة إلى قسمين: بدائية بسيطة ومتقدمة، والزراعة المتقدمة تنقسم إلى كثيفة وتجارية علمية.

٢. يُعتبر القمح الغذاء الرئيسي لمعظم شعوب العالم ويُصنع منه الخبز.

٣. يُستخدم معظم إنتاج الذرة الشامية في أمريكا الشمالية كعلف للحيوان ويُصدر جزء منه للخارج.

٤. تُعد مصر أولى دول أفريقيا إنتاجاً للبنجر.

٥. أكبر دول العالم إنتاجاً لقصب السكر والسكر هي دولة البرازيل.

٦. من محاصيل الألياف وتتركز زراعته في قارة آسيا: القطن.

٧. يُعد قصب السكر من المحاصيل الأساسية لإنتاج السكر. وتُزرع في المناطق المدارية الحارة.

٨. يُستخرج المطاط الطبيعي من عصارة أشجار استوائية ويُصنع منه إطارات السيارات.

٩. الموطن الأصلي لمحصول الشاي هو شرق آسيا.

١٠. يسود الرعي التجاري في دولة الأرجنتين بأمريكا الجنوبية.

١١. يمارس الرعي التجاري في مناطق البراري بقارة أمريكا الشمالية.

١٢. تُعد الأبقار المصدر الرئيسي للحوم الحمراء لغالبية سكان العالم.

١٣. الصين أولى دول العالم إنتاجاً للحوم ومعظمها من لحوم الخنازير.

١٤. منتج حيواني تعد الهند أولى دول العالم إنتاجاً له يليها.

الولايات المتحدة الأمريكية: الألبان.

١٥. من أهم الدول المصدرة للأسمك: الصين والنرويج وتايلاند.

١٦. من الأحياء البحرية: القشريات كالجمبري، والرخويات كالسبيط، والحيتان التي يُستفاد من لحومها وشحومها.

١٧. من الدول المصدرة للحديد موريتانيا، وأولى الدول المنتجة له الصين،

بينما الدول المستوردة للحديد هي بريطانيا، واليابان.

١٨. يُعد البوكسيت الخام الرئيسي لمعدن الألومنيوم.

١٩. يوجد الحديد في جميع قارات العالم.

٢٠. تستهلك الدول المتقدمة ٨٥% من الإنتاج العالمي للمعادن رغم أن سكانها

يمثلون خمس سكان العالم فقط، وذلك لكثرة الصناعات التي تدخل فيها المعادن.

٢١. يدخل النحاس في صناعة الأسلاك والأدوات الكهربائية وتُعد شيلي

أهم الدول في إنتاجه.

٢٢. أولى الدول العربية في توليد الطاقة الكهربائية من الرياح هي مصر والمغرب.

٢٣. يشكل البترول والغاز الطبيعي نحو ٥٥% من الطاقة المستخدمة في العالم.

٢٤. أهم الدول إسهاماً في التجارة الدولية للبترول والغاز الطبيعي هي

دول الخليج العربي.

٢٥. كان الفحم المصدر الأول والرئيسي للطاقة المستخدمة في العالم

حتى أوائل القرن العشرين.

٢٦. الغاز الطبيعي مصدر طاقة يتميز بنظافته ورخص ثمنه وسهولة نقله

وتُعد استخداماته.

٢٧. من الدول النامية التي اقتربت من مستوى الدول المتقدمة في الصناعة:

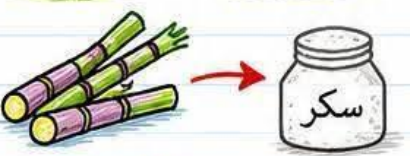

الصين، وجنوب أفريقيا، ومصر.

٢٨. إقليم صناعي يبدو في شكل مناطق متباعدة: روسيا وأوكرانيا.

٢٩. أكبر الأقاليم المصنعية في العالم الجديد: إقليم شمال شرق


الولايات المتحدة الأمريكية.

٣٠. الإتحاد الأوروبي هيئة تمثل الوحدة الاقتصادية الأوروبية أدت للتكامل في الجوانب الاقتصادية والصناعية.





# الدراسات الاجتماعية الصف الثالث



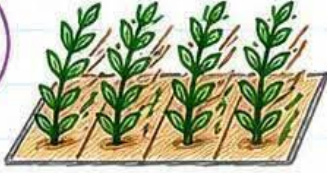
الاعدادي اعداد أ/محمود طارق



## ثانياً: أهم المصطلحات والمفاهيم



أ/  
محمود طارق



١. **الزراعة الكثيفة**: زراعة الأرض أكثر من مرة في العام بأكثر من محصول لإشباع حاجة السكان المحليين من الغذاء في المناطق كثيفة السكان.



٢. **الزراعة البدائية (البسيطة)**: زراعة يقوم بها عدد قليل من السكان في مناطق صغيرة ومعزولة ويستخدم فيها أدوات بدائية.



٣. **الزراعة التجارية والعلمية**: تُعرف بنظام الزراعة الواسعة وتهدف للإنتاج التجاري الضخم.



٤. **الرعي البدائي**: رعي يمارسه سكان المناطق الصحراوية في مساحات واسعة من قارات العالم.



٥. **الرعي التجاري**: رعي يمارس في مناطق حشائش الاستبس والسافانا ويعتمد على الأساليب العلمية الحديثة والتخصص في حيوان المرعى دون اختلاط.



٦. **النشاط التعديني**: عملية استخراج المعادن ومصادر الطاقة من باطن الأرض أو بالقرب من السطح.



٧. **مصادر الطاقة**: هي القوى المحركة لحياة الإنسان في كل مجالات حياته.



٨. **الكهرباء الحرارية**: هي التي تُنتج من محطات تُدار بالفحم أو البترول أو الغاز الطبيعي.



٩. **الكهرباء المائية**: هي التي تُنتج عن طريق تدفق المياه من الشلالات أو السدود (مثل كهرباء السد العالي).



١٠. **الكهرباء النووية**: هي التي تُنتج من محطات تُدار بالطاقة النووية السلمية.





# أقوى بنك أسئلة بالإجابات النموذجية



مراجعة شاملة ومكثفة لطلاب الصف الثالث الإعدادي في مادة الدراسات



تحت إشراف الأستاذ / محمود طارق معلم التاريخ



أولاً: بم تفسر؟ (أسئلة وإجابات)



١. قيام الإنسان في الماضي بالعديد من الحرف البدائية:

لتوفير احتياجاته الضرورية من مأكّل وملبس ومشرب.



٢. يعتبر النشاط الزراعي من الأنشطة الاقتصادية الأساسية في العالم:

لأنه مصدر رئيسي لغذاء الإنسان، ومصدر للمواد الخام (الزراعية والحيوانية). ومصدر لتربية الحيوان.



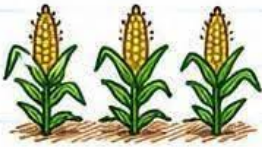
٣. تحتاج الزراعة الكثيفة إلى أيدي عاملة كثيرة:

لأنها تتم من خلال عمليات عديدة مثل بذر الحبوب والري وتنقية الحشائش.



٤. صعوبة استخدام الآلات والميكنة الزراعية في مناطق الزراعة الكثيفة:

بسبب ضيق وصغر مساحة الحقول الزراعية.



٥. تتميز الزراعة التجارية بالتخصص في محصول واحد:

لأنها تهدف إلى الإنتاج التجاري الضخم.




٦. توجد الزراعة التجارية في نطاقات محددة:

لأنها تعتمد على استخدام الآلات والميكنة الزراعية الحديثة وتتم في مزارع واسعة.



٧. انخفاض التكاليف وقلة عدد العمال في الزراعة التجارية والعلمية:

لأنها تتم في مزارع واسعة وتستخدم أحدث الآلات والميكنة الزراعية.



٨. يزرع قصب السكر في كل القارات ما عدا أوروبا:

لأن قصب السكر يزرع في المناطق المدارية الحارة، بينما تقع أوروبا في المنطقة المعتدلة.

١ / محمود طارق



٩. تركز زراعة البنجر في قارة أوروبا وأمريكا الشمالية:

لتوافر ظروف زراعته من مناخ وتربة ملائمة.



١٠. أهمية محصول القطن في العالم:

لإنتاج خيوط تستخدم في صناعة أجود.



١١ • شهرة القطن المصري والسوداني : لأنه من النوع طويل التيلة.

١٢ • تعد الصين أولى دول العالم المنتجة للشاي :

لتوافر ظروف زراعته (تربة خفيفة خصيبة، مناخ حار، هواء رطب، ومطر غزير).

١٣ • قلة عدد القائمين على حرفة الرعي البدائي :

في شبه الجزيرة العربية وبادية الشام : بسبب تدفق البترول وتوطين البدو.

في دول وسط آسيا : لإنتشار التعليم وتغيير النشاط للعمل في

الصناعة والزراعة والخدمات.

١٤ • تعد الصين أكبر دول العالم المربية للأغنام : لتوافر الحشائش التي تترى عليها.

١٥ • ينتشر الرعي التجاري في الولايات والأرجنتين وأستراليا :

لتوافر الحشائش الغنية (الاستبس والسافانا) واستخدام الأساليب العلمية الحديثة.

١٦ • زيادة معدل الاستهلاك العالمي من اللحوم الحمراء : بسبب ارتفاع مستوى المعيشة.

١٧ • تعتبر أستراليا أولى دول العالم في إنتاج الصوف :

بسبب تربية أغنام المارينو المشهورة بغزارة صوفها.

١٨ • تعتبر الصين أولى دول العالم في إنتاج الأسماك :

لطول سواحلها على المحيط الهادي ووجود الأنهار والبحيرات والمزارع السمكية.

١٩ • أهمية اصطياد الحيتان : للاستفادة من لحومها وشحومها.

٢٠ • انتشار حرفة الصيد وتطورها على سواحل القارات :

لتوافر المقومات الطبيعية (ضخالة المياه، التفاء التيارات) والبشرية

(تطور أدوات الصيد، التوسع في تربية الأسماك).

٢١ • توسع العالم في استخدام الغاز الطبيعي :

لأنه يتميز بنظافته ورخص ثمنه وسهولة نقله وقلة تلوثه للبيئة.

## ثانياً: ما النتائج المترتبة على؟

١ ضيق مساحة الحقول في الزراعة الكثيفة : أدى إلى صعوبة استخدام الآلات والميكنة الزراعية.

٢ استخدام الآلات الحديثة في الزراعة التجارية : أدى إلى قلة التكاليف وقلة العمالة الزراعية.

٣ انتشار التعليم بين قبائل وسط آسيا : أدى إلى قلة عدد العاملين في حرفة الرعي البدائي.

٤ تربية أغنام المارينو في أستراليا : جعلها من أكبر دول العالم في إنتاج الأصواف.

٥ تصدير البوكسيت من الدول النامية : أدى إلى فقدانها فرصة تصنيعه،

وتوطن صناعة الألومنيوم في الدول المتقدمة المستوردة له.

٦ الوحدة الاقتصادية الأوروبية (الاتحاد الأوروبي) :

أدى للتكامل في الجوانب الاقتصادية والصناعية وحماتها جمركياً.

## ثالثاً: ماذا يحدث إذا؟

← نجحت الدول النامية في تصنيع المعادن بدلاً من تصديرها خاماً :

ستصبح من مراكز الصناعة الحديثة ويزيد دخلها القومي.

← استخدمت مصر الطاقة الشمسية والرياح في توليد الكهرباء :

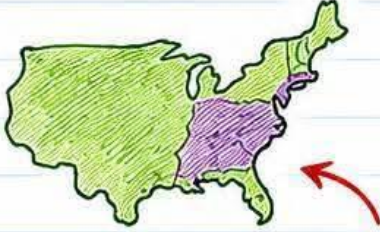
سيقل التلوث وتكتفي مصر من الطاقة وتصدر الفائض.



٧ تصدير البوكسيت للدول المتقدمة: أدى إلى فقدان الدول النامية فرصة تصنيعه، وتوطن صناعة الألومنيوم في الدول المتقدمة المستوردة له.



٨ ارتفاع أسعار المعادن ومصادر الطاقة بشكل مستمر: أدى إلى زيادة التكاليف الصناعية والبحث عن بدائل.



٩ توافر مقومات الصناعة في إقليم شمال شرق الولايات المتحدة: جعله أكبر الأقاليم الصناعية في العالم الجديد.



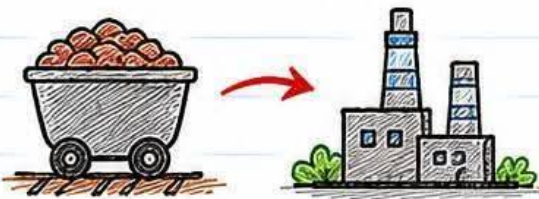
١٠ الوحدة الاقتصادية الأوروبية (الاتحاد الأوروبي): أدى للتكامل في الجوانب الاقتصادية والصناعية وحمايتها جمركياً وتدعيمها من جانب هيئة الاتحاد الأوروبي.

أ / محمود طارق


## ثانياً: ماذا يحدث إذا؟



١ استخدمت مصر الطاقة الشمسية والرياح في توليد الكهرباء: سيقل التلوث وتكتفي مصر من الطاقة وتصدر الفائض للخارج.



٢ نجحت الدول النامية في تصنيع المعادن بدلاً من تصديرها خاماً: ستصبح من مراكز الصناعة الحديثة ويزيد دخلها القومي.



٣ قامت مصر بتصنيع الألومنيوم بدلاً من تصدير البوكسيت: سيزيد الدخل القومي وتتطور الصناعات الثقيلة محلياً.



٤ اتبعت مصر نظام الزراعة التجارية والعلمية: سينتج ذلك إنتاجاً زراعياً ضخماً، وتقل التكاليف وعدد العمالة الزراعية، وتكتفي مصر من المحاصيل الغذائية.



## ثالثاً: حقائق ومعلومات جغرافية (أثبت بالأدلة)



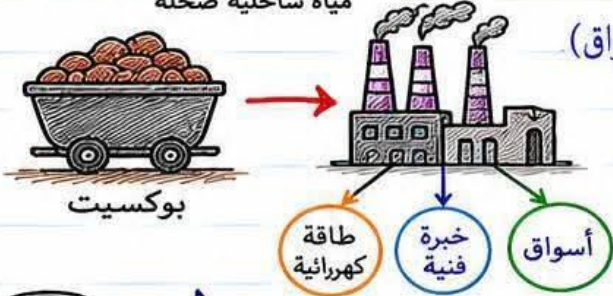
١) تعد ضحالة المياه الساحلية من المقومات الطبيعية لصيد الأسماك حيث تسمح بنمو الغذاء اللازم للأسماك.



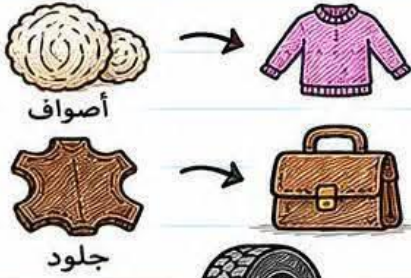
مياه ساحلية ضحلة

٢) يُعتبر البوكسيت الخام الرئيسي لصناعة الألومنيوم:

ولا بد من توافر مقومات معينة (طاقة كهربائية، خبرة فنية، أسواق) لتصنيعه.



٣) يمثل الغاز الطبيعي مع البترول نحو ٥٥٪ من الطاقة المستخدمة في العالم مما يبرز أهميتهما القصوى في النشاط الاقتصادي.



٤) تدخل الكثير من المنتجات الحيوانية في الصناعة: مثل الأصواف التي تدخل في صناعة نسيج الصوف، والجلود التي تدخل في صناعة ديبج الجلود.

٥) يستخدم المطاط الطبيعي في صناعة إطارات السيارات والصناعات الأخرى نظراً لمرونته وقوته.



أ / محمود طارق

## رابعاً: الأقاليم الصناعية في العالم



١) إقليم غرب ووسط أوروبا: يضم دولاً مثل بريطانيا، وفرنسا، وألمانيا.



٢) إقليم شمال شرق الولايات المتحدة الأمريكية:

أكبر الأقاليم الصناعية في العالم الجديد، ويتسع ليشمل البحيرات العظمى ويتكامل مع المناطق الصناعية في كندا.



٣) إقليم روسيا وأوكرانيا: يبدو في شكل مناطق متباعدة، وأهم مراكزه (إقليم الأورال، وموسكو وما حولها).



٤) إقليم شرق آسيا: يضم جزيرة هونشو باليابان، وكوريا، ومناطق صناعية عديدة بالصين.



٥) مراكز صناعية حديثة في آسيا: دول جنوب شرق آسيا (ماليزيا، سنغافورة، إندونيسيا، تايلاند).





## تكملة: معلومات تهكم



٦ الصناعة الحديثة المتطورة والدول المتقدمة : الدول المتقدمة هي التي تطورت فيها



الصناعة تطوراً كبيراً حيث أخذت بالأساليب العلمية وتطبيق الأبحاث والتجارب العلمية وتطوير المنتجات بشكل مستمر.



٧ الفحم والغاز الطبيعي : يُستخدمان في توليد الطاقة الكهربائية.



قصب السكر (مداري)



بنجر السكر (معتدل)

٨ المناخ وإنتاج السكر في العالم : يُنتج السكر من قصب السكر

(محصول مداري)، بينما يُنتج من بنجر السكر

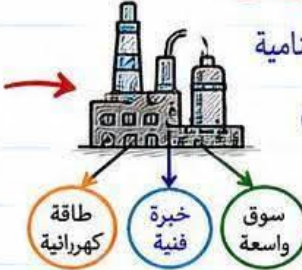
في المناطق المعتدلة.

أ / محمود طارق

## أثبت بالأدلة الجغرافية صحة العبارات الآتية:



البوكسيت



١ معظم الدول المنتجة للألومنيوم ليست هي المنتجة للبوكسيت : حيث تصدر الدول النامية

البوكسيت للدول المتقدمة التي تتوفر فيها مقومات صناعة الألومنيوم (طاقة كهربائية، خبرة فنية، سوق واسعة)، وأكبر الدول المصنعة له هي الولايات المتحدة الأمريكية.



البحث والكشف



إعداد المنجم



٢ هناك عمليات تسبق عملية التعدين : تشمل البحث والكشف عن الخامات،

وإعداد المنجم (إنشاء طرق وسكك حديدية وبناء مساكن للعاملين).



الصناعة



الاستخدامات المنزلية



توليد الكهرباء



كوقود للسيارات

٣ توسع العالم في استخدام الغاز الطبيعي : يُستخدم في الصناعة على نطاق واسع،

وفي الاستخدامات المنزلية، وتوليد الكهرباء،

وكوقود للسيارات كبديل للبنزين للحد من التلوث.



٤ تطورت الصناعة في الدول المتقدمة تطوراً مذهلاً :

لأنها تعتمد على الأساليب العلمية وتطبيق الأبحاث

وتحديث المنتجات بشكل مستمر.

## جدول المقومات (طبيعية وبشرية)

مقومات بشرية	مقومات طبيعية	المجال
<ul style="list-style-type: none"> <li>• الأيدي العاملة الماهرة</li> <li>• التطور العلمي</li> <li>• الأسواق</li> <li>• رأس المال</li> <li>• السياسات الحكومية</li> </ul>	<ul style="list-style-type: none"> <li>• المواد الخام</li> <li>• مصادر الطاقة</li> <li>• الموقع المتميز.</li> </ul>	الصناعة
<ul style="list-style-type: none"> <li>• الخبرات الفنية في صناعة المراكب</li> <li>• التوسع في تربية الأسماك</li> <li>• على أسس علمية</li> </ul>	<ul style="list-style-type: none"> <li>• ضحالة المياه الساحلية</li> <li>• التقاء التيارات البحرية</li> <li>• توافر الموانئ لرسو السفن</li> </ul>	صيد الأسماك



# (أولى القارات والدول المنتجة)



يستعرض هذا الجدول الترتيب العالمي في إنتاج المحاصيل والمعادن والطاقة:

أ  
محمود طارق

أولى الدول	أولى القارات	المحاصيل الزراعية
الصين ثم الهند	آسيا	القمح 
الولايات المتحدة	أمريكا الشمالية	الذرة 
فرنسا ثم الولايات المتحدة	أوروبا ثم أمريكا الشمالية	البنجر 
الصين ثم الهند	آسيا	القطن 
تايلاند	آسيا	المطاط 

أولى الدول	أولى القارات	الثروة الحيوانية
الهند	آسيا	الأبقار 
الصين ثم الهند ثم أستراليا	آسيا	الأغنام 

الصين (ومعظمها خنازير)
الهند
أستراليا
الدول المنتجة: الصين، إندونيسيا، الولايات المتحدة
الدول المصدرة: الصين، النرويج، تايلاند

المنتجات الحيوانية
اللحوم الحمراء 
الألبان 
الأصواف 

الأسماك


أولى الدول	أولى القارات	المعادن
شيلي	النحاس 	
أستراليا	البوكسيت 	
الولايات المتحدة	الألومنيوم 	
السعودية، روسيا، الولايات المتحدة	البتترول 	
الدول المنتجة: الصين، أستراليا الدول المصدرة: موريتانيا	الحديد 	
الدول المستوردة: بريطانيا، اليابان		

أولى الدول	أولى القارات	الطاقة
الصين، الولايات المتحدة، الهند	آسيا، أوروبا، أمريكا الشمالية	الفحم 
الولايات المتحدة	أوروبا (ثلث الإنتاج)	الغاز الطبيعي 
	أوروبا، أمريكا الشمالية	الطاقة النووية 

أولى الدول	أولى القارات	طاقة الرياح
مصر ثم المغرب	الدول العربية الأولى:	
فرنسا، بريطانيا، الولايات المتحدة	الدول الأجنبية:	



## ثانياً: مقارنة بين أنواع الزراعة



أ / محمود طارق

 <ul style="list-style-type: none"><li>• يقوم بها عدد قليل في مناطق معزولة.</li><li>• أهم محاصيلها : اليام، الكسافا، الذرة، الموز.</li></ul>	<b>الزراعة البسيطة</b> 
 <ul style="list-style-type: none"><li>• زراعة الأرض أكثر من مرة في العام.</li><li>• تتطلب أيدي عاملة وفيرة ويصعب فيها استخدام الميكنة.</li><li>• أهم محاصيلها : القمح، الأرز، القطن.</li></ul>	<b>الزراعة الكثيفة</b> 
 <ul style="list-style-type: none"><li>• تهدف للإنتاج التجاري الضخم وتستخدم أحدث الآلات.</li><li>• تتركز في أمريكا الشمالية وجنوب شرق آسيا،</li><li>• محاصيلها : المطاط، القمح، القطن، الشاي.</li></ul>	<b>الزراعة التجارية</b> 

## ثالثاً: العلاقات المصرية مع (نيجيريا - الهند - الولايات المتحدة)



نيجيريا

→ تصدر مصر لها : الأسمدة، المعدات الثقيلة، الأسلاك النحاسية، إطارات السيارات، المحولات الكهربائية، ومواسير الألومنيوم.

← تستورد منها: السلع الزراعية (الحبوب الزيتية).



الهند

→ تصدر مصر لها : القطن، الأسمدة (خام ومصنعة)، الفوسفات، والجلود.

← تستورد منها: غزل القطن، الشاي، التوابل، السمسم، وقطع غيار وسائل النقل.



الولايات المتحدة

توجد اتفاقيات تجارية مثل: (اتفاقية التجارة الحرة) و(الكوبن).



← تستورد مصر منها: الأسلحة، الطائرات، والمنتجات التكنولوجية.





# توزيع السكان، والتضاريس في ثلاث دول هي (الهند، ونيجيريا، والولايات المتحدة الأمريكية)



أ  
محمود طارق

أولاً: أهم المدن في الدول الثلاث

الدولة	المدينة	شهرتها وأهميتها
الهند 	نيودلهي	العاصمة السياسية، ومركز للجامعات والمراكز الصناعية والمعالم التاريخية.
	بومباي	العاصمة التجارية، وأكبر الموانئ، وأكبر المدن الصناعية.
	حيدر أباد	تقع على هضبة الدكن، وتعد أكبر مراكز الصناعات اليدوية وبها مراكز إسلامية.
نيجيريا 	أبوجا	العاصمة السياسية الحالية، وهي مدينة داخلية.
	لاغوس	العاصمة القديمة، وهي الأكثر ازدحاماً بالسكان وتعتبر العاصمة الاقتصادية.
	إيبادان	المدينة الثانية بعد لاغوس، وتعد مركزاً للتعليم والتجارة والمواصلات.
الولايات المتحدة الأمريكية 	واشنطن	العاصمة السياسية، وتطل على المحيط الأطلسي.
	نيويورك	ميناء هام على المحيط الأطلسي وبها مقر الأمم المتحدة.
	شيكاغو	من أكبر مدن السهول الوسطى وتقع على بحيرة متشجن.
	سان فرانسيسكو	أكبر الموانئ الأمريكية على المحيط الهادي في الغرب.

ثانياً: توزيع السكان في الدول الثلاث



الهند : ثاني دول العالم سكاناً؛ يتركزون في السهول الساحلية والفيضية والمدن الرئيسية (نيودلهي، بومباي).



نيجيريا : أكبر دول أفريقيا سكاناً؛ يتركزون في الغرب والسهول الشمالية وهضبة جوس؛ بينما يقلون في الجنوب عند دلتا نهر النيجر.



الولايات المتحدة: يتركز السكان في إقليم نيوانجلند (شمال شرق)، والسهول الوسطى، والسواحل الغربية (المناطق الصناعية)؛ بينما يقلون في نطاق المرتفعات والأحواض الغربية وفي ولاية ألاسكا.

ثالثاً: التضاريس



## الهند

- الجبال : الهيماليا، والغات الشرقية، والغات الغربية.
- الهضاب : هضبة الدكن.
- السهول : سهول فيضية (الجانج في الشمال الشرقي وكوفري في الجنوب)، وسهول ساحلية (كروماندل وملبار).



## نيجيريا

- التلال : تزداد ارتفاعاً نحو الشمال الغربي.
- الهضاب : هضبة جوس.
- السهول : سهول فيضية (السهول الشمالية ويجري بها نهر النيجر)، وسهول ساحلية منخفضة على خليج غينيا.



## الولايات المتحدة

- الجبال : الأبالش في الشرق، وجبال روكي وكسكيد في الغرب.
- الهضاب : هضبة كلورادو.
- السهول : السهول الوسطى (يجري بها نهر المسيسيبي)، والسهل الساحلي الشرقي وسواحل خليج المكسيك.



# المناخ في الدول الثلاث:



أ  
محمود طارق

## الهند:



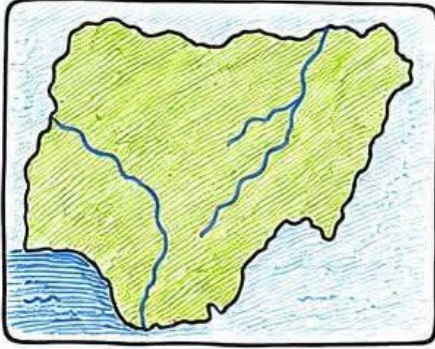
• متوسط درجة الحرارة يزيد عن ٢٠ درجة مئوية وتقل بالاتجاه شمالاً.



• الأمطار الموسمية الصيفية في الجنوب وتقل بالاتجاه شمالاً.



## نيجيريا:



• يقع معظمها ضمن الإقليم المداري (حرارة ومطر في الصيف).



• أطرافها الجنوبية تتبع الإقليم الاستوائي (حرارة ومطر طول العام).



## الولايات المتحدة:



• في الساحل الجنوبي الشرقي ودلتا المسيسيبي (مناخ شبه مداري حار).



• السهول الوسطى (يتنوع المناخ لأنها ممتدة من الشمال إلى الجنوب).



• **الغرب:** انخفاض درجة الحرارة مع الأمطار في المرتفعات وقلّة المطر في صحراء أريزونا.



حرارة ومطر طول العام



مطر موسمي (الصيف).



مناخ شبه مداري حار



تنوع المناخ





# النبات الطبيعي في الدول الثلاث:



أ / محمود طارق



## الهند:

- **غابات:** غابات موسمية على السواحل الشرقية والغربية.
- **حشائش:** قصيرة على هضبة الدكن.



## نيجيريا:

- **غابات:** غابات استوائية ومدارية في الجنوب.
- **حشائش:** السافانا شمال الغابات المدارية.



## الولايات المتحدة:



- **غابات:** غابات الإقليم الصيني في الساحل الجنوبي الشرقي ودلتا المسيسيبي، وجنوب السهول الوسطى.
- **حشائش:** الحشائش في وسط السهول الوسطى.
- **أعشاب صحراوية:** في صحراء أريزونا.
- **نباتات جبلية:** فوق المرتفعات الشمالية الغربية.



### مفتاح الرموز:



غابات



حشائش



أعشاب صحراوية




نباتات جبلية



# ملاحظات عامة حول السكان والاقتصاد والصناعة:



أ / محمود طارق



نيجيريا:



1 قلة عدد السكان في دلتا النيجر بسبب كثافة الغابات والظروف المناخية القاسية.

2 ارتفاع الكثافة السكانية في هضبة جوس والسهول الشمالية والغربية بسبب الأراضي الزراعية والمراعي ومناطق التعدين.

3 تربية أعداد كبيرة من الأبقار والأغنام في السافانا.

4 تعتبر إحدى الدول المنتجة للأسماك.

5 الاقتصاد نامي ويعتمد على الزراعة.

الهند:



1 توجد ثروة حيوانية ضخمة، خصوصاً الأبقار والجاموس والأغنام.

2 القيمة الاقتصادية للأبقار محدودة بسبب تحريم الديانة الهندوسية أكل لحوم الأبقار.

3 الهند من الدول الرئيسية المنتجة للأسماك لامتداد السواحل البحرية.


4 تعتمد على الطاقة النووية والكهربائية بسبب نقص البترول ومصادر الطاقة الأخرى.

5 شهدت قفزات سريعة في تطور الصناعة لوفرة مقومات الصناعة والاهتمام بالتعليم والبحث العلمي.

6 تنوع الأنشطة الاقتصادية لتوافر الموارد الزراعية والمعدنية والحيوانية.

7 تتفوق في صناعة الحديد والصلب لأنها ثالث دول العالم إنتاجاً للفحم.

8 تنتج محاصيل غذائية بكميات كبيرة لمواجهة مشكلة السكان.

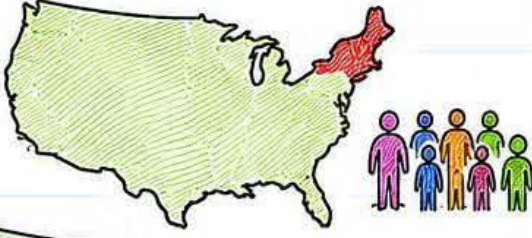




# الولايات المتحدة الأمريكية:



أ  
محمود طارق



1 يتركز نحو 50% من السكان في أي 12% من المساحة.



2 ارتفاع الكثافة السكانية في المناطق الغربية (الساحل الغربي).



3 انخفاض السكان في المرتفعات والأحواض الغربية بسبب الظروف الطبيعية الصعبة.



4 يقل عدد السكان في ولاية الاسكا لبرودة الجو.



5 تعد الولايات المتحدة القوة الإقتصادية الأولى في العالم لوفرة الموارد الطبيعية وتنوعها.



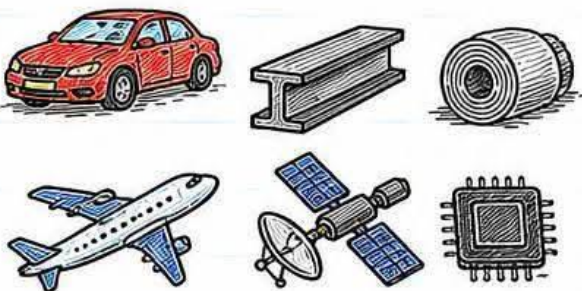
6 ضخامة وتنوع الإنتاج الزراعي والصناعي.



7 وجود أراضي زراعية خصبة واسعة في سهول نهر المسيسيبي والوادي الأوسط وبكاليفورنيا وعلى جوانب المرتفعات.



8 توجد ثروة مائية كبيرة لوقوعها على محيطين (الهادي والأطلنطي) ووجود الأنهار والبحيرات.



9 تعد الولايات المتحدة القوة الصناعية الأولى في العالم وأولى الدول الصناعية السبع، وتساهم بإنتاج كبير في الصناعات مثل السيارات، الصلب، الألومنيوم، الطائرات، الأقمار الصناعية، والصناعات الإلكترونية والكهربائية.





# أقوى بنك أسئلة بالإجابات النموذجية على التاريخ

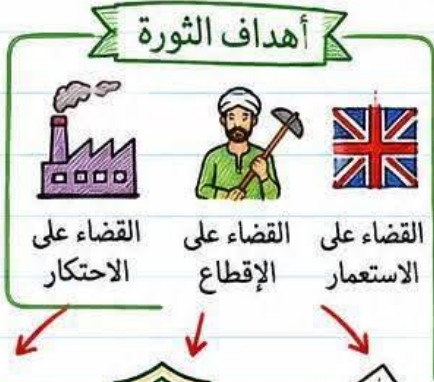


مراجعة شاملة ومكثفة لطلاب الصف الثالث الاعدادي  
في مادة الدراسات الاجتماعية



تحت إشراف الأستاذ/ محمود طارق معلم الدراسات الاجتماعية

أ/ محمود طارق



1 ما هي الأهداف الرئيسية لثورة 23 يوليو 1952 م؟

- القضاء على (الاستعمار والإقطاع والاحتكار) وإقامة جيش وطني قوي وعدالة اجتماعية وحياة ديمقراطية سليمة).



عدالة اجتماعية



جيش وطني قوي



حياة ديمقراطية سليمة

2 من أذاع البيان الأول للثورة وباسم من؟

- أذاعه محمد أنور السادات باسم اللواء محمد نجيب.



أحمد فؤاد الثاني

3 ماذا كان مطلب الثورة من الملك فاروق بشأن العرش؟

- أن يتنازل عن العرش لابنه أحمد فؤاد الثاني.



4 ما هو أول إنجاز قامت به ثورة 23 يوليو؟

- إصدار قانون الإصلاح الزراعي الأول.



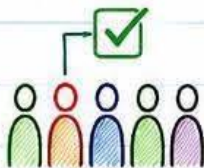
صفقة الأسلحة الشرقية

5 كيف كسرت الثورة احتكار السلاح العالمي؟

- عن طريق عقد صفقة الأسلحة الشرقية.



مجلس الأمة



6 في يد من أصبحت السلطة التشريعية بموجب دستور 1956م؟

- في يد مجلس منتخب هو مجلس الأمة.



7 متى تشكل أول مجلس أمة بعد الثورة؟

- عام 1957م.





# أقوى بنك أسئلة بالإجابات النموذجية على التاريخ



مراجعة شاملة ومكثفة لطلاب الصف الثالث الاعدادي  
في مادة الدراسات الاجتماعية



تحت إشراف الأستاذ / محمود طارق معلم الدراسات الاجتماعية



أ/  
محمود طارق



1 أي مؤتمر أعطى بريطانيا حق الانتداب على فلسطين؟

• مؤتمر سان ريمو عام 1920 م،،



2 متى وافقت الأمم المتحدة على تقسيم فلسطين؟

• عام 1947 م،،



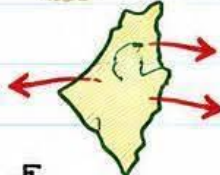
3 متى أعلن اليهود قيام دولة إسرائيل؟

• في 15 مايو 1948 م.



4 ما هي أبشع الجرائم الصهيونية المذكورة في فلسطين؟

• مذبحه دير ياسين،،



5 ما هي نتائج حرب 1967 م؟

• احتلال إسرائيل لكل فلسطين وبعض المناطق العربية،،



6 على ماذا نص قرار مجلس الأمن رقم 242؟

• على حرية الملاحة في الممرات الدولية،،

مراحل إعادة البناء

2 المرحلة الثانية:  
حرب الاستنزاف

1 المرحلة الأولى:  
الصمود والتصدي

7 ما هي مراحل إعادة بناء القوات المسلحة بعد 1967 م؟

المرحلة الأولى: الصمود والتصدي،

والمرحلة الثانية: حرب الاستنزاف،،

8 من أعطى إشارة بدء حرب أكتوبر 1973 م؟

• الرئيس محمد أنور السادات،،



9 كيف دعمت أمريكا إسرائيل في حرب أكتوبر؟

• أقامت جسراً جويًا لتقديم المساعدات العسكرية،،



10 ما السلاح الذي ظهرت أهميته كأداة ضغط في حرب 1973 م؟

• سلاح البترول (النفط) العربي،،




11 ماذا قرر وزراء النفط العرب في اجتماع الكويت 1973 م؟

• حظر تصدير البترول إلى الولايات المتحدة الأمريكية،،





# أقوى بنك أسئلة بالإجابات النموذجية على التاريخ



مراجعة شاملة ومكثفة لطلاب الصف الثالث الاعدادي  
في مادة الدراسات الاجتماعية



تحت إشراف الأستاذ/ محمود طارق معلم الدراسات الاجتماعية

أ/  
محمود طارق



① أي حرب أنهت حالة اللاسلم واللاحرب؟  
• حرب أكتوبر 1973م،



② أين تم التوصل لإطار اتفاق السلام بين مصر وإسرائيل؟  
• في كامب ديفيد،



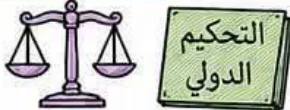
③ ما المبدأ الذي قام عليه مؤتمر مدريد؟  
• مبدأ الأرض مقابل السلام،



④ من رعاية مؤتمر مدريد للسلام؟  
• رعاية أمريكية سوفيتية،



⑤ متى رفع العلم المصري فوق سيناء بالكامل؟  
• عام 1982م: ما عدا مدينة طابا،



⑥ كيف استعادت مصر طابا في مارس 1989م؟  
• عن طريق التحكيم الدولي،



⑦ في عهد أي رئيس صدر الدستور الدائم؟  
• في عهد الرئيس السادات،



① من أنشأ مجلس المشورة والمجلس العالي؟  
• محمد علي،



② متى أسس مجلس شورى النواب؟  
• عام 1866م: في عهد الخديوي إسماعيل،



③ ما هي أول مدرسة لتعليم البنات ومن أنشأها؟  
• مدرسة السنية (1873م)،  
• أنشأها الخديوي إسماعيل استجابة لرفاعة الطهطاوي،




④ من أصدرت أول مجلة نسائية في مصر عام 1907م؟  
• جميلة حافظ (مجلة الريحانة)،



⑤ لماذا أنشئ المجلس القومي للمرأة؟  
• تدعيماً لمكانة المرأة في الدولة،



# أقوى بنك أسئلة بالإجابات النموذجية على التاريخ



مراجعة شاملة ومكثفة لطلاب الصف الثالث الاعدادي  
في مادة الدراسات الاجتماعية



تحت إشراف الأستاذ/ محمود طارق معلم الدراسات الاجتماعية



① كم يوماً استمرت ثورة 25 يناير 2011م ؟

• 18 يوماً ، ،



② لماذا سُكلت اللجان الشعبية في ثورة يناير ؟

• لمواجهة أعمال السرقة وحماية المنشآت والمناطق ، ،



سوء الأحوال  
الاقتصادية



غياب العدالة  
الاجتماعية



③ ما أسباب ثورة 30 يونيو 2013م ؟

• استمرار سوء الأحوال الاقتصادية

وغياب العدالة الاجتماعية ، ،



④ من يرأس الأجهزة التنفيذية بالمحافظة ؟

• المحافظ ، ،

أ/ محمود طارق



مؤتمر  
عدم الانحياز  
1955م



بانندونج  
إندونيسيا

① أين عقد مؤتمر عدم الانحياز عام 1955م ؟

• في بانندونج بإندونيسيا ، ،



② متى وبين من قامت أول وحدة عربية ؟

• عام 1958م بين مصر وسوريا ، ،



③ ما أثر معاهدة 1936م على مصر ؟

• جعلت مصر ميداناً لمعارك الحرب العالمية الثانية ، ،



④ متى تحتفل مصر بعيد بورسعيد ؟

• في 23 ديسمبر من كل عام ، ،



مصطفى النحاس

⑤ من عُين رئيساً للحكومة بعد حادثة فبراير 1942م ؟

• مصطفى النحاس ، ،



عبد المنعم رياض

⑥ من أشهر شهداء حرب الاستنزاف ؟

• عبد المنعم رياض ، ،



مؤتمر إسلامي  
1969م



الرباط  
المغرب

⑦ أين عقد أهم مؤتمر إسلامي شاركت فيه مصر عام 1969م ؟

• في مدينة الرباط بالمغرب ، ،



# أقوى بنك أسئلة بالإجابات النموذجية على التاريخ



مراجعة شاملة ومكثفة لطلاب الصف الثالث الاعدادي  
في مادة الدراسات الاجتماعية



تحت إشراف الأستاذ/ محمود طارق معلم الدراسات الاجتماعية



س: ما الدور الذي لعبته التكنولوجيا المتطورة في ثورة 25 يناير 2011م؟

ج: ساهمت وسائل الاتصال والتكنولوجيا المتطورة (مثل الإنترنت ومواقع التواصل الاجتماعي) بشكل كبير في اندلاع الثورة.



س: ما هي الحقوق السياسية التي حصلت عليها المرأة في دستور 1956م؟

ج: أصبح للمرأة بهوجبه حق الترشح للبرلمان والانتخاب.

أ/ محمود طارق



س: لماذا قامت مصر بإغلاق خليج العقبة أمام

الملاحة الإسرائيلية في مايو 1967م؟

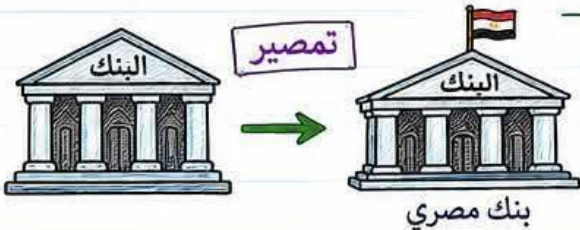
ج: لإحكام الحصار الاقتصادي الذي كان يفرضه العرب على إسرائيل حينها.



س: ما هو موقف كل من مصر وإسرائيل تجاه

قرار مجلس الأمن رقم 242؟

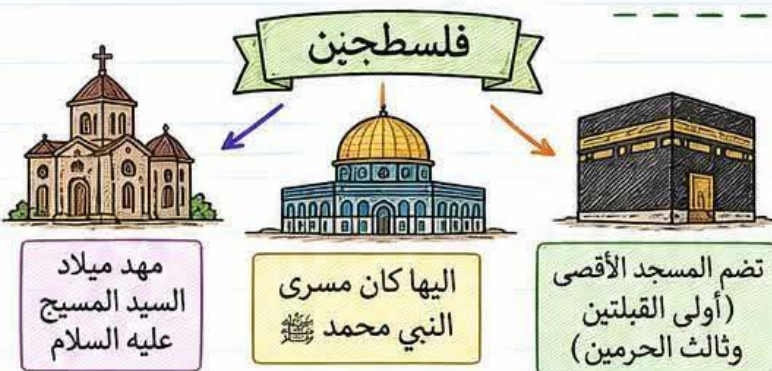
ج: قبلت مصر القرار، بينما امتنعت إسرائيل عن تنفيذه.



س: ما المقصود بـ تمصير البنوك بعد ثورة

23 يوليو 1952م؟

ج: تعني تحويل ملكية وإدارة البنوك وشركات التأمين لتصبح مصرية بالكامل.



س: لماذا تحظى فلسطين بمكانة مقدسة

وعظيمة في قلب كل عربي؟

ج: لأنها مهد ميلاد السيد المسيح عليه السلام، وإليها كان مسرى النبي محمد ﷺ، وتضم المسجد الأقصى (أولى القبلتين وثالث الحرمين).



# أقوى بنك أسئلة بالإجابات النموذجية على التاريخ



مراجعة شاملة ومكثفة لطلاب الصف الثالث الاعدادي  
في مادة الدراسات الاجتماعية



تحت إشراف الأستاذ/ محمود طارق معلم الدراسات الاجتماعية



س: بما تفسر تشكيل الشعب المصري لـ اللجان الشعبية  
خلال أحداث ثورة 25 يناير؟

ج: لحماية المنشآت والمناطق، ومواجهة أعمال السرقة والحرق والترويع، وتأمين الممتلكات العامة والخاصة، والحفاظ على أمن المواطنين.



س: ما هي الأسباب التي أدت إلى وقوع العدوان الثلاثي  
على مصر عام 1956م؟

ج: ① عقد مصر صفقة الأسلحة الشرقية مع الاتحاد السوفيتي لمواجهة أطماع إسرائيل.

② مساندة مصر لحركات التحرر الوطني في الجزائر ضد فرنسا.

③ تأميم قناة السويس في يوليو 1956م مما أضر بمصالح إنجلترا.



س: بما تفسر فشل العدوان الثلاثي على مصر عام 1956م؟

ج: بسبب المقاومة الباسلة للجيش والشعب،

وقوف الشعوب العربية بجانب مصر،

تهديد الاتحاد السوفيتي بالتدخل،

رفض الولايات المتحدة لاستخدام القوة،

وتنديد الأمم المتحدة بالعدوان،

س: ما هي أسباب اندلاع حرب أكتوبر 1973م؟

ج: رفض إسرائيل لكل نداءات السلام والانسحاب من

الأراضي المحتلة عام 1967م،

وتصميم مصر وسوريا على إزالة آثار النكسة.



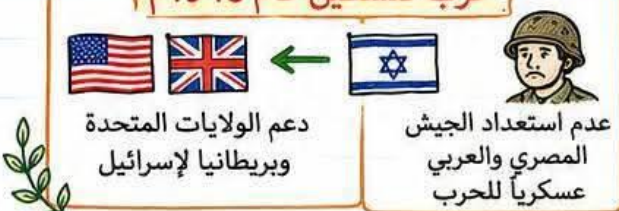
حرب فلسطين عام 1948م

س: لماذا هُزمت الجيوش العربية في حرب فلسطين

عام 1948م؟

ج: بسبب دعم الولايات المتحدة وبريطانيا لإسرائيل،

وعدم استعداد الجيش المصري والعربي للحرب.





# أقوى بنك أسئلة بالإجابات النموذجية على التاريخ



مراجعة شاملة ومكثفة لطلاب الصف الثالث الاعدادي  
في مادة الدراسات الاجتماعية

تحت إشراف الأستاذ/ محمود طارق معلم الدراسات الاجتماعية

٠/١  
محمود طارق

حرب فلسطين 1948م

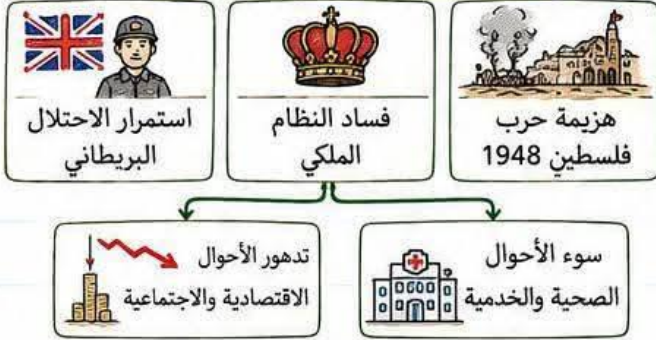
س: بما تفسر دخول الجيوش العربية حرب فلسطين عام 1948م؟



ج: بهدف نصرته وإنقاذ الشعب الفلسطيني من بطش اليهود، ومساعدته على إقامة حكومة وطنية على أرضه.

أسباب ثورة 23 يوليو 1952م

س: ما هي الأسباب الرئيسية لاندلاع ثورة 23 يوليو 1952م؟



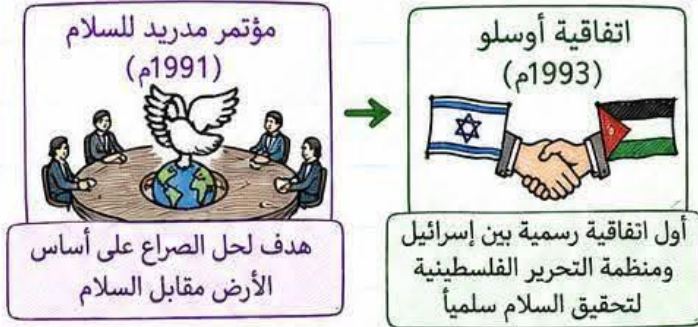
- ج:
- 1 استمرار الاحتلال البريطاني وتدخله في شؤون مصر.
  - 2 فساد النظام الملكي.
  - 3 هزيمة حرب فلسطين 1948.
  - 4 تدهور الأحوال الاقتصادية والاجتماعية.
  - 5 سوء الأحوال الصحية والخدماتية.

س: بما تفسر اندلاع ثورة 25 يناير 2011م؟



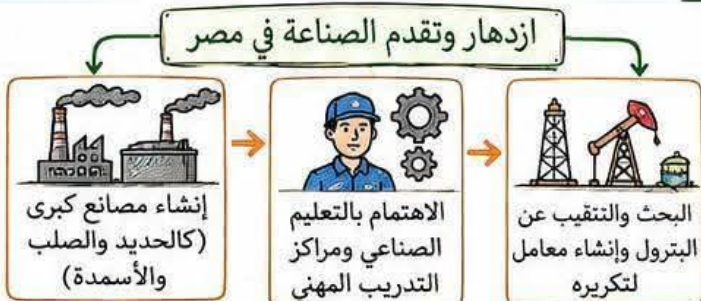
- ج:
- 1 تدهور الأوضاع الاقتصادية والاجتماعية.
  - 2 سوء الأحوال الصحية والتعليمية.
  - 3 استمرار العمل بقانون الطوارئ.
  - 4 تزوير الانتخابات البرلمانية لعام 2010م.

س: ما أهمية مؤتمر مدريد للسلام (1991م)؟



- ج:
- مؤتمر مدريد هدف لحل الصراع على أساس الأرض مقابل السلام.
  - أما اتفاقية أوسلو فكانت أول اتفاقية رسمية بين إسرائيل ومنظمة التحرير الفلسطينية لتحقيق السلام سلمياً.

س: بما تفسر ازدهار وتقدم الصناعة في مصر



- ج:
- 1 بسبب إنشاء مصانع كبرى (كالحديد والصلب والأسمدة).
  - 2 الاهتمام بالتعليم الصناعي ومراكز التدريب المهني.
  - 3 البحث والتنقيب عن البترول وإنشاء معامل لتكريره.



# أقوى بنك أسئلة بالإجابات النموذجية على التاريخ



مراجعة شاملة ومكثفة لطلاب الصف الثالث الاعدادي  
في مادة الدراسات الاجتماعية



تحت إشراف الأستاذ/ محمود طارق معلم الدراسات الاجتماعية

أسئلة بما تفسر ( التحليل والأسباب )

أ/ محمود طارق

س: بما تفسر سوء الأحوال الاجتماعية في مصر قبل ثورة 23 يوليو 1952م؟

الصراعات بين الأحزاب

ظاهرة الإقطاع



سوء الأحوال الاجتماعية

- بسبب عدم وجود سياسات واضحة وثابتة للإصلاح الاجتماعي
- نتيجة الصراعات بين الأحزاب ،
- ووجود ظاهرة الإقطاع التي جعلت فئة صغيرة تملك وتستبد ،

س: ما الهدف من بناء السد العالي؟



السد العالي

حماية مصر  
من خطر الفيضان

تخزين  
المياه

توليد  
الكهرباء

- لحماية مصر من خطر الفيضان ،
- وتخزين المياه ،
- وتوليد الكهرباء ، ،

س: بما تفسر أهمية البترول العربي في حرب أكتوبر 1973م؟




سلاح  
استراتيجي

الضغط على الدول  
المساندة لإسرائيل

- لأنه ظهر ك سلاح استراتيجي للضغط  
على الدول المساندة لإسرائيل ، ،

س: لماذا تُعد ثورة 25 يناير 2011م من الثورات الفريدة في التاريخ؟



25  
يناير  
2011



التكنولوجيا المتطورة

اندلاع الثورة في شتى أنحاء البلاد

- لأن التكنولوجيا المتطورة (الإنترنت ومواقع التواصل الاجتماعي)
- ساهمت بشكل أساسي في اندلاع الثورة
- لتشمل شتى أنحاء البلاد ، .

س: بما تفسر قيام ثورة 30 يونية 2013م؟

عدم تحقيق السياسات  
الجديدة حلولاً

استمرار  
استمرار سوء الأحوال  
الاقتصادية

غياب العدالة  
الاجتماعية

قيام ثورة 30 يونية 2013م



- بسبب عدم تحقيق السياسات الجديدة للدولة
- حلولاً للمشكلات التي يعاني منها الشعب ،
- واستمرار سوء الأحوال الاقتصادية
- وغياب العدالة الاجتماعية ، ،

س: لماذا كان الجيش المصري هو الضامن لثورة 25 يناير 2011م؟



قوة مساندة للشعب



ليس أداة لقمع النسي  
المتظاهرين  
وإجهاض الثورة

- لأن الجيش كان قوة مساندة للشعب
- وليس أداة لدى النظام لقمع المتظاهرين
- وإجهاض الثورة ، ،



# أقوى بنك أسئلة بالإجابات النموذجية على التاريخ



مراجعة شاملة ومكثفة لطلاب الصف الثالث الاعدادي  
في مادة الدراسات الاجتماعية



تحت إشراف الأستاذ / محمود طارق معلم الدراسات الاجتماعية

أ / محمود طارق

الأحوال الاقتصادية قبل ثورة 25 يناير 2011م

 تطبيق غير سليم لسياسة التخصيص	 سياسة الانفتاح الاقتصادي دون ضوابط علمية
--------------------------------------	---

س: بما تفسر تدهور الأحوال الاقتصادية في مصر قبل ثورة 25 يناير 2011م؟

- ج: • بسبب تطبيق سياسة الانفتاح الاقتصادي دون ضوابط علمية،  
والتطبيق غير السليم لسياسة التخصيص،

إحداث ثغرة الدفرسوار

 معلومات عسكرية من الولايات المتحدة	 معلومات عسكرية من الولايات المتحدة	 معلومات عسكرية من الولايات المتحدة
---	---	---

س: كيف تمكنت إسرائيل من إحداث ثغرة الدفرسوار في حرب أكتوبر 1973م؟

- ج: • نتيجة لتقديم الولايات المتحدة معلومات عسكرية  
لإسرائيل ساعدتها في ذلك،

مبادرة روجرز

 تمهيداً لحل النزاع سلمياً	 وقف إطلاق النار في حرب الاستنزاف	 الولايات المتحدة تقدم مبادرة روجرز
----------------------------------	---	---

س: ما الهدف من تقديم الولايات المتحدة لمبادرة روجرز؟

- ج: • لوقف إطلاق النار في حرب الاستنزاف  
تمهيداً لحل النزاع سلمياً،

إغلاق خليج العقبة

 إغلاق خليج العقبة أمام الملاحة الإسرائيلية	 أحكام الحصار الاقتصادي الذي فرضه العرب على إسرائيل
---	---

س: بما تفسر إغلاق مصر لخليج العقبة أمام الملاحة الإسرائيلية

- ج: • في مايو 1967م؟  
• لأحكام الحصار الاقتصادي  
الذي فرضه العرب على إسرائيل،

أسباب العدوان الإسرائيلي في 5 يونيو 1967م

 استدراج العرب لحرب غير مستعدين لها بعد إعلان مصر وقفها بجانب سوريا	 رغبة إسرائيل في القضاء على قوة مصر (خاصة بعد فشل العدوان الثلاثي)
--	---

س: ما هي أسباب العدوان الإسرائيلي في 5 يونيو 1967م؟

- ج: • رغبة إسرائيل في القضاء على قوة مصر (خاصة بعد فشل العدوان الثلاثي)،  
• واستدراج العرب لحرب غير مستعدين لها  
• بعد إعلان مصر وقفها بجانب سوريا،

أسباب هزيمة الدول العربية في 5 يونيو 1967م

 التفوق العسكري الإسرائيلي (خاصة السلاح الجوي)	 استخدام عنصر المفاجأة	 مساندة الولايات المتحدة ودول أوروبية لإسرائيل	 نقص التدريب والتسليح العربي
--	------------------------------	---	---------------------------------------

س: بما تفسر هزيمة الدول العربية في 5 يونيو 1967م؟

- ج: ① التفوق العسكري الإسرائيلي (خاصة السلاح الجوي)،  
② استخدام عنصر المفاجأة،  
③ مساندة الولايات المتحدة ودول أوروبية لإسرائيل،  
④ نقص التدريب والتسليح العربي،

الدستور الدائم لمصر 1971م

 سيادة القانون	 استقلال القضاء	 التعددية الحزبية	 تهيئة الجبهة الداخلية لحرب أكتوبر
----------------------	-----------------------	-------------------------	--

س: ما هي أهمية صدور الدستور الدائم لمصر عام 1971م؟

- ج: • للتأكيد على سيادة القانون،  
• استقلال القضاء،  
• التعددية الحزبية،  
• ويعد أحد خطوات تهيئة الجبهة الداخلية لحرب أكتوبر،

مزايا تحقيق السلام وحل الصراع

 تحقيق الاستقرار الداخلي	 دفع عجلة التنمية الاقتصادية والاجتماعية	 تشجيع رؤوس الأموال على الاستثمار	 تنشيط حركة السياحة
-----------------------------------	---	--	---------------------------

س: اذكر مزايا تحقيق السلام وحل الصراع العربي الإسرائيلي.

- ج: ① تحقيق الاستقرار الداخلي.  
② دفع عجلة التنمية الاقتصادية والاجتماعية،  
③ تشجيع رؤوس الأموال على الاستثمار.  
④ تنشيط حركة السياحة،



# أقوى بنك أسئلة بالإجابات النموذجية على التاريخ



مراجعة شاملة ومكثفة لطلاب الصف الثالث الإعدادي  
في مادة الدراسات الاجتماعية



تحت إشراف الأستاذ / محمود طارق معلم الدراسات الاجتماعية

أ/  
محمود  
طارق



**س:** ما النتائج المترتبة على توقيع معاهدة 1936م ؟

**ج:** أدى ذلك إلى جعل مصر ميداناً لمعارك الحرب العالمية الثانية، وأستنزاف مواردها لخدمة بريطانيا وحلفائها، مما أرهق الاقتصاد المصري وزاد من معاناة أفراد الشعب.



**س:** ما هي نتائج سوء الأحوال الاجتماعية في مصر قبل ثورة 23 يوليو 1952م ؟

**ج:** أدى ذلك إلى انتشار ظاهرة الفقر والجهل والمرض في المجتمع، وكان سبباً رئيسياً لقيام ثورة 23 يوليو 1952م.



**س:** اذكر نتائج إنجازات ثورة 23 يوليو 1952م في مجال التجارة .

**ج:** ① فتح أسواق خارجية جديدة لتسويق المنتجات المصرية.  
② تمصير البنوك وشركات التأمين وشركات التصدير والاستيراد.



**س:** ما النتيجة المترتبة على مساندة مصر لثورة الجزائر ضد الاحتلال الفرنسي ؟

**ج:** أدى ذلك إلى اشتراك فرنسا في العدوان الثلاثي على مصر عام 1956م.

فشل  
العدوان  
الثلاثي

**س:** ما هي نتائج فشل العدوان الثلاثي على مصر عام 1956م ؟

**ج:** ① انسحاب القوات الإنجليزية والفرنسية من بورسعيد (23 ديسمبر 1956).  
② انسحاب إسرائيل من قطاع غزة وسيناء في أوائل عام 1957م.  
③ إدراك الدول العربية للخطر الإسرائيلي، قُتمت أول وحدة بين مصر وسوريا عام 1958م.



**س:** ما النتائج المترتبة على هزيمة العرب في حرب فلسطين 1948م ؟

**ج:** استيلاء اليهود على كل فلسطين ما عدا: قطاع غزة (تحت إدارة مصرية).  
والضفة الغربية (بها قوات أردنية)، والقدس (قسّمت بين العرب واليهود).



**س:** ما هي نتائج الهدنة التي اقترحتها الولايات المتحدة خلال حرب فلسطين 1948م ؟

**ج:** استطاعت إسرائيل تقوية قواتها، وبعد استئناف القتال ظهر التفوق اليهودي على جميع الجبهات، مما أدى لهزيمة العرب.



# أقوى بنك أسئلة بالإجابات النموذجية على التاريخ



مراجعة شاملة ومكثفة لطلاب الصف الثالث الاعدادي  
في مادة الدراسات الاجتماعية

تحت إشراف الأستاذ / محمود طارق معلم الدراسات الاجتماعية



س: ما النتائج المترتبة على إنشاء وإنجاز السد العالي عام 1971م؟

ج: حماية مصر من خطر الفيضان، وتخزين المياه، وتوليد الكهرباء.



ارتفاع  
الأسعار

س: ما هي نتائج التطبيق غير السليم لسياسة الخصخصة في مصر قبل ثورة يناير؟

ج: أدى إلى ارتفاع الأسعار، وتجمع آلاف العاملين بعد خروجهم  
بنظام التقاعد المبكر وانصمامهم لصفوف البطالة.



س: ما النتائج المترتبة على الاضطراب الأمني خلال أحداث ثورة 25 يناير 2011م؟

ج: قيام المجتمع المصري بتشكيل اللجان الشعبية، والاستعانة  
بالقوات المسلحة لحماية المنشآت والمواطنين.



س: اذكر نتائج العدوان الإسرائيلي على الدول العربية في 5 يونيو 1967م.

ج: نجاح إسرائيل في الاستيلاء على قطاع غزة، وسيناء (من مصر)،  
وهضبة الجولان (من سوريا)، والضفة الغربية لنهر الأردن،  
ومدينة القدس العربية.



س: ما النتائج المترتبة على ثورة 30 يونيو 2013م؟

ج: ① عزل محمد مرسي وتسليم السلطة للمستشار

عدلي منصور (رئيس المحكمة الدستورية العليا).

② صدور دستور جديد في يناير 2014م، وإجراء انتخابات

رئاسية فاز بها المرشح عبد الفتاح السيسي.



س: كيف قامت بريطانيا بتنفيذ وعد بلفور بعد وضع فلسطين تحت انتدابها؟

ج: ① السماح بهجرة أعداد كبيرة من اليهود إلى فلسطين.

② السماح بنقل ملكية الأراضي من عرب فلسطين إلى اليهود

عن طريق الشراء.

# اهم الشخصيات في منهج الدراسات الاجتماعيه الصف الثالث الاعدادي

## اعداد الاستاذ محمود طارق



### أولاً: شخصيات ثورة 23 يوليو 1952



جمال عبد الناصر

• جمال عبد الناصر: هو مؤسس تنظيم الضباط الأحرار الذي قام بثورة 23 يوليو. في عهده، عُينت أول وزيرة للشؤون الاجتماعية في مصر.

س: من هو مؤسس تنظيم الضباط الأحرار؟

ج: جمال عبد الناصر.



• محمد أنور السادات: هو الذي أذاع البيان الأول للثورة من دار الإذاعة المصرية. تولى رئاسة الجمهورية وأصدر الدستور الدائم عام 1971. قاد مصر في حرب أكتوبر وعقد معاهدة السلام.

س: من الذي أذاع البيان الأول لثورة 23 يوليو؟

ج: محمد أنور السادات.



اللواء محمد نجيب

• اللواء محمد نجيب: سيطر على جميع قطاعات الجيش بموجب إذاعة بيان الثورة. أصبح أول رئيس لجمهورية مصر العربية في يونيو 1953 بعد إلغاء الملكية.

س: من هو أول رئيس للجمهورية المصرية؟

ج: محمد نجيب.



الملك فاروق

• الملك فاروق: وافق على مطالب الثورة وغادر البلاد قبل الموعد المحدد لإدراكه كراهية الجيش والشعب لحكمه وتخلي بريطانيا عنه.

س: من هو الملك الذي غادر البلاد قبل الموعد المحدد في ثورة يوليو؟

ج: الملك فاروق.



الملك أحمد فؤاد الثاني

• الملك أحمد فؤاد الثاني: هو ابن الملك فاروق والطفل الصغير الذي تنازل له والده عن العرش، ويعد آخر ملك حكم مصر رسمياً قبل إعلان الجمهورية.

س: من الذي تنازل له والده عن عرش مصر بعد ثورة 1952؟

ج: أحمد فؤاد الثاني.

ثورة 23 يوليو 1952 نقطة تحول في تاريخ مصر الحديث.





# اهم الشخصيات في منهج الدراسات الإجتماعيه الصف الثالث الإعدادي

اعداد الاستاذ محمود طارق



## ثانياً: شخصيات الصراع العربي الإسرائيلي وحرب أكتوبر



بالفور

- **بالفور**: وزير خارجية بريطانيا الذي أصدر التصريح الشهير (وعد بالفور) عام ١٩١٧، وتعددت فيه بريطانيا بإنشاء وطن قومي لليهود في فلسطين.
- س: من هو صاحب التصريح الذي تعهد بإنشاء وطن لليهود في فلسطين؟
- ج: **بالفور**.



روجرز

- **روجرز**: وزير خارجية الولايات المتحدة الأمريكية الذي قدم مبادرة (مبادرة روجرز) لوقف إطلاق النار خلال حرب الاستنزاف للتمهيد لحل النزاع سلمياً.
- س: من الذي قدم مبادرة لوقف إطلاق النار خلال حرب الاستنزاف؟
- ج: **روجرز**.



المشير أحمد إسماعيل

أ/ محمود طارق

- **المشير أحمد إسماعيل**: تولى منصب وزير الحربية وقائد القوات المسلحة في حرب أكتوبر ١٩٧٣، وقاد خطة الخداع لصرف أنظار إسرائيل عن التجهيزات الهجومية.
- س: من الذي قاد خطة الخداع في حرب أكتوبر ١٩٧٣؟
- ج: **المشير أحمد إسماعيل**.




الفريق سعد الدين الشاذلي

- **الفريق سعد الدين الشاذلي**: كان رئيساً لأركان حرب القوات المسلحة خلال حرب أكتوبر، وقام بتنفيذ خطة عبور قناة السويس وتحطيم خط برليف.
- س: من هو رئيس الأركان الذي نفذ خطة عبور قناة السويس عام ١٩٧٣؟
- ج: **سعد الدين الشاذلي**.



محمد عبد الغني الجمسي

- **محمد عبد الغني الجمسي**: شغل منصب رئيس هيئة عمليات القوات المسلحة، وقام بإعداد دراسة لأنسب التوقيتات للقيام بالهجوم. أصبح رئيساً للأركان في ديسمبر ١٩٧٣ بعد الحرب.
- س: من الذي أعد دراسة لاختيار أنسب التوقيتات للهجوم في حرب أكتوبر؟
- ج: **محمد عبد الغني الجمسي**.



محمد حسني مبارك

- **محمد حسني مبارك**: كان قائد سلاح الطيران في حرب أكتوبر وصاحب الضربة الجوية الأولى. في عهده استعادت مصر طابعا بناءً على حكم دولي.
- س: من هو قائد سلاح الطيران وصاحب الضربة الجوية الأولى في حرب أكتوبر؟
- ج: **محمد حسني مبارك**.



كارتر

- **كارتر**: الرئيس الأمريكي الذي دعا كلاً من السادات وبيجن لعقد مؤتمر كامب ديفيد للسلام.
- س: من هو الرئيس الأمريكي الذي دعا لمؤتمر كامب ديفيد؟
- ج: **كارتر**.



مناحم بيجن

- **مناحم بيجن**: رئيس وزراء إسرائيل الذي عقد ومعاهدة السلام مع مصر عام ١٩٧٩.
- س: من هو رئيس وزراء إسرائيل الذي وقع معاهدة السلام مع مصر؟
- ج: **مناحم بيجن**.



# اهم الشخصيات في منهج الدراسات الإجتماعيه الصف الثالث الإعدادي

اعداد الاستاذ محمود طارق



## ثالثاً: شخصيات نسائية ودور المرأة في الحياة العامة



جميلة حافظ



- جميلة حافظ : رائدة الصحافة النسائية، حيث أصدرت أول مجلة نسائية مصرية وهي مجلة الريحانة عام ١٩٠٧.

س: من التي أصدرت مجلة الريحانة كأول مجلة نسائية؟

ج : جميلة حافظ.



هدى شعراوي



- هدى شعراوي : انتُخبت رئيسة للجنة الوفد المركزية للسيدات عام ١٩٢٠ بعد ثورة ١٩١٩.

س: من التي انتُخبت رئيسة للجنة الوفد المركزية للسيدات عام ١٩٢٠؟

ج : هدى شعراوي.

أ/ محمود طارق



حكمت أبو زيد



- حكمت أبو زيد : تُعد أول وزيرة للشؤون الاجتماعية في مصر، وعُينت عام ١٩٦٢ في عهد الرئيس جمال عبد الناصر.

س: من هي أول وزيرة للشؤون الاجتماعية في مصر؟

ج : حكمت أبو زيد.



عائشة راتب



- عائشة راتب : شغلت منصب وزيرة الشؤون الاجتماعية عام ١٩٧١ في عهد الرئيس السادات.

س: من التي أصبحت وزيرة للشؤون الاجتماعية عام ١٩٧١؟

ج : عائشة راتب.



آمال عثمان



- آمال عثمان : شخصية نسائية بارزة شاركت في الحياة النيابية وشغلت منصب رئيسة اللجنة التشريعية بمجلس الشعب.

س: من التي شغلت منصب رئيسة اللجنة التشريعية بمجلس الشعب؟

ج : آمال عثمان.





# اهم الشخصيات في منهج الدراسات الإجتماعيه الصف الثالث الإعدادي

اعداد الاستاذ محمود طارق




## رابعاً: شخصيات من تاريخ مصر الحديث (المؤسسات والتعليم)



أ / محمود  
طارق

محمد علي باشا

• محمد علي باشا : حاكم مصر الذي وضع أساس الحياة النيابية  
فأنشأ مجلس المشورة والمجلس العالي.



المجلس العالي مجلس المشورة

س: من الذي أنشأ مجلس المشورة في مصر؟

ج: محمد علي.



الخدوي إسماعيل

• الخديوي إسماعيل : أنشأ مجلس شوري النواب عام ١٨٦٦ ،

كما استجاب لرفاعة الطهطاوي  
وأنشأ أول مدرسة لتعليم البنات (المدرسة السنية)

عام ١٨٧٣ .

س: من الذي أنشأ أول مدرسة لتعليم البنات في مصر؟

ج: الخديوي إسماعيل.



مجلس شوري النواب



• رفاعة الطهطاوي : هو الذي أشار على الخديوي إسماعيل

بضرورة إنشاء مدرسة لتعليم البنات.

س: من الذي اقترح على الخديوي إسماعيل

إنشاء مدرسة لتعليم البنات؟

ج: رفاعة الطهطاوي.



رفاعة الطهطاوي

