



اختر الإجابة الصحيحة مما يأتي:

(تهتم الجغرافيا السياسية بدراسة مقومات الجغرافيا الطبيعية والبشرية للدول). في ضوء العبارة السابقة .

وضح: تمتلك السعودية علاقات إقليمية كبيرة بفضل

(أ) الموقع الجغرافي (ب) القوة الديموغرافية (ج) القوة المورفولوجية (د) الخصائص الإثنوغرافية

(ما ضاع حق وراثة مطالب) . استفادت الجغرافيا السياسية من هذه المقولة في حل مشكلة اجتماعية في

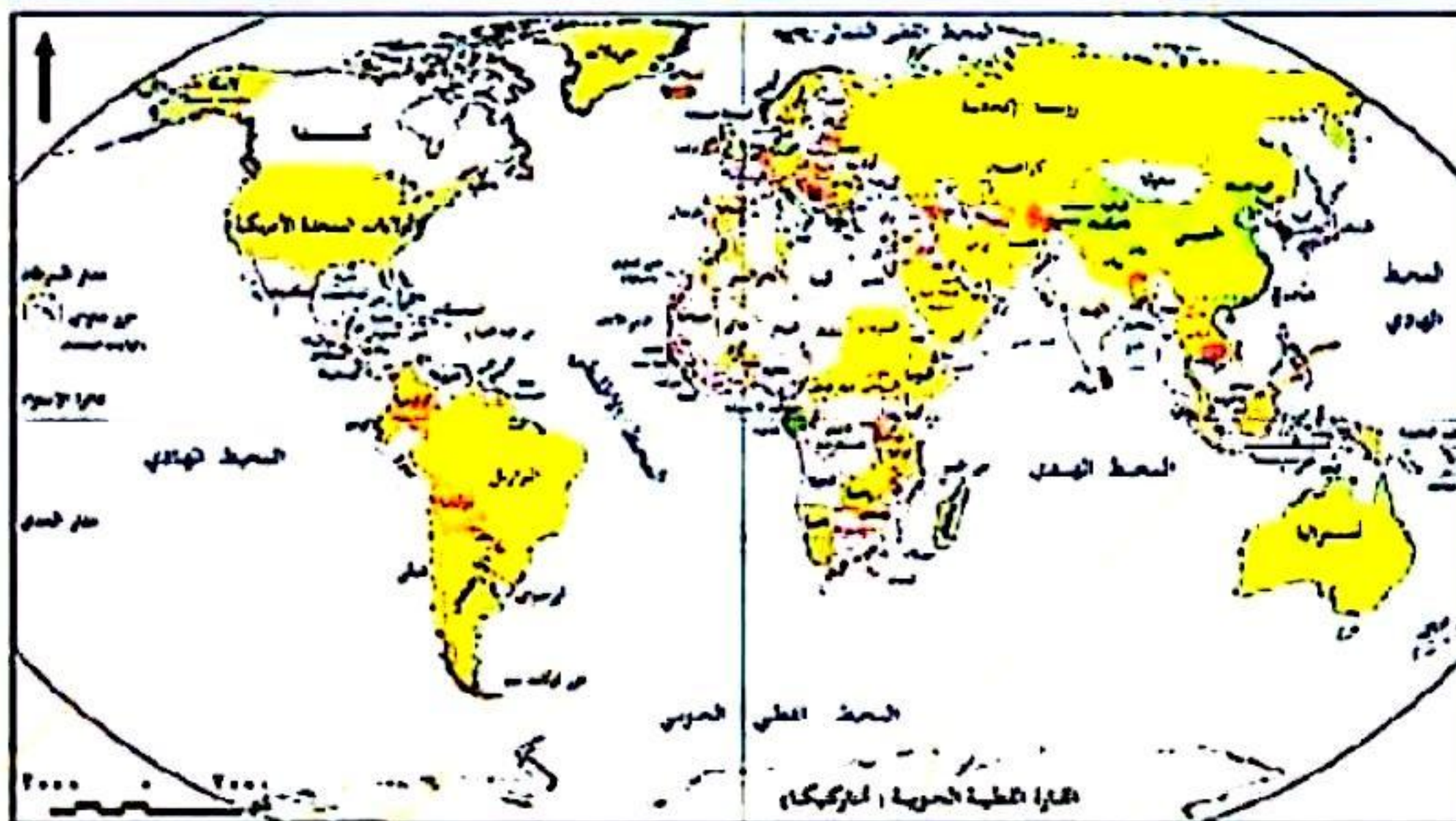
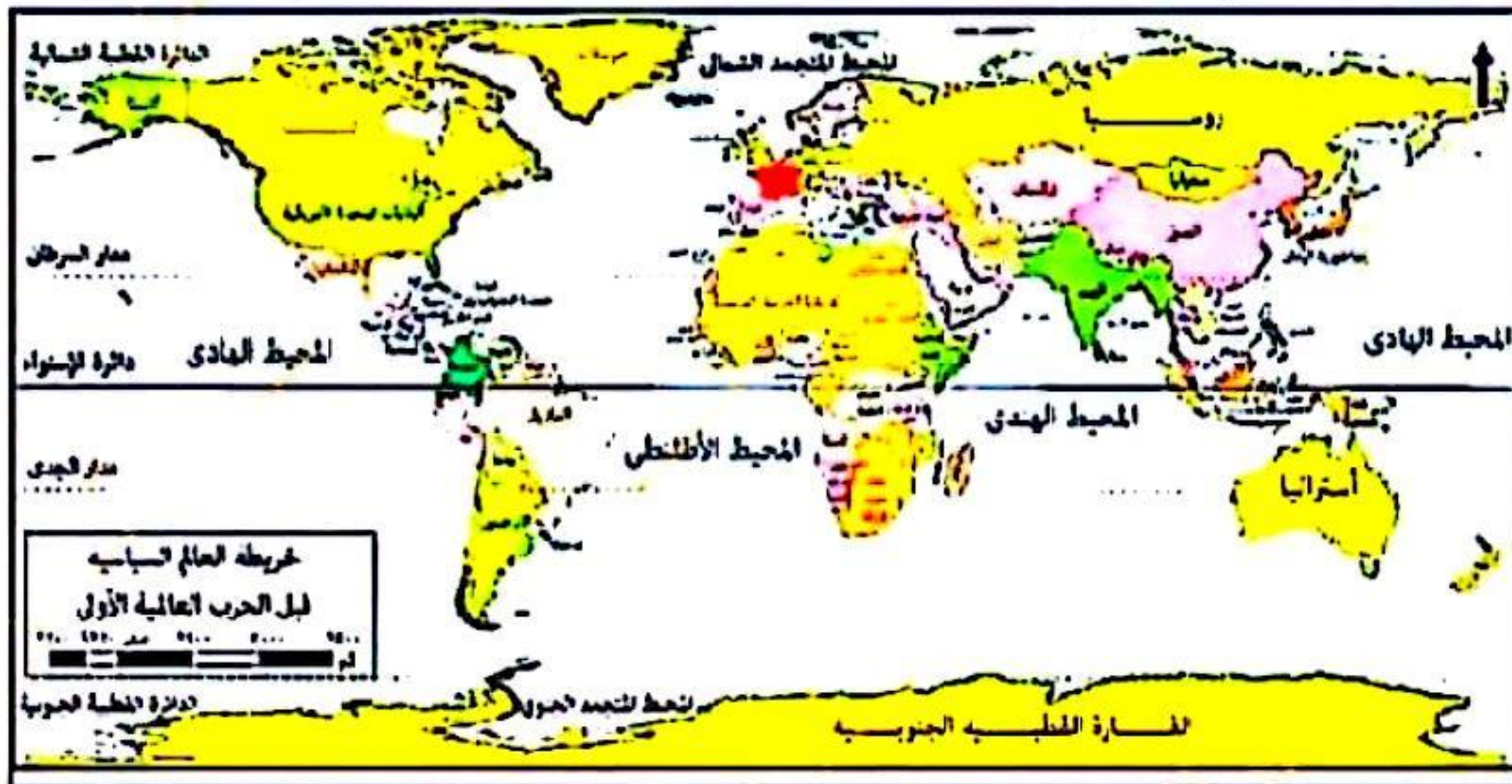
(أ) إسبانيا (ب) سويسرا (ج) إيطاليا (د) الولايات المتحدة الأمريكية

(سبقت العين العالم بأسوارها وسبقت أوربا العالم بأفكارها) . تنطبق هذه العبارة مع أفكار

(أ) ابن خلدون (ب) أرسطو (ج) راتزل (د) كيلين

من خلال دراسة الخريطتين التاليتين نلاحظ تباين مساحات بعض الدول ، مما يتفق مع آراء

(أ) ابن خلدون (ب) راتزل (ج) أرسطو (د) سيجفريد



أ / مصطفى عبدالعظيم

ت / 01097158554



لضمان التفوق ابحث دائما عن موقع مدرستك

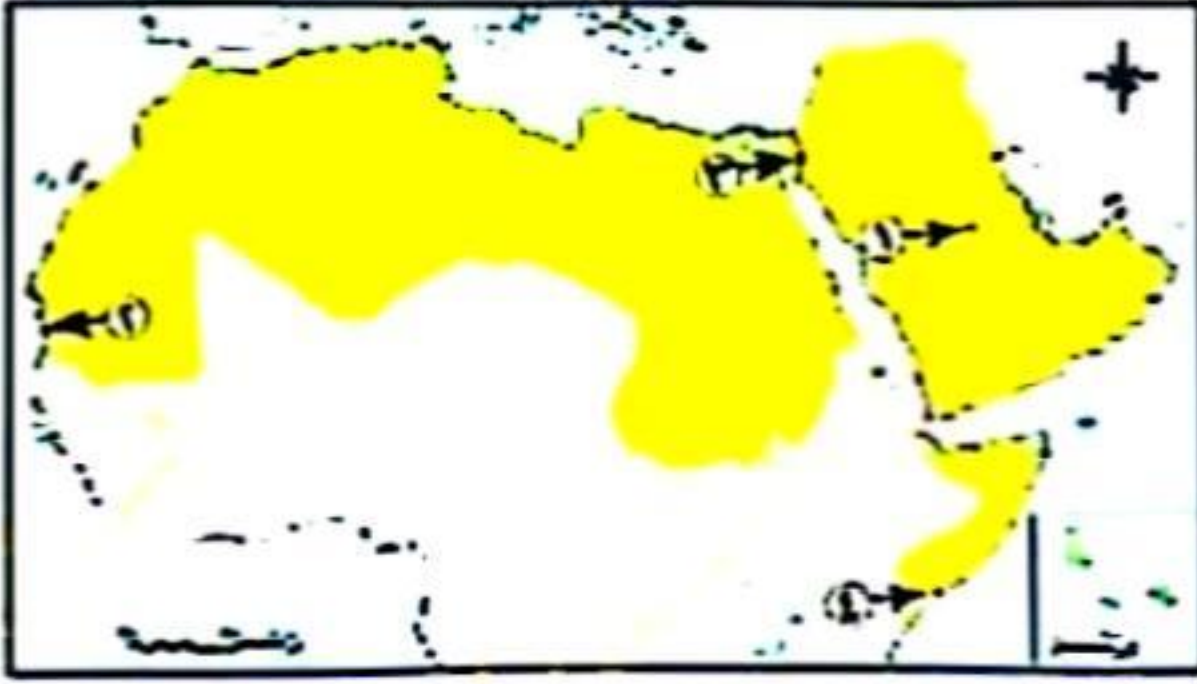
رغم اتساع مساحة شبه الجزيرة العربية إلا أنها تفتقد إلى
(أ) المواقع الاستراتيجية (ب) التنوع الجيولوجي (ج) التنوع المناخي (د) الدفاع بالعمق

لتحديد حدود محمية رأس محمد بجنوب سيناء يتم الاعتماد على إحدى التقنيات وهي

(أ) نظم المعلومات الجغرافية (ج) وسائل الاتصال الحديثة

(ب) الاستشعار من بُعد (د) تكنولوجيا المعلومات

من خلال الخريطة استنتج، أي المناطق التالية ساهمت الجغرافيا السياسية في حل مشكلاتها؟



(أ) ١

(ب) ٢

(ج) ٣ ' مدينة طابا '

(د) ٤

أصغر تجمع اقتصادي يضم وحدات سياسية هو

(أ) مجلس التعاون لدول الخليج (ب) الاتحاد الأوربي

(ج) منتدى التعاون الاقتصادي (د) اتحاد المغرب العربي



بدراسة الخريطة التي أمامك استنتج: دولة واجهتها البحرية صغيرة إذا

قورنت بمساحتها هي

(أ) ليبيا

(ب) جنوب إفريقيا

(ج) أنجولا

(د) الكونغو الديمقراطية

أ / مصطفى عبدالعظيم

ت / 01097158554

تظهر مشكلة المياه المتقابلة في الخليج العربي والبحر المتوسط وتمثل في نقاط استراتيجية أبرزها

(أ) مضيق صقلية ومضيق جبل طارق (ب) مضيق هرمز ومضيق صقلية

(ج) مضيق باب المندب ومضيق جبل طارق (د) مضيق هرمز ومضيق باب المندب

يبدأ الرصيف القاري للدولة حيث تنتهي المياه

(أ) الإقليمية (ب) الملاصقة (ج) المحايدة (د) الداخلية

تقع جبال القوقاز غرب الاتحاد السوفيتي السابق وهي غنية بالمعادن، كما تقع جبال روكي غرب الولايات

المتحدة الأمريكية وهي أيضا غنية بالمعادن). في ضوء العبارة وضح:

لعبت الجبال في الاتحاد السوفيتي السابق والولايات المتحدة الأمريكية دورا هاما في

(أ) الصراع بينهما (ب) توازن القوى بينهما (ج) تشابه الفكر الأيديولوجي (د) انتهاء الحرب الباردة

نهر أورونكو يفصل بين فنزويلا وكولومبيا، وهو ما يشبه نهر

(أ) السين (ب) اللوار (ج) المسيسيبي (د) الدانوب

على أي المنظمات التالية ينطبق مفهوم الأمة؟

- (أ) جامعة الدول العربية
(ب) منظمة الأمم المتحدة
(ج) منظمة الأغذية والزراعة
(د) منظمة التنمية الزراعية



من خلال الخريطة استنتج: تختلف بوركينا فاسو عن الدول التي تقع جنوبها في

أ / مصطفى عبدالعظيم

ت / 01097158554

(أ) المواقع الاستراتيجية

(ب) الموقع الجغرافي

(ج) الموقع المركزي

(د) الموقع الهامشي

9

بدراسة الخريطة المقابلة استنتج، أن الدولة المظلة

تميز بـ

(أ) كثرة النزاعات على الحدود

(ب) حسن إدارة الداخلية

(ج) سهولة الاتصال بالعالم

(د) صعوبة حركة الجيش



تشابه الدول ذات المساحة الكبيرة والصغيرة في

(أ) عقد التحالفات مع الدول الكبرى

(ب) ظهور حركات التمرد الانفصالية

(د) التأثر بالكوارث

(ب) التمثيل الدبلوماسي

بدراسة الخريطة التالية، تتشابه الرياض

عاصمة السعودية مع الخرطوم عاصمة

السودان في

(أ) العامل التاريخي

(ب) الحماية والدفاع

(ج) وقوعهما على نهر ملاحى

(د) السيادة القومية



أقل الدول استفادة من بحيرة فيكتوريا تقع في نصف الكرة

(أ) الشرق (ب) الغرب (ج) الشمال (د) الجنوب

التخوم لها أهمية استراتيجية حيث تمثل منطقة حماية ودفاع للدولة من الاعتداءات الخارجية، يرجع ذلك إلى

(أ) أثرها القانوني (ب) قابليتها للحركة والنقل (ج) مواردها الاقتصادية (د) عمقها الجغرافي

- تتشابه الحدود الجبلية والهندسية في
 (١) الثبات (ب) الشكل (د) ندرة السكان (د) درجة الفصل
- (تعددت أدوار الأمم المتحدة السياسية والإنسانية لحل العديد من المشكلات). في ضوء العبارة، وضح:
 في المناطق التالية يظهر الدور الإنساني لها في
 (١) وسط أمريكا الجنوبية (ب) شمال أمريكا الشمالية
 (ج) غرب أستراليا (د) جنوب أوروبا
- دولة تتوقع غناها بالموارد المعدنية
 (١) هولندا (ب) البرازيل (ج) الكويت (د) تونس
- المدينة التي أعلن فيها عن قيام منظمة عالمية بعد الحرب العالمية الأولى تنتمي لدولة
 (١) رئاسية (ب) فيدرالية (ج) برلمانية (د) وحدوية
- ظهرت في الجنوب الغربي الآسيوي والجنوب الغربي الإفريقي للوطن العربي مشكلات سياسية تتعلق بـ
 (١) الصناعة (ب) التعدين (ج) الرعي (د) التجارة
- الهجرة التي حدثت في البوسنة والهرسك في منتصف التسعينيات تعد من أنماط الهجرة
 (١) القسرية (ب) غير الشرعية (ج) الوافدة (د) الرسمية
- كان لانتهاء الصراع الأيدولوجي بين الكتلتين الشرقية والغربية في نهاية القرن العشرين أثره في
 (١) زيادة عدد دول غرب أوروبا (ب) اتساع مساحة غرب أوروبا
 (ج) تناقص عدد دول غرب أوروبا (د) تناقص مساحة غرب أوروبا
- الأقلية التي لم تحصل على حقوقها الإثنوغرافية تنتمي لقارة
 (١) آسيا (ب) إفريقيا (ج) أمريكا الشمالية (د) أوروبا
- وجه التشابه في تطور خريطة العالم أوائل القرن الـ ٢٠م وأواخر القرن الـ ٢٠م هو
 (١) اختفاء إمبراطوريات (ب) انقسام دول
 (ج) ظهور دول كبرى (د) اندماج دول
- ساعدت حركة السكان على نشأة الحدود السياسية في بعض الدول منها
 (١) اليابان (ب) ماليزيا (ج) الفلبين (د) نيوزيلندا
- من خلال الجدول: استنتج أي من الدول تعاني من هجرة العقول الماهرة
 (١) س (ب) ص (ج) ع (د) ل

10

الدولة	حجم الإنفاق على البحث العلمي من إجمالي دخل الدولة القومي
س	٪١٥
ص	٪٣
ع	٪٢٥
ل	٪١٠

أ / مصطفى عبدالعظيم
 ت / 01097158554

أكثر العوامل التي قد تؤثر سلباً على الامتزاج الثقافي لدولة إندونيسيا

(أ) المساحة (ب) الشكل (ج) المناخ (د) الموارد الطبيعية

(من خصائص أنظمة الحكم الديمقراطي مبدأ الفصل بين السلطات). في ضوء العبارة، وضّح: يُعد قيام

الحكومة باعتماد موازنة الدولة دون موافقة البرلمان

(أ) تدخل السلطة التشريعية في شؤون السلطة القضائية

(ب) تدخل السلطة القضائية في شؤون السلطة التنفيذية

(ج) تدخل السلطة التنفيذية في شؤون السلطة التشريعية

(د) تدخل السلطة القضائية في شؤون السلطة التشريعية

أ / مصطفى عبدالعظيم

ت / 01097158554

تختص الحكومة المركزية للهند بـ

(أ) تطوير التعليم في الولايات

(ب) تطوير المستشفيات العامة

(ج) التوسع في التأمين الصحي

(د) وضع الموازنة العامة للدولة

(بدراسة مراحل العملية الانتخابية في دولة ما تم ملاحظة زيادة مشاركة سكان الريف عن عدد سكان المدن).

في ضوء تلك العبارة: يمكن تفسير ذلك من خلال أحد احتمالات جغرافيا الانتخابات وهو

(أ) توزيع الدوائر الانتخابية

(ب) دراسة التباين المكاني في التصويت

(ج) دراسة السلوك الانتخابي للناخبين

(د) دراسة أثر الانتخابات على تغيير الظروف الاقتصادية

تظهر قوة الاتحاد الأوروبي في شروط كوبنهاجن

(أ) الاقتصادية (ب) السياسية (ج) العسكرية (د) التشريعية

المرحلة الأولى من مراحل التكامل تتمثل في

(أ) الوحدة الاقتصادية (ب) منطقة التجارة الحرة (ج) السوق المشتركة (د) الاتحاد الجمركي

يُعد تخفيف الصدمات الخارجية من أهداف التكتلات الاقتصادية، وهو ما تحققه دول قارة

(أ) أوروبا (ب) أمريكا الجنوبية (ج) إفريقيا (د) أمريكا الشمالية

النهر الذي أمامك لإحدى الدول المستقبلية للمهاجرين توصف بأنها

(أ) تحقق توازناً في التركيب النوعي

(ب) تحقق تنمية اقتصادية بأيدي وطنية

(ج) تعاني من اختلاف ثقافي

(د) زيادة الأيدي العاملة الوطنية



الأقليات الأقل انتشاراً في العالم توجد في دولة

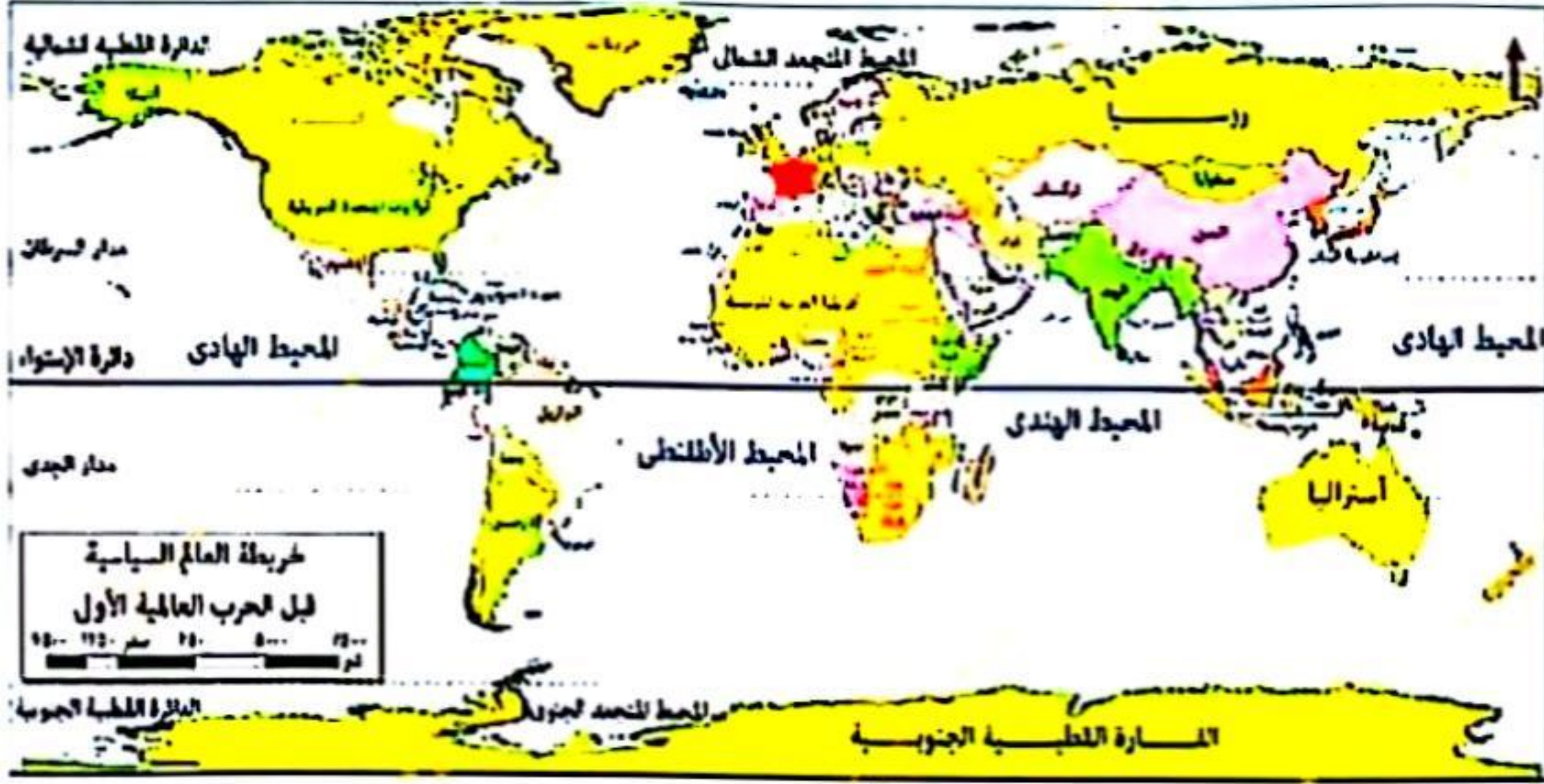
(أ) البوسنة والهرسك (ب) روسيا (ج) الولايات المتحدة الأمريكية (د) إيران

اختلاف الأقليات مع الأغلبية بالدولة ينتج عنه

(أ) حدوث قلاقل سياسية (ب) اضطرابات أمنية بالدولة

(ج) استقرار الدولة السياسي (د) مشكلات اقتصادية بالدولة

- أقدم المشكلات السياسية التي تسعى الجغرافيا السياسية لحلها، وتقع على مواقع استراتيجية هو
- (أ) مضيق جبل طارق (ب) قناة السويس (ج) قناة بنما (د) مضيق ملقا
- تم مراعاة رغبة الإنسان في أوروبا بعد الحرب العالمية الأولى في رسم الحدود، وذلك عكس ما حدث في قارة
- (أ) أستراليا (ب) أمريكا الشمالية (ج) أنتاركتيكا (د) إفريقيا
- معظم التغيرات التي شهدتها خريطة العالم السياسية بعد الحرب العالمية الأولى تقطعها إحدى دوائر العرض الرئيسية وهي



12

- (أ) دائرة الاستواء (ب) مدار الجدي (ج) مدار السرطان (د) الدائرة القطبية الجنوبية

- رغم مميزات الجبال اقتصادياً وعسكرياً للدول إلا أن لها أثراً اجتماعياً سلبياً على بعض المناطق مثل
- (أ) شرق أمريكا الجنوبية (ب) غرب أمريكا الجنوبية (ج) وسط آسيا (د) جنوب غرب أوروبا

- أكثر الدول التي استفادت من تفكك الاتحاد السوفيتي

- (أ) فرنسا (ب) هولندا (ج) إسبانيا (د) بولندا

- إذا نجحت الأقلية اللغوية بالوطن العربي في استكمال وحدتها السياسية فإن هذا سوف يؤدي إلى

- (أ) زيادة مساحة الدول العربية الآسيوية (ب) تناقص مساحة الدول العربية الآسيوية (ج) زيادة عدد الدول العربية الآسيوية (د) تناقص عدد الدول العربية الآسيوية

- (أثبتت جانحة كورونا وحدة المسير العالمي). يتضح ذلك من خلال
- (أ) الاستشعار من بُعد (ب) أهمية العلاقات الدولية (ج) تعريف المشكلات السياسية (د) وضع قوات حفظ السلام

أ / مصطفى عبدالعظيم

ت / 01097158554

- المعاهدة التي لعبت دوراً مؤثراً في إعلان متغيرات النظام العالمي الجديد

- (أ) باريس (ب) برشلونة (ج) سان فرانسيسكو (د) ماستريخت

- إذا نجحت قارة إفريقيا في إقامة تكتلات اقتصادية ناجحة في كل أطرافها، فإن ذلك يؤدي إلى

- (أ) زيادة صادراتها من المواد الخام (ب) استمرار القوى العالمية كما هي (ج) تغيير أطراف القوى العالمية (د) استمرار الهيمنة عليها



اختر الإجابة الصحيحة مما يأتي:

دراسة الجغرافيا السياسية تعتمد على الاهتمام بركيزتين هما

- (أ) التضاريس والموارد الاقتصادية (ب) مظاهر السطح والمناخ
(ج) العلاقات الدولية ومظاهر القوى التكنولوجية (د) مظاهر القوة التنظيمية والضعف الاقتصادي

(تسعى بعض الدول لفرض سيادتها على البعض). تتماشى هذه العبارة مع آراء العالم

- (أ) أرسطو (ب) ابن خلدون (ج) رودلف كيلين (د) هوسهوفر

كان لمناخ الكونغو أثر سلبي على قوتها تتفق المقولة مع آراء

- (أ) رودلف كيلين (ب) هوسهوفر (ج) ابن خلدون (د) أرسطو

(تتعدد أهداف الجغرافيا السياسية. ويمكن تصنيفها إلى أهداف علمية وأخرى عملية تطبيقية). في ضوء تلك

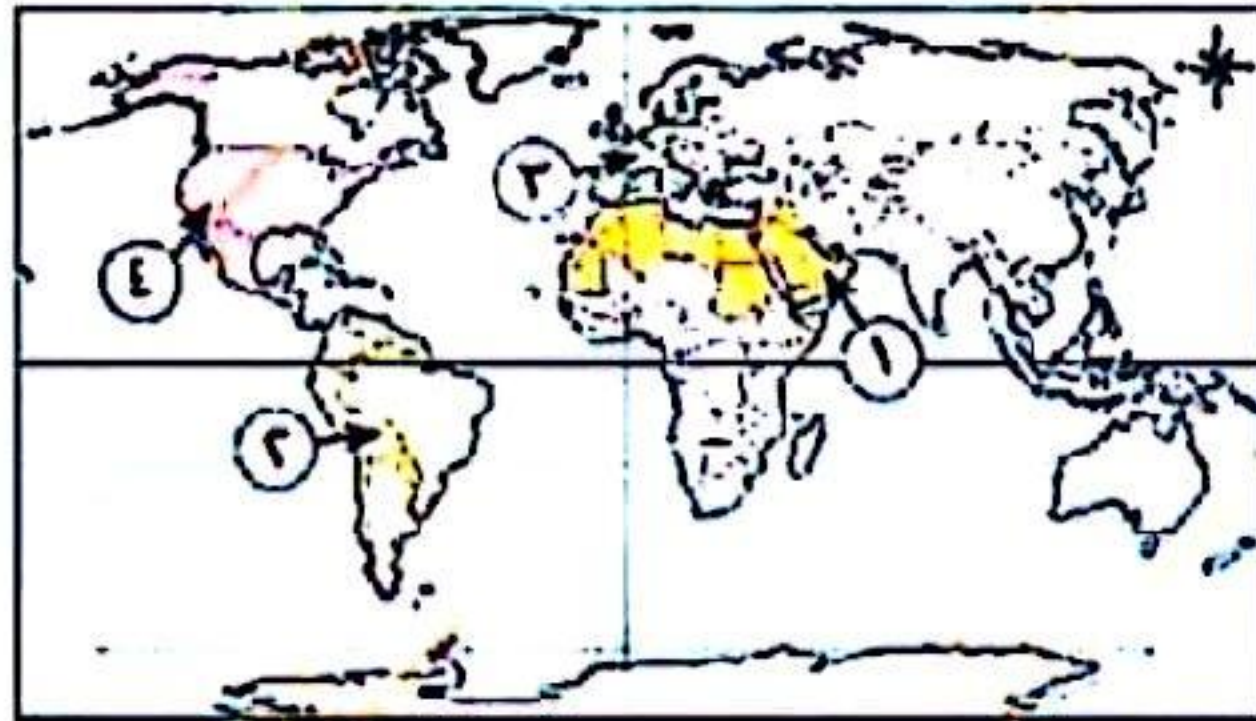
العبارة وضع: أي الأهداف الآتية يمثل الجانب العلمى التطبيقى؟

- (أ) دراسة سلوك الدولة السياسى (ب) دراسة المعوقات الطبيعية والبشرية للدولة
(ج) وضع حلول للمشكلات السياسية (د) تحليل التجمعات الإقليمية والعالمية

اتجاه القيادة المصرية لاستغلال الساحل الشمالى لتحويله إلى دلتا جديدة جاء بعد الاستعانة بتقنية

- (أ) نظم المعلومات الجغرافية (ب) الاستشعار من بعد
(ج) الاتصالات الحديثة (د) تكنولوجيا المعلومات

أي المناطق المظللة ينطبق عليها مفهوم الأمة؟



- (أ) المنطقة رقم ١ (ب) المنطقة رقم ٢
(ج) المنطقة رقم ٣ (د) المنطقة رقم ٤

من خلال الخريطة استنتج: تتوقع تركيز السكان في الدولة المشار إليها في



- (أ) الجنوب والشرق (ب) الشمال والغرب
(ج) الغرب والجنوب (د) الشرق والشمال

أ / مصطفى عبدالعظيم

ت / 01097158554



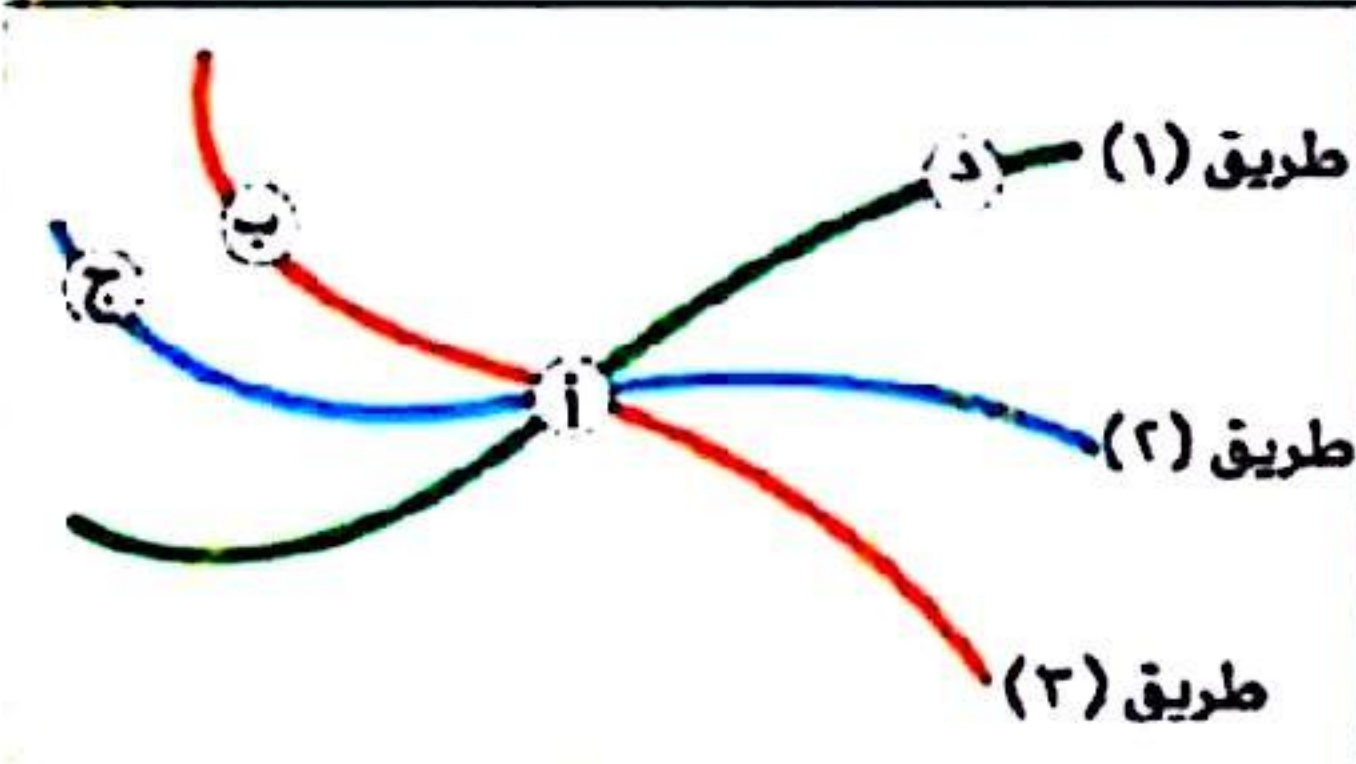
٥) بعد الاتحاد الأوروبي نموذجاً للاتحادات الكونفيدرالية). في ضوء العبارة وضع: يتميز هذا النموذج من الاتحادات بـ

- (أ) الدستور الموحد
(ب) المجلس النيابي الواحد
(ج) الحكومة الواحدة
(د) التمثيل الدبلوماسي المستقل

٦) تتشابه السعودية وإيطاليا وفلسطين أن بها قلب الدولة ذات أهمية

- (أ) سياسية
(ب) اقتصادية
(ج) دينية
(د) سكانية

٧) أمامك شكل تخليطي يمثل طرق النقل والمواصلات في دولة (ما) من خلاله وضع: أي المدن المشار إليها في الشكل التخليطي تتوقع أن تكون العاصمة؟



- (أ)
(ب)
(ج)
(د)

٨) أي المناطق التالية تشبه الأرجنتين في النشاط الرعوي؟



- (أ) المنطقة رقم ١
(ب) المنطقة رقم ٢
(ج) المنطقة رقم ٣
(د) المنطقة رقم ٤

٩) تقف عائقاً أمام تحقيق الامتزاج الثقافي الكامل في إسبانيا

- (أ) الشكل
(ب) المساحة
(ج) التضاريس
(د) المناخ

١٠) يؤثر كل من (المساحة - الشكل - الموقع) في قوة الدولة. في ضوء العبارة السابقة ومن خلال الخريطة التي



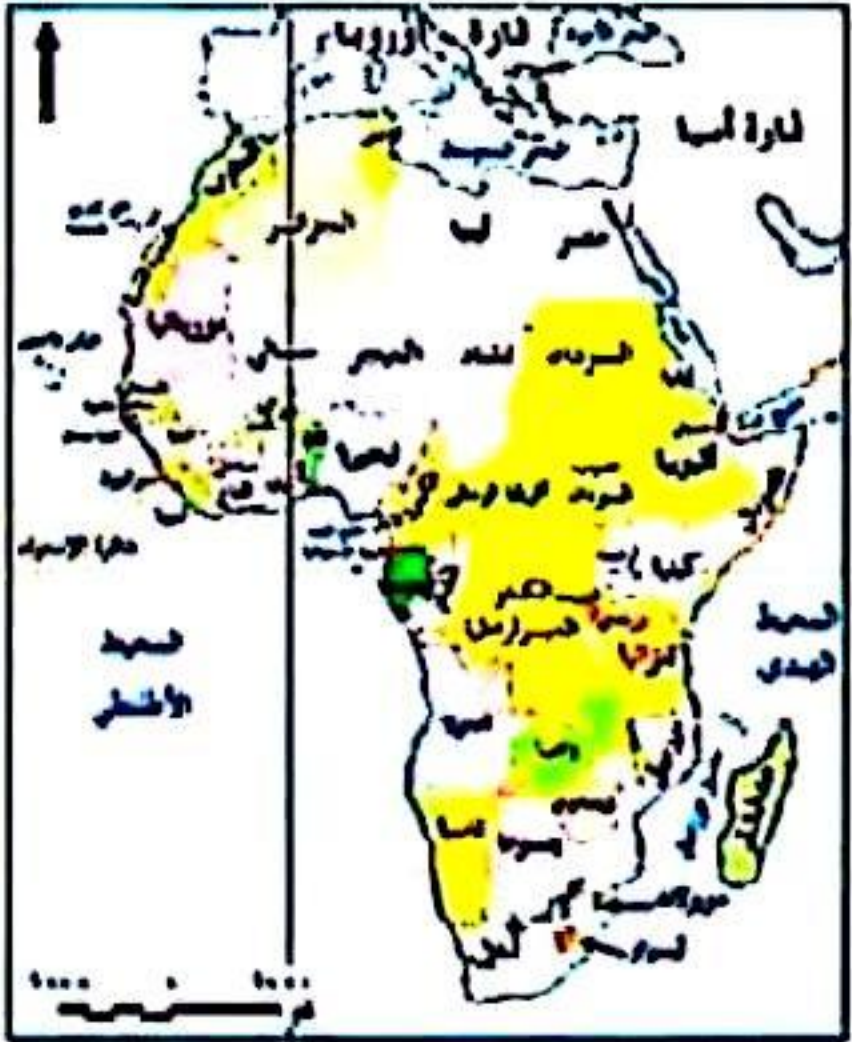
- أمامك يمكن ترتيب الدول كالتالي .
(أ) باراجواي - الأرجنتين - شيلي
(ب) الأرجنتين - شيلي - باراجواي
(ج) شيلي - باراجواي - الأرجنتين
(د) الأرجنتين - باراجواي - شيلي

أ / مصطفى عبدالعظيم

ت / 01097158554



- من خلال الخريطة استنتج: تختلف لكسمبورج عن أندورا في
- (أ) عدد الدول المجاورة ✓
 - (ب) الموقع الجغرافي
 - (ج) الانتماء القاري
 - (د) أنها دولة حبيسة




- من خلال الخريطة التي أمامك استنتج: الدول الإفريقية الحبيسة التي تقع في نصف الكرة الشمالي والجنوبي
- (أ) الكونغو والديمقراطية
 - (ب) الصومال
 - (ج) أوغندا ✓
 - (د) روندا

أ / مصطفى عبدالعظيم

ت / 01097158554

- أكثر القارات التي تتعرض معظم دولها لأثر الصدمات الخارجية هي
- (أ) أوروبا
 - (ب) أمريكا الشمالية ✓
 - (ج) أمريكا الجنوبية
 - (د) أستراليا
- (هناك العديد من العوامل المحددة للمساحة). في ضوء العبارة السابقة وضع. دولة قليلة الموارد نجحت بفضل قوتها الديموجرافية أن تصبح إحدى الدول الكبرى
- (أ) الولايات المتحدة (ب) روسيا
 - (ج) الصين ✓
 - (د) اليابان
- يهتم النظام السياسي في صورته الاجتماعية بإدارة موارد المجتمع (تنطبق هذه العبارة على
- (أ) الاهتمام بوضع القوانين
 - (ب) الاهتمام بوضع القوانين
 - (ج) فرز أصوات الناخبين
 - (د) إجراء الانتخابات ✓
- (بدراسة محافظات مصر بعد انتهاء العملية الانتخابية لوحظ انخفاض نسبة التصويت في المحافظات الصحراوية). يمكن تفسير ذلك من خلال اهتمامات الجغرافية الانتخابية المتمثل في
- (أ) تحليل أثر البيئة الطبيعية على السلوك الانتخابي ✓
 - (ب) دراسة التوزيع السكاني للدوائر الانتخابية
 - (ج) توزيع الدوائر الانتخابية
 - (د) دراسة أثر الانتخابات على الظروف البشرية



- يمكن تمييز الصورة التي أمامك على أنها
- (أ) ظاهرة جغرافية ✓
 - (ب) قابلة للتغير
 - (ج) ظاهرة قانونية
 - (د) ظاهرة بشرية

مجال تفرض الدولة سيادتها عليه ولا يظهر على خريطة العالم السياسية وهو المجال

(ا) الأرضي (ب) البحري (ج) الجوي (د) النهري

يفصل نهر السنغال بين دولتي موريتانيا والسنغال، وهو ما يتشابه مع الحد بين دولتي

(ا) فرنسا وألمانيا (ب) الهند والصين (ج) مصر والسودان (د) شيلي والأرجنتين

نجحت قواتنا المسلحة سنة ١٩٧٣م في اقتحام مانع قناة السويس الصعب، وكان عبوره أقرب في الشبه من

(ا) الجبال (ب) البحيرات (ج) الأنهار (د) البحار

يختفى الأثر الديموجرافي في نشأة الحدود بالنسبة للدول البحرية

(ا) الجزرية (ب) أشباه الجزر (ج) ذات الوجهتين (د) ذات الوجهة الواحدة

تلتقى الحدود المصرية البشرية مغا في الركن

(ا) الجنوبي الشرقي (ب) الشمالي الغربي (ج) الشمالي الشرقي (د) الجنوبي الغربي

إذا كانت سفينة على بعد ٢٤ ميلاً بحرياً من خط الساحل بالبحر المتوسط متجهة نحو بحيرة البرلس، وقطعت

مسافة ١٢ ميلاً بحرياً فإنها بذلك وصلت إلى المياه

(ا) الداخلية (ب) الإقليمية (ج) التكميلية (د) المحايدة

(يبلغ عرض المياه الإقليمية لدولة بيرو ٢٠٠ ميل بحري، بينما يبلغ عرض المياه الإقليمية لدولة ليبيا ١٢ ميلاً

بحرياً). في ضوء العبارة وضح: يرجع اختلاف اتساع المياه الإقليمية لدولة بيرو إلى

(ا) ضيق الرصيف القاري (ب) اتساع المسطح المائي

(ج) طول سواحلها (د) كبر مساحتها

من خلال الخريطة التي أمامك استنتج: بمقارنة الدول التي تطل على بحيرتي مالوي وفيكتوريا نلاحظ أن أكثر



الدول استفادة منهما

(ا) أوغندا

(ب) موزمبيق

(ج) تنزانيا

(د) كينيا

أ / مصطفى عبد العظيم

ت / 01097158554

أقل قارات العالم التي لم تتأثر بالتغيرات السياسية التي شهدتها خريطة العالم السياسية بعد الحرب العالمية

الثانية هي

(ا) آسيا

(ب) أمريكا الشمالية

(ب) إفريقيا

(د) أوروبا



٤٦ من خلال الخريطة التي أمامك وضع: أي الدول التالية لم يراع فيها توزيع القبائل عند رسم الحدود السياسية

- (أ) مصر وليبيا
 (ب) السودان وتشاد
 (ج) تونس والجزائر
 (د) المغرب والجزائر

٤٧ رسم الحدود السياسية في المناطق الرعوية غرب إفريقيا أدى إلى

- (أ) التعاون بين الرعاة والزراع
 (ب) استقرار سياسي بها
 (ج) وجود مصادر إيرادات إجبارية
 (د) سهولة حركة الرعاة

٤٨ التطور التكنولوجي والتقدم الصناعي قضى على سلبيات التطرف المناخي، ومع ذلك أدى لظهور هجرات إجبارية مثل

- (أ) هجرة الزوج
 (ب) هجرة سكان المدن
 (ج) هجرة الأسويين لدول الخليج
 (د) هجرة الرعاة

٤٩ من خلال الخريطة وضع: الجزء المظلل بالخريطة كان يتبع الأيديولوجية

- (أ) الدينية
 (ب) القومية
 (ج) الرأسمالية
 (د) الاشتراكية



أ / مصطفى عبدالعظيم

ت / 01097158554

٥٠ نهر الفولجا من الأنهار المحلية التي لا تشاربها مشكلات حول تقسيم المياه، وهو ما يتشابه مع نهر

- (أ) النيل
 (ب) الأمزون
 (ج) السين
 (د) الدانوب

٥١ إذا أرادت موريتانيا زيادة دخلها من الحديد بالتصنيع بدلاً من تصديره خام يمكنها الاستعانة بإحدى المنظمات وهي

- (أ) الأوبك
 (ب) الفاو
 (ج) اليونيدو
 (د) صندوق النقد الدولي

٥٢ قلب الدولة الذي مازال وسيظل مسار اهتمام الأقليات الإثنوغرافية في جنوب شرق آسيا يقع في

- (أ) شمال شرق إفريقيا
 (ب) جنوب شرق أوروبا
 (ج) جنوب غرب آسيا
 (د) شمال غرب أمريكا الشمالية

٥٣ ظهرت بعض الاتفاقيات المرتبطة بالمشكلات ذات البعد السياسي في النصف الثاني من القرن التاسع وأوائل

القرن الـ (٢٠) في

- (أ) غرب أوروبا
 (ب) غرب آسيا
 (ج) شرق آسيا
 (د) غرب إفريقيا

يقطع مدار الجدي بقارة إفريقيا أقاليم

(أ) لغوية (ب) قومية (ج) عرقية (د) دينية

ظهِرت بعض ملامح الديمقراطية تجاه الأقليات في آسيا بدولة

(أ) العراق (ب) منغوليا (ج) إندونيسيا (د) سلطنة عمان

استقبال بعض المناطق للمهاجرين من مختلف دول العالم يؤدي لتكوين أقليات متنوعة، وبالرغم من ذلك

قد لا تسبب قلقاً سياسياً بها). في ضوء هذه العبارة: أي المناطق قد ينطبق عليها ذلك؟

(أ) جنوب إفريقيا (ب) شرق إندونيسيا

(ج) شمال شرق إسبانيا (د) الخليج العربي

العامل الذي جعل إقليم تيمور الشرقية ذا تأثير كبير على عدم استقرار إندونيسيا سياسياً

(أ) الخصائص القومية للأقلية (ب) التوزيع الجغرافي للأقلية

(ج) قوتها العسكرية (د) حجم الأقلية

دولة عربية تربط بين تكتلين اقتصاديين أحدهما اثنوغرافي خالص

(أ) مصر (ب) سوريا (ج) ليبيا (د) الجزائر

أي دول الاتحاد الأوروبي تتوقع أن تضم سوقاً ضخمة وعمالة ماهرة

(أ) مالطة (ب) البرتغال (ج) ألمانيا (د) اليونان

التكامل الاقتصادي يساعد المستهلكين في الحصول على السلع بأقل الأسعار مما يؤدي إلى

(أ) رفع مستوى رفاهية المواطنين (ب) الاستفادة من المراكز البحثية

(ج) تخفيف أثر الصدمات الخارجية (د) إقامة مشروعات مشتركة

ارتبط حل مشكلات وسط أوروبا في النصف الأول من القرن العشرين بـ

أ / مصطفى عبدالعظيم

(أ) إنشاء منظمة إقليمية (ب) تكوين أحلاف عسكرية

ت / 01097158554

(ج) إنشاء منظمة دولية (د) ظهور الحرب الباردة

كان لتفكك الاتحاد السوفيتي وامتلاك الغرب السلاح والتكنولوجيا أثر إيجابي على منطقة

(أ) شرق أوروبا (ب) جنوب إفريقيا

(ج) جنوب شرق آسيا (د) شرق أمريكا الجنوبية

رغم الاختلاف الأيديولوجي بين الولايات المتحدة الأمريكية والاتحاد السوفيتي السابق إلا أنهما لعبا دوراً مشتركاً في

(أ) فشل منظمة دولية (ب) فشل تكتل اقتصادي

(ج) فشل منظمة إقليمية (د) فشل حلف عسكري

تم تعديل الحدود السياسية بين العراق وسوريا في منطقة جبل سنجار وفقاً لما أوصت به اللجنة المكلفة

بذلك). العبارة السابقة تمثل إحدى طرق حل النزاعات سلمياً وهي

(أ) المفاوضات (ب) التحكيم (ج) التوفيق (د) المساعي الحميدة

كان لرأس المال والتكنولوجيا المتطورة الأثر السلبي على استغلال الموارد الطبيعية لقارة

(أ) آسيا (ب) أوروبا (ج) إفريقيا (د) أمريكا الشمالية

تتقارب أهداف النظام العالمي الجديد مع شروط كوبنهاجن

(أ) الاقتصادية (ب) السياسية (ج) التشريعية (د) العسكرية

(دور أول ٢٠٢٢)

امتحان شهادة الثانوية العامة

١ إذا أرادت أوغندا توقيع اتفاقيات بشأن تنظيم حركة الرعاة فإن ذلك يكون مع دول

- ✓ جميعها خارج الإيكواس. (ب) جميعها خارج الكوميسا.
جميعها تنتمي للإيكواس. (ج) جميعها تنتمي للكوميسا. (د)

٢ خروج المملكة المتحدة رسميًا من الاتحاد الأوروبي يتطلب منها

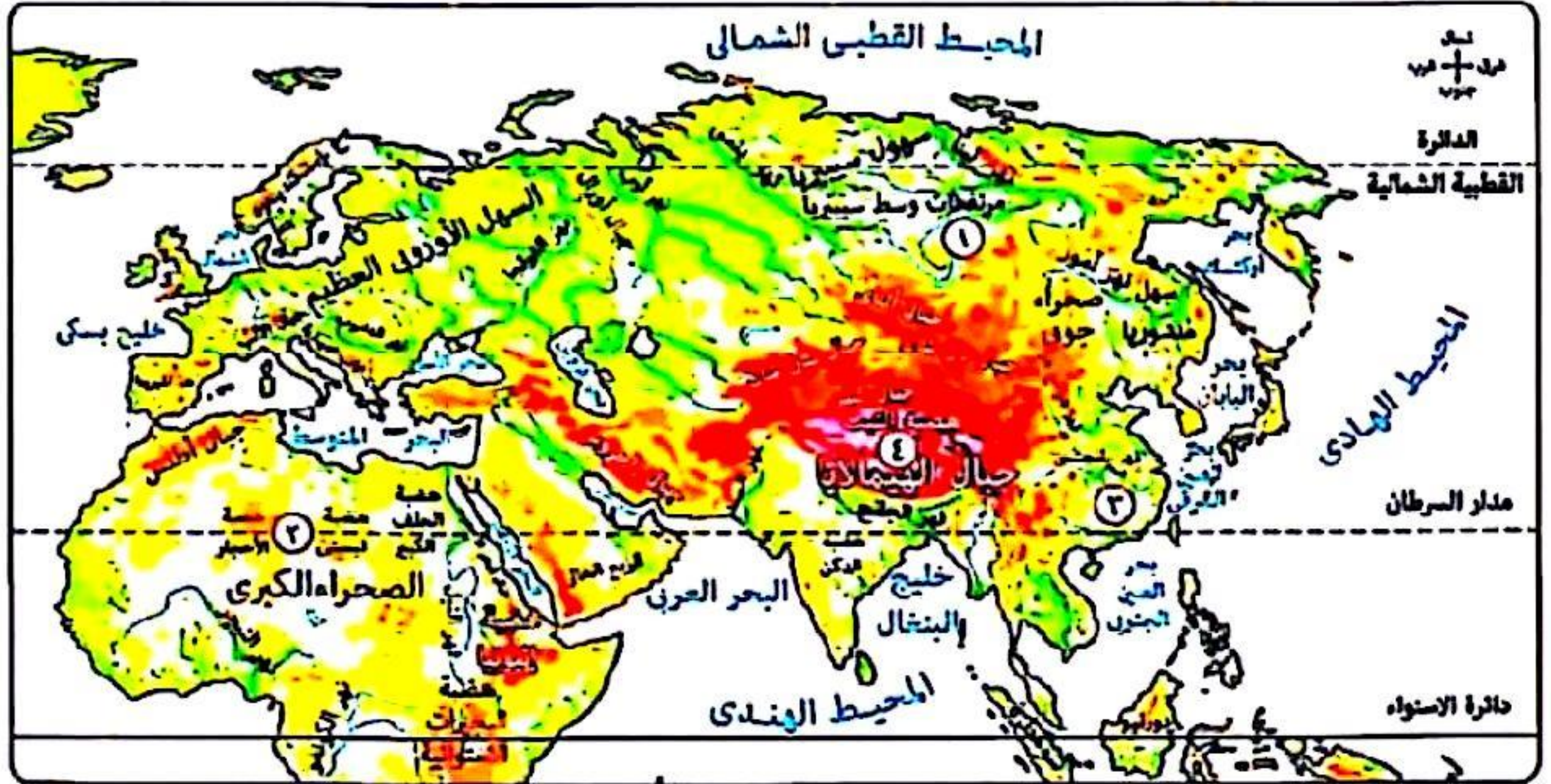
- إعادة تخطيط الحد السياسي. (أ) القيام بعملية المسح الميداني للحد.
تفعيل المرحلة الرابعة للحد السياسي. (ب) تغيير مسار الحد السياسي لها. (د)

٣ «الحد السياسي يحدد للدولة سيادتها على الموارد الأرضية السطحية والباطنية والبحرية».

في ضوء هذه العبارة، أجب: تنطبق هذه العبارة كاملة على العديد من الدول يخرج عنها

- كندا. (أ) المغرب. (ب) باراجواي. (ج) سوريا. (د)

٤ بدراسة الخريطة التالية، أي المناطق التالية تساعد على سهولة الامتزاج الثقافي ؟



- ✓ المنطقة (٣) (ب) المنطقة (٢) (ج) المنطقة (٤) (د) المنطقة (١)

٥ الموقع الاستراتيجي الذي لعب التحكيم الدولي دورًا في حل بعض النزاعات الاقتصادية بالقرب منه هو

- مضيق جبل طارق. (أ) مضيق هرمز. (ب) قناة السويس. (ج) مضيق صقلية. (د)

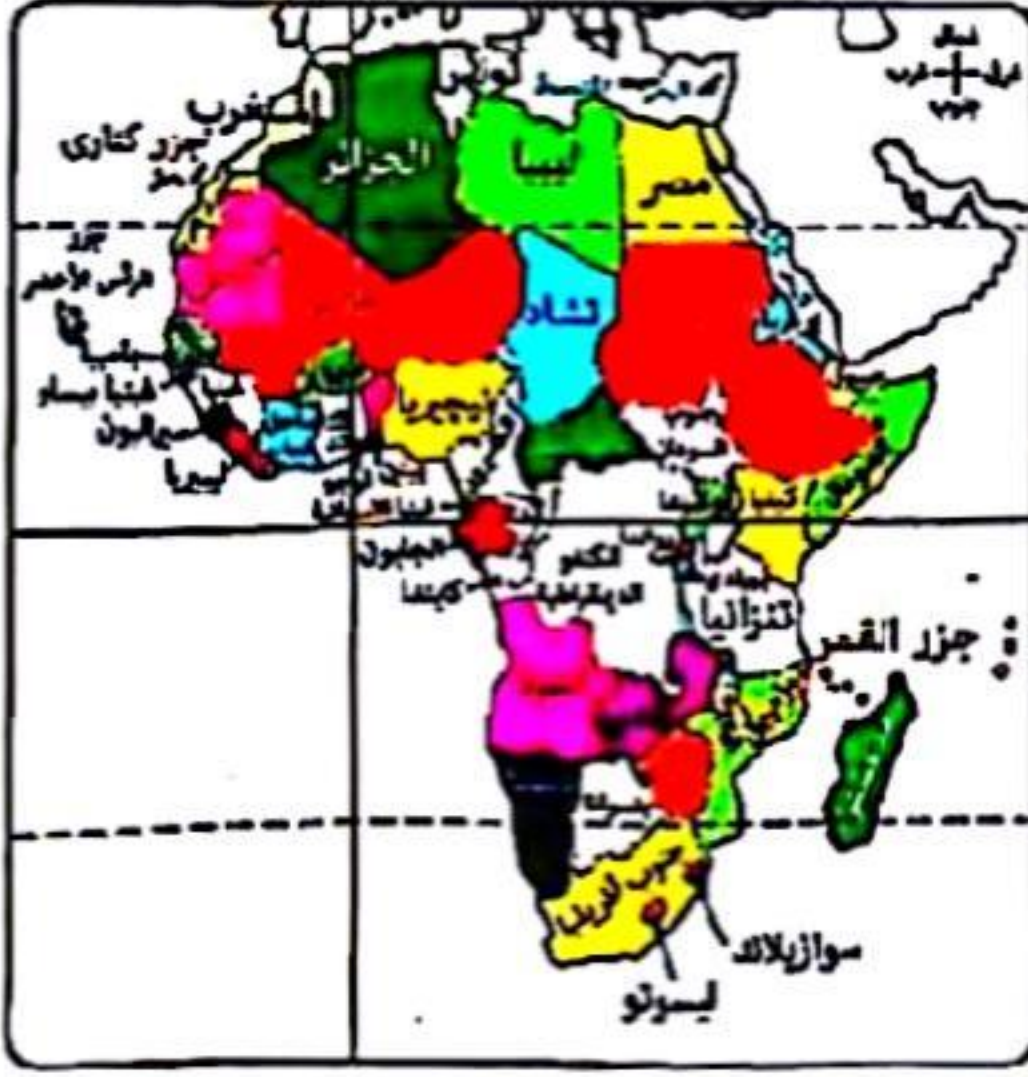
أ / مصطفى عبدالعظيم

ت / 01097158554

٢٢٨ | امتحانات الثانوية العامة السابقة



لضمان التفوق ابحث دائما عن موقع مدرستك



٦ بدراسة الخريطة التي أمامك، استنتج : أي الدول التي يمر بها خط جرينتش يتوقع أن يتنوع بها النشاط التعديني

أ الجزائر. ✓

ب توجو.

ج بوركينافاسو.

د غانا.

أ / مصطفى عبد العظيم

ت / 01097158554

٧ شهدت بعض المناطق في القرن الماضي ممارسة بعض الأقليات للديكتاتورية وهو ما ظهر في

أ إيطاليا.

ب جنوب إفريقيا. ✓

ج الولايات المتحدة الأمريكية.

د العراق.

٨ (أرسطو، ابن خلدون، راتزل، كيلين) كانت لهم إسهامات في علم الجغرافيا السياسية وقد اتفقوا جميعاً في

أ دراسة الوحدات السياسية. ✓

ب تشبيه الدولة بالكائن الحي.

ج دراسة النظام العالمي الجديد.

د الدراسة الاستاتيكية للوحدات السياسية.

٩ «عندما عرضت فكرة حفر قناة السويس على (محمد علي) رفضها قائلاً : لا أريد بسقوراً جديداً في مصر».

في ضوء هذه العبارة : رفض محمد علي لمشروع قناة السويس يعبر عن

أ التحليل السياسي للقوة. ✓

ب النظام العالمي الجديد.

ج دراسة الوحدات السياسية.

د دراسة الأمن المائي.

١٠ عند مقارنة الساحل الجنوبي للبحر المتوسط والساحل الشرقي للمحيط الهادي نلاحظ

أ التشابه في عدد التكتلات الاقتصادية المشرفة عليهما. ✓

ب الاختلاف في عدد التكتلات الاقتصادية المشرفة عليهما.

ج التطابق في أشكال الدول المشرفة عليهما.

د التشابه في عدد الأحلاف العسكرية المشرفة عليهما.

١١ دولة تستطيع الدفاع عن نفسها دون استنزاف مواردها

أ البرازيل. ✓

ب اليونان.

ج السويد.

د الصين.

١٢ أهم المقومات الجغرافية لتحقيق التجانس السكاني لأي دولة هي العوامل

أ الإثنوغرافية والعسكرية. ✓

ب الإثنوغرافية والتضاريس.

ج الإثنوغرافية والسياسية.

د الإثنوغرافية والاقتصادية.

١٣ «دولة استطاعت أن تحقق التواصل الحضارى مع دول العالم قديماً، تبعد عاصمتها عن حدها الشمالى ٢٥٦ كم، وحدها الجنوبى ٢٥٠ كم، وحدها الشرقى ١٠١ كم، وتبعد عن الحد السياسى البحرى للدولة بمسافة ١٢ ميلاً بحرياً». فى ضوء هذه العبارة، استنتج : تفتقد عاصمة هذه الدولة

① سهولة الوصول. ✓
 ② الحماية والدفاع. ✓
 ③ الاتصال بالعالم الخارجى. (د)
 ④ مركز السلطة والقوة.

١٤ أحد المتغيرات التى أدت إلى إعلان النظام العالمى الجديد هو نهضة بعض المناطق اقتصادياً والتى تقع فى

① جنوب شرق أستراليا. ✓
 ② جنوب شرق أمريكا الشمالية. (ب)
 ③ جنوب شرق آسيا. ✓
 ④ جنوب شرق إفريقيا. (د)

١٥ «مجلس الأمن التابع للأمم المتحدة له سلطة قانونية على الدول الأعضاء». فى ضوء هذه العبارة، استنتج :

يمثل مجلس الأمن

① سلطة مركزية فى اتحاد فيدرالى. ✓
 ② سلطة مركزية فى اتحاد كونفدرالى. ✓
 ③ سلطة محلية فى اتحاد فيدرالى. (ج)
 ④ سلطة محلية فى اتحاد كونفدرالى. (د)

١٦ «تتعدد المشكلات السياسية والاقتصادية فى العالم». فى ضوء ما درسته، استنتج :

التكتل الاقتصادى الذى تعاني بعض دوله من تلك المشكلات هو

① الناftا. ✓
 ② اتحاد المغرب العربى. ✓
 ③ الأبيك. (ب)
 ④ مجلس التعاون لدول الخليج العربى. (د)

١٧ «هناك علاقة تأثير وتأثر بين مساحة المراعى والأراضى الزراعية فى غرب إفريقيا». فى ضوء هذه العبارة، استنتج : العامل الذى أثر إيجابياً على زيادة مساحة الأراضى الزراعية هو

① تحصيل الرسوم من الرعاة. ✓
 ② رسم الحدود السياسية فى مناطق السافانا. ✓
 ③ التركيب النوعى للسكان. (ب)
 ④ النمو السكانى فى إقليم السافانا. (د)

أ / مصطفى عبدالعظيم
 ت / 01097158554

١٨ ظهر أثر القوة العسكرية فى العلاقات الدولية فى

① غرب البحر الأسود. ✓
 ② شمال البحر الأسود. ✓
 ③ جنوب البحر الأسود. (ب)
 ④ شرق البحر الأسود. (د)



١٩ من خلال الخريطة التى أمامك رتب الدول وفقاً للقوة المورفولوجية

- ① جنوب إفريقيا - موزمبيق - بتسوانا - سوازيلاند. ✓
 ② موزمبيق - بتسوانا - جنوب إفريقيا - سوازيلاند. (ب)
 ③ جنوب إفريقيا - بتسوانا - سوازيلاند - موزمبيق. (ج)
 ④ سوازيلاند - جنوب إفريقيا - بتسوانا - موزمبيق. (د)



٢٠ «مجموعة الكوميسا، اتحاد المغرب العربي، مجلس التعاون لدول الخليج العربي».

تكتلات اقتصادية تتشابه كل دولها في

- ① الاتصال بالعالم الخارجى.
② النواحى الإثنوغرافية.
③ أسباب نشأة الحد السياسى.
④ القوة الديموجرافية.

٢١ من خلال دراستك لمفهوم الجغرافيا السياسية، استنتج: الهدف النهائي من دراسة المقومات الطبيعية

والبشرية للولايات المتحدة الأمريكية التعرف على

- ① نشاطها الاقتصادى. ② نشاطها البشرى. ③ تنظيمها الداخلى. ④ قوتها السياسية.

٢٢ يتمثل النظام السياسى فى صورته الاجتماعية فى

- ① للمؤسسات التعليمية. ② النظام البرلمانى. ③ المؤسسات القضائية. ④ العلاقات الخارجية.

٢٣ «بجرى نهر النيجر فى غرب إفريقيا، ويتجه جنوباً ليصب فى خليج غينيا». فى ضوء هذه العبارة، استنتج:

يقع الحوض الأدنى لنهر النيجر فى إحدى دول مجموعة الإيكواس وهى

- ① غينيا. ② نيجيريا. ③ النيجر. ④ مالى.

٢٤ تتشابه أبعاد قوة الدولة مع

- ① مقومات قيام التكتلات الاقتصادية. ② مراحل تكوين التكتلات الاقتصادية. ③ أهداف الأحلاف العسكرية. ④ أهداف قيام التكتلات الاقتصادية.

٢٥ أحد اهتمامات جغرافية الانتخابات يتم دراستها قبل العملية الانتخابية، وهى

- ① دراسة السلوك الانتخابى للسكان. ② توزيع الدوائر الانتخابية للدولة. ③ دراسة أثر الانتخابات على الظروف البشرية. ④ دراسة أثر الظروف الاقتصادية على سلوك الناخبين.

٢٦ تزامن الخلاف بين الهند وباكستان مع

- ① تأسيس حلف الناتو. ② إعلان اتفاقية برشلونة. ③ تأسيس حلف وارسو. ④ عقد مؤتمر عدم الانحياز.

٢٧ تميز الجانب الشرقى لشبه الجزيرة العربية عن جانبها الغربى فى

- ① اختلاف القوميات. ② العامل الإثنوغرافى. ③ أهمية الظهير الساحلى. ④ سيادة الطابع الجبلى.

٢٨ يفصل بحر المانش بين دولتين

- ① تختلفان فى موقع العاصمة. ② تختلفان فى صلاحيات رئيس الوزراء. ③ تتشابهان فى شكل الدولة. ④ تتشابهان فى أنظمة الحكم من حيث الشكل.

٢٩ شهد العقد الثالث من الألفية الثالثة إحياء الفكر الديناميكي على يد دولة

- أ) روسيا. ب) فرنسا. ج) اليابان. د) أستراليا.

٣٠ «هناك متغيرات أدت إلى إعلان النظام العالمي الجديد». في ضوء العبارة السابقة، استنتج :

- الفوتان العظمتان اللتان ظهر لهما دور مؤثر في النظام الاقتصادي العالمي والأسواق العالمية تتشابهان في
أ) المظهر التضاريسي لكل منهما.
ب) شكل الدولة السائد فيهما.
ج) عدد الدول المجاورة لهما.
د) التواصل الحضاري بالعالم الخارجي.



- ٣١ بمقارنة الدول التي تطل على بحيرة ملاوي والدول التي تطل على بحيرة فيكتوريا نجد أن الدول المشرفة عليهما تختلف من حيث
أ) عدد الدول التي تشرف عليهما.
ب) عدد الدول البحرية التي تشرف عليهما.
ج) أسباب نشأة الحدود في الدول المشرفة عليهما.
د) شكل الدول الحبيسة التي تشرف على كل منهما.

٣٢ تتشابه الأقلية الموجودة جنوب الصحراء الكبرى بإفريقيا من حيث النوع مع الأقلية الموجودة في

- أ) كتل الناقتا. ب) اتحاد المغرب العربي.
ج) مجلس التعاون لدول الخليج العربي. د) كتل الكوميكون.

٣٣ «تدخلت الجزائر عام ١٩٧٥م لحل النزاع بين العراق وإيران حول منطقة شط العرب». في ضوء هذه العبارة :

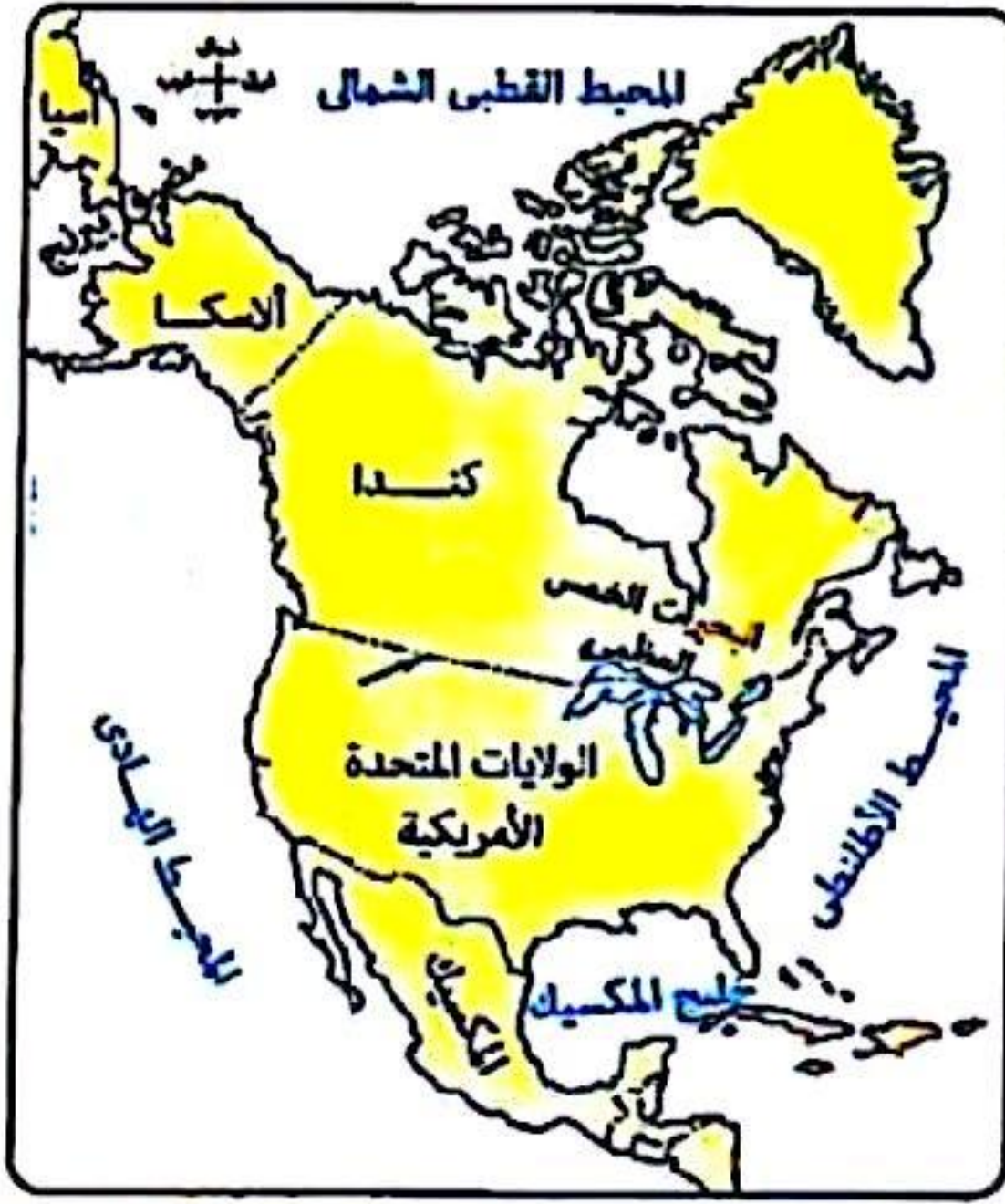
- تدخل الجزائر لحل النزاع بين إيران والعراق يعبر عن أحد طرق حل النزاعات الدولية، وهو
أ) المساعي الحميدة. ب) المفاوضات.
ج) التوفيق. د) التحكيم.

٣٤ «البريكس كتل اقتصادي يضم دول (الصين - روسيا الاتحادية - البرازيل - جنوب إفريقيا - الهند)».

- في ضوء هذه العبارة ومن خلال دراستك، استنتج : الدول التي تنتمي لتكتلين اقتصاديين هما
أ) جنوب إفريقيا - الصين.
ب) الهند - جنوب إفريقيا.
ج) الصين - روسيا الاتحادية.
د) الهند - البرازيل.

٣٥ ارتبطت الحدود الطبيعية بظواهر مرتبطة باليابس كما هو الحال بين دولتي

- أ) تنزانيا وأوغندا. ب) المكسيك والولايات المتحدة الأمريكية.
ج) فرنسا وإسبانيا. د) فرنسا وألمانيا.



٢٦ تُعد المنطقة المشار إليها على الخريطة المقابلة

- Ⓐ ظاهرة ذات مساحة.
- Ⓑ ظاهرة طبيعية.
- Ⓒ غنية بالموارد.
- Ⓓ قابلة للنقل. ✓

أ / مصطفى عبدالعظيم

ت / 01097158554

٢٧ ظهر الدور الإيجابي لعلماء الجغرافيا السياسية فى رسم الحدود السياسية بعد الحرب العالمية الأولى بين

دولتى

- Ⓐ مالى والسنگال.
- Ⓑ رومانيا وألمانيا.
- Ⓒ النيجرونيجيريا. ✓
- Ⓓ المجر والتمسا.

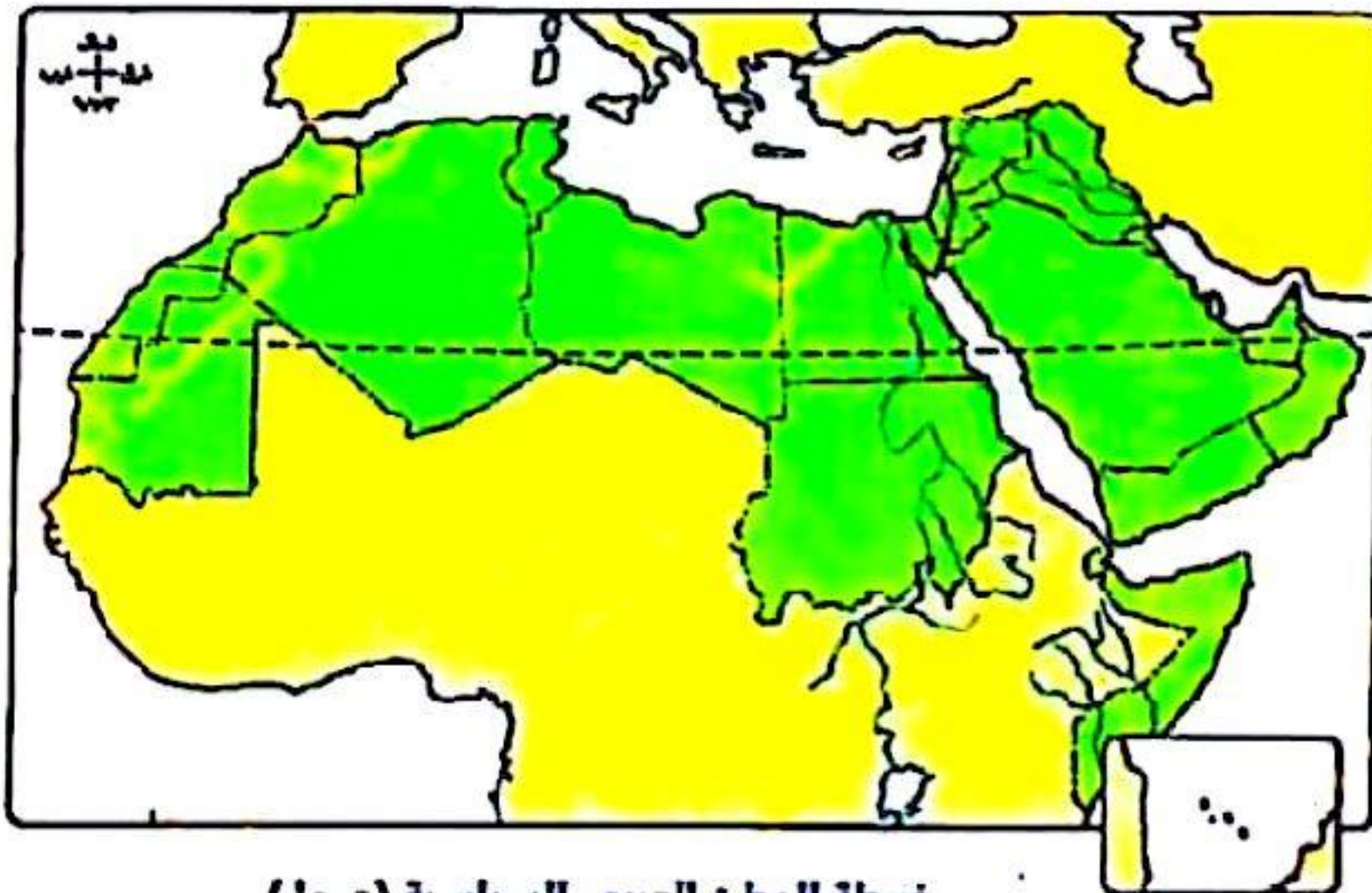
٢٠	٢٥	٤٠	٤٥	٥٠	٥٥	٦٠
شمالاً	شمالاً	شمالاً	شمالاً	شمالاً	شمالاً	شمالاً
شرقاً	شرقاً	شرقاً	شرقاً	شرقاً	شرقاً	شرقاً
٤٠						
٢٥						
٢٠						
٢٥						
٢٠						
١٥						
١٠						

٢٨ أمامك إحداثيات للدولة (س) التى تنتشر فيها أقلية، استعن

بالشكل المقابل، ثم استنتج : المنطقة التى تشكل فيها

الأقلية خطورة على الدولة تنتشرين

- Ⓐ ١٠ : ٢٥ شمالاً ، ٣٠ : ٤٥ شرقاً.
- Ⓑ ١٥ : ٣٠ شمالاً ، ٤٠ : ٥٥ شرقاً.
- Ⓒ ٣٥ : ٤٠ شمالاً ، ٥٥ : ٦٠ شرقاً. ✓
- Ⓓ ١٠ : ٢٥ شمالاً ، ٣٠ : ٥٥ شرقاً.



٢٩ من خلال الخريطة المقابلة :

تصور أن الجناح العربى الأفريقى

أصبح دولة فإنه يكون أقرب إلى

الشكل

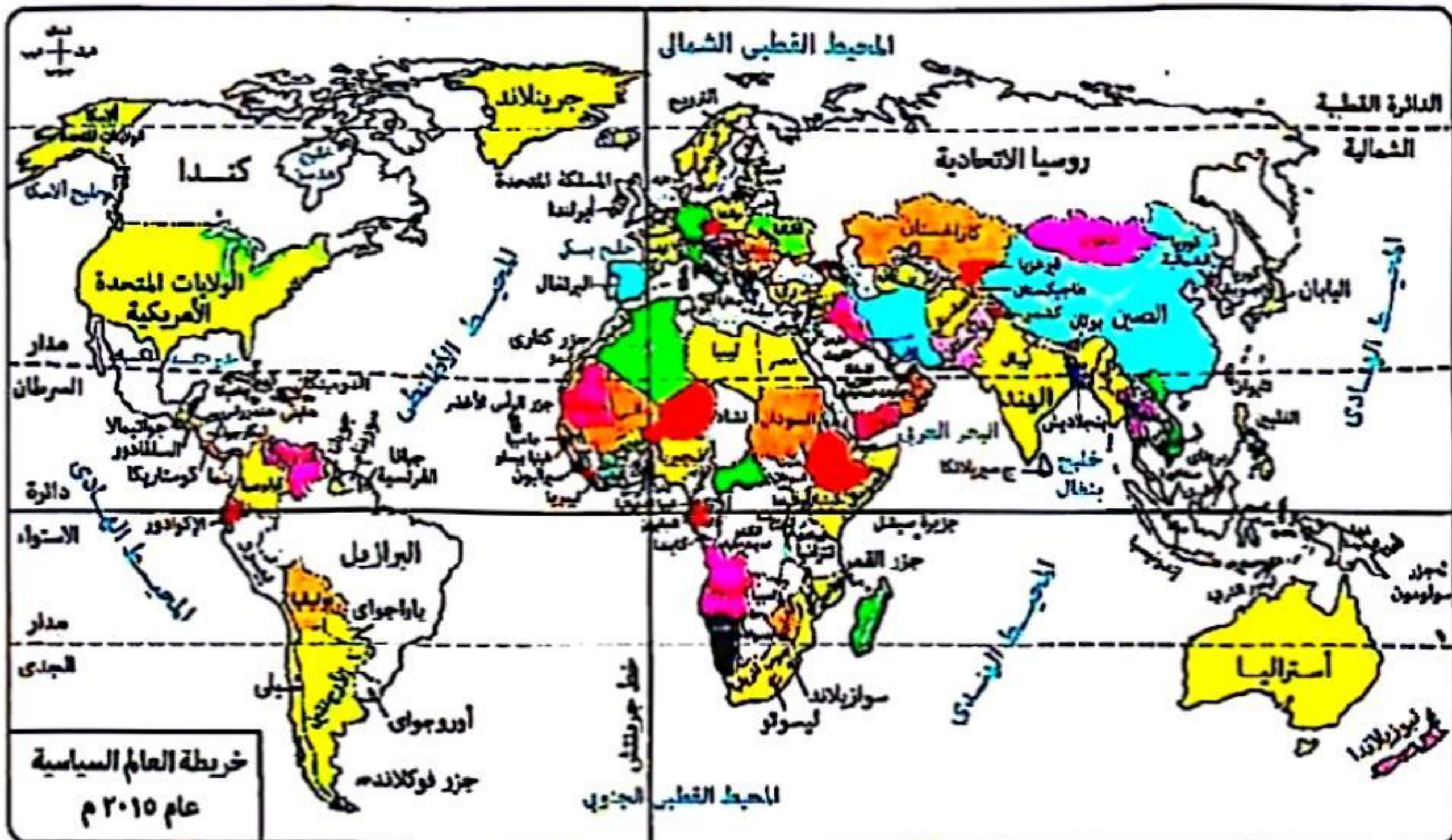
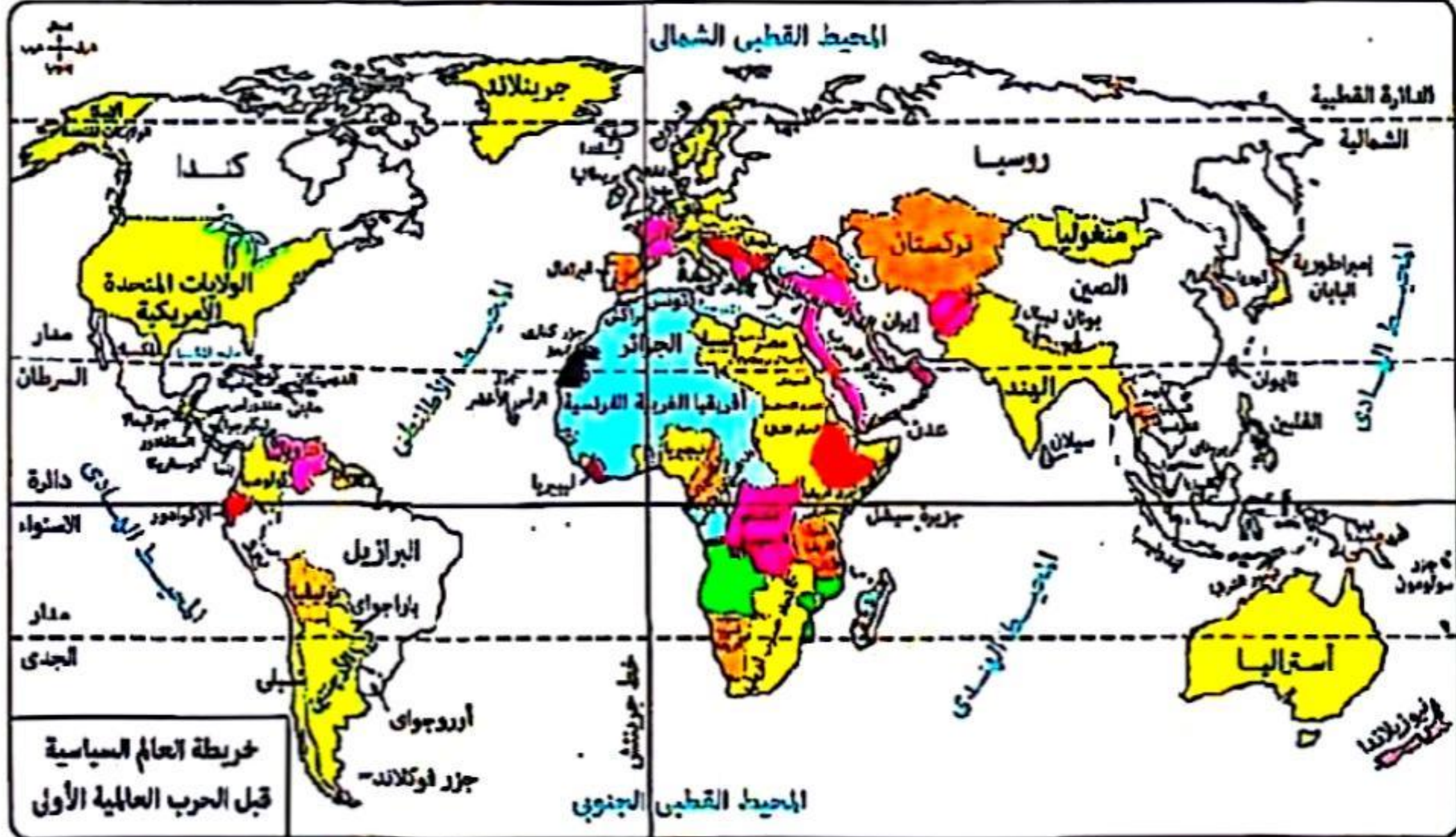
- Ⓐ البرى - البحرى الجزأ. ✓
- Ⓑ المستطيل العرضى.
- Ⓒ المندمج ذوالبروز.
- Ⓓ البرى الجزأ.



يرجع اهتمام دول الخليج العربي بإنشاء الاتحاد الجمركي إلى

- ① زيادة صادراتها من السلع المختلفة.
- ② كون الميزان التجاري في صالحهم.
- ③ اهتمامهم بالصناعات البترولية ومشتقاتها.
- ④ زيادة وارداتها من السلع المختلفة.

من خلال الخريطين التاليتين الدولة التي ظهرت بين الحربين العالميتين على خريطة العالم السياسية



فلندا.

جورجيا.

منغوليا.

أوزبكستان.

أ / مصطفى عبدالعظيم

ت / 01097158554

٢٢٤ | امتحانات الثانوية العامة السابقة



لضمان التفوق ابحث دائما عن موقع مدرستك

أ / مصطفى عبدالعظيم

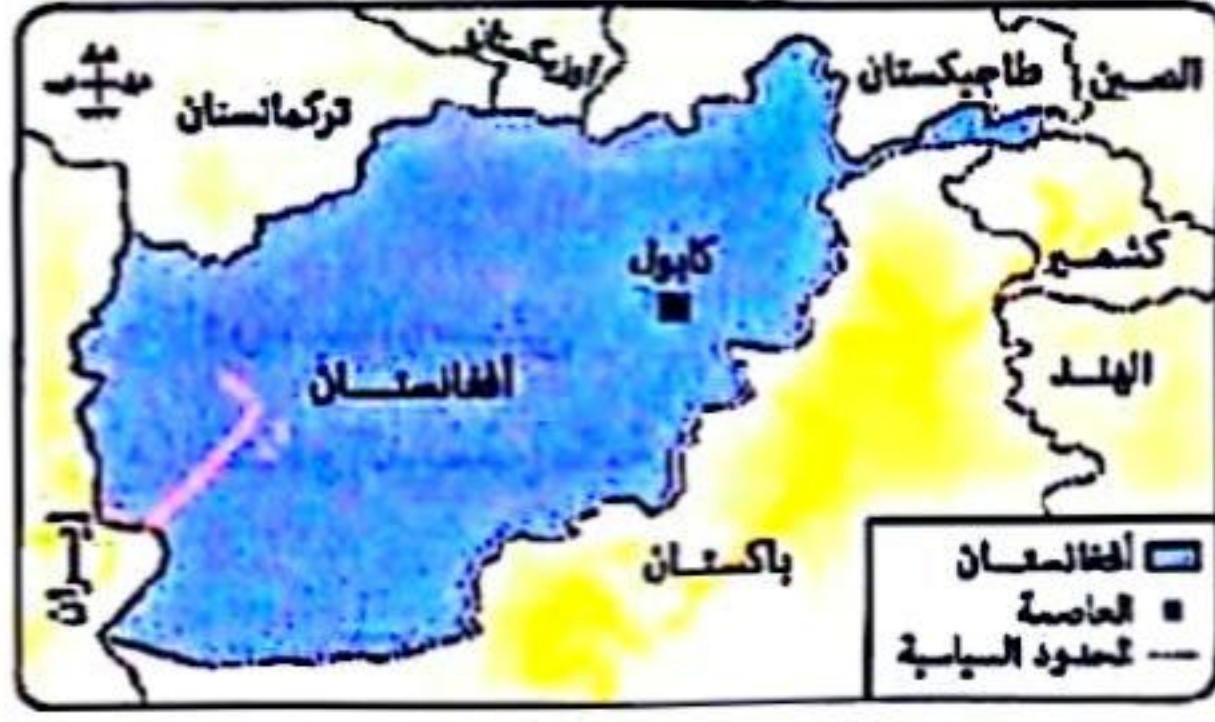
ت / 01097158554

٤٢ كان لحركة السكان أثرها في نشأة الحدود في

- ① شمال وجنوب أستراليا.
② شرق وغرب أنجولا.
③ شمال وجنوب الولايات المتحدة.
④ شرق وغرب إيطاليا.

٤٣ يميز الأمة عن الدولة

- ① العامل الجغرافي. ② العامل السياسي. ③ العامل الزمني. ④ العامل البشري.



٤٤ من خلال الخريطة المقابلة، أي حدود أفغانستان

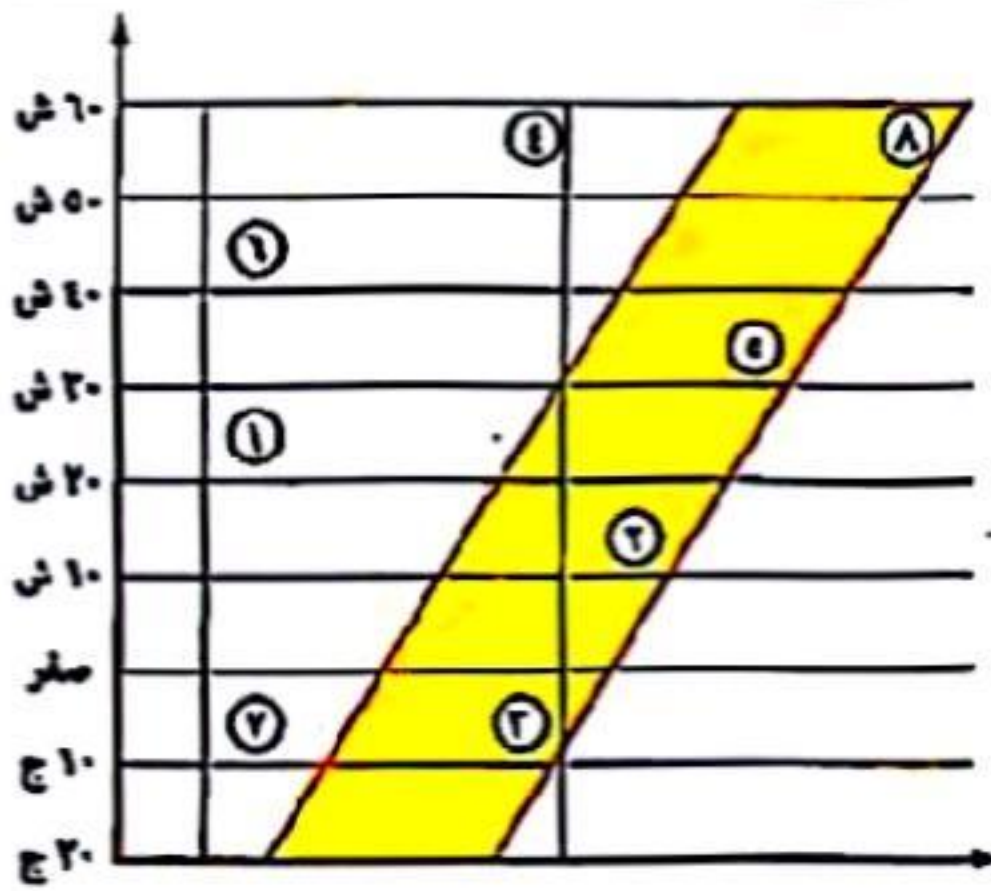
- تتوقع أن تقل بها النزاعات ؟
- ① الجنوبية - الغربية.
② الشرقية - الجنوبية.
③ الغربية - الشمالية.
④ الشمالية - الشرقية.

٤٥ «العملية الانتخابية لها جوانب جغرافية عديدة، منها: تقسيم الدولة إلى دوائر، ومعرفة عدد سكانها

وخصائصهم، واستخدامات الأرض بها». في ضوء العبارة السابقة، استنتج :

تعتمد الدراسة السابقة على إحدى التقنيات الحديثة، وهي

- ① نظم المعلومات الجغرافية.
② الاستشعار من بُعد.
③ نظام تحديد المواقع العالمي.
④ تكنولوجيا المعلومات.



٤٦ بدراسة الشكل المقابل، استنتج: أي المناطق

تتوقع أن تتشابه في النشاط الاقتصادي

الرعوى مع دولتي أستراليا والأرجنتين

- ① المنطقتين ①، ②.
② المنطقتين ⑤، ⑥.
③ المنطقتين ③، ④.
④ المنطقتين ⑦، ⑧.

٤٧ تحركت سفينة من ميناء بورسعيد على البحر المتوسط متجهة نحو ميناء سفاجا على البحر الأحمر فإتها

بذلك تمر بمنطقة مائية متعددة، هي

- ① إقليمية - تكميلية.
② دولية - تكميلية.
③ داخلية - محايدة.
④ داخلية - إقليمية.

(دور ثانٍ ٢٠٢٢)

امتحان شهادة الثانوية العامة

١ في ضوء تحليلك لمفهوم الجغرافيا السياسية، استنتج: دراسة المحافظات المصرية تعبر عن

Ⓐ العلاقات الدولية. Ⓑ التنظيم الداخلي. Ⓒ المقومات الطبيعية. Ⓓ المشكلات السياسية.

٢ «تسعى جامعة الدول العربية لتحقيق التكامل الاقتصادي بين الدول الأعضاء».

أ / مصطفى عبدالعظيم

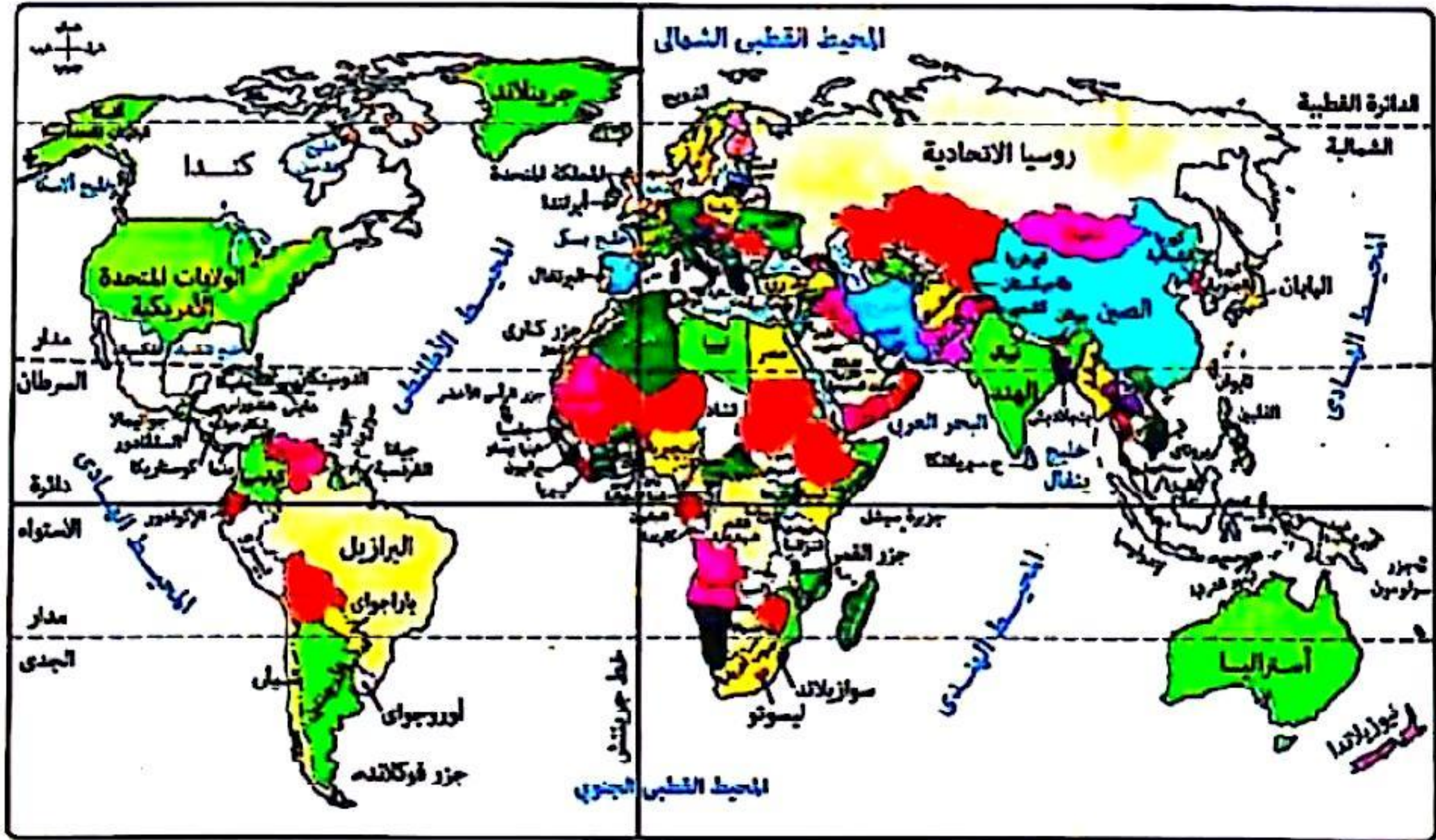
ت / 01097158554

Ⓐ التحليل السياسي للقوة. Ⓑ تحليل التجمعات الدولية. Ⓒ التعرف على المشكلات السياسية. Ⓓ تحليل التجمعات الإقليمية.

٣ لعبت الجغرافيا السياسية دورًا إيجابيًا في حل بعض المشكلات السياسية في قارة

Ⓐ أستراليا. Ⓑ إفريقيا. Ⓒ أمريكا الشمالية. Ⓓ أمريكا الجنوبية.

٤ من خلال الخريطة، استنتج: تم دائرة الاستواء بمجموعة من الدول أكبرها مساحة هي



Ⓐ البرازيل. Ⓑ إندونيسيا. Ⓒ ترانبا. Ⓓ الكونغو الديمقراطية.

٥ «تنبأ الدكتور جمال حمدان في بعض مؤلفاته بانتهاء بعض الدول».

تدل العبارة السابقة على تأثره بأفكار العالم

Ⓐ كيلين. Ⓑ سيغريد. Ⓒ ابن خلدون. Ⓓ أرسطو.

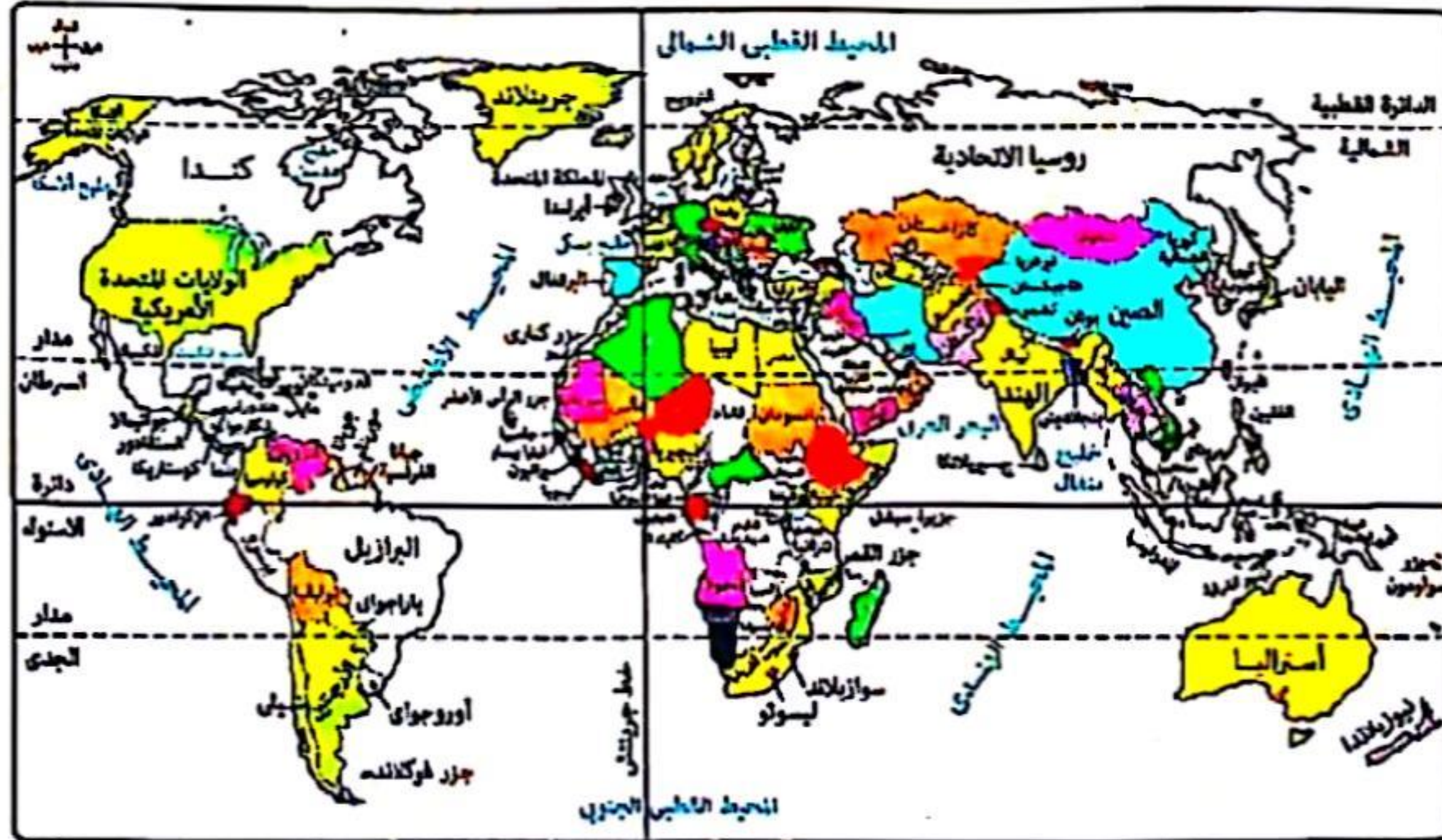


أ / مصطفى عبدالعظيم

ت / 01097158554

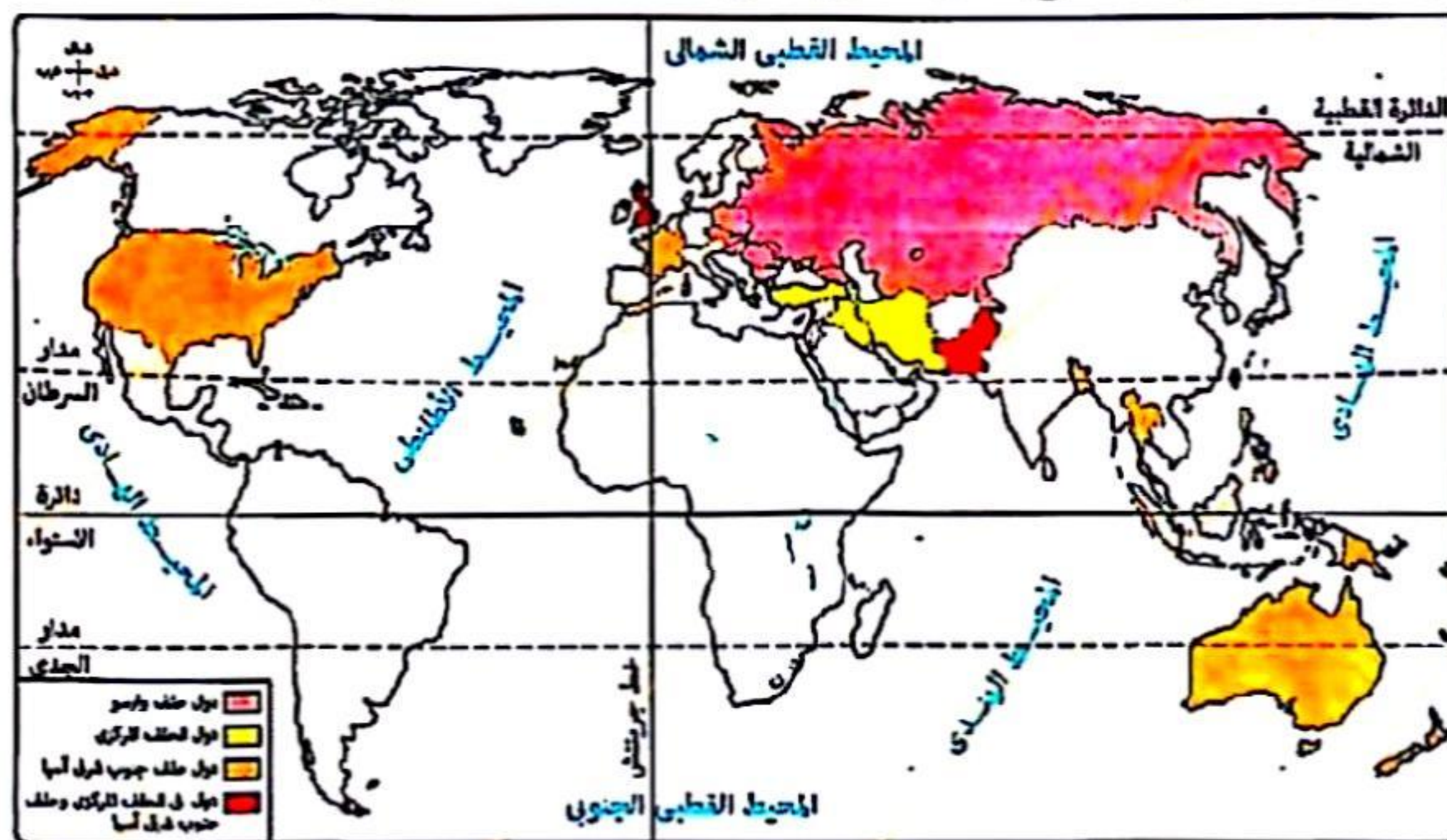
- ٦ قرار الحكومة المصرية بإنشاء مصنع الألومنيوم في نجع حمادى اعتمد على
- ① الاستشعار من بُعد.
② وسائل الاتصالات.
③ نظم المعلومات الجغرافية. ✓
④ تكنولوجيا المعلومات.

٧ فى ضوء الخريطة التالية، ترك الاستعمار العديد من المشكلات فى العالم منها مشكلة حدودية إثنوغرافية تقع فى الركن



- ① الشمال الشرقى. ✓
② الجنوب الغربى.
③ الشمال الغربى.
④ الجنوب الشرقى.

٨ فى ضوء الخريطة التالية، استنتج: الدولة العربية التى انضمت لحلف عسكري هى



- ① مصر.
② العراق. ✓
③ السودان.
④ اليمن.



١ «لعبت المواقع الاستراتيجية دورًا هامًا في إعادة التوازن في بعض المناطق، كما لعب العنصر البشري دورًا في زيادة الأهمية الاستراتيجية لبعض المواقع الأخرى». في ضوء العبارة استنتج :
الدول التي لعبت بها المواقع الاستراتيجية والعنصر البشري دورًا مهمًا في حوض البحر المتوسط هي

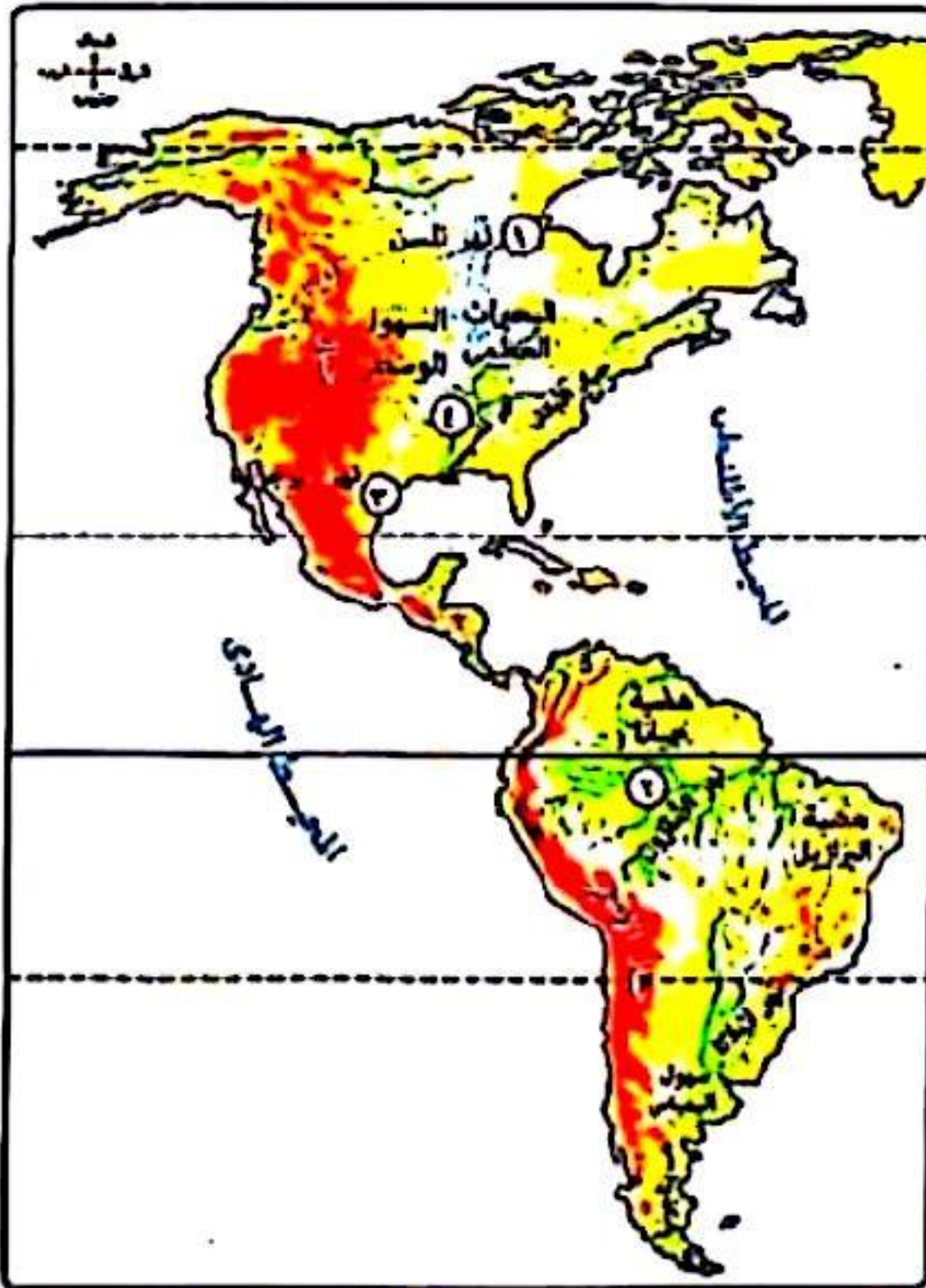
- ① المغرب - البرتغال. ② إسبانيا - تونس. ③ المغرب - مصر. ④ إيطاليا - جيبوتي.

١٠ الحد السياسي البحري للدولة يختفي تمامًا في دولة

- ① أوغندا. ② الكونغو الديمقراطية. ③ سنغافورة. ④ البحرين.

١١ التقطت الأقمار الصناعية سفينة بالبحر المتوسط على بُعد ٣٢ ميل بحري من خط الساحل لدولة (ما) فإنها بذلك تكون في المياه

- ① الإقليمية. ② الداخلية. ③ التكميلية. ④ الدولية.



١٢ في ضوء الخريطة التي أمامك استنتج : النهر الذي قد يشير مشكلة حدودية مستقبلاً هو النهر الذي يمثل

- ① رقم ١
② رقم ٢
③ رقم ٣
④ رقم ٤

أ / مصطفى عبدالعظيم

ت / 01097158554

١٣ دولة تغلبت على موقعها الجغرافي بفضل اتفاقيات الأنهار الدولية

- ① النمسا. ② تشاد. ③ الجزائر. ④ إيطاليا.



١٤ أمامك صورة للزي الوطني لدولة اليابان والذي يعبر عن

- ① الوحدة العادات والتقاليد.
② تنوع العادات والتقاليد.
③ تعدد اللغات.
④ تنوع السلطات بها.

١٥ أكثر دول الاتحاد الأوروبي امتلاكًا لقوى بشرية عاملة
① إسبانيا. ② المجر. ③ ألمانيا. ④ البرتغال.

١٦ دولة نصف قطرها ٤٥٠ كم تقريبًا فإنها بذلك تكون أقرب للشكل
① البرى الجزأ. ② المدمج «المنتظم». ③ الشريطى الطولى. ④ الشريطى العرضى.

١٧ استطاعت الصين مع بداية الاستقطاب العالمى أن تحتل مكانة عالمية بفضل قوتها
① المورفولوجية. ② الاقتصادية. ③ العسكرية. ④ الديموجرافية.

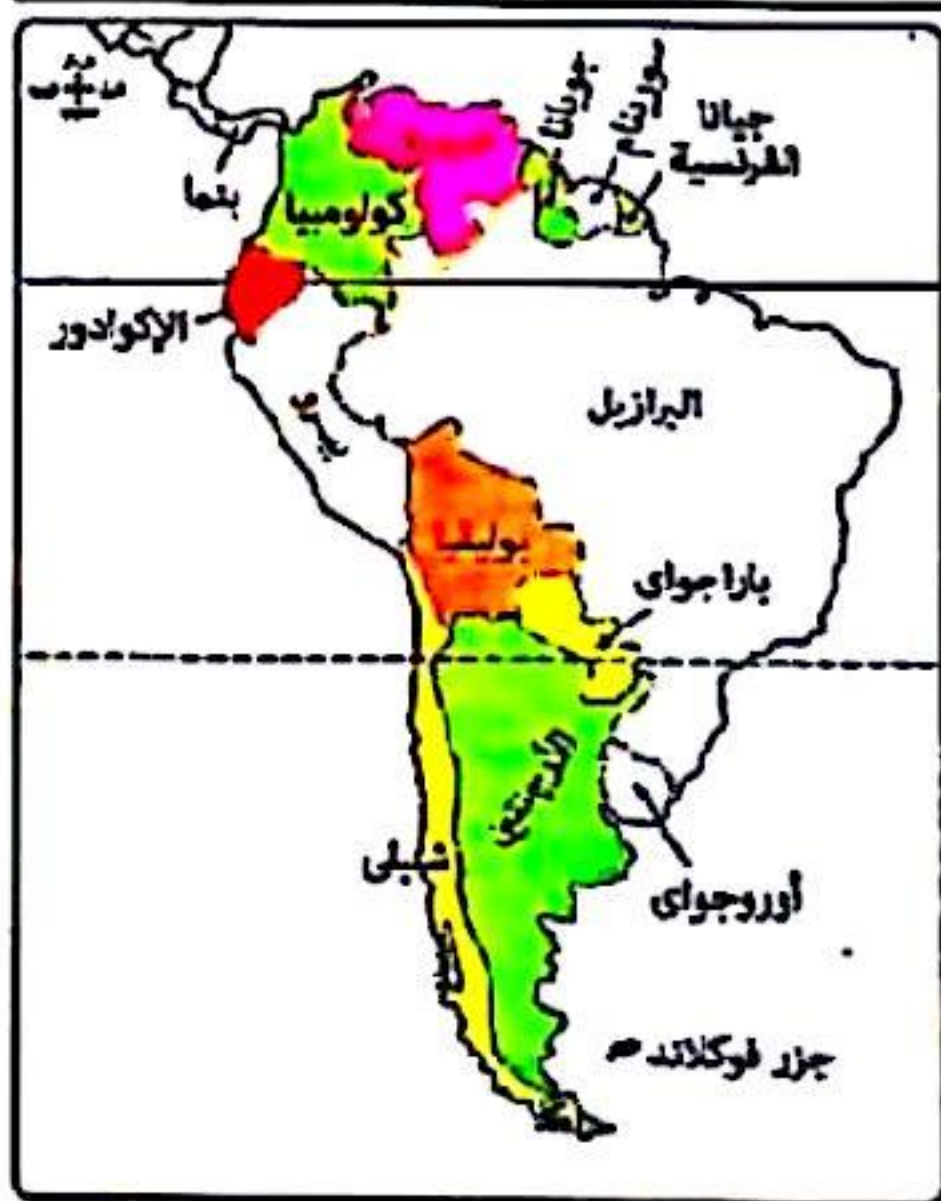
١٨ مدينة باريس عاصمة فرنسا تتمتع بالحماية والدفاع وهو ما يخالف عاصمة دولة
① نيجيريا. ② موريتانيا. ③ تركيا. ④ إسبانيا.

١٩ الحد الجنوبي الشرقى لدولة كندا يصنف على أنه حدًا
① جبليًا. ② بحريًا. ③ إثنوغرافيًا. ④ فلكيًا.

٢٠ الحد السياسى الذى يتقارب فى درجة ثباته مع التخوم يفصل بين دولتى
① فرنسا وألمانيا. ② الولايات المتحدة والمكسيك. ③ مصر وليبيا. ④ شيلي والأرجنتين.

٢١ مرحلة من مراحل تخطيط الحدود السياسية تحتاج إلى القوة والحكمة معًا هى
① التعريف والتخطيط. ② إدارة الحد. ③ التحديد. ④ التعيين.

٢٢ ظهر الأثر الإيجابى للأمم المتحدة فى حل النزاعات بمنطقة
① شمال البحر المتوسط. ② شمال أمريكا الشمالية. ③ شمال البحر الكاريبى. ④ شمال أوروبا.



٢٣ بالاستعانة بالخريطة المقابلة، استنتج :
الدولة المتوقع أن تكون قادرة
على إدارة مواردها بسهولة وفقًا
لمساحتها هى

أ / مصطفى عبدالعظيم
ت / 01097158554

① أوروغواى. ② البرازيل. ③ الأرجنتين. ④ شيلي.



٢٤ أي المناطق التالية تتمتع بنوع من الاستقلال الذاتي ؟

- ① شنغهاي بالصين. ② كويتزلاند بأستراليا. ③ كيوتو باليابان. ④ كورسيكا بفرنسا.

٢٥ أكثر الدول الإفريقية حرصًا على علاقاتها الودية مع جيرانها بتوقيع معاهدات الرعايا هي

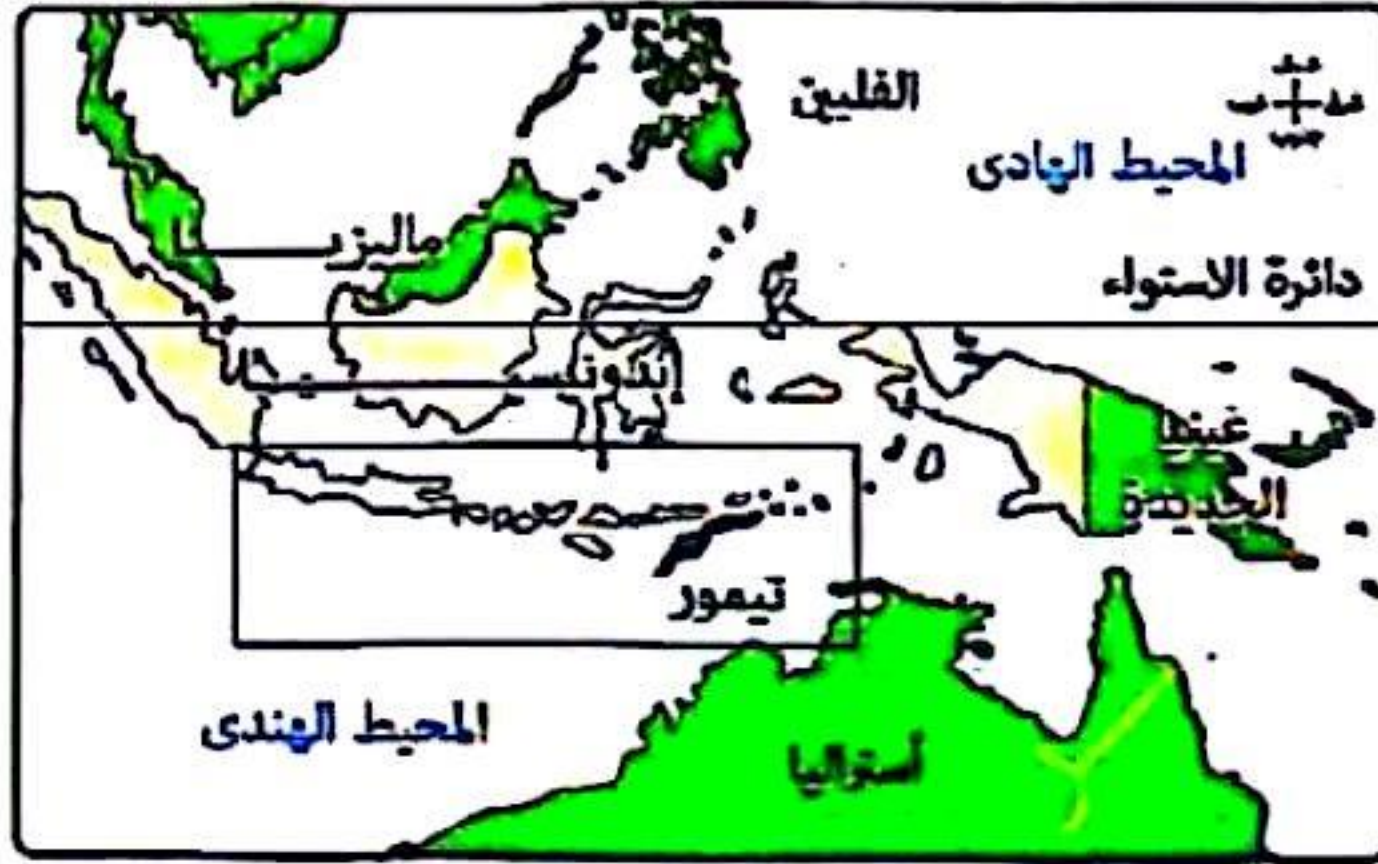
- ① تنزانيا. ② السنغال. ③ المغرب. ④ جنوب إفريقيا.

٢٦ أكثر الدول المتضررة نتيجة الهجرات غير الشرعية (غير الرسمية) هي

- ① الولايات المتحدة الأمريكية. ② البرازيل. ③ إيطاليا. ④ ليبيا.
- أ / مصطفى عبدالعظيم
ت / 01097158554

٢٧ تتشابه كل من تركيا وإسبانيا في

- ① ظهور مشكلات اجتماعية بهما. ② الخصائص الإثنوغرافية بهما. ③ انضمامهما لتكتل اقتصادي واحد. ④ تطابق الشكل بهما.



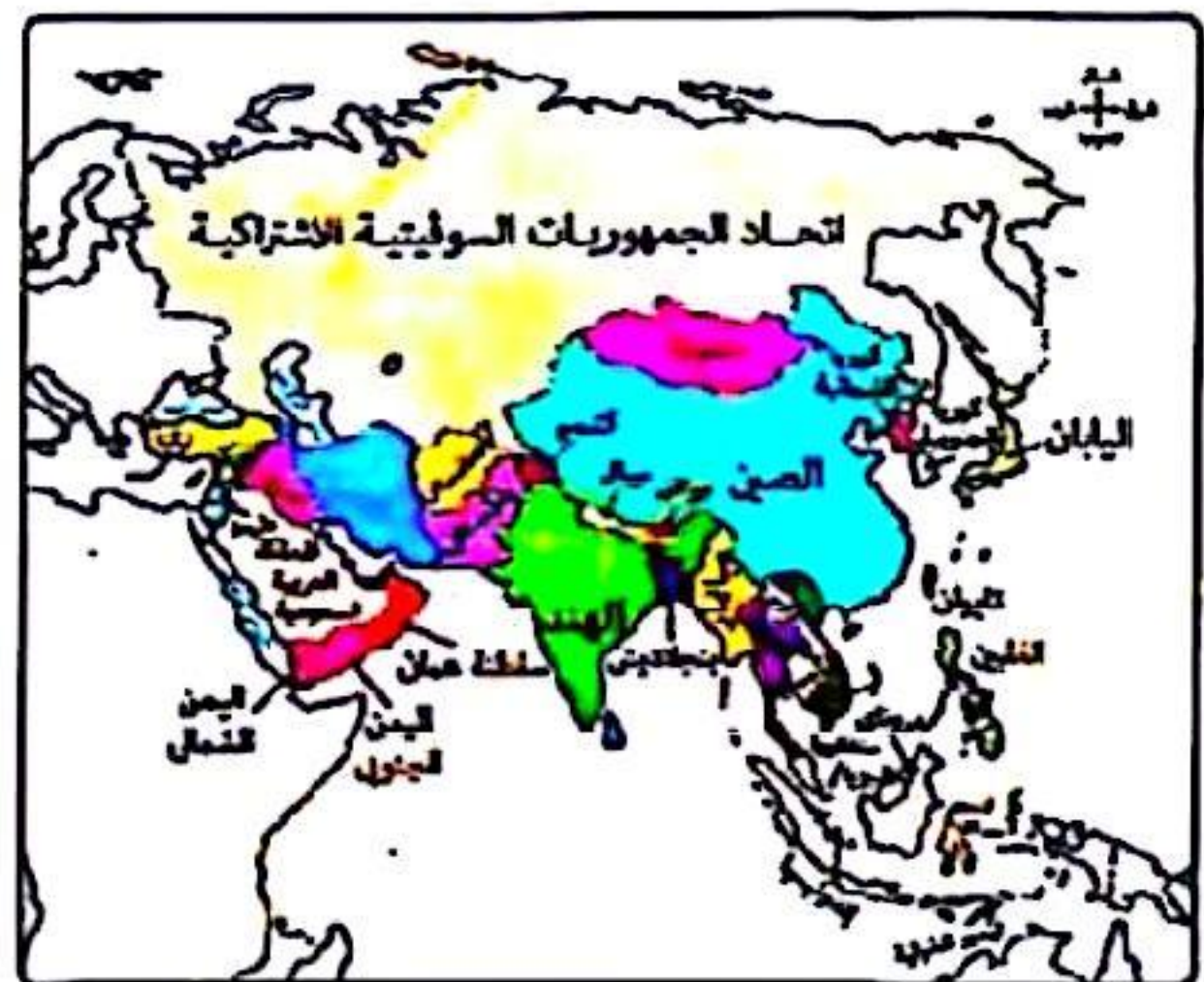
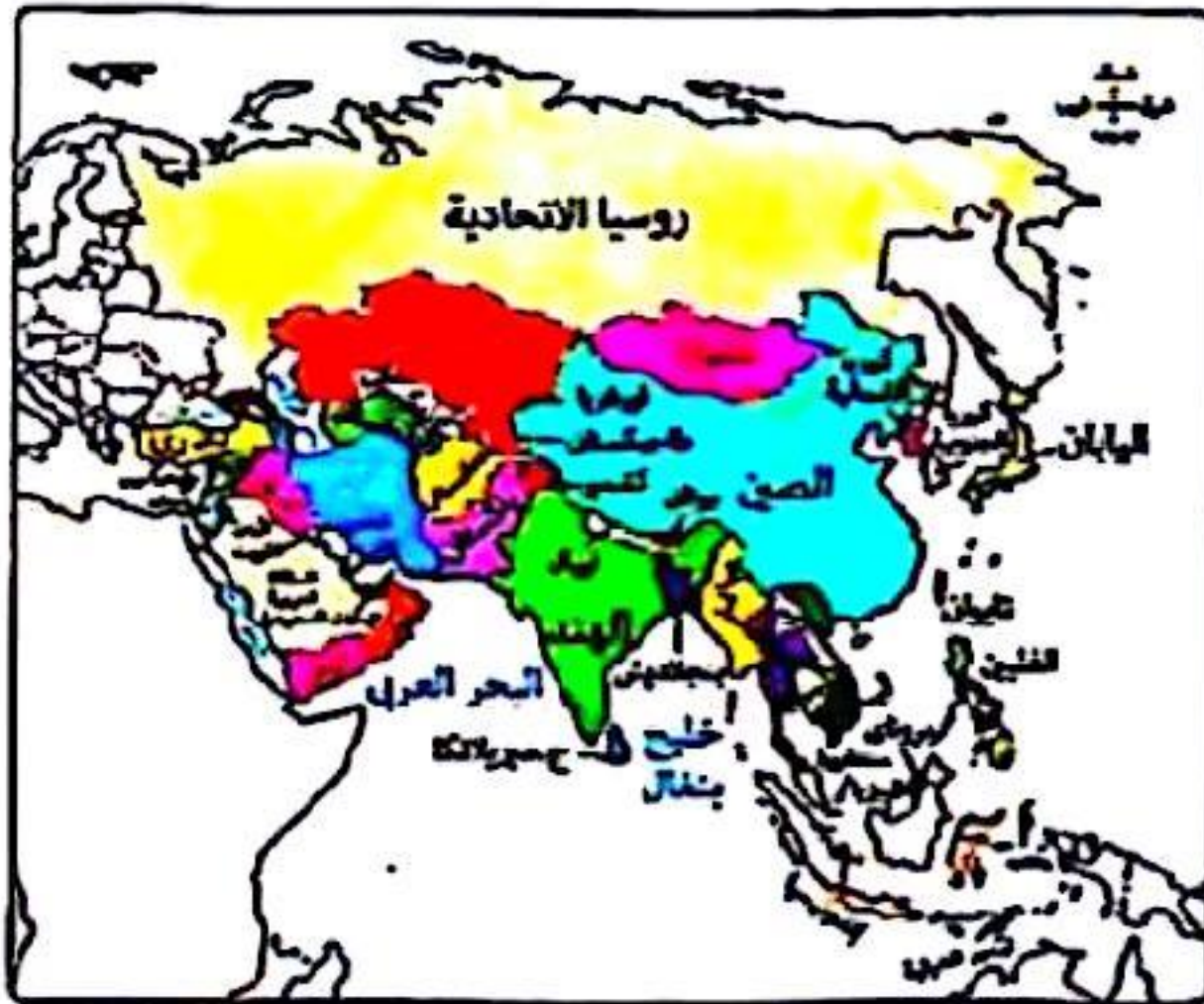
٢٨ «تزداد خطورة الأقلية على الدولة إذا كانت هناك قوى مجاورة تشجعها على تحقيق مطالبها».

في ضوء العبارة السابقة ومن خلال الخريطة التي أمامك استنتج :

أكثر الدول التي قد تدعم أقلية تيمور هي

- ① الفلبين. ② غينيا الجديدة. ③ ماليزيا. ④ أستراليا.

٢٩ من خلال الخريطين، استنتج : الدولة التي لم تتأثر حدودها بعد انهيار الاتحاد السوفيتي



- ① إيران. ② أفغانستان. ③ تركيا. ④ منغوليا.

٣٠ كان لحركة السكان أثره الواضح في نشأة الحدود في
① غرب الأرجنتين. ✓ ② شرق ألمانيا. ③ شمال إسبانيا. ④ غرب ناميبيا.

٣١ تدعم القيادة المصرية البحث العلمي والتطور التكنولوجي بهدف
① زيادة الواردات وتقليل الصادرات. ② تشجيع سياسة الإغراق داخل مصر. ✓ ③ التغلب على الهجرة الداخلية. ④ الحد من هجرة العقول.

٣٢ تساعد السهول كأحد مظاهر السطح على تحقيق الامتزاج الثقافي للدول. في ضوء تلك العبارة وضع :
يتوقع أن يقل الامتزاج الثقافي في سهول
① النيل. ② الفرات. ✓ ③ الأمازون. ④ الراين.

٣٣ محاولة تطبيق الديمقراطية كانت في حل مشكلة
✓ ① كشمير شمال غرب الهند. ② كتالونيا بإسبانيا. ③ الأقلية النمساوية بإيطاليا. ④ الباسك بإسبانيا.

أ / مصطفى عبدالعظيم
ت / 01097158554

٣٤ شكل من أشكال النظام السياسي في صورته المؤسسية يتمثل في
① إنشاء المدارس التكنولوجية. ② إنشاء المستشفيات الحديثة. ✓ ③ إنشاء الطرق البرية الحديثة. ④ إقرار القوانين وتنفيذها.

٣٥ الحرية السياسية والحرية الفكرية جناحان يقودان المجتمع للتقدم، يتمثل ذلك في أي من المراحل الانتخابية ؟
✓ ① الترشح للانتخابات. ② فرز الأصوات. ③ تقسيم الدوائر. ④ تحديد الفائزين.

٣٦ أحد مقومات نجاح مجلس التعاون لدول الخليج العربي ككتل اقتصادي
① الحجم الكبير للسكان. ✓ ② العامل الإثنوغرافي. ③ تنوع الموارد الاقتصادية. ④ تطور البحث العلمي.

٣٧ كتل اقتصادي نجح في إصدار عملة نقدية موحدة
① الكوميسا. ✓ ② الاتحاد الأوروبي. ③ الناftا. ④ اتحاد المغرب العربي.

٣٨ دولة تستطيع الاستفادة من مزايا الإنتاج الكبير
① تنزانيا. ② تشاد. ✓ ③ تونس. ④ أنجولا.

٣٩ أكثر مناطق الوطن العربي التي قد تعاني من ازدواجية الفكر وتنوع العادات هي
✓ ① خليج العربي. ② وادي النيل. ③ المغرب العربي. ④ الهلال الخصيب.

٤٠ أقل أنواع الأقليات انتشارًا على خريطة العالم هي الأقلية
① الدينية. ② القومية. ✓ ③ اللغوية. ④ العرقية.



٤١ تزداد خطورة الأقلية بالدولة حال وجود وطن لها وينطبق ذلك على الأقلية الموجودة بقارة
① إفريقيا. ② أمريكا الشمالية. ③ أمريكا الجنوبية. ④ آسيا.

٤٢ لعبت الكوارث الطبيعية دورًا في إبراز جهود حلف الناتو بدولة
① البوسنة والهرسك. ② باكستان. ③ مقدونيا. ④ كرواتيا.

٤٣ ترتب على اندماج اليمن الجنوبي مع اليمن الشمالي في دولة واحدة
① تناقص عدد الدول المجاورة لسلطنة عمان. ② زيادة عدد الدول المجاورة لسلطنة عمان.
③ تناقص عدد الدول المجاورة للسعودية. ④ زيادة عدد الدول المجاورة للسعودية.

٤٤ تزامنت التحولات الكبرى التي شهدتها منطقة البحر الأدرياتي في نهاية القرن الـ ٢٠ مع
① نشأة حلف وارسو. ② ازدهار دور حركة عدم الانحياز.
③ ظهور حلف الناتو. ④ إعلان النظام العالمي الجديد.

٤٥ هناك دول في النصف الغربي من الكرة الأرضية تتمتع بموقع استراتيجي متميز منها
① الهند. ② اليمن. ③ المغرب. ④ البرازيل.

٤٦ «أحد أسباب النزاع بين روسيا وأوكرانيا يرجع إلى رغبة أوكرانيا في الانضمام لحلف الناتو»
في ضوء العبارة استنتج: في حال خروج لاجئين من أوكرانيا فإن أقرب الدول لاستقبالهم هي
① صربيا. ② النمسا. ③ التشيك. ④ بولندا.

٤٧ التغيرات التي حدثت في نهاية الألفية الثانية شهدتها حدود
① كوريا الشمالية. ② الهند. ③ الصين. ④ منغوليا.

٤٨ تأثرت العلاقات الدولية لدولة جيبوتي إيجابًا بفضل
① الموقع الجغرافي. ② الموقع الفلكي. ③ المساحة. ④ الشكل.

٤٩ «تم اختراق الأمن الثقافي العربي من خلال إحلال قيم العولمة السلبية». في ضوء ما سبق استنتج:
تتفق وتتطابق هذه العبارة مع أحد خصائص النظام العالمي الجديد وهي
① تدويل المشاكل والقضايا التي يواجهها العالم. ② تقلص دور السيادة الوطنية.
③ بروز ظاهرة الاعتماد الدولي المتبادل. ④ تحرير التجارة العالمية.



٥٠ في ضوء دراستك لأشكال الدول استنتج:
عند قيام اتحاد كوندرا إلى بين دولتي جنوب إفريقيا وبتسوانا
فمن المتوقع أن تكون أول الدول انضمامًا لهذا الاتحاد

أ / مصطفى عبدالعظيم
ت / 01097158554

- ① ليسوتو.
② ناميبيا.
③ موزمبيق.
④ زيمبابوي.

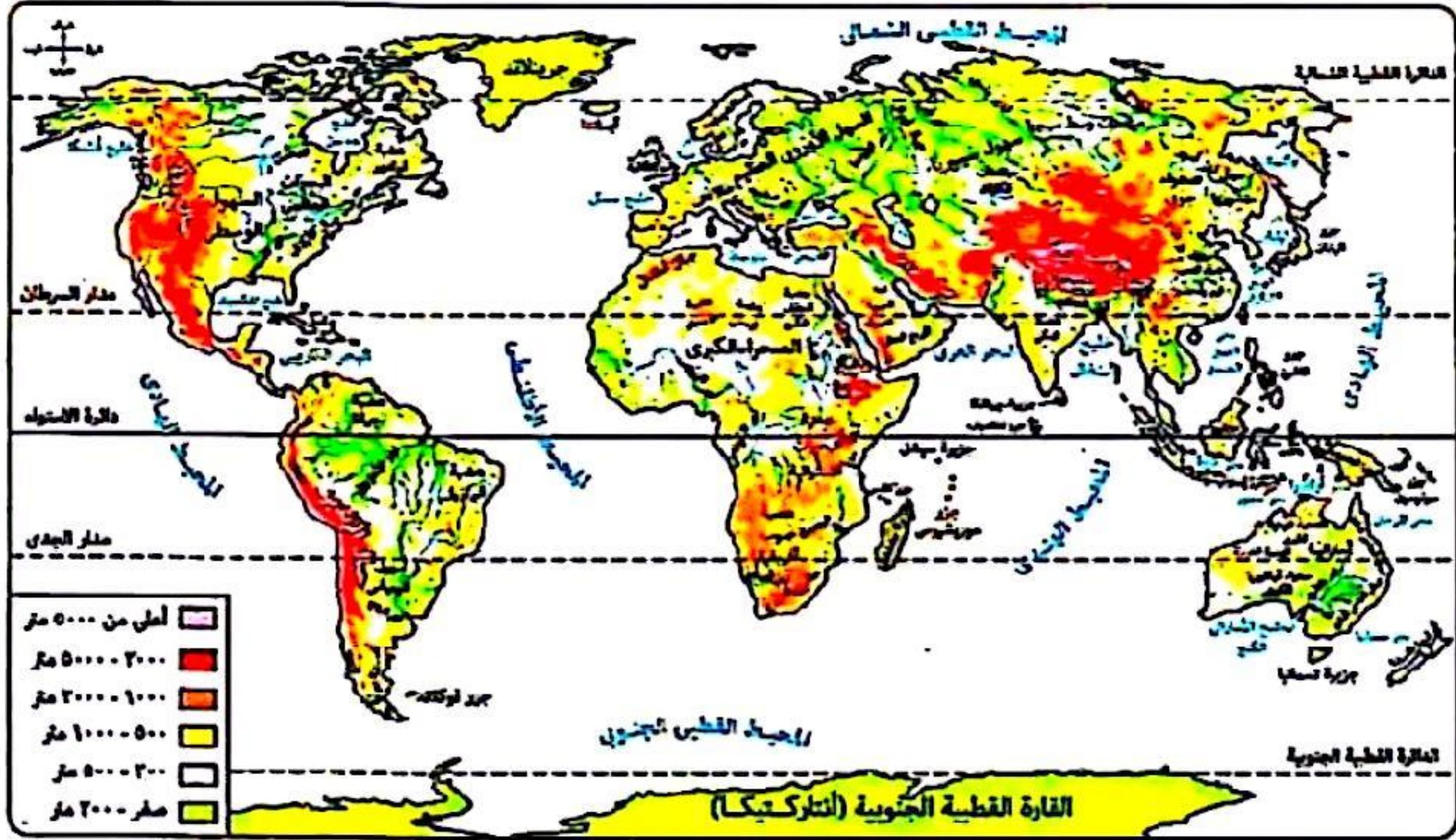
(دور أول ٢٠٢٣)



امتحان شهادة الثانوية العامة

١ الأسئلة الموضوعية (الاختيار من متعدد) «كل سؤال درجة واحدة» :

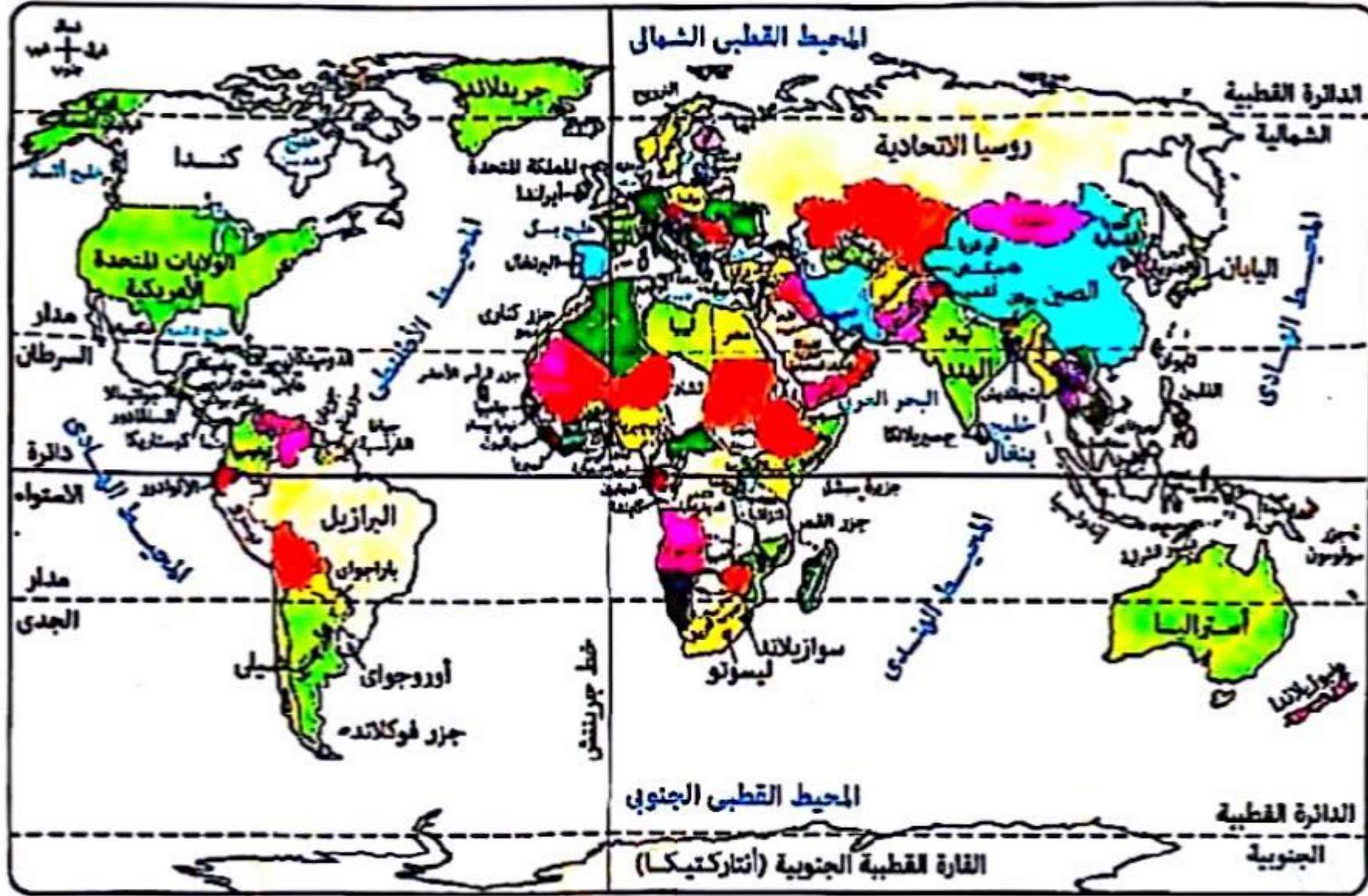
٢ ادرس الخريطة جيداً ثم استنتج : «تُساعد السهول على تحقيق الامتزاج الثقافي بين السكان» .
السهول التي تخرج عن ذلك



- ٣
- ٤
- ٥
- ٦
- ٧
- ٨
- ٩
- ١٠
- ١١
- ١٢
- ١٣
- ١٤
- ١٥
- ١٦
- ١٧
- ١٨
- ١٩
- ٢٠
- ٢١
- ٢٢
- ٢٣
- ٢٤
- ٢٥
- ٢٦
- ٢٧
- ٢٨
- ٢٩
- ٣٠
- ٣١
- ٣٢
- ٣٣
- ٣٤
- ٣٥
- ٣٦
- ٣٧
- ٣٨
- ٣٩
- ٤٠
- ٤١
- ٤٢
- ٤٣
- ٤٤
- ٤٥
- ٤٦
- ٤٧
- ٤٨
- ٤٩
- ٥٠
- ٥١
- ٥٢
- ٥٣
- ٥٤
- ٥٥
- ٥٦
- ٥٧
- ٥٨
- ٥٩
- ٦٠
- ٦١
- ٦٢
- ٦٣
- ٦٤
- ٦٥
- ٦٦
- ٦٧
- ٦٨
- ٦٩
- ٧٠
- ٧١
- ٧٢
- ٧٣
- ٧٤
- ٧٥
- ٧٦
- ٧٧
- ٧٨
- ٧٩
- ٨٠
- ٨١
- ٨٢
- ٨٣
- ٨٤
- ٨٥
- ٨٦
- ٨٧
- ٨٨
- ٨٩
- ٩٠
- ٩١
- ٩٢
- ٩٣
- ٩٤
- ٩٥
- ٩٦
- ٩٧
- ٩٨
- ٩٩
- ١٠٠
- ١٠١
- ١٠٢
- ١٠٣
- ١٠٤
- ١٠٥
- ١٠٦
- ١٠٧
- ١٠٨
- ١٠٩
- ١١٠
- ١١١
- ١١٢
- ١١٣
- ١١٤
- ١١٥
- ١١٦
- ١١٧
- ١١٨
- ١١٩
- ١٢٠
- ١٢١
- ١٢٢
- ١٢٣
- ١٢٤
- ١٢٥
- ١٢٦
- ١٢٧
- ١٢٨
- ١٢٩
- ١٣٠
- ١٣١
- ١٣٢
- ١٣٣
- ١٣٤
- ١٣٥
- ١٣٦
- ١٣٧
- ١٣٨
- ١٣٩
- ١٤٠
- ١٤١
- ١٤٢
- ١٤٣
- ١٤٤
- ١٤٥
- ١٤٦
- ١٤٧
- ١٤٨
- ١٤٩
- ١٥٠
- ١٥١
- ١٥٢
- ١٥٣
- ١٥٤
- ١٥٥
- ١٥٦
- ١٥٧
- ١٥٨
- ١٥٩
- ١٦٠
- ١٦١
- ١٦٢
- ١٦٣
- ١٦٤
- ١٦٥
- ١٦٦
- ١٦٧
- ١٦٨
- ١٦٩
- ١٧٠
- ١٧١
- ١٧٢
- ١٧٣
- ١٧٤
- ١٧٥
- ١٧٦
- ١٧٧
- ١٧٨
- ١٧٩
- ١٨٠
- ١٨١
- ١٨٢
- ١٨٣
- ١٨٤
- ١٨٥
- ١٨٦
- ١٨٧
- ١٨٨
- ١٨٩
- ١٩٠
- ١٩١
- ١٩٢
- ١٩٣
- ١٩٤
- ١٩٥
- ١٩٦
- ١٩٧
- ١٩٨
- ١٩٩
- ٢٠٠
- ٢٠١
- ٢٠٢
- ٢٠٣
- ٢٠٤
- ٢٠٥
- ٢٠٦
- ٢٠٧
- ٢٠٨
- ٢٠٩
- ٢١٠
- ٢١١
- ٢١٢
- ٢١٣
- ٢١٤
- ٢١٥
- ٢١٦
- ٢١٧
- ٢١٨
- ٢١٩
- ٢٢٠
- ٢٢١
- ٢٢٢
- ٢٢٣
- ٢٢٤
- ٢٢٥
- ٢٢٦
- ٢٢٧
- ٢٢٨
- ٢٢٩
- ٢٣٠
- ٢٣١
- ٢٣٢
- ٢٣٣
- ٢٣٤
- ٢٣٥
- ٢٣٦
- ٢٣٧
- ٢٣٨
- ٢٣٩
- ٢٤٠
- ٢٤١
- ٢٤٢
- ٢٤٣
- ٢٤٤
- ٢٤٥
- ٢٤٦
- ٢٤٧
- ٢٤٨
- ٢٤٩
- ٢٥٠
- ٢٥١
- ٢٥٢
- ٢٥٣
- ٢٥٤
- ٢٥٥
- ٢٥٦
- ٢٥٧
- ٢٥٨
- ٢٥٩
- ٢٦٠
- ٢٦١
- ٢٦٢
- ٢٦٣
- ٢٦٤
- ٢٦٥
- ٢٦٦
- ٢٦٧
- ٢٦٨
- ٢٦٩
- ٢٧٠
- ٢٧١
- ٢٧٢
- ٢٧٣
- ٢٧٤
- ٢٧٥
- ٢٧٦
- ٢٧٧
- ٢٧٨
- ٢٧٩
- ٢٨٠
- ٢٨١
- ٢٨٢
- ٢٨٣
- ٢٨٤
- ٢٨٥
- ٢٨٦
- ٢٨٧
- ٢٨٨
- ٢٨٩
- ٢٩٠
- ٢٩١
- ٢٩٢
- ٢٩٣
- ٢٩٤
- ٢٩٥
- ٢٩٦
- ٢٩٧
- ٢٩٨
- ٢٩٩
- ٣٠٠
- ٣٠١
- ٣٠٢
- ٣٠٣
- ٣٠٤
- ٣٠٥
- ٣٠٦
- ٣٠٧
- ٣٠٨
- ٣٠٩
- ٣١٠
- ٣١١
- ٣١٢
- ٣١٣
- ٣١٤
- ٣١٥
- ٣١٦
- ٣١٧
- ٣١٨
- ٣١٩
- ٣٢٠
- ٣٢١
- ٣٢٢
- ٣٢٣
- ٣٢٤
- ٣٢٥
- ٣٢٦
- ٣٢٧
- ٣٢٨
- ٣٢٩
- ٣٣٠
- ٣٣١
- ٣٣٢
- ٣٣٣
- ٣٣٤
- ٣٣٥
- ٣٣٦
- ٣٣٧
- ٣٣٨
- ٣٣٩
- ٣٤٠
- ٣٤١
- ٣٤٢
- ٣٤٣
- ٣٤٤
- ٣٤٥
- ٣٤٦
- ٣٤٧
- ٣٤٨
- ٣٤٩
- ٣٥٠
- ٣٥١
- ٣٥٢
- ٣٥٣
- ٣٥٤
- ٣٥٥
- ٣٥٦
- ٣٥٧
- ٣٥٨
- ٣٥٩
- ٣٦٠
- ٣٦١
- ٣٦٢
- ٣٦٣
- ٣٦٤
- ٣٦٥
- ٣٦٦
- ٣٦٧
- ٣٦٨
- ٣٦٩
- ٣٧٠
- ٣٧١
- ٣٧٢
- ٣٧٣
- ٣٧٤
- ٣٧٥
- ٣٧٦
- ٣٧٧
- ٣٧٨
- ٣٧٩
- ٣٨٠
- ٣٨١
- ٣٨٢
- ٣٨٣
- ٣٨٤
- ٣٨٥
- ٣٨٦
- ٣٨٧
- ٣٨٨
- ٣٨٩
- ٣٩٠
- ٣٩١
- ٣٩٢
- ٣٩٣
- ٣٩٤
- ٣٩٥
- ٣٩٦
- ٣٩٧
- ٣٩٨
- ٣٩٩
- ٤٠٠
- ٤٠١
- ٤٠٢
- ٤٠٣
- ٤٠٤
- ٤٠٥
- ٤٠٦
- ٤٠٧
- ٤٠٨
- ٤٠٩
- ٤١٠
- ٤١١
- ٤١٢
- ٤١٣
- ٤١٤
- ٤١٥
- ٤١٦
- ٤١٧
- ٤١٨
- ٤١٩
- ٤٢٠
- ٤٢١
- ٤٢٢
- ٤٢٣
- ٤٢٤
- ٤٢٥
- ٤٢٦
- ٤٢٧
- ٤٢٨
- ٤٢٩
- ٤٣٠
- ٤٣١
- ٤٣٢
- ٤٣٣
- ٤٣٤
- ٤٣٥
- ٤٣٦
- ٤٣٧
- ٤٣٨
- ٤٣٩
- ٤٤٠
- ٤٤١
- ٤٤٢
- ٤٤٣
- ٤٤٤
- ٤٤٥
- ٤٤٦
- ٤٤٧
- ٤٤٨
- ٤٤٩
- ٤٥٠
- ٤٥١
- ٤٥٢
- ٤٥٣
- ٤٥٤
- ٤٥٥
- ٤٥٦
- ٤٥٧
- ٤٥٨
- ٤٥٩
- ٤٦٠
- ٤٦١
- ٤٦٢
- ٤٦٣
- ٤٦٤
- ٤٦٥
- ٤٦٦
- ٤٦٧
- ٤٦٨
- ٤٦٩
- ٤٧٠
- ٤٧١
- ٤٧٢
- ٤٧٣
- ٤٧٤
- ٤٧٥
- ٤٧٦
- ٤٧٧
- ٤٧٨
- ٤٧٩
- ٤٨٠
- ٤٨١
- ٤٨٢
- ٤٨٣
- ٤٨٤
- ٤٨٥
- ٤٨٦
- ٤٨٧
- ٤٨٨
- ٤٨٩
- ٤٩٠
- ٤٩١
- ٤٩٢
- ٤٩٣
- ٤٩٤
- ٤٩٥
- ٤٩٦
- ٤٩٧
- ٤٩٨
- ٤٩٩
- ٥٠٠
- ٥٠١
- ٥٠٢
- ٥٠٣
- ٥٠٤
- ٥٠٥
- ٥٠٦
- ٥٠٧
- ٥٠٨
- ٥٠٩
- ٥١٠
- ٥١١
- ٥١٢
- ٥١٣
- ٥١٤
- ٥١٥
- ٥١٦
- ٥١٧
- ٥١٨
- ٥١٩
- ٥٢٠
- ٥٢١
- ٥٢٢
- ٥٢٣
- ٥٢٤
- ٥٢٥
- ٥٢٦
- ٥٢٧
- ٥٢٨
- ٥٢٩
- ٥٣٠
- ٥٣١
- ٥٣٢
- ٥٣٣
- ٥٣٤
- ٥٣٥
- ٥٣٦
- ٥٣٧
- ٥٣٨
- ٥٣٩
- ٥٤٠
- ٥٤١
- ٥٤٢
- ٥٤٣
- ٥٤٤
- ٥٤٥
- ٥٤٦
- ٥٤٧
- ٥٤٨
- ٥٤٩
- ٥٥٠
- ٥٥١
- ٥٥٢
- ٥٥٣
- ٥٥٤
- ٥٥٥
- ٥٥٦
- ٥٥٧
- ٥٥٨
- ٥٥٩
- ٥٦٠
- ٥٦١
- ٥٦٢
- ٥٦٣
- ٥٦٤
- ٥٦٥
- ٥٦٦
- ٥٦٧
- ٥٦٨
- ٥٦٩
- ٥٧٠
- ٥٧١
- ٥٧٢
- ٥٧٣
- ٥٧٤
- ٥٧٥
- ٥٧٦
- ٥٧٧
- ٥٧٨
- ٥٧٩
- ٥٨٠
- ٥٨١
- ٥٨٢
- ٥٨٣
- ٥٨٤
- ٥٨٥
- ٥٨٦
- ٥٨٧
- ٥٨٨
- ٥٨٩
- ٥٩٠
- ٥٩١
- ٥٩٢
- ٥٩٣
- ٥٩٤
- ٥٩٥
- ٥٩٦
- ٥٩٧
- ٥٩٨
- ٥٩٩
- ٦٠٠
- ٦٠١
- ٦٠٢
- ٦٠٣
- ٦٠٤
- ٦٠٥
- ٦٠٦
- ٦٠٧
- ٦٠٨
- ٦٠٩
- ٦١٠
- ٦١١
- ٦١٢
- ٦١٣
- ٦١٤
- ٦١٥
- ٦١٦
- ٦١٧
- ٦١٨
- ٦١٩
- ٦٢٠
- ٦٢١
- ٦٢٢
- ٦٢٣
- ٦٢٤
- ٦٢٥
- ٦٢٦
- ٦٢٧
- ٦٢٨
- ٦٢٩
- ٦٣٠
- ٦٣١
- ٦٣٢
- ٦٣٣
- ٦٣٤
- ٦٣٥
- ٦٣٦
- ٦٣٧
- ٦٣٨
- ٦٣٩
- ٦٤٠
- ٦٤١
- ٦٤٢
- ٦٤٣
- ٦٤٤
- ٦٤٥
- ٦٤٦
- ٦٤٧
- ٦٤٨
- ٦٤٩
- ٦٥٠
- ٦٥١
- ٦٥٢
- ٦٥٣
- ٦٥٤
- ٦٥٥
- ٦٥٦
- ٦٥٧
- ٦٥٨
- ٦٥٩
- ٦٦٠
- ٦٦١
- ٦٦٢
- ٦٦٣
- ٦٦٤
- ٦٦٥
- ٦٦٦
- ٦٦٧
- ٦٦٨
- ٦٦٩
- ٦٧٠
- ٦٧١
- ٦٧٢
- ٦٧٣
- ٦٧٤
- ٦٧٥
- ٦٧٦
- ٦٧٧
- ٦٧٨
- ٦٧٩
- ٦٨٠
- ٦٨١
- ٦٨٢
- ٦٨٣
- ٦٨٤
- ٦٨٥
- ٦٨٦
- ٦٨٧
- ٦٨٨
- ٦٨٩
- ٦٩٠
- ٦٩١
- ٦٩٢
- ٦٩٣
- ٦٩٤
- ٦٩٥
- ٦٩٦
- ٦٩٧
- ٦٩٨
- ٦٩٩
- ٧٠٠
- ٧٠١
- ٧٠٢
- ٧٠٣
- ٧٠٤
- ٧٠٥
- ٧٠٦
- ٧٠٧
- ٧٠٨
- ٧٠٩
- ٧١٠
- ٧١١
- ٧١٢
- ٧١٣
- ٧١٤
- ٧١٥
- ٧١٦
- ٧١٧
- ٧١٨
- ٧١٩
- ٧٢٠
- ٧٢١
- ٧٢٢
- ٧٢٣
- ٧٢٤
- ٧٢٥
- ٧٢٦
- ٧٢٧
- ٧٢٨
- ٧٢٩
- ٧٣٠
- ٧٣١
- ٧٣٢
- ٧٣٣
- ٧٣٤
- ٧٣٥
- ٧٣٦
- ٧٣٧
- ٧٣٨
- ٧٣٩
- ٧٤٠
- ٧٤١
- ٧٤٢
- ٧٤٣
- ٧٤٤
- ٧٤٥
- ٧٤٦
- ٧٤٧
- ٧٤٨
- ٧٤٩
- ٧٥٠
- ٧٥١
- ٧٥٢
- ٧٥٣
- ٧٥٤
- ٧٥٥
- ٧٥٦
- ٧٥٧
- ٧٥٨
- ٧٥٩
- ٧٦٠
- ٧٦١
- ٧٦٢
- ٧٦٣
- ٧٦٤
- ٧٦٥
- ٧٦٦
- ٧٦٧
- ٧٦٨
- ٧٦٩
- ٧٧٠
- ٧٧١
- ٧٧٢
- ٧٧٣
- ٧٧٤
- ٧٧٥
- ٧٧٦
- ٧٧٧
- ٧٧٨
- ٧٧٩
- ٧٨٠
- ٧٨١
- ٧٨٢
- ٧٨٣
- ٧٨٤
- ٧٨٥
- ٧٨٦
- ٧٨٧
- ٧٨٨
- ٧٨٩
- ٧٩٠
- ٧٩١
- ٧٩٢
- ٧٩٣
- ٧٩٤
- ٧٩٥
- ٧٩٦
- ٧٩٧
- ٧٩٨
- ٧٩٩
- ٨٠٠
- ٨٠١
- ٨٠٢
- ٨٠٣
- ٨٠٤
- ٨٠٥
- ٨٠٦
- ٨٠٧
- ٨٠٨
- ٨٠٩
- ٨١٠
- ٨١١
- ٨١٢
- ٨١٣
- ٨١٤
- ٨١٥
- ٨١٦
- ٨١٧
- ٨١٨
- ٨١٩
- ٨٢٠
- ٨٢١
- ٨٢٢
- ٨٢٣
- ٨٢٤
- ٨٢٥
- ٨٢٦
- ٨٢٧
- ٨٢٨
- ٨٢٩
- ٨٣٠
- ٨٣١
- ٨٣٢
- ٨٣٣
- ٨٣٤
- ٨٣٥
- ٨٣٦
- ٨٣٧
- ٨٣٨
- ٨٣٩
- ٨٤٠
- ٨٤١
- ٨٤٢
- ٨٤٣
- ٨٤٤
- ٨٤٥
- ٨٤٦
- ٨٤٧
- ٨٤٨
- ٨٤٩
- ٨٥٠
- ٨٥١
- ٨٥٢
- ٨٥٣
- ٨٥٤
- ٨٥٥
- ٨٥٦
- ٨٥٧
- ٨٥٨
- ٨٥٩
- ٨٦٠
- ٨٦١
- ٨٦٢
- ٨٦٣
- ٨٦٤
- ٨٦٥
- ٨٦٦
- ٨٦٧
- ٨٦٨
- ٨٦٩
- ٨٧٠
- ٨٧١
- ٨٧٢
- ٨٧٣
- ٨٧٤
- ٨٧٥
- ٨٧٦
- ٨٧٧
- ٨٧٨
- ٨٧٩
- ٨٨٠
- ٨٨١
- ٨٨٢
- ٨٨٣
- ٨٨٤
- ٨٨٥
- ٨٨٦
- ٨٨٧
- ٨٨٨
- ٨٨٩
- ٨٩٠
- ٨٩١
- ٨٩٢
- ٨٩٣
- ٨٩٤
- ٨٩٥
- ٨٩٦
- ٨٩٧
- ٨٩٨
- ٨٩٩
- ٩٠٠
- ٩٠١
- ٩٠٢
- ٩٠٣
- ٩٠٤
- ٩٠٥
- ٩٠٦
- ٩٠٧
- ٩٠٨
- ٩٠٩
- ٩١٠
- ٩١١
- ٩١٢
- ٩١٣
- ٩١٤
- ٩١٥
- ٩١٦
- ٩١٧
- ٩١٨
- ٩١٩
- ٩٢٠
- ٩٢١
- ٩٢٢
- ٩٢٣
- ٩٢٤
- ٩٢٥
- ٩٢٦
- ٩٢٧
- ٩٢٨
- ٩٢٩
- ٩٣٠
- ٩٣١
- ٩٣٢
- ٩٣٣
- ٩٣٤
- ٩٣٥
- ٩٣٦
- ٩٣٧
- ٩٣٨
- ٩٣٩
- ٩٤٠
- ٩٤١
- ٩٤٢
- ٩٤٣
- ٩٤٤
- ٩٤٥
- ٩٤٦
- ٩٤٧
- ٩٤٨
- ٩٤٩
- ٩٥٠
- ٩٥١
- ٩٥٢
- ٩٥٣
- ٩٥٤
- ٩٥٥
- ٩٥٦
- ٩٥٧
- ٩٥٨
- ٩٥٩
- ٩٦٠
- ٩٦١
- ٩٦٢
- ٩٦٣
- ٩٦٤
- ٩٦٥
- ٩٦٦
- ٩٦٧
- ٩٦٨
- ٩٦٩
- ٩٧٠
- ٩٧١
- ٩٧٢
- ٩٧٣
- ٩٧٤
- ٩٧٥
- ٩٧٦
- ٩٧٧
- ٩٧٨
- ٩٧٩
- ٩٨٠
- ٩٨١
- ٩٨٢
- ٩٨٣
- ٩٨٤
- ٩٨٥
- ٩٨٦
- ٩٨٧
- ٩٨٨
- ٩٨٩
- ٩٩٠
- ٩٩١
- ٩٩٢
- ٩٩٣
- ٩٩٤
- ٩٩٥
- ٩٩٦
- ٩٩٧
- ٩٩٨
- ٩٩٩
- ١٠٠٠
- ١٠٠١
- ١٠٠٢
- ١٠٠٣
- ١٠٠٤
- ١٠٠٥
- ١٠٠٦
- ١٠٠٧
- ١٠٠٨
- ١٠٠٩
- ١٠١٠
- ١٠١١
- ١٠١٢
- ١٠١٣
- ١٠١٤
- ١٠١٥
- ١٠١٦
- ١٠١٧
- ١٠١٨
- ١٠١٩
- ١٠٢٠
- ١٠٢١
- ١٠٢٢
- ١٠٢٣
- ١٠٢٤
- ١٠٢٥
- ١٠٢٦
- ١٠٢٧
- ١٠٢٨
- ١٠٢٩
- ١٠٣٠
- ١٠٣١
- ١٠٣٢
- ١٠٣٣
- ١٠٣٤
- ١٠٣٥
- ١٠٣٦
- ١٠٣٧
- ١٠٣٨
- ١٠٣٩
- ١٠٤٠
- ١٠٤١
- ١٠٤٢
- ١٠٤٣
- ١٠٤٤
- ١٠٤٥
- ١٠٤٦
- ١٠٤٧
- ١٠٤٨
- ١٠٤٩
- ١٠٥٠
- ١٠٥١
- ١٠٥٢
- ١٠٥٣
- ١٠٥٤
- ١٠٥٥
- ١٠٥٦
- ١٠٥٧
- ١٠٥٨
- ١٠٥٩
- ١٠٦٠
- ١٠٦١
- ١٠٦٢
- ١٠٦٣
- ١٠٦٤
- ١٠٦٥
- ١٠٦٦
- ١٠٦٧
- ١٠٦٨
- ١٠٦٩
- ١٠٧٠
- ١٠٧١
- ١٠٧٢
- ١٠٧٣
- ١٠٧٤
- ١٠٧٥
- ١٠٧٦
- ١٠٧٧
- ١٠٧٨
- ١٠٧٩
- ١٠٨٠
- ١٠٨١
- ١٠٨٢
- ١٠٨٣
- ١٠٨٤
- ١٠٨٥
- ١٠٨٦
- ١٠٨٧
- ١٠٨٨
- ١٠٨٩</

دولة هولندا أقل منعة أثناء تعرضها للاحتلال، يرجع ذلك لوقوعها في
① سهول البمباس. ② السهول الوسطى. ③ السهل الأوروبي العظيم. ④ سهول سيبيريا.

«تتعدد مناطق قلب أونواة الدولة على خريطة العالم». في ضوء العبارة استنتج :
الدولة التي يجاورها أقل عدد من الدول تتمتع بوجود قلب ذات أهمية



① اقتصادية. ② سياسية. ③ دينية. ④ سكانية.

الحجم السكاني لبعض الدول يدفعها لعقد تحالفات سياسية وعسكرية مع الدول الكبرى، ويظهر ذلك في

① شرق أمريكا الجنوبية. ② شرق آسيا. ③ غرب أمريكا الشمالية. ④ جنوب غرب آسيا.

الموقع الجغرافي للأقلية وشكل الدولة لهما أثر على استقرار الدولة، ويظهر ذلك في دولة تنتمي لقارة
① آسيا. ② أمريكا الجنوبية. ③ إفريقيا. ④ أمريكا الشمالية.

دولة بحرية مُجزأة كانت سببًا في مشكلة حدودية سياسية في جنوب آسيا
① إسبانيا. ② بريطانيا. ③ إيطاليا. ④ اليابان.

«الاحتباس الحراري أصبح حاليًا مجال اهتمام قادة العالم المُتقدم والنامي على حد سواء»

هذه العبارة توضح إحدى خصائص النظام العالمي الجديد وهي

① ظهور التكتلات الاقتصادية الكبرى. ② تحرير التجارة العالمية. ③ تقلص دور السيادة الوطنية لدى بعض الدول. ④ تدويل المشاكل والقضايا التي يواجهها العالم.

- ١١ «قامت المملكة العربية السعودية باحتجاز قارب هجرة غير شرعية بمياهها في الخليج العربي» .
 في ضوء العبارة، استنتج : تتوقع أن يكون هذا القارب قادمًا من دولة
 أ) بنجلاديش. ب) كوريا الجنوبية. ج) سنغافورة. د) ماليزيا.

- ١٢ شاهد العالم في بث مباشر وقائع احتفالية مصر بنقل المومياوات من خلال
 أ) وسائل الاتصالات السلكية واللاسلكية. ب) الاستشعار من بُعد.
 ج) نظم المعلومات الجغرافية. د) نظام تحديد المواقع العالمي.

- ١٣ قوتان عظيمتان لعبتا دورًا فعالًا في الإسراع بإعلان النظام العالمي الجديد يتشابهان في
 أ) المظهر التضاريسي لكل منهما. ب) اشتراكهما في أحلاف عسكرية.
 ج) معدل الإنفاق على البحث العلمي. د) تأثرهما بالصدمات الخارجية.

- ١٤ «تقع (مصر) في الحوض الأدنى لنهر النيل، بينما تقع (نيجيريا) في الحوض الأدنى لنهر النيجر» .
 في ضوء العبارة استنتج : تتشابه كل من مصر ونيجيريا في
 أ) اتجاه النهر في كل منهما. ب) حاجة لتفعيل اتفاقيات الأنهار الدولية.
 ج) أن أنهارهما يمثلان حدودًا سياسية لهما. د) استغلال أنهارهما لتحقيق التواصل الحضاري.



- ١٥ ادرس الخريطة ثم استنتج :
 يُعتبر خليج كاليفورنيا بأمريكا الشمالية بمثابة
 أ) مياه داخلية للمكسيك.
 ب) مياه داخلية للولايات المتحدة الأمريكية.
 ج) مياه إقليمية للمكسيك.
 د) مياه إقليمية للولايات المتحدة الأمريكية.

أ / مصطفى عبدالعظيم
 ت / 01097158554

- ١٦ «تسعى الدول لتحقيق مصالحها مع الاحتفاظ بشخصيتها المستقلة» . في ضوء العبارة، استنتج :
 حال رغبة (إثيوبيا) تحقيق التواصل مع العالم الخارجي يجب عليها إقامة اتحاد :
 أ) كونفدرالي مع جنوب السودان.
 ب) كونفدرالي مع إثيوبيا.
 ج) فيدرالي مع جيبوتي.
 د) فيدرالي مع الصومال.



الدولة	خصائص الدولة من حيث الشكل والامتداد الفلكي
س	تمتد من الشرق للغرب بطول ٤٥٠ كم ومن الشمال للجنوب بطول ٤٠٠ كم
ع	تمتد في ٤ دوائر عرض و ١٥ خط طول
ن	نصف قطرها ٢٥٠ كم
م	تمتد من الشرق للغرب بطول ٢٠٠ كم ومن الشمال للجنوب ١٢٠٠ كم

١٧ ادرس الجدول ثم استنتج :

الدولة التي قد تعاني من صعوبة الاتصال بين أجزائها وتتميز بالتنوع

المناخى

- ① (ع)
② (س)
③ (م) ✓
④ (ن)

أ / مصطفى عبدالعظيم
ت / 01097158554

١٨ العبارة التي تشير إلى مفهوم الأمة

- ① قيام مجموعة بشرية بإجراء انتخابات تشريعية.
② تميز مجموعة بشرية بتراث شعبي شديد الخصوصية. ✓
③ اتخاذ قرار بعقد معاهدة سياسية.
④ اتخاذ قرار بالانضمام لحلف عسكري.

١٩ دولة تفتقر لمزايا الإنتاج الكبير

- ① المغرب. ✓
② اليمن. ✓
③ سلطنة عُمان.
④ تونس.

٢٠ جميع الأحلاف العسكرية ذات صبغة رأسمالية يخرج عنها حلف

- ① جنوب شرق آسيا. ✓
② المركزى.
③ الناتو.
④ وارسو. ✓

٢١ «تعدد العوامل التي أثرت على تغير الحدود في العالم». فى ضوء ما درستة، استنتج :

الحد الذى شهد تغيرات لعوامل طبيعية يقع فى

- ① جنوب غرب المكسيك.
② شمال شرق المكسيك. ✓
③ شمال شرق الولايات المتحدة الأمريكية.
④ شمال غرب الولايات المتحدة الأمريكية.

٢٢ «من خصائص الحدود أنها قابلة للنقل والحركة والاختفاء أحيانا». فى ضوء هذه العبارة، استنتج :

المنطقة التى شهدت تعديلاً للحدود فى العقد الأخير من القرن العشرين تشرف على

- ① بحر قزوين. ✓
② خليج هدسن.
③ الخليج العربى.
④ بحر المانش.



٢٣ أمامك خريطة لسلطنة (بروناي) ادرسها ثم استنتج :

تشابه (بروناي) من حيث الشكل مع دولة

- ① فرنسا.
② اليابان.
③ إيطاليا.
④ الولايات المتحدة الأمريكية. ✓

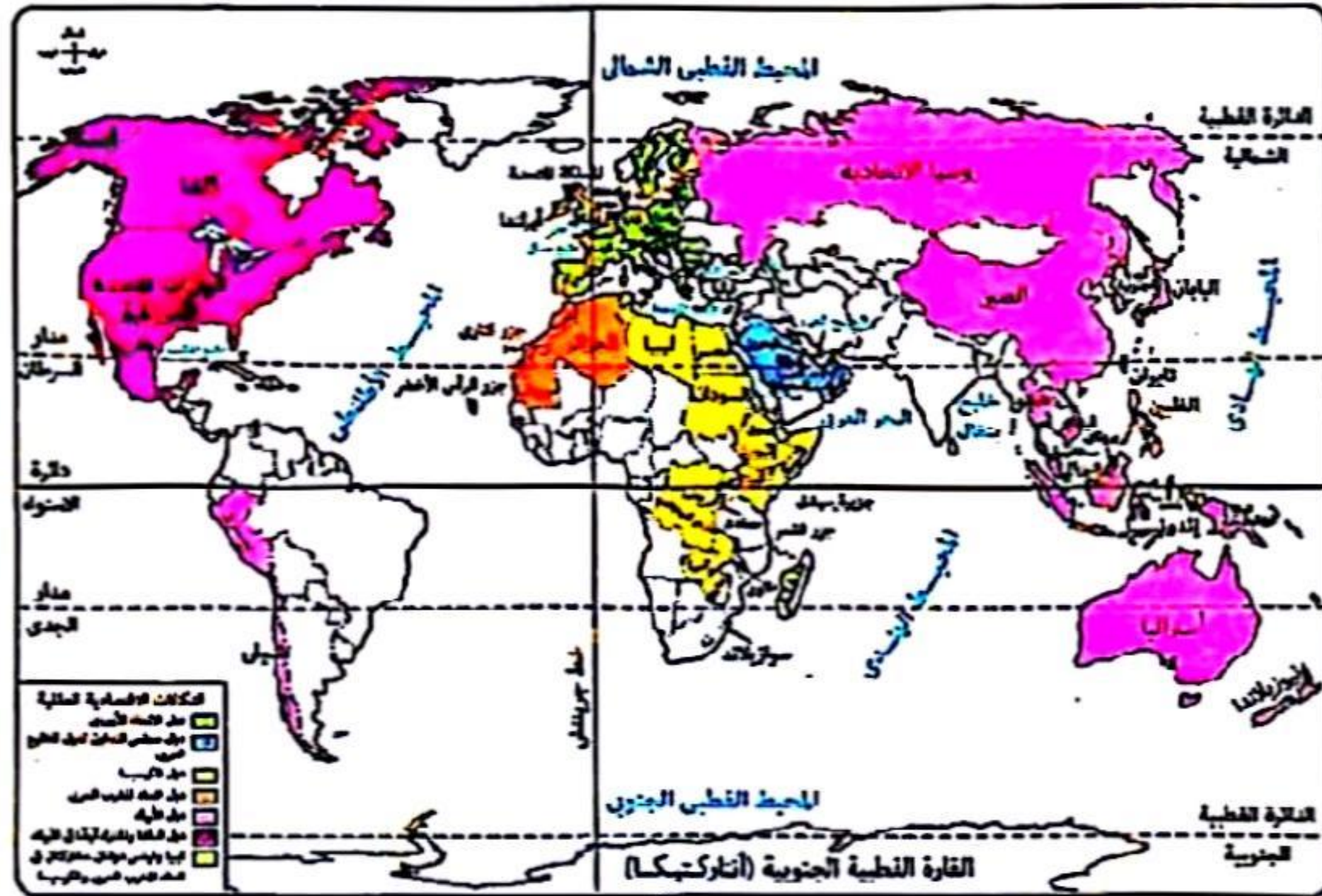
١٤ الحدود التي توجد على أبعاد متساوية من ظاهرة طبيعية هي
 ① النهرية. ② الجبلية. ③ الحضارية. ④ الهندسية. ✓

١٥ العملية الانتخابية لها جوانب جغرافية كثيرة تتناولها الجغرافيا السياسية يخرج عنها
 ① التركيب السكاني. ② الميزان التجاري. ③ الأنشطة الاقتصادية. ④ التعداد السكاني. ✓

١٦ رغم مميزات الجبال اقتصاديًا وعسكريًا للدول إلا أن لها أحيانًا أثرًا اجتماعيًا سلبيًا على بعض الدول مثل
 ① الولايات المتحدة الأمريكية. ② مصر. ③ السعودية. ④ إسبانيا. ✓

١٧ كان لانتهاؤ الحرب الباردة وامتلاك الغرب السلاح والتكنولوجيا أثر سلبي على منطقة
 ① غرب إفريقيا. ② شرق أوروبا. ③ شرق أستراليا. ④ غرب أمريكا الشمالية. ✓

١٨ ادرس الخريطة التالية جيدًا ثم استنتج :
 التكتل الاقتصادي الذي يستطيع زيادة عدد وحداته السياسية مع احتفاظه بالمقوم الجغرافي والإثنوغرافي



① الكوميسا. ② الأبيك. ③ مجلس التعاون لدول الخليج العربي. ④ الاتحاد الأوروبي. ✓

١٩ (مالي - موريتانيا - السعودية - اليمن) القاسم المشترك بين هذه الدول
 ① توقيع اتفاقيات لمشكلات حدودية. ② سهولة الاتصال بالعالم الخارجي. ③ الانضمام لتكتلات اقتصادية. ④ الإشراف على مواقع استراتيجية. ✓

٣٠ الدولة التي حافظت على قوتها وتماسكها رغم تعدد اللغات بها
① البرازيل. ② أستراليا. ③ سويسرا. ④ الأرجنتين.

٣١ دولة طبقت مبادئ الديمقراطية في التعامل مع الأقليات هي
① السودان. ② الجزائر. ③ تونس. ④ العراق.

٣٢ يظهر دور الجغرافيا السياسية التطبيقية لنشر السلام والأمن الدوليين من خلال
① تحديد عناصر قوة وضعف الوحدات السياسية. ② دراسة الوحدات السياسية جغرافياً.
③ اقتراح حلول مناسبة للمشكلات السياسية. ④ تحليل التجمعات الإقليمية تحليلاً جغرافياً.

الأسئلة الموضوعية (الاختيار من متعدد) «كل سؤال درجتان» :

٣٣ يظهر النظام السياسي في صورته المؤسسية من خلال
① الموافقة على الانضمام لتكتل اقتصادي. ② التوسع في مشروعات البنية الأساسية.
③ التوسع في بناء المدارس. ④ تطوير منظومة التأمين الصحي.

٣٤ يبدأ الرصيف القاري مع بداية المياه
① المحايدة. ② الداخلية. ③ الإقليمية. ④ التكميلية.

٣٥ تنتشر قوات (درع الجزيرة) على سواحل الخليج العربي والبحر الأحمر وتستفيد منها العديد من الدول يخرج عنها
① السعودية وعمان. ② الكويت وقطر. ③ العراق واليمن. ④ الإمارات والسعودية.

٣٦ «المساحة الكبيرة - الغابات - المرتفعات - الأنهار» جميعها تشترك في أنها
① تعزز وحدة السكان بالدولة. ② ظاهرات استاتيكية.
③ ظاهرات ديناميكية. ④ ذات أبعاد استراتيجية.

٣٧ كان لفضل معاهدة الصداقة والتعاون والمساعدة المتبادلة أثر في
① تناقص الأقليات اللغوية. ② زيادة الأقليات القومية.
③ زيادة الأقليات العرقية. ④ تناقص الأقليات الدينية.

٣٨ الدولة العربية التي تمتلك علاقات دولية قوية بحكم موقعها وقوتها الديموغرافية
① اليمن. ② مصر. ③ العراق. ④ السودان.

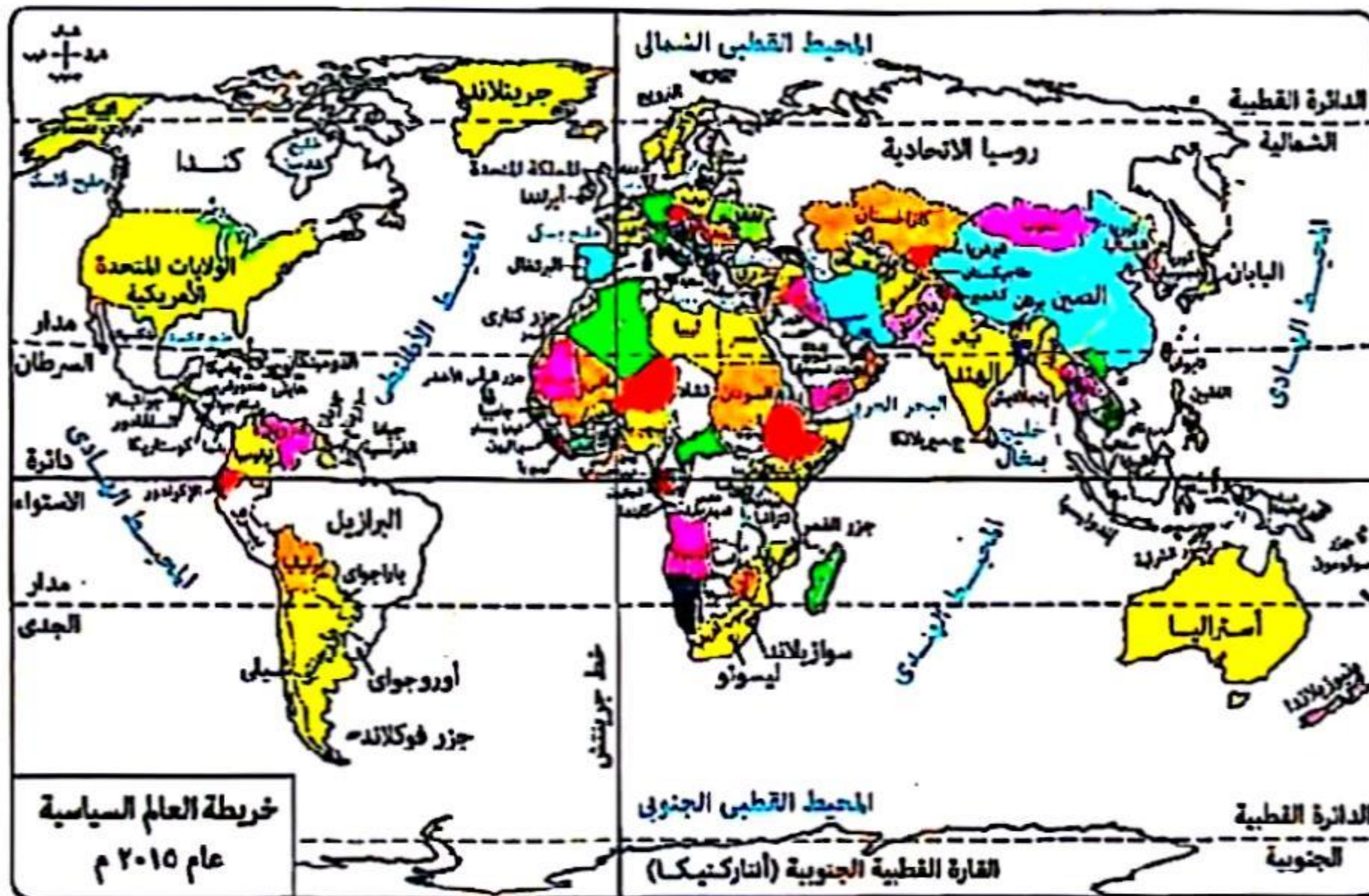
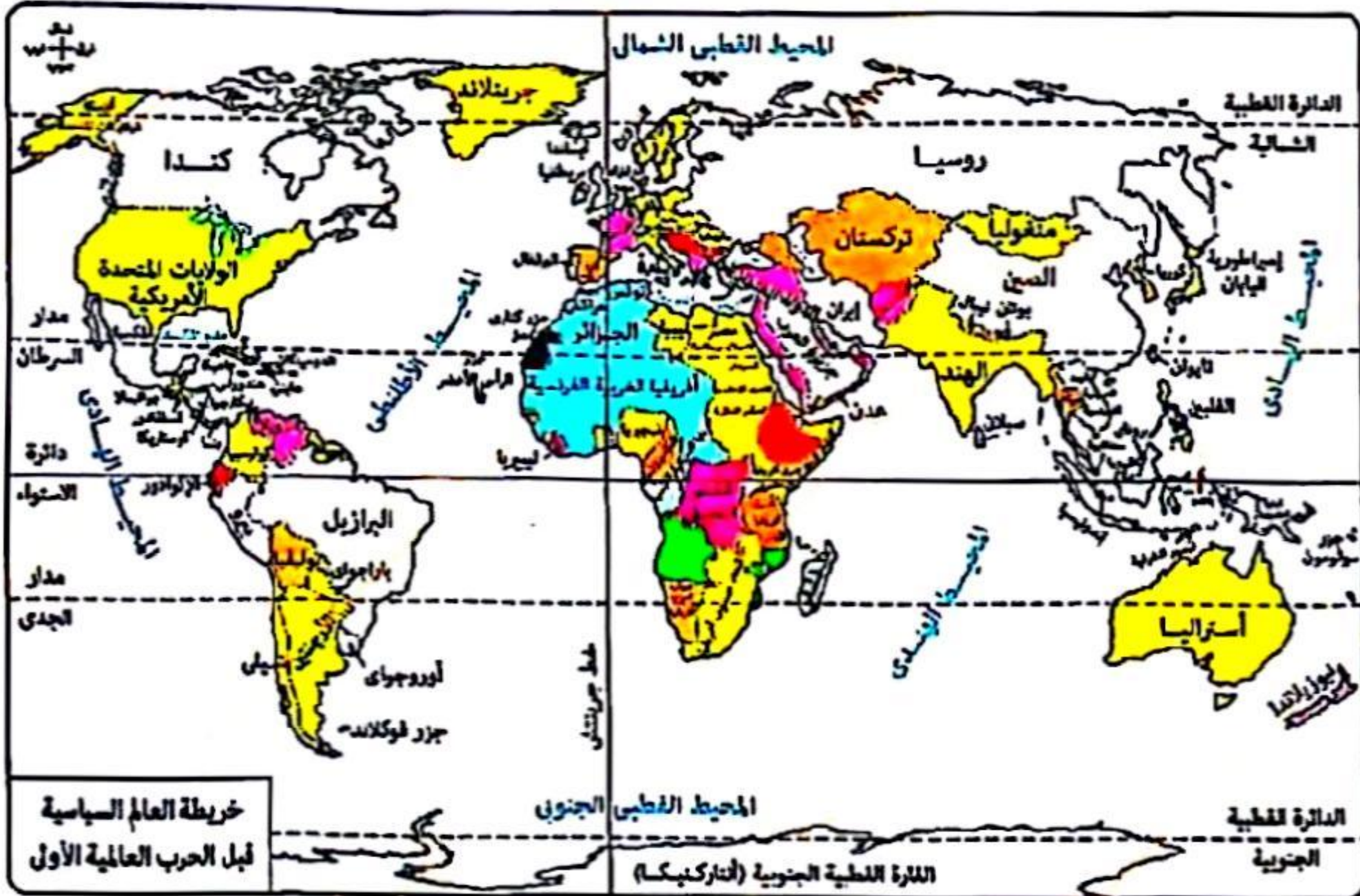
٣٩ «قام أحد الباحثين بدراسة المقومات الجغرافية لدولة (جيبوتي) وتوصل إلى أنها اكتسبت علاقات دولية تنبع من موقعها الاستراتيجي». في ضوء تلك العبارة، وضح : ساعد في إبراز أهمية هذه الدراسة علم
① السياسة. ② الجيوبولتيك. ③ الاقتصاد. ④ الجغرافيا السياسية.

أ / مصطفى عبدالعظيم

ت / 01097158554

ادرس الخريطين ثم استنتج :

الدول الأوروبية التي ساهمت في رسم الحدود السياسية بمعظم دول الوطن العربي



فرنسا وانجلترا.

بولندا وهولندا.

ألمانيا والبرتغال.

بلجيكا وإسبانيا.





٤١ ادرس الخريطة ثم استنتج :

قرار محكمة العدل الدولية بانحراف الحد البحري بين تونس وليبيا بزاوية (٥٢°) نتيجة تغيير اتجاه خط الساحل لدولة تونس نحو.....

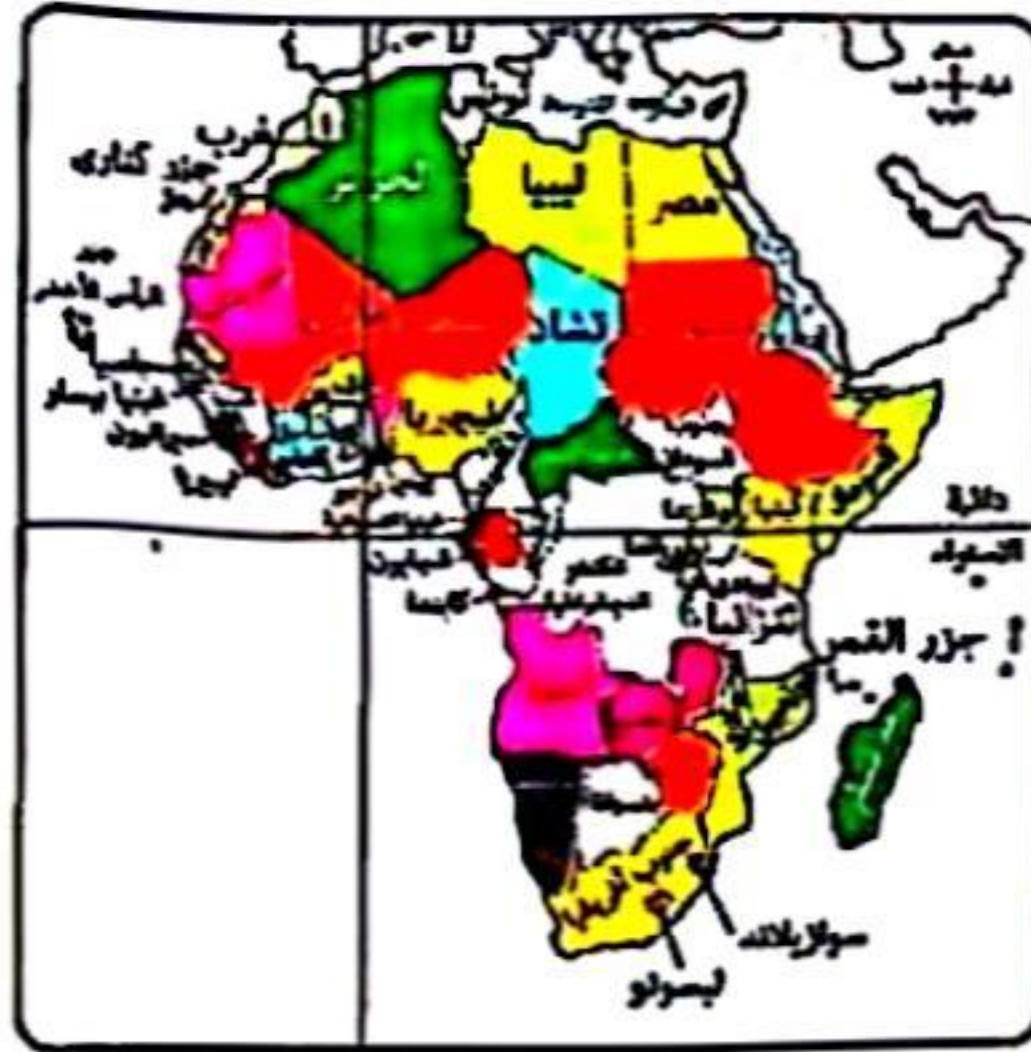
- أ) الشمال الشرقي. ✓
- ب) الشمال الغربي.
- ج) الجنوب الشرقي.
- د) الجنوب الغربي.

٤٢ تتميز (موريتانيا) عن العراق والأردن بالانضمام إلى.....

- أ) منظمة دولية.
- ب) حلف عسكري.
- ج) منظمة إقليمية. ✓
- د) كتل اقتصادي.

٤٣ ظهر أثر حركة السكان في نشأة الحدود السياسية.....

- أ) جنوب اليونان.
- ب) شمال رومانيا. ✓
- ج) غرب البرتغال.
- د) شرق المملكة المتحدة.



٤٤ ادرس الخريطة المقابلة ثم استنتج :

يصعب حدوث مشكلات حدودية بين

دولتي.....

- أ) تشاد ومالي. ✓
- ب) تنزانيا وكينيا.
- ج) تشاد وإفريقيا الوسطى.
- د) تنزانيا وموزمبيق.

أ / مصطفى عبدالعظيم

ت / 01097158554



امتحان شهادة الثانوية العامة

(دور ثان ٢٠٢٣)

أ / مصطفى عبدالعظيم

ت / 01097158554

الأسئلة الموضوعية (الاختيار من متعدد) «كل سؤال درجة واحدة» :

١ حال تشابه (إسبانيا) مع (هولندا) في مظهرها التضاريسي، فإن ذلك يؤدي إلى
① صعوبة السيطرة عليها.
② تعزيز الوحدة بين سكان الدولة.
③ تعزيز روح الانفصال لدى الأقليات.
④ صعوبة تنميتها واستثمار مواردها.

٢ «اكتسبت سنغافورة مكانة دولية بفضل موقعها الجغرافي». العبارة السابقة تؤكد صحة آراء
① ابن خلدون.
② راتزل.
③ سيجفريد.
④ أرسطو.

٣ مساحة بعض الدول تعطى لها بُعدًا استراتيجيًا وقت السلم والحرب، ويظهر ذلك في دولة
① تايلاند.
② بلجيكا.
③ هولندا.
④ الصين.

٤ المناطق التي كانت تفصل بين مجال نفوذ الدول الكبرى في العصور القديمة والوسطى تتميز بـ
① التركيز السكاني.
② العمق الجغرافي.
③ الأساس القانوني.
④ الديناميكية والتغيير.

٥ أحد المفاهيم التي تُعبّر عن الوجه الآخر للنظام العالمي الجديد
① العولة.
② الوحدات السياسية.
③ التحليل السياسي للقوة.
④ العلاقات الدولية.

٦ هناك عواصم تلخص حياة الدول عبر العصور، منها
① نيويورك - مدريد.
② لندن - طوكيو.
③ روما - أبوجا.
④ القاهرة - باريس.

٧ تظهر القوة الاقتصادية للأقليات في
① جنوب قارة إفريقيا.
② شمال قارة إفريقيا.
③ شرق قارة إفريقيا.
④ غرب قارة إفريقيا.

٨ ارتبط ظهور معظم الأقليات في العالم بنشأة
① المنظمات الإقليمية.
② النظام العالمي الجديد.
③ الوحدات السياسية.
④ المنظمات الدولية.

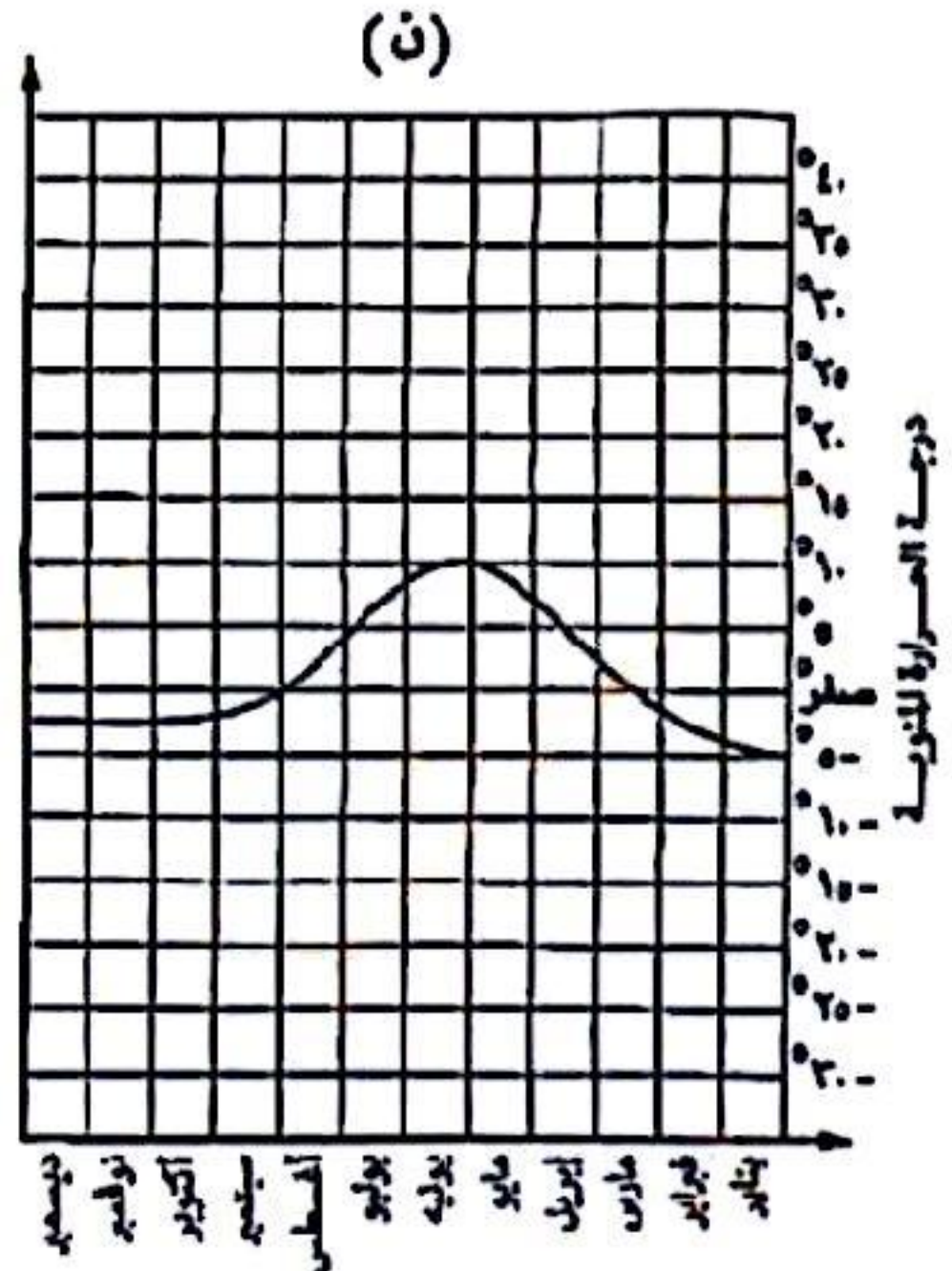
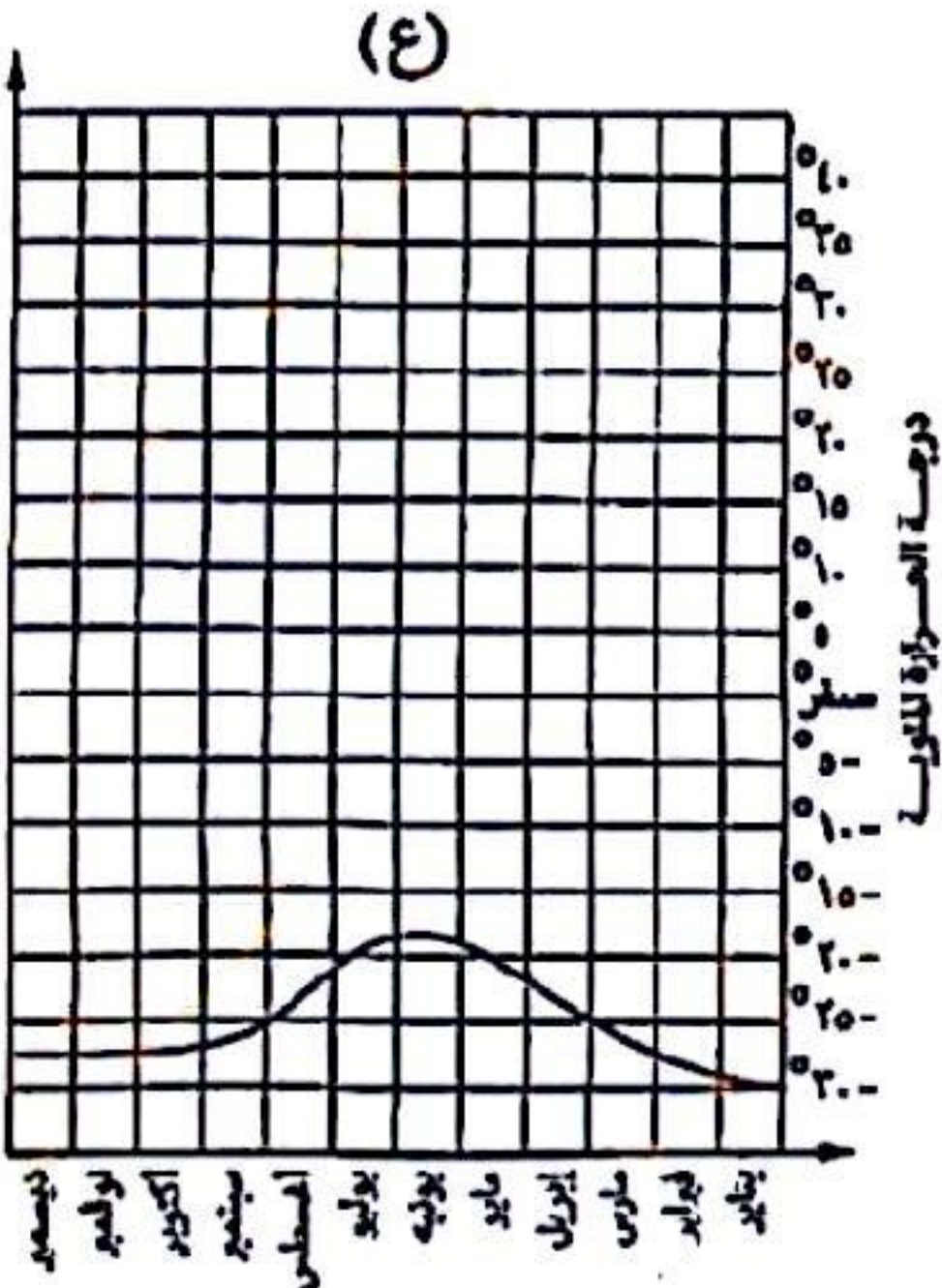
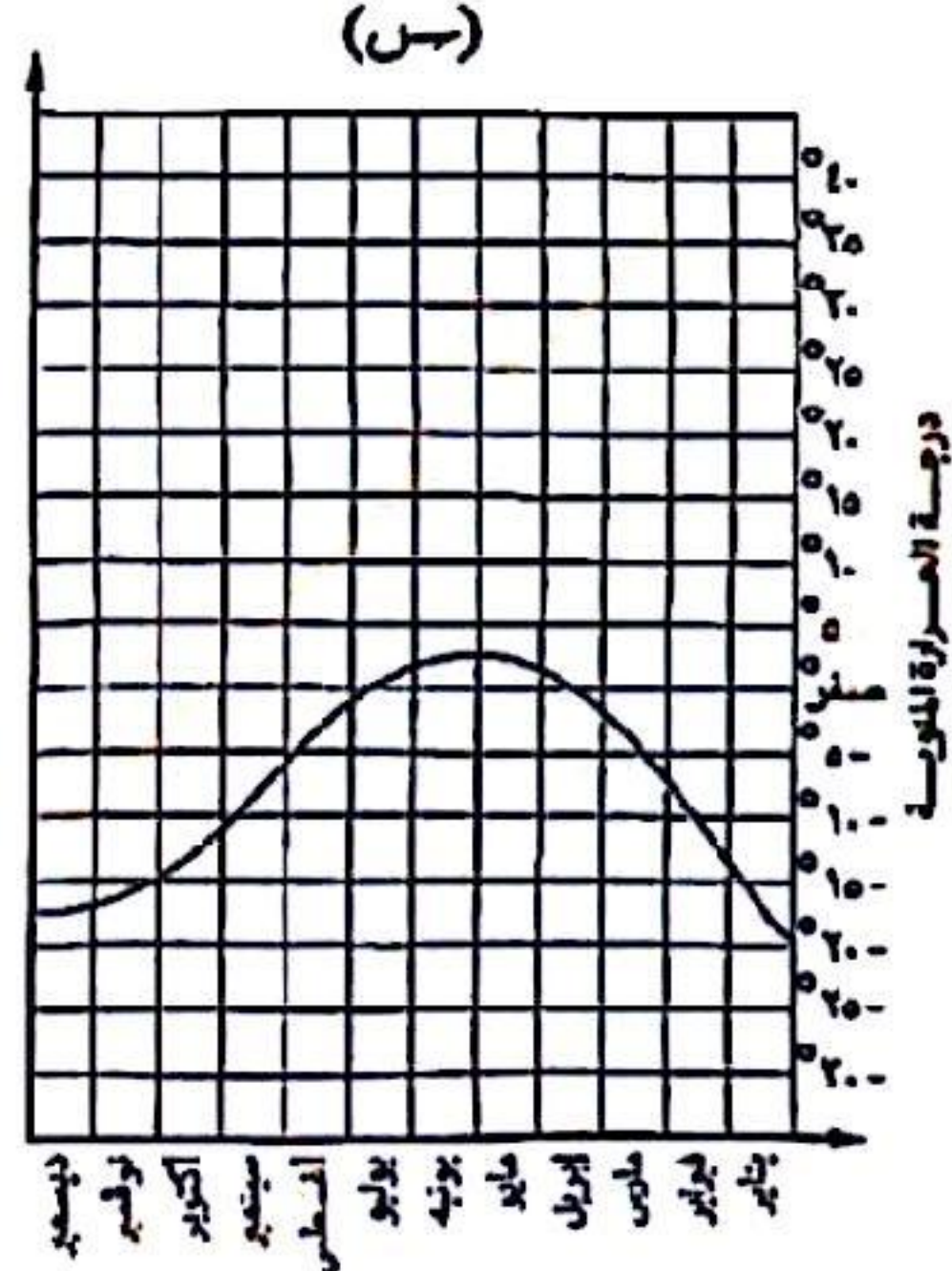
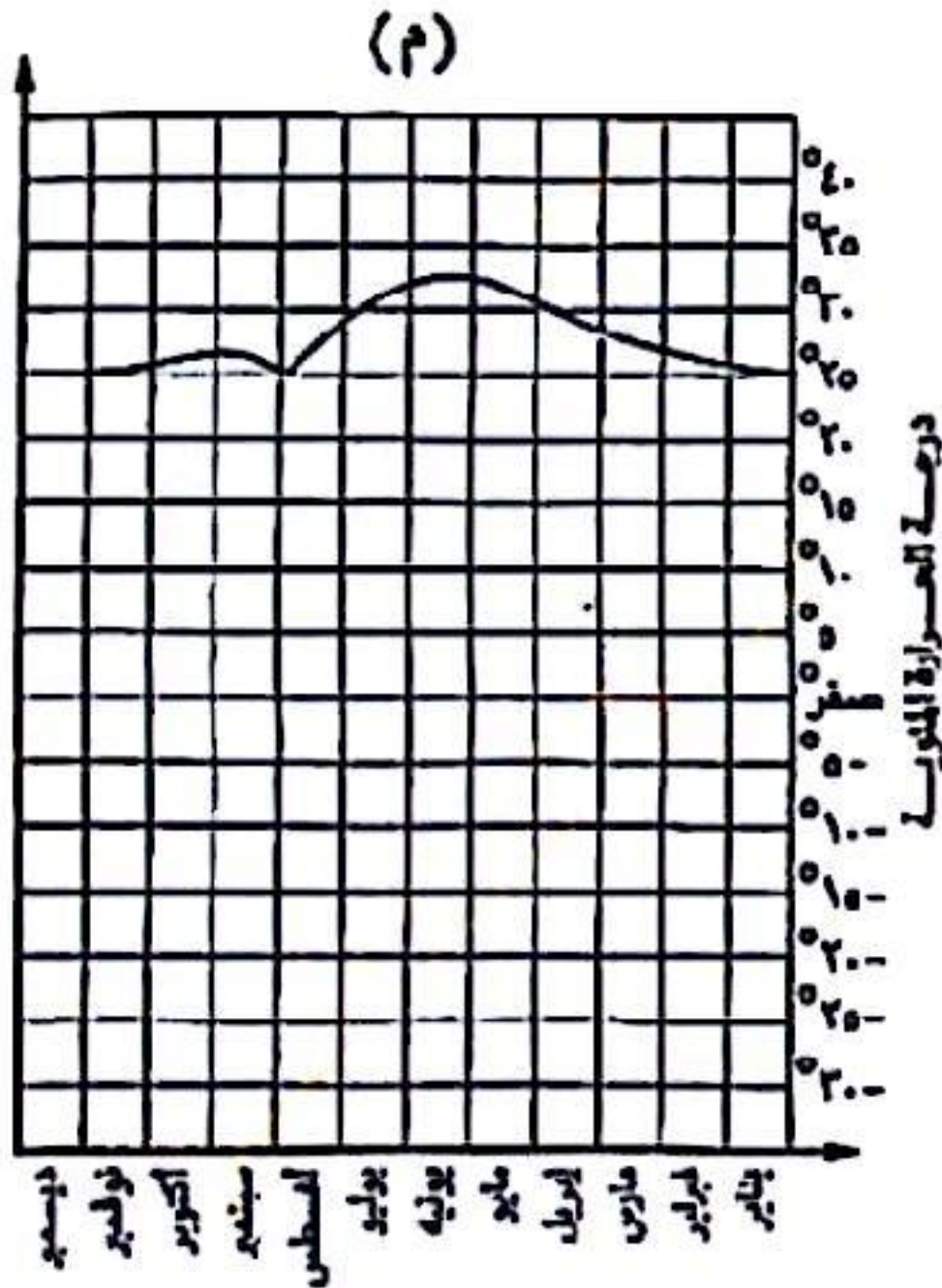
٩ كل الأنهار التالية تخضع لاتفاقيات الأنهار الدولية، ويخرج عنها
① الدانوب.
② السين.
③ النيل.
④ الراين.



أمامك رسم بياني لبعض المناطق موزع عليها متوسطات الحرارة على مدار السنة،

في ضوء ذلك استنتج :

أي المناطق التالية تتوقع أن تزداد بها فاعلية النشاط البشري للسكان



د (ع)

د (ن)

د (س)

د (م) ✓

الدولة الأقل تضرراً من الهجرات غير الشرعية بحكم موقعها الجغرافي هي

د فنلندا ✓

د إسبانيا

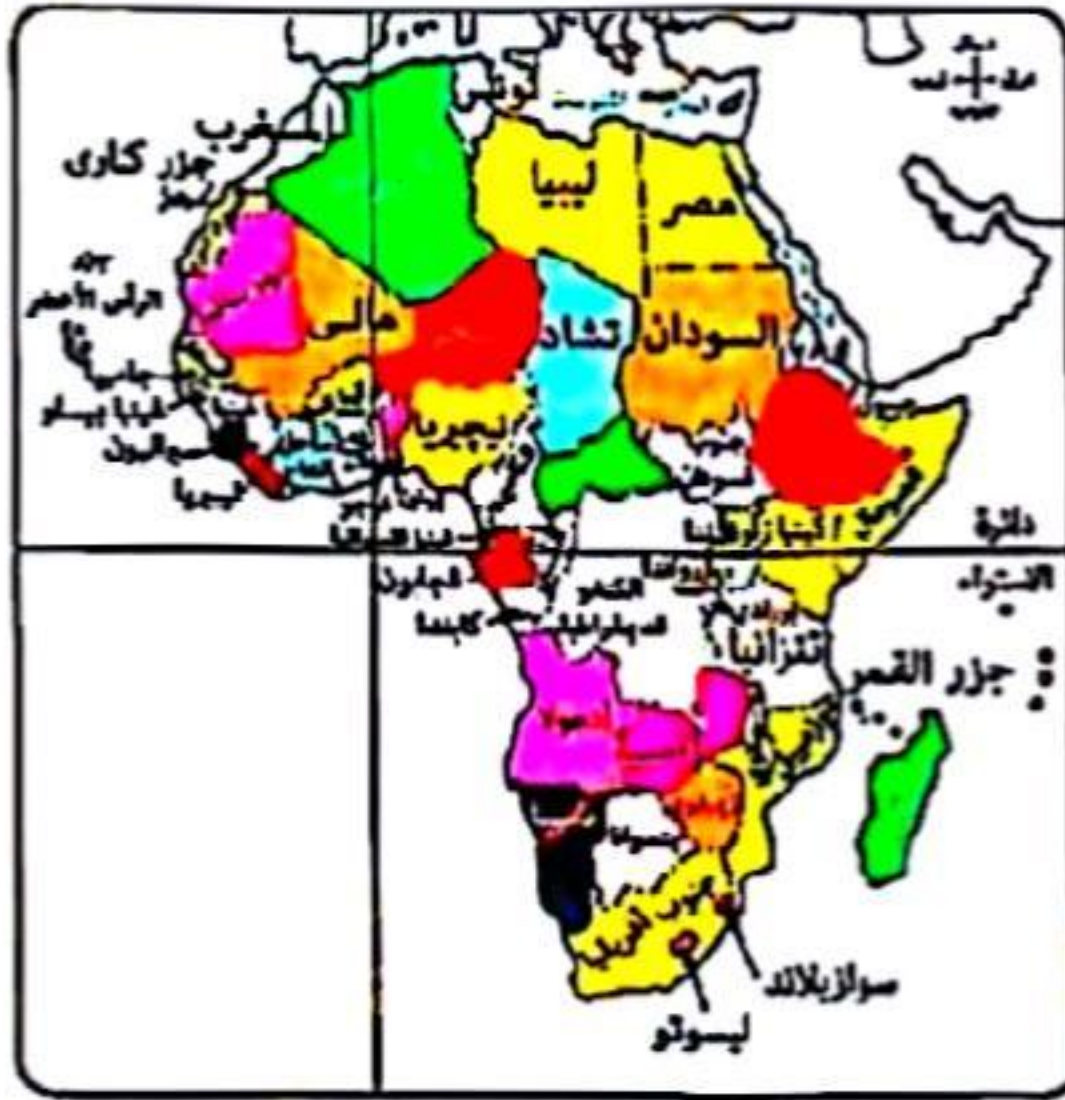
د اليونان

د إيطاليا

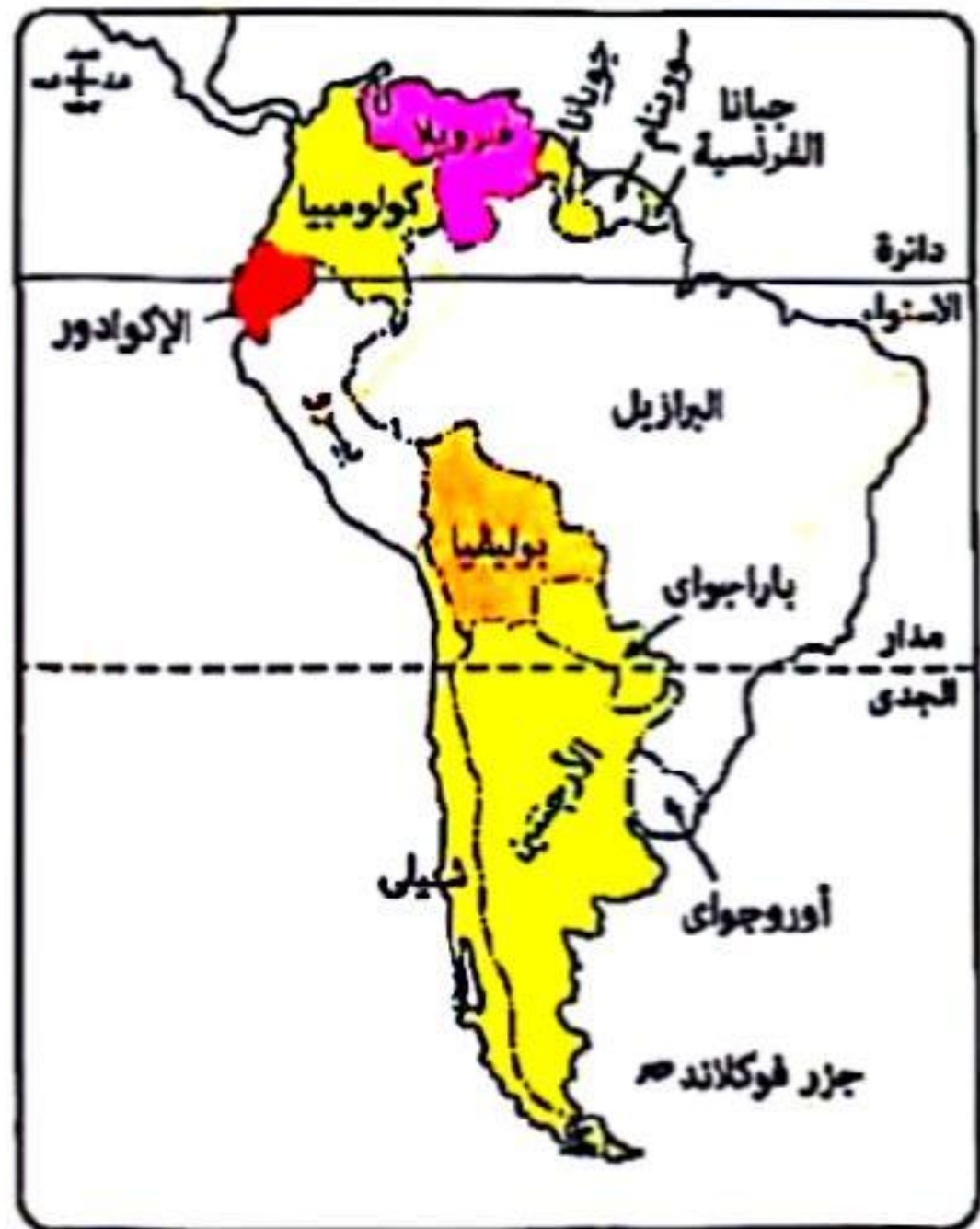
12 تقييم أداء الخدمات المختلفة (تعليم - صحة ..) وفقاً لمعلومات رقمية يتم من خلال
 ① وسائل الاتصال.
 ② نظم المعلومات الجغرافية.
 ③ الاستشعار عن بُعد.
 ④ تكنولوجيا المعلومات.

13 معظم المتغيرات التي ساعدت على إعلان النظام العالمي الجديد ارتبطت بقارتى
 ① آسيا وإفريقيا.
 ② أمريكا الشمالية وإفريقيا.
 ③ أستراليا وأمريكا الجنوبية.
 ④ أوروبا وآسيا.

14 ساهمت الجغرافيا السياسية في حل بعض المشكلات السياسية، وهو ما ظهر على خريطة العالم في الربع
 ① الجنوب الشرقى.
 ② الشمال الغربى.
 ③ الجنوب الغربى.
 ④ الشمال الشرقى.



15 «الجزائر - النيجر - تنزانيا»، دول إفريقية تتشابه جميعها في
 ① الانضمام لحلف عسكري واحد.
 ② الانضمام لتكتل اقتصادى واحد.
 ③ سهولة الاتصال بالعالم الخارجى.
 ④ أسباب نشأة الحد السياسى.



16 «تميز الجبال بأنها ظاهرة دائمة، مرئية، عريضة، وعرة، وقليلة السكان».
 فى ضوء العبارة، ومن خلال الخريطة استنتج :
 متوقع أن يقل السكان على الحدود بين الأرجنتين و
 ① باراجواى.
 ② شيلي.
 ③ البرازيل.
 ④ أوروغواى.

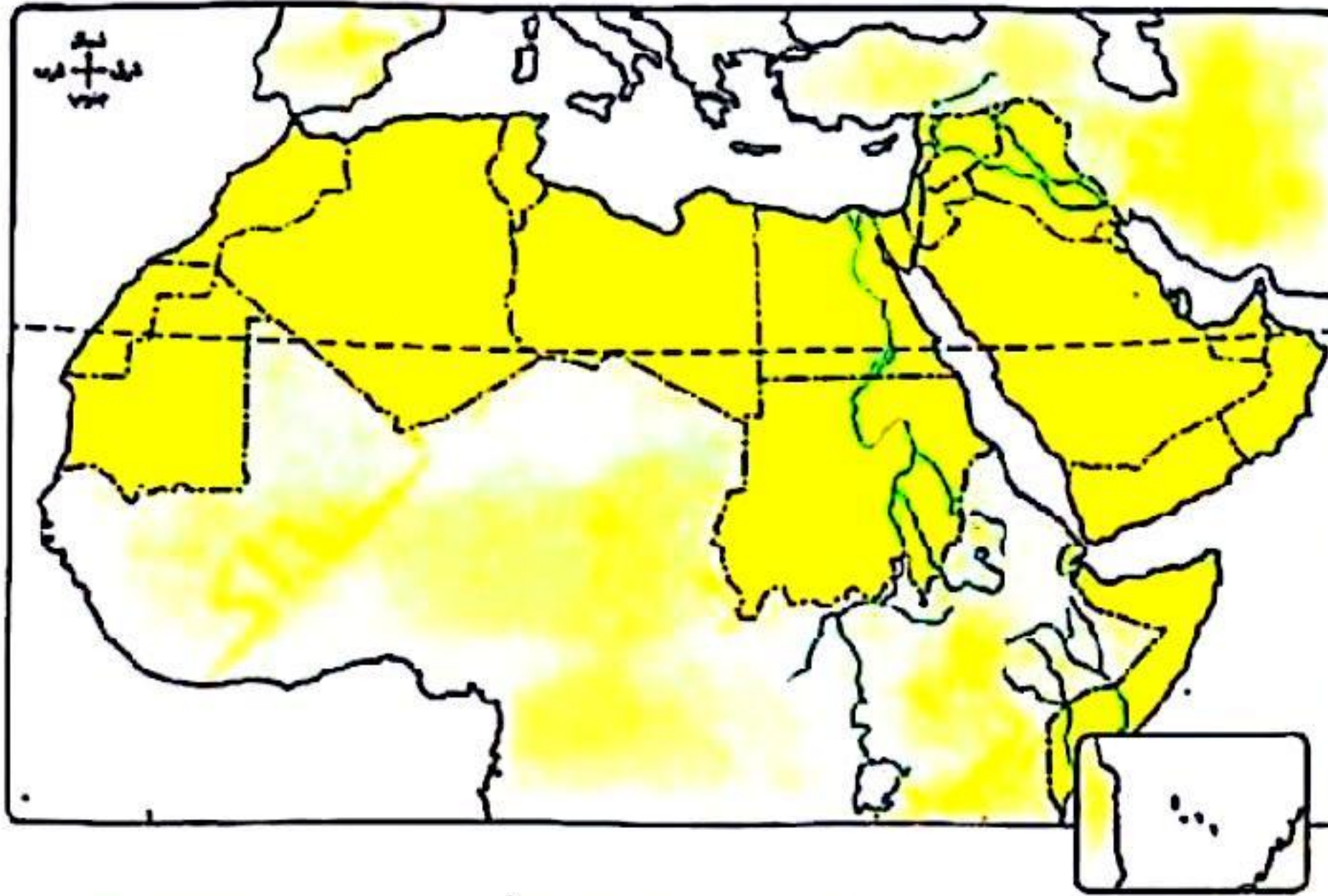
أ / مصطفى عبدالعظيم
 ت / 01097158554

١٧ «كان للتطور الصناعي تأثير سلبي على البيئة في معظم قارات العالم» .
في ضوء العبارة وضح : ظهر الأثر السلبي للصناعة بعيدًا عن مناطق توطنها في
① شرق أوروبا. ② غرب أوروبا. ③ غرب إفريقيا. ④ شرق أمريكا الشمالية.

١٨ «أبوja» عاصمة نيجيريا - «طوكيو» عاصمة اليابان، تتشابهان في كونهما
① عواصم تاريخية. ② تتمتعان بالحماية والدفاع. ③ عواصم مستحدثة. ④ تفتقدان للحماية والدفاع.

١٩ تكتل اقتصادي تنفرد دوله بإنتاج المحاصيل الاستوائية هو
أ / مصطفى عبدالعظيم
ت / 01097158554
① الأبيك. ② المغرب العربي. ③ مجلس التعاون لدول الخليج العربي. ④ الناقتا.

٢٠ ادرس الخريطة التي أمامك، ثم استنتج : تختفى بين دول الوطن العربي الحدود
① البحرية. ② الإثنوغرافية. ③ الهندسية. ④ الفلكية.



٢١ العامل الذي أدى إلى نشأة الحدود السياسية في أمريكا الجنوبية هو
① تقسيم الاستعمار لمستعمراته. ② تنمية المناطق الهامشية. ③ زيادة عدد السكان. ④ الحروب.

٢٢ أي من الدول الآتية تهتم بتطوير قواتها البحرية ؟
① أستراليا. ② إثيوبيا. ③ النمسا. ④ أفغانستان.

٢٣ دولة تمتد في ٤٠ خط طول، و٧ دوائر عرض، تتوقع أن يكون شكلها
① مستطيل طولي. ② مستطيل عرضي. ③ مندمج ذو بروز. ④ مندمج.

٤٤ «السويد والنرويج.. دولتان تتميزان بالشكل الشريطي الطولي، وتسير معظم الحدود بينهما مع سلاسل جبال إسكنديناوا».

- الحد الجبلي الذي يتطابق مع العبارة السابقة يمتد بين دولتي
- ① الهند والصين. ✓
 ② الأرجنتين وشيلي.
 ③ إسبانيا وفرنسا.
 ④ سوريا وتركيا.

٤٥ اختيار ممثلي الشعب ارتبط بأحد قروع الجغرافيا السياسية، التي ظهر على يد

- ① ابن خلدون.
 ② أرسطو.
 ③ سيجفريد. ✓
 ④ راتزل.

٤٦ الدول الأكثر تضرراً بظهور الشركات متعددة الجنسيات، تقع معظمها في قارة

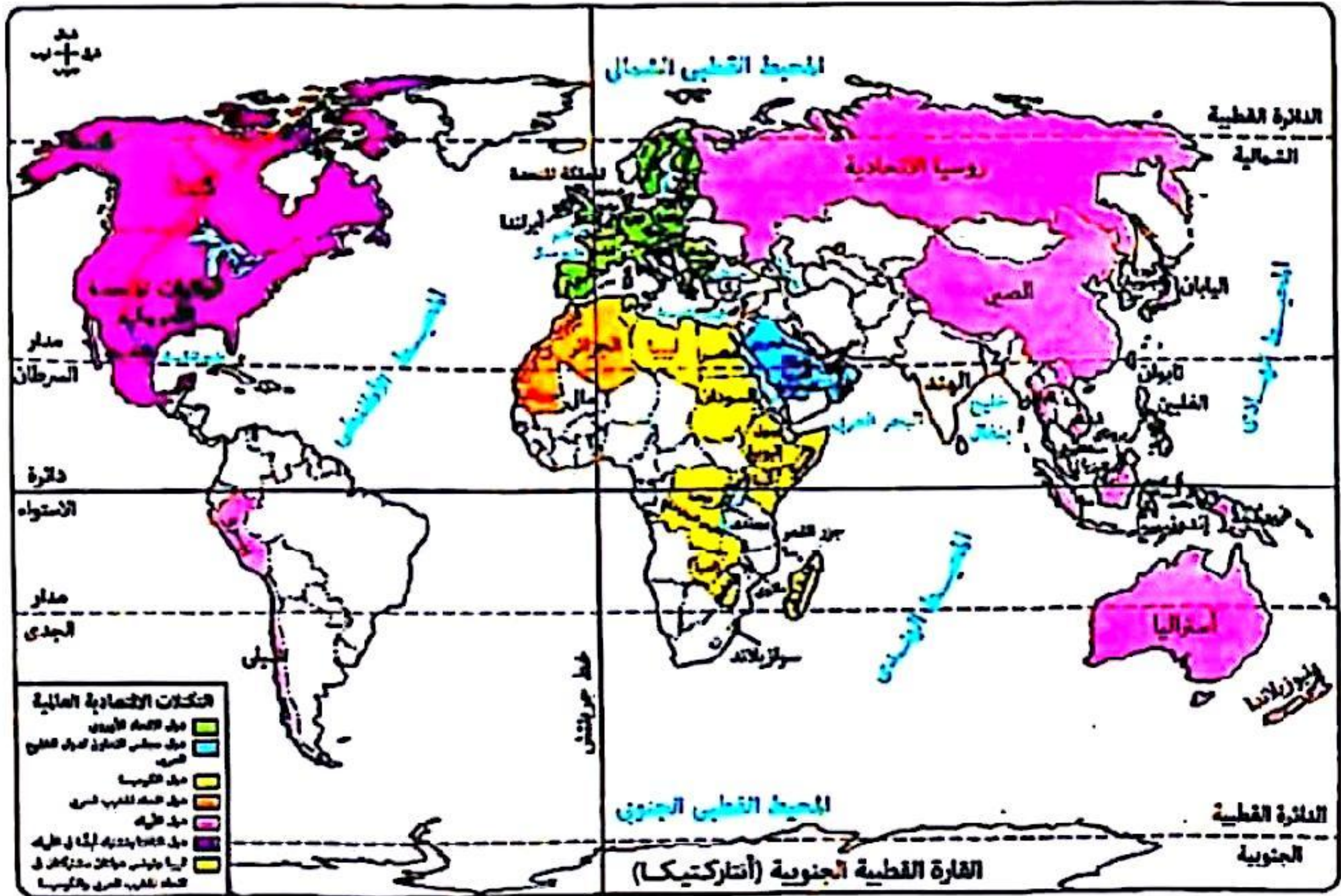
- ① أستراليا.
 ② أمريكا الشمالية.
 ③ أوروبا. ✓
 ④ إفريقيا.

٤٧ «أدت الحرب الروسية الأوكرانية لأزمة غذاء عالمية». في ضوء العبارة استنتج :

أ / مصطفى عبدالعظيم
 ت / 01097158554

- المنظمة التي يزداد دورها للتخفيف من آثار هذه الأزمة
- ① الفاو FAO. ✓
 ② اليونيدو UNIDO.
 ③ البنك الدولي للإنشاء والتعمير.
 ④ صندوق النقد الدولي.

٤٨ في ضوء دراسة الخريطة التالية نستنتج أن الدولة التي تنتمي لتكتلين اقتصاديين ويمر بها مدار السرطان، هي



- ① المكسيك. ✓
 ② الصين.
 ③ الهند.
 ④ مالي.



٢٩ الدولة التي تأثرت حدودها الغربية والجنوبية بمشكلات رعوية هي

- ① السعودية. ② نيجيريا. ③ السودان. ④ موريتانيا.

الدولة	نسبة مشاركة المرأة في العملية الانتخابية
١	٢٠%
٢	١٥%
٣	٥%
٤	٧٥%

٣٠ ادرس الجدول التالي، ثم استنتج:
الدولة التي شاركت فيها المرأة بأكبر نسبة في العملية الانتخابية تتوقع أن تكون
① باراجواي. ② تشاد. ③ بنجلاديش. ④ ألمانيا.

٣١ الدولة التي تحولت من «اتحاد كونفيدرالي» إلى «فيدرالي»

- ① فرنسا. ② مصر. ③ اليابان. ④ سويسرا.

٣٢ «تهتم الجغرافيا السياسية بالعديد من المجالات، بعضها فرضته الظروف العالمية ولم يكن ثمره اتفاق بين الدول». في ضوء العبارة، استنتج:

أ / مصطفى عبدالعظيم
ت / 01097158554

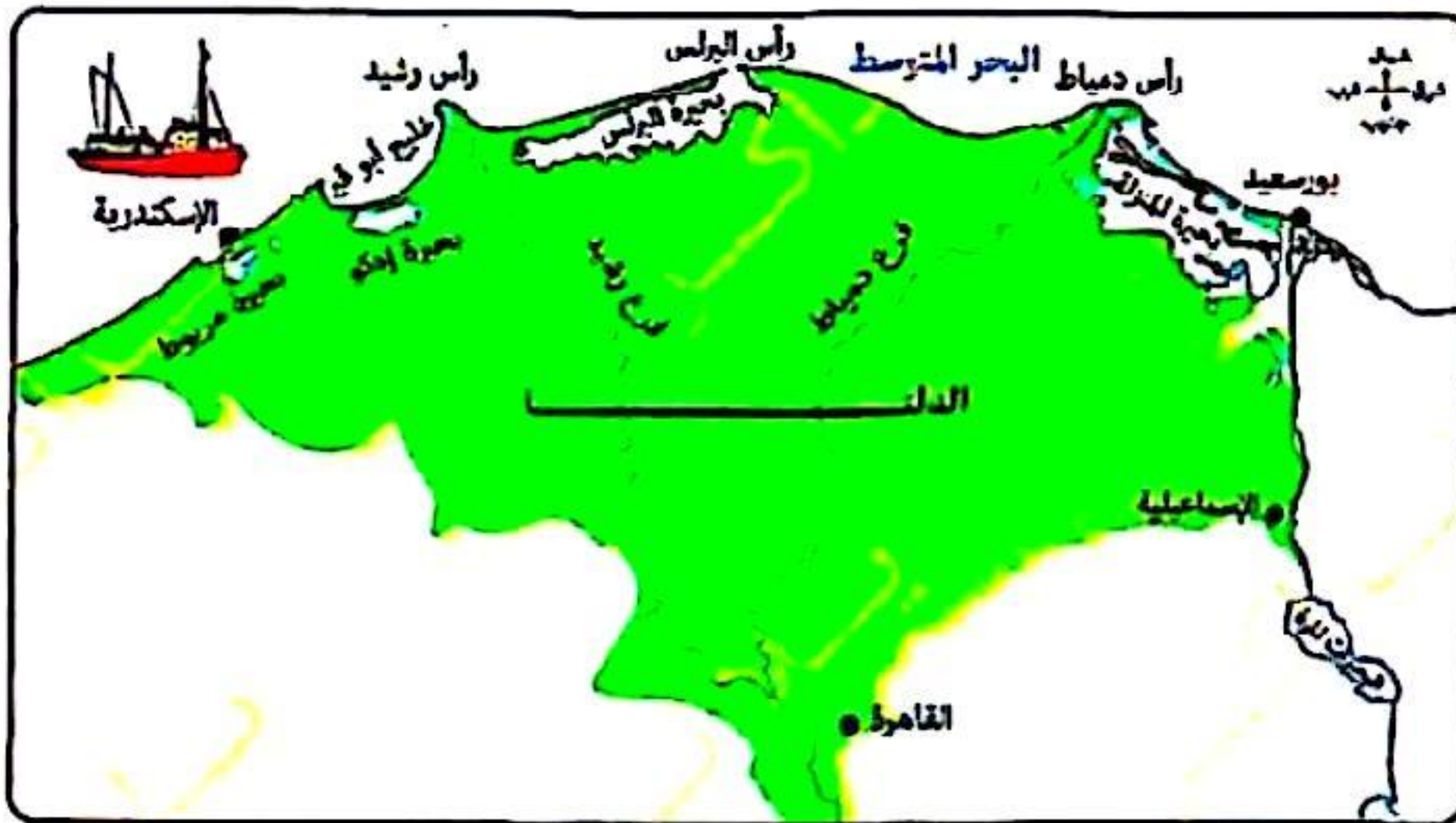
- أحد مجالات الجغرافيا السياسية الذي تنطبق عليه هذه العبارة هو
① المنظمات الدولية. ② العلاقات الدولية. ③ النظام العالمي الجديد. ④ المنظمات الإقليمية.

٣٣ الأسئلة الموضوعية (الاختيار من متعدد) «كل سؤال درجتان»:

العبارة التي تعبر عن النظام السياسي في صورته المؤسسية

- ① عقد اتفاقيات دولية. ② تطوير التعليم العالي. ③ تطوير البنية التحتية. ④ تطوير مراكز الشباب.

٣٤ تحركت سفينة من ميناء الإسكندرية نحو ميناء بورسعيد، فإن آخر منطقة مياه داخلية تمر عليها هي



- ① مصب النيل برشيد. ② بحيرة المنزلة. ③ مصب النيل بدمياط. ④ بحيرة البرلس.



٣٥ اكتسبت المغرب علاقات دولية بفضل

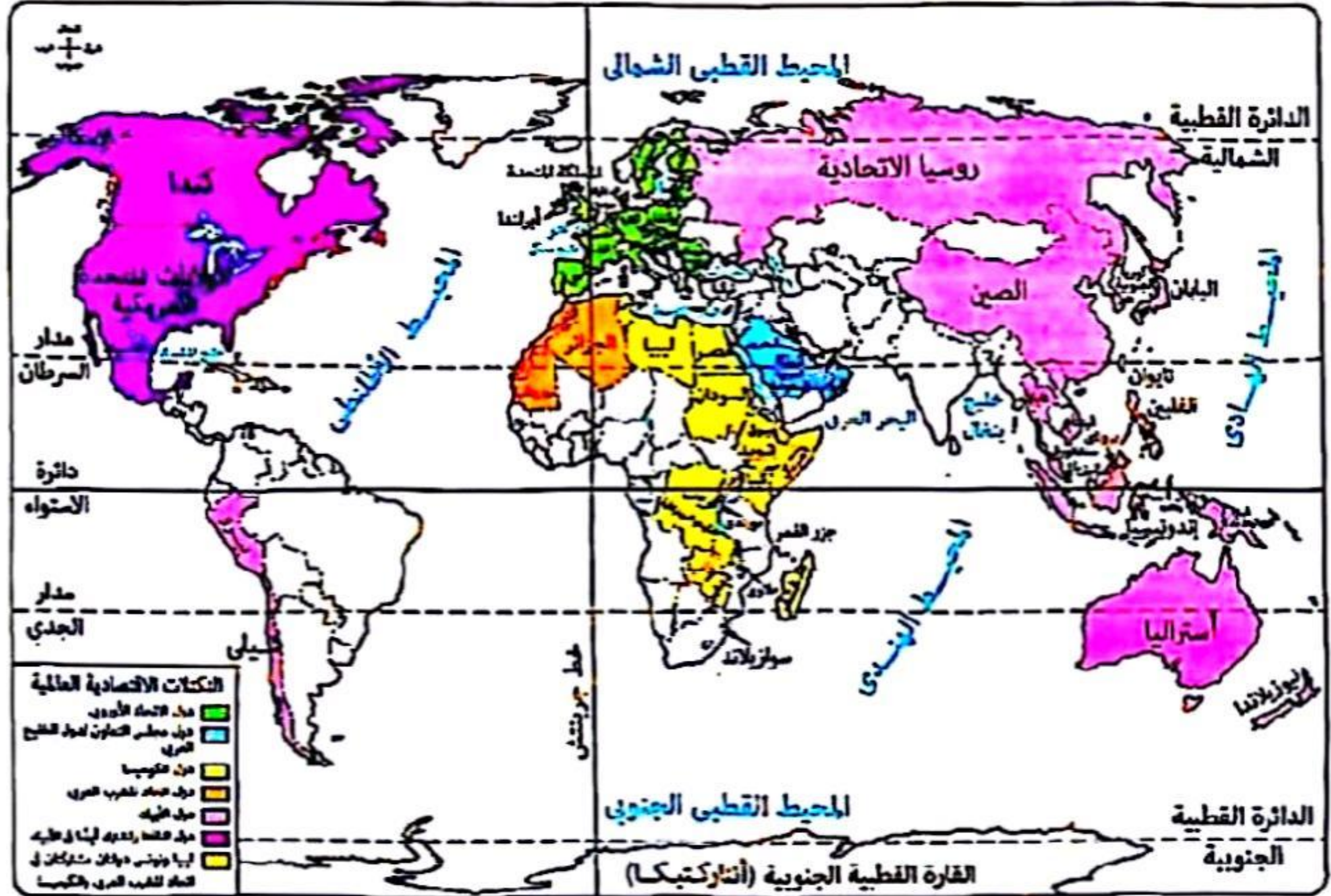
- ① قوتها الديموغرافية. ✓ موقعها الاستراتيجي. ② قوتها المورفولوجية. ③ موقعها الهامشي.

٣٦ تتشابه السياحة في جبال كشمير مع السياحة في شرق البحر المتوسط بمنطقة

- ✓ ① جبال الشام. ② جبال عسير. ③ جبال أورال. ④ جبال البحر الأحمر.

٣٧ ادرس تكتل الكوميسا، الموضح بالخريطة، ثم استنتج :

يمكن تسهيل عملية التنمية الاقتصادية وإقامة مشروعات مشتركة بين دولتي



- ① السودان وجنوب السودان. ② الجزائر وليبيا. ③ سوازيلاند وجنوب إفريقيا. ④ زامبيا وزيمبابوي. ✓

٣٨ «تُصنّف الجغرافيا إلى جغرافيا طبيعية وجغرافيا بشرية». في ضوء العبارة، استنتج :

العبارة التي تتشابه مع الجغرافيا السياسية من حيث تصنيفها

① المناطق الاستوائية تتميز بغزارة أمطارها.

② امتداد جبال أطلس في بلاد المغرب العربي.

✓ ③ اتجاه مصر للتوسع في مشروعات البنية التحتية.

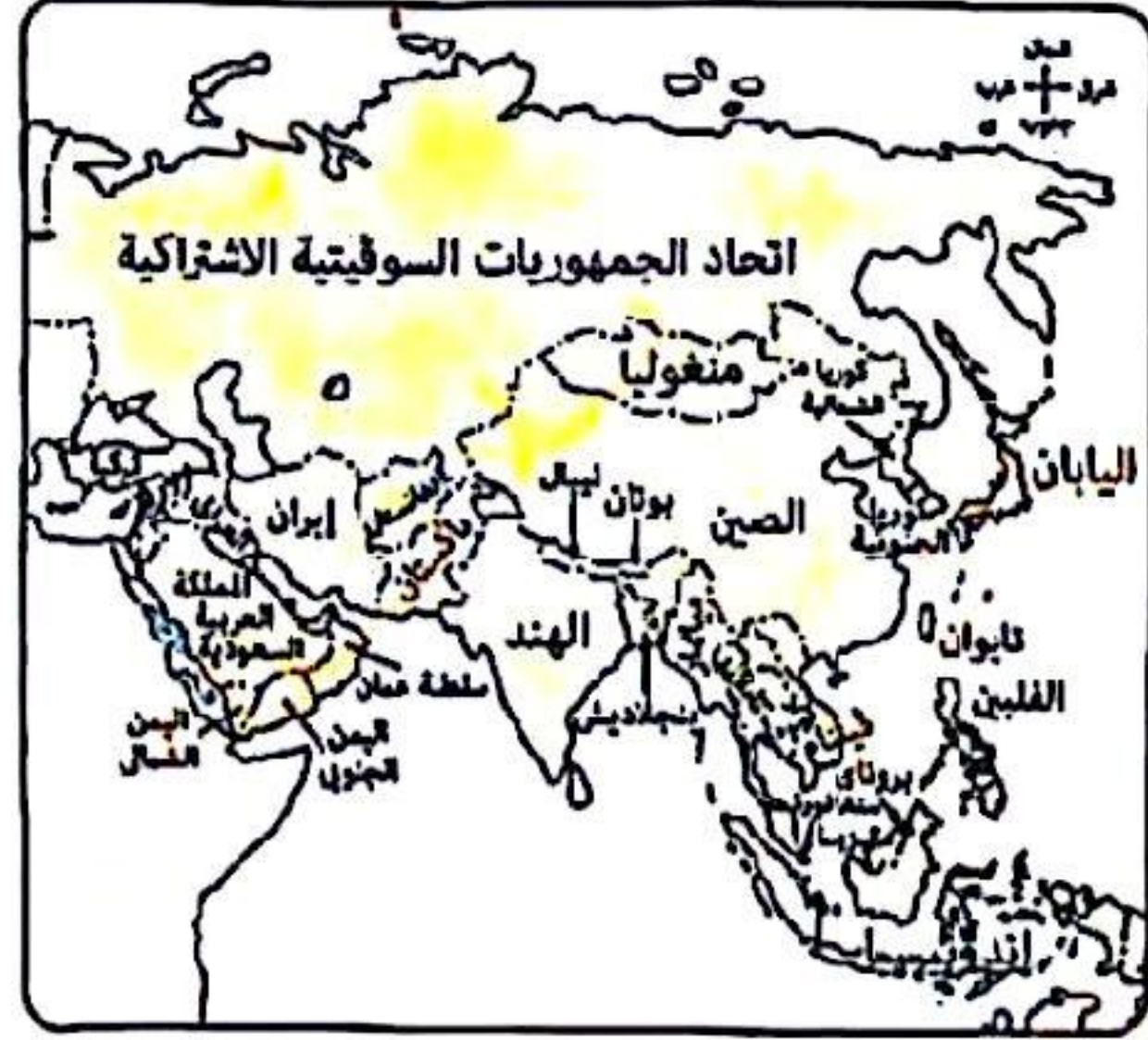
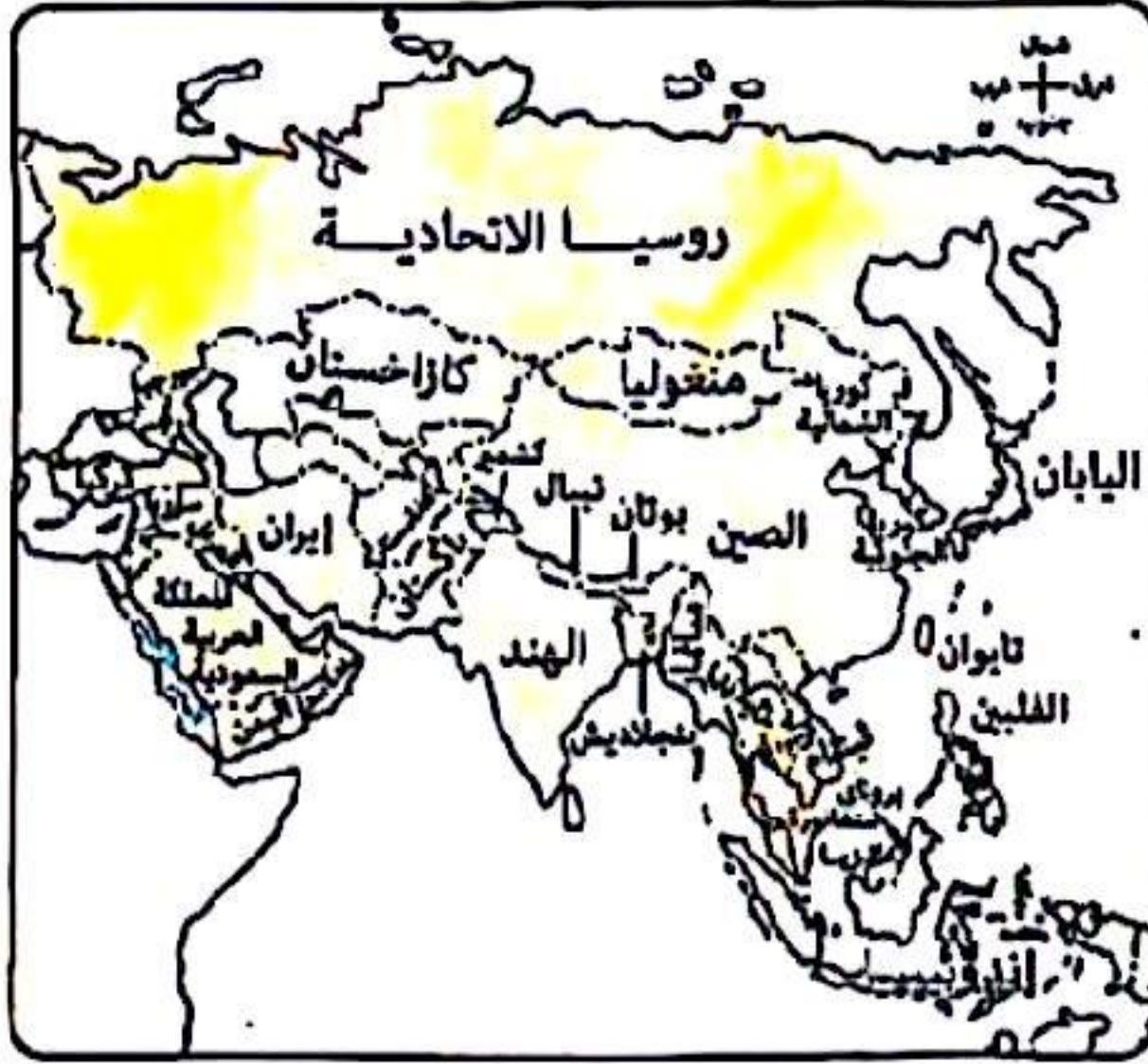
④ الأرصدة القارية غنية بالثروات الطبيعية.

أ / مصطفى عبدالعظيم

ت / 01097158554



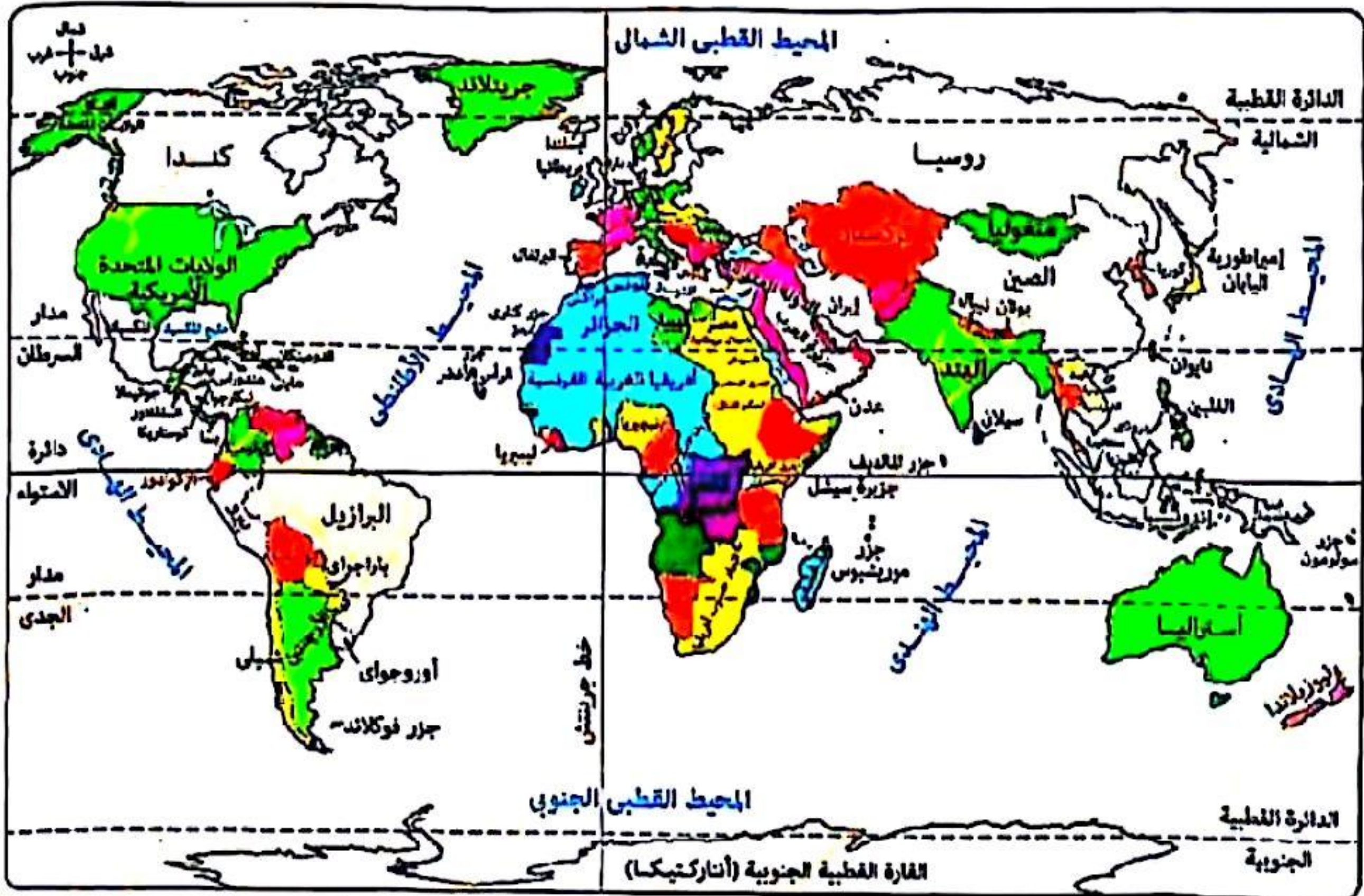
شهدت منطقة جنوب شرق البحر الأحمر



- ب) تناقص مساحة دول الجناح العربي الآسيوي.
د) زيادة عدد دول الجناح العربي الآسيوي.

- أ) تناقص عدد دول الجناح العربي الآسيوي.
ج) زيادة مساحة دول الجناح العربي الآسيوي.

جميع القارات الآتية شهدت ظهور إمبراطوريات تخرج عنها قارة



- أ) أوروبا. ب) آسيا. ج) إفريقيا. د) أمريكا الجنوبية.

٤١ أحد مصادر الطاقة الحفزية له أثر سياسي محدود

- ① الغاز الطبيعي. ② البترول. ③ الفحم. ④ الطاقة الكهرومائية.

٤٢ تزامن اتحاد الألمانيتين مع زيادة الأقليات

- ① اللغوية. ② العرقية. ③ الدينية. ④ القومية.

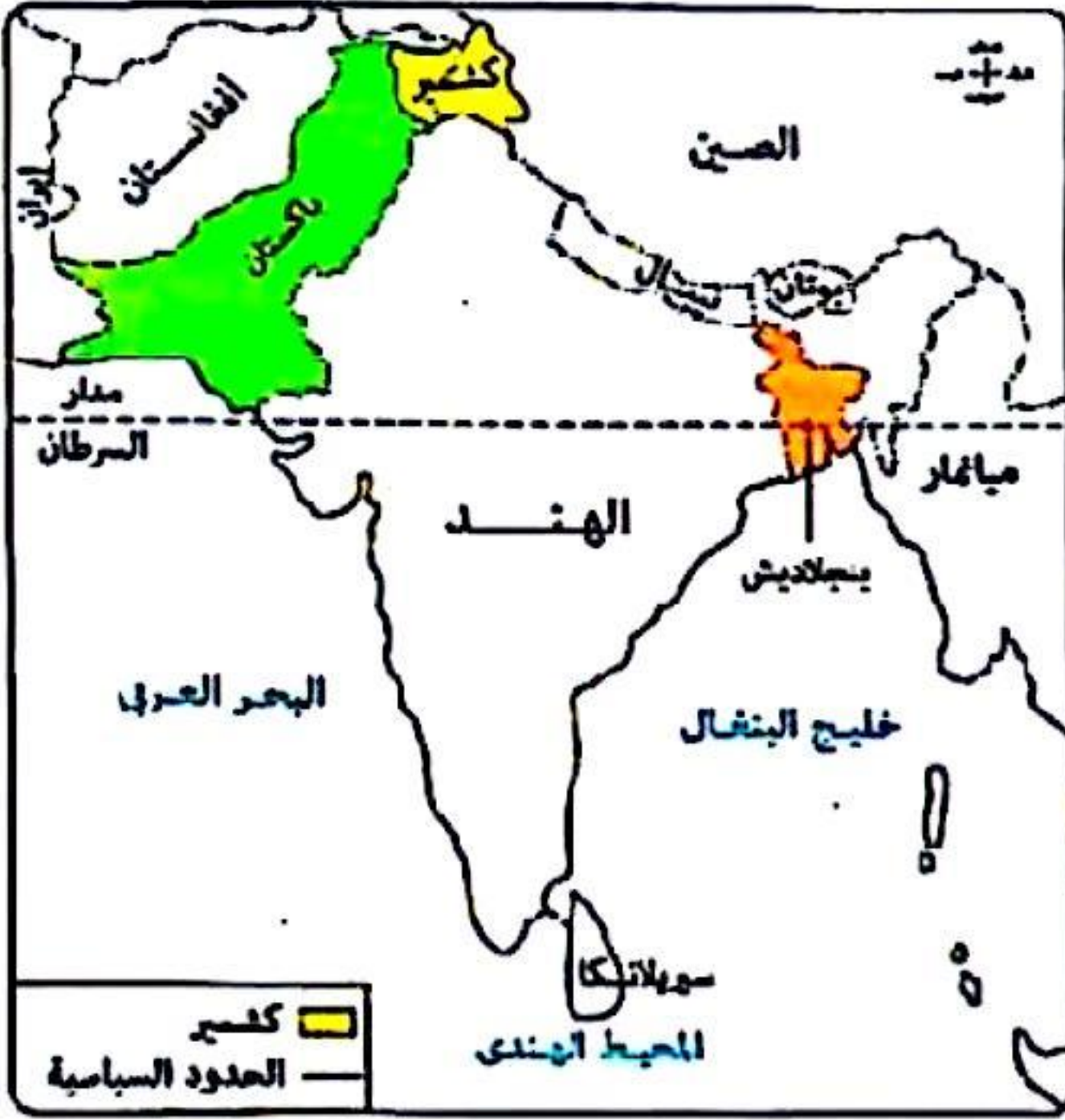
٤٣ لعبت حركة السكان دوراً في نشأة الحدود السياسية في دولة

- ① اليابان. ② النمسا. ③ أستراليا. ④ نيوزلندا.

٤٤ توضح الخريطة التي أمامك مشكلة

تُصنّف على أنها

- ① ديموغرافية سياسية.
② اقتصادية سياسية.
③ اجتماعية سياسية.
④ حدودية سياسية.



أ / مصطفى عبدالعظيم

ت / 01097158554

(دور أول ٢٠٢٤)



امتحان شهادة الثانوية العامة

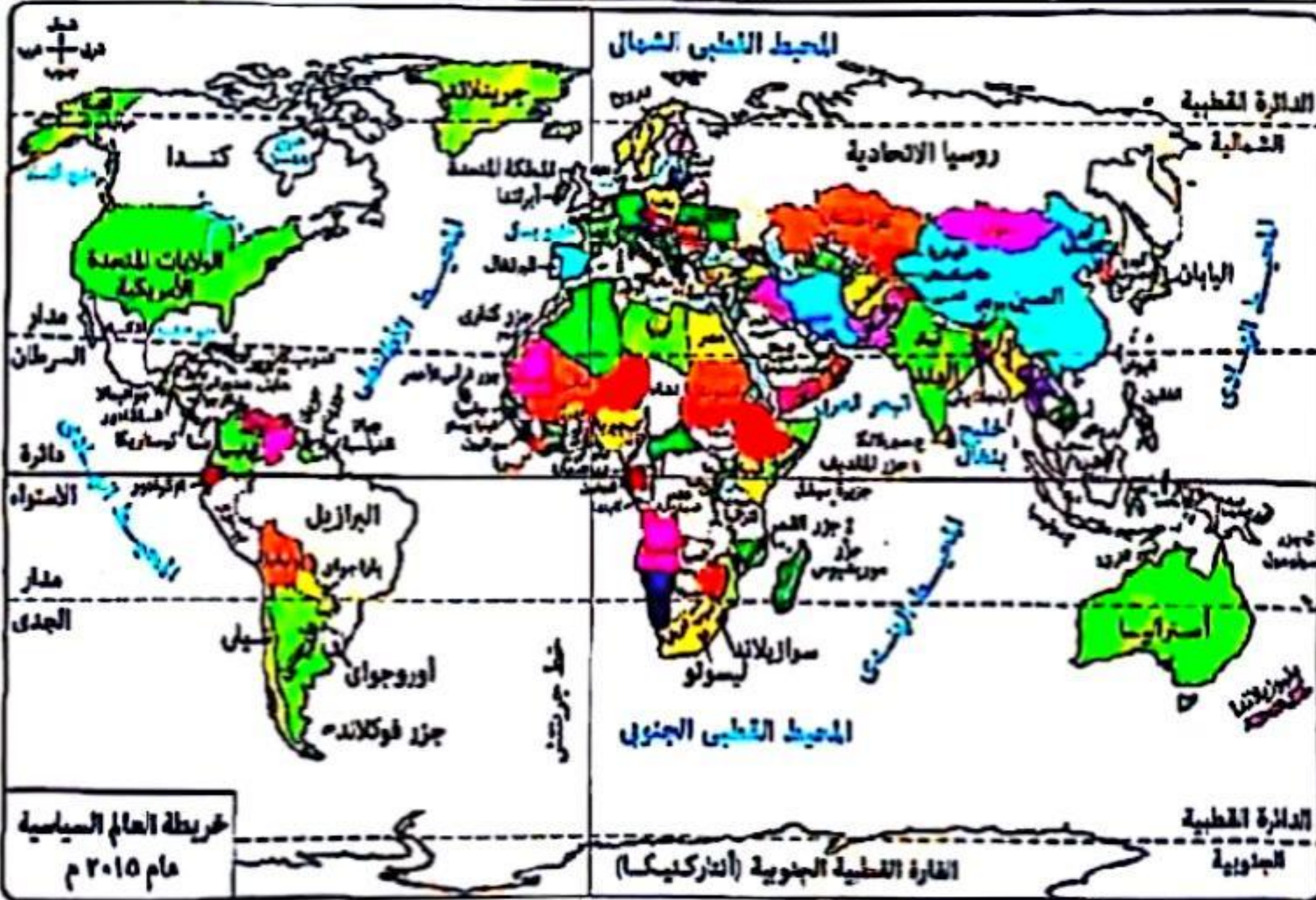
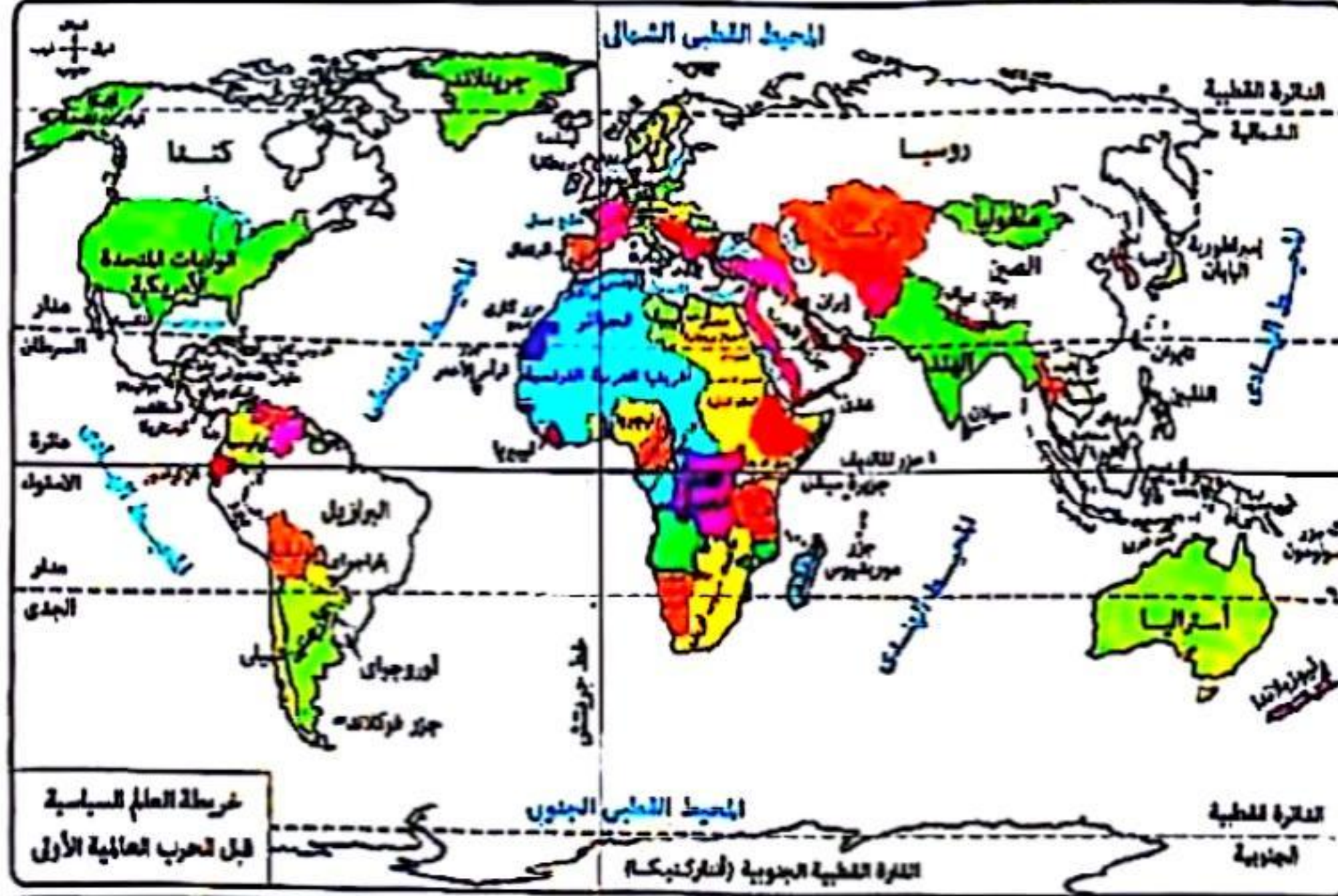
أ / مصطفى عبدالعظيم

ت / 01097158554

الأسئلة الموضوعية (الاختيار من متعدد) «كل سؤال درجة واحدة» :

ادرس الخريصتين اللتين أمامك ثم استنتج :

« أعلن الرئيس الأمريكي (ويلسون) حق تقرير المصير الذي تضمن حق الشعوب في رسم حدودها دون تدخل أجنبي ». ظهر التطبيق العملي لهذه العبارة في غرب



د آسيا.

ج أمريكا الجنوبية.

ب أوروبا.

أ إفريقيا.

د اليونان.

ج السويد.

ب المسلمين.

أ الألمان.



٧ «الانتخابات هي الأداة الوحيدة لعملية الاختيار». من خلال العبارة السابقة استنتج:

تتفق العبارة مع كل ما يلي ويخرج عنها.....

- ① البرلمان الأوروبي كمؤسسة بالاتحاد الأوروبي.
- ② رأس السلطة التنفيذية بدول النظام شبه الرئاسي.
- ③ الجهاز التنفيذي لمجلس التعاون لدول الخليج العربي.
- ④ رأس الدولة في النظام الرئاسي.

٨ «التاريخ تراث الوطن والجغرافيا وعاء هذا الوطن». مضمون العبارة السابقة ينطبق على.....

- ① القوقاز في جنوب إفريقيا.
- ② الزنوج في جنوب إفريقيا.
- ③ الزنوج في الولايات المتحدة الأمريكية.
- ④ القوقاز في الولايات المتحدة الأمريكية.

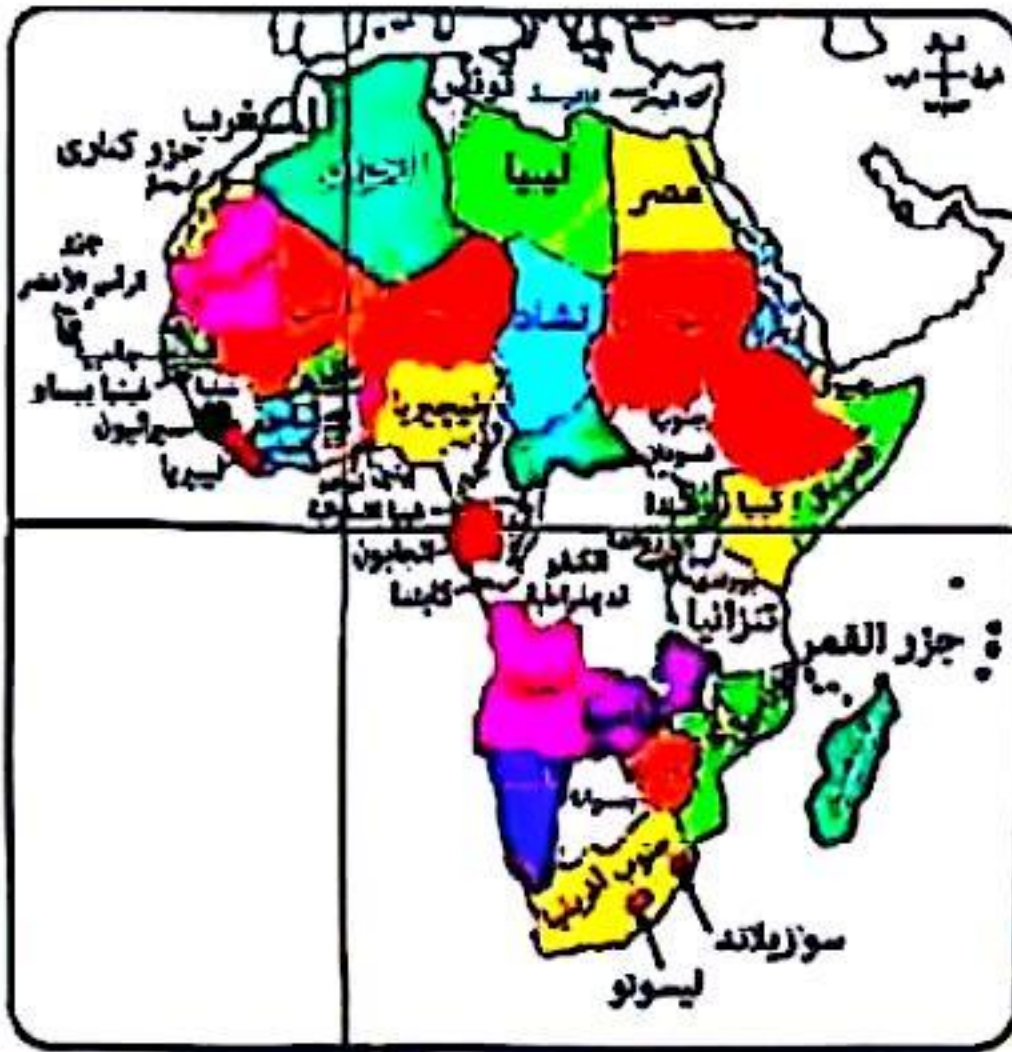
٩ يظهر دور الأنهار كعامل فصل بين بعض الدول بوضوح كما في.....

- ① الحوض الأوسط لنهر الراين.
- ② الحوض الأدنى لنهر الراين.
- ③ الحوض الأوسط لنهر النيل.
- ④ الحوض الأدنى لنهر النيل.

١٠ «يرى بعض مؤيدي النظام العالمي الجديد أنه يتضمن الاستقرار والعدل للجميع كما أنه لا يوجد تعارض بين

المصلحة الوطنية والمصالح الدولية». العبارة التي تعبر عن الوجه الآخر للنظام العالمي تتمثل في.....

- ① ظهور الشركات متعددة الجنسيات.
- ② بروز ظاهرة الاعتماد الدولي المتبادل.
- ③ ظهور التكتلات الاقتصادية.
- ④ تدويل المشاكل والقضايا السياسية.



١١ ادرس الخريطة ثم استنتج:

دولتان ضمن مجموعة الإيكواس تتميزان بامتلاك

حقوق بترول بحرية هما.....

- ① موريتانيا ومالي.
- ② نيجيريا وغانا.
- ③ بوركينا فاسو وبنين.
- ④ النيجر وسيراليون.

أ / مصطفى عبدالعظيم

ت / 01097158554

١٢ «وضعت مصر خطتها التنموية ٢٠٣٠م لتشمل كل المجالات وفقاً لبيانات ومعلومات تم جمعها من مختلف

القطاعات». في ضوء العبارة السابقة استنتج: اعتمدت رؤية مصر ٢٠٣٠م على.....

- ① نظم المعلومات الجغرافية.
- ② الاستشعار عن بعد.
- ③ تكنولوجيا المعلومات.
- ④ وسائل الاتصالات.

١٣ مشكلة اجتماعية تجعلنا نشير بأصابع النقد لمرحلة إدارة الحد السياسي هي.....

- ① الهجرة القسرية.
- ② اللاجئون.
- ③ الأقليات.
- ④ الهجرة غير الشرعية.

١٤ الدولة التي نجحت في تنظيم حركة الرعاة وتحديد رؤوس الماشية ومناطق ارتجاعها على حدودها الجنوبية هي
 (أ) غانا. (ب) نيجيريا. (ج) ساحل العاج. (د) بوركينا فاسو.

١٥ ادرس الجدول ثم استنتج :

الدولتان اللتان تحققان معاً تنوع المحاصيل والمقوم الجغرافي هما

الدولة	دوائر العرض	خطوط الطول
(م)	١٠° جنوباً : ٣٥° شمالاً	١٥° شرقاً : ٤٥° شرقاً
(ن)	١٥° جنوباً : ٢٥° جنوباً	٢٠° غرباً : ٣٥° غرباً
(س)	٢٠° شمالاً : ٤٥° شمالاً	٢٠° شرقاً : ٣٠° شرقاً
(ع)	٢٥° شمالاً : ٣٠° شمالاً	٢٠° غرباً : ٣٠° غرباً

- (أ) (م) - (س).
 (ب) (ن) - (س).
 (ج) (ن) - (ع).
 (د) (م) - (ع).

١٦ الجدول الذي أمامك يمثل تصوراً لنسب الدول البحرية والحييسة حال ظل العالم كما كان كتلة واحدة : ادرس الجدول ثم توقع الرمز الذي يعبر عن تلك الفترة

الرمز	نسبة الدول الحبيسة	نسبة الدول البحرية
(ع)	٤٥%	٥٥%
(ن)	٣٠%	٧٠%
(هـ)	٢٥%	٧٥%
(ف)	٦٥%	٣٥%

- (أ) (ن).
 (ب) (ف).
 (ج) (هـ).
 (د) (ع).

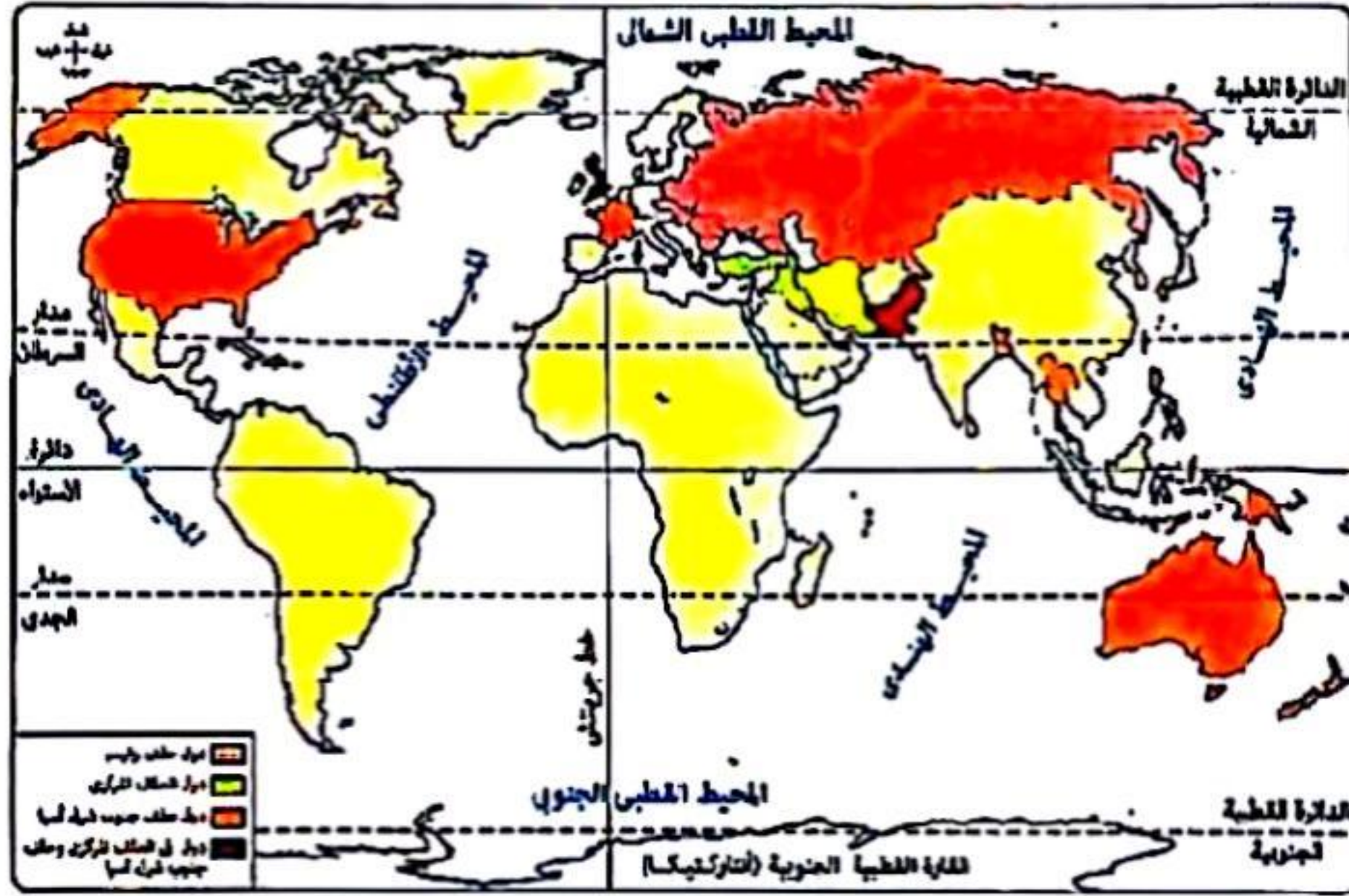
أ / مصطفى عبدالعظيم
 ت / 01097158554

١٧ «دولة تفتقد عاصمتها للحماية والدفاع وتبعد عن حدها الشرقي ٧١٢ كم وحدها الغربي ٥٠٠ كم وحدها الشمالي ٢٠٢ كم». في ضوء تلك العبارة نستنتج أن هذه الدولة ذات شكل
 (أ) مندمج. (ب) شريطي عرضي. (ج) مندمج ذات بروز. (د) شريطي طولي.

١٨ دولة بها سلطة مسنولة عن كل الأمور السيادية والحياتية معاً ومقسمة إدارياً إلى ولايات تتسم ب.....
 (أ) حق التمثيل الدبلوماسي لكل ولاية. (ب) وجود دستور لكل ولاية بها.
 (ج) التجانس الإثنوجرافي لسكانها. (د) محدودية انتشارها على خريطة العالم.

١٩ «بالرجوع للميزان التجاري لدولة ليبيا وجد أنها تقوم باستيراد السيارات بتعريف جمركية تقدر بـ ٧٪». في ضوء العبارة استنتج :
 الدولة التي يتوقع استيراد السيارات بنفس التعريف الجمركية هي
 (أ) النيجر. (ب) مالي. (ج) تشاد. (د) موريتانيا.

«رغم اختفاء العديد من الأحلاف العسكرية إلا أن حلف الناتو ما زال قائماً حتى الآن».
 في ضوء العبارة السابقة ومن خلال الخريطة التي أمامك استنتج :
 دولة اشتركت في أكثر من حلفين عسكريين وتنتمي إلى الفكر الرأسمالي



خريطة الأحلاف العسكرية التي تم حلها

- ① باكستان. ② إنجلترا. ③ فرنسا. ④ الولايات المتحدة الأمريكية.

جائحة كورونا وباء أصاب العالم نتج عنه عدة آثار يخرج عنها
 ① استخدام سياسات مختلفة لبعض الدول في التعامل مع الجائحة.
 ② تأجيل الانتخابات في بعض الدول.
 ③ زيادة انبعاث الغازات الدفيئة.
 ④ أزمة اقتصادية ناتجة عن قلة الإنتاج الزراعي والصناعي.

«نشطت حركة الترجمة في العصر العباسي الأول خاصة في عهد الخليفة المأمون». في ضوء العبارة استنتج :
 المناطق الفاصلة بين الدول في تلك الفترة تميزت بأنها
 ① مناطق ممسوحة.
 ② قابلة للنقل والحركة.
 ③ ظاهرة قانونية.
 ④ غنية بالموارد الطبيعية.



ادرس الخريطة ثم استنتج :
 تتميز سيراليون عن أوغندا في
 ① المساحة .
 ② الموقع المركزي .
 ③ الشكل .
 ④ الموقع الجغرافي.

أ / مصطفى عبدالعظيم

ت / 01097158554



٢٤ «اللغة والعرق قد يكونان سببًا في استقرار دول وكذلك في اختيار مركز القوة والسلطة في الدولة». تنطبق العبارة السابقة على دولة
 ① مصر. ② روسيا الاتحادية. ③ الولايات المتحدة. ④ فرنسا.

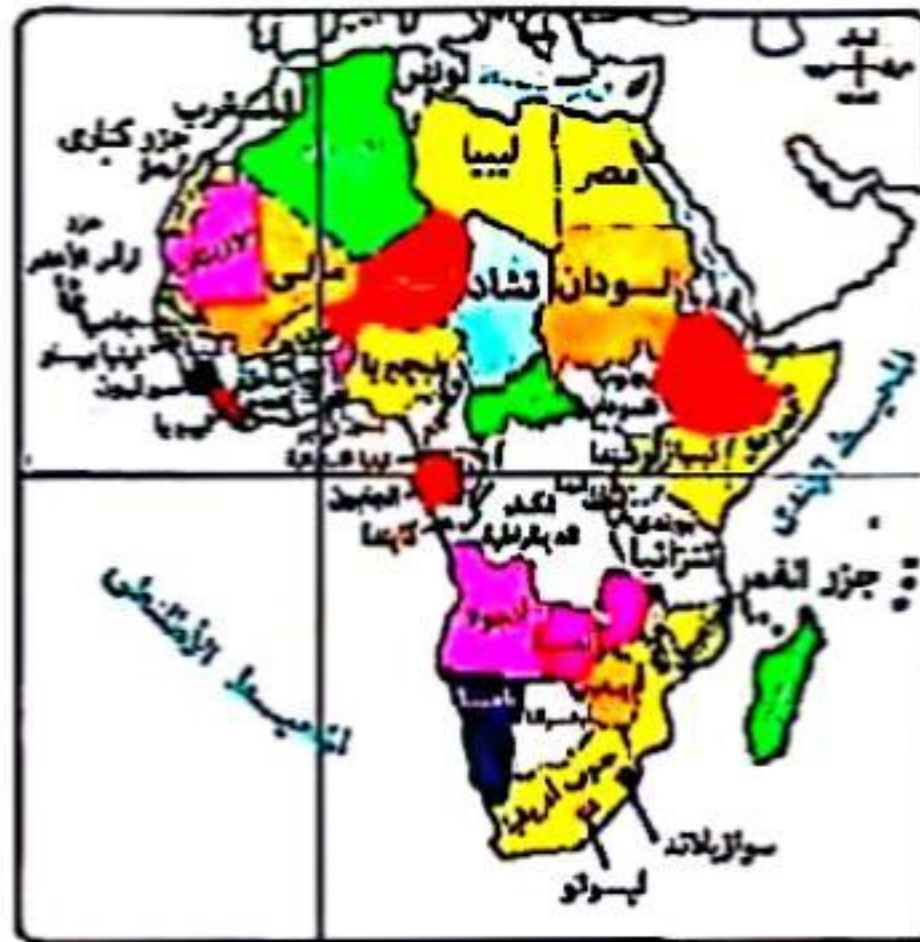
٢٥ «تضمنت المادة (١٠٢) من الدستور المصري على أن كل من بلغ ثمانى عشرة سنة ميلادية يحق له التصويت في الانتخابات». مضمون المادة السابقة يظهر في إحدى مراحل العملية الانتخابية وهي
 ① إجراء الانتخابات. ② الترشح للانتخابات. ③ فرز الأصوات. ④ تحديد الفائزين.

٢٦ أكثر الدول التي تأثرت سلبًا بالعلاقات الدولية في العصور الوسطى هي
 ① لبنان وإيران. ② العراق وسوريا. ③ إيران والعراق. ④ سوريا ولبنان.

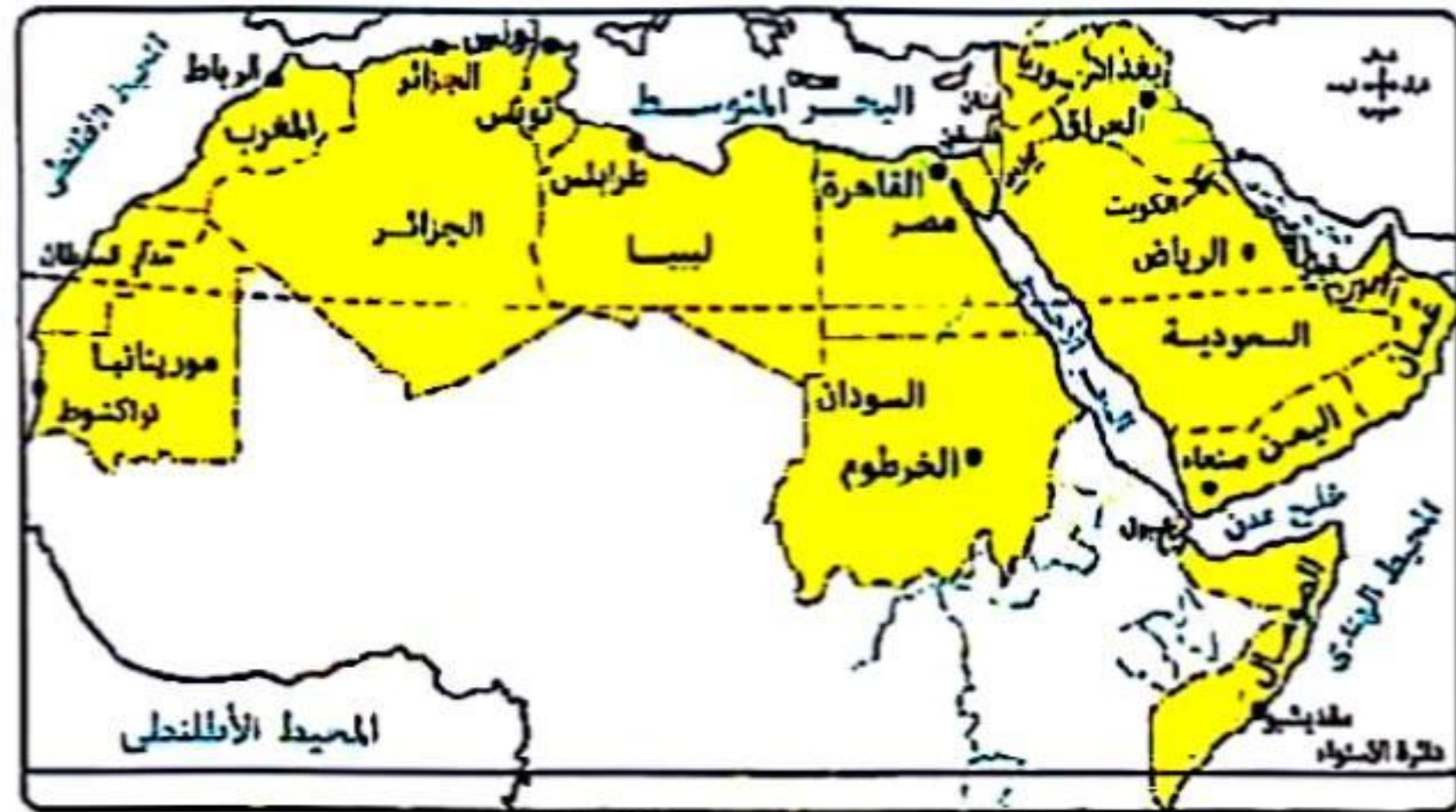
٢٧ نجاح مصر في استعادة طابا، يعبر عن
 ① قوة عصبة الأمم كمنظمة دولية. ② طبيعة العلاقات الدولية في السلم. ③ طبيعة العلاقات الدولية في الحرب. ④ قوة المنظمات الإقليمية في حل المشكلات.

٢٨ ادرس الخريطين ثم استنتج :

رغم انفصال جنوب السودان عن دولة السودان إلا أن الوطن العربي احتفظ بنبات



خريطة إفريقيا السياسية



الوطن العربي سياسيًا

① عدد سكان الوطن العربي. ② مساحة الوطن العربي. ③ عدد دوائر العرض. ④ عدد الدول المجاورة له.

٢٩ «قوة الدولة لا تقاس بالكيلومترات المربعة». في ضوء العبارة استنتج :

الدولة التي تنطبق عليها العبارة السابقة
 ① كوريا الجنوبية. ② الجزائر. ③ كندا. ④ الكونغو الديمقراطية.

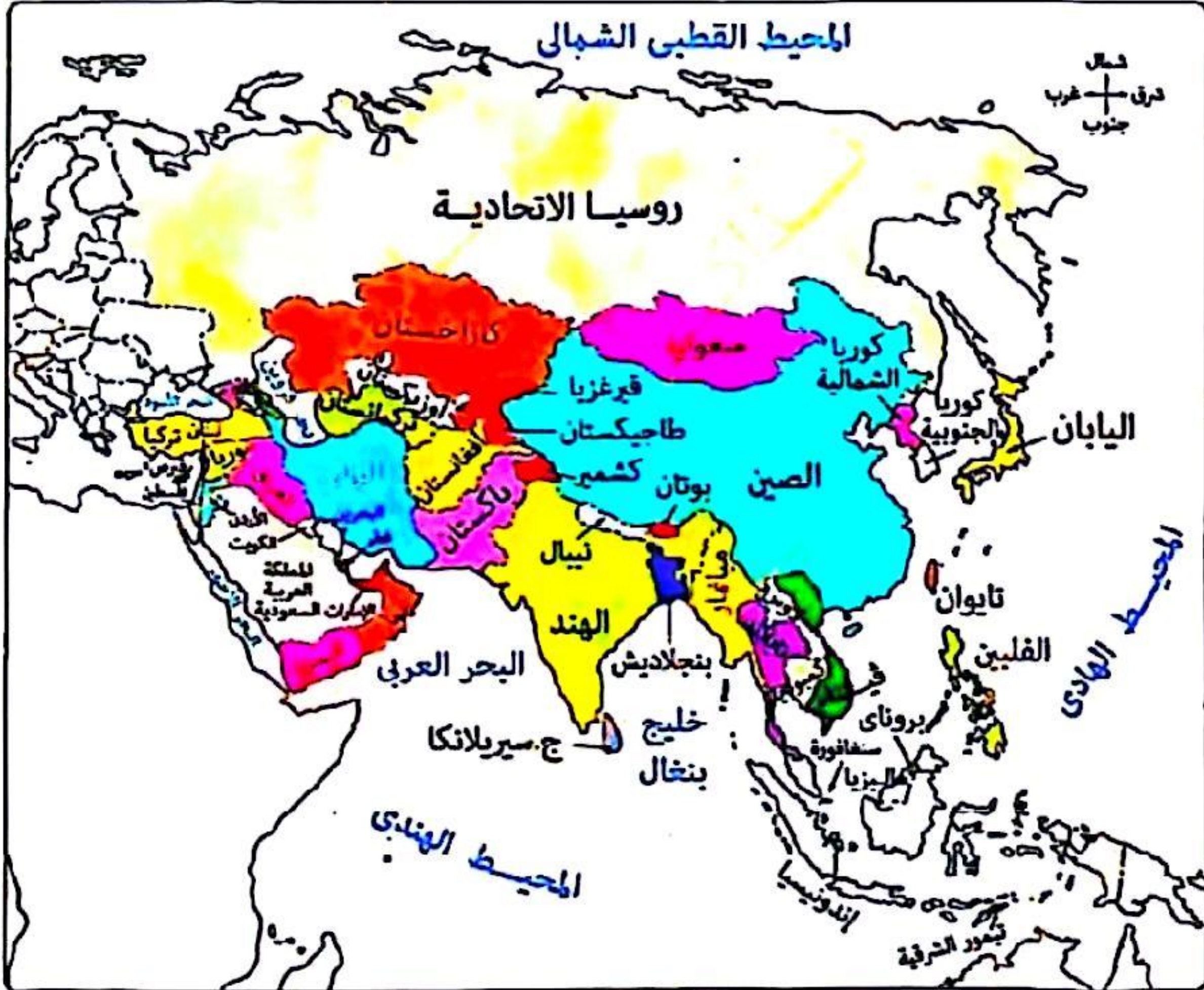
٣٠ يمكن للدول النامية أن تحذو حذو الدول المتقدمة في تجارب متعددة يخرج عنها
 ① أنظمة الحكم السياسية. ② النظم التعليمية. ③ التكتلات الاقتصادية. ④ الأحلاف العسكرية.

استقبلت مصر هجرات عبر تاريخها إلا أنها امتزجت جميعاً وهو ما يظهر في

- ① جبال البحر الأحمر. ② جنوب سيناء. ③ الوادي والدلتا. ④ شرق العوينات.

ادرس الخريطة ثم استنتج :

رغم طول الحدود البحرية لدولة روسيا إلا أنه يمكن اعتبارها قوة برية أكثر منها بحرية ، يرجع ذلك إلى



- ① الظهير الساحلي للحد. ② أهمية المسطح المائي. ③ الظروف المناخية للحد. ④ كثرة تعاريج سواحلها.

الأسئلة الموضوعية (الاختيار من متعدد) «كل سؤال درجتان» : أ / مصطفى عبدالعظيم

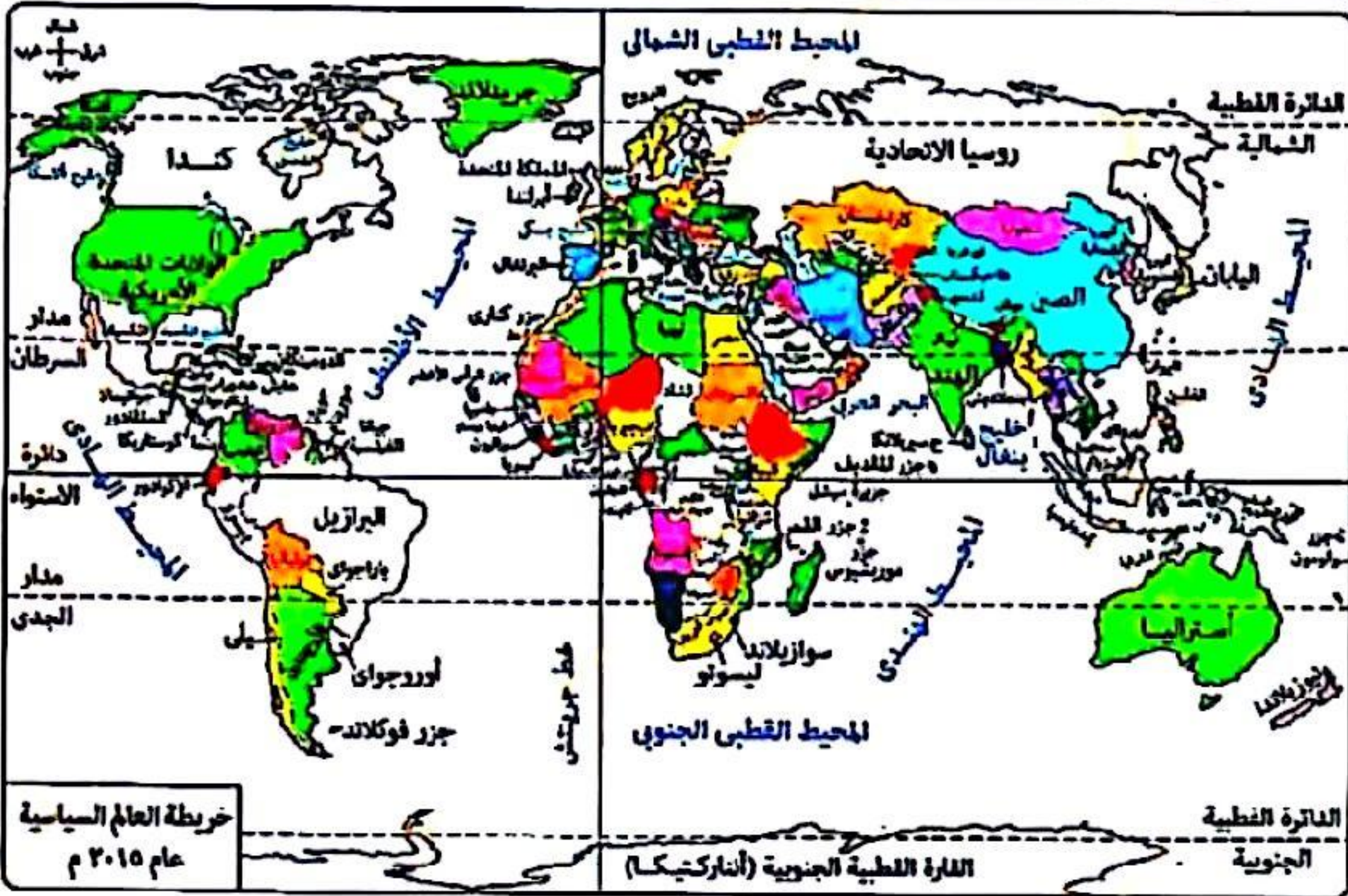
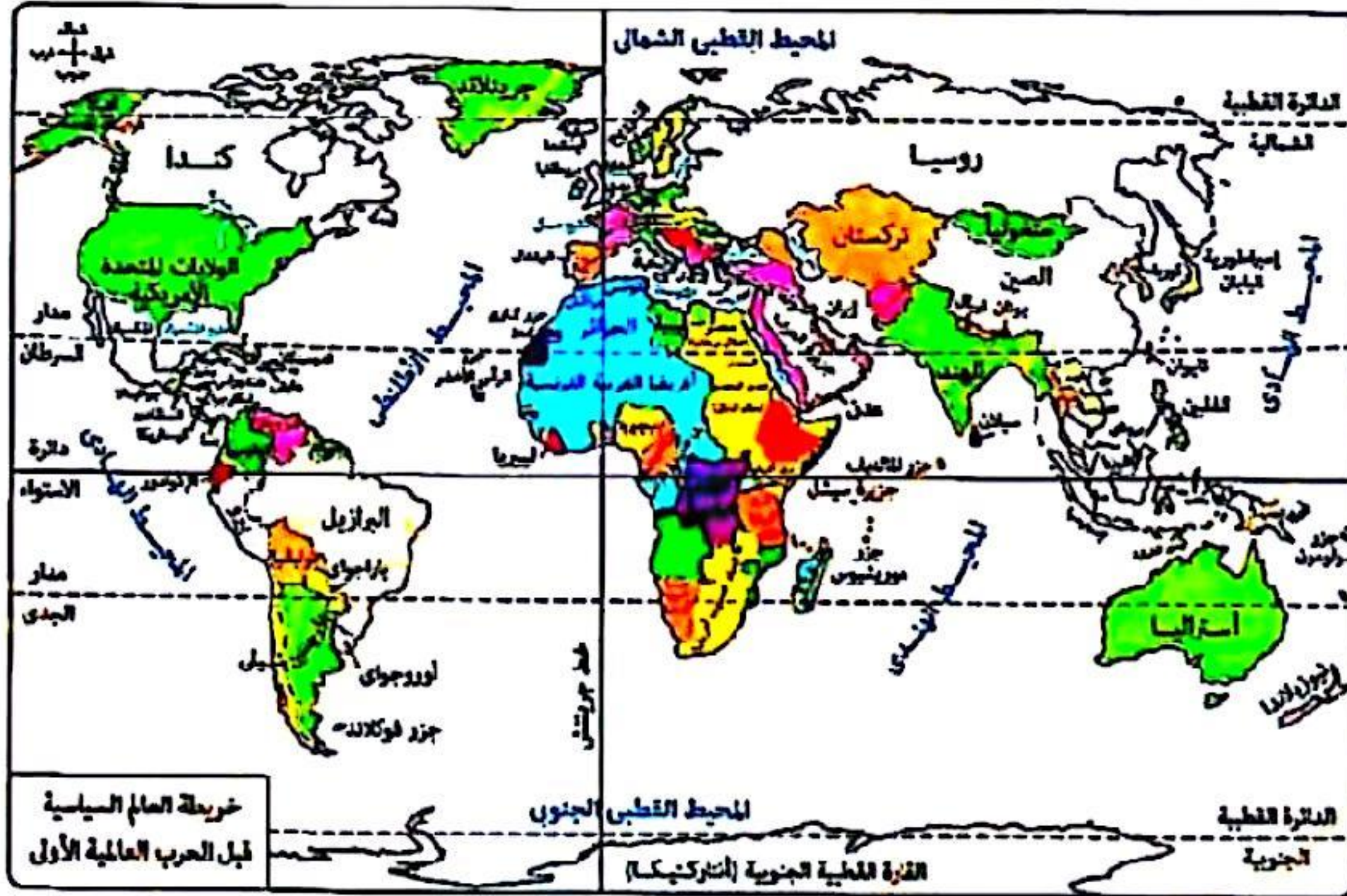
النظام السياسي في صورته الاجتماعية يقوم ببعض الأدوار منها

- ① إقرار الموازنة العامة للدولة. ② مراقبة الإيرادات والنققات. ③ التوسع في مشروعات البنية التحتية. ④ توقيع اتفاقيات تجارية خارجية.

(مصر ، الولايات المتحدة الأمريكية ، وهولندا) دول تنتمي لقارات مختلفة إلا أن جميعها تتشابه في

- ① تنوع التضاريس. ② تعدد الواجهات البحرية. ③ امتلاك مياه داخلية. ④ تمتعها بالدفاع بالعمق.

يعود السبب وراء فقدان أفغانستان حدودها مع الهند إلى



- ب) تفكك الاتحاد السوفيتي.
د) تدخل عصبة الأمم كمنظمة دولية.

- ١) الرغبة في تنمية المناطق الهامشية.
٢) السياسة الاستعمارية.

« لكل فعل رد فعل ». في ضوء العبارة استنتج :

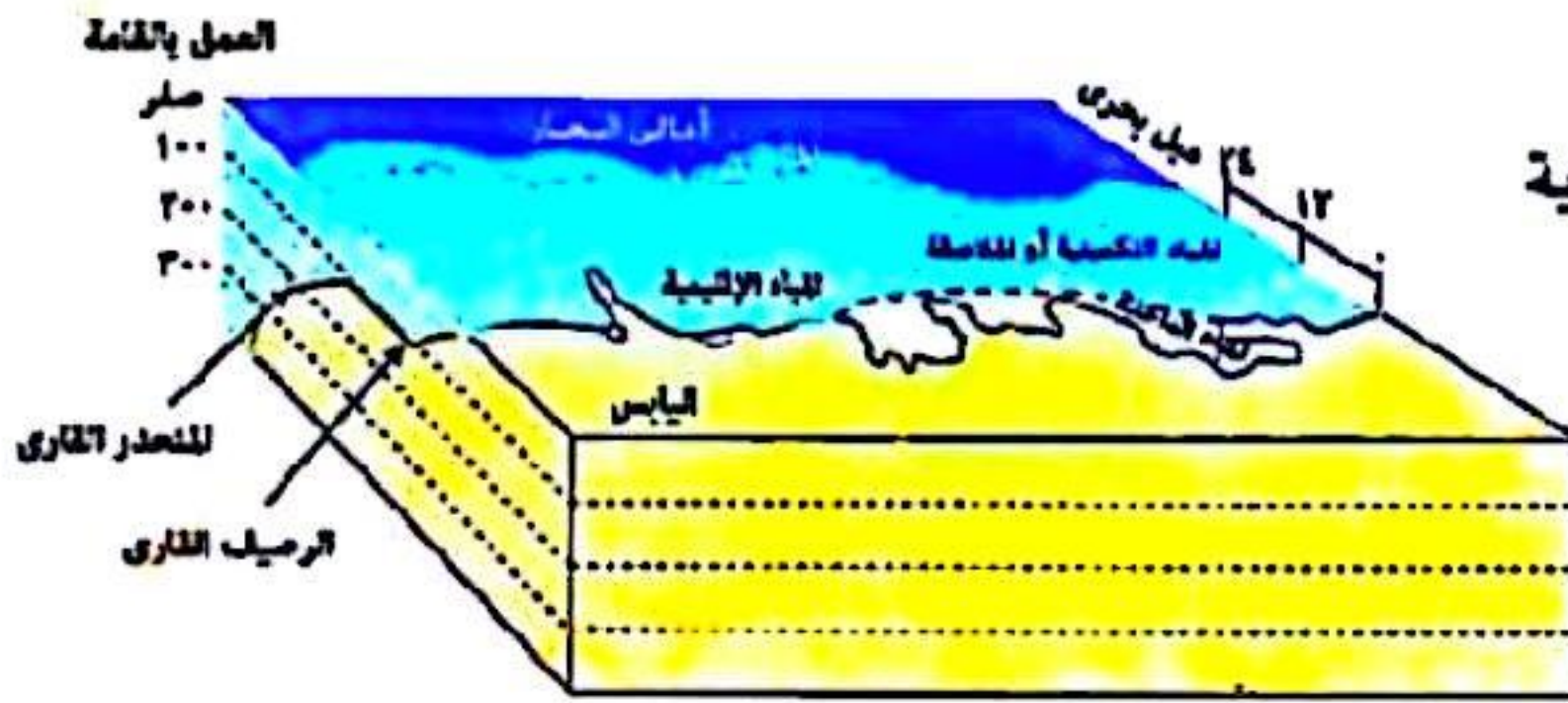
- جميع الأحداث السياسية التالية تعد ردود أفعال يخرج عنها
١) شروط كوبنهاجن.
٢) معاهدة الصداقة والتعاون.
٣) معاهدة ماستريخت.
٤) توقيع ميثاق حلف الناتو.

٢٧ تظهر الأقلية الروسية في دولة

- أ) جورجيا. ب) كرواتيا. ج) إيران. د) كوريا الجنوبية.

٢٨ «نقلت الثورة الصناعية العلاقات الدولية إلى آفاق أوسع».

- مضمون العبارة السابقة ، تؤكد العلاقة بين دولتي
أ) هولندا وبلجيكا. ب) أنجولا وناميبيا. ج) إنجلترا ونيجيريا. د) الصين والهند.



أنواع المناطق المائية

٢٩ ادرس الشكل المقابل ، ثم استنتج :

المناطق المائية التي تهتم الدولة بها لحماية

ثروتها المائية هي

- أ) المياه المحايطة وأعلى البحار.
ب) المياه الإقليمية والمياه الدولية.
ج) المياه الإقليمية والتكميلية.
د) المياه الدولية والداخلية.

٤٠ الدول التي نشأت حدودها السياسية نتيجة الاستعمار

- أ) السويد والنرويج. ب) كازاخستان وأوزبكستان.
ج) ليتوانيا ولاتفيا. د) بوليفيا وباراجواي.

٤١ التقطت الأقمار الصناعية سفينة تقف على مسافة ١٨ ميلاً بحرياً من خط الساحل ، فإنها بذلك تقف على

مسافة متساوية بين

أ / مصطفى عبدالعظيم

ت / 01097158554

- أ) الحافة الخارجية للمياه الإقليمية والحافة الخارجية للمياه التكميلية.
ب) الحافة الداخلية للمياه الإقليمية والحافة الخارجية للمياه التكميلية.
ج) خط الساحل والحد السياسي البحري للدولة.
د) الحافة الداخلية للمياه الإقليمية والحافة الداخلية للمياه التكميلية.

الدولة	نسبة الإنفاق العسكري من الدخل القومي
الولايات المتحدة الأمريكية	٤%
فرنسا	١,٦%
ألمانيا	١,١%
بولندا	٢%

ب) نجاح الحلف في التوسع غرباً .

ج) نجاح الحلف في التوسع شرقاً .

٤٢ الجدول الذي أمامك يمثل حجم

الإنفاق العسكري التقديري من

الدخل القومي لبعض دول حلف

الناتو عام ٢٠٢١ م :

بتحليل الجدول المقابل

نستنتج

أ) زيادة حدة الحرب الباردة.

ب) زيادة دور منظمة عدم الانحياز.

٤٣ حرص حكومة الدولة (س) على عدم اعتماد الموازنة دون موافقة البرلمان يعبر عن

الفصل بين السلطتين التنفيذية والتشريعية.

الفصل بين السلطتين القضائية والتشريعية.

تدخل السلطة التنفيذية في شئون السلطة التشريعية.

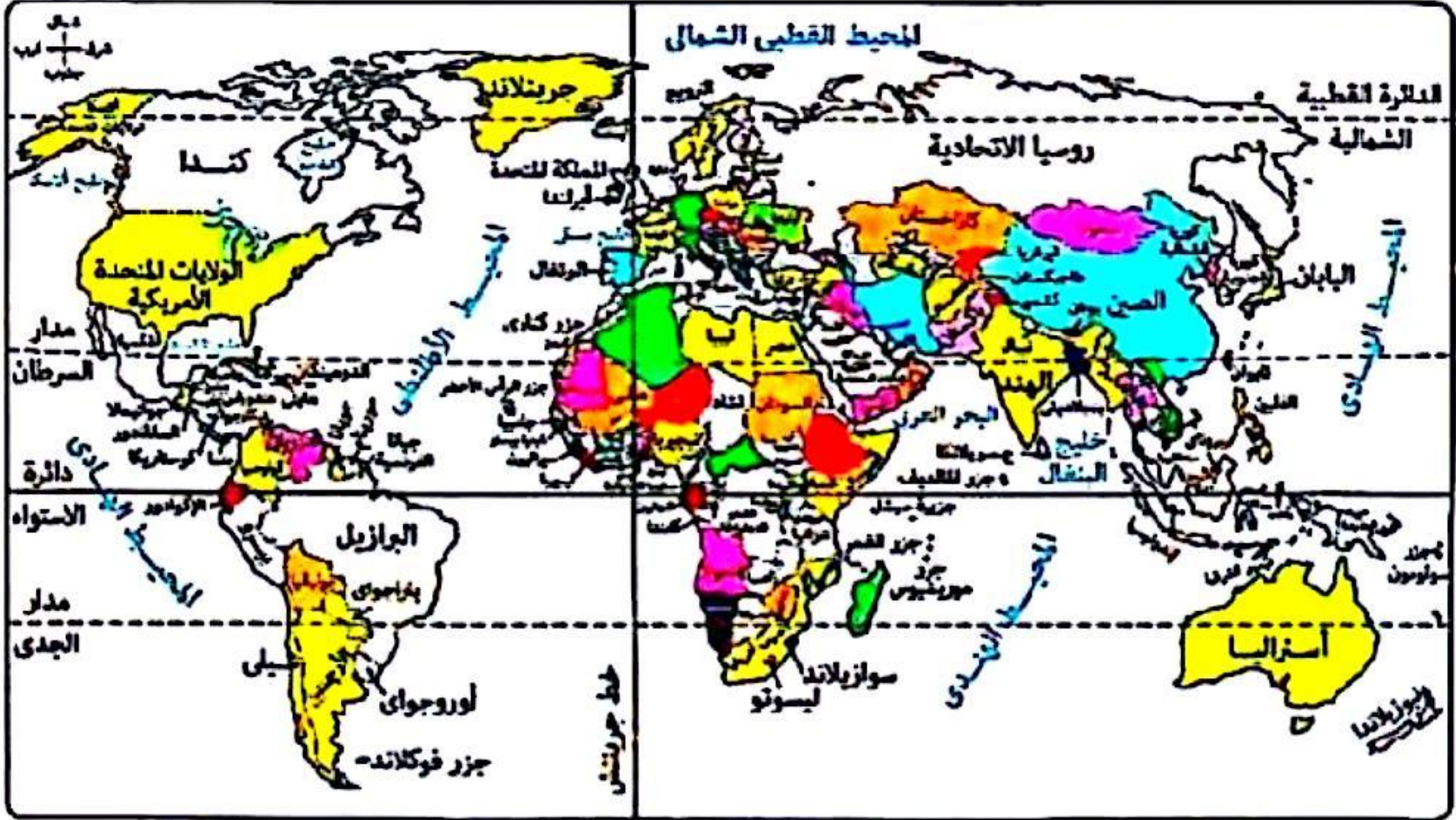
تدخل السلطة القضائية في شئون السلطة التشريعية.

أ / مصطفى عبدالعظيم

ت / 01097158554

٤٤ ادرس الخريطة ، ثم استنتج :

مشكلة اجتماعية ذات بعد سياسي تظهر في الربع الشمالي الشرقي من العالم



١) تيمور في إندونيسيا.

٢) الزنوج في الولايات المتحدة الأمريكية.

٣) القوقاز في جنوب إفريقيا.



امتحان شهادة الثانوية العامة

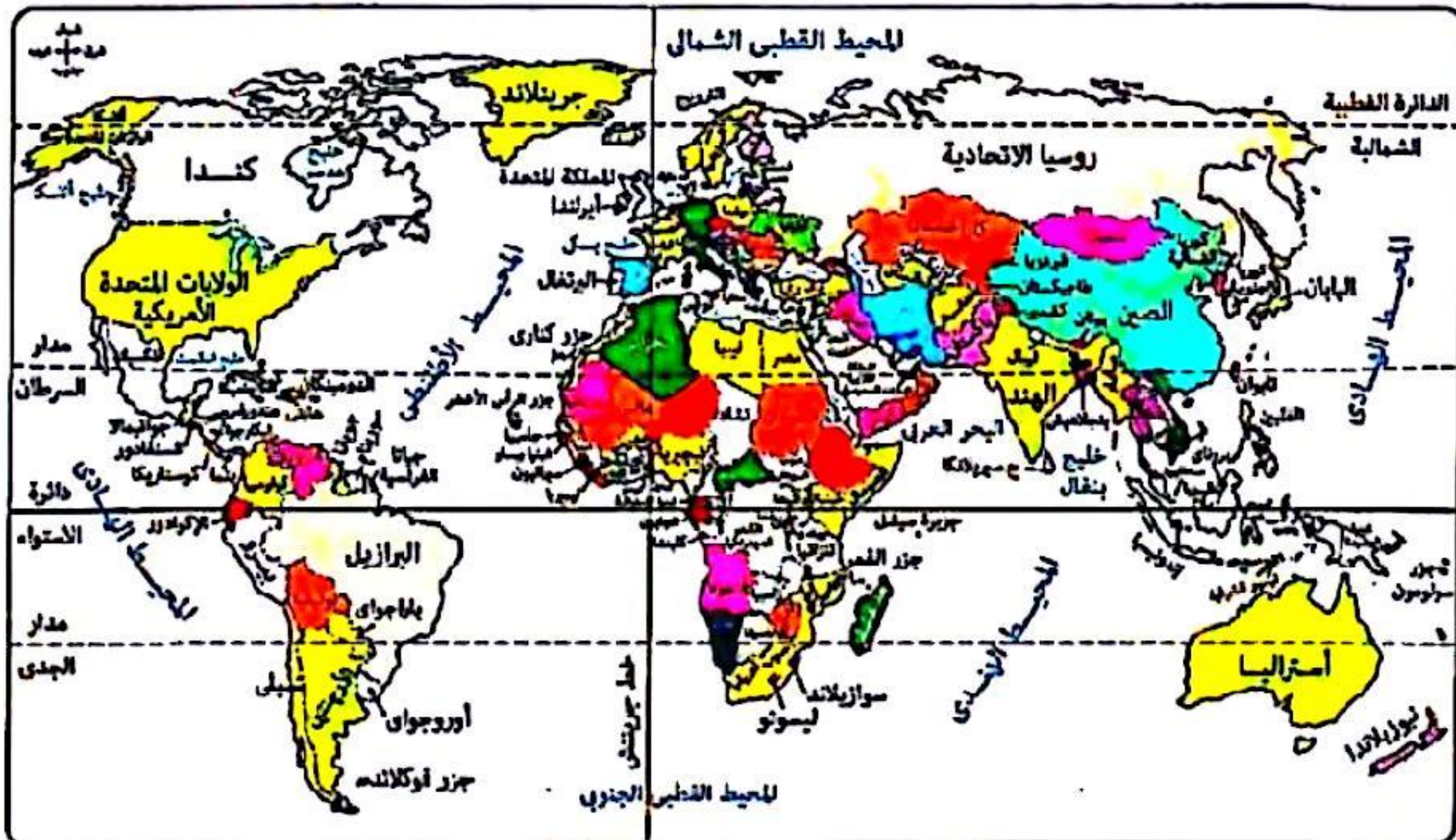
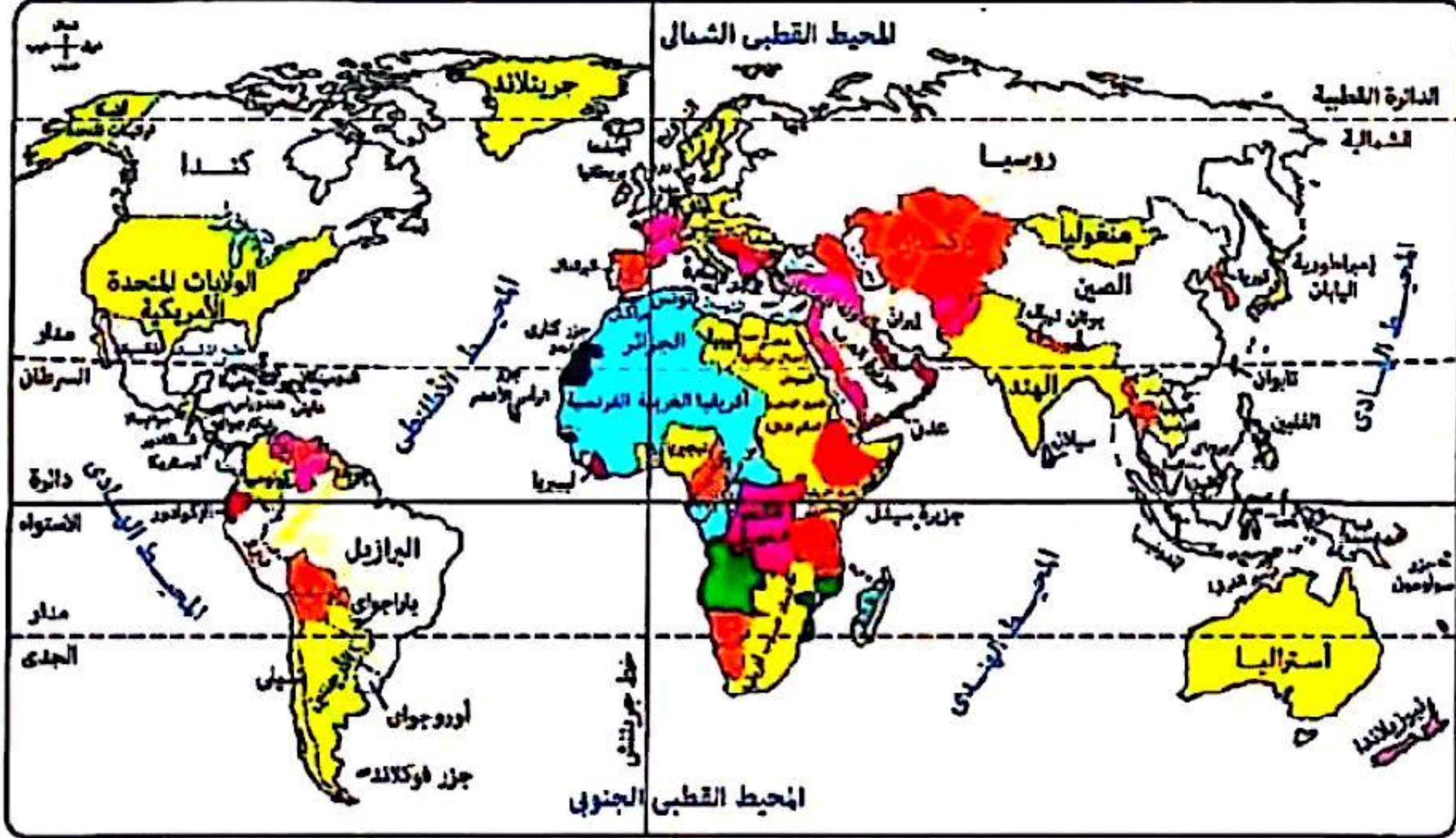
(دور ثان ٢٠٢٤)

أ / مصطفى عبدالعظيم

ت / 01097158554

الأسئلة الموضوعية (الاختيار من متعدد) «كل سؤال درجة واحدة» :

ادرس الخريطين ثم استنتج :



الدولة التي قامت برسم الحد السياسي بين النيجر ومالي هي

⑤ النمسا.

④ فرنسا.

③ بلجيكا.

① بريطانيا.



١ «أحد مظاهر القوة الاقتصادية للصين وجود موارد ضخمة تتناسب مع سكانها».

مضمون العبارة السابقة يتوافق مع آراء.....

- ✓ أرسطو. (ب) ابن خلدون. (ج) راتزل. (د) كيلين.

٢ جميع ما يلي يعبر عن الوظيفة السياسية والقانونية للحد، ويخرج عنها.....

① منع عبور الصحف والمجلات التي تضر بسلامة الوطن.

② منع دخول الأشخاص غير المرغوب فيهم.

③ خضوع جميع الأفراد المقيمين داخل الدولة لقوانينها.

✓ مراقبة تدفق السلع عبر الحد في الاتجاهين.

٣ أكثر الحدود السياسية ثباتاً تلك التي تفصل بين.....

① الولايات المتحدة الأمريكية والمكسيك. (ب) تشاد ومالي.

✓ الأرجنتين وشيلي. (د) باراجواي والبرازيل.

٥ ادرس الخريطة، ثم استنتج :

يتميز الساحل الغربي لأمريكا الجنوبية عن

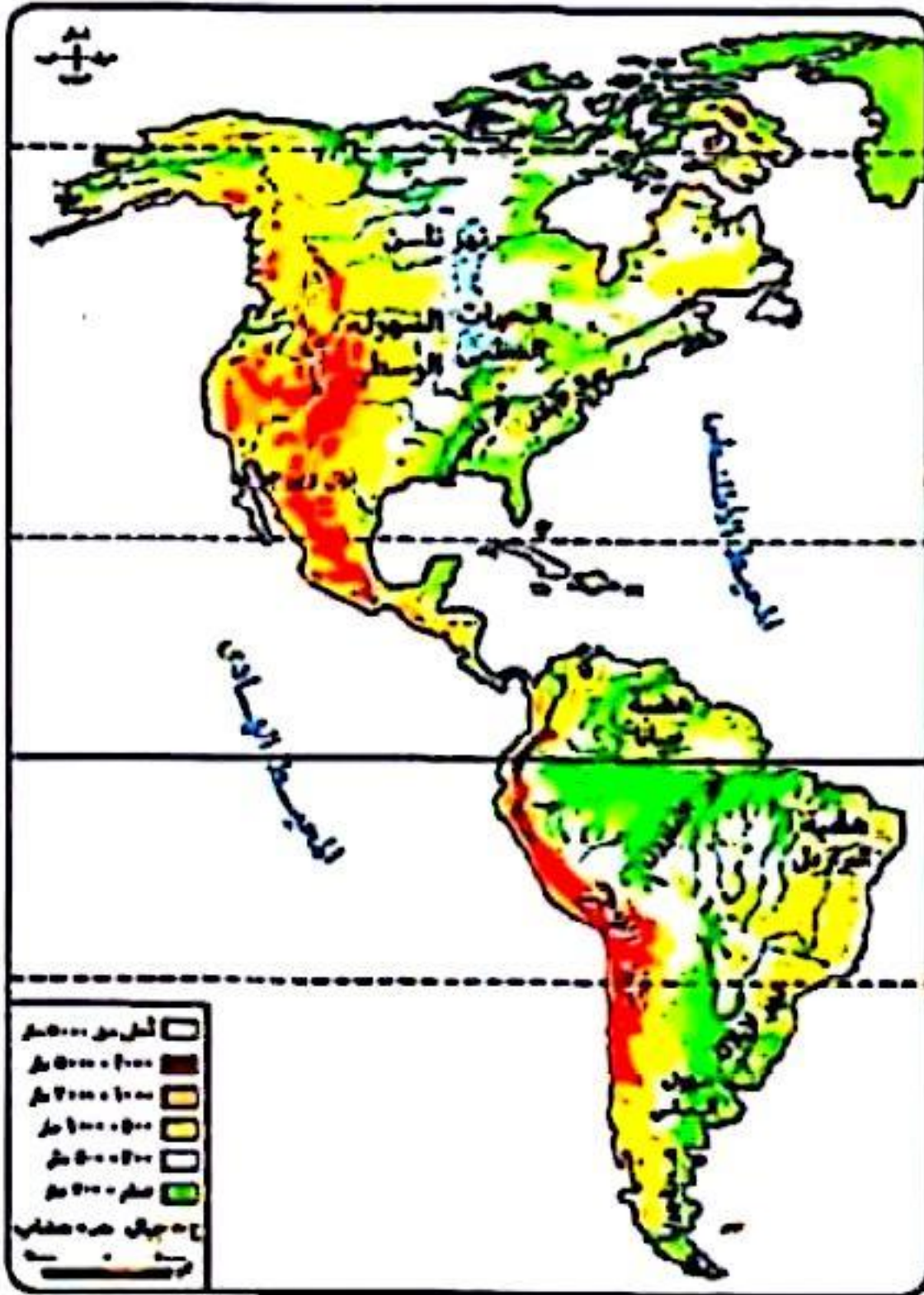
الساحل الغربي لأمريكا الشمالية ب.....

① اتساع السهل الساحلي.

② تركيز الصناعات الهندسية الحديثة.

✓ ③ وفرة المادة الخام اللازمة لصناعة المطاط.

④ ضيق السهل الساحلي.



خريطة تضاريس الأمريكتين

أ / مصطفى عبدالعظيم

ت / 01097158554

٦ أهم العوامل التي لعبت دوراً في توحيد الشعوب العربية.....

① المساحة والشكل. (ب) المناخ والموقع.

✓ ② اللغة والدين.



٧ يظهر دور الجغرافيين بوضوح في العملية الانتخابية في المرحلة

- أ) الأولى. ب) الثانية. ج) الثالثة. د) الرابعة.

٨ ظهر أثر القوة الاقتصادية للأقلية

- أ) الزنجية في الولايات المتحدة الأمريكية. ب) القوقازية في الولايات المتحدة الأمريكية. ج) القوقازية في جنوب إفريقيا. د) الزنجية في جنوب إفريقيا.

٩ النهر الذي يلعب دور الفصل والوصل معا هو

- أ) ريوجراند. ب) النيل. ج) السين. د) الراين.

١٠ «الثروات الطبيعية قد تكون نعمة وقد تكون نقمة». في ضوء العبارة السابقة استنتج :

- أ) أوروبا. ب) إفريقيا. ج) أستراليا. د) أمريكا الشمالية.

١١ أحد الأسباب التي أدت إلى نزاعات سياسية ناتجة من حركة الرعاة داخل الدولة

- أ) تنقلات الرعاة بين الدول كنتيجة للتغيرات المناخية. ب) رسم الحدود السياسية دون مراعاة للقبائل وتوزيعاتها. ج) تحصيل الضرائب والرسوم من الرعاة على حدود الدول. د) تحويل جزء من الأراضي الرعوية إلى أراضٍ زراعية.
- أ / مصطفى عبدالعظيم
ت / 01097158554

١٢ جاء قرار مصر بإنشاء مزارع سمكية لزيادة الإنتاج والتصدير للخارج اعتمادًا على إحدى التقنيات الحديثة،

- وهي
- أ) المرثبات الفضائية. ب) تكنولوجيا المعلومات. ج) الاستشعار من بُعد. د) نظم المعلومات الجغرافية.

١٣ دولة تعاني من ظاهرة هجرة العقول

- أ) ألمانيا. ب) بوليفيا. ج) كندا. د) فرنسا.

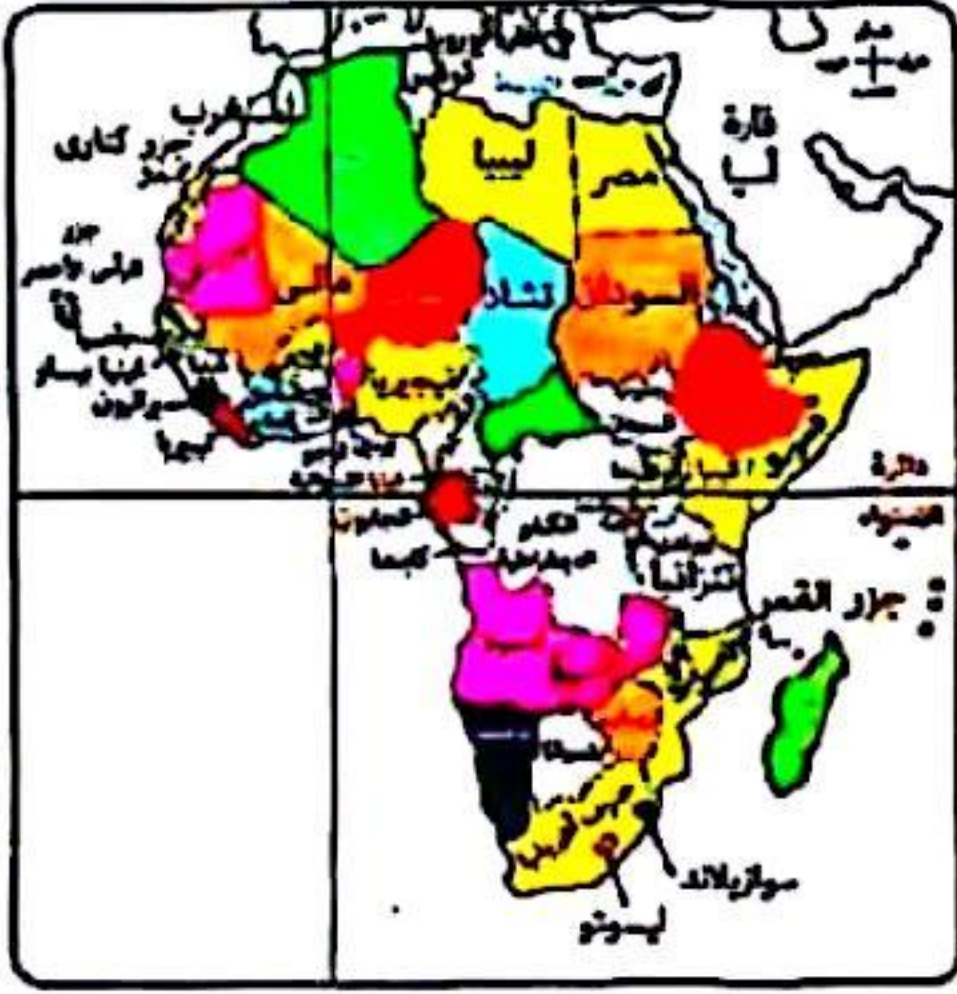
١٤ يمكن التوصل لحل جذري لمشكلة سبتة ومليلة لصالح المغرب بالاعتماد على

- أ) الموقع الجغرافي والعامل التاريخي. ب) العامل الديموجرافي والعامل الإثنوغرافي. ج) الموقع الجغرافي والعامل الإثنوغرافي. د) العامل التاريخي والعامل الديموجرافي.

١٥ أهم مقومات نجاح مجلس التعاون لدول الخليج العربي المقوم

- أ) الإثنوغرافي. ب) الديموغرافي. ج) السياسي. د) الاقتصادي.





١٦ ادرس الخريطة، ثم استنتج :

حال قيام اتحاد فيدرالى بين دول «جنوب إفريقيا -

ليسوتو - بتسوانا»، فمن المتوقع أن

① يزداد عدد الدول الجيبية في إفريقيا.

② يزداد عدد الدول الحبيسة في إفريقيا.

③ يقل عدد الدول البحرية في إفريقيا.

④ يقل عدد دول قارة إفريقيا. ✓

١٧ شكل الدولة قد يؤثر سلبيًا على قوتها، يظهر ذلك في دولة

① مصر.

② شيلي. ✓

③ فرنسا.

④ بلجيكا.

١٨ الدولة الأقرب في خصائصها لمفهوم الأمة

① أستراليا.

② سويسرا.

③ الصين. ✓

④ الولايات المتحدة الأمريكية.

١٩ يُعد تخفيف أثر الصدمات الخارجية من أهداف التكتلات الاقتصادية، وهو ما تحققه كل دول قارة

① أمريكا الشمالية. ✓

② أمريكا الجنوبية.

③ إفريقيا.

④ أوروبا.

٢٠ من خلال الخريطة التي أمامك استنتج :

أقصر جبهة بحرية للكوميسا تشرف

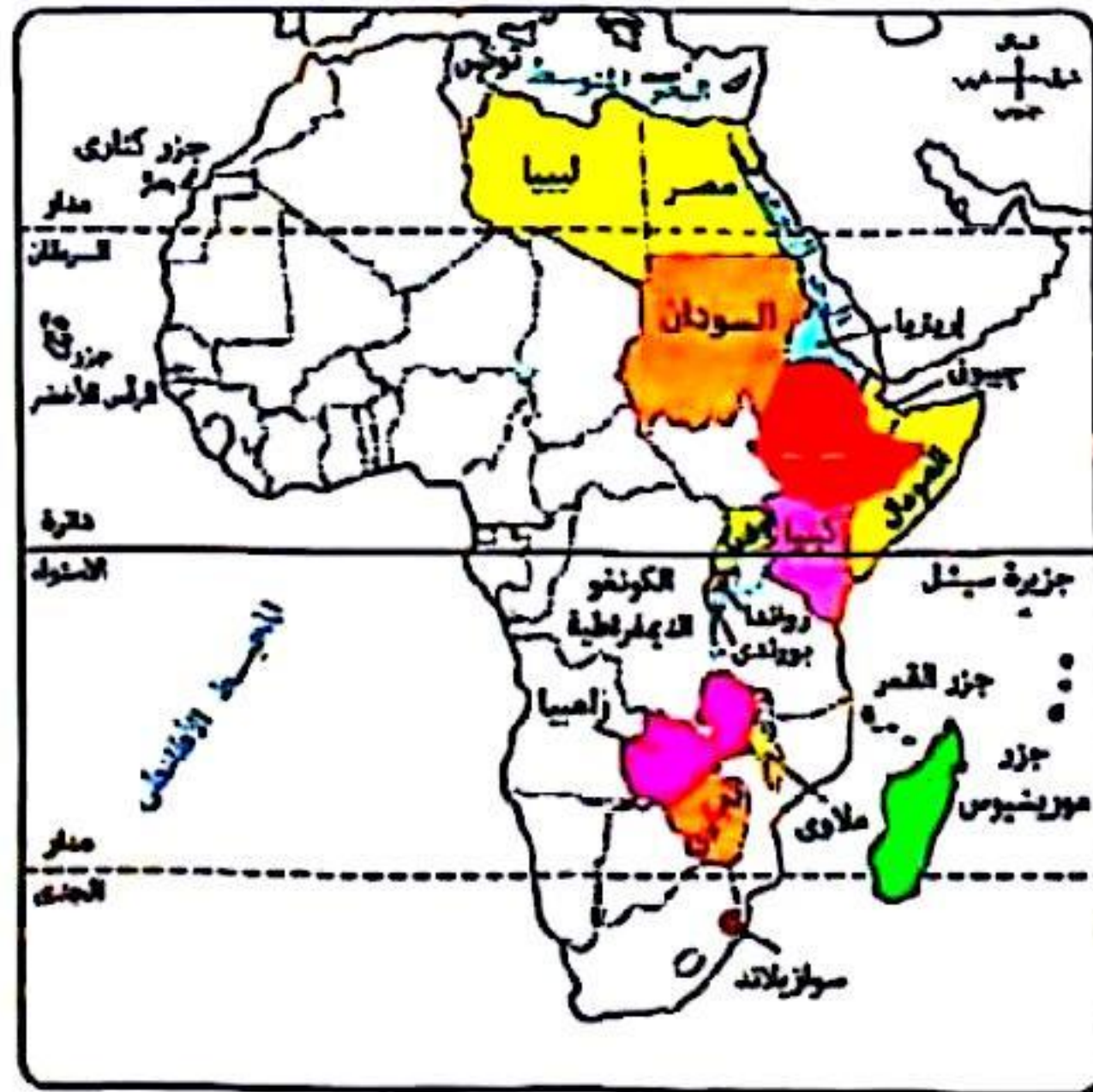
على

① البحر الأحمر.

② المحيط الأطلنطي. ✓

③ المحيط الهندي.

④ البحر المتوسط.



أ / مصطفى عبدالعظيم

ت / 01097158554

٢١ حال خروج هجرات غير شرعية من قارة إفريقيا، فإن أكثر الدول تضرًا هي

① إيطاليا. ✓

② السويد.

③ النرويج.

④ فنلندا.



٢٢ «شجع الخلفاء المسلمون على حركة الترجمة من اللغات الأخرى إلى اللغة العربية».

- في ضوء العبارة استنتج : تتميز مناطق الفصل بين الدول في تلك الفترة بـ
- ① كونها ظاهرة قابلة للحركة والنقل.
② كونها ممسوحة جغرافيًا.
③ كونها ظاهرة قانونية.
④ غناها بالموارد الاقتصادية.

٢٣ يظهر دور المرأة بوضوح في العملية الإنتاجية في دولة

- ① شيلي. ② البرازيل. ③ ألمانيا. ④ نيجيريا.

٢٤ «القاهرة - أبوجا - باريس»، عواصم تتمتع جميعها بـ

- ① الحماية والدفاع. ② السيادة القومية.
③ أنها عواصم مستحدثة. ④ أنها عواصم تاريخية.

٢٥ تتوقع زيادة عدد الدوائر الانتخابية لدولة أفغانستان في جهتي

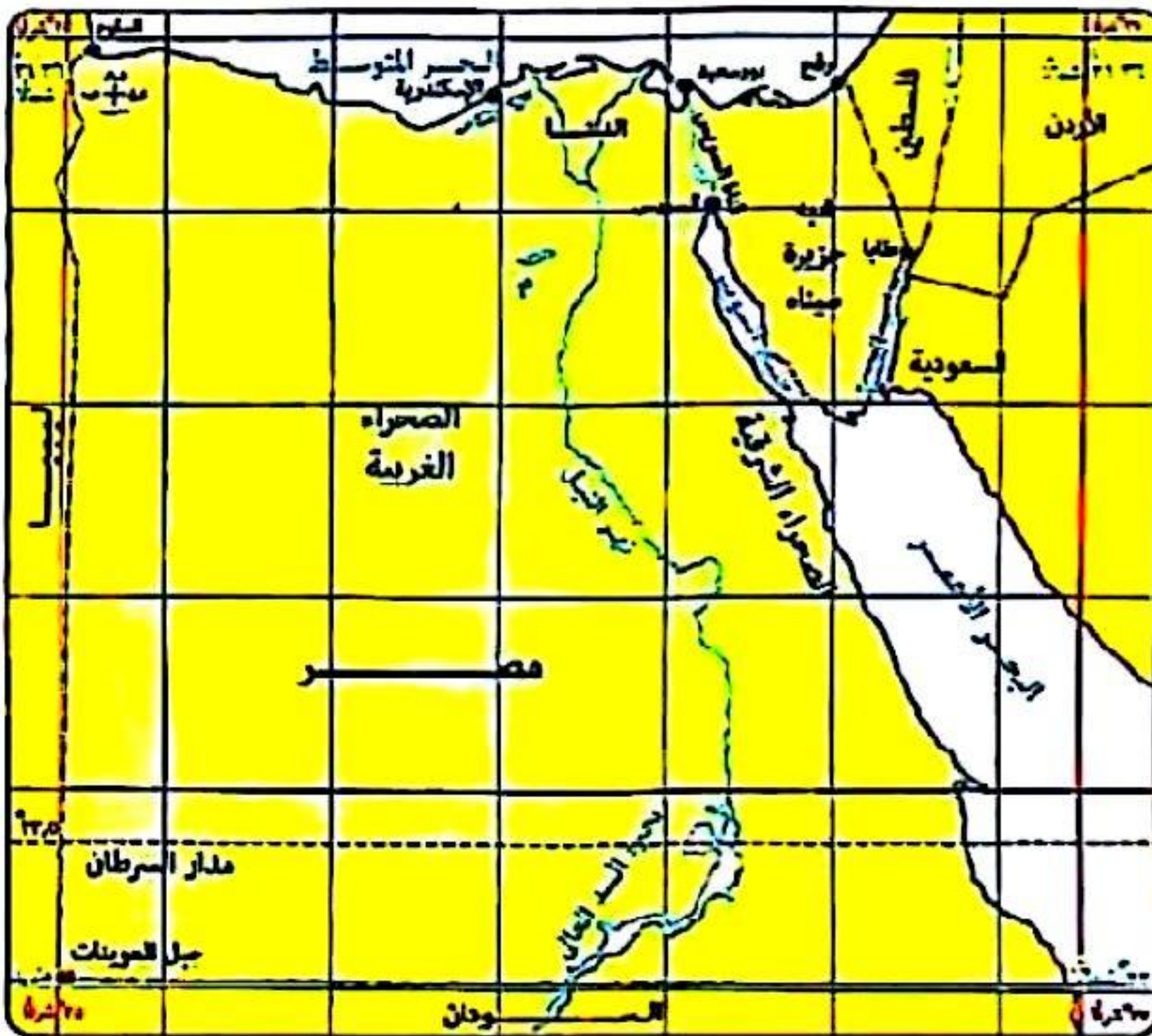
- ① الشمال والغرب. ② الشمال والشرق. ③ الجنوب والشرق. ④ الجنوب والغرب.

٢٦ ساهمت في نقل العلاقات الدولية من علاقات جوار إلى آفاق أوسع منتصف القرن الـ ١٨م

- ① الثورة المعلوماتية. ② الثورة الصناعية. ③ التكتلات الاقتصادية. ④ الأحلاف العسكرية.

٢٧ كان لتفكك الاتحاد السوفيتي وامتلاك الغرب السلاح والتكنولوجيا أثر سلبي على منطقة

- ① شرق أمريكا الشمالية. ② شرق أوروبا. ③ غرب أوروبا. ④ غرب إفريقيا.



٢٨ حلل الخريطة، ثم استنتج :

- تلتقى الحدود البرية لمصر معاً
في الركن
- ① الشمال الغربي.
② الجنوبي الشرقي.
③ الجنوبي الغربي.
④ الشمالي الشرقي.

أ / مصطفى عبدالعظيم

ت / 01097158554

٢٩ يرجع نجاح دولة تونس في حصر مواردها الاقتصادية بسهولة إلى

أ المساحة. ✓
ب الموقع.
ج المناخ. ✓
د التضاريس.

٣٠ «تأثير الأقليات على استقرار الدولة يتوقف على عدة عوامل بعضها طبيعي وبعضها بشري»،
في ضوء العبارة استنتج : الأقلية التي تنطبق عليها العبارة السابقة توجد بدولة تقع

أ شمال أمريكا الشمالية. ✓
ب شرق إفريقيا.
ج غرب آسيا. ✓
د جنوب أمريكا الجنوبية.

٣١ قد يقلل النبات الطبيعي من الامتزاج الثقافي أحياناً كما في سهول

أ الفرات. ✓
ب السين.
ج الأمازون. ✓
د الراين.

٣٢ تغيير بعض الأنهار الدولية لمجاريها لعب دوراً إيجابياً لصالح دولة

أ الولايات المتحدة الأمريكية. ✓
ب المكسيك. ✓
ج فرنسا.
د ألمانيا.

ب الأسئلة الموضوعية (الختيار من متعدد) «كل سؤال درجتان» :

٣٣ يظهر دور النظام السياسي في صورته المؤسسية في

أ التوسع في مشروعات البنية التحتية.
ب إقرار الموازنة العامة للدولة. ✓
ج التوسع في منظومة التأمين الصحي.
د التوسع في إنشاء المدارس التكنولوجية الحديثة.

٣٤ استبقاء قاعلية الحد السياسي البحري للدولة يظهر في

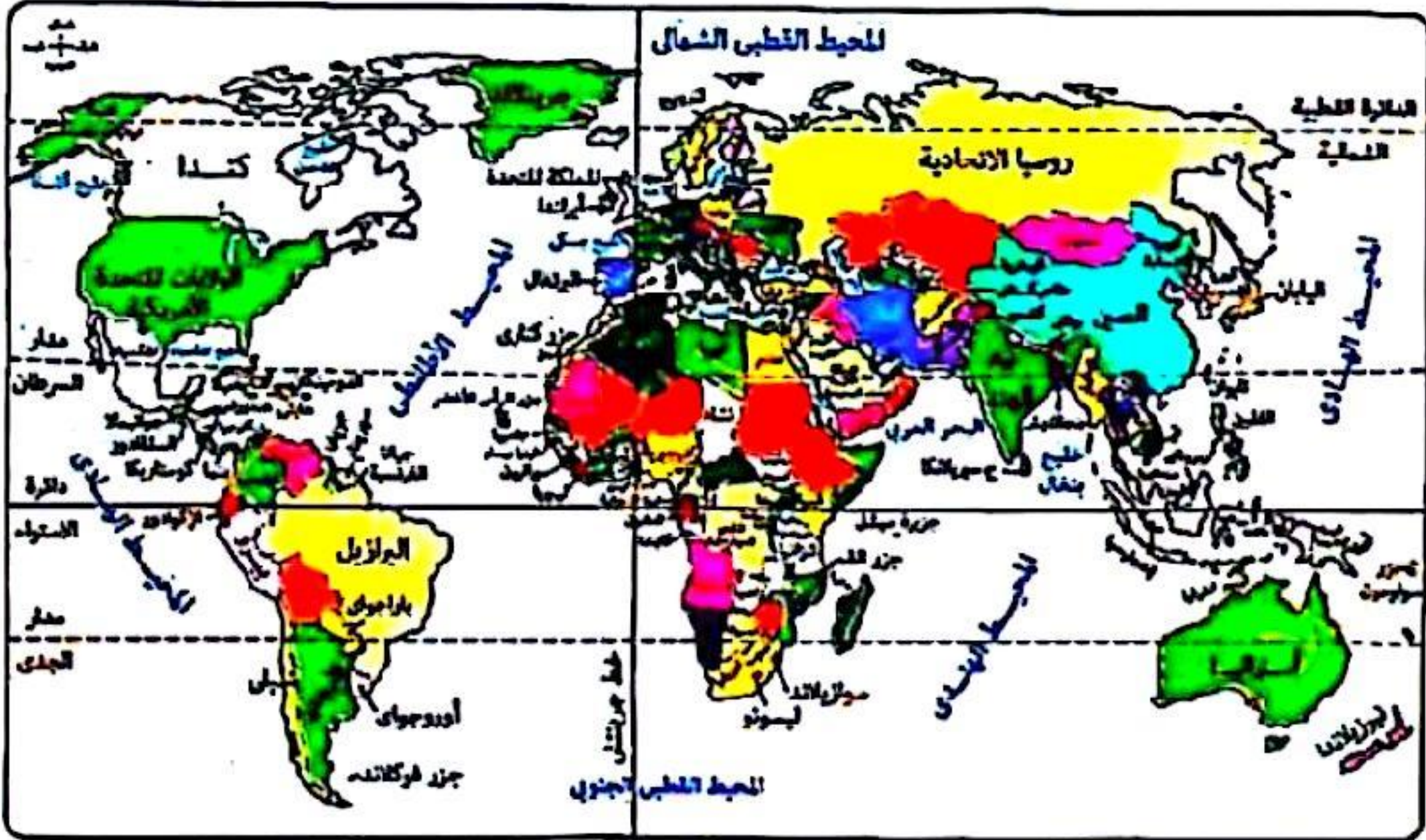
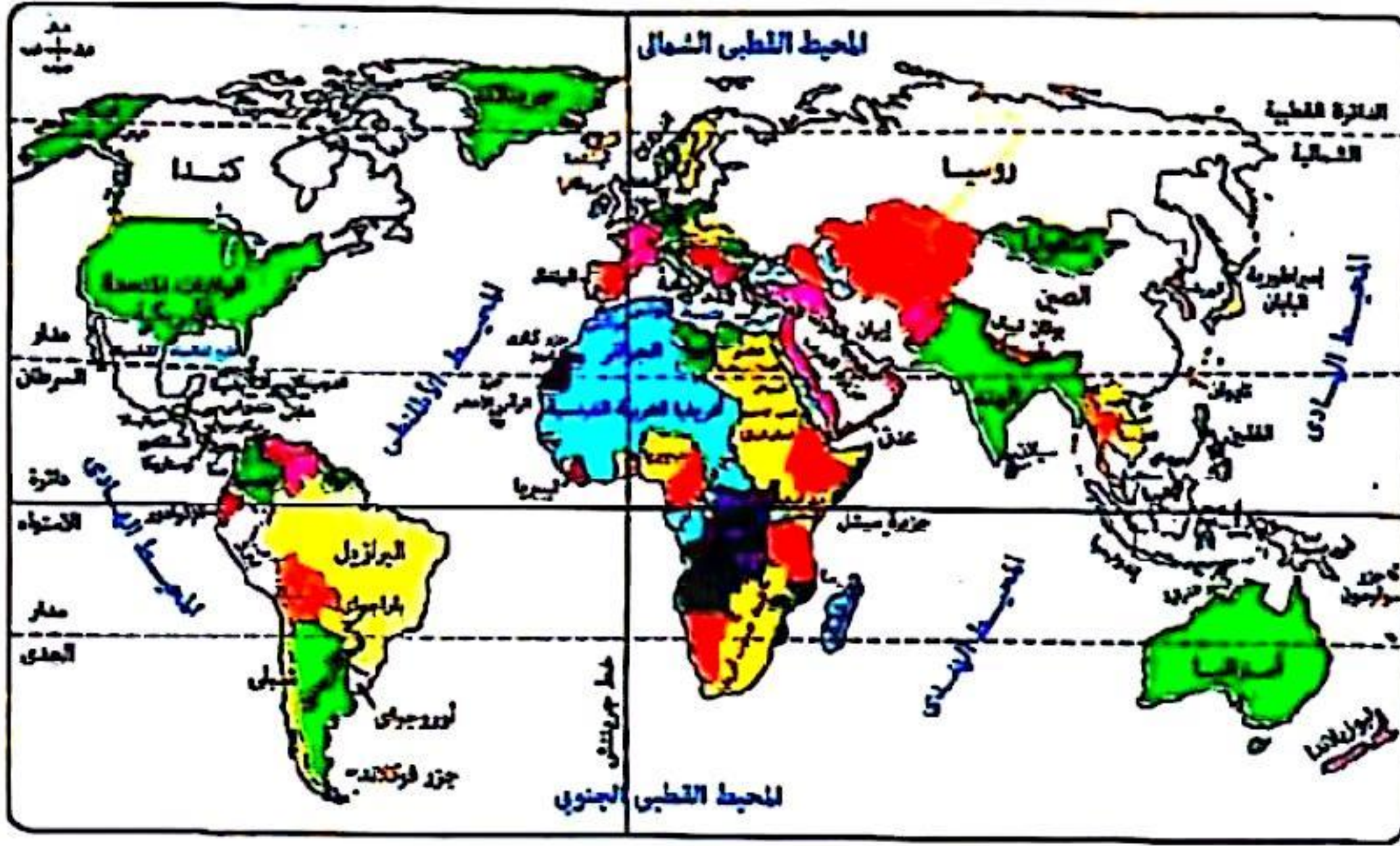
أ الحافة الخارجية للمياه الإقليمية. ✓
ب الحافة الخارجية للمياه المحايدة.
ج الحافة الخارجية للمياه التكميلية.
د الحافة الخارجية للمياه الداخلية.

أ / مصطفى عبدالعظيم

ت / 01097158554



درس الخريطين، ثم استنتج :



المنطقة الأكثر ثباتاً في حدودها السياسية تقع في الربع

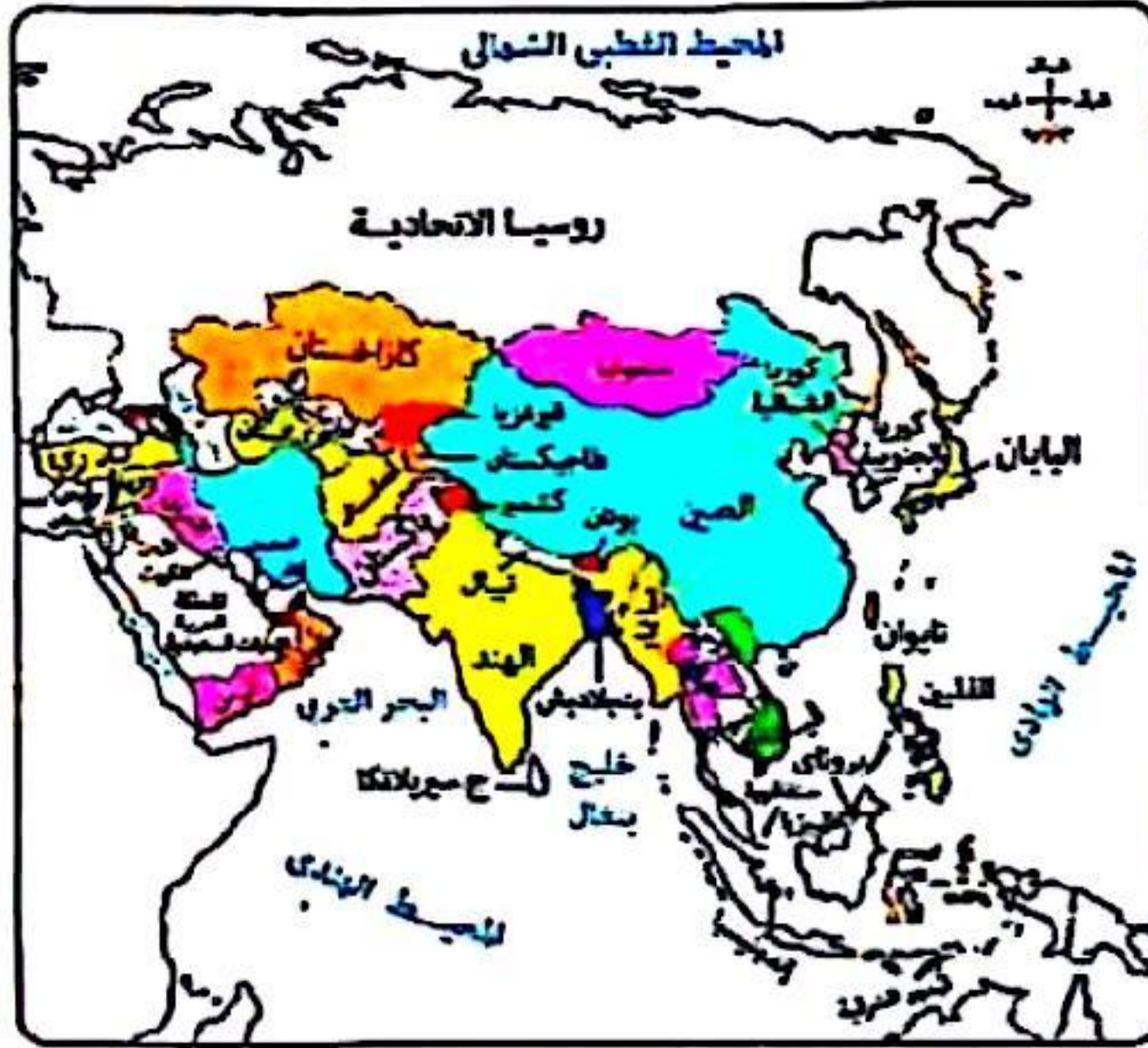
أ / مصطفى عبدالعظيم
ت / 01097158554

① الشمالي الشرقي.
② الجنوبي الغربي.
③ الشمالي الغربي.
④ الجنوبي الشرقي.

تعود جذور المشكلات السياسية في شبه القارة الهندية إلى الاستعمار

① الإيطالي.
② الفرنسي.
③ الإسباني.
④ البريطاني.





خريطة آسيا السياسية الآن

٣٧ استعن بالخريطة، ثم استنتج :

تتوقع وجود الأقليات السلافية
في دولتي

أ) كازاخستان وجورجيا. ✓

ب) روسيا وأوزبكستان.

ج) أذربيجان وتركيا.

د) منغوليا وكوريا الجنوبية.

أ / مصطفى عبدالعظيم

ت / 01097158554

٣٨ «تلعب المواقع المركزية دورًا فعالًا في العلاقات الدولية». مضمون العبارة السابقة ينطبق على دولة

أ) أستراليا.

ب) شيلي.

ج) نيوزلندا.

د) مصر. ✓

٣٩ الهدف النهائي من دراسة المقومات الطبيعية والبشرية للمملكة العربية السعودية هو التعرف على

أ) نشاطها البشري.

ب) نشاطها الاقتصادي.

ج) علاقاتها الدولية.

د) تنظيمها الداخلي. ✓

٤٠ ارتبطت نشأة الحدود السياسية في معظم دول قارة أمريكا الجنوبية بـ

أ) حدود الغالب والمغلوب.

ب) تنمية المناطق الهامشية.

ج) زيادة عدد السكان.

د) تقسيم الاستعمار لمستعمراته. ✓



٤١ ادرس الشكل أمامك، ثم استنتج :

عند الاتجاه نحو خط الساحل فإن
المياه التي تسبق المياه التكميلية
مباشرة تتميز بـ

أ) السيادة المطلقة للدولة عليها.

ب) أنها جزء من يابس الدولة.

ج) دعاء بعض الدول السيادة عليها. ✓

د) أنها مفتوحة للجميع دون قيود.

٤٣ قدم حلف الناتو مساعدات إنسانية لدولة تقع خارج نطاقه الإقليمي هي
Ⓐ هولندا.
Ⓑ الولايات المتحدة الأمريكية.
Ⓒ باكستان.
Ⓓ كندا.

٤٢ نقطة التماس بين كل من الدول المركزية والفيدرالية تتمثل في
Ⓐ الاستقلال الذاتي للسلطة المحلية.
Ⓑ الكثافة السكانية المنخفضة.
Ⓒ محدودية انتشارها على خريطة العالم.
Ⓓ مجلس نيابي واحد لكل دولة.

أ / مصطفى عبدالعظيم
ت / 01097158554

٤٤ نجح التحكيم كأحد أساليب حل النزاعات السلمية في حل مشكلات تقع في
Ⓐ جنوب إفريقيا.
Ⓑ وسط إفريقيا.
Ⓒ شمال إفريقيا.
Ⓓ غرب إفريقيا.



٤٣ قدم حلف الناتو مساعدات إنسانية لدولة تقع خارج نطاقه الإقليمي هي
① هولندا.
② الولايات المتحدة الأمريكية.
③ باكستان.
④ كندا.

٤٢ نقطة التماس بين كل من الدول المركزية والفيدرالية تتمثل في
① الاستقلال الذاتي للسلطة المحلية.
② الكثافة السكانية المنخفضة.
③ محدودية انتشارها على خريطة العالم.
④ مجلس نيابي واحد لكل دولة.

أ / مصطفى عبدالعظيم
ت / 01097158554

٤٤ نجح التحكيم كأحد أساليب حل النزاعات السلمية في حل مشكلات تقع في
① جنوب إفريقيا.
② وسط إفريقيا.
③ شمال إفريقيا.
④ غرب إفريقيا.



امتحان الثانويه العامه جغرافيا ٢٠٢٥

اولا الاسئله الموضوعيه (الاختيار من متعدد) كل سؤال درجه

١- تتسم التخوم بالعديد من الخصائص احداها انها.....

أ- قابله للنقل ب- ذات خطوط مستقيمه ج- شرعيه وقانونيه د- ذات اهميه اقتصاديه

٢- الفتره التي تمثل اكبر صحوه للعلاقات الدوليه كانت

أ- منذ الثورة الصناعيه ب- قبل ظهور الدوله القوميه الحديثه

ج- اثناء العصور الوسطى د- اثناء العصور القديمه

٣- تاكدت السيادة المطلقه للوحدات السياسيه مع بدايه ظهور

أ- الاتحادات الكونفدراليه ب- الدوله الفيدراليه ج- الدوله القوميه الحديثه د- التكتلات الاقصاديه

٤- افضل طريقه لحل مشكله كشمير وفقا للخصائص الاثنوغرافيه للسكان بها

أ- اجراء استفتاء لتقرير مصير كشمير من قبل سكان المنطقه

ب- تقسيم كشمير بين الهند وباكستان بناء على الحدود الحاليه

ج- جعل منطقه كشمير منطقه مستقله ذات سياده تحت اشراف الهند

د- الحفاظ على الوضع الراهن دون تغيير

٥- (تعد الغابات الاستوائيه موردا مهما لانتاج ماده الخام لصناعه اطارات السيارات) في ضوء العبارة استنتج

الدوله التي تفتقد لانتاج هذه ماده

أ- اندونسا ب- نيجيريا ج- كندا د- البرازيل

٦- اى العوامل التاليه سببا للتاثير السلبي للاقليه على الاغلبيه بدوله جنوب افريقيا ؟

أ- التوزيع الجغرافى للاقليه ب- حجم الاقليه وقوتها الاقصاديه ج- وطن الاقليه د- الخصائص القوميه للاقليه

٧- المرحله التي تلى تقسيم الدوائر الانتخابيه مباشره هي

أ- الترشح للانتخابات ب- اجراء الانتخابات ج- فرز الاصوات د- اعلان الفائزين





اي الدول التاليه تفتقد الاشراف على مواقع استراتيجيه عالميه

أ- ايران ب- سلطنه عمان ج- الجزائر د- جيبوتي

٩- اي الدول التاليه الاكثر استفاده من اتفاقيات الانهار للاتصال بالعالم الخارجى ؟

أ- المانيا ب- النمسا ج- فرنسا د- ايطاليا

١٠- (ظاهره الاحتباس الحرارى اصبحت حاليا مجال اهتمام قادة دول العالم المتقدم والنامى على حد سواء)

هذه العبارة توضح احدى خصائص النظام العالمى الجديد وهى

أ- تحرير التجاره العالميه ب- تدويل المشاكل والقضايا التى يواجهها العالم

ج- ظهور التكتلات الاقتصاديه الكبرى د- تقلص دور السيادة الوطنيه لدى بعض الدول

١١- يتضح تاثير العوامل الاجتماعيه والاقتصاديه فى حدوث النزاعات فى مناطق الرعى من خلال

أ- زيادة السكان وتناقص الاراضى الزراعيه ب- ترسيم الحدود وتناقص عدد السكان

ج- زياده الاراضى الزراعيه وزياده المراعى د- زياده السكان وتحصيل الضرائب

١٢- يتم نقل وقائع مؤتمر القمه الاسلامى مباشره اعتمادا على احدى التقنيات الحديثه وهى

أ- الاستشعار عن بعد ب- نظم المعلومات الجغرافيه ج- نظام تحديد المواقع العالميه د- تكنولوجيا المعلومات

١٣- هناك عوامل طبيعيه مكنت حكومه بلجيكا من السيطرة على اجزائها وادارتها بسهولة تتمثل فى العامل

أ- العسكرى ب- الديموجرافى ج- المورفولوجى د- الاثنوجرافى



٢٠- (بتحليل نتائج الانتخابات في احدى الدوائر الانتخابيه وجد ان معظم الناخبين ادلوا باصواتهم الى مرشحين من عائلات معينه دون غيرها بغض النظر عن البرنامج الانتخابي للمرشح او حزبه السياسي) تعبر العبارة السابقه عن

أ- تحليل اثر البيئة الطبيعيه على السلوك الانتخابي للفرد

ب- توزيع الدوائر الانتخابيه

ج- تحليل السلوك الانتخابي للناخبين

٢١- ظهرت معاهده الصداقه والتعاون والمساعده المتبادله كرد فعل مباشر بعد

أ- عقد ميثاق حلف شمال الاطلسي

ب- انضمام المانيا الغربيه لحلف الناتو

ج- التدخل العسكري في دوله تشيكو سلوفلشيا

د- عقد ميثاق منظمه الامم المتحده

٢٢- ادرس الخريطه جيدا ثم استنتج



جميع القارات الاتيه ظهرت بها امبراطوريات تخرج عنها قاره

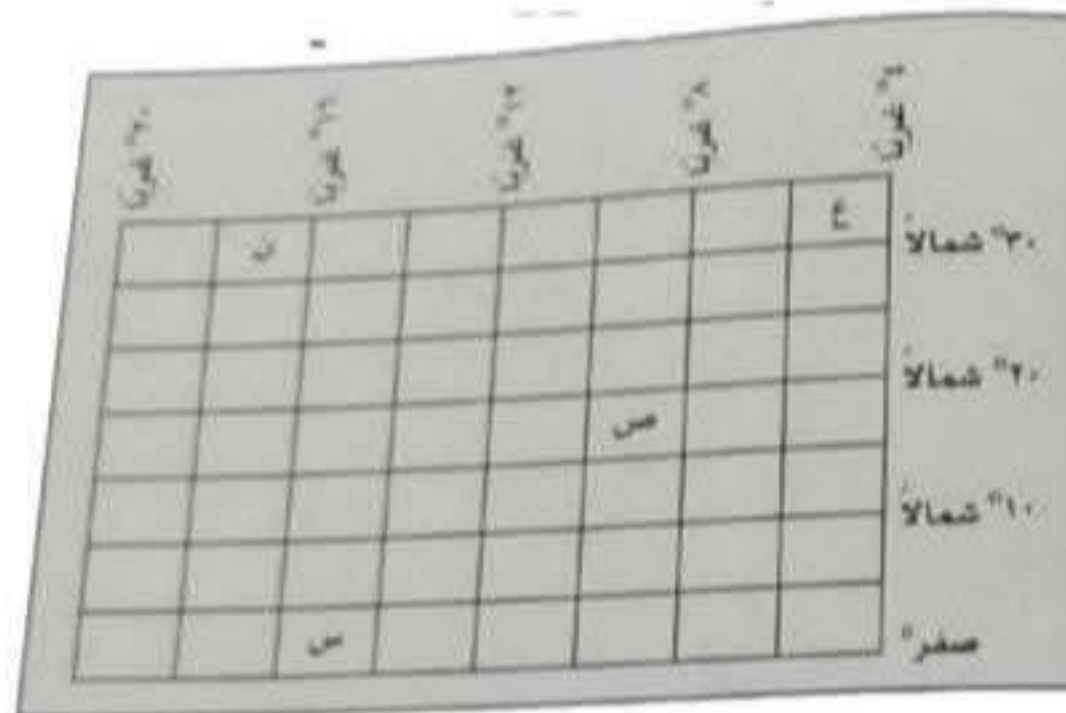
أ- امريكا الجنوبيه

ب- اوربا

ج- اسيا

د- افريقيا

٢٣- امامك احداثيات لدوله مل ادرسها جيدا ثم استنتج



تقع العاصمه بالدوله التي امامك عند تقاطع دائره عرض ٣٠ شمالاً مع خط طول ١٠ غرباً في ضوء العبارة حدد منطقه الاقليه التي يسهل للدوله السيطرة عليها حال قيامها باضطرابات داخل الدوله

أ- ص

ب- س

ج- ع

د- ن

د- امريكا الشماليه

ج- افريقيا

ب- استراليا

أ- امريكا الجنوبيه

ثانيا الاسئله الموضوعيه (الاختيارى من متعدد) كل سؤال درجتين

٣٣- يظهر النظام السياسى فى صورته الاجتماعيه هى

ب- اعلان موريتانيا خروجها من مجموعه الايكواس

أ- اقرار الموازنه العامه لدوله ما

د- سعى الافراد لتنميه الحى وتجميله

ج- اعلان دوله توقيع اتفقيه دوليه



تصنف الحدود المصرية الجنوبية والغربية كونها حدود.....

- أ- جبلية ب- نهريه ج- بشريه د- بحريه

١٥ - التكتل الاقتصادي الذي يفتقد تنوع موارده الاقتصادية.....

- أ- مجلس التعاون لدول الخليج العربي ب- امتدى التعاون الاقتصادي لدول شرق اسيا والمحيط الهادى
ج- الاتحاد الاوروبى د- السوق المشتركة لدول شرق وجنوب افريقيا

١٦ - اى من الدول الاتيه تستطيع تنميه وتطوير جميع اجزائها بفضل المساحه ؟

- أ- هولندا ب- الهند ج- الارجننتين د- استراليا

١٧ - الدوله الفيدراليه التي درستها وتستطيع الاستفادة من ثروات الرصيف القارى من جميع جهاتها هي

- أ- سويسرا ب- الهند ج- استراليا د- البرازيل

١٨ - العبارة التي تشير الى مفهوم الامه

- أ- قيام مجموعه بشريه باجراء انتخابات تشريعيه
ب- قيام وزاره الزراعه بانشاء مجموعه من صوامع الغلال
ج- اتخاذ مجلس الوزراء قرارا بزياده موازنه الدوله
د- تميز مجموعه بشريه بتراث شعبى شديد الخصوصيه

١٩ - ظهرت التكتلات الاقتصادية على خريطة العالم السياسيه لتحقيق اهداف اجتماعيه منها

- أ- تخفيف اثر الصدمات السياسيه الخارجيه ب- تنويع الانتاج بطريقه اقتصاديه
ج- الاستفادة من مزايا الانتاج الكبير د- رفع مستوى رفاهيه المواطنين



٣١- ادرس الخريطة جيدا ثم استنتج



تساعد السهول على الامتزاج الثقافي بين السكان ويخرج عنها.....

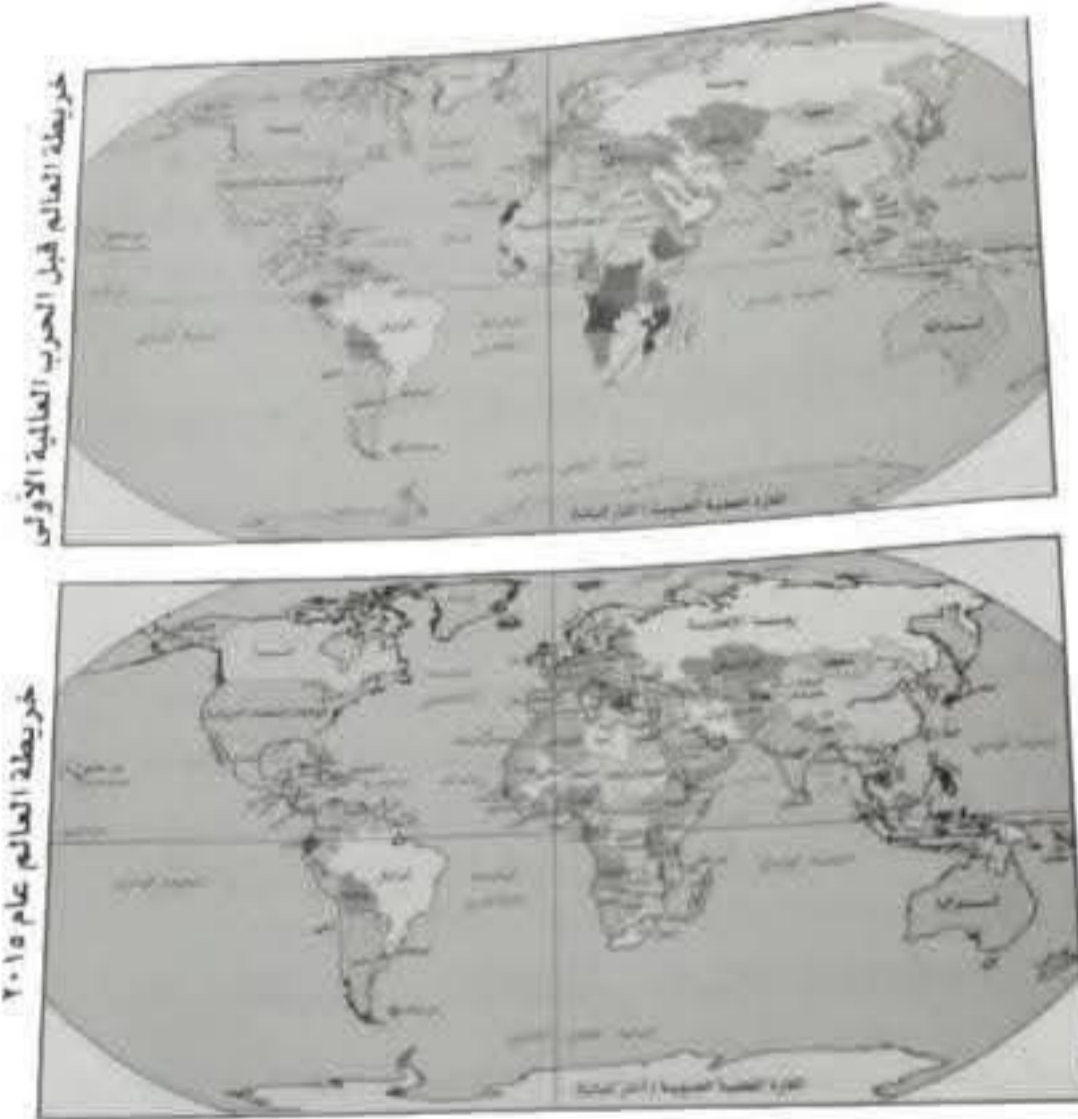
ب- السهل الاوروبي العظيم

د- سهول البمباس بامريكا الجنوبيه

أ- سهول سيبيريا في شمال اسيا

ج- السهول الوسطى بامريكا الشماليه

٣٢- استعن بالخريطين ثم استنتج



القاره التي شهدت تغييرا في حدود وحداتها السياسييه بجميع جهاتها الاربعه هي قاره

د- امريكا الشماليه

ج- افريقيا

ب- استراليا

أ- امريكا الجنوبيه

ثانيا الاسئله الموضوعيه (الاختياري من متعدد) كل سؤال درجتين

٣٣- يظهر النظام السياسي في صورته الاجتماعيه هي

ب- اعلان موريتانيا خروجها من مجموعه الايكواس

أ- اقرار الموازنه العامه لدوله ما

د- سعي الافراد لتنميه الحى وتجميله

ج- اعلان دوله توقيع اتفقيه دوليه

٣٤- تحركت سفينه من مسافه ٢٤ ميلا بحريا متجهه نحو احد موانى دوله ما تطل على البحر الاحمر وتوقفت عند الميل رقم ٦ من جهه يابس هذة الدوله فانها بذلك تقف على مسافه متساويه بين

أ- الحافه الخارجيه للمياه الاقليميه والحافه الداخليه للمياه التكميليه

ب- الحافه الداخليه للمياه الاقليميه وخط الساحل للدوله

ج- الحد السياسى البحرى للدوله والحافه الخارجيه للمياه الاقليميه

د- الحد السياسى البحرى للدوله وخط الساحل للدوله

٣٥- لعبت العوامل الطبيعيه دورا فى تغيير الحدود السياسيه بين بعض الدول ينطبق مفهوم العبارة السابقه على الحدود السياسيه بين

أ- الارجننتين وشيلى ب- الولايات المتحده والمكسيك ج- فرنسا واسبانيا د- الهند والصين

٣٦- ترجع جذور النزاع بين دولتى السودان وتشاد على الحدود السياسيه الى الاستعمار

أ- الالمانى البلجيكى ب- الانجليزى الفرنسى ج- الاسبانى والفرنسى د- الانجليزى والالمانى

٣٧- اقل انواع الاقليات انتشارا فى العالم الاقليه

أ- العرقيه ب- الدينيه ج- القوميه د- اللغويه

٣٨- اجب وفقا لما درستته ظهر اثر القوه العسكريه بدايه الالفيه الثالثه كاحد العوامل المؤثره فى العلاقات الدوليه فى

أ- جنوب البحر المتوسط ب- غرب البحر المتوسط ج- جنوب البحر الاسود د- شمال البحر الاسود

٣٩- الهدف النهائى من دراسه المقومات الطبيعيه والبشريه لاي دوله التعرف على

أ- نشاطها الاقتصادى ب- قوتها الديموغرافيا ج- قوتها السياسيه د- تنظيمها الداخلى

٤٠- لعب الصراع الاستعمارى دورا فى رسم الحدود السياسيه بين الدول فى ضوء العبارة استنتج

الدول الاوربيه التى اسهمت فى رسم الحدود السياسيه بين تنزانيا والكنغو الديمقراطيه هما

أ- بلجيكا واسبانيا ب- فرنسا وانجلترا ج- المانيا وبلجيكا د- ايطاليا وهولندا

٤١- ادرس مضمون الشكل الذى امامك ثم استنتج



طبقة لكسوسفير احدى طبقات الغلاف الجوى وهى تتشابه من حيث الترتيب مع احدى المناطق المائيه وهى المياه

أ- الداخليه ب- الاقليميه ج- التكميليه د- الدوليه

٤٢- (تعرضت ليبيا عام ٢٠٢٣ لاعصار دانيال المدمر مما تسبب في حدوث خسائر بشرية ومادية هائلة في ضوء العبارة
اجب

اي الجهات الاتيه يمكنها تقديم الدعم لليبيا من خارج القاره السمراء؟.....

أ- مجلس التعاون لدول الخليج العربي ب- الايكواس ج- الكوميسا د- اتحاد المغرب العربي

٤٣- الاقليه التي اثارت مشكله اجتماعيه ذات بعد سياسى في دوله بحريه مجزاه تقع

أ- شمال مدار السرطان ب- جنوب دائرة الاستواء ج- جنوب مدار الجدى د- شمال الدائرة القطبيه الشماليه

٤٤- (من خصائص نظام الحكم الديموقراطى مبدا الفصل بين السلطات) في ضوء العبارة وضع

حرص حكومه دوله ما على اعتماد الموازنه بعد موافقه البرلمان يعبر ذلك عن

أ- الفصل بين السلطتين القضائيه والتشريعيه ب- الفصل بين السلطتين التنفيذيه والتشريعيه

ج- تدخل السلطه التنفيذيه في شئون السلطه التشريعيه د- تدخل السلطه القضائيه في شئون السلطه التشريعيه

٤٥- (النظام العالمى الجديد يتميز بالشموليه)

دل على صحه العبارة السابقه

لانه يتضمن عدد من المجالات الفرعيه التي ترتبط بالنظام العالمى الجديد مثل التكتلات الاقصاديه مثل الاتحاد الاوروبى والمنظمات الدوليه مثل الامم المتحده والمنظمات الاقليميه مثل جامعه الدول العربيه والاحلاف العسكريه مثل حلف الناتو واثار التدخلات العسكريه وقضايا الامن المائى والغذائى والطاقه وظاهره العولمه

٤٦- تقوم التكتلات على التنوع والتشابه معا ؟ دل على صحه العبارة

(التنوع) لابد من تنوع الموارد الاقصاديه لان التكتل قائم بطبيعته على تنوع الموارد حيث عدم توافر الموارد بشكل كاف لدى بعض الدول يكون حافز لها على الانضمام للتكتل مع الدول الاخرى

(التشابه) لابد من وجود تشابه في العادات والتقاليد والانظمه السياسيه

الخدوى مستر محمد فتحى ابوزور