

الأسئلة

أولاً : الجغرافيا

س ١ : أكمل العبارات الآتية

- ١- تبلغ مساحة الكرة الأرضية
- ٢- أكبر قارات العالم من حيث المساحة قارة وتبلغ مساحتها
- ٣- تتوسط قارات العالم وتمربه طرق التجاره العالميه بعد حفر وأصبحت مركز حضارى وتجارى بالنسبة للعالم.
- ٤- تشغل المحيطات والبحار % من مساحة الكرة الأرضية .
- ٥- تمتد قارة آسيا بين دائرتى عرض حتى
- ٦- من دوائر العرض الرئيسية التى تمر بأسيا و و
- ٧- من أهم الجزر التى توجد فى قارة أفريقيا وتقعان فى المحيط
- ٨- تمتد قارة أوربا بين دائرتى عرض خطى طول حتى
- ٩- تبدأ أراضى قارة أوربا جنوباً عند رأس
- ١٠- تمتد أفريقيا ما بين دائرتى عرض حتى ولذلك تكاد تنصفها
- ١١- تقع أستراليا بأكملها فى نصف الكرة حيث تمتد من دائرة عرض إلى دائرة عرض
- ١٢- من الجزر التابعة لأستراليا جزيرتى الشمالية و الجنوبية .
- ١٣- يسود المظهر سطح أفريقيا .
- ١٤- من السهول الصحراوية سهل فى ليبيا .
- ١٥- من السهول الفيضية فى قارة أفريقيا سهول نهر النيل فى مصر والسودان وجنوب السودان وسهول حوض وتتميز و
- ١٦- تقع فى شرق أفريقيا هضبة التى تتبع منها روافد النيل .



- ١٧- تمتد سلاسل جبال الألب من إلى وتعرف بجبال
في شمال أسبانيا .
- ١٨- من هضاب الصحراء الكبرى هضبتا الصحراء و في مصر .
- ١٩- يقترب يابس قارة أفريقيا من يابس قارة أوروبا عند مضيق
- ٢٠- تشغل هضبة معظم مساحة أسبانيا .
- ٢١- أعلى جبال أمريكا الشمالية جبال ومن قممها التي يغطيها الجليد قمة في فصل الشتاء .
- ٢٢- يصب نهر السين في ونهر السند في
- ٢٣- من أهم هضاب أمريكا الشمالية هضبة في الشمال الشرقي وهضبة
في الجنوب .
- ٢٤- تجرى أنهار أوب وينسى ولينا في السهول الشمالية الواسعة من قارة وتصب في
المحيط
- ٢٥- توجد هضبة في شمال أمريكا الجنوبية .
- ٢٦- أكبر الدول الجزرية في قارة أمريكا الشمالية دولة
- ٢٧- أطول أنهار أوروبا نهر
- ٢٨- توجد هضبة في وسط وجنوب ألمانيا بينما توجد هضبة في فرنسا .
- ٢٩- أعلى هضاب العالم وتعرف بسقف العالم

س٢: بم تفسر:

- ١- تحتل مصر مركزاً تجارياً وحضارياً في العالم .
- ٢- تعتبر قارة أوروبا امتداد جغرافياً لقارة آسيا .
- ٣- تعتبر قارة استراليا جزيرة كبيرة .
- ٤- الأهمية الاقتصادية للسهول الفيضية .
- ٥- إنشاء الموانئ بالسهول الساحلية في قارة أوروبا .
- ٦- تتميز السهول الساحلية بقارة أفريقيا بشكل عام بالضيق .
- ٧- تعرف هضبة التبت بسقف العالم .
- ٨- للسهول الفيضية أهمية كبيرة في أمريكا الجنوبية .

س ٣ : ما النتائج المترتبة على :

- ١- وقوع أوربا على المحيط الأطلنطى والبحر المتوسط ؟
- ٢- كثرة تعاريج السواحل فى قارة أوربا ؟

س ٤ : تخير الإجابة الصحيحة :

- ١- كان يابس العالم منذ ملايين السنين كتلة واحدة تعرف بقارة (لوراسيا - جندوانا - بنجاليا - أوراسيا)
- ٢- أصغر محيطات العالم المحيط (القطبى الجنوبي - الهندى - القطبى الشمالى - الأطلنطى) .
- ٣- يمر فى قارة أوربا فى أطرافها الشمالية.
- (مدار السرطان - مدار الجدى - دائرة الاستوائية - الدائرة القطبية الشمالية)
- ٤- يفصل قارة أستراليا عن جزر أندونيسيا فى الشمال
- (بحر الشمال - بحر أرافورا - بحر قزوين - البحر الكاريبى)

س ٥ : اكتب ما تشير إليه كل عبارة مما يأتى :

- ١- هى الدول التى تتكون من جزيرة أو أكثر أو قد تكون جزءاً من جزيرة .
- ٢- موقع المكان بالنسبة للأماكن الأخرى من بحار ومحيطات وقارات .
- ٣- قارة تبدو كشبه جزيرة غير منتظمة الشكل وكأنها أمتداد لقارة آسيا من الغرب .
- ٤- أصغر قارات العالم وتتكون من عدة جزر وتحيط بها المياه من جميع الجهات .
- ٥- أكبر دول قارة أمريكا الشمالية مساحة .

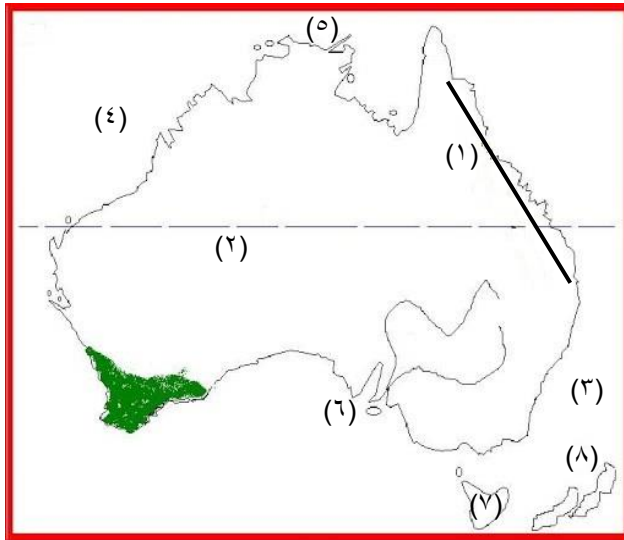
س ٦ : ضع علامة (✓) أو (×) مع تصويب الخطأ :

- () ١) أهم جبال أفريقيا جبال أطلس وجبال البحر الأحمر وجبال كلمنجارو .
- () ٢) توجد فى قارة أمريكا الشمالية سلاسل جبال روكى وماكنزى فى الشرق بينما توجد سلاسل جبال الألباش فى الغرب .
- () ٣) تمتد سلاسل جبال الإنديز من الشمال حتى الأطراف الجنوبية لقارة أمريكا الشمالية.
- () ٤) توجد فى قارة أستراليا سهول متسعة تجرى بها أودية نهريه أهمها نهرا مري ودارلنج .
- () ٥) تمتد السلاسل الجبلية بقارة أوروبا باتجاه عام من الشرق إلى الغرب .

س ٧ : قارن بين :

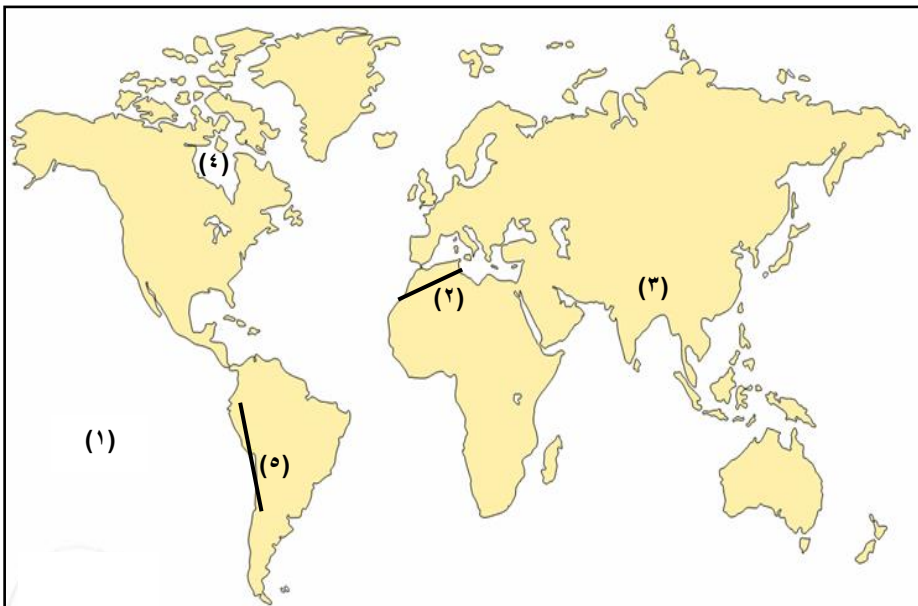
أنهار العالم فى قارات العالم ؟

س ٨ : ١) أمامك خريطة لقارة استراليا اكتب ما تدل عليه الأرقام التالية :



- ١- جبال
- ٢- مدار
- ٣- المحيط
- ٤- المحيط
- ٥- بحر
- ٦- الخليج
- ٧- جزيرة
- ٨- جزر

٢) أمامك خريطة للعالم اكتب ما تدل عليه الأرقام التالية :



- ١- المحيط
- ٢- جبال
- ٣- هضبة
- ٤- خليج
- ٥- جبال

ثانياً : التاريخ

س ١ : بم تفسر

- (١) التدهور الإقتصادي لدولة المماليك .
- (٢) تحول مصر إلى ولاية معزولة عن المؤثرات الحضارية تحت حكم العثمانيين .
- (٣) أسباب إتجاه العثمانيين إلى مصر . " إتجاه العثمانيين نحو مصر والشام " .
- (٤) هزيمة الجيوش المملوكية أمام جيوش العثمانيين .
- (٥) تدهور التجارة الداخلية والخارجية زمن الدولة العثمانية .
- (٦) فشل حركة على بك الكبير .
- (٧) حمل نظام الحكم العثماني في ثناياه عوامل ضعفه .
- (٨) أسباب الحملة الفرنسية على مصر .
- (٩) هزيمة المماليك أمام الفرنسيين في معركة إمبابة وشبراخيت .
- (١٠) قيام المصريين بثورة القاهرة الأولى أكتوبر ١٧٩٨ .
- (١١) أسباب الحملة الفرنسية على بلاد الشام .
- (١٢) عودة نابليون سراً إلى فرنسا .
- (١٣) فشل إتفاقية العريش .
- (١٤) لم تنجح محاولة الفرنسيين في شق قناة تربط بين البحرين الأحمر ، والمتوسط .

س ٢ : ما النتائج المترتبة على :

- (١) موقعة الريدانية ١٥١٧ ؟
- (٢) نظام الالتزام ؟
- (٣) إتجاه سليم الأول نحو الشرق ؟
- (٤) ثورة القاهرة الأولى والثانية ضد الاحتلال الفرنسي ؟
- (٥) مذبحه يافا البشرية ؟
- (٦) تحطيم الاسطول الفرنسي في موقعة أبى قير البحرية ؟



س ٣ : اكمل ما يلي:-

- ١- إتجه سليم الأول فى بداية القرن ١٦ نحو
- ٢- تدهورت أحوال المماليك نتيجة إكتشاف طريق رأس الرجاء الصالح .
- ٣- انتصر سليم الأول على الصفويين فى معركة
- ٤- انقسم المجتمع المصرى فى زمن العثمانيين إلى طبقتين هما و
- ٥- أبحرت الحملة الفرنسية من ميناء سراً .
- ٦- دخل نابليون القاهرة بعد أن أمن على
- ٧- أغرق الاسطول البريطانى بقيادة الأسطول الفرنسى فى خليج
- ٨- استمرت مقاومة أبناء الصعيد للقوات الفرنسية

س ٤ : ضع علامة (✓) أمام العبارة الصحيحة وعلامة (x) أمام العبارة الغير صحيحة مع

التصويب :

- ١- هزيمة جيوش طومان باى فى موقعة مرج دابق . ()
- ٢- انتهى الصدام بين الدولتين الصفوية والعثمانية بهزيمة السلطان سليم الأول . ()
- ٣- استمر حكم العثمانيين لمصر لمدة خمسة قرون متتالية . ()
- ٤- خيانة محمد بك أبو الذهب السبب فى فشل حركة على بك الكبير . ()
- ٥- اصبحت مصر ولاية عثمانية عام ١٥١٧ عقب موقعة مرج دابق . ()

س ٥ : ما هى الأعمال الكبرى للحملة الفرنسية ؟

س٦: من هو :

- ١- تزعم ثورة القاهرة الثانية ضد الحملة الفرنسية مارس ١٨٠٠ م . ()
- ٢- قاوم الحملة الفرنسية فى عكا بمعاونة جنوده . ()
- ٣- تولى قيادة الحملة الفرنسية وكان يريد البقاء فى مصر فقام بعمل خطة إصلاحية فى العديد من المجالات . ()
- ٤- أحد طلاب الأزهر الذى قتل كليبر عام ١٨٠٠ . ()
- ٥- أحد ضباط الحملة الفرنسية وعثر على حجر رشيد . ()
- ٦- توجه نحو الشرق فى القرن ١٦ م لتوسيع امبراطوريته العثمانية . ()

س٧ : ١) قارن بين معركة مرج دابق والريدانية من حيث :

(التاريخ – الأطراف – النتائج)

٢) قارن بين معركة أبى قير البحرية وأبى قير البرية من حيث :

(التاريخ – الأطراف – النتائج)

الإجابات

أولاً : الجغرافيا

س ١ : أكمل العبارات الآتية

- ١- تبلغ مساحة الكرة الأرضية ٥١٠ ملايين كم^٢.
- ٢- أكبر قارات العالم من حيث المساحة قارة آسيا وتبلغ مساحتها ٤٤،٢ مليون كم^٢.
- ٣- تتوسط مصر قارات العالم وتمر به طرق التجاره العالمية بعد حفر قناة السويس وأصبحت مركز حضارى وتجارى بالنسبة للعالم.
- ٤- تشغل المحيطات والبحار ٧٠،٧ ٪ من مساحة الكرة الأرضية .
- ٥- تمتد قارة آسيا بين دائرتى عرض ١٠ جنوباً حتى ٨١ شمالاً .
- ٦- من دوائر العرض الرئيسية التى تمر بآسيا الدائرة الاستوائية و مدار السرطان والدائرة القطبية الشمالية .
- ٧- من أهم الجزر التى توجد فى قارة أفريقيا مدغشقر و جزر القمر وتقعان فى المحيط الهندي.
- ٨- تمتد قارة أوربا بين دائرى عرض ٣٦ شمالاً حتى ٧١ شمالاً وبين خطى طول ٦٦ شرقاً حتى ٢٥ غرباً.
- ٩- تبدأ أراضي قارة أوربا جنوباً عند رأس طريفة.
- ١٠- تمتد أفريقيا ما بين دائرتى عرض ٣٤،٣٠ جنوباً حتى ٣٧،٣٠ شمالاً ولذلك تكاد تنصفها الدائرة الاستوائية.
- ١١- تقع أستراليا بأكملها فى نصف الكرة الجنوبى حيث تمتد من دائرة عرض ١٠ جنوباً إلى دائرة عرض ٤٤ جنوباً.
- ١٢- من الجزر التابعة لأستراليا جزيرتى نيوزيلندا الشمالية و نيوزيلندا الجنوبية .
- ١٣- يسود المظهر الهضبي سطح أفريقيا .
- ١٤- من السهول الصحراوية سهل كلنشو فى ليبيا .

- ١٥- من السهول الفيضية فى قارة أفريقيا سهول نهر النيل فى مصر والسودان وجنول السودان وسهول حوض الكونغو وتتميز بجودة التربة وصلاحيتها للزراعة .
- ١٦- تقع فى شرق أفريقيا هضبة الحبشة التى تنبع منها روافد النيل .
- ١٧- تمتد سلاسل جبال الألب من الغرب إلى الشرق فتعرف بجبال البرانس فى شمال إسبانيا .
- ١٨- من هضاب الصحراء الكبرى هضبتا الصحراء الشرقية و الغربية فى مصر .
- ١٩- يقترب يابس قارة إفريقيا من يابس قارة أوروبا عند مضيق جبل طارق .
- ٢٠- تشغل هضبة الميزيتا معظم مساحة إسبانيا .
- ٢١- أعلى جبال أمريكا الشمالية جبال روكى ومن قممها التى يغطيها الجليد فى فصل الشتاء .
- ٢٢- يصب نهر السين فى بحر المانش ونهر السند فى المحيط الهندى .
- ٢٣- من أهم هضاب أمريكا الشمالية هضبة ليرادور فى الشمال الشرقى وهضبة المكسيك فى الجنوب .
- ٢٤- تجرى أنهار أوب وينسى ولينا فى السهول الشمالية الواسعة من قارة آسيا وتصب فى المحيط القطبى .
- ٢٥- توجد هضبة جيانا فى شمال أمريكا الجنوبية .
- ٢٦- أكبر الدول الجزرية فى قارة أمريكا الشمالية دولة كوبا .
- ٢٧- أطول أنهار أوروبا نهر الفولجا .
- ٢٨- توجد هضبة با قاريا فى وسط وجنوب ألمانيا بينما توجد هضبة فرنسا الوسطى فى فرنسا .
- ٢٩- أعلى هضاب العالم وتعرف بسقف العالم التبت .

س٢: بم تفسر:

- ١- تحتل مصر مركزاً تجارياً وحضارياً فى العالم .
- لأن مصر تتوسط قارات العالم حيث تمر بها طرق التجارة العالمية البحرية وخاصة بعد حفر قناة السويس والطرق البرية وبذلك أصبحت مركزاً تجارياً وحضارياً مهماً بالنسبة للعالم .
- ٢- تعتبر قارة أوروبا امتداداً جغرافياً لقارة آسيا .
- لأنها تبدو فى شكل شبه جزيرة غير منتظمة الشكل وكأنها امتداداً لقارة آسيا جهة الغرب .

٣- تعتبر قارة استراليا جزيرة كبيرة .

لأن المياه تحيط بها من جميع الجهات فمن الشرق المحيط الهادى والغرب والجنوب المحيط الهندى ومن الجنوب المحيط القطبى الجنوبى ومن الشمال بحر أرافورا.

٤- الأهمية الاقتصادية للسهول الفيضية ؟

لأنها تتميز بخصوبة تربتها مما ساعد على قيام الزراعة وذلك لأنها تكون من رواسب نهريه .

٥- إنشاء الموانى بالسهول الساحلية فى قارة أوروبا .

بسبب كثرة تعاريج سواحلها وكثرة الجزر .

٦- تتميز السهول الساحلية بقارة أفريقيا بشكل عام بالضيق .

بسبب اقتراب حافة الجبال والهضاب من الساحل .

٧- تعرف هضبة التبت بسقف العالم ؟

لأنها أعلى هضاب العالم لارتفاعها عن قمم الجبال .

٨- للسهول الفيضية أهمية كبيرة فى أمريكا الجنوبية .

سهول نهر الأمازون تعد أوسع سهول فيضية فى العالم ونمو بها الغابات الاستوائية بأشجارها الكثيفة وسهول نهر لابلاتا التى تمتد من الشمال إلى الجنوب فى أورجواى والأرجنتين وهى أغنى مناطق الأرجنتين فى زراعة القمح ورعى وتربية الأبقار والأغنام .

س٣: ما النتائج المترتبة على :

١- وقوع أوروبا على المحيط الأطلنطى والبحر المتوسط .

ساعد على أنتشار الحضارة الأوربية فى العالم من خلال الكشف الجغرافية الكثيرة وله دور فى اكتشاف الأمريكتين .

٢- كثرة تعاريج السواحل فى قارة أوروبا.

ساعد على إنشاء الموانى الطبيعية وسهولة الاتصال بالعالم الخارجى .

س ٤ : تخير الإجابة الصحيحة :

- ١- كان يابس العالم منذ ملايين السنين كتله واحدة تعرف بقارة (لوراسيا - جندوانا - بنجاليا - أوراسيا)
- ٢- أصغر محيطات العالم المحيط (القطبى الجنوبى - الهندى - القطبى الشمالى - الأطلنطى).
- ٣- يمر فى قارة أوربا (مدار السرطان - مدار الجدى - دائرة الاستوائية - الدائرة القطبية الشمالية) فى أطرافها الشمالية .
- ٤- يفصل قارة أستراليا عن جزر اندونيسيا فى الشمال (بحر الشمال - بحر أرافورا - بحر قزوين - البحر الكاريبى) .

س ٥ : اكتب ما تشير إليه كل عبارة مما يأتى :

- ١- هى الدول التى تتكون من جزيرة أو أكثر أو قد تكون جزءاً من جزيرة . (الدول الجزرية)
- ٢- موقع المكان بالنسبة للأماكن الأخرى من بحار ومحيطات وقارات . (الموقع الجغرافى)
- ٣- قارة تبدو كشبه جزيرة غير منتظمة الشكل وكأنها أمتداد لقارة آسيا من الغرب . (أوروبا)
- ٤- أصغر قارات العالم وتتكون من عدة جزر وتحيط بها المياه من جميع الجهات . (أستراليا)
- ٥- أكبر دول قارة أمريكا الشمالية مساحة . (كندا)

س ٦ : ضع علامة (✓) أو (×) مع تصويب الخطأ :

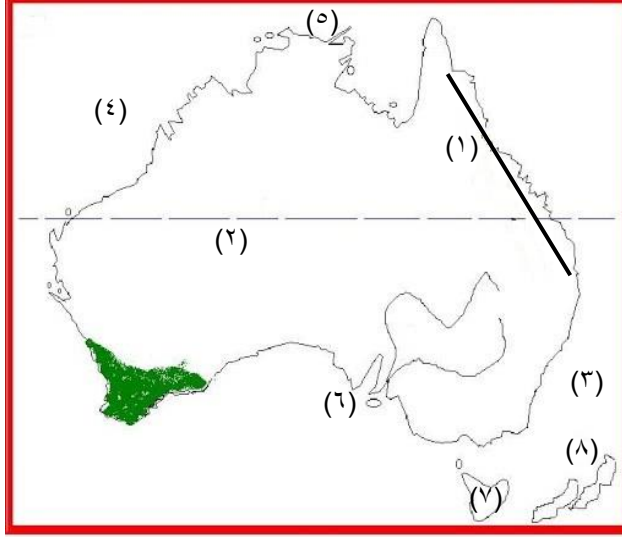
- (١) أهم جبال أفريقيا جبال أطلس وجبال البحر الأحمر وجبال كلمنجارو . (✓)
- (٢) توجد فى قارة أمريكا الشمالية سلاسل جبال روكى وماكنزى فى الشرق بينما توجد سلاسل جبال الألبلاش فى الغرب . (×)
- (٣) تمتد سلاسل جبال الإنديز من الشمال حتى الأطراف الجنوبية لقارة أمريكا الشمالية. (×)
- (٤) توجد فى قارة أستراليا سهول متسعة تجرى بها أودية نهريّة أهمها نهرا مري ودارلنج (لقارة أمريكا الجنوبية)
- (٥) تمتد السلاسل الجبلية بقارة أوروبا باتجاه عام من الشرق إلى الغرب . (×)
- (من الغرب إلى الشرق)

س٧: قارن بين :

أنهار العالم فى قارات العالم

أفريقيا	آسيا	أوربا	أمريكا الشمالية	أمريكا الجنوبية	استراليا
(١) نهر النيل يصب فى البحر المتوسط (٢) الكونغو - النيجر يصب فى المحيط الأطلسي (٣) نهر الزمبيزى يصب فى المحيط الهندى	(١) أوب - ينسى ولينا تصب فى المحيط القطبى الشمالى (٢) نهر اليانجتسى يصب فى المحيط الهادى (٣) نهر دجلة والفرات يصب فى الخليج العربى (٤) نهر السند يصب فى المحيط الهندى ونهر الجانج يصب فى خليج البنغال .	(١) نهر الفولجا يصب فى بحر قزوين "أطول أنهار أوروبا" (٢) نهر السين و الراين يصبان فى بحر المنش وبحر الشمال (٣) نهر البو يصب فى البحر الأدرياتي (٤) نهر الدانوب يصب فى بحر الأسود (٥) نهر اللوار	(١) نهر المسيسيبى يصب فى خليج المكسيك (٢) نهر نلسن وسانت لورانس فى الشمال الشرقى للقارة	(١) الامزون - نهر بارانا وباراجواى ولاپلاتا - نهر الاورينوكو يصب فى المحيط الأطلنطى - نهر ساوفرانسكو يصب فى المحيط الأطلنطى	نهر مرى ودارلنج يصبان فى الخليج الاسترالى الكبير

س ٨ : ١) أمامك خريطة لقارة استراليا اكتب ما تدل عليه الأرقام التالية :



١- جبال الحاجز الكبير الشمالية الشرقية

٢- مدار الجدي

٣- المحيط الهادي

٤- المحيط الهندي

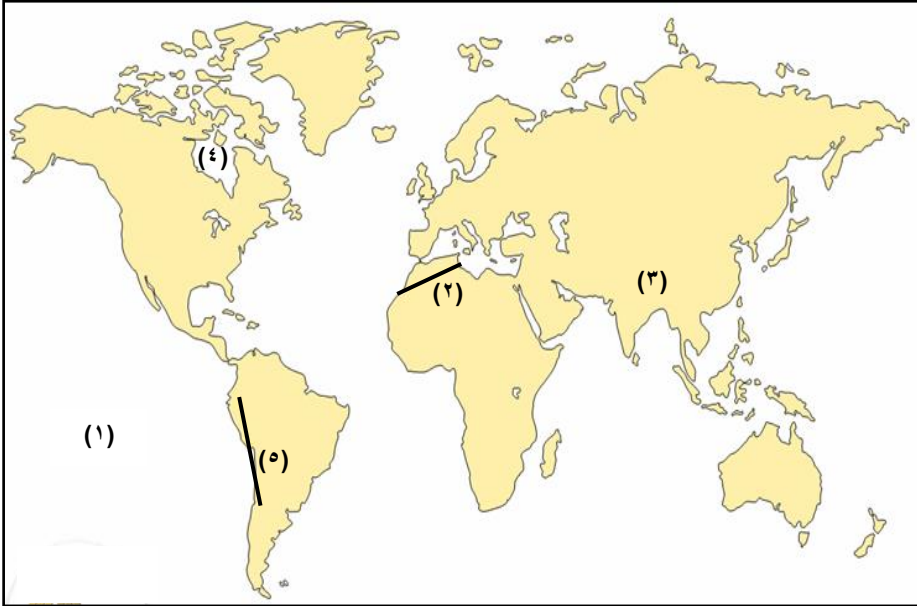
٥- بحر أرافورا

٦- الخليج الاسترالي الكبير

٧- جزيرة تسمانيا

٨- جزيرة نيوزيلندا

٢) أمامك خريطة للعالم اكتب ما تدل عليه الأرقام التالية :



١- المحيط الهادي

٢- جبال أطلس

٣- هضبة التبت

٤- خليج هدسن

٥- جبال الإنديز

ثانياً : التاريخ

س ١ : بم تفسر

(١) التدهور الإقتصادي لدولة المماليك؟

بسبب إكتشاف البرتغاليين طريق رأس الرجاء الصالح عام ١٤٩٨ م.

(٢) تحول مصر إلى ولاية معزولة عن المؤثرات الحضارية تحت حكم العثمانيين ؟

بسبب حكمهم الجامد الراكد الذى استمر ٤ قرون متتالية .

(٣) أسباب إتجاه العثمانيين إلى مصر؟ "إتجاه العثمانيين نحو مصر والشام" ؟

١- رغبة سليم الأولى فى تأمين حدود دولته من ناحية المماليك.

٢- رغبة سليم الأول فى توسيع ممتلكاته فى الشرق بالاستيلاء على مصر حيث هى قلب العالم الاسلامى .

٣- ادراكه أن الصدام مع الدول الأوروبية محفوف بالمخاطر لتفوقها حضارياً وعسكرياً .

(٤) هزيمة الجيوش المملوكية أمام جيوش العثمانيين؟

١- التفوق العسكرى للعثمانيين واستخدام أساليب القتال الحديثه والاسلحة المتطورة.

٢- ضعف المماليك لعدم الاستقرار الداخلى والنزاع على السلطة والتفكك فى نظام الحكم.

(٥) تدهور التجارة الداخلية والخارجية زمن الدولة العثمانية

أولاً: التجارة الداخلية :

١- تدهور الزراعة والصناعة.

٢- إضطراب الأمن.

٣- غارات البدو .

٤- إهمال الطرق البرية.

ثانياً: التجارة الخارجية :

١- الاكتشافات الجغرافية لطريق رأس رجاء الصالح .

٢- تحطم الاسطول المصرى عام ١٥٠٩ م .

٣- الإمتيازات الأجنبية التى منحتها الدولة العثمانية للدول الأوروبية .

(٦) فشل حركة على بك الكبير؟

بسبب خيانه محمد بك أبو الذهب له وإنحيازه للسلطان العثمانى .

(٧) حمل نظام الحكم العثمانى فى ثناياه عوامل ضعفه ؟

- ١ - زيادة سلطة الديوان والحاميه العسكرية والمماليك .
- ٢ - قصر مدة حكم الوالى من ١ : ٣ سنوات .

(٨) أسباب الحملة الفرنسية على مصر؟

- (١) موقع مصر الاستراتيجي بين الشرق والغرب.
- (٢) أستغلال موارد مصر.
- (٣) قطع الطريق بين إنجلترا ومستعمراتها فى الهند .
- (٤) تعويض فرنسا ما فقدته من مستعمرات فى الشرق .
- (٥) إنشاء مستعمرة فرنسية فى الشرق تكون قاعدتها مصر .
- (٩) هزيمة المماليك أمام الفرنسيين فى معركة إمبابه وشبراخيت ؟
- بسبب إعتقاد المماليك على الفروسية وإعتقاد الفرنسيين على المدافع والمعدات الحديثة .
- (١٠) قيام المصريين بثورة القاهرة الأولى أكتوبر ١٧٩٨ ؟

(١) فرض الضرائب على التجار .

(٢) تفتيش البيوت بحثاً عن أموال .

(٣) هدم المباني والمساجد بحجة تحصين القاهرة .

(٤) هدم أبواب الحارات والدروب لمطاردة عناصر المقاومة .

(١١) أسباب الحملة الفرنسية على بلاد الشام ؟

- (١) تحالف إنجلترا وروسيا وأعدوا حملتين برية من الشرق والبحرية من طريق جزيرة رودس لإخراج الفرنسيين من مصر .

(٢) رغبة نابليون مهاجمة الجيش العثمانى فى الشام والقضاء عليه قبل أن يصل مصر.

(١٢) عودة نابليون سراً إلى فرنسا ؟

بسبب تحالف الدول الأوروبية ضد فرنسا والمتاعب التى تواجهها فرنسا .

(١٣) فشل إتفاقية العريش ؟

- ١ - لأن إنجلترا طلبت إستسلام الجيش الفرنسى فرفض كليبر .
- ٢ - هاجم كليبر القوات العثمانية وأعادها متقهقرة إلى الشام .

١٤) لم تنجح محاولة الفرنسيين فى شق قناة تربط بين البحر الأحمر والمتوسط ؟
بسبب خطأ فى حسابات مستوى البحرين .

س٢: ما النتائج المترتبة على :

١) موقعة الريدانية يناير ١٥١٧ م ؟

انتهت دولة المماليك فى مصر والشام وصارت مصر ولاية عثمانية .

٢) نظام الالتزام ؟

أدى لتعرض الفلاحين لظلم الملتزمين الذين كانوا يجمعون الضرائب بالشدة والعنف مما
أضر بأحوال الزراعة .

٣) إتجاه سليم الأول نحو الشرق ؟

اصطدام سليم الأول بالدولة الصفوية فى إيران والمملوكية التى كانت تحكم مصر والشام .

٤) ثورة القاهرة الأولى والثانية ضد الاحتلال الفرنسى ؟

أولاً ثورة القاهرة الأولى :

١- زيادة الغرامات المالية على التجار والعلماء

٢- بدأ الفرنسيين فى تحصين القاهرة .

٣- اعدم الفرنسيين الكثير من الأهالى والثوار .

ثانياً : ثورة القاهرة الثانية :

١- إخماد الثورة فى القاهرة .

٢- تدمير حى بولاق .

٣- إشتداد كليبر فى فرض الغرامات والأموال .

٤- قتل كليبر على يد سليمان الحلبي .

٥- تولى مينو الحملة وكان ينوى البقاء فى مصر .

٥) مذبحة يافا البشرية ؟

- قيام نابليون بقتل حاميتها مما كان له الأثر فى مقاومة أهالى عكا عن المدينة بقيادة

حاكمها أحمد باشا الجزار .

٦) تحطيم الاسطول الفرنسى فى موقعة أبى قير البحرية ؟

- قضى على آمال فرنسا فى السيطرة على سواحل البحر المتوسط .
- حاصر الاسطول الإنجليزى سواحل مصر الشمالية .
- حرم الحملة فى مصر من امدادات فرنسا لها .
- شعر الجنود الفرنسيون بأنهم محاصرون داخل مصر .
- توقف التجاره الخارجية .

س ٣ : اكمل ما يلى :-

- ١- إتجه سليم الأول فى بداية القرن ١٦ نحو الشرق .
- ٢- تدهورت أحوال المماليك نتيجة إكتشاف البرتغاليين طريق رأس الرجاء الصالح.
- ٣- إنتصر سليم الأول على الصفويين فى معركة جالديران .
- ٤- انقسم المجتمع المصرى فى زمن العثمانيين إلى طبقتين هما طبقة حكام ، طبقة محكومين .
- ٥- أبحرت الحملة الفرنسية من ميناء طولون سراً .
- ٦- دخل نابليون القاهرة بعد أن أمن العلماء والمشايخ على أموالهم وأرواحهم .
- ٧- أغرق الاسطول البريطانى بقيادة نلسون الأسطول الفرنسى فى خليج أبى قير .
- ٨- استمرت مقاومة أبناء الصعيد للقوات الفرنسية مدة طويلة .

س ٤ : ضع علامة (√) أمام العبارة الصحيحة وعلامة (×) أمام العبارة الغير صحيحة مع

التصويب :

- ١- هزيمة جيوش طومان باى فى موقعة مرج دابق . (×) الريدانية
- ٢- أنتهى الصدام بين الدولتين الصفوية والعثمانية بهزيمة السلطان سليم الأول . (×)
- ٣- استمر حكم العثمانيين لمصر لمدة خمسة قرون . (×) ٤ قرون
- ٤- خيانة محمد بك أبو الذهب السبب فى فشل حركة محمد على بك الكبير . (√)
- ٥- أصبحت مصر ولاية عثمانية عام ١٥١٧ عقب موقعة مرج دابق . (×) الريدانية

س ٥ : ما هي الأعمال الكبرى للحملة الفرنسية ؟

- ١- محاولة ربط البحر الأحمر بالمتوسط لكنها لم تنجح (لماذا) بسبب خطأ في حسابات مستوى مياه البحرين .
- ٢- تأليف كتاب وصف مصر .
- ٣- العثور على حجر رشيد على يد بوشار .

س ٦ : من هو :

- ١- تزعم ثورة القاهرة الثانية ضد الحملة الفرنسية مارس ١٨٠٠ م . (السيد عمر مكرم)
- ٢- قاوم الحملة الفرنسية في عكا بمعاونة جنوده . (أحمد باشا الجزار)
- ٣- تولى قيادة الحملة الفرنسية وكان يريد البقاء في مصر فقام بعمل خطة إصلاحية في العديد من المجالات . (مينو)
- ٤- أحد طلاب الأزهر الذي قتل كليبر عام ١٨٠٠ . (سليمان الحلبي)
- ٥- أحد ضباط الحملة الفرنسية وعثر على حجر رشيد . (بوشار)
- ٦- توجه نحو الشرق في القرن ١٦ م لتوسيع امبراطوريته العثمانية . (سليم الأول)

س ٧ : (١) قارن بين معركة مرج دابق والريدانية من حيث :

(التاريخ - الأطراف - النتائج)

وجه المقارنة	مرج دابق	الريدانية
التاريخ	أغسطس ١٥١٦	يناير ١٥١٧
الأطراف	العثمانيين بقيادة سليم الأول × المماليك بقيادة قنصوة الغوري	العثمانيين بقيادة سليم الأول × المماليك بقيادة طومان باي
النتائج	- هزيمة المماليك . - قتل السلطان الغوري .	- انتصار العثمانيين ودخلهم القاهرة - انتهاء حكم المماليك وأصبحت مصر ولاية عثمانية .

٢) قارن بين معركة أبى قير البحرية وأبى قير البرية من حيث :

(التاريخ – الأطراف – النتائج)

وجه المقارنة	أبى قير البحرية	أبى قير البرية
التاريخ	أغسطس ١٧٩٨ م	يوليو ١٧٩٩ م
الأطراف	الاسطول الانجليزى بقيادة نلسون × الاسطول الفرنسى	قوات الحملة الفرنسية بقيادة نابليون × العثمانيين
النتائج	- تحطم الاسطول الفرنسى مما ترتب عليه القضاء على آمال فرنسا فى السيطرة على سواحل البحر المتوسط - حصار الأسطول الإنجليزى لسواحل مصر الشمالية مما أدى لحرمان الحملة من إمدادات فرنسا لها - شعور الجنود الفرنسيين بأنهم محاصرون داخل مصر . - توقفت حركة التجارة الخارجية لمصر .	هزيمة القوات العثمانية أمام القوات الفرنسية .